

# 一卷通练

丛书主编★吴庆芳 本册主编★涂念 严美玲

## 数学

一年级第一学期

特高级教师联袂打造

入学准备卷

单元测试卷

专项训练卷

期中期末模拟测试卷

名校真卷

竞赛真卷

TG17



上海交通大学出版社  
SHANGHAI JIAO TONG UNIVERSITY PRESS



# 一卷通关·数学

(一年级第一学期)

丛书主编 吴庆芳

本册主编 涂念 严美玲



上海交通大学出版社  
SHANGHAI JIAO TONG UNIVERSITY PRESS

## 图书在版编目(CIP)数据

一卷通关·数学一年级·第一学期/涂念,严美玲主编.

—上海:上海交通大学出版社,2015

(交大之星)

ISBN 978-7-313-13190-4

I. ①一… II. ①涂… ②严… III. ①小学数学课—  
习题集 IV. ①G624

中国版本图书馆 CIP 数据核字(2015)第 131925 号

一卷通关·数学(一年级第一学期)

主 编:涂念 严美玲

出版发行:上海交通大学出版社

邮政编码:200030

出 版 人:韩建民

印 制:常熟市大宏印刷有限公司

开 本:787mm×1092mm 1/横8

字 数:190千字

版 次:2015年8月第1版

书 号:ISBN 978-7-313-13190-4/G

定 价:30.00元

地 址:上海市番禺路951号

电 话:021-64071208

经 销:全国新华书店

印 张:9.5

印 次:2015年8月第1次印刷

版权所有 侵权必究

告读者:如发现本书有印装质量问题请与印刷厂质量科联系

联系电话:0512-52621873

# 前 言

紧扣上海最新课程标准教材,依据全学期教学进程,我们组织小学、初中的各学科特级教师、高级教师和明星教师精心编写出版了这套“一卷通关”系列试卷。

“一卷通关”每学科每学期一册,每册试卷分为六大部分:

第一部分是“入学准备卷”,通过对所学知识检测,让学生复习巩固旧知识,做好新知识学习的铺垫和导入,体现知识的衔接性和延续性。

第二部分是“单元测试卷”,针对不同年级、不同科目的特点,每个单元分别设计2~3套试卷,给不同层次的学生不同方位的训练,在巩固基础知识的同时,能给予一定的知识拓展和思维提升,达到能力的整体提高。

第三部分是“专项训练卷”,包括题型专项训练卷和知识点专项训练卷,让学生从不同的角度对自己在学习过程中的薄弱环节进行有针对性的训练,培养他们精准解题和灵活处理问题的能力。

第四部分是“期中期末模拟测试卷”,我们结合不同学段考试特点,精心编写了模拟测试卷,对学生的期中期末复习起到检测、诊断、调整、指导作用,帮助学生在期中期末考试中取得好成绩。

第五部分是“名校真卷”,我们精选了上海市各区县名校同期考试真卷,让学生通过能真题训练更全面地了解考点,把握要点,突破难点,争得高分。

第六部分是“竞赛真卷”,在完成每学期基础知识学习的基础上,我们特地汇集了全国及上海市各级竞赛训练题,让学生在完成基础学习目标的基础上拥有更广阔的学习视野,获得学业上的更大提升。

本系列书具有以下特点:

第一,针对性强。我们在编写过程中紧扣上海最新教材,紧密切合教学实际,让学生能够在课程学习的过程中同步有针对性地进行训练。

第二,题型丰富,选材新颖。在贴合教学实际的基础上,我们充分运用新材料,

创设新情境,精心设计新题型,让学生能够从不同角度巩固所学知识。

第三,实用性强。本书涵盖单元测试、专项训练、期中期末模拟训练、期中期末真题训练、竞赛训练等不同类型训练题,种类齐全,涵盖面广,题型丰富,适合学生全面学习使用,也适合教师、家长甚至教研人员使用。

本系列书由吴庆芳主持编写,参与本册编写工作的老师有:陈健、胡翠芳、李华琼、李铭、李永华、刘家志、刘姿、欧阳凌子、尚中伟、沈朝刚、沈俊、施传辉、孙文霞、涂念、王新发、吴菊、吴萍、严美玲、阎义长、杨杰、于增光、喻祖亮、张祖杏、张祖秀、郑斌。

预祝所有使用“一卷通关”的学生,快乐学习,轻松应考,快乐参考,考出自己理想的高分,考入自己向往的学校!一卷在手,胜券在握!

吴庆芳

# 目 录

## 第一部分 入学准备卷

|          |       |
|----------|-------|
| 入学准备卷(1) | ( 1 ) |
| 入学准备卷(2) | ( 3 ) |

## 第二部分 单元测试卷

|                           |        |
|---------------------------|--------|
| 第一单元 10 以内的数基础测试卷         | ( 5 )  |
| 第一单元 10 以内的数提升测试卷(1)      | ( 9 )  |
| 第一单元 10 以内的数提升测试卷(2)      | ( 13 ) |
| 第二单元 10 以内数的加减法基础测试卷      | ( 17 ) |
| 第二单元 10 以内数的加减法提升测试卷(1)   | ( 21 ) |
| 第二单元 10 以内数的加减法提升测试卷(2)   | ( 25 ) |
| 第三单元 20 以内的数及其加减法基础测试卷    | ( 29 ) |
| 第三单元 20 以内的数及其加减法提升测试卷(1) | ( 33 ) |
| 第三单元 20 以内的数及其加减法提升测试卷(2) | ( 37 ) |
| 第四单元 识别图形基础测试卷            | ( 41 ) |
| 第四单元 识别图形提升测试卷(1)         | ( 45 ) |
| 第四单元 识别图形提升测试卷(2)         | ( 49 ) |
| 第五单元 整理与提高提升测试卷(1)        | ( 53 ) |
| 第五单元 整理与提高提升测试卷(2)        | ( 57 ) |

## 第三部分 专项训练卷

|              |        |
|--------------|--------|
| 数与算术专项训练卷(1) | ( 61 ) |
|--------------|--------|

|              |        |
|--------------|--------|
| 数与算术专项训练卷(2) | ( 65 ) |
| 图形与几何专项训练卷   | ( 69 ) |
| 基础题专项训练卷     | ( 73 ) |
| 计算题专项训练卷     | ( 77 ) |
| 应用题专项训练卷     | ( 81 ) |

## 第四部分 期中期末模拟测试卷

|            |        |
|------------|--------|
| 期中模拟测试卷(1) | ( 85 ) |
| 期中模拟测试卷(2) | ( 89 ) |
| 期末模拟测试卷(1) | ( 93 ) |
| 期末模拟测试卷(2) | ( 97 ) |

## 第五部分 名校真卷

|           |         |
|-----------|---------|
| 名校期中真卷(1) | ( 101 ) |
| 名校期中真卷(2) | ( 105 ) |
| 名校期末真卷(1) | ( 109 ) |
| 名校期末真卷(2) | ( 113 ) |
| 名校期末真卷(3) | ( 117 ) |
| 名校期末真卷(4) | ( 121 ) |

## 第六部分 竞赛真卷

|         |         |
|---------|---------|
| 竞赛真卷(1) | ( 125 ) |
| 竞赛真卷(2) | ( 129 ) |
| 参考答案    | ( 133 ) |

# 第一部分 入学准备卷

## 入学准备卷(1)

(时间:30分钟 满分:100分)

|    |   |   |   |   |   |   |   |    |
|----|---|---|---|---|---|---|---|----|
| 题号 | 一 | 二 | 三 | 四 | 五 | 六 | 七 | 总分 |
| 得分 |   |   |   |   |   |   |   |    |

### 一、数一数,连一连。(共20分)

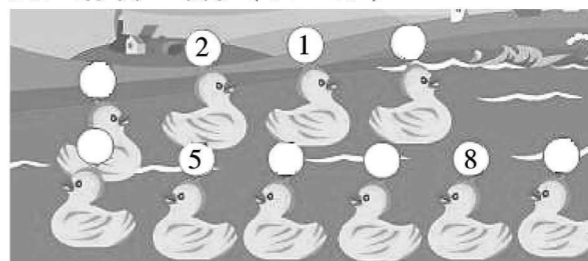
### 二、羊妈妈养了许多花,请你照样子帮她在花盆里画出和花盆上的点数相同数量的花朵吧。(共12分)

### 三、填一填。(共12分)



有( )只小鸡。从左数第( )只、第( )只和第( )只小鸡戴上了帽子。

### 四、缺少的数是什么? 请填一填。(共6分)

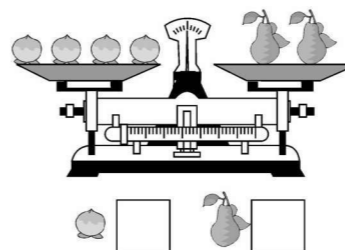


### 五、口算。(共16分)

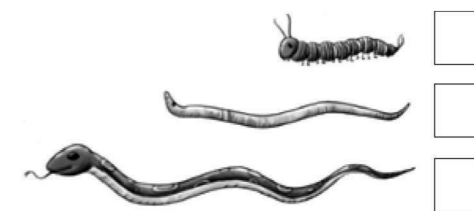
|            |           |           |           |
|------------|-----------|-----------|-----------|
| $10 - 5 =$ | $9 - 3 =$ | $3 + 7 =$ | $5 + 3 =$ |
| $6 + 4 =$  | $7 - 4 =$ | $5 + 5 =$ | $8 - 6 =$ |
| $7 - 6 =$  | $0 + 3 =$ | $2 + 8 =$ | $1 + 9 =$ |
| $8 - 5 =$  | $6 - 4 =$ | $2 + 5 =$ | $7 + 3 =$ |

### 六、比一比。(共12分)

1. 重的画“√”,轻的画“○”。




2. 最长的画“√”,最短的画“○”。




### 七、看图列式计算。(共22分)

1. (7分)



$$\square \bigcirc \square = \square$$

2. (7分)



$$\square \bigcirc \square = \square$$

3. (8分)




$$\square \bigcirc \square \bigcirc \square = \square$$

# 入学准备卷(2)

(时间:30分钟 满分:100分)

|    |   |   |   |   |   |   |   |    |
|----|---|---|---|---|---|---|---|----|
| 题号 | 一 | 二 | 三 | 四 | 五 | 六 | 七 | 总分 |
| 得分 |   |   |   |   |   |   |   |    |

一、请按树干上的数字,画出缺少的苹果。(共6分)



二、口算。(共24分)

|        |        |        |           |
|--------|--------|--------|-----------|
| $5+5=$ | $9-3=$ | $7-2=$ | $4+6-2=$  |
| $3+6=$ | $9+1=$ | $8-7=$ | $10-4-5=$ |
| $5+3=$ | $9-1=$ | $8+2=$ | $7+3-4=$  |
| $9-6=$ | $8-5=$ | $4+4=$ | $2+6+2=$  |


三、横行、竖行上的3个数相加各得多少?(共16分)

|     |   |   |     |
|-----|---|---|-----|
|     | 3 |   |     |
| 2   | 5 | 3 | ( ) |
|     | 1 |   |     |
| ( ) |   |   |     |

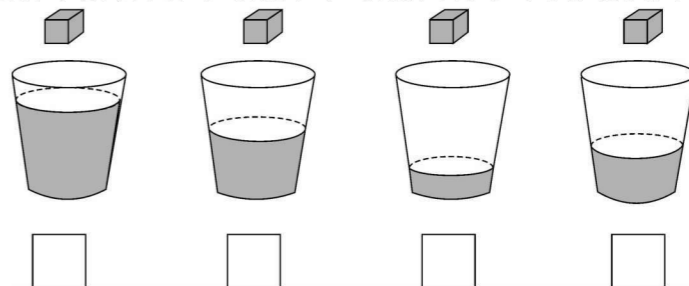
|     |     |     |     |
|-----|-----|-----|-----|
| 1   | 6   | 3   | ( ) |
| 4   | 2   | 2   | ( ) |
| 2   | 1   | 5   | ( ) |
| ( ) | ( ) | ( ) |     |

四、比一比。(共12分)

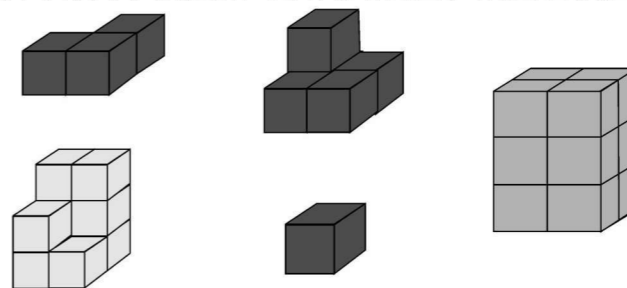
1. 下面哪艘船上装的物体最重(3艘船上的物体相同)? 在最重的船下面的方框里画“√”。



2. 把方糖放进杯子后,哪杯水最甜? 在最甜的杯子下面的方框里画“√”。




五、下面4堆方块中,哪两堆拼起来可以得到右图? 请把它们圈起来。(共8分)




六、帮助物品找到自己的位置,把序号填在圆圈里。(共8分)

柜子的最下面是足球,最上面是一瓶花,小船在花的下面、在洋娃娃的上面。



七、看图列式计算。(共26分)

1. (14分)



$$\square \bigcirc \square = \square$$



$$\square \bigcirc \square = \square$$

2. (12分) 根据下图你能提出哪些数学问题? 用算式表示出来。



## 第二部分 单元测试卷


### 第一单元 10 以内的数基础测试卷

(时间:60 分钟 满分:100 分)

|    |   |   |   |   |   |    |
|----|---|---|---|---|---|----|
| 题号 | 一 | 二 | 三 | 四 | 五 | 总分 |
| 得分 |   |   |   |   |   |    |

#### 一、填空。(共 65 分)

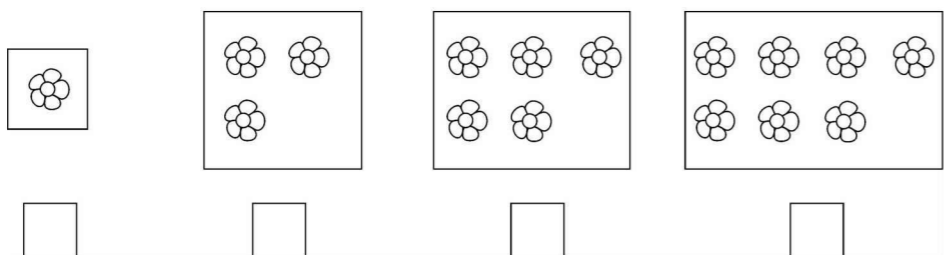
##### 1. 写数。



##### 2. 按顺序填数。



##### 3. 填数,找规律。



规律:每次多  个。

##### 4. 比一比,在 里填上“>”“<”或“=”。

$$5 \bigcirc 9 \quad 7 \bigcirc 2 \quad 4 \bigcirc 8 \quad 10 \bigcirc 9$$

$$4 \bigcirc 6 \quad 9 \bigcirc 8 \quad 0 \bigcirc 3 \quad 7 \bigcirc 6$$

$$7 \bigcirc 5 \quad 4 \bigcirc 8 \quad 1 \bigcirc 7 \quad 3 \bigcirc 3$$

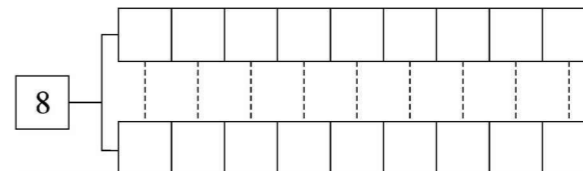
##### 5. 填一填。




(1)一共有( )张卡片,从右往左数,排第( ),排在从左往右数的第( )。

(2)上面的卡片中,比5大的数有( ),大于4小于9的数有( )。

##### 6. 分与合。



##### 7. 从左往右填次序。



##### 8. 找出最大的数,填在 内。

7,5,9,4,3,8

找出最小的数,填在  内。

6,5,2,8,7

##### 9. 看图,填一填。



(1)一共有( )辆车。

(2)从左边数第( )个是自行车,从右边数摩托车是第( )个。

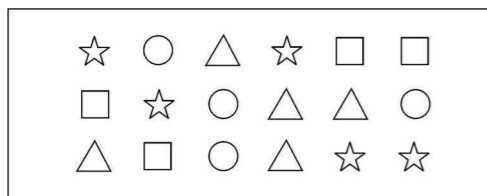
- (3) 警车左边有( )辆车,把小轿车右边的4辆车圈起来。  
 (4) 如果救护车是第1个的话,那么是从( )边数起的。  
 (5) 从右边数大卡车是第( )个,客车是第( )个。

10. 分类填数。

1      4      9      3      7      6      8


比5小的数: \_\_\_\_\_ 比5大的数: \_\_\_\_\_

11. 数一数,填一填。




△ ( ) 个  
 ○ ( ) 个  
 ☆ ( ) 个  
 □ ( ) 个

12. 填数。



13. 根据下图,○比△少( )个;△比○多( )个。



二、按要求画一画。(共14分)

1. 画○,要比□多2个。




2. 画△,要比○少3个。



3. 画△,使△一共有9个。



4. 画○,使○一共有7个。



5. 画3个△。




6. 画△,使△一共有5个。



7. 画△,使△一共有8个。



三、这些食物该分给谁才合适呢?把它们用线连一连。(共8分)




四、比一比,画一画。(共6分)

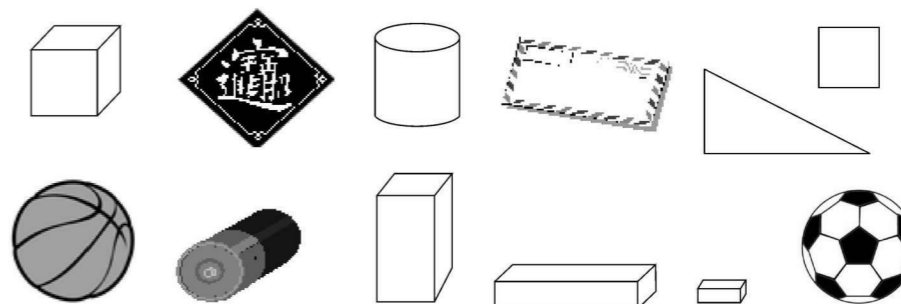
1. 在重的下面画“√”,在轻的下面画“○”。



2. 在最高的下面画“√”,在最矮的下面画“○”。



五、分一分,填一填。(共7分)



长方体有( )个,正方体有( )个,球有( )个,圆柱有( )个,三角形有( )个,正方形有( )个,长方体比正方体多( )个。












# 第一单元 10 以内的数提升测试卷(1)







(时间:60 分钟 满分:100 分)




|    |   |   |   |   |   |   |   |   |   |   |    |    |
|----|---|---|---|---|---|---|---|---|---|---|----|----|
| 题号 | 一 | 二 | 三 | 四 | 五 | 六 | 七 | 八 | 九 | 十 | 十一 | 总分 |
| 得分 |   |   |   |   |   |   |   |   |   |   |    |    |

## 一、看图写数。(共 9 分)





|  |  |   |
|--|--|---|
| <br>□   | <br>□   | <br>□   |
| <br>□   | <br>□   | <br>□   |
| <br>□ | <br>□ | <br>□ |

## 二、数数,在 □ 内画 ○ 计数。(共 9 分)

|  |  |   |
|--|--|---|
| <br>□ | <br>□ | <br>□ |
| <br>□ | <br>□ | <br>□ |

|  |  |  |
|--|--|--|
| <br>□ | <br>□ | <br>□ |
|--|--|--|

## 三、数一数,在 ○ 里涂色。(共 8 分)

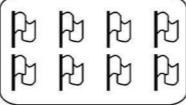




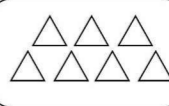




|   |   |
|---|---|
| <br>○○○○○<br>○○○○○ | <br>○○○○○<br>○○○○○ |
| <br>○○○○○<br>○○○○○ | <br>○○○○○<br>○○○○○ |

## 四、按要求画 ○。(共 6 分)

- 一共有 10 个 ○: ○○○○○○
- 一共有 9 个 ○: ○○○○
- 一共有 7 个 ○: ○○○○○○

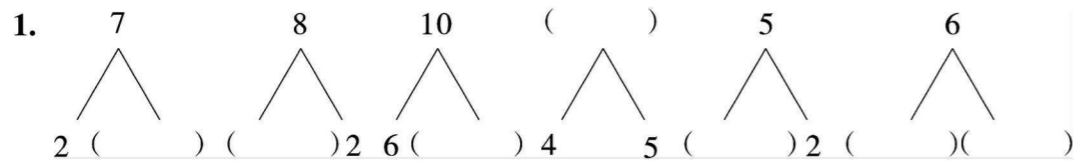
## 五、连一连。(共 12 分)

1.

|   |   |   |
|---|---|---|
|  |  |  |
|  |  |  |
|  |  |  |
|   |  |   |



六、填一填。(共15分)



2. (1) 1, 3, 5, ( ), ( ) (2) 10, 9, 8, ( ), ( ), 5

3. 在  里填数。



$5 < \square$      $\square > 1 + 4$      $4 > \square$      $8 < \square$

4. 数一数, 填一填。

有( )个○, 有( )个△, 有( )个□, 有( )个★。

5. 在 8, 4, 7, 1, 3, 6 中, 大于 3 的数有\_\_\_\_\_。

七、把不同类的圈出来。(共4分)

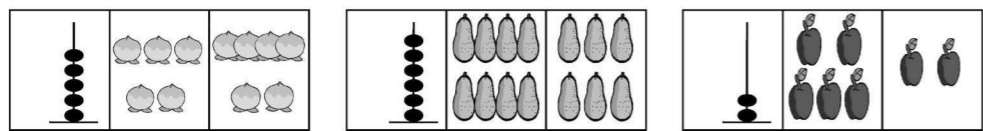


八、画一画。(共7分)

1. (2分) 画○, ○比△多3个。    2. (2分) 画△, △比□少4个。

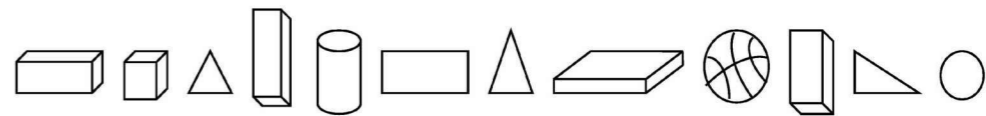


3. (3分) 哪幅图里的水果个数和图前面的珠子数一样多, 就在那幅图的下面画“√”。



( ) ( )    ( ) ( )    ( ) ( )


九、看图, 填一填。(共12分)



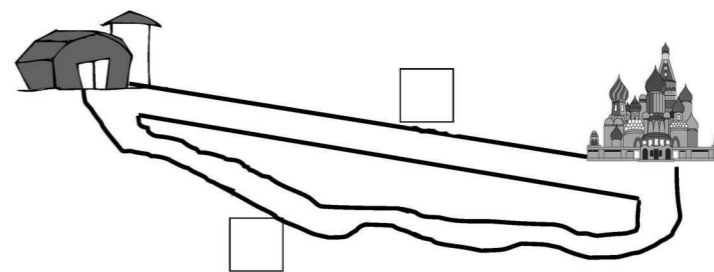
1. 从右数圆柱排在第( )个, 从左数排在第( )个。
2. 从右数第( )个、第( )个、第( )个和第( )个是长方体。
3. 把左边的3个图形圈起来。
4. 长方体有( )个, 三角形有( )个, 长方体比三角形多( )个。

十、比一比。(共6分)

1. 最厚的画“△”, 最薄的画“○”。



2. 远的画“△”, 近的画“○”。



十一、数一数, 画一画, 填一填。(共12分)



|  |   |   |
|--|---|---|
|  | ○ | 1 |
|  |   |   |
|  |   |   |
|  |   |   |
|  |   |   |
|  |   |   |
|  |   |   |
|  |   |   |
|  |   |   |
|  |   |   |
|  |   |   |
|  |   |   |

# 第一单元 10 以内的数提升测试卷(2)

(时间:60 分钟 满分:100 分)

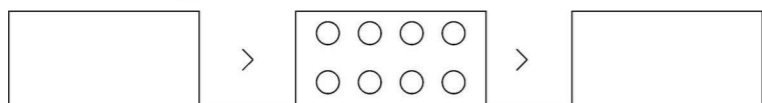
|    |   |   |   |   |   |   |   |   |    |
|----|---|---|---|---|---|---|---|---|----|
| 题号 | 一 | 二 | 三 | 四 | 五 | 六 | 七 | 八 | 总分 |
| 得分 |   |   |   |   |   |   |   |   |    |

## 一、找规律填数。(共 12 分)


|   |  |  |   |  |  |  |   |  |    |    |
|---|--|--|---|--|--|--|---|--|----|----|
| 2 |  |  | 8 |  |  |  | 7 |  |    | 4  |
|   |  |  |   |  |  |  |   |  | 15 | 11 |

## 二、画一画,填一填。(共 18 分)

1. 我能画出方框里的“○”。



2. 看图写数。




3. 按要求涂色。

涂 5 个: ☆ ☆ ☆ ☆ ☆ ☆ ☆ ☆ ☆ ☆

涂第 3 个: ☆ ☆ ☆ ☆ ☆ ☆ ☆ ☆ ☆ ☆

4. 数一数。



|  |         |
|--|---------|
|  | 有 ( ) 个 |
|  | 有 ( ) 个 |
|  | 有 ( ) 个 |

5. 最大的一位数是( ),最小的两位数是( )。

6. 8 后面的 3 个数是( )、( )、( )。

7. 和 7 相邻的数是( )和( )。

8. 1 加上( )和 9 同样多。

9. 在 1、3、2、5、10、4、6、9、7、8 这些数中,最大的数是( )。


三、小红今年上一年级,妈妈带她去买学习用品,应该买什么,把它们圈起来好吗?(共 4 分)



## 四、按要求涂色。(共 12 分)

1. 把 4 个 ○ 涂上颜色。○ ○ ○ ○ ○ ○ ○ ○ ○ ○

2. 涂上颜色的 ○ 要比没有涂上颜色的多 2 个。



3. 涂上颜色的 ○ 要比没有涂上颜色的少 2 个。

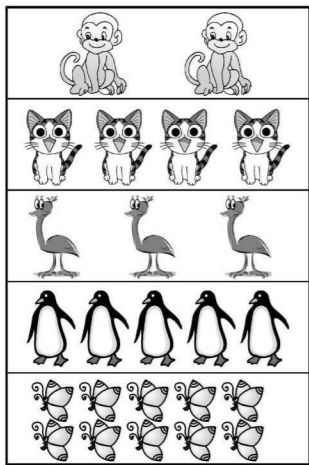



4. 涂上颜色的 ○ 要最多。○ ○ ○ ○ ○ ○ ○ ○ ○ ○


## 五、看数圈图。(共 6 分)

|   |  |   |  |   |  |
|---|--|---|--|---|--|
| 9 |  | 3 |  | 7 |  |
| 8 |  | 4 |  | 5 |  |


六、数一数,连一连。(共18分)

1.  

①  
②  
③  
④  
⑤  
⑥  
⑦  
⑧  
⑨  
⑩


2. 

○ ○ ○    ○ ○ ○ ○    ○ ○    ○ ○ ○ ○ ○ ○ ○ ○

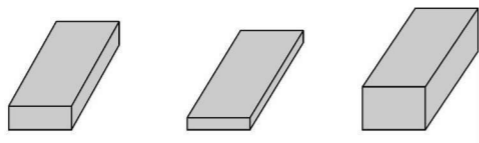


七、比一比。(共12分)

1. 最高的画“○”,最矮的画“√”。      2. 最薄的画“○”,最厚的画“△”。






      


3. 在长的后面画“√”。






4. 最多的画“△”,最少的画“○”。







八、按要求画一画。(共18分)

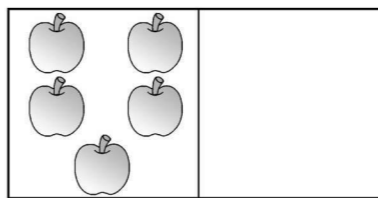
1. (4分)画○,比☆多3个。




2. (4分)画△,比😊少2个。



3. (6分)你会画什么,就在右边空框里画什么,要画得与左边一样多。





4. (4分)数一数,在横线上画出相应的○。

你家里有几口人? \_\_\_\_\_

今年你几岁了? \_\_\_\_\_

你书包里有几本书? \_\_\_\_\_

你喜欢上的课有几节? \_\_\_\_\_

## 第二单元 10 以内数的加减法基础测试卷

(时间:60 分钟 满分:100 分)

|    |   |   |   |   |   |   |   |   |   |    |
|----|---|---|---|---|---|---|---|---|---|----|
| 题号 | 一 | 二 | 三 | 四 | 五 | 六 | 七 | 八 | 九 | 总分 |
| 得分 |   |   |   |   |   |   |   |   |   |    |

### 一、填空。(共 30 分)

1. 找规律填数:(      ),(      ),8,7,(      )。
2. 比 9 多 1 的数是(      ),比 6 少 1 的数是(      )。
3. 7 与 3 的和是(      ),差是(      )。
4. 排队放学时,小红的前面有 2 个人,后面有 5 个人,这一队共有(      )个人。

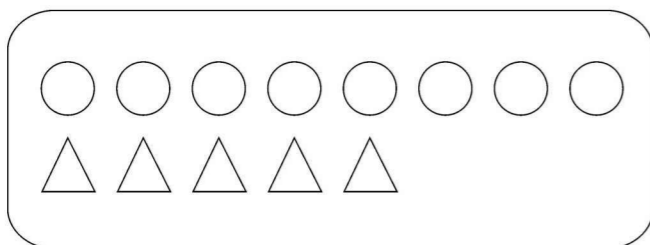
5. 在  里填数。

6 =       4 >       8 <        < 10

6. 在  里填上“+”或“-”。

|   |   |   |  |
|---|---|---|--|
| 3 <input style="width: 20px; height: 20px;" type="text"/> 6 = 9 | 8 <input style="width: 20px; height: 20px;" type="text"/> 7 = 1 | 3 <input style="width: 20px; height: 20px;" type="text"/> 5 = 8 | 4 <input style="width: 20px; height: 20px;" type="text"/> 3 = 7  |
| 4 <input style="width: 20px; height: 20px;" type="text"/> 2 = 2 | 0 <input style="width: 20px; height: 20px;" type="text"/> 9 = 9 | 3 <input style="width: 20px; height: 20px;" type="text"/> 3 = 0 | 7 <input style="width: 20px; height: 20px;" type="text"/> 2 = 5  |
| 6 <input style="width: 20px; height: 20px;" type="text"/> 2 = 8 | 7 <input style="width: 20px; height: 20px;" type="text"/> 0 = 7 | 6 <input style="width: 20px; height: 20px;" type="text"/> 3 = 3 | 5 <input style="width: 20px; height: 20px;" type="text"/> 5 = 10 |


7. 8 比 5 多(      );列式表示是(      )。



8. 在  里填上“>”“<”或“=”。

|  |  |   |
|--|--|---|
| 1 + 2 <input style="width: 20px; height: 20px;" type="text"/> 5  | 4 + 3 <input style="width: 20px; height: 20px;" type="text"/> 8  | 7 + 3 <input style="width: 20px; height: 20px;" type="text"/> 7 |
| 1 + 9 <input style="width: 20px; height: 20px;" type="text"/> 10 | 10 <input style="width: 20px; height: 20px;" type="text"/> 7 + 1 | 8 <input style="width: 20px; height: 20px;" type="text"/> 3 + 5 |
| 10 - 6 <input style="width: 20px; height: 20px;" type="text"/> 5 | 3 <input style="width: 20px; height: 20px;" type="text"/> 9 - 7  | 7 - 4 <input style="width: 20px; height: 20px;" type="text"/> 5 |

9. 填数并找规律。



规律:每次多(      )个。

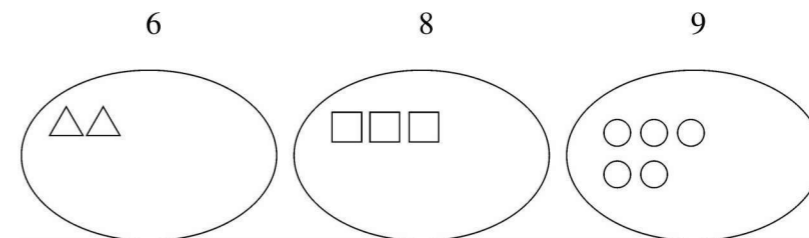
10. 在(      )里填上合适的数。

|                  |                  |                          |
|------------------|------------------|--------------------------|
| 5 + (      ) = 9 | 3 + (      ) = 7 | 2 + (      ) = 8         |
| (      ) - 5 = 2 | (      ) - 0 = 6 | (      ) + (      ) = 10 |

### 二、直接写出得数。(共 20 分)

|          |         |          |          |          |
|----------|---------|----------|----------|----------|
| 3 + 4 =  | 8 - 2 = | 8 - 0 =  | 10 - 7 = | 6 + 3 =  |
| 2 + 7 =  | 4 + 1 = | 7 + 1 =  | 9 - 9 =  | 10 - 8 = |
| 10 - 3 = | 0 + 9 = | 5 - 4 =  | 10 - 9 = | 4 - 2 =  |
| 5 - 3 =  | 3 + 7 = | 10 - 9 = | 8 - 6 =  | 1 + 6 =  |

### 三、看数继续画。(共 3 分)



### 四、用 3,10,7 写两道加法算式和两道减法算式。(共 4 分)

|                                |                                |
|--------------------------------|--------------------------------|
| (      ) + (      ) = (      ) | (      ) - (      ) = (      ) |
| (      ) + (      ) = (      ) | (      ) - (      ) = (      ) |

五、看图写算式。(共8分)



$$\square + \square = \square$$

$$\square - \square = \square$$



$$\square + \square = \square$$

$$\square - \square = \square$$



$$\square + \square = \square$$













$$\square - \square = \square$$



$$\square + \square = \square$$

$$\square - \square = \square$$

六、送小动物回家,连一连。(共6分)

|   |       |   |   |        |   |
|---|-------|---|---|--------|---|
|    | $3+2$ |    |    | $6+2$  |    |
|   | $7-4$ |    |    | $10-4$ |    |
|  | $3+4$ |  |  | $9-6$  |  |

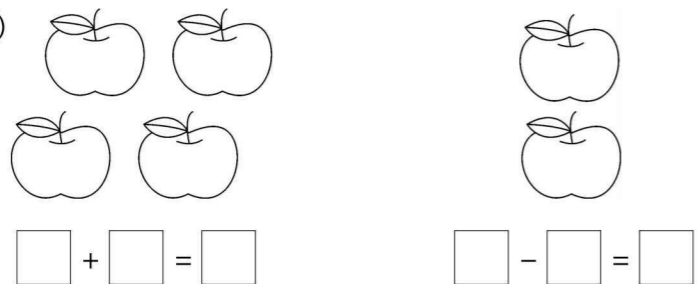
七、看图列式计算。(共10分)

1. (3分)



$$\square + \square = \square$$

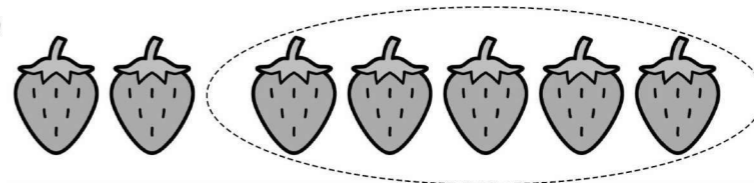
2. (4分)



$$\square + \square = \square$$

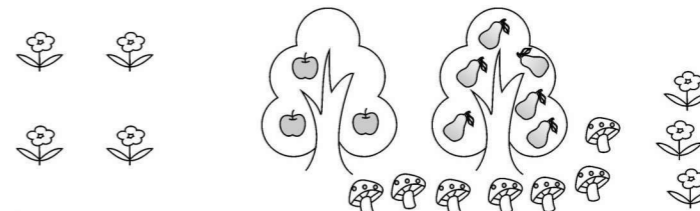
$$\square - \square = \square$$

3. (3分)



$$\square \bigcirc \square = \square$$

八、你能写出几道加法算式?(共9分)



$$\square + \square = \square \quad \square + \square = \square \quad \square + \square = \square$$

九、解决问题。(共10分)

1. (3分)美美和爸爸去东方明珠游玩。美美买冰激凌用了6元,爸爸买一瓶矿泉水用了2元。他们一共用了多少元?

2. (3分)山坡上原来有8头牛在吃草,走了一群牛后还剩5头,走了多少头牛?

3. (4分)某班级图书角借出4本《童话大王》,还剩6本。原来有多少本《童话大王》?

## 第二单元 10 以内数的加减法提升测试卷(1)

(时间:60 分钟 满分:100 分)

|    |   |   |   |   |   |   |   |    |
|----|---|---|---|---|---|---|---|----|
| 题号 | 一 | 二 | 三 | 四 | 五 | 六 | 七 | 总分 |
| 得分 |   |   |   |   |   |   |   |    |

### 一、填空。(共 36 分)

1. ( ) 比 5 多 4; 9 比 ( ) 多 2。

2. 

( ) 最多, ( ) 最少, ( ) 和 ( ) 同样多。 ( ) 比 ( ) 多 2, ( ) 比 ( ) 少 1。

3. 与 5 相邻的两个数是 ( ) 和 ( )。

4. 7 和 2 的和是 ( ), 差是 ( )。

5. 找规律填数。 

|    |  |   |   |  |  |  |
|----|--|---|---|--|--|--|
| 10 |  | 8 | 7 |  |  |  |
|----|--|---|---|--|--|--|

6. 在 7、2、9、0、4、5 这 6 个数中, 最大的是 ( ), 最小的是 ( ), 最接近 10 的数是 ( )。将这 6 个数按从小到大的顺序排列是: ( ) < ( ) < ( ) < ( ) < ( )。

7. 9 的前一个数是 ( ), 后一个数是 ( )。

8. 在  $\bigcirc$  里填上“>”“<”或“=”。

$5 \bigcirc 2$

$9 \bigcirc 10$

$8 \bigcirc 7$

$10 \bigcirc 2 + 7$

$1 + 5 \bigcirc 6$

$8 - 2 \bigcirc 5$

$4 - 4 \bigcirc 9 - 2$

$2 + 6 \bigcirc 8 - 6$

$7 - 0 \bigcirc 2 + 7$

9. 在 ( ) 里填上合适的数。

$4 + ( ) = 10$

$6 + ( ) = 9$

$10 - 3 = 2 + ( )$

$8 - ( ) = 2 + ( )$

$( ) + 4 = 9$

$4 + ( ) = 9 - ( )$

$3 + ( ) < 9$

$7 < ( ) + 3$

$( ) - ( ) < 5$

$2 + ( ) = 3 + ( )$

$10 - ( ) = 6 + ( )$

$10 = ( ) + ( ) = ( ) - ( )$

### 二、直接写出得数。(共 24 分)

$2 + 5 =$

$9 - 2 =$

$7 - 6 =$

$9 - 5 =$

$3 + 3 =$

$2 + 4 =$

$9 + 1 =$

$7 + 2 =$

$9 - 6 =$

$10 - 4 =$

$8 - 3 =$

$0 + 3 =$

$9 - 4 =$

$10 - 5 =$

$4 - 2 =$

$6 - 3 =$

$3 + 4 =$

$10 - 7 =$

$8 - 5 =$

$2 + 6 =$

$5 + 5 - 2 =$

$6 + 2 - 4 =$

$2 + 2 + 4 =$

$9 - 3 - 3 =$

### 三、看图写算式。(共 4 分)



$\square + \square = \square$

$\square - \square = \square$

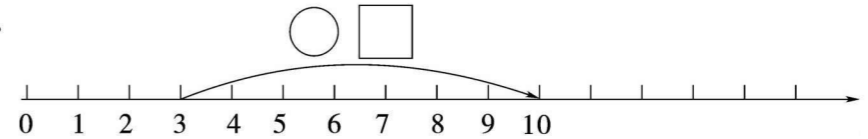


$\square + \square = \square$

$\square - \square = \square$

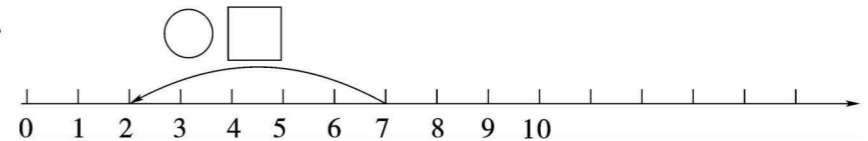
### 四、看数射线, 列算式。(共 4 分)

1.



$\square \bigcirc \square = \square$

2.




$\square \bigcirc \square = \square$

五、口算填表。(共10分)

|   |   |   |   |   |   |
|---|---|---|---|---|---|
|   | 5 | 6 | 6 | 7 | 8 |
|   | 3 | 2 | 3 | 1 | 2 |
| 和 |   |   |   |   |   |
| 差 |   |   |   |   |   |

六、看图列式计算。(共12分)

1. (4分)



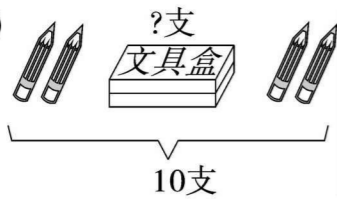
$$\square \bigcirc \square = \square$$

$$\square \bigcirc \square = \square$$

$$\square \bigcirc \square = \square$$

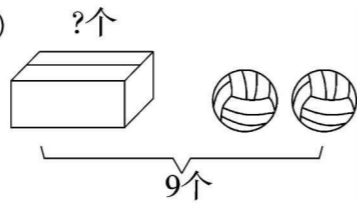
$$\square \bigcirc \square = \square$$

2. (2分)



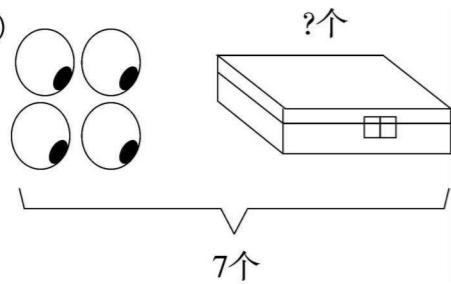
$$\square \bigcirc \square = \square$$

3. (2分)



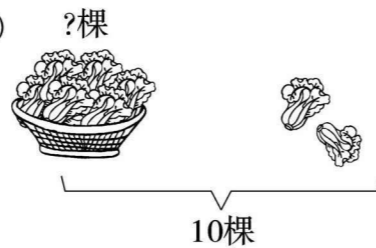
$$\square \bigcirc \square = \square$$

4. (2分)



$$\square \bigcirc \square = \square$$

5. (2分)




$$\square \bigcirc \square = \square$$

七、解决问题。(共10分)

1. (3分) 笑笑看一本书,看了4页,还剩下5页没看,这本书一共有多少页?


2. (3分)



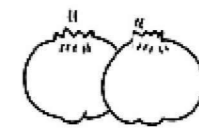
3. (4分) 小刚去买早餐,他带了5元钱,他可以吃什么?



海鲜面  
5元/份



面包  
3元/个



包子  
1元/个



豆浆  
2元/杯



## 第二单元 10 以内数的加减法提升测试卷(2)

(时间:60 分钟 满分:100 分)

|    |   |   |   |   |   |   |   |    |
|----|---|---|---|---|---|---|---|----|
| 题号 | 一 | 二 | 三 | 四 | 五 | 六 | 七 | 总分 |
| 得分 |   |   |   |   |   |   |   |    |

### 一、填空。(共 28 分)

1. 谁的火车开得快?

$$10 \xrightarrow{-4} \square \xrightarrow{-2} \square \xrightarrow{+3} \square \xrightarrow{-7} \square$$

$$9 \xrightarrow{+1} \square \xrightarrow{-4} \square \xrightarrow{+3} \square \xrightarrow{-2} \square$$

2. 9 后面的数是( ), 前面的数是( )。

3. 按规律填数。

(1) 11, 9, 7,  $\square$ ,  $\square$

(2) 2, 4,  $\square$ , 8,  $\square$

(3) 1, 3, 5,  $\square$ ,  $\square$

4. 在  $\square$  里填上合适的数。

$$5 < \square \quad \square > 2 + 7 \quad 10 > \square \quad 7 - \square > 3$$

5. 在  $\bigcirc$  里填上“+”或“-”。

$$9 \bigcirc 6 = 3 \quad 9 \bigcirc 8 = 1 \quad 8 \bigcirc 5 = 3$$

$$6 \bigcirc 2 = 4 \quad 7 \bigcirc 7 = 0 \quad 9 \bigcirc 8 = 1$$

$$4 \bigcirc 4 = 8 \quad 9 \bigcirc 2 = 7 \quad 6 \bigcirc 2 = 8$$

6. 在  $\bigcirc$  里填上“>”“<”或“=”。

$$10 \bigcirc 0 \quad 4 \bigcirc 6 - 2 \quad 7 + 0 \bigcirc 7 \quad 2 + 3 \bigcirc 1 + 3$$

$$9 \bigcirc 6 \quad 4 + 4 \bigcirc 9 \quad 8 - 3 \bigcirc 5 \quad 6 - 4 \bigcirc 6 - 3$$

7. 数一数, 填一填。

○○○○○○○○○○

△△△△△

○比△多\_\_\_\_\_个, △比○少\_\_\_\_\_个。

●●●●

○○○○○○○○

\_\_\_\_\_比\_\_\_\_\_少\_\_\_\_\_个。

$$\square \bigcirc \square = \square$$

$$\square \bigcirc \square = \square$$

### 二、口算。(共 20 分)

|         |         |         |         |
|---------|---------|---------|---------|
| 6 + 4 = | 6 - 5 = | 4 + 4 = | 5 - 1 = |
| 8 - 4 = | 6 + 0 = | 3 - 3 = | 1 + 5 = |
| 1 + 1 = | 8 + 1 = | 4 - 1 = | 9 - 5 = |
| 2 + 6 = | 9 - 7 = | 3 + 2 = | 3 + 4 = |
| 3 + 5 = | 7 + 1 = | 9 - 3 = | 8 - 3 = |

### 三、连一连。(共 8 分)

|        |    |        |       |
|--------|----|--------|-------|
| 8 - 6  | 10 | 4 + 3  | 5 + 1 |
| 10 - 6 | 9  | 0 + 6  | 4 + 4 |
| 5 + 5  | 4  | 3 + 5  | 3 + 4 |
| 2 + 7  | 2  | 10 - 6 | 9 - 5 |

### 四、按图形表示的数计算下列各题。(共 6 分)

○ = 5      △ = 4      ★ = 3      □ = 7

○ + △ = (      )      ★ + □ = (      )      □ - △ = (      )