

第1册



幼儿阶梯算术

YOUER JIETI SUANSHU JIANFA

减法

主编 朱琳珺



上海科技教育出版社

Youer Jieti Suanshu

主编 朱琳珺

幼儿阶梯算术

Jianfa

减法

第1册



上海科技教育出版社

责任编辑 郑典群

封面设计 杨德军

JIE TIE SUAN SHU



幼儿阶梯算术 减法

(第1册)

朱琳璐 主编

上海科技教育出版社出版、发行

(上海冠生园路393号 邮政编码200233)

各地新华书店经销

上海中华印刷有限公司印刷

开本 787×1092 1/16 印张 2


2000年1月第1版 2001年10月第4次印刷

印数 25 001-30 000

ISBN 7-5428-2151-2/G·1399

定价:6.00元

ISBN 7-5428-2151-2



9 787542 821515 >

给爸爸妈妈的话

孩子的出生,让我们充满感动;孩子的成长,让我们欢乐无限;孩子的学习能力,更让我们惊喜不已——从牙牙学语到会画会写,从蹒跚学步到能跑能跳,这一切,仅在瞬间而已。

随着孩子生活触角的向外延伸,好奇心的不断增强,满足孩子多元性的求知欲望成为为人父母者的重要课题。“幼儿阶梯成长系列”是一套根据孩子在不同年龄阶段的不同特点编写的幼儿读物。它能帮助孩子在轻松快乐的氛围中,由浅入深,循序渐进地思考问题,吸收知识。它带给孩子的不是压力和负担,而是成长的脚印,学习的阶梯。每天只需抽出点滴时间,陪伴孩子坐在“阶梯教室”里,就能使您的孩子成为学习的巨人。



Youer Jieti Suanshu

主编 朱琳珺

幼儿阶梯算术

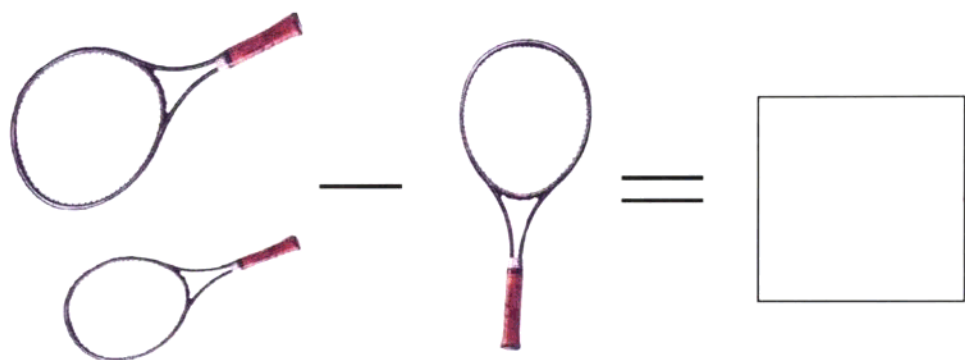
Jianfa

减法

第1册




上海科技教育出版社



$$\boxed{3} - \boxed{2} = \boxed{}$$

袋鼠一家准备参加动物运动会，
可是它们弄不明白，
2个球拍减去1个球拍还剩几个？
3个足球踢掉2个还剩几个？



请小朋友数一数，
图中最多的物品有几份？
最少的物品有几份？



最多物品

最少物品

请小朋友算一算，
图中量多的物品减去量少的物品后还剩多少？
将答案填写在右边的空格里。



	<p>比</p> <p>多</p>
	<p>比</p> <p>多</p>



算一算，
比一比，
看谁算得快又对。

$1 - 1 = \square$

$9 - 1 = \square$

$2 - 1 = \square$

$10 - 1 = \square$

$3 - 1 = \square$

$7 - 1 = \square$

$4 - 1 = \square$

$6 - 1 = \square$

$5 - 1 = \square$

$5 - 1 = \square$

$6 - 1 = \square$

$4 - 1 = \square$

$7 - 1 = \square$

$3 - 1 = \square$

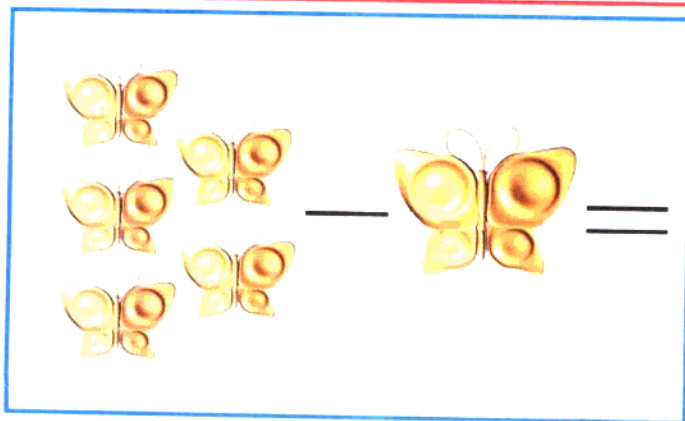
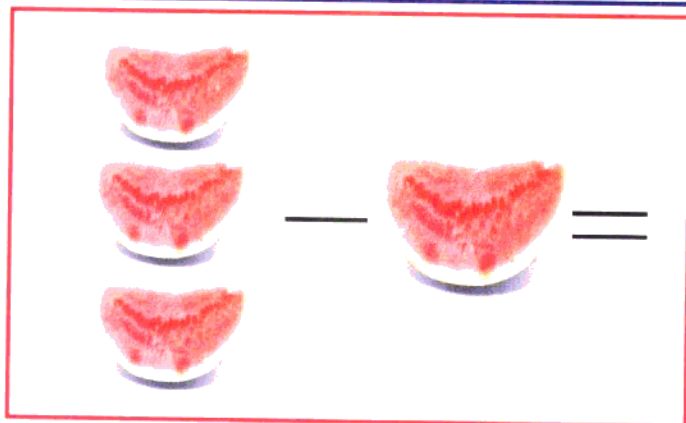
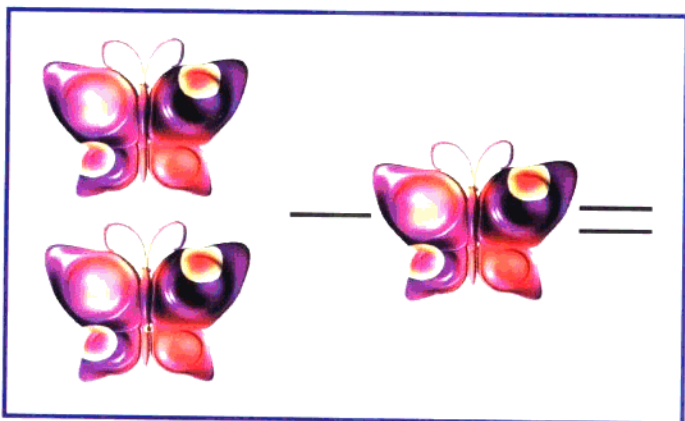
$8 - 1 = \square$

$2 - 1 = \square$

算一算，

找一找，

用线条把正确答案与左边的算式连接起来。



1

2

3

4

5


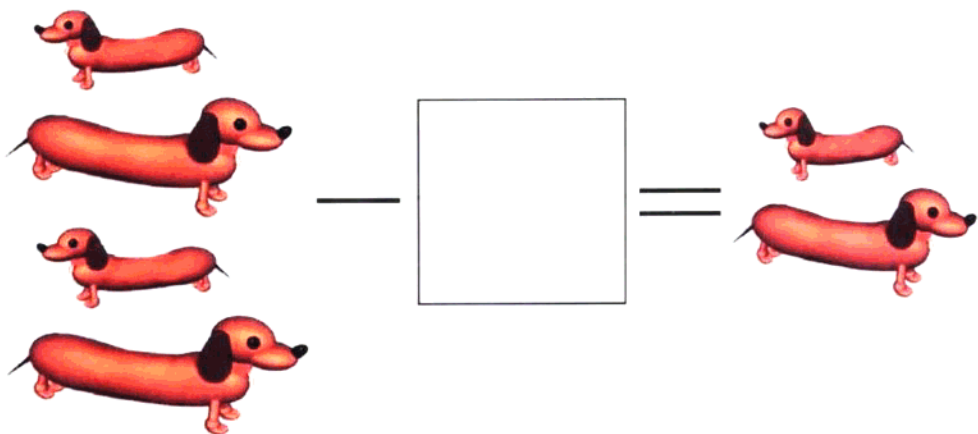
6

7

8

9

10



$$\boxed{4} - \boxed{1} = \boxed{}$$

奶牛妈妈让小奶牛数数，
 4条小狗减去几条小狗等于2条？
 4只小狐狸减去1只小狐狸还剩几只？
 小朋友，你去帮帮小奶牛好吗？



请小朋友数一数，
图中最多的物品有几份？
最少的物品有几份？



最多物品

最少物品

请小朋友算一算，
 图中量多的物品减去量少的物品后还剩多少
 将答案填写在右边的空格里。



 	 比 多
 	 比 多



算一算，
比一比，
看谁算得快又对。

$2 - 2 = \square$

$10 - 2 = \square$

$3 - 2 = \square$

$8 - 2 = \square$

$4 - 2 = \square$

$7 - 2 = \square$

$5 - 2 = \square$

$6 - 2 = \square$

$6 - 2 = \square$

$5 - 2 = \square$

$7 - 2 = \square$

$4 - 2 = \square$

$8 - 2 = \square$

$3 - 2 = \square$




$9 - 2 = \square$

$2 - 2 = \square$

算一算，

找一找，

用线条把正确答案与左边的算式连接起来。



1

2

3

4

5

6

7

8

9


10




凶猛的鳄鱼打球是高手，
可是一做算术题就傻眼了。

3架直升机减去1架直升机还剩几架直升机？


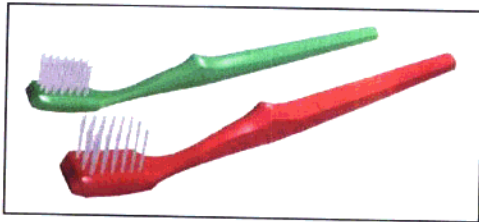


2副滑板减去1副滑板还剩几副滑板？




$$\boxed{2} - \boxed{1} = \boxed{}$$



请小朋友数一数，
图中最多的物品有几份？
最少的物品有几份？



最多物品



最少物品

