

第2册

5 I E T 1

SUAN SHU

幼儿阶梯算术

YOUER JIETI SUANSHU JIANFA

主编 朱琳珺

减法



$$\text{兔} \text{兔} \text{兔} - \text{兔} = ?$$



上海科技教育出版社

Youer Jieti Suanshu

主编 朱琳珺

幼儿阶梯算术

Jianfa

减法

第2册



上海科技教育出版社

责任编辑 郑典群
封面设计 杨德军

JIE TI SUAN SHU



幼儿阶梯算术 减法

(第2册)

朱琳珺 主编

上海科技教育出版社出版、发行

(上海冠生园路393号 邮政编码200233)

各地新华书店经销

上海中华印刷有限公司印刷

开本 787×1092 1/16 印张2


2000年1月第1版 2001年10月第4次印刷

印数 25 001-30 000

ISBN 7-5428-2152-0/G·1400

定价:6.00元

ISBN 7-5428-2152-0



9 787542 821522 >

给爸爸妈妈的话

孩子的出生,让我们充满感动;孩子的成长,让我们欢乐无限;孩子的学习能力,更让我们惊喜不已——从牙牙学语到会画会写,从蹒跚学步到能跑能跳,这一切,仅在瞬间而已。

随着孩子生活触角的向外延伸,好奇心的不断增强,满足孩子多元性的求知欲望成为为人父母者的重要课题。“幼儿阶梯成长系列”是一套根据孩子在不同年龄阶段的不同特点编写的幼儿读物。它能帮助孩子在轻松快乐的氛围中,由浅入深,循序渐进地思考问题,吸收知识。它带给孩子的不是压力和负担,而是成长的脚印,学习的阶梯。每天只需抽出点滴时间,陪伴孩子坐在“阶梯教室”里,就能使您的孩子成为学习的巨人。



Youer Jieti Suanshu

主编 朱琳珺

幼儿阶梯算术

Jianfa

减法

第2册



上海科技教育出版社




11/14/11

$$\boxed{} - \boxed{6} = \boxed{3}$$


小花狗最爱吃巧克力豆了，
 10粒巧克力豆吃掉了5粒还剩几粒？
 狗妈妈爱吃冰棍，
 几根冰棍吃掉了6根，
 还剩3根？




请小朋友数一数，
图中最多的物品有几份？
最少的物品有几份？



最多物品



最少物品



请小朋友算一算，
图中量多的物品减去量少的物品后还剩多少
将答案填写在右边的空格里。



	<p>比</p> <p>多</p> <input type="text"/>
	<p>比</p> <p>多</p> <input type="text"/>



算一算，
比一比，
看谁算得快又对。

$4 - 2 = \square$

$5 - 5 = \square$

$5 - 3 = \square$

$8 - 7 = \square$

$6 - 4 = \square$

$7 - 2 = \square$

$7 - 5 = \square$

$6 - 3 = \square$

$8 - 6 = \square$

$5 - 4 = \square$

$9 - 2 = \square$

$8 - 5 = \square$

$7 - 3 = \square$

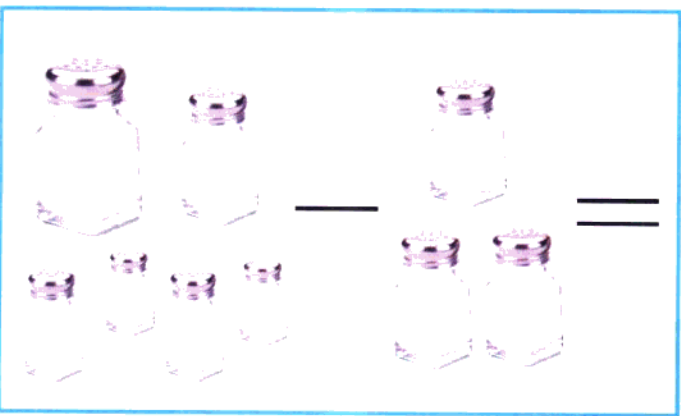

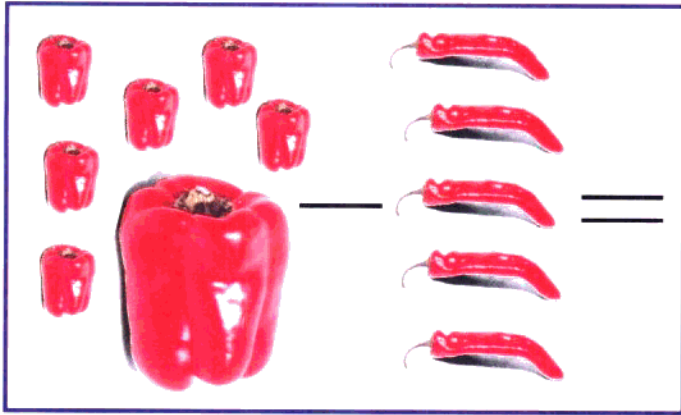
$9 - 6 = \square$

$6 - 5 = \square$

$10 - 2 = \square$

算一算，
找一找，

用线条把正确答案与左边的算式连接起来。



1

2

3

4

5


6

7

8

9

10

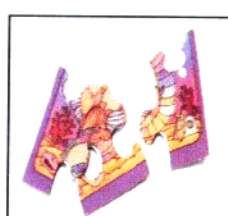
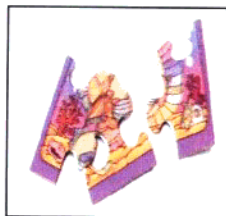
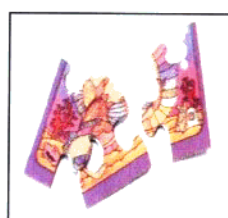
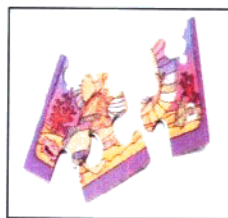






$$\square - 4 = 6$$


哎呀呀，不得了，
蛋糕和热狗被小野猪偷吃掉了。
6块蛋糕只剩下了4块，
到底少了几块呢？
小野猪吃了4只热狗还剩6只，
原来有几只？




请小朋友数一数，
图中量多的物品有几份？
量少的物品有几份？



量多物品



量少物品



请小朋友算一算，
图中量多的物品减去量少的物品后还剩多少？
将答案填写在右边的空格里。



	 比 多 <input type="text"/>
	 比 多 <input type="text"/>



算一算，
比一比，
看谁算得快又对。

$5 - 3 = \square$

$9 - 6 = \square$

$6 - 4 = \square$

$8 - 7 = \square$

$7 - 5 = \square$

$7 - 3 = \square$

$8 - 6 = \square$

$6 - 2 = \square$

$9 - 7 = \square$

$9 - 5 = \square$

$6 - 3 = \square$

$8 - 3 = \square$

$7 - 4 = \square$

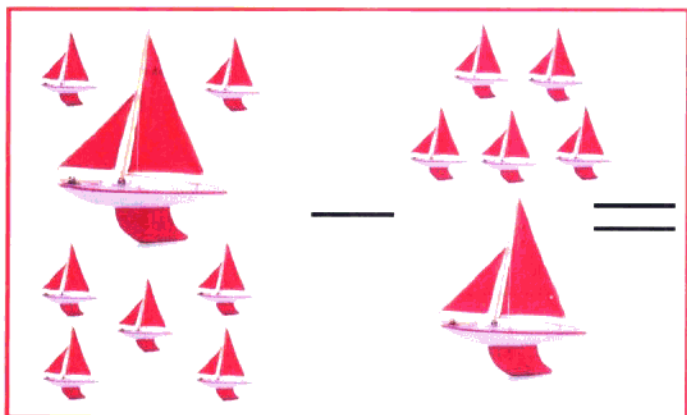
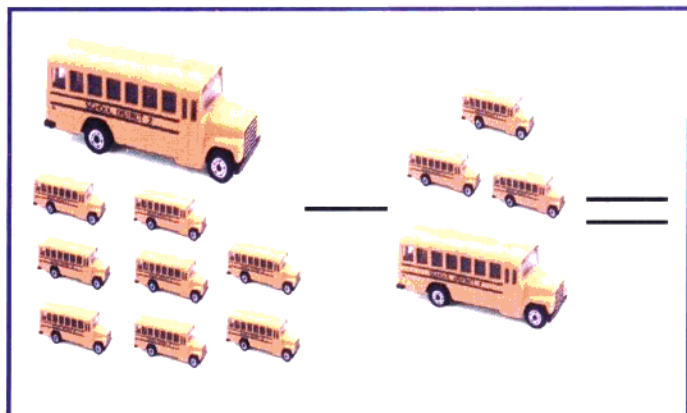
$8 - 4 = \square$

$8 - 5 = \square$


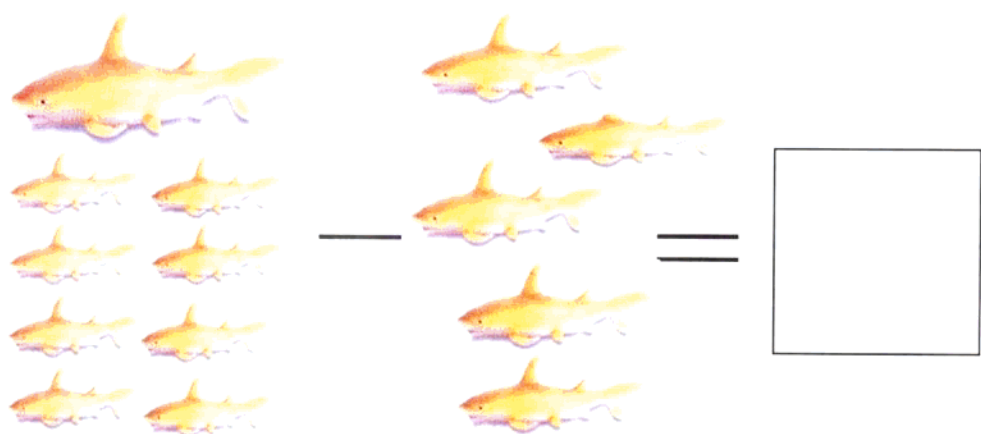
$9 - 3 = \square$

算一算，
找一找，

用线条把正确答案与左边的算式连接起来。



- 1
- 2
- 3
- 4
- 5
- 6
- 7
- 8
- 9
- 10



$$\boxed{6} - \boxed{3} = \boxed{\quad}$$


兔妈妈让小兔保管运动服和鱼，
6 件运动服被借走了 3 件，
现在还剩几件呢？
9 条鱼被偷走了 5 条还剩几条？



请小朋友数一数，
图中量多的物品有几份？
量少的物品有几份？



量多物品



量少物品

