


名校名卷●数学 (北师大版)

一年级下册



电子科技大学出版社



名校名卷

第一单元达标测试卷

题号	一	二	三	四	五	六	七	八	九	附加题	总分
得分											

一、看谁算得又对又快。(12分)

$5+8=$

$6+7=$

$11+5=$

$17-8=$

$9+7=$

$6+5=$

$13+6=$

$16-9=$

$7+3=$

$9+8=$

$15-5=$

$17-3=$

二、拔萝卜(连线)。(10分)

$14-8$ $13-5$ $16-7$ $11-6$ $12-9$

5

6

8

3

9

$12-3$ $11-8$ $15-9$ $13-8$ $16-8$

三、比一比(在○里填上“>”、“<”或“=”)。(12分)

$12-6$ ○ 5

$17-8$ ○ 9

$14-7$ ○ 8

$15-6$ ○ 7

$13-5$ ○ 9

$15-9$ ○ 6

$11-3$ ○ 6

$12-4$ ○ 7


$16-7$ ○ 10

$10-9$ ○ $13-8$

$14-6$ ○ $16-7$

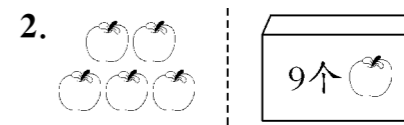
$15-9$ ○ $16-16$

四、数一数,填一填。(12分)



$14 - \square = \square$

$14 - \square = \square$



$9 + \square = \square$

$14 - \square = \square$



$12 - \square = \square$

$12 - \square = \square$



△比○少()个;

○比△多()个。

五、看谁最先到达终点?(8分)

$15 \xrightarrow{-6} \square \xrightarrow{+3} \square \xrightarrow{-4} \square \xrightarrow{+6} \square \xrightarrow{-7} \square$

$8 \xrightarrow{+5} \square \xrightarrow{-4} \square \xrightarrow{+7} \square \xrightarrow{-9} \square \xrightarrow{-3} \square$

$16 \xrightarrow{-7} \square \xrightarrow{+6} \square \xrightarrow{-9} \square \xrightarrow{+8} \square \xrightarrow{-6} \square$

$6 \xrightarrow{+5} \square \xrightarrow{-7} \square \xrightarrow{+9} \square \xrightarrow{-4} \square \xrightarrow{+5} \square$

六、在“”里填上合适的数。(9分)

$12 - \text{peach} = 7$

$12 - \text{peach} = 4$

$11 - \text{peach} = 2$

$17 - \text{peach} = 9$

$15 - \text{peach} = 8$

$15 - \text{peach} = 9$

$11 - \text{peach} = 6$

$14 - \text{peach} = 9$

$17 - \text{peach} = 8$

七、我会选(在○里填上“+”或“-”)。(7分)

13○6=7

12○5=7



3○8=11

6○5=11

8○4=12

9○6=15

3○9=12



16○7=9

8○5=13

18○9=9

14○7=7

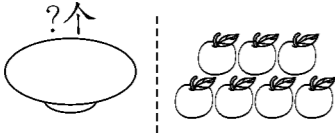
7○4=11

15○7=8

13○5=8

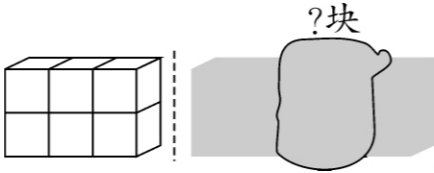
八、看图列式计算。(12分)

1. 共有 15 个。




□○□=□(个)

2. 共有 12 块。




□○□=□(块)

3. 共有 14 颗。



□○□=□(颗)

4. 共有 13 条。



□○□=□(条)

九、解决问题。(18分)

1. 下面是水果商店的水果销售记录,请你根据已知的数据将表填完整。(6分)

	原有	卖出	还剩
	17 筐	9 筐	() 筐
	12 筐	4 筐	() 筐
	15 筐	() 筐	8 筐

2. 列式计算。(12分)

(1)

房子里住着11只小老鼠,跑出去2只。



房子里还剩多少只?

□○□=□(只)

(2)做风车。

我做了8个风车。



张萌 李心

我做的比张萌的多6个。



王杰

李心做的比我的多5个。

①李心做了多少个风车?

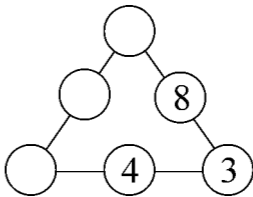
□○□=□(个)

②王杰做了多少个风车?

□○□=□(个)

附加题。(10分)

在下面的○里填上合适的数,使每条线上的三个数相加都等于13。



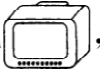




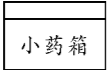

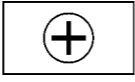





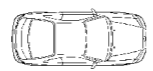



名校名卷

第二单元达标测试卷

题号	一	二	三	四	五	附加题	总分
得分							

一、择优录取、对号入座。(12分)

- 从右面看电视机 , 看到的是()。
A.  B.  C. 
- 从正面看小药箱 , 看到的是()。
A.  B.  C. 
- 从右面看小熊 , 看到的是()。
A.  B.  C. 
- 有一辆汽车, 小明从空中往下看, 则小明看到的是()。
A.  B.  C. 

二、计算。(18分)

1. 口算。(9分)

$8+7=$	$14-5=$	$16-9=$
$12-4=$	$9+9=$	$15-7=$
$11-3=$	$6+7=$	$13-4=$





2. 在“”里填上合适的数。(9分)



$20 - \text{apple} = 10$	$16 - \text{apple} = 7$	$15 - \text{apple} = 8$
$15 - 6 = \text{apple}$	$13 - \text{apple} = 9$	$14 - \text{apple} = 6$
$18 + \text{apple} = 19$	$11 - \text{apple} = 9$	$12 - \text{apple} = 7$

三、连一连。(42分)



1. 下面这些图分别是谁看到的? 连一连。(8分)






(1)


 A
 B
 C


 ①
 ②

(2)








 ①
 ②
 A
 B
 C

2. 下面的图分别是谁看到的? 连一连。(8分)





小亮
小明
小红







小红
小明
小亮
小刚

3. 下面的照片分别是从贝贝的哪一面拍到的? 请你连一连。(6分)

① 

② 

③ 

后面
前面
侧面

4. 下列这些图分别是谁看到的？请你连一连。（6 分）



小丽




小明



小兰



5. 仔细观察连一连，他们每个人分别看到哪幅图？（6 分）



①



②



③



A



B

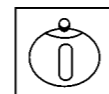





C

6. 美术小组的同学围在桌边画茶壶。（8 分）



下面的四幅图分别是谁画的？请你连一连。



欣欣

小强

明明

小红

四、填一填。（14 分）

1. 猪妈妈从前、后、左、右不同位置给开车的小猪照相，你能写出当时猪妈妈所处的位置吗？（8 分）



()



()

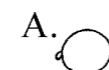


()




()

2. 快帮小猴找一找，哪一张是小猪为他拍的照片？哪一张是小羊为他拍的照片？哪一张是小鸟为他拍的照片？（6 分）




A.



B.



C.



D.

() 是小猪为他拍的，() 是小羊为他拍的，() 是小鸟为他拍的。

五、解决问题。（14 分）

1. 妈妈给小明买了 12 个苹果，小明给了姐姐 5 个，还剩多少个？（4 分）

2. 树上有 15 只猴子，树下有 7 只，树上比树下多几只？（5 分）

3. 小红有 18 支彩色笔，借给小强 5 支，又借小红 4 支，还剩多少支？（5 分）

附加题。（10 分）

$$\square + \triangle = 12$$

$$\bigcirc = ()$$

$$\triangle + \bigcirc = 10$$

$$\triangle = ()$$

$$\bigcirc + \square = 8$$

$$\square = ()$$



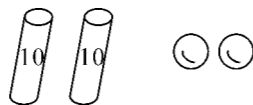
名校名卷

第三单元达标测试卷

题号	一	二	三	四	五	六	七	八	附加题	总分
得分										


一、看图填空。(8分)

1.



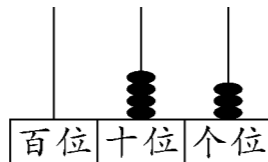
()个十和()个一是()。

2.



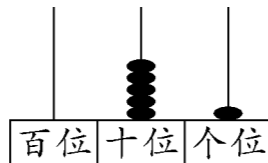
()个十和()个一是()。

3.



()个十和()个一是()。

4.



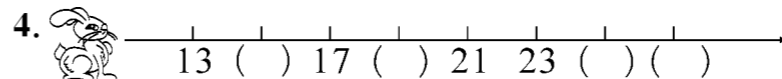
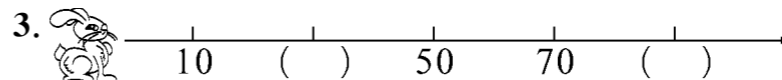
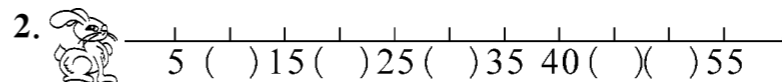
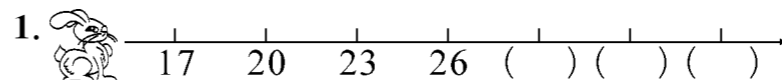
()个十和()个一是()。

二、填一填。(16分)

- 计数器上,从右数起,第一位是()位,第二位是()位,第三位是()位。
- 43是由()个十和()个一组成的。
- 5个十和4个十合起来是()个十,也就是()。

- 74中,“7”在()位上,“4”在()位上,它是()位数。
- 一个两位数,个位上的数字是最大的一位数,十位上的数字比个位上的数字小3,这个两位数是()。
- 最小的两位数是(),最大的两位数是()。
- 在73后面连续数出三个数是()、()、()。

三、跳远比赛。(12分)



四、分一分。(6分)

78	17	81	30	49	51	65	23	9	88	39	97
----	----	----	----	----	----	----	----	---	----	----	----



五、比一比。(14分)

1. 在○里填上“>”、“<”或“=”。(6分)

$70 \bigcirc 69$

$5 \text{ 个十和 } 9 \text{ 个一} \bigcirc 59$


$41 \bigcirc 14$

$97 \bigcirc 7 \text{ 个十和 } 9 \text{ 个一}$

$19 \bigcirc 20$

$63 \bigcirc 6 \text{ 个十}$

2. 按从小到大的顺序给小乌龟排队。(4 分)



() < () < () < () < () < () < ()

3. 在 里最大能填几?(4 分)

$53 > \square$

$75 > \square$

$62 > \square$

$\square < 45$

六、按要求做一做。(23 分)

1. 写出个位上是 7 的所有两位数。(4 分)

2. 写出 83 前面的六个数。(4 分)

3. 写出个位上是 4 且比 44 大的所有两位数。(4 分)

4. 写出五个个位比十位数字小的两位数。(5 分)

5. 将用 5、7、9 三个数字中的任意两个组成的两位数按从小到大顺序排列。(6 分)

七、小法官判案(对的打“√”,错的打“×”)。(5 分)

1. 与 79 相邻的两个数是 69 和 89。 ()

2. 100 个一是 100。 ()

3. 7 个十和 7 个一组成的数是 70。 ()

4. 62 中 6 在个位上,2 在十位上。 ()

5. 38 是由 3 个十和 8 个一组成。 ()

八、解决问题。(16 分)

1. (8 分)

跑步的
有 68 人。



跳高的比跑
步的多得多。



跳绳的比跑
步的少一些。



跳高的可能有多少人?(在你认为合适的答案下面画“√”)

跳绳的可能有多少人?(在你认为合适的答案下面画“○”)

23 人	63 人	72 人	98 人
<input type="checkbox"/>	<input type="checkbox"/>	<input type="checkbox"/>	<input type="checkbox"/>

2. 在你认为合适的答案下面打“√”。(8 分)

(1) 二(3)班有 67 人去春游,坐哪辆车比较合适?

50 座	70 座	80 座	60 座
<input type="checkbox"/>	<input type="checkbox"/>	<input type="checkbox"/>	<input type="checkbox"/>

(2) 梨有 40 个,苹果的个数比梨少得多,苹果可能有多少个?

18 个	32 个	48 个
<input type="checkbox"/>	<input type="checkbox"/>	<input type="checkbox"/>

附加题。(10 分)

找规律,在()里填上适当的数。

(1) 10、5、9、6、8、()、()。

(2) 30、40、32、38、34、()、()。



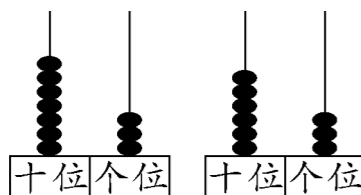
名校名卷

循环复习测试卷(一)

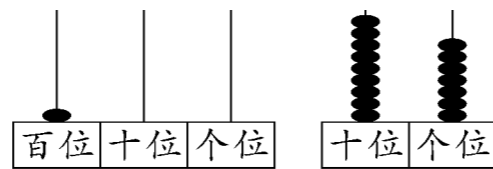
题号	一	二	三	四	五	六	七	附加题	总分
得分									

一、填一填。(16分)

- 15 比 7 大(), 9 比 14 小()。
- 个位上的数是 7, 十位上的数是 5, 这个数是()。
- 最小的两位数是(), 再加上()就是最大的两位数。
- 写数并比较数的大小。(6分)



() ○ ()

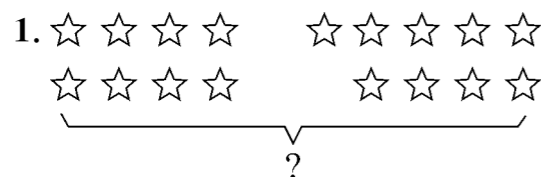


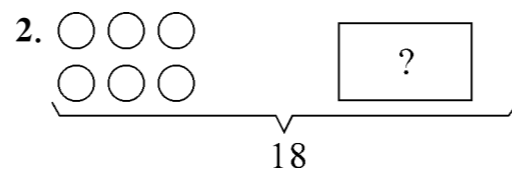
() ○ ()

5. 填表。

73	()个十和()个一
67	()个十和()个一
()	3个十和1个一

二、看图写算式。(6分)





三、计算大本营。(18分)

1. 口算。(6分)

$$\begin{array}{llll}
 14-5= & 18-9= & 15-9= & 12-7= \\
 7+9= & 11-4= & 6+5= & 17-8= \\
 7+7= & 13-5= & 12+0= & 11-0=
 \end{array}$$

2. 在()里填上适当的数。(12分)

$$\begin{array}{lll}
 9+()=15 & 8+()=12 & ()+6=15 \\
 8-()=0 & 7+()=13 & ()-4=9 \\
 ()-7=5 & ()-4=8 & 11-()=4
 \end{array}$$

四、在○里填上“>”、“<”或“=”。(6分)


$$\begin{array}{lll}
 12-7 \bigcirc 5 & 14-9 \bigcirc 6 & 11-5 \bigcirc 13-6 \\
 16-9 \bigcirc 4 & 15-7 \bigcirc 9 & 13-6 \bigcirc 15-8
 \end{array}$$

五、选一选。(20分)

1. 看哪个苹果属于哪棵树?(12分)



2. 下边的三幅图分别是谁看到的, 请连一连。(8 分)



六、猜一猜。(18 分)

1. (6 分)



跳步的有83人。

跳绳的人数比跑步的少得多。



跳远的比跑步的人多一点。



跳绳的可能有几人? (画“√”)

78	45	100

跳远的可能有几人? (画“○”)

87	78	100

2. (6 分)



一班有62人。

二班的人数和一班差不多。



二班可能有几人? (画“√”)

64	79	34

3. (6 分)

苹果有26个。

梨比苹果多得多。



梨可能有几个? (画“√”)

35	27	85

七、解决问题。(16 分)

1. (6 分)(1)踢足球的和打篮球的一共有多少人?

$$\square \bigcirc \square = \square (\text{人})$$

(2)跳绳的女生有 6 人, 跳绳的男生有多少人?

$$\square \bigcirc \square = \square (\text{人})$$

2. (6 分)



苹果和梨一共有13个。

(1)苹果有 5 个, 梨有几个?

$$\square \bigcirc \square = \square (\text{个})$$

(2)苹果比梨少几个?

$$\square \bigcirc \square = \square (\text{个})$$

3. (4 分)地上原来有 12 个蘑菇。还剩下几个蘑菇?

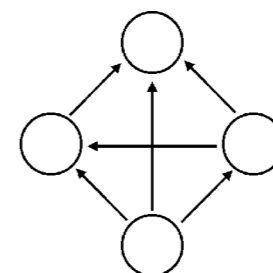
$$\square \bigcirc \square = \square (\text{个})$$



我采了3个。

附加题。(10 分)

把 45、66、90、77 四个数填到“○”里, 要求每个箭头末端的数大于箭头所指的数。



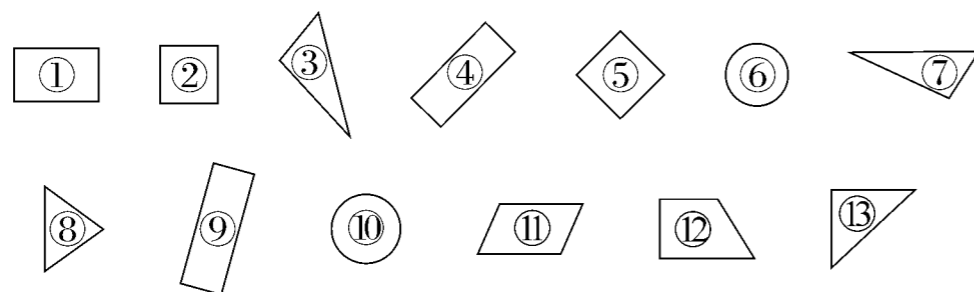


名校名卷

第四单元达标测试卷

题号	一	二	三	四	五	六	七	八	九	附加题	总分
得分											

一、分一分，把图形的序号填到相应的圈里。(10 分)

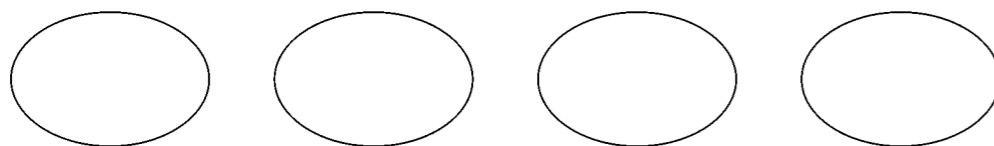


长方形

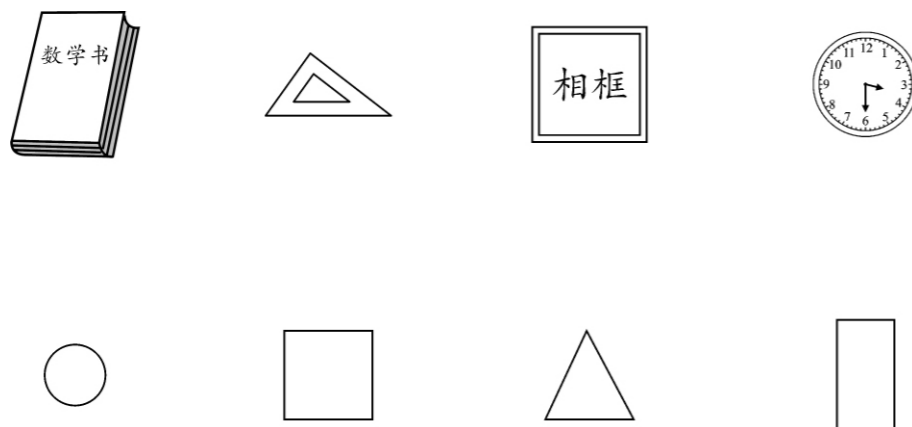
正方形

圆

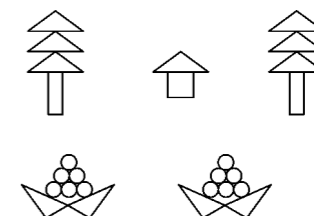
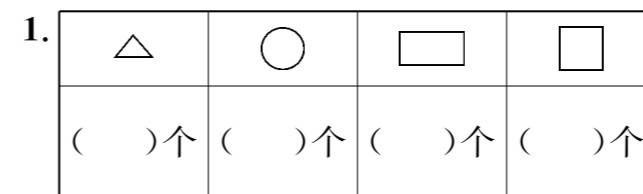
三角形



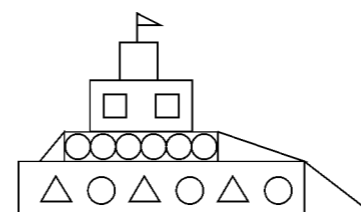
二、连一连。(8 分)



三、数一数。(15 分)



2.



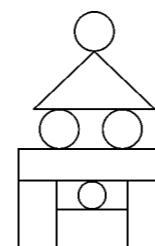
有()个□,

有()个△,

有()个○,

有()个□。

3.



有()个○,

有()个□,

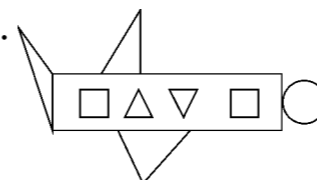
有()个△,

有()个□。

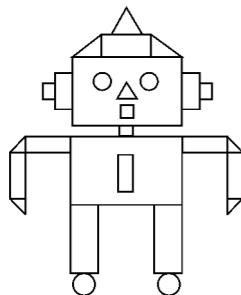
四、涂一涂。给□涂上红色,△涂上绿色,□涂上黄色,○涂上黑色。

(12 分)

1.



2.

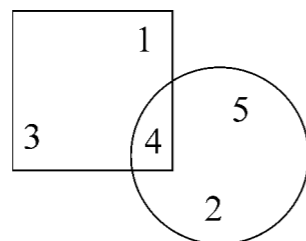


五、找规律,接着画下去。(12 分)

1. _____。
2. _____。
3. _____。
4.

 _____。

六、填一填,数一数。(9 分)



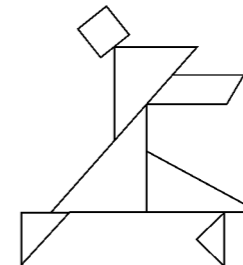
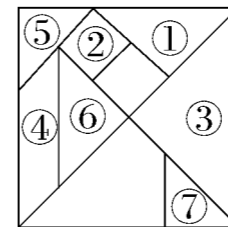
1. 正方形中的数有()。
2. 圆中的数有()。
3. ()既在正方形中,又在圆中。

七、从下面右边的图形里各选出两个,把它们拼成左边的图形,请你圈出来。(4 分)

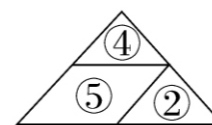
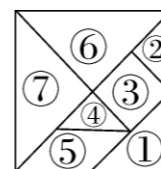
	1	2	3	4	5

八、动动脑,做一做。(18 分)

1. 下面左边是七巧板,右边是用七巧板拼出的一幅土家摆手舞图案,请你给图案中的每一块标上它在左图中相应的序号。(6 分)



2. 下图是一副七巧板,小红用其中的三块拼成了一个三角形,请你也每次任选三块,拼出下面的图形(画出来)。(12 分)



我拼了一个三角形。

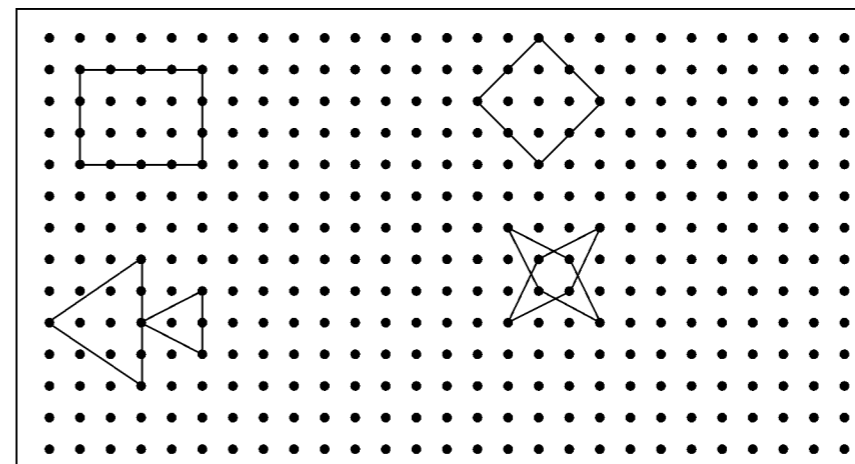


正方形

长方形

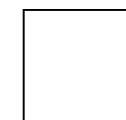
三角形

九、根据所给图案在点子图中再画一个(画在原图的右边)。(12 分)



附加题。(10 分)

在下面图形中画两条线,把它分成 4 个大小相同的图形,你有几种画法? 试一试。



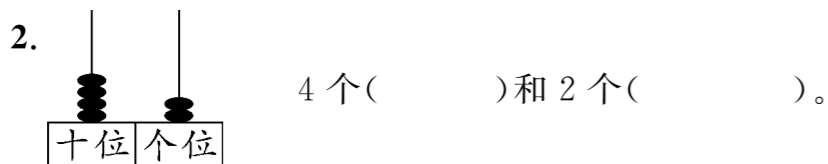
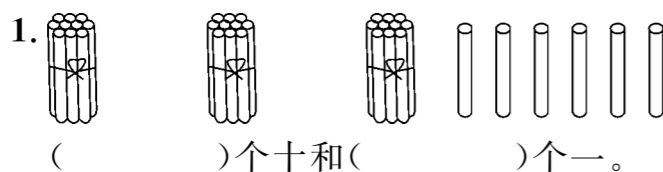


名校名卷

期中测试卷

题号	一	二	三	四	五	六	七	八	九	附加题	总分
得分											

一、填一填。(1~6 题每空 1 分,7 题 6 分,8 题 4 分,共 22 分)



3. 右起第一位是 7,第二位是 5,这个两位数是 ()。与 80 相邻的数是 () 和 ()。

4. 个位上是 9,十位上是 4 的数写作 (),读作 ()。

5. 写出两个数,个位和十位数字相同: ()、()。

6. 小明有 12 个苹果,小青有 7 个苹果,小明比小青多 () 个苹果。

7. 按规律接着写或画。



8. 按从小到大的顺序排列下面各数。

87 33 29 13 35 78 56 47 7

二、小法官判案(对的打“√”,错的打“×”)。(5 分)

1. 最小的两位数是 11。 ()

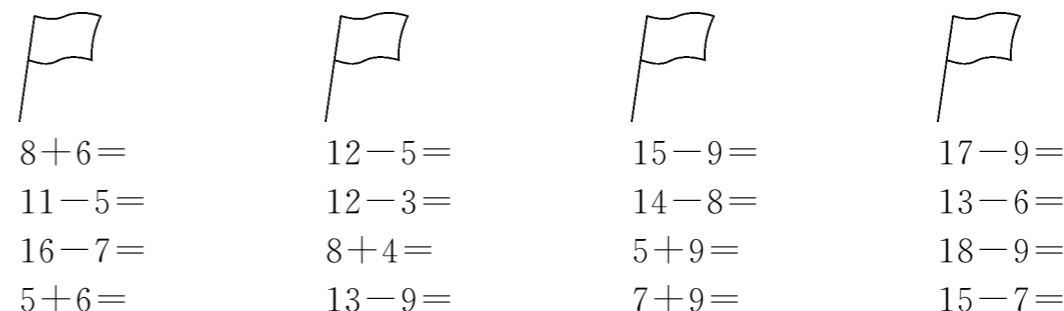
2. 73 后面的第 4 个数是 76。 ()

3. 是一个三角形。 ()

4. 因为 $1 < 9$,所以 $10 < 9$ 。 ()

5. 5 个十和 8 个一组成 85。 ()

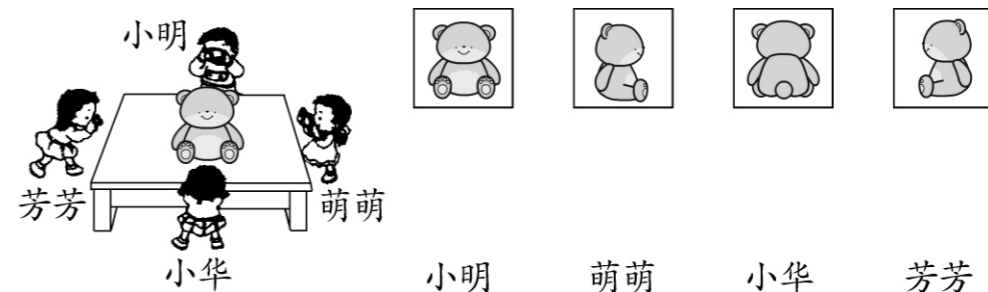
三、夺红旗。(8 分)



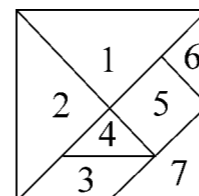
四、找朋友,把算式和得数用线连接起来。(12 分)

12-9	14	12-5
12-8	4	11-7
9+5	3	11-8
14-9	8	8+6
15-8	5	14-6
16-8	7	13-8

五、下图右边的照片分别是谁拍到的? 连一连。(8 分)



六、七巧板。(8 分)



1. 七巧板由 () 块板组成。

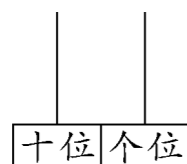
2. 七巧板由 () 种图形组成,其中有 () 个 \triangle () 个 \square 和 () 个 \square 。

3. 1 号图和 () 号图一样大, () 号图 () 号图也一样大。

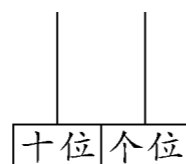
七、动动脑,做一做。(6分)

1. 请你在每个计数器上共画6个珠子,表示两位数。(4分)

(1)表示的数比40小。



(2)表示的数比40大。



2. 把下面的长方形分成一个正方形和两个三角形。(2分)



八、猜一猜。(9分)

1. (4分)

我今年68岁。



我和你的年龄差不多。



奶奶今年可能是多少岁? 在你认为合适的答案下画“√”。

35	65	80

2. (5分)



故事书有多少本? 在你认为合适的答案下画“○”。

35	42	90

九、解决问题。(22分)

1. 有11支蜡烛,吹灭了8支,还有()支亮着。(5分)

$$\square \bigcirc \square = \square (\text{支})$$

2. 1个杯子配1个盖子,还缺几个盖子?(5分)




现在有□个杯子,□个盖子。



$$\square \bigcirc \square = \square (\text{个})$$

3. 钓鱼。(12分)



(1)小红钓了多少条?

$$\square \bigcirc \square = \square (\text{条})$$

答:小红钓了_____条。

(2)小文钓了多少条?

$$\square \bigcirc \square = \square (\text{条})$$


答:小文钓了_____条。

(3)()钓得最多,()钓得最少。

(4)小红给小明()条后,两人一样多。

附加题。(10分)

数图形,数一数下图一共有多少个长方形?





名校名卷

第五单元达标测试卷

题号	一	二	三	四	五	六	七	八	附加题	总分
得分										

一、填一填。(12分)

- 3个十加上4个十是(), 36减去1个十是()。
- 两个加数都是23, 和是()。
- 最大的两位数与最小的两位数差是()。
- 比53少2的数是(), 比33多42的数是()。
- ()比78少30, ()比51多40。
- 在得数大于六十的算式后面打“√”。

47+20	45+30	63-20	63-2

二、看图列式计算。(12分)

1.
 $\square \bigcirc \square = \square$ (个)

2.
 $\square \bigcirc \square = \square$ (个)

3.
 $\square \bigcirc \square = \square$ (根)

4.
 $\square \bigcirc \square = \square$ (个)

三、计算大本营。(26分)

1. 口算。(6分)

30+50=	78-6=	13+6=	70-30=
38-20=	55+30=	20+70=	90-50=
48+10=	75-40=	45+20=	57+40=

2. 森林医生。(8分)

$$\begin{array}{r} 75 \\ +13 \\ \hline 62 \end{array}$$

$$\begin{array}{r} 53 \\ -20 \\ \hline 73 \end{array}$$

3. 用竖式计算。(12分)

35+43=	79-48=	56-32=
95-41=	71+23=	32+47=

四、找规律，填一填。（8分）

1.

48		78				53		90	
22	26	42	36	27	41		22		50

2.

1	7	
+	7	1
<hr/>		
8	8	

2	6	
+	6	2
<hr/>		
8	8	

五、请你完成下面的表格。（6分）

加数	23	27	
加数	44		42
和		69	86

被减数	77		67
减数	25	80	
差		10	33

六、在○里填上“>”、“<”或“=”。（8分）

$33+24$	\bigcirc	$32+14$
$25+33$	\bigcirc	$100-30$
$56-24$	\bigcirc	$22+13$
$59-4$	\bigcirc	$45+10$

$78-60$	\bigcirc	$48+30$
$60+20$	\bigcirc	$30+50$
$20+58$	\bigcirc	$30+48$
$99-18$	\bigcirc	$99-28$


七、连一连。（10分）

13+40	75	96-43
67-50	53	20+40
90-30	17	41+40
53+22	81	89-72
21+60	60	43+32

八、解决问题。（18分）


1. 停车场原来有 88 辆车，开走了 23 辆，还剩多少辆？（6分）

2. (6分)



我们有48只。

我们比你
们少22只。



鸭有多少只？

3. 小明有 43 本漫画书，小红有 24 本漫画书，他们两人一共有多少本漫画书？（6分）

附加题。（10分）

1,3,5,7,9,...叫做单数;2,4,6,8,10,...叫做双数,1+2+3+4+5+6+7+8+9 的和是单数还是双数?



名校名卷

循环复习测试卷(二)

题号	一	二	三	四	五	六	七	八	附加题	总分
得分										

一、填一填。(16 分)

1.

	26		28
--	----	--	----

	50	60	
--	----	----	--

2. 一个两位数的个位上的数是 3, 十位上的数是 5, 这个数是 ()。

3. 比大小, 在○里填“>”、“<”或“=”。

$32+35 \bigcirc 31+35 \quad 69-39 \bigcirc 78-36 \quad 77+21 \bigcirc 21+77$

$23+56 \bigcirc 34+45 \quad 40+5 \bigcirc 45 \quad 91+8 \bigcirc 100$

4. 78 是由()个十和()个一组成的。

5. 50 以内个位上是 8 的两位数有: _____。

二、择优录取、对号入座。(12 分)

1. 小明有 25 支笔, 小云比小明少一些, 小云可能有()。

A. 28 支 B. 60 支 C. 18 支

2. 93 后面的第 3 个数是()。

A. 90 B. 87 C. 96

3. 与 39 相邻的两个数是()。

A. 38 和 40 B. 37 和 38 C. 39 和 40

4. 小红有 12 本书, 小青有 4 本书, 小红要给小青()本书, 两个人的书就同样多了。

A. 2 本 B. 3 本 C. 4 本

三、口算。(9 分)

$25+20 = \quad 42+24 = \quad 52+36 =$

$98-70 = \quad 55+30 = \quad 14+60 =$

$24-10 = \quad 4+20 = \quad 96-50 =$

四、列式计算。(15 分)

1. 65 比 13 多多少?

2. 80 与 94 相差多少?

3. 比 30 多 16 的数是多少?

4. 两个加数都是 40, 和是多少?

5. 减数是 45, 被减数是 97, 差是多少?

五、它们可能是多少? 画“√”。(6 分)

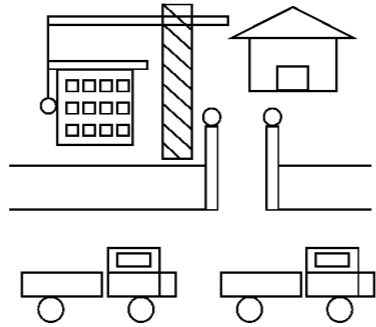


80	60	40



35	68	88

六、认一认,涂一涂,数一数。(8分)



- 1. 把长方形涂上红色,把正方形涂上绿色。
- 2. 数一数,三角形有()个,圆有()个。

七、找规律。(6分)

- 1. ○●●○●●○●●_____
- 2. 3、5、7、____、____、13、15

八、解决问题。(28分)

1. (6分)



$\square \bigcirc \square = \square$ (人)

2. (6分)



$\square \bigcirc \square = \square$ (个)

3. 奶奶养鹅 26 只,养鸭 30 只,养鸡 45 只。(8分)

(1) 鹅和鸭一共多少只?

$\square \bigcirc \square = \square$ (只)

(2) 鸭比鸡少多少只?

$\square \bigcirc \square = \square$ (只)

4. (8分)

布娃娃	小汽车	机器人	自动电车	球
13元	30元	10元	20元	11元

(1) 你想买哪两种玩具,需要花多少元钱?

我想买_____和_____,共需: $\square \bigcirc \square = \square$ (元)

(2) 比 贵多少元钱?

$\square \bigcirc \square = \square$ (元)

(3) 你还能提出什么问题(不用解答)?

附加题。(10分)

找规律,填数。

