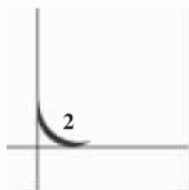


第一单元 除法 .....	1
平时测查(1) .....	1
平时测查(2) .....	2
平时测查(3) .....	3
第一单元测试(A) .....	4
第一单元测试(B) .....	6
第二单元 认数 .....	8
平时测查(1) .....	8
平时测查(2) .....	9
第三单元 千克和克 .....	10
平时测查 .....	10
第二、三单元测试(A) .....	11
第二、三单元测试(B) .....	13
第四单元 加和减 .....	15
平时测查(1) .....	15
平时测查(2) .....	16
第五单元 24时记时法 .....	17
平时测查 .....	17
第四、五单元测试(A) .....	18
第四、五单元测试(B) .....	20
期中测试(A) .....	22
期中测试(B) .....	25





<b>第六单元 长方形和正方形</b> .....	27
平时测查(1) .....	27
平时测查(2) .....	28
第六单元测试(A) .....	29
第六单元测试(B) .....	31
<b>第七单元 乘法</b> .....	33
平时测查(1) .....	33
平时测查(2) .....	34
平时测查(3) .....	35
第七单元测试(A) .....	36
第七单元测试(B) .....	38
<b>第八单元 观察物体</b> .....	40
平时测查 .....	40
<b>第九单元 统计与可能性</b> .....	41
平时测查 .....	41
第八、九单元测试 .....	42
<b>第十单元 认识分数</b> .....	44
平时测查(1) .....	44
平时测查(2) .....	45
第十单元测试(A) .....	46
第十单元测试(B) .....	48
<b>期末测试(A)</b> .....	50
<b>期末测试(B)</b> .....	53
<b>参考答案</b> .....	56



# 第一单元 除法

## 平时测查(1) (练习一后使用)

班级 \_\_\_\_\_ 姓名 \_\_\_\_\_ 测查日期 \_\_\_\_\_

1. 口算下面各题。

$80 \div 4 =$        $36 \div 3 =$        $88 \div 8 =$        $26 \div 2 =$

$93 \div 3 =$        $40 \div 4 =$        $99 \div 3 =$        $69 \div 3 =$

2. 用竖式计算,并验算。

$66 \div 3 =$

$85 \div 4 =$

3.



84 个小朋友跳绳,每 4 人一组,可以分成几组?

4.



68 个小朋友去春游,租 11 辆汽车够吗?

5. 美工课上,三组小朋友做纸花的情况如下表,把表格填完整。

	第一组	第二组	第三组
人 数	3	4	2
做的总朵数	39	48	28
平均每人做的朵数			

选一个□,在里面画“√”。

都做对了, 我很高兴。	只要再细心一点, 我都能做对。	错的比较多, 我会努力的。
----------------	--------------------	------------------




你学得怎么样?



## 平时测查(2) (练习二后使用)

班级 \_\_\_\_\_ 姓名 \_\_\_\_\_ 测查日期 \_\_\_\_\_

1. 口算下面各题。

$60 \div 6 =$        $63 \div 3 =$        $42 \div 2 =$        $88 \div 4 =$

$99 \div 3 =$        $28 \div 2 =$        $48 \div 4 =$        $69 \div 3 =$

2. 用竖式计算,并验算。

$67 \div 4 =$        $53 \div 5 =$        $78 \div 6 =$

3.



有 54 根小棒,每 4 根围成一个正方形,最多可以围成多少个正方形,还剩几根?

4.



男 生	女 生	合 计
25 人	27 人	( ) 人

(1) 这些同学分成 4 组,平均每组有多少人?

(2) 两人一张课桌,全班要多少张课桌?

选一个□,在里面画“√”。

都做对了,我很高兴。	只要再细心一点,我都能做对。	错的比较多,我会努力的。
------------	----------------	--------------



你学得怎么样?



### 平时测查(3) (解决实际问题专项测查)

班级 \_\_\_\_\_ 姓名 \_\_\_\_\_ 测查日期 \_\_\_\_\_

1.



奶油饼干	苏打饼干	合 计
40 块	36 块	( ) 块

可以分给多少小朋友?

2. 一本《世界真奇妙》多少钱?



3.



剩下的树平均分给三个小组种，  
每组还要种多少棵?

4.



2个老师带着33个小朋友去划船。  
都乘大船，需要几条?

选一个□，在里面画“√”。

都做对了， 我很高兴。	只要再细心一点， 我都能做对。	错的比较多， 我会努力的。
----------------	--------------------	------------------



你学得怎么样?



## 第一单元测试(A)

班级 \_\_\_\_\_

姓名 \_\_\_\_\_

测试日期 \_\_\_\_\_

1. 口算下面各题。

$44 \div 4 =$

$40 \times 4 =$

$90 \div 3 =$

$12 \times 3 =$

$58 + 3 =$

$69 \div 3 =$

$40 - 4 =$

$67 - 8 =$

$36 \div 3 =$

$36 + 6 =$

$28 \div 4 =$

$23 \times 2 =$

2. 用竖式计算。

$74 \div 5 =$

$96 \div 3 =$

$56 \div 4 =$

$84 \div 8 =$

3. 你能估计出下面各题的商是几十多吗? 填在( )里。

$85 \div 4$  的商是( )

$85 \div 3$  的商是( )

$75 \div 5$  的商是( )

$56 \div 2$  的商是( )

4.



有 52 棵桃树苗, 栽成 4 行, 平均每行多少棵?

5. “六一”儿童节时, 文娱委员小芳买来下面的这些奖品。你能算出每种奖品的单价吗?

品 名	单 价	数 量	总 价
故事书	( )元	8 本	96 元
水彩笔	( )元	5 盒	50 元
玩具汽车	( )元	6 辆	84 元

6. 王老师带了 67 元去买奖品。



(1) 如果买练习本,最多可以买几本,还剩几元?

(2) 如果买圆珠笔,最多可以买几枝,还剩几元?

7.



(1) 热水瓶的价钱比茶杯贵多少元?

(2) 热水瓶的价钱是茶杯的多少倍?

8. 小明读一本 95 页的故事书,已经读了 19 页。剩下的打算 4 天读完,平均每天要读多少页?

9.



全体同学同时划船,租 12 条船够不够?

男 生	女 生	合 计
25 人	24 人	( ) 人

选一个或两个□,在里面画“√”。

这些知识我都学会了。	做错的题我都改正了。	和以前比我进步了。	还有些题目需要老师讲讲。
------------	------------	-----------	--------------





你学得怎样?



## 第一单元测试(B)

班级 \_\_\_\_\_ 姓名 \_\_\_\_\_ 测试日期 \_\_\_\_\_

1. 估计各题的商是几十多,把算式填在下面的框里。

$56 \div 5$        $79 \div 3$        $86 \div 4$        $95 \div 8$        $65 \div 2$        $95 \div 3$

商是十几

商是二十几

商是三十几



2. 算一算下面的两组题,你能发现什么?把你的发现写在右边。

$24 \div 2 =$

$30 \div 3 =$

$48 \div 4 =$

$60 \div 6 =$

$96 \div 8 =$

$90 \div 9 =$

发现:

3. 先算一算、比一比,再试着解决右边的的问题。

$36 \div 2 \div 3$

$96 \div 2 \div 4$

=

=

=

=

$36 \div 6 =$

$96 \div 8 =$

$56 \div 14 = 56 \div \square \div \square = \square$

$60 \div 15 = 60 \div \square \div \square = \square$

- 4.



(1) 老师带的钱正好能买 12 本《童话故事》,老师带了多少钱?

(2) 如果都买《学古诗》,老师带的钱可以买多少本?



5. 航模组一共 35 名同学去参加比赛。 (1) 如果坐面包车,需要几辆?



- (2) 如果坐小轿车,需要几辆?

6. 一本科普书 72 页,小明计划 6 天看完,小红计划 7 天看完。

- (1) 小明平均每天看多少页?


- (2) 小红每天看多少页,你能帮她安排一下吗?

	第一天	第二天	第三天	第四天	第五天	第六天	第七天	合计
看的页数								

7. 一套儿童读物一共 6 本。如果成套买,每套的价钱是 72 元;如果不成套买,每本的价钱是 15 元。成套买比不成套买,每本便宜多少元?

下面三位同学老师都喜欢,你和谁一样,在□里画“√”。


试卷上的题我都会解答。



做错的题,我都会订正。



有几道题,我还要再想一想。



评评自己的学习。




## 第二单元 认数


### 平时测查(1) (学习几千几百几十后使用)

班级 \_\_\_\_\_ 姓名 \_\_\_\_\_ 测查日期 \_\_\_\_\_

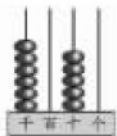
1. 写一写,读一读。



( )



( )



( )

2. 写出下面横线上的数。



京杭大运河全长  
一千七百六十四千米。

( )



一个体育馆可容纳  
四千八百八十人。

( )



江阴长江大桥主桥长  
一千三百八十五米。

( )

3. 读出下面商品的价格,再填一填。



3167 元



3008 元

(1) 3167 里面有( )个千、( )个百、  
( )个十和( )个一。

(2) 3008 里面有 3 个( )和 8 个( )。

4. 找到规律后填一填,再读一读。

(1) 3700、3800、3900、\_\_\_\_\_、\_\_\_\_\_。

(2) 4997、4998、4999、\_\_\_\_\_、\_\_\_\_\_。

(3) 2070、2080、2090、\_\_\_\_\_、\_\_\_\_\_。

选一个□,在里面画“√”。

都做对了, 我很高兴。	只要再细心一点, 我都能做对。	错的比较多, 我会努力的。
----------------	--------------------	------------------



你学得怎么样?



## 平时测查(2) (练习三后使用)

班级 \_\_\_\_\_ 姓名 \_\_\_\_\_ 调查日期 \_\_\_\_\_

1. 哪一台电脑贵?在它下面的□里画“√”。



2. 把最接近 4000 的数圈出来。

4970

3998

3212

4006

3. 在○里填上“>”或“<”。

4105 ○ 4015

3405 ○ 3450

6690 ○ 6700

654 ○ 6500

8546 ○ 6854

1069 ○ 998

4. 下面两种电视机的价格大约各是几千元?



大约( )元

大约( )元

右边的电视机比左边的大约贵几千元?

5. □里可以填几?

2□34 < 2423

59□3 > 5979

选一个□,在里面画“√”。

都做对了, 我很高兴。	只要再细心一点, 我都能做对。	错的比较多, 我会努力的。
----------------	--------------------	------------------



你学得怎么样?



## 第三单元 千克和克

### 平时测查 (练习四后使用)

班级 \_\_\_\_\_ 姓名 \_\_\_\_\_ 测查日期 \_\_\_\_\_

1. 在下面的( )里填上“千克”或“克”。



重 400( )



重 220( )



重 20( )

2. 在○里填上“>”“<”或“=”。

3000 克 ○ 3 千克

7800 克 ○ 8 千克

32 千克 ○ 32 克

3. 煮一碗米饭大约要 80 克大米。小明中午吃了 2 碗米饭,大约要多少克大米?

- 4.



净含量 150 克



净含量 500 克



净含量 280 克

- (1) 一盒饼干比一盒蛋糕轻多少克?

- (2) 一盒面包比一盒饼干重多少克?

选一个□,在里面画“√”。

都做对了, 我很高兴。	只要再细心一点, 我都能做对。	错的比较多, 我会努力的。
----------------	--------------------	------------------



你学得怎么样?



## 第二、三单元测试(A)

班级\_\_\_\_\_ 姓名\_\_\_\_\_ 测试日期\_\_\_\_\_

1. 用线连一连。

4080

8400

8040

4008

八千零四十

四千零八十

四千零八

八千四百

2. (1) 3个千、5个百和2个十组成的数是( )。  
 (2) 千位和十位上都是7、百位和个位上都是9的数是( )。  
 (3) 24个百是( )。

3. 计算。

$9500 - 500 =$

$8000 + 2000 =$

$10000 - 4000 =$

$400 + 6000 =$

$8000 - 3000 =$

$4000 + 900 =$

4. 在○里填上“>”“<”或“=”。

$5900 \text{ 克} \bigcirc 6 \text{ 千克}$

$1001 \bigcirc 909$

$4703 \bigcirc 7430$

$7790 \bigcirc 7800$

$6000 \text{ 克} \bigcirc 6 \text{ 千克}$

$8 \text{ 千克} \bigcirc 800 \text{ 克}$

5. 看图填空。



①

重 50 克



②

重 140 克



③



④

- (1) ②号杯中装了( )克牛奶。  
 (2) 估计③号杯中的牛奶大约有( )克。  
 (3) 估计④号杯中的牛奶大约有( )克。

6.



这个西瓜重 \_\_\_\_\_

这个冬瓜重 \_\_\_\_\_

这个梨重 \_\_\_\_\_

7.



(1) 一个橘子重 70 克, 一个苹果重 160 克。这些橘子和苹果一共有多少克?

(2) 一个苹果比一个橘子重多少克?

8.

亮丽牌

小天鹅牌

白洁牌

洁丽牌



960元

4010元

1902元

2012元

大约( )元

大约( )元

大约( )元

大约( )元

(1) 上面的洗衣机中, 最贵的是( )牌洗衣机。

(2) 最便宜的是( )牌洗衣机。

(3) 价格相近的是( )牌洗衣机和( )牌洗衣机。

选一个或两个□, 在里面画“√”。

这些知识  
我都学会了。

做错的题  
我都改正了。

和以前比  
我进步了。

还有些题目  
需要老师讲讲。





你学得怎样?



## 第二、三单元测试(B)

班级\_\_\_\_\_ 姓名\_\_\_\_\_ 测试日期\_\_\_\_\_

1. 找到规律后再接着写。

(1) 5700、5800、5900、\_\_\_\_\_、\_\_\_\_\_。

(2) 2997、2998、2999、\_\_\_\_\_、\_\_\_\_\_。

(3) 4002、4001、4000、\_\_\_\_\_、\_\_\_\_\_。

(4) 6020、6010、6000、\_\_\_\_\_、\_\_\_\_\_。

2. 在( )里填上合适的数。

9 千克 = ( ) 克

8000 克 = ( ) 千克

5600 克 > ( ) 千克

7880 克 < ( ) 千克

3. 在下面的横线上写出两样约重 1 千克的物体。

\_\_\_\_\_

4. 在□里可以填几?

7□65 < 7456

□314 < 2379

5. 用两个 2 和两个 0 组成一个四位数,一个零都不读出来的是( ); 读一个零的有( )和( )。

6. 把你认为合适的答案圈出来。

(1) 一本数学书大约重( )。

3 克

300 克

3 千克

300 千克

(2) 一个三年级学生的体重大约是( )。

30 克

300 克

30 千克

300 千克

(3) 一把直尺的重( )。

比 1 克轻

大约 1 克

比 1 克重

(4) 上学时背的书包( )。

比 1 千克轻

大约 1 千克


比 1 千克重

7.



便民超市原有白糖 2500 千克，  
现在有白糖多少千克？

8.



还要走多少米路才能到学校？

9.



(1) ( ) 盒这样的饼干重 1 千克。

(2) 买 1 千克饼干要 ( ) 元钱。

下面三位同学老师都喜欢,你和谁一样,在□里画“√”。











## 第四单元 加和减

### 平时测查(1) (学习口算减法后使用)

班级 \_\_\_\_\_ 姓名 \_\_\_\_\_ 测查日期 \_\_\_\_\_

1. 口算下面各题。

$50 + 80 =$	$83 - 58 =$	$38 + 55 =$	$1300 - 400 =$
$80 - 21 =$	$35 + 29 =$	$74 - 60 =$	$900 + 600 =$
$56 - 15 =$	$28 + 60 =$	$42 + 58 =$	$1000 - 300 =$

2. 估一估,下列各题的结果是几十多,将算式填在相应的表格内。

$85 - 28$      $78 - 36$      $50 - 25$      $37 + 35$      $92 - 55$      $83 - 18$

二十几	三十几	四十几	五十几	六十几	七十几

3. 下面是红星小学三年级各班人数的统计表,请你算一算、填一填。

	三年级一班	三年级二班	三年级三班
男生(人)	25	28	
女生(人)		26	26
合计(人)	52		49

4. 选择□,在里面画“√”。

小红带 90 元钱,买 1 盏台灯和 1 个书包够不够?

够     不够



选一个□,在里面画“√”。

都做对了,我很高兴。	只要再细心一点,我都能做对。	错的比较多,我会努力的。
------------	----------------	--------------




你学得怎么样?

