




义务教育教科书

数学

SHUXUE

一年级下册



西南师范大学出版社

义务教育教科书

SHU XUE

数学



一年级下册

_____ 年级 _____ 班

姓名 _____



$$16 - 9 =$$



$$14 + 12 =$$



$$12 + 15 =$$

义务教育教科书

数学 一年级下册

主 编 宋乃庆

责任编辑：王宁

版式设计：王玉菊

封面设计：谭玺 尚品视觉

绘 图：谭玺 左春梅

花果山工作室 苹果爱唱歌卡通坊 全全概念动漫设计

出版发行：西南师范大学出版社

地址：重庆市北碚区

网址：<http://www.xscbs.com>

印 刷 者：重庆旭阳印务有限公司

开 本：787mm×1092mm 1/16

印 张：6.75

字 数：70千字

版 次：2012年11月 第1版

印 次：2015年11月 第4次印刷

书 号：ISBN 978-7-5621-5986-5

定 价：6.60元

严禁擅用本书制作各类出版物，著作权所有，违者必究。如发现印、装质量问题，影响使用，请与出版社基础教育营销部或印刷厂联系调换。

出版社邮编：400715

基础教育营销部电话：(023)68252471

印刷厂地址：重庆市南岸区牡丹路16号

印刷厂邮编：401336

印刷厂电话：(023)62455865



愉快的数学之旅



亲爱的小朋友：

翻开这本书，你又踏上了愉快的数学之旅。

首先看到的新景点是100以内的数，学习100以内的加减法。我们还将去欣赏奇妙的长方形、正方形、三角形和圆，用它们拼出一些有趣的动物、植物图案……接下来的新景点的景色将更美丽，活动将更有趣。

欢迎你带上小伙伴，拍着你的小手，哼着熟悉的童谣，踏着轻快的步伐，向前走吧！

编者大朋友
2011年12月



目录



一 100以内数的认识 1



有趣的数 18



你知道吗

生活中的100(百) 20



二 位置 21



三 认识图形 27



图形拼组 32



四 100以内的加法和减法(一) 34

目 录



五 认识人民币 52



你知道吗

五套人民币 58



六 认识钟表 59




你知道吗

计时工具的变化 63



七 100 以内的加法和减法(二) 64



八 分类与整理 87



分一分 92



九 总复习 94

后记 101




100以内数的认识





数数 数的组成

1 数小棒。



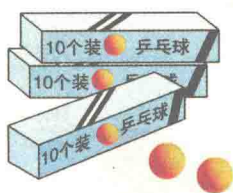
10个十是一百。

2 数一数，再口答。

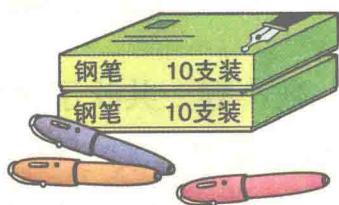


、和 一共有多少只？这个数由几个十组成？

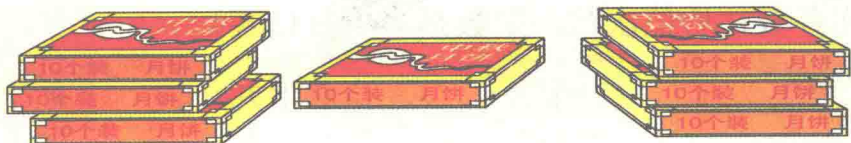
3 说一说,填一填。



()个十和()个一
组成三十二。



()个十和()个一
组成二十三。



()个十是七十。

课 堂 活 动

1. 数小棒。

(1) 一十一十地数,从一十数到一百,再从一百倒数到一十。

(2) 一根一根地数,从五十六数到六十三,从六十三数到七十。

2. 数一数一本作业本有多少页。

3. 游戏:2人一组,一人说一个数,另一人接着依次数4个数。




我说17。

18, 19, 20, 21。



练习一

1. 数一数小猴一共吹了多少个泡泡。



2. 下面各数往后依次数一个数是多少?(口答)

三十九

二十九

六十九

七十九


八十九

五十九

九十九


四十九

3. 先10朵10朵地圈,再说一说。




()个十和()个一组成()。

4. 数一数,说一说。



()个十和()个一组成()。



()个十和()个一组成()。



()个十和()个一组成()。

5. 数一数。

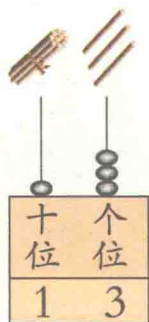
(1) 本班课程表上一周共有()节课。

(2) 本班男同学有()人,女同学有()人。

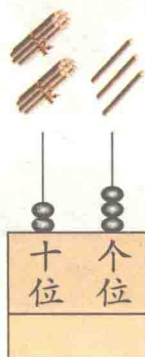
(3) 自己确定一类物品,数一数它有多少。

写数 读数

1 想一想。



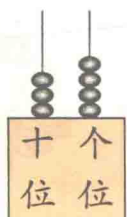
二十三怎样写?



先在十位上写2, 再在个位上写3。



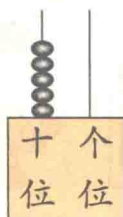
2 写一写, 读一读。



读作三十四。



写作: 34



读作……



写作:

从右边起, 第1位是个位, 第2位是十位, 第3位是百位。



百位上写1, 十位和个位都写0。读作一百。



写作:

读数和写数, 都从高位起。

课 堂 活 动

1. 我写你读。



2. 读一读,说一说。



练 习 二

1. 读出下面的奖牌数。

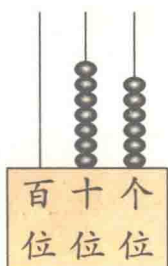


第29届奥运会部分国家获得奖牌数

国名	金牌(枚)	银牌(枚)	铜牌(枚)
中国	51	21	28
美国	36	38	36
俄罗斯	23	21	28
英国	19	13	15
德国	16	10	15

2. 看图写数。



28




3. 读对的画“√”，读错的画“×”。

46	35	61
<p>四十六。</p> <p>()</p>	<p>五十三。</p> <p>()</p>	<p>六十一。</p> <p>()</p>



4. 读出下面各数。

28 36 41 52 60 75 83 99 100

5. 找朋友。(连线)



6. 先数数,再写数。



7. 先依次写,再依次读。

(1) 45, 46, 47, 48, _____, _____, _____。

(2) 15, 25, 35, 45, _____, _____, _____。

8. 看数画○,再填空。

40

百	十	个
位	位	位

()个十组成40。

53

百	十	个
位	位	位

()个十和()个一组成53。

100

百	十	个
位	位	位

()个十是100。

9. 小组讨论。



10. 请你找出数学书第25页、第38页、第50页和第79页。

数的顺序 大小比较

1 按顺序填数,再说一说。

你从中发现了什么?



1	2	3		6		8	9	
		13		15		17	18	20
		23	24	25	26		28	
		33			36	37		39
	42	43	44			47	48	
51	52			55		57	58	59
	62	63	64				68	
		73		75	76	77	78	79
	82	83	84		86	87		
91	92	93		95	96	97	98	

表内的数是按从小到大的顺序依次排列的。



96比98小一些,42比98小得多。



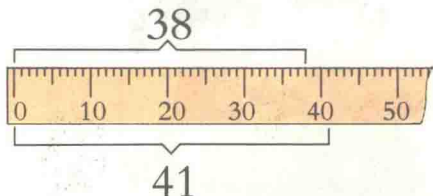

10, 20, 30, ... 都是整十数。



2 哪个班的学生多?

一(1)班有38个同学。

一(2)班有41个同学。



$$38 < 41$$

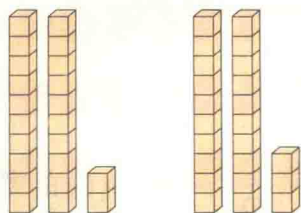
三十几小于四十几。



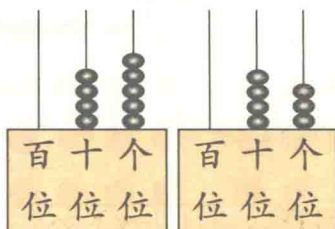
一(2)班的学生比一(1)班多。



3 比大小。



$22 \bigcirc 23$



$45 \bigcirc 43$

试一试 在 \bigcirc 里填“>”或“<”。

$25 \bigcirc 9$

$23 \bigcirc 32$

$65 \bigcirc 56$

$50 \bigcirc 51$

课 堂 活 动

1. 猜数游戏。




2. 说一说。

(1) 说出 3 个比 20 大、比 30 小的数。


(2) 说出比 20 大、比 40 小的整十数。

练习三

1. 从31起,按数的顺序连接各点,看看小熊在干什么。



2. 按顺序填数。

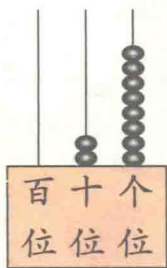
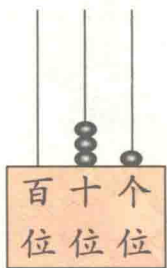


(1) 所填的数中, () 最接近100。

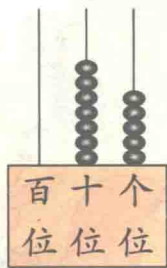
(2) 和92相邻的两个数是()和()。

(3) 在100,90,93中,最接近97的数是()。

3. 在○里填“>”或“<”。



3 1 ○ 2 8



5 7 ○ 7 5

