

行政职业能力测验真题



目 录

2010 年 A 省选聘高校毕业生到村任职考试《行政职业能力测验》试卷·····	(1)
第一部分 常识判断·····	(1)
第二部分 言语理解与表达·····	(3)
第三部分 判断推理·····	(10)
第四部分 数量关系·····	(17)
第五部分 资料分析·····	(18)
参考答案与解析·····	(22)
2009 年 B 省选聘高校毕业生到村任职考试《行政职业能力测验》试卷·····	(30)
第一部分 常识判断·····	(30)
第二部分 言语理解与表达·····	(32)
第三部分 判断推理·····	(39)
第四部分 数量关系·····	(45)
第五部分 资料分析·····	(47)
参考答案与解析·····	(50)

2010年A省选聘高校毕业生到村任职考试 《行政职业能力测验》试卷

第一部分 常识判断

(共20题,参考时限20分钟)

根据题目要求,在四个选项中选出一个最恰当的答案。

请开始答题:

- 恩格斯提出的哲学基本问题的重要方面是()。
A.思维对存在的能动作用问题
B.思维和存在何者为第一性的问题
C.思维和存在的同一性的问题
D.思维能否反映存在的问题
- “入山问樵,入水问渔”主要包含的哲学道理是()。
①要坚持唯物主义的思想方法
②从实际出发
③要坚持具体问题具体分析的思想方法
④要抓住事物的主要矛盾
A.①②③
B.②④
C.①③
D.①②④
- “以乡村为中心”思想的确立是毛泽东思想()。
A.萌芽的标志
B.形成的标志
C.成熟的标志
D.继续发展的标志
- 邓小平理论的成熟和体系形成的主要标志是()
A.真理标准的讨论和党的十一届三中全会
B.党的十二大提出建设有中国特色社会主义的命题
C.党的十三大和社会主义初级阶段理论
D.邓小平视察南方谈话和党的十四大
- 社会主义和谐社会的科学内涵是()、公平正义、诚信友爱、充满活力、安定有序、人与自然和谐相处的社会。
A.民主法制
B.人民民主
C.法制健全
D.民主法治
- 主观唯心主义把主观精神(人的感觉、经验、观念、意志等)作为唯一真实的存在和世界的本原,客观事物以至整个物质世界都是这种主观精神的产物。
下列观点属于主观唯心主义的是()。
A.世界的本原是物质
B.世界是绝对精神的产物
C.天命主宰人间世界
D.我思故我在
- 关于资本主义社会两大法系的表述,正确的是()。
A.大陆法系是在普通法的基础上发展起来的

- B. 英美法系在诉讼程序方面倾向于职权主义
 C. 西班牙法律属于英美法系
 D. 两大法系的差别在逐渐缩小,但差别还将长期存在
8. 立法体制主要是指()。
 A. 依法划分立法权限的体制
 B. 依法划分法律部门的体制
 C. 依法划分司法权限的体制
 D. 国家权力分立与制衡体制
9. 在我国,全国人大常委会有权制定()。
 A. 基本法律
 B. 基本法律以外的其他法律
 C. 特别行政区基本法
 D. 行政法规
10. 身份权是指因为民事主体的特定身份而产生的权利。下列权利中属于公民身份权的是()。
 A. 姓名权
 B. 监护权
 C. 肖像权
 D. 名誉权
11. 股份有限公司的权力机构是()。
 A. 董事会
 B. 总经理领导下的行政管理班子
 C. 监事会
 D. 股东大会
12. 根据我国有关法律的规定,下列哪一行为是不合法的()。
 A. 国务院某部门制定规章设定行政许可
 B. 某乡人民代表大会选举产生乡长、副乡长
 C. 国务院发布《关于加强市县政府依法行政的决定》
 D. 全国人民代表大会常务委员会批准 2008 年中央预算调整方案
13. 下面哪项不是是北美自由贸易区的成员国?()
 A. 加拿大
 B. 智利
 C. 美国
 D. 墨西哥
14. 一般来说,声音不是商品,但美国加州青年费克带上录音机周游各地,录下自然景区的鸟语虫鸣、松林喧哗、瀑布奔腾和小溪的潺潺水声。然后他把这些磁带加以精心剪辑,开办一家“自然之声”的豪华商店。由于这些磁带能极大地满足人们渴望“回归自然”的心理,并成为众多失眠者的绝妙催眠曲,遂使商店门庭若市,生意兴隆,这些录有“自然之声”的磁带之所以能成为商品,其根本原因是()。
 A. 能为众多的失眠者催眠
 B. 满足了人们渴望“回归自然”的心理要求
 C. 开办了“自然之声”的豪华商店
 D. 生产录有“自然之声”的磁带耗费了人们的劳动,并以交换为目的
15. ()创立了新古典综合派。
 A. 萨缪尔森
 B. 马歇尔
 C. 庇古
 D. 罗伯逊
16. 在农业部门中所存在的“肥田出瘪稻”现象体现的是经济学中的()。
 A. 边际效用递减规律
 B. 边际产量递减规律
 C. 规模报酬递减
 D. 机会成本原理
17. 20 世纪八九十年代,两极格局解体,世界格局向多极化发展。中国不但经受住考验,而且发展成具有广泛影响的世界性大国。这一时期中国在内政外交上的重大成就和政策有()。

- ①从计划经济向市场经济过渡
②恢复中国在联合国的合法席位
③对香港、澳门恢复行使主权
④反对霸权主义,维护世界和平
A. ①②③ B. ②③④
C. ①③④ D. ①②④

18. 下列希腊神话人物中,太阳神是()。

- A. 哈得斯 B. 雅典娜
C. 阿波罗 D. 狄安娜

19. 人们很早就已经发现,鳄鱼在吃掉捕获的食物前,往往会流出几滴眼泪。于是,“鳄鱼的眼泪”被人们用于形容伪善。鳄鱼流泪的原因是()。

- A. 眼泪均匀覆盖眼球,使眼睛保持良好视力
B. 鳄鱼的肾脏发育不完全,需要靠眼睛附近的腺体排除盐分
C. 鳄鱼的眼泪可以发出特殊的气味,召唤同类前来捕食猎物
D. 鳄鱼进化不完善,唾液腺分泌和泪腺分泌的神经控制系统未完全分离

20. 红绿色盲是一种常见的遗传性疾病。在生活中可以发现,男性患者的人数远远多于女性患者。出现这种现象的原因是()。

- A. 控制红绿色盲的基因位于 X 染色体上。如果一条 X 染色体上携带致病基因,而另一条染色体相应位置上携带正常基因,个体并不会发病。而 Y 染色体上没有相应的基因
B. 控制红绿色盲的基因位于 Y 染色体上,随 Y 染色体进行传递
C. 控制红绿色盲的基因位于 X 染色体上。由于男性缺乏一种女性独有的激素,在发育过程中容易受到多种诱因的影响而发病
D. 男女两性的实际患病率是相同的,只是由于两性在现实生活中偏重的领域有所不同,男性患者容易被辨认而女性患者不易被辨认

※※※ 第一部分结束,请继续做第二部分! ※※※

第二部分 言语理解与表达

(共 35 题,参考时限 35 分钟)

本部分包括表达与理解两方面的内容。请根据题目要求,在四个选项中选出一个最恰当的答案。

请开始答题:

21. 徜徉在这个花海中,常常使你思索起来,感受到许多寻常的道理中新鲜的_____。

填入划横线部分最恰当的一项是()。

- A. 意思 B. 意味 C. 涵义 D. 意义

22. 国务院常务会议要求在保持政策连续性和稳定性的同时,加强保障性住房建设,加强市场监管,稳定市场预期,_____部分城市房价过快上涨的势头。

填入划横线部分最恰当的一项是()。

- A. 遏制 B. 遏止 C. 抵制 D. 制止

23. 每年的梨花节前,都会有一张素洁得如同梨花一样的请柬飞到我的案头,传达着梨花对我的_____。

填入划横线部分最恰当的一项是()。

- A. 召唤 B. 呼唤 C. 深情 D. 邀请

24. 科学选择新兴战略性产业非常重要,选对了就能跨越发展,选错了将会_____时机。

填入划横线部分最恰当的一项是()。

- A. 痛失 B. 耽误 C. 错过 D. 贻误

25. 工作已经进入收尾阶段,这时候更要认真对待,要慎终如始,否则就会_____。

填入划横线部分最恰当的一项是()。

- A. 一败涂地 B. 功亏一篑 C. 一蹶不振 D. 无功而返

26. 沙漠里真有魔鬼吗?在那时人们的知识水平看起来,确像是有魔鬼在作怪。但是人们在掌握了自然规律以后,便可把海市蜃楼这种_____的现象说清楚。

填入划横线部分最恰当的一项是()。

- A. 奇形怪状 B. 鬼斧神工 C. 光怪陆离 D. 鬼鬼祟祟

27. 勤的积极意义是要人进德修业,不但不同于草木,也有异于禽兽,成为_____的万物之灵。

填入划横线部分最恰当的一项是()。

- A. 名副其实 B. 名负其实 C. 名符其实 D. 名附其实

28. 警惕投资后遗症并非要_____,而是要在投资的同时,努力用好投资,把握投资方向,提高投资效益,以投资带动消费。

填入划横线部分最恰当的一项是()。

- A. 一成不变 B. 因循守旧 C. 画地为牢 D. 因噎废食

29. 一系列网络热点事件_____网络管理应进一步_____,加大财力和人才的投入,加快完善立法。

依次填入划横线部分最恰当的一项是()。

- A. 表明 规范 B. 证明 规划 C. 说明 规范 D. 显示 规划

30. 三清山风景如画,有_____的峰峦,_____的奇石。

依次填入划横线部分最恰当的一项是()。

- A. 凸出 崎岖 B. 突出 崎岖 C. 突出 嶙峋 D. 凸出 嶙峋

31. 一帆风顺的旅途只能酿就_____的思维,而人生中的_____从来都是经历了颠簸与坎坷之后才赫然出现。

依次填入划横线部分最恰当的一项是()。

- A. 墨守成规 捷径 B. 一成不变 捷径
C. 画地为牢 道路 D. 中规中矩 道路

32. 这次国际金融危机_____了中国特色发展模式的优越性,中国积极应对国际金融危机,并以本国经济增长为相关国家和经济体_____困境提供市场和资金支持,进而在国际危机治理和国际机构改革进程中发挥了建设性作用,改善了国际形象,提升了道义感召力,国际社会开始重新_____中国发展模式。

依次填入划横线部分最恰当的一项是()。

- A. 凸显 摆脱 审视 B. 显现 走出 注视
C. 表明 远离 注意 D. 突显 去除 思考

33. 人是会思考的芦苇,也是世界上唯一会运用逻辑推理的生物。环环相扣,_____的逻辑推理,确实可以帮助我们进行正确的思考、研究和决策。在二战前著名的德国国会纵火案中,季米特洛夫的无罪辩护,就是利用自己娴熟的法律知识和_____的逻辑推理,驳倒了法西斯分子的诬陷栽赃,使法官不得不当庭宣判无罪释放。但错误的逻辑推理也常常可以使人陷入诡辩荒唐的_____。
- 依次填入划横线部分最恰当的一项是()。
- A. 思维缜密 不容辩驳 泥潭
B. 严丝合缝 毋庸置疑 泥沼
C. 层层递进 不容置喙 泥塘
D. 举一反三 无懈可击 泥淖
34. 林则徐小时去应童子试,因人群拥挤,他的父亲就扛着送他进考场。考官见他父子这副样子,开玩笑道:“骑父作马”,引起_____,弄得林则徐父亲十分尴尬。谁知,林则徐脱口而出:“望子成龙”。满场为之_____。林则徐的回答既解除了父亲的_____,又道出了父亲盼儿成材的心情,一时传为佳话。
- 依次填入划横线部分最恰当的一项是()。
- A. 拍手叫好 惊喜欲狂 窘境
B. 唏嘘一片 惊愕失色 困境
C. 哄堂大笑 惊叹不已 窘迫
D. 一片喝彩 惊叹不已 尴尬
35. 迈克尔·杰克逊是流行乐坛最具影响力的音乐家之一,_____世界销量第一的专辑。他魔幻般的舞步更是让无数的明星_____。他一个人_____了世界上 39 个慈善救助基金会,是全世界以个人名义捐助慈善事业最多的人。
- 依次填入划横线部分最恰当的一项是()。
- A. 拥有 效仿 支持
B. 持有 羡慕 成立
C. 制作 折服 赞助
D. 录制 追捧 创办
36. 古希腊和古代中国相似的经验知识曾产生了相似的理论洞察力,比如亚里士多德和《墨经》对杠杆原理的认识。但是,古希腊的初始力学理论很快发展成理论知识的综合体,而中国墨家的力学传统在战国之后就中断了。不擅长观察、认识物体运动并形成系统的理论,这是中国古代传统中一个明显的“软肋”。相比之下,中国人在解决实际问题方面的建树更加突出。
- 这段文字意在说明()。
- A. 中国古代科学发展的特点
B. 中国古代科学传统中断的原因
C. 古代中国对于力学最初的研究不逊于古希腊
D. 力学理论的不完备是中国古代科学研究的弱点
37. 人口密度是单位面积土地上居住的人口数,它是表示世界各地人口的密集程度的指标。但人口密度只反映人口与土地面积的一般数量关系,不能体现单位面积土地上的人口成分,也不能体现人口与实际供养他的土地面积的关系。为了弥补这些缺陷,出现了一些新的补充性密度指标,如生理密度、农业密度等。而以面积计算的人口密度称为人口的数学密度。

这段文字意在说明()。

- A. 人口密度含义演变的原因
- B. 补充性密度指标的产生过程
- C. 人口密度的具体表现形式
- D. 土地面积和人口成分的关系

38. 当年韩愈被贬到潮州做刺史,虽然只有8个月的时间,却不怕费力,大力兴办州学,捐出所有的俸银,用作办学费用,并积极推广唐朝的普通话,“以正音为潮人海”。8个月后,韩愈就调离了潮州,几乎没有什么“政绩”可言,然而他给潮州留下了巨大的精神财富,到南宋时,潮州已是文化名城,有了“海滨邹鲁”的美誉。

这段文字意在说明()。

- A. 语言规范化是一项长期的工作
- B. 潮州成为历史文化名城的原因
- C. 文化建设对城市有深刻的影响
- D. 评价官员不应只看短期的政绩

39. 现代社会中,人们是在相对统一的时间里交往活动,这有利于节约社会成本,提高社会效率,推动社会发展。但全社会的“步调一致”容易导致交通的堵塞;由此引发的一系列社会问题不容忽视。从另一方面来看,人们的需要、社会发展的需求,又对作息时间提出了不同的要求。但作息时间不统一,也会给人们的交往、社会的发展带来一定障碍。

这段文字意在说明()。

- A. 作息时间应在统一与差异中寻找平衡
- B. 小问题可能引起社会发展中的大矛盾
- C. 调整作息时间是解决交通堵塞的有效措施
- D. 作息时间需随着人们生活习惯的改变而调整

40. 毫无疑问,电视节目主持人是当今社会颇具影响力的人群之一,借助大众传媒的影响,主持人成为公众人物,他们的角色因此不同于普通人,而是集社会角色、媒介角色及个人角色于一体的特殊角色,选择了这一职业,不仅仅意味着选择了鲜花和掌声,财富和荣耀,更意味着选择了媒体和社会必然赋予他们的责任。

这段文字意在强调()。

- A. 大众传媒的发展使主持人具备特殊的影响力
- B. 主持人作为公众人物发挥着特殊的社会作用
- C. 职业的特殊性决定了主持人所应肩负的责任
- D. 主持人应借助传媒的影响扩大其社会影响力

41. 一位著名企业家从百折不挠的拼搏经历中总结出了“冰淇淋哲学”,即卖冰淇淋必须从冬天开始,因为冬天顾客少,会逼迫你降低成本,改善服务,如果能在冬天生存,就再也不会害怕夏天的竞争。

根据这段文字,“冰淇淋哲学”主要强调了()。

- A. 逆境对培养企业的竞争力非常重要
- B. 选择一个好时机,企业就成功了一半
- C. 企业在创业阶段难免会遇到很多困难

D. 企业应注重降低成本,提高服务质量

42. 对一项科学工作的评价不能简单地归结为一个数字的大小,任何数字都不能取代同行评议及对该工作科学意义的具体分析和历史检验。然而,不好的评价指标有可能误导评审人员,导致错误的结果;而好的评价指标可以提供更准确的信息,使相应的评审更加客观和公正。

这段文字意在强调,对科学工作的评价()。

- A. 应该是主观评价和客观评价的统一
- B. 关键在于建立科学的评价指标体系
- C. 不应以数字结论作为主要参考依据
- D. 需要综合考虑多种因素才能实现公正

43. 近年来全球油价持续上涨,随着各国原油生产能力的日益提高,全球原油储备资源日趋紧张,据分析人士预测,这一上涨趋势绝不会在短期内逆转。受此影响,尽管汽车已经逐渐成为人们不可缺少的日常交通工具,但越来越多的人决定暂缓买车或者开始暂停用车。照此看来,整个汽车销售市场的经营风险在相当长一段时间里有增无减。

这段文字的主旨是()。

- A. 预测未来石油行业的发展趋势
- B. 说明汽车销售业的经营风险将会增加
- C. 探讨能源行业与交通运输行业存在的联系
- D. 认为能源行业将逐渐影响人们的出行方式

44. 色盲也能成为天文学家吗?事实上,天文学家日常分析的照片多数都是黑白的,我们在杂志和其他彩色印刷品上看到的五彩缤纷的天文照片,其实也是通过把多张望远镜拍摄的不同波段的黑白照片加工合成而来的。而且这些波段未必都在人类可见光的范围内,所以即使对于视力正常的人来说,这些图片也并非天体真正的颜色。

下列说法与文意相符的是()。

- A. 天文学家需要辨别可见光的颜色
- B. 彩色的天文照片科学价值相对较低
- C. 天文图片是靠不同波段的彩色照片合成而来
- D. 视力正常的人也不能完全识别天体本来的颜色

45. 体育竞技渗入越来越多的经济利益,会驱使一些人走向极端。虽然目前运动员的自然能力仍占主导,但是如果有一天科技手段足以超越自然赋予的力量,运动员在日常不需要严格训练,而是通过仪器、手术来增强体质,这与驾驶着摩托车去参加百米竞赛是否还有本质区别?这不仅是抛给体育界的问题,也将成为科学的两难。

“这不仅是抛给体育界的问题”中的“这”指的是()。

- A. 通过仪器、手术来增强体质
- B. 科技手段的作用超过运动员的自然能力
- C. 让运动员的自然能力占据主导地位
- D. 体育竞技在经济利益驱使下走向极端

46. 在与自然灾害的抗争中,人类仍然有很长的路要走。现实固然必须正视,但普通民众是否就无所作为呢?在灾害预测还无法做到完全精确的今天,每一个人该如何保护上天赋予我们的宝贵生命,该如何在灾难降临的那一刻做出最及时而智慧的选择,该如何自救、救人,

避免或减少悲剧的发生?这些事情,其实都可以通过社会教育和自我教育来完成。

这段文字意在强调()。

- A. 人类与自然灾害的抗争是一个漫长的过程
- B. 在自然灾害面前人的首要任务是保护生命
- C. 灾难降临时及时而智慧的选择非常重要
- D. 教育可以在自然灾害中保护更多宝贵的生命

47. 许多跨国企业在进入中国市场时,都试图推行本土化的传播策略和营销方案,都期望得到中国消费者的关注和认同,在广告中运用“中国元素”就是一种体现。这本是值得肯定的,但这种运用要与人们的文化习惯和感情倾向相一致,如果仅仅在技术上简单的模仿和运用,缺乏文化上真正的尊重和理解,再美的“元素”也只会开出“恶之花”。

这段文字意在说明()。

- A. 不同国家的消费者会有不同的审美取向
- B. 在广告中使用“中国元素”要适可而止
- C. 在广告中彰显文化特色是重要的营销策略
- D. 理解文化内涵是“中国元素”成功运用的前提

48. 英国银行协会每年都组织一个培训班,帮助银行职员识别假钞。在培训期间学员们一张假钞也摸不到,训练时用的都是真钞。上课时讲的都是真钞的特点。专家们解释说,学员们通过反复接触真钞,手指,眼睛都习惯了真钞的感觉,以后在工作中一旦遇到假钞,就会感到特别不习惯。虽然他们对假钞的特征一无所知,但潜意识告诉他们:“这不是真钞”。据统计,接受了这种培训的职员,对假钞的识别能力要强得多。

这段文字意在说明()。

- A. 潜意识是在不断地重复中获得的
- B. 当信息缺失的时候更需要依赖直觉
- C. 强化正确的信息有助于提高鉴别力
- D. 接触过多的错误信息有可能干扰人们的判断

49. 长期以来,人们对工业的文化内涵没有认识,文物保护的理念相对落后。事实上,每项工业遗产都在一定程度上代表了当时社会生产力的最高发展水平,推动了社会的发展进步。近代工业遗产更是如同一种超越时代的文化载体和现代设计思想的容器,凝结着社会经济、产业和工程技术等方面的历史信息,有些工业遗产,甚至代表了一个城市最基本的东西,见证着城市发展的历史。

对这段文字概括最为准确的是()。

- A. 文物保护理念应适应生产力发展
- B. 文化研究应以工业遗产为突破口
- B. 工业遗产记录了城市发展的历史
- D. 工业遗产是具有文化价值的文物

50. 影响一个地区长期或某段时期气候变化的原因,是众多而复杂的,人们至今还无法确切说明各种因素对气候变化的影响程度,但是可以断言:即使人类社会发展到今天,从总体讲,自然因素仍然是影响气候的主导因素,人类活动至今仍然不足以影响地区性气候的基本属性,更不足以引起冰期或间冰期等巨大的气候变化。

这段文字意在说明()。

- A. 一个地区的气候是多种因素共同作用的结果
- B. 地区性气候的基本属性主要取决于自然因素
- C. 人类活动不足以对一个地区的气候产生影响
- D. 人类对气候影响因素的了解与分析还不足够

51. ①对发展中国家和新兴市场国家尤其如此

- ②很大原因是因为中国仍然保持着对资本流动的严格控制
- ③作为一个发展中国家,中国之所以在过去这些年屡屡可以躲过金融危机的直接冲击
- ④资本的自由流动,从来都是一把双刃剑
- ⑤一个原因就是这些国家尚不成熟的金融体系碰上了具有高度流动性的国际资本
- ⑥这个世界上几乎还没有哪个新兴市场国家逃脱过金融危机的魔爪

对上述语句排序正确的一项是()。

- A. ③②⑥⑤④①
- B. ⑥①⑤④③②
- C. ④③⑥⑤②①
- D. ④①⑥⑤③②

52. 如果发现一个好产品或者一个大市场,就应该立即跟进,在跟进中发现现有产品的缺陷,然后通过创新弥补缺陷,超越对手,实现后来者居上。当然,创新的目标是创造,而不是简单模仿,因此,创造性模仿者需要通过对他人创意的了解,重新组合、改良而产生具有不同功能与价值的新东西。事实上,所有的产品,除了第一代是原创的,以后的进步都是通过创造性模仿来实现的。

这段文字旨在说明()。

- A. 创造性模仿是改良产品的主要途径
- B. 通过不断的改善就能得到新的产品
- C. 创新来源于对现有产品缺陷的弥补
- D. 大部分产品都是通过模仿来完成的

53. 越来越多的人成了互联网追新潮的盲从者,他们生怕自己惯用的虚拟身份在某个网络社区被别人抢先占据。这种场面似乎与1999年前后免费电子邮箱热潮有些相似,当时的统计显示,每个互联网用户平均注册了8.6个电子邮箱。可到2005年,这些邮箱只有18%还在使用,每个互联网自然人平均使用的电子邮箱仅为1.73个。同样,只有少数社区注册者将成为存活下来的网络自然人。每个人有限的精力和时间,决定了未来网络社区的天花板高度。

这段文字意在说明()。

- A. 同时在多个网络社区注册是没有必要的
- B. 盲目追逐新潮会耗费大量的精力和时间
- C. 网络社区应吸取免费电子邮箱热潮的教训
- D. 对未来网络社区规模的估计不宜盲目乐观

54. 城市好比一个巨大的海绵,劳动力就像城乡之间流动的水,当经济处于上行期,经济扩张会吸纳更多的劳动力;当经济处于下行期,经济衰退又将这些劳动力挤回了农村。正是中国城乡二元结构所引发的海绵效应,在此次金融危机中发挥着金融缓冲器的作用。但这种海绵效应是不可持续的,因为中国的一个基本国情就是农村剩余劳动力要向城市进行转移。

这段文字意在说明()。

- A. 经济衰退影响了中国的城市化进程

- B. 城乡二元结构减弱了经济衰退的影响
- C. 不能过分依赖海绵效应的就业缓冲作用
- D. 农村劳动力不应成为经济衰退中的牺牲品

55. 中国消费者对轿车的了解和要求已经有了很大的变化,他们的价值观念以及对汽车理解的变化都会左右其购车意向。在对多个购车指标的调查中,我们发现,大家不再强调某个单一指标,但安全性能依然是消费者购买轿车最关心的指标,关注程度在我们的调查中占8.6%;其次关注的是轿车的操控性能;第三是质量耐久性能;然后是外观造型、舒适程度、品牌口碑、形象、动力性能以及二手车价值等,即使是排在后面的关于品牌的指标比重也达到了8.1%。

下列说法与文章相符的是()。

- A. 消费者对汽车安全性能的关注度没有变化
- B. 中国消费者对轿车的价值观念差异并不大
- C. 轿车主流消费群的构成发生了较大变化
- D. 消费者对轿车品牌的关注度呈下降趋势

※※※ 第二部分结束,请继续做第三部分! ※※※

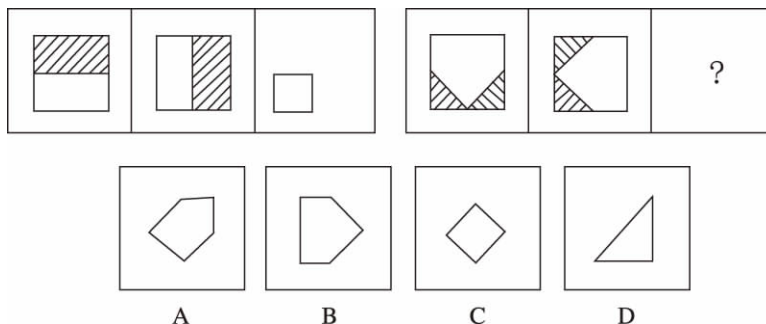
第三部分 判断推理

(共 35 小题,参考时限 35 分钟)

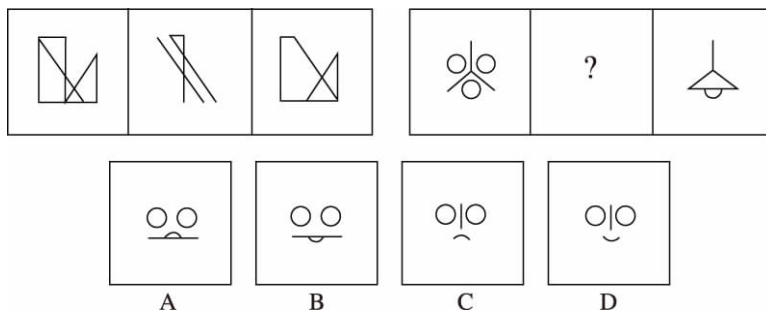
一、图形推理。从每题所给的四个选项中,选择最合适的一个填入问号处,使之呈现一定的规律性。

请开始答题:

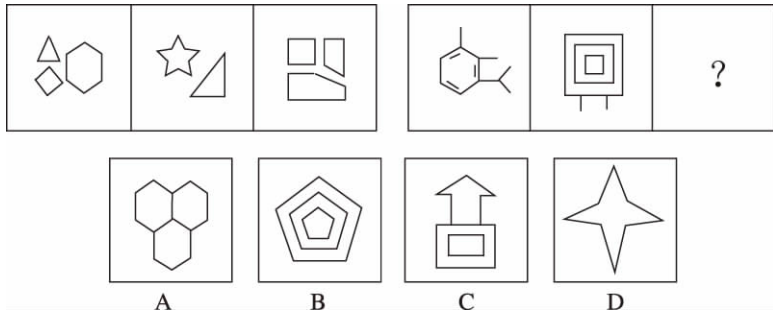
56.



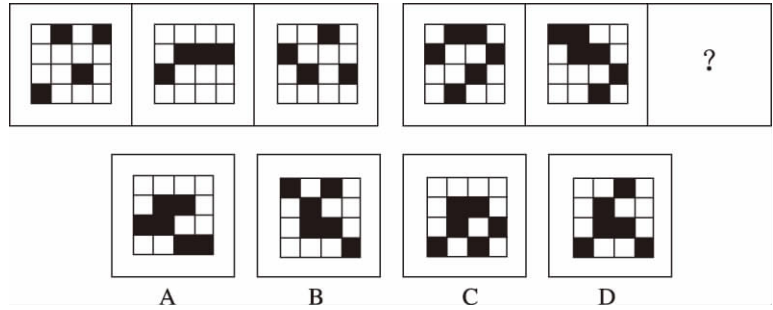
57.



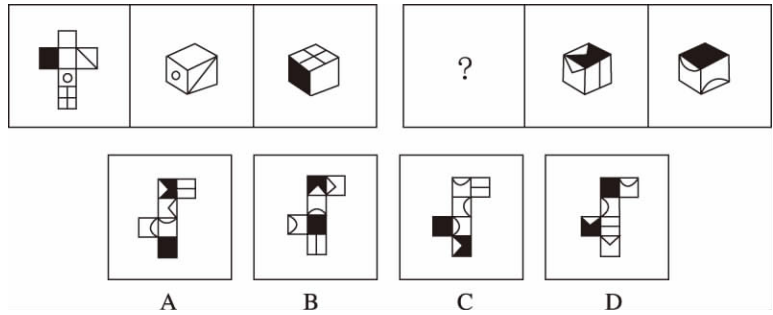
58.



59.



60.



二、定义判断。每道题先给出定义,然后列出四种情况,要求你严格依据定义,从中选出一个最符合或最不符合该定义的答案。注意:假设这个定义是正确的,不容置疑的。

请开始答题:

61. 从法律规则形式特征上看,可分为规范性规则和标准性规则。规范性规则指规则的内容明确、肯定和具体,且可直接适用的规则;标准性规则则指法律规则的部分内容或全部内容(事实状态、权利、义务、后果等)具有一定伸缩性,须经解释方可使用且可适当裁量的规则。根据上述定义,下列属于规范性规则的是()。
- A. “早六点至晚六点间本街道禁止通车”
- B. “每一选民在一次选举中只有一个投票权”
- C. “民事活动应当尊重社会公德,不得损害社会公共利益”
- D. “行政机关作出责令停产停业、吊销许可证或者执照、较大数额罚款等行政处罚决定之前,应当告知当事人有要求举行听证的权利”
62. 社会互动是指人与人、人与社会、人与群体、群体与群体之间通过信息的传播而发生的相互影响、相互作用、相互依赖的社会交往活动的过程。
- 下列不属于社会互动的是()。
- A. 在 2008 年的元旦晚会上,北大校长许智宏为学生们演唱了一首《隐形的翅膀》。歌声响

起,北大学子们掌声相印,歌声相和

B. 榜样的力量是无穷的

C. 张三和他的邻居经常互相赠送自己做的小点心

D. 在第 36 届世界社会学大会上,中外学者互相交流学术观点

63. 法律责任是指由特定法律事实所引起的对损害予以补偿、强制履行或接受惩罚的特殊义务,亦即由于违反第一性义务而引起的第二性义务。

根据上述定义,下列属于导致法律责任的是()。

A. 陈某向某电视台举报揭露某公司造假,电视台没有报道

B. 李某被公共汽车售票员提醒后,仍不给残疾人王某让座,结果王某被挤伤

C. 孙某和肖某谈恋爱,后因感情不和分手,肖某极度痛苦,患上抑郁症

D. 某公司要求工人每天至少工作 16 小时,加班费每小时 5 元

64. 以不同利益群体(或个人)的存在和目标物的稀缺为前提的,社会上人与人、群体与群体之间,对于一个共同目标的争夺就是竞争。

根据上述定义,下列行为中不属于竞争关系的是()。

A. 2009 年世界斯诺克英国锦标赛,丁俊晖以 10:8 战胜希金斯,获得冠军

B. 有关资料显示,2010 年度有 100 余万人参加公务员录用考试

C. 2009 年 12 月 9 号,拜仁慕尼黑队以四比一战胜尤文图斯队,获得欧冠小组赛的出线权

D. 公司的联欢晚会上,大家开展了歌曲联唱活动

65. 所谓诬告陷害罪是指捏造事实诬告陷害他人,意图使他人受刑事追究,情节严重的行为。

根据上述定义,下列行为构成诬告陷害罪的是()。

A. 乙捏造“文某强奸幼女”的事实,并向司法部门举报

B. 甲与丁某长期不和,便捏造丁某包养情人并匿名举报,使丁某与妻子离婚

C. 丙捏造同事万某受贿 10 万元的事实,并印刷大量传单在县城的大街小巷张贴

D. 丁匿名举报李某抢劫他人 50 万元。事后查明,李某只抢劫了 5 000 元

66. 血缘关系是以血统或生理的联系为基础形成的人际关系;或者是指在婚姻和血缘基础上形成的人际关系。

根据上述定义,下列人际关系中属于血缘关系的是()。

A. 张三出差外地,巧遇家乡来的一个堂叔

B. 某高校中文系 88 级同学毕业后第一次聚会

C. 小张被公司派往日本学习,在东京遇到了多年前的一个老朋友

D. 京剧《红灯记》里,李铁梅唱道:“我家的表叔数不清……虽说是亲人又不相认……可他比亲人还要亲。”

67. 社会化过度是指把成年人某些社会化的任务前移到了部分青少年身上。现在我们的教育过早及过多地给予孩子们社会规范、纪律约束和强求一律的认同,极易造成青少年的社会化过度。

根据上述定义,下列行为中不属于社会化过度的是()。

A. 老周说,同事李先生的小孩太聪明了,小小年纪就懂得“见人说人话,见鬼说鬼话”

B. 一项调查显示,现在中小學生中想当班组长的人非常多,而长大以后想当官是不少孩子主要的人生目标

C. 2007 年,香港 9 岁神童沈诗钧被香港某大学录取一事引起广泛关注

D. 有人形容时下青少年中流行的啃老族是:“一直无业,二老啃光,三餐饱食,四肢无力,五官端正,六亲不认,七分任性,八方逍遥,九(久)坐不动,十分无用。”

68. 统一指挥原则是指在正式组织里,无论什么时候,一个下属都应该接受而且只应接受一个上级的命令并向这个上级汇报自己的工作。

根据上述定义,下列选项违背了统一指挥原则的是()。

A. 总经理把产品销售的责任委派给一位分管市场经营的副总经理,由其负责所在地区的经销办事处,同时总经理又要求各地区经销办事处的经理们直接向总会计师汇报每天的销售数量

B. 主任科员小张在省级政府部门工作,发现他的直接上司有索贿受贿的行为,于是就向省纪委举报其上司的违法行为

C. 王大夫是某医院的外科医生,同时也是医院工会会员。有一天,王大夫接到手术安排的同时也接到了工会主席要求参加一项活动的通知,小王在向直接上司请假后参加了工会的活动

D. 某商业集团公司的刘总到公司下属某商场暗访,现场发现一些员工违反公司制度的行为,刘总并没有现场责令员工改进,而是将问题反映给了商场经理

69. 行政主体是指享受行政职权,能以自己的名义行使国家行政职权,作出影响相对人权利义务的行政行为,并能由其本身对外承担行政法律责任的组织。

根据上述定义,下列不是行政主体的是()。

A. 行政机关

B. 法律法规授权行使行政管理权的组织

C. 江西省人民政府省长

D. 行政机关的派出机关

70. 目前主流看法是,导致气候“变暖的”过量碳排放,是在人类生产和消费过程中出现的。“低碳生活”是指要减少导致气候变化的过量碳排放,就要相应优化和约束某些消费和生产活动,倡导较低(或更低)的温室气体(二氧化碳为主的)排放的生活方式。可以简单地理解为:“适度吃、住、行、用,不浪费、多运动。”

根据上述定义,下列哪个行为不属于低碳生活?()

A. 建筑中使用中空玻璃

B. 轿车定期更换机油

C. 使用一次性纸杯

D. 周末,某大学有越来越多的同学步行回家

三、类比推理。先给出一对相关的词,要求你在备选答案中找出一对与之在逻辑关系上最为贴近或相似的词。

请开始答题:

71. 作家:出版商()

A. 售货员:商店

B. 主持人:广告

C. 菜农:菜贩

D. 经理:秘书

72. 稻谷:大米()

A. 核桃:桃酥

B. 棉花:棉籽

C. 西瓜:瓜子

D. 花生:花生酱

73. 火车：地铁()
 A. 轿车：货车 B. 飞机：火箭 C. 索道：山路 D. 木船：汽船
74. 高山：陆地()
 A. 波浪：海洋 B. 暴雨：雷电 C. 白云：蓝天 D. 电能：电网
75. 聪明：愚蠢()
 A. 男人：女人 B. 黑色：白色 C. 墨镜：光明 D. 财富：贫困
76. 父亲：女儿()
 A. 叔叔：阿姨 B. 儿子：女婿 C. 姨夫：姨妈 D. 外祖父：母亲
77. 药物：治病()
 A. 滑板：运动 B. 食物：饥饿 C. 扫帚：卫生 D. 新闻：采访
78. 医生：病人()
 A. 园丁：花朵 B. 父母：子女 C. 青蛙：庄稼 D. 啄木鸟：害虫
79. 蜜蜂：蜂蜜()
 A. 蝴蝶：茧蛹 B. 母鸡：鸡蛋 C. 父亲：孩子 D. 农民：粮食
80. 枕头：卧具()
 A. 铅笔：工具 B. 地球：宇宙 C. 宣纸：文具 D. 车厢：火车

四、逻辑判断。每题给出一段陈述,这段陈述被假设是正确的,不容置疑的。要求你根据这段陈述,选择一个答案。注意:正确的答案应与所给的陈述相符合,不需要任何附加说明即可以从陈述中直接推出。

请开始答题:

81. 海洋中珊瑚的美丽颜色来自于其体内与之共生的藻类生物,其中虫黄藻是最重要的一类单细胞海藻。二者各取所需,相互提供食物。全球气候变暖造成的海水升温导致虫黄藻等藻类大量死亡,进而造成珊瑚本身死亡,引发白化现象。然而研究发现,珊瑚能通过选择耐热的其他藻类生物等途径,来应对气候变暖带来的挑战。
- 以下哪项如果为真,将削弱这一研究发现? ()
- A. 一些虫黄藻能够比耐热的其他藻类耐受更高的海水温度
 B. 有些藻类耐热性的形成需要一个长期的过程
 C. 有些虫黄藻逐渐适应了海水温度的升高并存活下来
 D. 有些已白化的珊瑚礁中也发现了死去的耐热藻类生物
82. 有医学研究显示,吃维生素和矿物质补充剂对人体没有显著帮助,有时甚至会对人体造成伤害。一些医生给出劝告,不要再吃维生素和矿物质补充剂了,而应该通过均衡的饮食来补充人体所需的维生素和矿物质。
- 以下哪项如果为真,最能削弱上述研究结果? ()
- A. 一项对 3 万名妇女进行的 7 年追踪调查发现,服用维生素和矿物质补充剂并没有给她们身体造成伤害
 B. 一项对 1 万名男性展开的 8 年追踪调查显示,不服用维生素和矿物质补充剂并没有增加他们患病的风险
 C. 一项对 1 万名发达地区和欠发达地区老年人的对照调查显示,他们的健康状况差异不显著

- D. 一项对 2 万名儿童展开的 3 年追踪调查显示,不服用维生素和矿物质补充剂的儿童,营养缺乏症的发生率较高
83. 甲、乙、丙、丁四人的车分别为白色、银色、蓝色和红色。在问到他们各自车的颜色时,甲说:“乙的车不是白色。”乙说:“丙的车是红色的。”丙说:“丁的车不是蓝色的。”丁说:“甲、乙、丙三人中有一个人的车是红色的,而且只有这个人说的是实话。”
如果丁说的是实话,那么以下说法正确的是()。
- A. 甲的车是白色的,乙的车是银色的
B. 乙的车是蓝色的,丙的车是红色的
C. 丙的车是白色的,丁的车是蓝色的
D. 丁的车是银色的,甲的车是红色的
84. 在一次考古发掘中,考古人员在一座唐代古墓中发现多片先秦时期的夔文(音 kuí,一种变体的龙文)陶片。对此,专家解释说,由于雨水冲刷等原因,这些先秦时期的陶片后来被冲至唐代的墓穴中。
以下哪项如果为真,最能质疑上述专家的观点?()
- A. 在这座唐代古墓中还发现多件西汉时期的文物
B. 这座唐代古墓保存完好,没有漏水、毁塌迹象
C. 并非只有先秦时期才使用夔文,唐代文人以书写夔文为能事
D. 唐代的墓葬风俗是将墓主生前喜爱的物品随同墓主一同下葬
85. 在由发展中国家向经济发达国家前进的过程中,大量资本支持是必不可少的条件,而高储蓄率是获得大量资本的必要条件。就目前来说,中国正处于经济起飞时期,因此,储蓄率高是当前经济发展中的一种正常而合理的现象。
由此可以推出()。
- A. 有了大量的资本支持,就可以实现由发展中国家向发达国家的跨越
B. 有了高储蓄率,就可以获得大量的资本支持
C. 如果没有获得大量的资本支持,说明储蓄率不高
D. 如果没有高储蓄率,就不能实现向发达国家的转变
86. 以下是一则广告:本网络文学培训班有着其他同类培训班所没有的特点,除了传授高超的写作技巧、帮助学员打开认识世界的多维视角和宏观视野、丰富学员的文化知识和艺术涵养外,还负责向毕业班学员提供切实有效的就业咨询。去年进行咨询的毕业班学员,100%都找到了工作。为了在网络文学创作事业上开创一片天地,欢迎加入我们的行列。
为了确定该广告的可信性,以下相关问题必须询问清楚的是()。
- I. 去年共举办了多期这类培训班,共有多少学员毕业?
II. 去年有多少毕业班学员进行了就业咨询?
III. 对于找到工作的学员,就业咨询究竟起到了多少作用?
IV. 咨询者找到的是否都是网络文学创作工作?
- A. I、II、III和IV
B. I、II和III
C. II、III和IV
D. II和IV
87. 当代知名的动漫设计大师,绝大部分还没从动漫设计学校毕业就已经离开学校,开始自己的动漫设计生涯。因此,有人认为动漫设计的专业学习对学生们今后的职业发展并没能提