



# 减法练习 2

每天变得聪明一点

学前班基础系列练习丛书

$5-3=2$

$8-5=3$

$9-5=4$

$7-4=$

$9-5=$

$9-6=$

$9-7=$

$9-8=$

$10-2=$

$10-3=$



贴近  
幼儿年龄特点  
启迪  
开发幼儿智商



陕西旅游出版社

陕西省特、高级教师组织编写

# 减法练习

第二册

陕西旅游出版社

(陕)新登字 012 号

责任编辑: 臧云

封面设计: 姚鹏程

版式设计: 于永军

责任监制: 刘青海

学前班基础系列练习丛书

减法练习 (2)

陕西旅游出版社出版发行

(西安长安路 32 号 邮政编码: 710061)

新华书店经销 西安华丰彩印厂印刷

787×1092 毫米 16 开本 16.5 印张 200 千字

2002 年 4 月第 1 版 2002 年 4 月第 1 次印刷

印数: 1-5000

ISBN 7-5418-1906-9/G·497

定价: 6.50 元

著作权所有, 请勿擅自用本书制作各类出版物, 违者必究  
如发现印装质量问题, 影响阅读, 请与发行单位联系调换  
电话: (029) 7811025 7814469 邮编: 710061

总 策 划： 马 建 勋

主 编： 戚 星

副 主 编： 折 鹏 进

编 写 人 员： 彭 静 吕 尤

## 出版说明

数学是人们生活、劳动和学习必不可少的工具,是一切重大技术发展的基础。数学在提高人的推理能力、抽象能力、想像力和创造力等方面有着独特的作用。《加法基础练习》、《减法基础练习》、《乘法基础练习》、《除法基础练习》是一套由著名中小学特高级数学教师专为幼儿编写的数学基础读物,贴近3—6岁幼儿生活和年龄特点,是幼儿早期智力开发不可或缺的有效工具。全书配有童趣盎然的画面,图文并茂,版面醒目,设计精美。体现了素质教育的精神,是一套真正能帮助幼儿打好数学基础,促进幼儿素质全面、持续、和谐完善和理想的教材。

今天是 年 月 日

星期 天气

数动物填数字



1



家长评语：

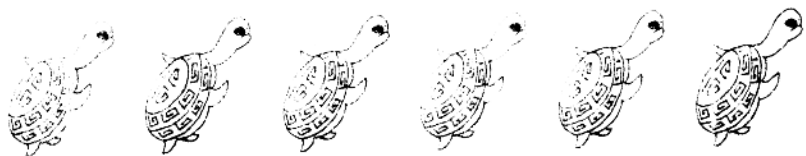
- A. 好棒啊!
- B. 很不错
- C. 还可以



今天是： 年 月 日

星期 天气

动物填数字：



家长评语：

- A.真行!
- B.比较好。
- C.还要努力



今天是： 年 月 日


星期 天气

请把正确的数字填在空格里：

	2		5			9	
		13				18	
21				26			
			34				40
				45			
	52				57		
		63					69
			74			78	
81					87		
				95			100

家长评语：

- A.顶呱呱!
- B.还行。
- C.继续努力。





今天是： 年 月 日

星期 天气

请把正确的数字填在空格里：

	3		8	
12		15		19
	23		27	
31			36	
		45		50
		54		59
	63		68	
72			77	
81			88	
		95		

家长评语：


- A.你真行!
- B.再加一把劲。
- C.只要努力,就会进步



今天是： 年 月 日

星期 天气

连点练习：



家长评语：

- A. 奖励一个五角星！
- B. 要更上一层楼。
- C. 加油！




今天是： 年 月 日

星期 天气

看图数数，把答案填在方格里：



$$2 - 1 =$$



$$3 - 1 =$$



$$3 - 2 =$$



$$2 - 2 =$$

家长评语：

- A. 奖励一朵大红花！
- B. 加把油，就会得第一
- C. 不要泄气，加油干！



今天是：      年      月      日

星期      天气


看图减数，把答案填在方格里：




$$4 - 2 =$$



$$4 - 3 =$$



$$5 - 1 =$$



$$5 - 3 =$$

家长评语：


- A. 真好!
- B. 比较好。
- C. 努力赶上去!




今天是： 年 月 日

星期 天气


看图减数，把答案填在方格里：



$$6 - 2 =$$



$$5 - 4 =$$



$$6 - 1 =$$



$$6 - 3 =$$

家长评语：

A. 优秀。

B. 良好。

C. 努力赶上去！



今天是： 年 月 日 星期 天气


看图减数,把答案填在方格里:



$7 - 3 = \square$



$7 - 1 = \square$



$6 - 4 = \square$



$7 - 2 = \square$

家长评语:

- A. 奖个满天星!
- B. 要争第一。
- C. 你一定会进步的!



今天是： 年 月 日

星期 天气


看图减数，把答案填在方格里



$$6 - 5 =$$



$$7 - 4 =$$



$$8 - 1 =$$



$$7 - 3 =$$

家长评语：

- A. 奖你一面小红旗。
- B. 下次一定得个小红旗。
- C. 相信你会进步的！



今天是： 年 月 日 星期 天气


看图减数，把答案填在方格里：




$$5 - 4 = \square$$



$$4 - 2 = \square$$



$$6 - 3 = \square$$



$$8 - 2 = \square$$

家长评语：

- A. 你真棒！
- B. 还可以。
- C. 不要再做小粗心！





今天是：      年      月      日

星期      天气


看图减数，把答案填在方格里。



$$7 - 5 =$$



$$8 - 4 =$$



$$8 - 6 =$$



$$7 - 6 =$$

家长评语：

- A.你真行!
- B.要争上游!
- C.不要做小马虎!

