



天天练



一年级

[下册]



西南师范大学出版社
国家一级出版社 全国百佳图书出版单位

$+$ $-$ \times \div



——天天练 

张 健 朱春丽 © 主编

一年級
〔下册〕



西南师范大学出版社
国家一级出版社 全国百佳图书出版单位

图书在版编目(CIP)数据

口算·笔算·妙算天天练：S版，一年级·下 / 张健，朱春丽主编. —重庆：西南师范大学出版社，2014.1

ISBN 978-7-5621-6627-6

I. ①口… II. ①张… ②朱… III. ①速算—小学—习题集 IV. ①G624.565

中国版本图书馆CIP数据核字(2014)第009486号

口算·笔算·妙算——天天练(S) 一年级下册

KOUSUAN BISUAN MIAOSUAN TIANTIANLIAN

主 编 张 健 朱春丽

编 者：张 健 朱春丽 廖流鸿 罗洪碧 文 静
唐 静 罗 平 刘 焯 涂 帅 雷 霞

责任编辑：尹清强

装帧设计： · 魏显锋
www.zhuajie.com

绘 图：野生绘画工作室

排 版：重庆大雅数码印刷有限公司·张艳

出版发行：西南师范大学出版社

地址：重庆市北碚区

网址：<http://www.xscbs.com>

印 刷 者：重庆升光电力印务有限公司

开 本：890mm×1240mm 1/32

印 张：4

字 数：77千字

版 次：2014年1月 第1版

印 次：2015年1月 第2次印刷

书 号：ISBN 978-7-5621-6627-6

定 价：10.00元




熟练地进行计算,是《义务教育数学课程标准(2011年版)》(以下简称《标准》)要求小学生必须掌握的基本技能之一。《口算·笔算·妙算——天天练》根据《标准》的基本理念和要求编写,每天训练一页。本书针对《标准》要求的知识点,选取基础性的试题,主要以练习的方式培养学生的口算、笔算、妙算等运算技能,巩固和拓展课堂学习的内容。

为激发学生对数学的学习兴趣,拓展数学思维,本书在每天的训练中还设置了“数学趣题”“生活数学”“开心一刻”“技巧点拨”等栏目,这些栏目可以由家长和孩子一起解决,一起分享,让学生在充满趣味的数学世界感受美妙的数学知识。

书中最后设有10套综合能力测试题,用以复习巩固全学期的知识,并对学习效果进行评估。

本书内容丰富,编排科学,图文并茂,融口算、笔算、妙算于一体,相信是你巩固运算知识、提高数学能力的好伙伴。



目录



1

一 20 以内的退位减法

22

二 认识图形(二)

29

三 认识 100 以内的数

49

四 100 以内的加法和减法(一)

77

五 元、角、分

85

六 100 以内的加法和减法(二)

104

综合能力测试

124

数学趣题部分
参考答案

一 20 以内的退位减法

20 以内的退位减法(1)

评分: _____


用时: _____

学习例 1 时使用

① 先圈一圈,再计算。




$$13-9=\square$$



$$11-10=\square$$




$$15-5=\square$$



$$14-4=\square$$

② 数一数,算一算。



? 个
17 个

$$17-9=\square$$



? 把
16 把

$$16-7=\square$$



一年级
下册

1



数学趣题

小明做了 12 朵红花,小芳做了 9 朵红花,小芳至少还要做多少朵,才能超过小明?

20 以内的退位减法(2)

评分: _____
用时: _____

学习例 1 时使用

① 看图列算式。




$$9 + \square = 14$$

$$14 - 9 = \square$$



$$9 + \square = 12$$

$$12 - 9 = \square$$



$$9 + \square = 13$$

$$13 - 9 = \square$$

$$9 + \square = 11$$

$$11 - 9 = \square$$

② 算一算。

$11 - 9 =$

$13 - 9 =$

$16 - 9 =$

$12 - 9 =$

$14 - 9 =$

$15 - 9 =$

$18 - 9 =$

$17 - 9 =$

$19 - 9 =$



技巧点拨

13-9 的计算方法

可以把 13 分成 10 和 3, 10 减 9 等于 1, 1 加 3 等于 4。或者把 9 分成 3 和 6, 再用 13 减 3 等于 10, 10 减 6 等于 4。

20 以内的退位减法(3)

评分: _____

用时: _____


学习例 1 时使用

① 看图列算式。



$$9 + \square = 17$$

$$17 - 9 = \square$$



$$9 + \square = 16$$

$$16 - 9 = \square$$

② 算一算。

$9 + 3 =$

$9 + 5 =$

$9 + 6 =$

$12 - 9 =$

$14 - 9 =$

$15 - 9 =$

$9 + 4 =$

$9 + 7 =$

$9 + 9 =$

$13 - 9 =$

$16 - 9 =$

$18 - 9 =$

$9 + 2 =$

$9 + 8 =$

$9 + 1 =$

$11 - 9 =$

$17 - 9 =$

$10 - 9 =$

$12 - 9 + 3 =$

$16 - 9 + 5 =$

$13 - 9 + 6 =$

$9 + 4 - 9 =$

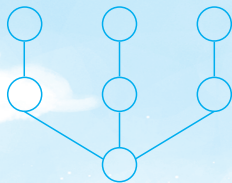
$8 + 9 - 9 =$

$15 - 9 - 6 =$



数学趣题

把 1~7 各数分别填在○里,使三条线上的三个数加起来和相同。



20 以内的退位减法(4)

评分: _____

用时: _____

学习练习一时使用

① 填一填。

11	-9=	
13		
15		
17		

18	-9=	
16		
14		
12		

② 算一算。

$9+2=$

$9+6=$

$9+4=$

$19-9=$

$17-9=$

$14-9=$

$9+5=$

$9+3=$

$9+7=$

$12-9=$

$15-9=$

$13-9=$

$8+9=$

$5+9=$

$3+9=$

$14-9+6=$

$15-9+7=$

$18-9-9=$

$6+8-9=$

$5+9-9=$

$7+4-9=$

开心一刻

老师：“每次考试后你爸爸看到你没有及格的试卷，一定很生气吧？”

亮亮：“是的。”

老师：“那你怎么做才能让爸爸不生气呢？”

亮亮：“这很简单，只要不考试，爸爸就不生气了。”

20 以内的退位减法(5)

评分: _____

用时: _____

学习练习一时使用

① 算一算。

$11-9=$

$8+9=$

$13-9=$

$9+5=$

$18-9=$

$15-9=$

$16-9=$

$12-9=$


$14-9=$

$6+9=$

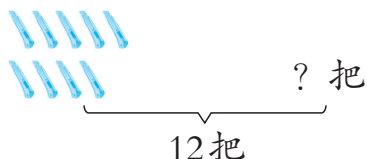
$17-9=$

$9+7=$

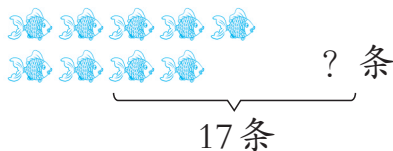
② 看图列算式。



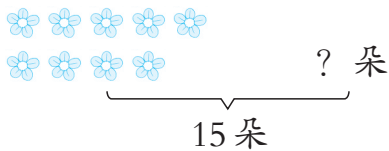
$\square \bigcirc \square = \square$



$\square \bigcirc \square = \square$



$\square \bigcirc \square = \square$



$\square \bigcirc \square = \square$



生活数学

在生活中,我们经常会用到0,1,2,3,4,5,⋯,9这些数字。这些数字符号原来是古代印度人发明的,后来传到阿拉伯,又从阿拉伯传到欧洲。欧洲人误以为是阿拉伯人发明的,就把它叫做“阿拉伯数字”。

20 以内的退位减法(6)

评分: _____
用时: _____

学习例2时使用


① 先圈一圈,再计算。




$$12 - 8 = \square$$



$$15 - 8 = \square$$

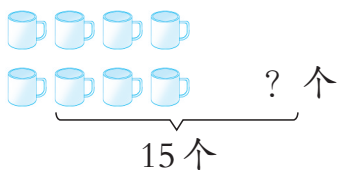


$$14 - 7 = \square$$

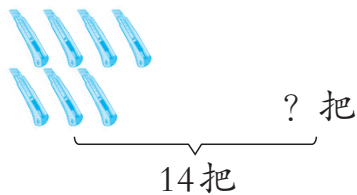


$$16 - 7 = \square$$

② 数一数,算一算。



$$15 - 8 = \square$$



$$14 - 7 = \square$$



生活数学

现在,13 只不过是一个很普通的数字,但是在中国古代,13 可是一个了不起的吉祥数字。如十三经、十三太保、少林十三棍等。再如,布达拉宫 13 层,明朝在北京的皇陵恰好是 13 座,即今日北京的“明十三陵”。


20 以内的退位减法(7)

评分: _____

用时: _____

学习例 2 时使用

看图列算式。



$$8 + \square = 13$$

$$13 - 8 = \square$$



$$8 + \square = 11$$

$$11 - 8 = \square$$



$$7 + \square = 11$$

$$11 - 7 = \square$$



$$7 + \square = 13$$

$$13 - 7 = \square$$



$$8 + \square = 16$$

$$16 - 8 = \square$$



$$7 + \square = 12$$

$$12 - 7 = \square$$



生活数学

蚂蚁的计算本领十分高明。英国科学家曾做过一个有趣的实验：他把一只死蚱蜢切成三块，第二块是第一块的2倍，第三块是第二块的2倍。蚂蚁发现这三块食物40分钟后，聚集在第一块蚱蜢上的蚂蚁有28只，第二块有44只，第三块有87只，后一组差不多是前一组的两倍。



20 以内的退位减法(8)

评分: _____

用时: _____

学习例2时使用

① 算一算。

$11-8=$

$13-8=$

$16-8=$

$12-8=$

$14-8=$

$15-8=$

$10-8=$

$20-8=$

$19-8=$

$18-8=$

$17-8=$

$9-8=$

$8+3=$

$8+5=$

$8+6=$

$12-7=$

$14-7=$

$15-7=$

$8+4=$

$8+7=$

$8+9=$

② 填一填。

	-8=	

	-7=	



数学趣题

在空格里填数,使每行、每列、每条对角线上的三个数加起来都等于15。

4		2
	5	

20 以内的退位减法(9)

评分: _____

用时: _____

学习练习二时使用

① 算一算。

$13-7=$

$16-7=$

$18-7=$

$8+2=$

$8+8=$

$8+1=$

$11-7=$

$17-7=$

$10-7=$

$12-9=$

$16-9=$

$13-9=$

$8+4=$

$9+8=$

$15-9=$

$9+4=$

$9+6=$

$14-9=$

② 填一填。

	跳绳	打球	游泳	跑步
一共	()人	17人	14人	15人
男生	6人	8人	7人	()人
女生	5人	()人	()人	8人



数学趣题

选三张卡片,组成一道得数是8的减法算式。

3

1

5

9

7

$\square\square-\square=8$

20 以内的退位减法(10)

评分: _____

用时: _____

学习练习二时使用

① 填一填。

$2 + () = 11$

$6 + () = 12$

$4 + () = 11$

$4 + () = 12$

$5 + () = 13$

$7 + () = 14$

$() + 5 = 14$

$3 + () = 11$

$() + 4 = 13$

$8 + () = 14$

$6 + () = 15$

$4 + () = 13$

$3 + () = 12$

$5 + () = 12$

$5 + () = 11$

$11 - () = 4$

$13 - () = 5$

$16 - () = 9$

$13 - () = 4$

$14 - () = 5$

$14 - () = 9$

$11 - () = 8$

$13 - () = 7$

$16 - () = 6$

② 在○里填“>”“<”或“=”。

$13 - 4 \bigcirc 10$

$13 - 6 \bigcirc 6$

$17 - 8 \bigcirc 9$

$12 - 5 \bigcirc 5$

$14 - 9 \bigcirc 8$

$16 - 8 \bigcirc 9$

$13 - 7 \bigcirc 7$

$15 - 9 \bigcirc 4$

$14 - 5 \bigcirc 6$

$17 - 9 \bigcirc 7$

$13 - 5 \bigcirc 7$

$15 - 8 \bigcirc 6$



开心一刻

鲤鱼和乌龟去领结婚证。办事员问乌龟年龄,乌龟:“100岁。”办事员遗憾地说:“对不起,按照你们家族规定,你还未成年,不允许结婚。”

20 以内的退位减法(11)

评分: _____

用时: _____

学习练习二时使用

① 算一算。

$12-8=$

$13-8=$

$14-8=$

$12-7=$

$13-7=$

$14-7=$

$12-9=$

$13-9=$

$14-9=$

$15-8=$

$16-8=$

$17-8=$

$15-7=$

$16-7=$

$18-9=$

$11-9=$

$15-9=$

$16-9=$

$11-8=$

$11-7=$

$17-9=$

② 找朋友(连线)。

$11-8$

5

$13-9$

$12-8$

4

$13-7$

$14-8$

3

$12-7$

$15-8$

6

$12-9$

$13-8$

7

$16-9$



开心一刻

小明看见一乞丐拿着两顶帽子在乞讨,给了一毛钱后,问乞丐为什么拿着两顶帽子,乞丐答:“最近生意不太好,我又开了一个分店。”

20 以内的退位减法(12)

评分: _____
用时: _____

学习例3时使用

看图写算式。



口算·笔算·妙算

天天练

12



$14 - () = ()$

$14 - () = ()$



$13 - () = ()$

$13 - () = ()$



$13 - () = ()$

$13 - () = ()$




$11 - () = ()$

$11 - () = ()$




$14 - () = ()$

$14 - () = ()$



$12 - () = ()$

$12 - () = ()$



开心一刻

医生问病人是怎么骨折的,病人说:“我觉得鞋里有沙子,就扶着电线杆抖鞋,有个混蛋经过那里以为我触电了,便抄起木棍给了我两棍子!”