

RUXUEZICESHITI

# 小学入学自测试题

试题篇

上



安徽美术出版社

KU XUE ZI CE SHI TI

# 小学入学自测试题

试题篇 上



安徽美术出版社

## 图书在版编目(CIP)数据

小学入学自测/吴恩多主编. —合肥:安徽美术出版社,2003.1

ISBN 7-5398-1042-4

I. 小… II. 吴… III. 学前教育—教学参考资料 IV. G613

中国版本图书馆CIP数据核字(2002)第102950号

主 编:吴恩多

封面设计:胡屹工作室

责任编辑:于海霞

## 小学入学自测试题(试题篇上)

---

安徽美术出版社出版

(合肥市金寨路381号 邮编:230063)

安徽美术出版社网址:<http://www.chmscbs.com>

全国新华书店经销

合肥远东印务有限责任公司印刷

开本:787×1092 1/24 印张:22.5

2003年3月第1版 2003年3月第1次印刷

---

ISBN 7-5398-1042-4 全套定价:60.00元(全5册)

发现印装质量问题影响阅读,请与承印厂联系调换。

## 编者的话

孩子是父母的希望，家庭的未来。哪个父母不希望自己的孩子出类拔萃，长大成为栋梁之才？可是你了解你的孩子吗？你知道你孩子的性格特点、心理优势与智力强项吗？发达国家很早就开始研究并制定出系统的开发幼儿智力的方案与科学方法。近年来，探讨与研究幼儿教育，也成了我们的热门话题。如果我们对孩子引导得当，那就能有效开发孩子潜在的无穷智慧，使孩子的智力因素得到充分发展，再辅之以健康向上的心理与人格的潜移默化的熏陶与教育，使他的非智力因素与智力因素相辅相成，何愁我们的孩子不能成才！

为满足幼儿教育的社会需求，配合家长对孩子进行智力开发与引导，我们根据全国最新幼儿教育大纲编辑出版了这套小学入学教育丛书。丛书分为《小学入学自测训练(基础篇)》、《小学入学自测训练(训练篇)》和《小学入学自测试题(试题篇)》。丛书以内容丰富、形式多样的试题与图画，从直观、感性引导入手，循序渐进，使孩子顺理成章一步步走进智慧的殿堂。


丛书的最大特点是，遵从人类思维的科学进程，按概念——判断——推理的顺序，为孩子准备了从基本概念到简单判断、到一些简单的推理的系列试题，很适合幼儿智力开发的需要。

通过这套丛书对你孩子的训练与测试，不仅能为你孩子在入学前打下坚实的知识基础，培养你孩子的科学思路，还能让你充分认识你孩子的智力、思维、性格、心理等方面的特点，从而使你能明确对孩子的培养方向，这是家长和编者的共同愿望。

编者

2002年12月





# 目 录




自测题(一)	1
自测题(二)	9
自测题(三)	17
自测题(四)	22
自测题(五)	30
自测题(六)	38
自测题(七)	45
自测题(八)	54
自测题(九)	62
自测题(十)	70
自测题(十一)	78
自测题(十二)	86
自测题(十三)	93
参考答案	101



## 自测试题 (一)




一、请仔细观察下图，找一找哪几幅图有错，错在什么地方。正确的打√，错误的打×。(10分)



# 自测试题

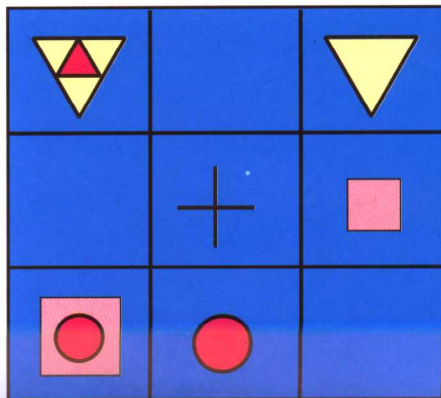





二、下图中的人都是干什么工作的,说出你的理由。(10分)





三、将正确的图形填入空格。(15分)















# 自测试题



## 四、分水果。(10分)

老师给小宝宝们分水果,请你2个2个地数一数,并将它们2个2个地圈起来,分好后算一算,每个宝宝各拿到了多少水果?再想一想,图中一共有几种水果?各有多少?



# 自测试题



五、先仔细观察下图1分钟,再遮住它,然后凭记忆在纸上画一画。(15分)



# 自测试题



六、绕口令。(15分)

家长说绕口令,让孩子跟着你说,试着在10分钟内让孩子背出来。





门外四十只狮子，  
篮里四十只柿子，  
门外四十只狮子，  
想吃掉篮里四十只柿子。








七、仔细看一下图，请分别说出它们是什么动物的影子。（10分）



# 自测试题




八、兔妈妈买菜去了，突然下起了大雨，你帮小兔想一想，兔妈妈会怎么回来呢？想的方法越多越好。（15分）



## 自测题(二)




一、仔细观察下图，分分类，看看各有几种分类法？（用数字标在□内）(20分)



# 自测试题






二、看看图中是些什么动物，数一数它们各有几只脚，并把数字填在□里。(10分)






三、看图说话。(10分)

请仔细看图,根据每一幅图各说一句话,再连起来,编成一个小故事。






# 自测试题



四、看看，几点钟了，在正确的时间上打“√”(5分)



12 点钟 ( )

10 点钟 ( )

8 点钟 ( )

12 点半 ( )

10 点半 ( )

8 点半 ( )

6 点钟 ( )

12 点钟 ( )

7 点钟 ( )

6 点半 ( )

12 点半 ( )

7 点半 ( )