

十年制学校小学课本

算 术

SUANSHU

第 二 册

(试用本)

人 民 教 育 出 版 社

十年制学校小学课本

(试用本)

算 术

第二册

人民教育出版社数学编辑室编

北京市书刊出版业营业登记证出字第2号

人民教育出版社出版(北京景山东街)

河北人民出版社重印

河北省新华书店发行

邢台报社印刷

统一书号: K7012.1212

开本: 787×1092毫米 1/32 印张: $2\frac{1}{8}$

1961年第一版 1965年第三版

第三版1965年11月第一次印刷

天津: 1—123,000册

定价 0.15 元


目 录

一	100 以内的进位加法	1
	1. 两位数加一位数	1
	2. 两位数加两位数	6
	3. 连加	11
二	100 以内的退位减法	14
	1. 两位数减一位数	14
	2. 两位数减两位数	20
	3. 连减, 加减混合	28
三	市尺、市寸的认识	33
四	市斤、市两的认识	36
五	乘法九九表	39
	1. 乘法的初步认识	39
	2. 2、3、4、5 的乘法口诀	41
	3. 6、7、8、9 的乘法口诀	49

一 100以内的进位加法

1. 两位数加一位数

[1]



$$27 + 8 = 35$$

$$\begin{array}{r} 27 \\ + 8 \\ \hline 35 \end{array}$$

[2] $5 + 35 = 40$

$$\begin{array}{r} 5 \\ + 35 \\ \hline 40 \end{array}$$

个位上的数相加满十，要向十位进1。

练习一

1. $9+4$ $7+3$ $3+8$ $6+7$
 $8+6$ $5+9$ $5+6$ $2+9$

$$\begin{array}{r} 2. \quad 39 \\ + 6 \\ \hline \end{array} \quad \begin{array}{r} 48 \\ + 4 \\ \hline \end{array} \quad \begin{array}{r} 68 \\ + 2 \\ \hline \end{array} \quad \begin{array}{r} 73 \\ + 7 \\ \hline \end{array}$$

$$\begin{array}{r} 3. \quad 27 \\ + 4 \\ \hline \end{array} \quad \begin{array}{r} 4 \\ + 27 \\ \hline \end{array} \quad \begin{array}{r} 6 \\ + 85 \\ \hline \end{array} \quad \begin{array}{r} 1 \\ + 69 \\ \hline \end{array}$$

$$\begin{array}{l} 4. \quad 59+7 \quad 1+29 \quad 6+68 \quad 28+7 \\ 72+8 \quad 3+57 \quad 34+7 \quad 6+44 \\ 47+5 \quad 8+63 \quad 5+75 \quad 79+9 \end{array}$$

5. 一个加数是 26, 另一个加数是 9, 和是多少?

6. 看谁算得又对又快。

$$\begin{array}{r} 36 \\ + 8 \\ \hline \end{array} \quad \begin{array}{r} 54 \\ + 7 \\ \hline \end{array} \quad \begin{array}{r} 19 \\ + 5 \\ \hline \end{array} \quad \begin{array}{r} 83 \\ + 8 \\ \hline \end{array}$$

$$\begin{array}{r} 45 \\ + 6 \\ \hline \end{array} \quad \begin{array}{r} 62 \\ + 8 \\ \hline \end{array} \quad \begin{array}{r} 78 \\ + 4 \\ \hline \end{array} \quad \begin{array}{r} 29 \\ + 7 \\ \hline \end{array}$$

$$\begin{array}{l} 7. \quad 25+8 \quad 55+5 \quad 9+63 \quad 15+81 \\ 41+6 \quad 64+24 \quad 85+7 \quad 79+4 \end{array}$$

8. 一年级原来有 49 个同学, 这学期又来了 2 个, 现在有多少个同学?

9. 一个生产队原来有 35 条麻袋, 又买来 9 条, 现在一共有多少条?

10. $18+7$ $65+24$ $30+20$ $86+6$
 $18-7$ $59-31$ $69+4$ $95-72$

11.
$$\begin{array}{r} 77 \\ + 6 \\ \hline \end{array}$$

$$\begin{array}{r} 2 \\ + 78 \\ \hline \end{array}$$

$$\begin{array}{r} 76 \\ - 30 \\ \hline \end{array}$$

$$\begin{array}{r} 99 \\ - 57 \\ \hline \end{array}$$

$$\begin{array}{r} 43 \\ + 5 \\ \hline \end{array}$$

$$\begin{array}{r} 84 \\ - 34 \\ \hline \end{array}$$

$$\begin{array}{r} 38 \\ + 21 \\ \hline \end{array}$$

$$\begin{array}{r} 8 \\ + 66 \\ \hline \end{array}$$

12. 建生给阅览室修补了 15 本故事书, 8 本连环画, 一共修补了多少本书?

13. 拖拉机站原来有 34 台拖拉机, 今年又添了 8 台。今年一共有多少台?

[3] 口算: $34+5$ $56+4$ $8+79$

$34+5=39$ 想: 4 加 5 得 9, 得 39。

$56+4=60$ 想: 6 加 4 得 10, 得 60。

$8+79=87$ 想: 8 加 9 得 17, 得 87。

练习二

口算 1 到 4 题。

- $3+4$ $6+3$ $5+2$ $7+1$
 $23+4$ $36+3$ $5+12$ $7+71$
- $12+6$ $4+55$ $7+31$ $72+5$
 $21+5$ $84+4$ $93+6$ $6+80$
- $4+6$ $5+7$ $3+7$ $9+8$
 $34+6$ $25+7$ $3+67$ $9+78$
- $45+5$ $9+62$ $75+6$ $59+1$
 $23+8$ $2+48$ $4+89$ $6+25$

5. 看谁口算得又对又快。

$$57+8 \quad 6+56 \quad 2+95 \quad 7+62$$
$$43+6 \quad 74+9 \quad 9+86 \quad 82+8$$

6. 听老师念题,很快口算出得数。

$$68+7 \quad 4+57 \quad 9+89 \quad 83+4$$
$$42+6 \quad 70+2 \quad 35+4 \quad 8+65$$

7. 口答: 6 加 6, 再加 6……一直加到得 60 为止。

8. 一个铁工厂制造大铁锅 43 口, 小铁锅 54 口, 一共制造了多少口?

[4] 同学们积肥。第一组积了 9 筐, 第二组比第一组多积了 3 筐。第二组积了多少筐?

$$9 \text{ 筐} + 3 \text{ 筐} = 12 \text{ 筐}$$

练 习 三

1. 校园里有 8 棵桃树, 梨树比桃树多 5 棵, 有多少棵梨树?
2. 一年级同学大扫除。扫地的有 6 个人, 擦桌椅的比扫地的多 15 个人。擦桌椅的有多少人?
3. 一个养猪场有 23 头大猪, 小猪比大猪多 14 头。有多少头小猪?
4. 一个造船厂上半年造出 24 只船, 下半年比上半年多造 8 只, 下半年造了多少只?

5. $86+5$ $59-40$ $78-6$ $69-25$

$26+43$ $4+82$ $7+64$ $8+87$

6. 一个商店上午卖了 84 本练习本，下午比上午多卖了 9 本，下午卖了多少本？

7. 社员们平地，第一天平了 13 亩，第二天比第一天多平了 2 亩，第二天平了多少亩？

8. 孵小鸡要用 21 天，孵小鸭比孵小鸡要多用 7 天。孵小鸭要用多少天？

9. 一个木材厂先做了 48 张课桌，又做了 51 张，一共做了多少张？

2. 两位数加两位数

[1] $27+35=62$

$52+38=90$

$$\begin{array}{r} 27 \\ + 35 \\ \hline 62 \end{array}$$

$$\begin{array}{r} 52 \\ + 38 \\ \hline 90 \end{array}$$

竖式加法，要记住下面三条：

一、对齐数位；

二、从个位开始加；

三、个位上的数相加满十，向十位进1。

练习四

1.
$$\begin{array}{r} 63 \\ + 8 \\ \hline \end{array}$$

$$\begin{array}{r} 46 \\ + 4 \\ \hline \end{array}$$

$$\begin{array}{r} 12 \\ + 49 \\ \hline \end{array}$$

$$\begin{array}{r} 27 \\ + 56 \\ \hline \end{array}$$

$$\begin{array}{r} 63 \\ + 28 \\ \hline \end{array}$$

$$\begin{array}{r} 46 \\ + 34 \\ \hline \end{array}$$

$$\begin{array}{r} 61 \\ + 29 \\ \hline \end{array}$$

$$\begin{array}{r} 15 \\ + 65 \\ \hline \end{array}$$

2. $37+55$ $76+18$ $59+31$ $79+14$
 $42+29$ $23+67$ $48+45$ $34+36$

3. 一个加数是26，另一个加数是37，
和是多少？

4.
$$\begin{array}{r} 54 \\ + 32 \\ \hline \end{array}$$

$$\begin{array}{r} 18 \\ + 27 \\ \hline \end{array}$$

$$\begin{array}{r} 52 \\ + 36 \\ \hline \end{array}$$

$$\begin{array}{r} 24 \\ + 57 \\ \hline \end{array}$$

$$\begin{array}{r} 54 \\ + 39 \\ \hline \end{array}$$

$$\begin{array}{r} 18 \\ + 21 \\ \hline \end{array}$$

$$\begin{array}{r} 35 \\ + 45 \\ \hline \end{array}$$

$$\begin{array}{r} 68 \\ + 25 \\ \hline \end{array}$$

5. $15+27$ $18+72$ $56+25$ $27+69$
 $48+28$ $73+17$ $44+53$ $16+46$
6. 少先队员和解放军联欢。第一中队去了36个队员，第二中队去了35个队员，一共去了多少个队员？
7. 张叔叔原来每天做27个机器零件，改进工具以后，每天可以多做15个。改进工具以后，每天做多少个？
8. $57+35$ $48+22$ $65-34$ $77+16$
 $57-35$ $56-23$ $51+39$ $99-68$
9. $9+25$ $76-40$ $43+28$ $98-24$
 $46-5$ $78+19$ $60+31$ $15+75$
10. 算出各年级男女生的总数。

	一年级	二年级	三年级	四年级	五年级
男生(人)	51	50	46	49	44
女生(人)	47	48	48	49	46
总数(人)					

11. 百货商店卖出球鞋 67 双, 卖出的布鞋比球鞋多 32 双, 卖出布鞋多少双?
12. 高年级同学要挖 65 个树坑, 挖好了 42 个, 还有多少个没挖好?
-

[2] 口算: $40+30$ $50+26$ $38+60$

$$40+30=70$$

$$50+26=76 \quad \text{想: } 50 \text{ 加 } 20 \text{ 得 } 70, \text{ 得 } 76。$$

$$38+60=98 \quad \text{想: } 30 \text{ 加 } 60 \text{ 得 } 90, \text{ 得 } 98。$$

练 习 五

口算 1 到 3 题。

1. $30+10$ $70+20$ $50+40$ $60+30$

$30+16$ $70+28$ $53+40$ $69+30$

2. $30+50$ $10+65$ $29+20$ $20+76$

$40+20$ $70+19$ $18+60$ $33+30$

3. $31+5$ $57+20$ $3+46$ $60+13$

$31+50$ $57+2$ $30+46$ $6+13$

4. 看谁口算得又对又快。

$20+60$ $50+37$ $63+20$ $40+40$

$88+10$ $29+40$ $70+15$ $30+56$

5. 口答: 46、38、27、59 各加上 4 得多少? 各加上 40 呢?

6. 听老师念题, 很快口算出得数。

$5+41$ $50+20$ $64+30$ $6+38$

$12+60$ $39+4$ $40+25$ $30+40$

7. $46+17$ $70+18$ $29+42$ $56+20$

$58+12$ $9+67$ $38+45$ $73+8$

8. 同学们种向日葵。五年级种了 29 棵, 六年级比五年级多种了 13 棵。六年级种了多少棵?

9. 一台拖拉机上午耕了 32 亩地, 下午比上午多耕了 10 亩, 下午耕了多少亩?

3. 连加

[1] $26+32+15=73$

$$\begin{array}{r} 26 \\ + 32 \\ \hline 58 \end{array}$$

$$\begin{array}{r} 58 \\ + 15 \\ \hline 73 \end{array}$$

练习六

1. $13+24+35$

$57+16+18$

$48+16+27$

$15+26+45$

$23+38+19$

$39+17+28$

2. $38+46+3$

$27+6+38$

$26+54+10$

$43+8+19$

$5+56+28$

$16+58+9$

3. 一个木工小组先锯了 29 块木板, 又锯了 34 块, 一共锯了多少块?

4. $45+26+21$

$67+23+10$

$8+17+68$

$24+7+49$

$36+27+30$

$19+29+39$

5. 口算下面各题。

$3+8+6$ $6+9+8$ $9+8+7$

$9+4+5$ $7+8+5$ $4+9+3$

$5+7+4$ $4+6+7$ $6+5+9$

6. 口算下面各题。

$16+40+8$ $6+59+20$

$37+9+30$ $40+36+6$

$7+8+60$ $5+15+54$

7. 口答：24加8得多少？再加50呢？

8. $17+28+39$ $24+30+26$

$15+8+47$ $8+9+5$

$32+28+9$ $7+56+18$

9. $64+26$ $43+49$ $30+58$ $66-16$

$75-13$ $18-9$ $35-3$ $7+55$

10. 一个工厂上个月修理了69辆汽车，
这个月要比上个月多修理12辆，这
个月要修理多少辆？


11. 比59多37的数是多少？

复 习 题


1. $\begin{array}{r} 32 \\ + 5 \\ \hline 5 \\ + 45 \\ \hline \end{array}$ $\begin{array}{r} 84 \\ + 7 \\ \hline 67 \\ + 30 \\ \hline \end{array}$ $\begin{array}{r} 21 \\ + 69 \\ \hline 36 \\ + 43 \\ \hline \end{array}$ $\begin{array}{r} 28 \\ + 46 \\ \hline 55 \\ + 18 \\ \hline \end{array}$
2. $46 + 3$ $37 + 5$ $50 + 44$ $4 + 83$
 $9 + 51$ $82 + 7$ $74 + 6$ $8 + 69$
3. $44 + 5$ $77 - 34$ $53 + 37$ $45 - 15$
 $59 - 6$ $28 + 28$ $9 + 49$ $62 + 19$
4. 社员们在菜地里劳动。浇水的有 15 个人, 间苗的有 26 个人。一共有多少个人?
5. 学校里种冬瓜 24 棵, 种的南瓜比冬瓜多 17 棵。种南瓜多少棵?
6. 比 87 多 4 的数是多少? 比 64 多 29 的数是多少?
7. $22 + 25 + 13$ $47 + 9 + 34$ $17 - 8$
 $9 + 8 + 6$ $31 + 20 + 19$ $14 - 9$

二 100 以内的退位减法

1. 两位数减一位数

[1]  $32 - 8 = 24$


$$\begin{array}{r} 32 \\ - 8 \\ \hline 24 \end{array}$$

[2]  $40 - 7 = 33$

$$\begin{array}{r} 40 \\ - 7 \\ \hline 33 \end{array}$$

被减数的个位不够减，从十位退 1，
在个位上加 10 再减。

练习七

1. $12 - 5$ $13 - 4$ $18 - 9$ $17 - 9$

$10 - 8$ $15 - 7$ $16 - 8$ $11 - 3$

2.
$$\begin{array}{r} 36 \\ - 7 \\ \hline \end{array}$$

$$\begin{array}{r} 23 \\ - 8 \\ \hline \end{array}$$

$$\begin{array}{r} 42 \\ - 6 \\ \hline \end{array}$$

$$\begin{array}{r} 73 \\ - 9 \\ \hline \end{array}$$