


RUXUEZICESHITI

小学入学自测试题

试题篇

下



ABC




安徽美术出版社

KU XUE ZI CE SHI TI

小学入学自测试题

试题篇 下



安徽美术出版社

图书在版编目(CIP)数据

小学入学自测/吴恩多主编. —合肥:安徽美术出版社, 2003. 1

ISBN 7-5398-1042-4

I. 小… II. 吴… III. 学前教育—教学参考资料 IV. G613

中国版本图书馆CIP数据核字(2002)第102950号

主 编: 吴恩多

封面设计: 胡屹工作室

责任编辑: 于海霞

小学入学自测试题(试题篇下)

安徽美术出版社出版

(合肥市金寨路381号 邮编: 230063)

安徽美术出版社网址: <http://www.ahmscbs.com>

全国新华书店经销


合肥远东印务有限责任公司印刷

开本: 787×1092 1/24 印张: 22.5

2003年3月第1版 2003年3月第1次印刷

ISBN 7-5398-1042-4 全套定价: 60.00元(全5册)

发现印装质量问题影响阅读, 请与承印厂联系调换。



目 录



自测题(十四)	1
自测题(十五)	9
自测题(十六)	17
自测题(十七)	25
自测题(十八)	33
自测题(十九)	41
自测题(二十)	49
自测题(二十一)	57
自测题(二十二)	65
自测题(二十三)	72
自测题(二十四)	79
自测题(二十五)	87
自测题(二十六)	95
参考答案	103



自测题(十四)



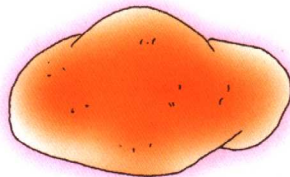
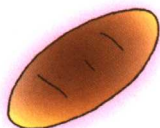


一、下面图中的这些物品应分别放置在何处？（连线）（10分）



自测试题




二、请按事物发生的先后,排列顺序(在■内用数字表示),并根据内容讲述一遍。(10分)





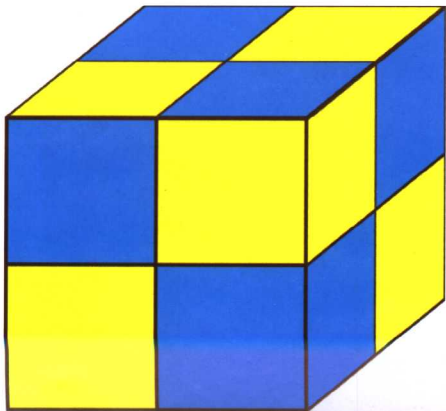
三、你能说出下图中各种物体的名称吗？（10分）



自测试题





四、请数一数,这块六面体积木上一共有多少个黄格子? 多少个蓝格子?
(15分)



自测试题



五、保护环境，人人有责，下图中哪些做得对？哪些不对？对的打√，错的打×。（10分）



自测试题




六、按第一行的图例想想下图“？”处应该填上什么图形？（15分）






七、小狗和小猴捡到了一只大葫芦，想一想，大葫芦可用来干什么？讲得越多越好。（10分）




自测试题



八、想一想,算一算。(20分)

3个小朋友同时吃3个汉堡包,用3分钟吃完,那么6个小朋友同时吃6个汉堡包需要几分钟吃完?



自测试题(十五)




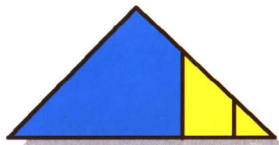

一、小兔的风筝被吹到树枝上了,朋友们要帮它取回风筝,它们该怎么取呢?(想的办法越多越好)(15分)



自测试题




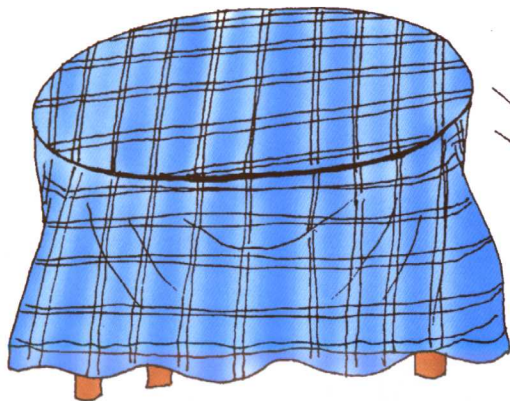

二、下列两组图都是按一定规律排列的，请根据这一规律在第二组的空白处填入合适的图形。(10分)



自测试题











三、两只杯子从桌上掉到地上，其中一只打碎了，另一只没有碎，你能说说这是怎么回事吗？（请合理想象）（15分）



自测试题



四、仔细观察下面两组图中横线上下的小花和▲，找找规律，想一想，在空格中应填几个小花或几个▲？请想一想。（10分）





五、捉迷藏。(15分)

森林里的小动物们在捉迷藏,请你看一看,说说它们分别藏在哪里?

提示:学会使用上、下、里、外等方位词。如“……藏在……”

