

幼儿学习天天练

趣味 数学

200

题

第 **五** 册

中国少年儿童出版社



趣味数学 300 题

第五册

文：周梅林

图：西眉工作室



中国少年儿童出版社

趣味数学 300 题

第五册



出版发行：中国少年儿童出版社

出版人：/

文字作者：周梅林

责任编辑：白雪静

美术编辑：刘静

绘 图：西盾工作室

责任印务：李书森

社 址：北京东四十二条 21 号 邮政编码：100708

电 话：086-010-64032266 传 真：086-010-64012262

24 小时销售咨询服务热线：086-010-84037667

印刷：北京北人羽新胶印有限责任公司 经销：新华书店

开本：880×1230 1/24 印张：2.5 印数：1—11000 册

2003 年 9 月北京第 1 版 2003 年 9 月北京第 1 次印刷

ISBN 7-5007-6754-4/G·5233

定价：5.00 元

图书若有印装问题，请随时向本社出版科退换

版权所有，侵权必究。

目 录



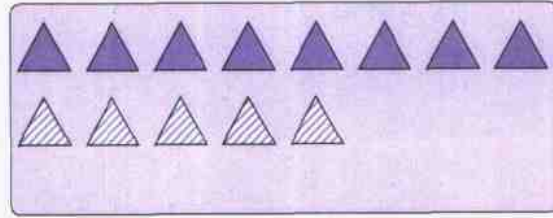

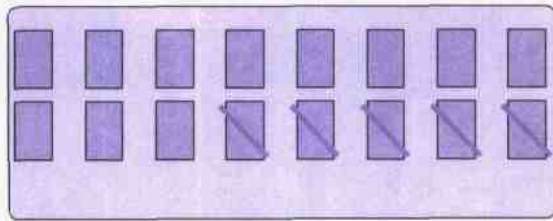
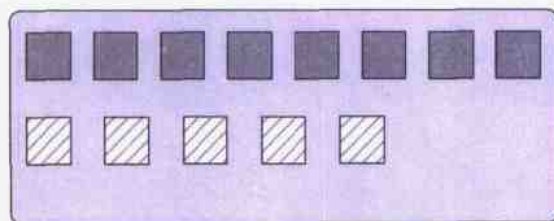

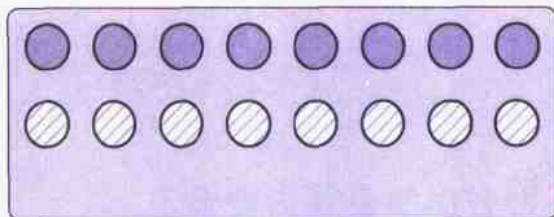

1. 列算式	1
练习一	2
2. 认识时钟	3
练习二	4
练习三	5
练习四	6
练习五	7
练习六	8
练习七	9
3. 判断对错	10
练习八	11
4. 学习二等分	12
练习九	13
练习十	14
练习十一	15
5. 学习图形等分	16
6. 学习四等分	17
练习十二	18
7. 学习数的等分	19
练习十三	20
练习十四	21
8. 考考你	22
练习十五	23
练习十六	24
9. 说一说、排一排	25
练习十七	26
10. 数的顺序	27


练习十八	28
11. 数数	29
练习十九	30
12. 说一说、找一找	31
13. 判断、推理	32
练习二十	33
14. 图形变化	34
练习二十一	35
练习二十二	36
练习二十三	37
练习二十四	38
练习二十五	39
15. 画图	40
练习二十六	41
16. 考考你	42
练习二十七	43
17. 认识左右	44
练习二十八	45
练习二十九	46
练习三十	47
练习三十一	48
18. 测量体重	49
19. 测量身高	50
练习三十二	51
20. 认识前后	52
21. 认识方位	53
22. 倒着数数	54
练习三十三	55
练习三十四	56



1. 列算式

请小朋友看图列算式。





练习一

请小朋友在 () 内填上适当的数字或符号。

$7 + 3 = (\quad)$

$16 + 3 = (\quad)$

$18(\quad)1 = 19$

$12 + (\quad) = 13$

$10 + (\quad) = 16$

$10(\quad)9 = 19$

$9 + 8 = (\quad)$

$10(\quad)1 = 9$


$10(\quad)7 = 3$

$6 + 5 = (\quad)$


$6(\quad)9 = 15$

$8 + (\quad) = 10$

想一想、试一试，在每幅图下面列出四道算式题来。



8、2、10



6、9、3



5、4、9

$2 + 8 = 10$

$8 + 2 = 10$

$10 - 8 = 2$

$10 - 2 = 8$



2. 认识时钟

多漂亮的时钟！请小朋友在表盘的○内填上相应的数字。





练习二

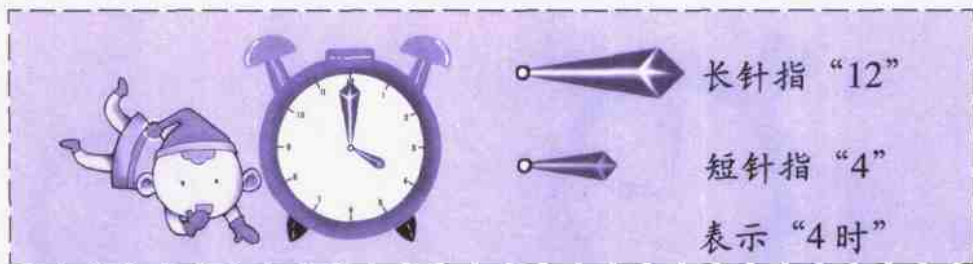
请小朋友找一找相同时刻的钟，然后把它们连起来。





练习三

请小朋友学习看时钟，然后在□里填写时间。



时



时



时



时



时



时



练习四

请小朋友在钟面上画出相应的时间。

3 时



2 时



7 时



9 时



5 时



10 时



8 时



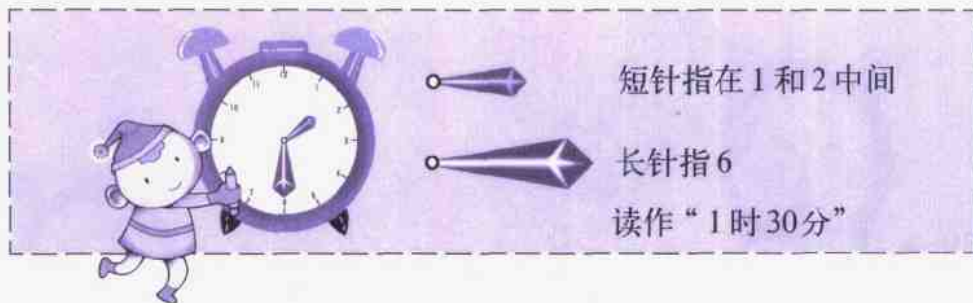
11 时





练习五


请小朋友学习看时钟，然后在□里填写时间。



时
分




时
分



时
分



时
分



时
分



时
分



练习六

请小朋友在钟面上画出相应的时间。



1 时 30 分



4 时 30 分



7 时 30 分



10 时 30 分

2 时 30 分



6 时 30 分



9 时 30 分



3 时 30 分





练习七

强强总在下面的时间里做不同的活动，请你帮助他把时间画在钟表上。



7:00



7:30



9:00




3:30





3. 判断对错

下面的小朋友正在报时，请在报对了的（ ）内画“√”，报错了的（ ）内画“x”。





练习八

请小朋友说一说哪只动物和哪只动物正在打电话？为什么？
请连线。





4. 学习二等分



请小朋友说一说哪些瓜菜能二等分？为什么？

