

九年义务教育三、四年制初级中学

历史地图填充图册

中国历史 第一册

人民教育出版社历史室 编著



人民教育出版社

____ 年级 ____ 班

姓名 _____

九年义务教育三、四年制初级中学

历史地图填充图册

中国历史 第一册

____ 年级 ____ 班

姓名 _____

人民教育出版社

审 阅 朱明光 马执斌
责任编辑 杨 云
版式设计 冯式一

九年义务教育三、四年制初级中学
历史地图填充图册
中国历史第一册
人民教育出版社历史室 编著

*

人民教育出版社出版发行
(北京沙滩后街55号 邮编: 100009)
网址: <http://www.pep.com.cn>
北京出版社重印
北京市新华书店发行
北京方圆印刷有限责任公司印刷

*

2001年5月第1版 2003年6月第3次印刷
开本 787×1092 1/16 印张 1.75
印数 1—42 500

ISBN 7-107-14592-4 定价: 2.99元
G·7682 (课)

如发现印装质量问题影响阅读请与北京出版社书店联系
电话: 62050948

编辑说明

一、《九年义务教育三、四年制初级中学历史地图填充图册》是根据人民教育出版社新修订的九年义务教育初级中学历史教科书编绘的。这套地图填充图册是以教科书为基础的系列化用书，共分六册，包括中国历史四册，世界历史二册，供“六·三”、“五·四”两种学制的初级中学学校使用。

二、这套填充图册以填充地图为主，还增加了配合地图填充的其他内容，以供学生练习填写。目的是帮助学生加深对课文内容的理解和记忆，增强学生从空间概念上把握历史事件和历史现象的能力。

三、本册为历史地图填充图册中国历史第一册，共 12 幅图。敬请老师和同学们使用时提出宝贵意见，以便再版时进一步完善。我们的通讯地址是：北京沙滩后街 55 号，邮政编码：100009。

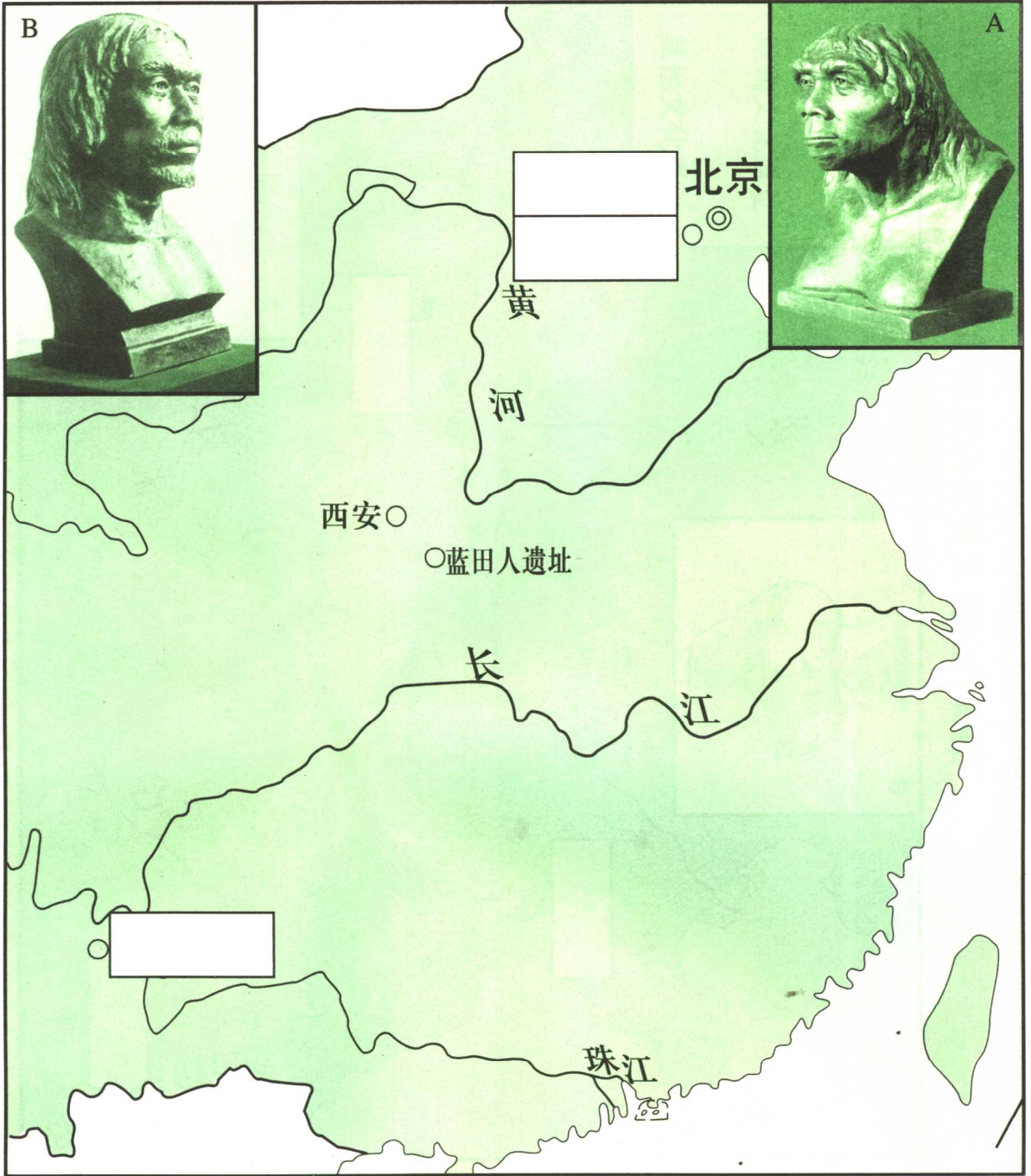
人民教育出版社历史室

2001. 6

目 录

1. 我国远古人类主要遗址分布图	1
2. 我国氏族公社重要遗址分布图	3
3. 商统治区域示意图	5
4. 西周初年形势图	7
5. 春秋列国形势图	9
6. 战国形势图	11
7. 秦朝疆域图	13
8. 秦末农民战争形势图	15
9. 汉朝关中水利图	17
10. 张骞通西域路线示意图	19
11. 三国鼎立形势图	21
12. 西晋内迁各族分布图	23

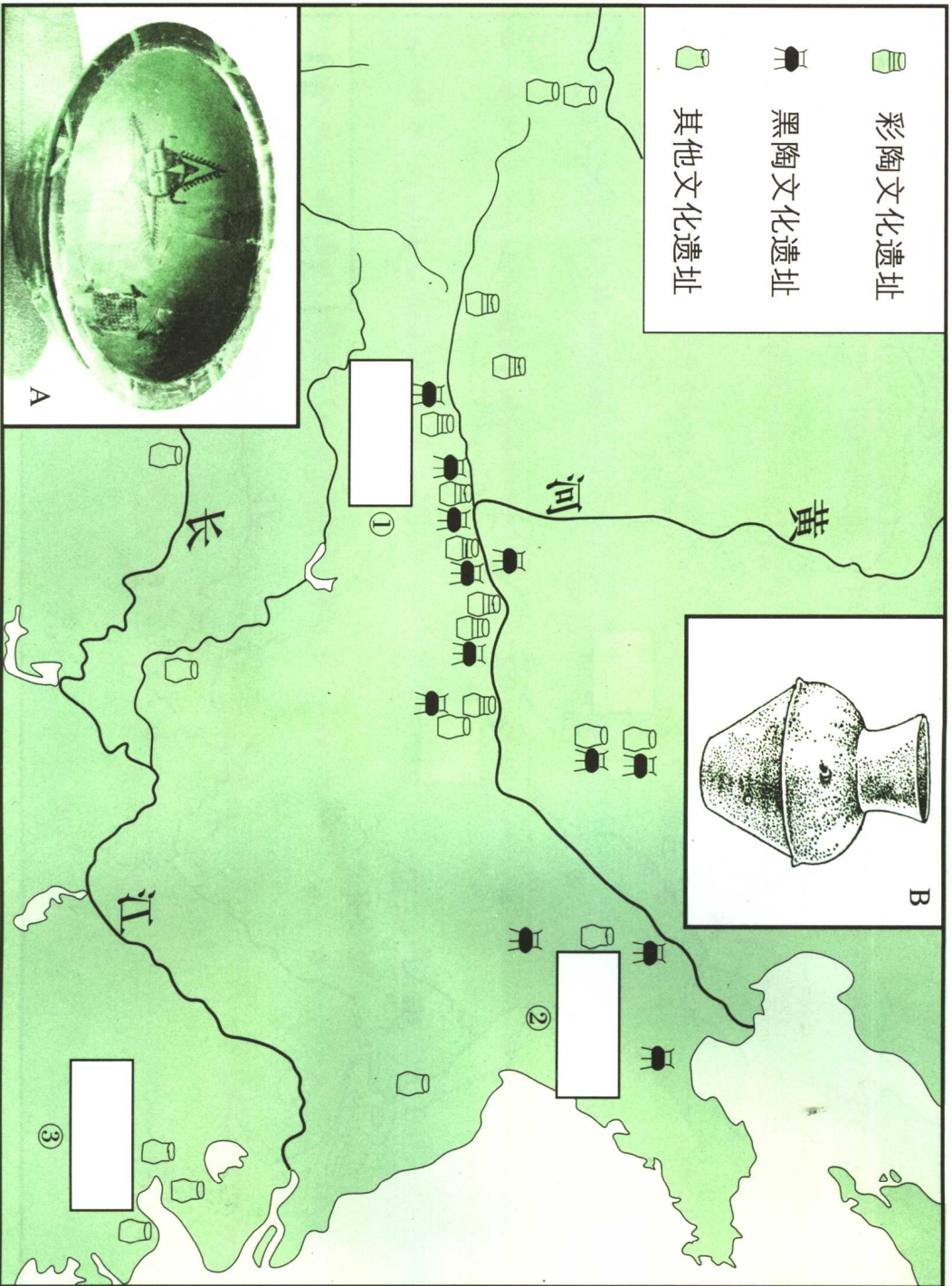
我国远古人类主要遗址分布图



一、填充

1. 在地图长方框中填写我国远古人类遗址的名称。
2. 识别 A、B 两图，用直线连接各自的遗址。

我国氏族公社重要遗址分布图



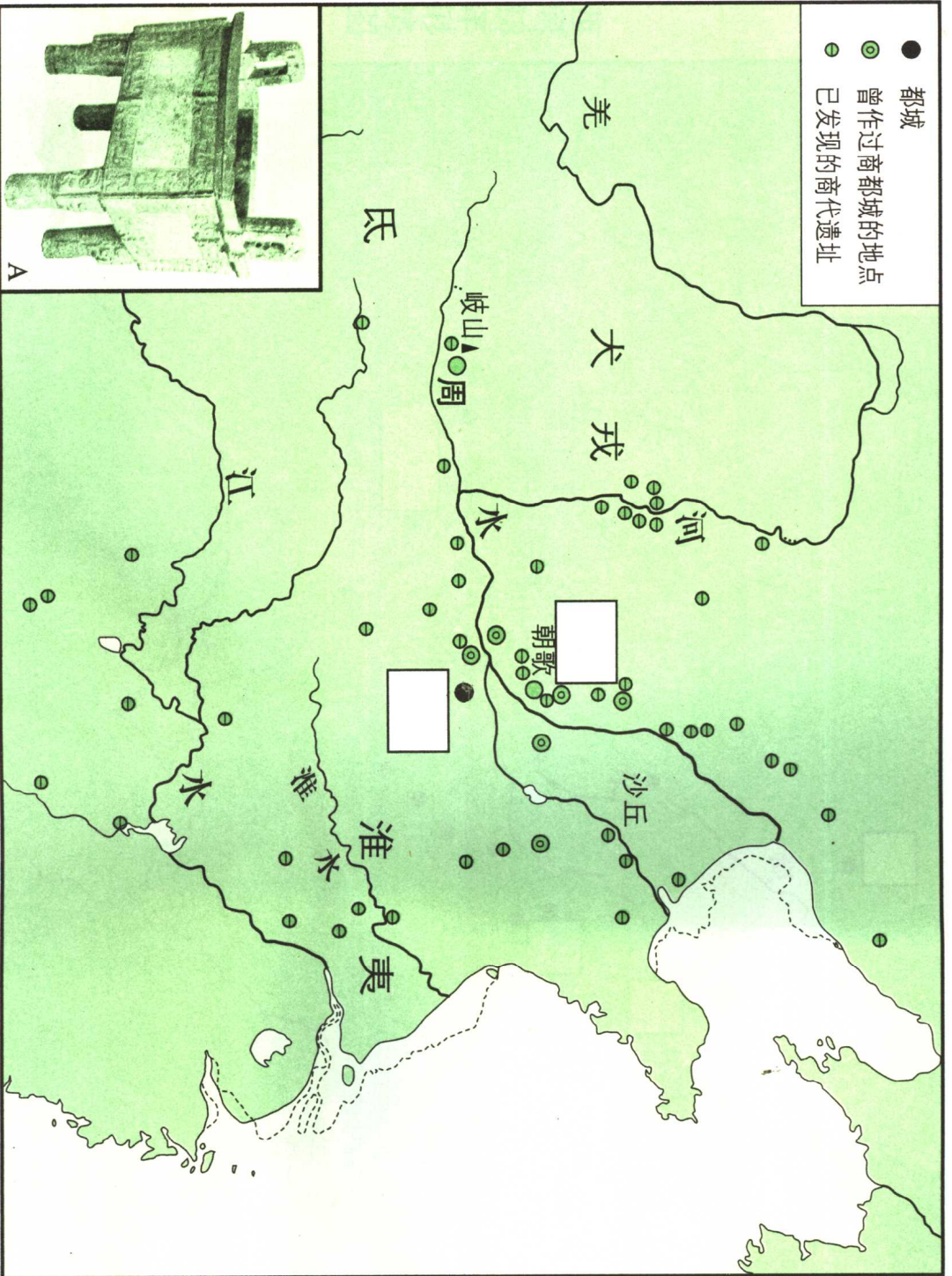
一、填充

1. 在地图长方形中填出遗址名称。

2. 填写遗址①的原始居民距今____年，遗址③的居民距今____年，他们都处于____氏族公社时期。遗址②的居民处于____氏族公社时期。

二、识别 A、B 两图，用直线连接各自的出土地点。

商统治区域示意图

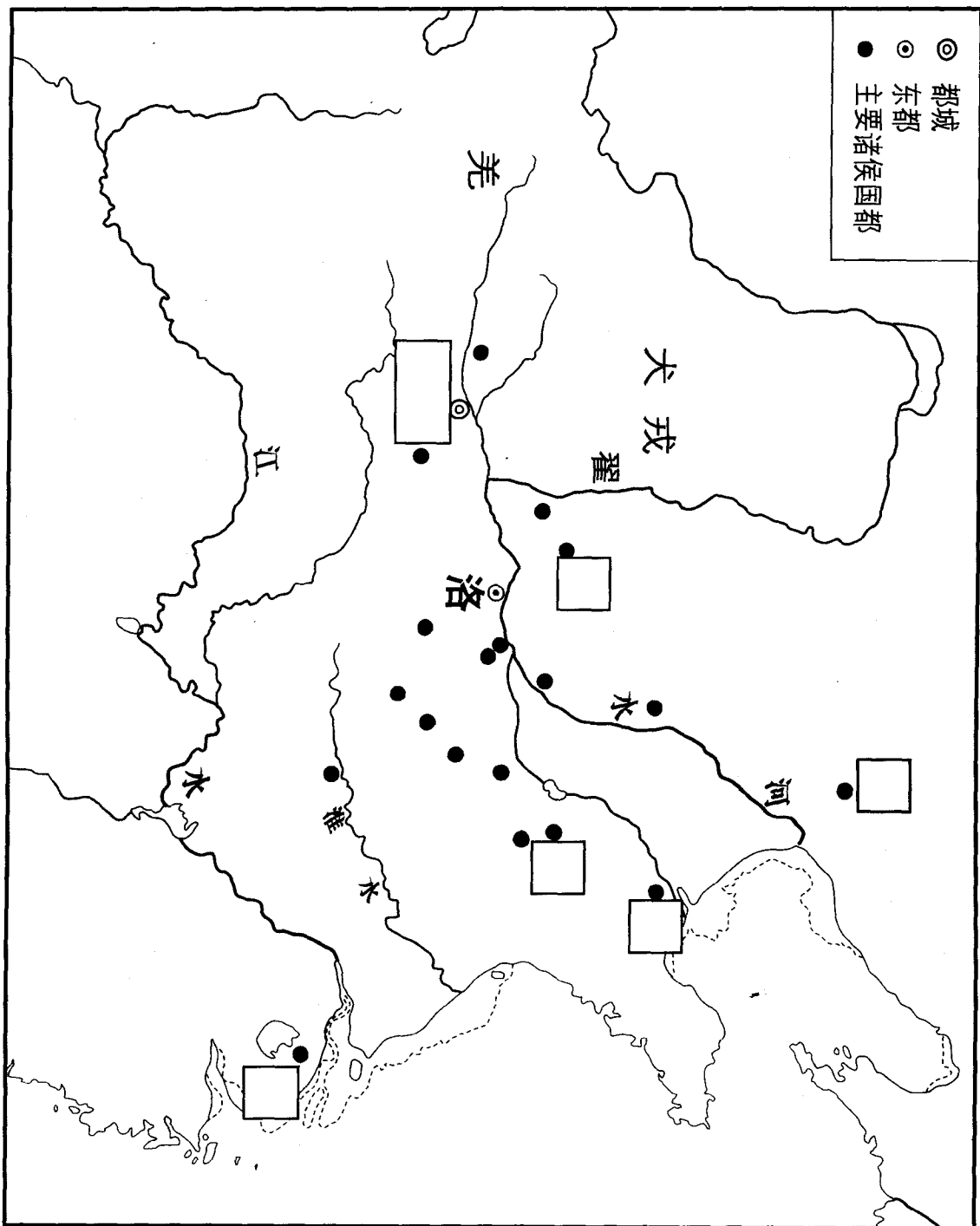


一、填充

在图中方框内填写商朝都城相应的名称。在商朝前期都城处加“▲”，在商朝后期都城处加“X”。

二、识别图 A，用直线将图 A 与其出土的地点连接起来。

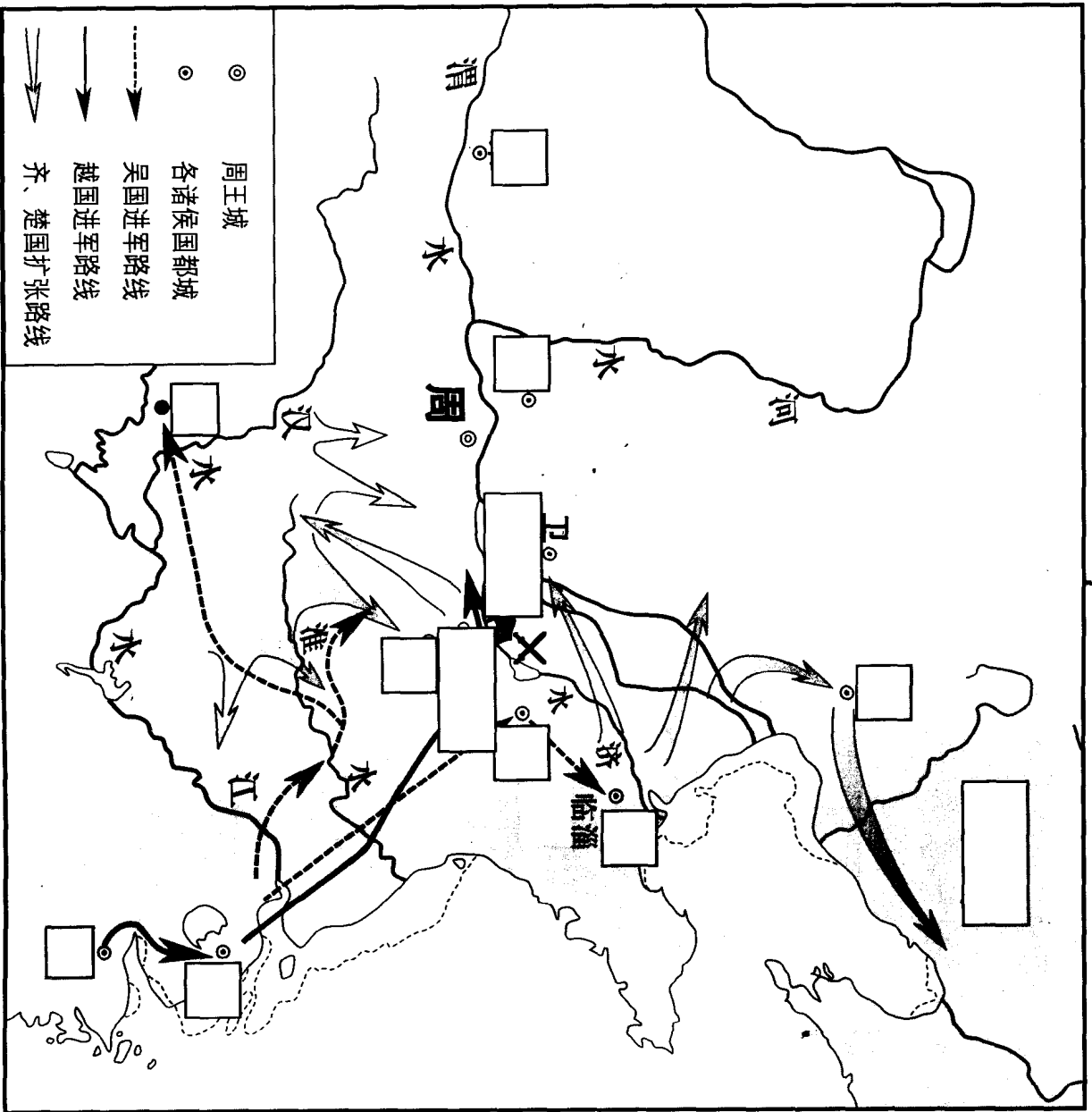
西周初年形势图



◎ 都城
 ⊙ 东都
 ● 主要诸侯国都

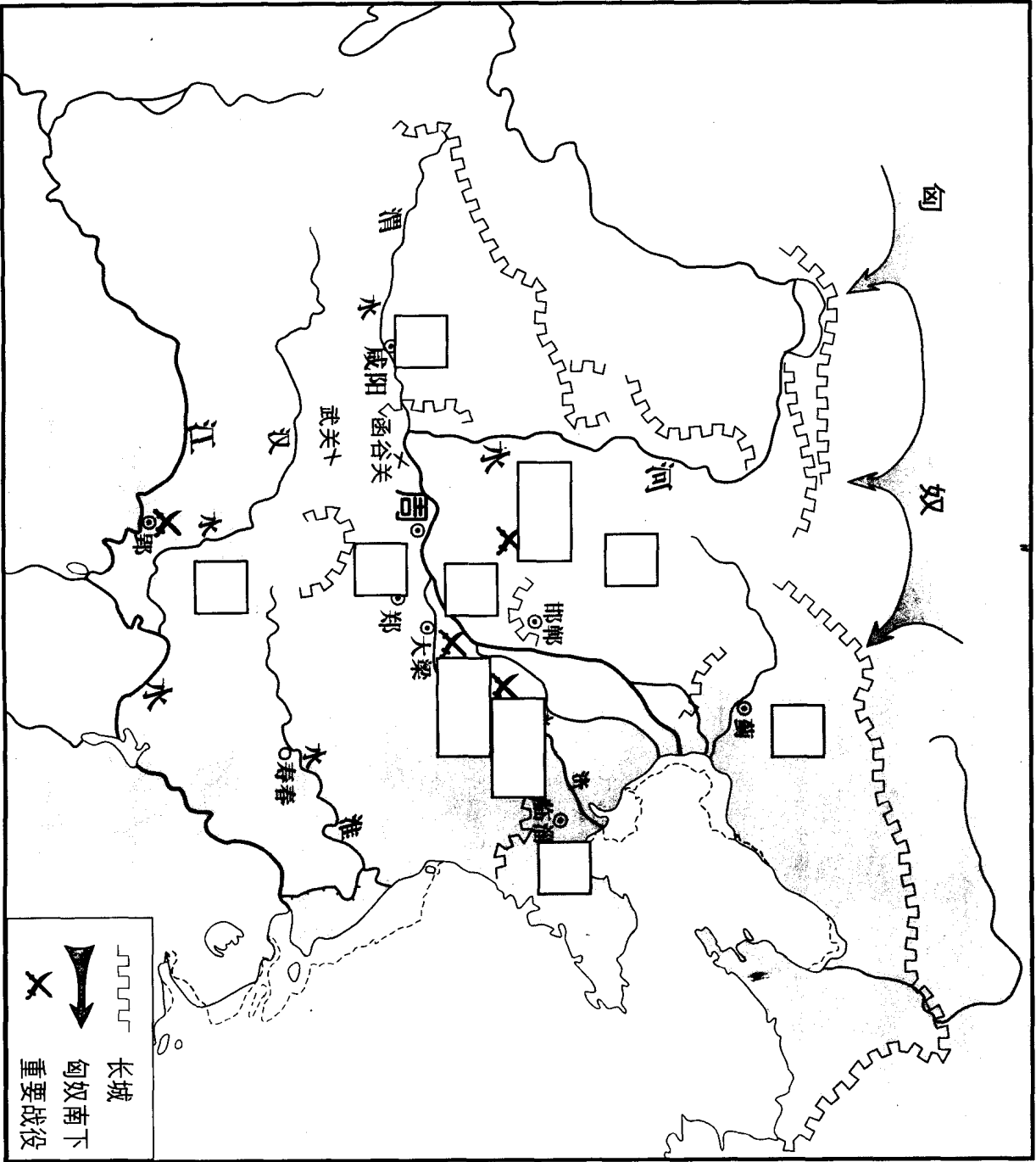
- 一、填充
1. 在图中正方形内填写西周初年的主要诸侯国。
 2. 在图中长方形内填写西周都城的名称。

春秋列国形势图



- 一、填充
1. 在地图正方形框内填写春秋时期的主要诸侯国。
 2. 在图中长方形框内填写，公元前7世纪后期，晋军打败楚军称霸中原的战场所在地名称。

战国形势图



- 一、填充
1. 在图中正方形框内填写战国时期主要国家名称。
 2. 在图中长方形框内填出发生重要战役的桂陵、马陵、长平三个地名。

