



最新儿童 智力考级

(观察篇)



A



B



C



考试分ABC三级
看你成绩好不好

最新儿童智力考级

(观察篇)

陈骏 编写

顾燕华 绘画

张怡 装帧

责任编辑 金建华 美术编辑 张怡

少年儿童出版社出版发行	开本 787 × 1092 1/16
上海延安西路 1538 号	印张 4
邮政编码 200052	2003 年 4 月第 1 版
全国新华书店经销	2003 年 4 月第 1 次印刷
上海市印刷十厂印刷	印数 1-15,000

网 址: www.jcph.com

电子邮件: postmaster@jcph.com

ISBN7-5324-5346-4/Z·197(儿) 定价: 10.00 元

最新儿童智力考级



(观察篇)

陈骏 编写
顾燕华 绘画



少年儿童出版社

1

b 像什么? 要最少说出 5 种哦。

b



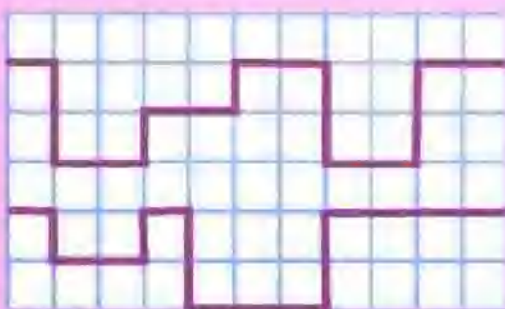
2

哪个是猫的影子呢?



3

小狗、小猫回家去, 它们谁走的路长?



4

A、B 两幅图中, 共有 9 个地方不一样, 请找出来。





A



B

5

5 幅小图, 分别在大图中的什么位置?



6

谁是主人，请至少说出四种理由。



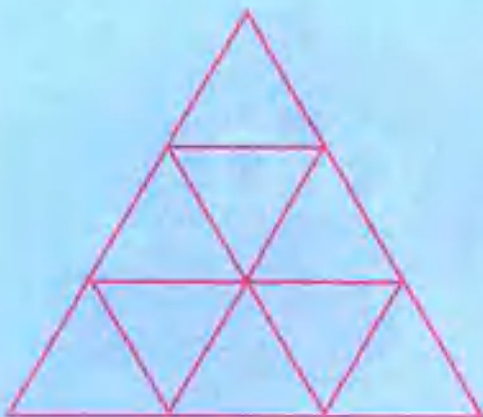
7

秋天来了，树叶从树上掉下来了。请找出两张一模一样的树叶。



8

数一数，图中共有几个三角形？



答案：①流星、哨子、手机、数字6等。②第3个影子。③小狗走的路长。④E1、E7、B7、F9、E3。⑤小女孩是主人。⑥13个。

等级评判标准：

答对7题以上者得A；

答对4题以上6题以下者得B；

答对3题以下者得C。

我的成绩：()

1

请找出隐藏在图中的
8只小动物。



2

小狗、小猫和小羊拿着气
球去野外玩。突然刮来一阵大
风，把拴气球的线全搅在了一起。
你能看出小狗、小猫和小羊
各有几个气球吗？



3

请以最快的速度，找出隐藏在图中
的帽子、袜子、望远镜、牙刷。



4

树上有6只鸟，后来又飞
来了几只鸟？



5

请找出图中不属于昆虫的一种动物。



6

蓝盆子里有5颗糖，红盆子里有8颗糖，往蓝盆子里再放几颗糖，两个盆子里的糖就一样多了？



7

瓶花外哪些花和叶子和瓶花中的一样？请连线。



8

A、B、C中，哪一张是上面这张底片的照片？



A



B



C



答案：②小狗有4个气球，小猫有6个气球，小羊有5个气球。④3只。⑤蜘蛛。⑥3颗。⑧A。

等级评判标准：

答对7题以上者得A；

答对4题以上6题以下者得B；

答对3题以下者得C。

我的成绩：（ ）

1

大图上面三张小图，是从大图中分离出来的，但每张小图中都多了些东西，请你找出来。



A



B



C



2

这两幅图中，共有5个地方不同，请找出来。



3

池塘里有几只青蛙?



4

这是真实的照片，还是特技照片，为什么?



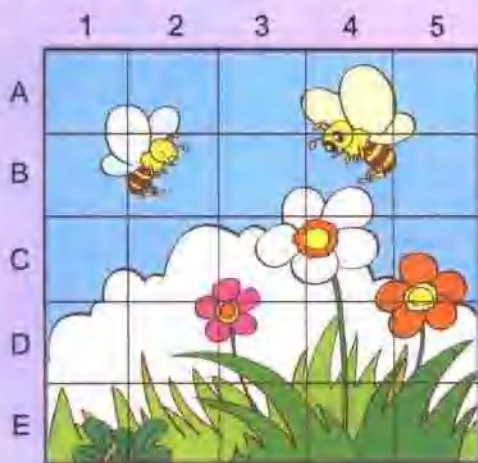
5

马路上的小汽车真多啊，请找出两辆一模一样的小汽车。



6

图中有3个小方格里的图案完全相同，你能找出来吗？



7

明明和丽丽画了许多动物画，有不少是重复的，只有一种动物没有重复，是哪一种？



8

圆外的A、B、C、D、E、F、G、H、I 9块图形，分别与圆内哪几块完全相同？



答案：①A图中多了中间的树叶；B图中多了一滴眼泪；C图中多了一张树叶。②4只。③特技照片。因为汽车不可能超过飞机。④A1、C1、B3。⑤兔子。⑥A=1；B=3；C=7；D=10；E=12；F=5；G=14；H=8；I=13。

等级评判标准：

答对7题以上者得A；

答对4题以上6题以下者得B；

答对3题以下者得C。

我的成绩：()

1

这两幅图中，共有5处不同，你能找出来吗？




2

“有时像个盘，有时像小船，白天不出面，晚上才看见。”猜猜这是什么？




3

小军在给机器人写生时，共有7个地方画得不一样，请找出来。




4

3幅小图中，2幅相同，1幅不同，请把那幅不同的小图找出来。



5

4幅小图，分别位于大图中的什么位置呢？请连线。



6

请找出图中不同类的一种动物。



8

6幅小图分别在大图的什么位置上，你能把它们一一找出来吗？



A



B



C



D



E



F

7

请找出图中不属于鱼的动物。



答案：②月亮。④A。⑥蜻蜓。⑦海豚和鲸不是鱼，是哺乳动物。⑧6幅小图从A至F分别为：C2, H4, F3, C3, D1, C1。

等级评判标准：

答对7题以上者得A；

答对4题以上6题以下者得B；

答对3题以下者得C。

我的成绩：()

1

“一顶小伞，落在林中，
一旦撑开，再难收拢。”猜猜
这是什么？




2

这两幅图中，有3处相似的地
方，请找出来。



3

这张信封有一个差错，请找出来。



4

花园里有谁？后来又来了谁？



5

这两幅图中共有6处不同，
请找出来。



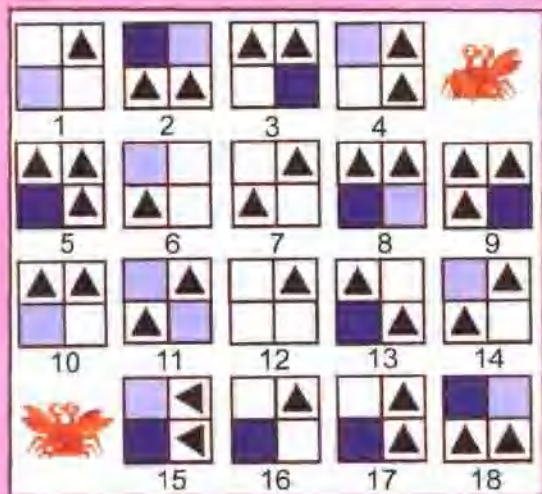
6

图中红色的气球多，
还是白色的气球多？



7

请找出图中3个图形位置
完全相同的图案。



8

从上数起，排在第5
个的是谁？



答案：①蘑菇。③邮政编码
是6位数，少画了一个方格。
④花园里有小狗、小鸡、小
猫、小兔、小鱼。②
后来又来了蚯蚓、
小乌龟。⑥红色
的气球多。⑦2、
15、18。⑧小牛。



等级评判标准：

答对7题以上者得A；

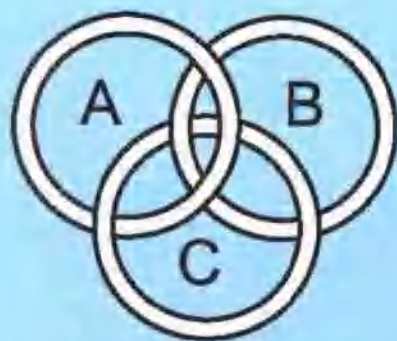
答对4题以上6题以下者得B；

答对3题以下者得C。

我的成绩：()

1

剪断哪个环，就能使三个环都散开呢？



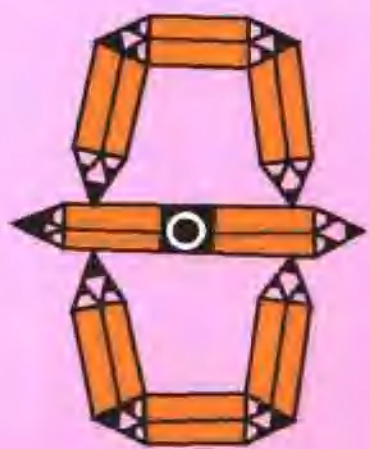
2

每张画和其他3张相比，都有一个地方不同，请找出来。



3

这个图案是由多少支铅笔(一头削尖)组成的？



4

这两幅图中共有5个地方不同，请找出来。



5

拿掉4张卡片中的哪一张，就能使剩下的3张卡片中的字母组成一个表示数字10的英文单词？



6

这3盆花在窗台上已经放了好几个月，其中有一盆是假花，请指出是哪一盆？




7

“远看像只猫，夜间捉田鼠，近看像只鸟，白天睡大觉。”这说的是什么动物呢？



8

图中每只小鸭和其他小鸭相比有一个明显不同的地方，请找出来。



答案：① C环。② A：无短裤裤边；B：无拖鞋带子；C：无眼镜脚；D：无衣服纽扣。③ 30支。④ 拿掉写有字母O的卡片，其他三张组成英文单词ten。⑤ 中间一盆。⑥ 猫头鹰。⑦ 每只小鸭身上的号码不同。

等级评判标准：

答对7题以上者得A；

答对4题以上6题以下者得B；

答对3题以下者得C。

我的成绩：()

1

请用3条直线，把图中的10条鱼分成5组，使每组都是2条鱼。



2

请把圆圈中的数字，按从大到小的顺序排列，写在横线上。



3

神箭手射了6支箭，其中有1支没有射穿南瓜，请找出来。



4

小猫用力将钓竿提起来时，有几只圈会掉到河里去？



5

请找出两图中5处不同的地方。



6

请找出隐藏在图中的老鼠、小鸡、兔子和小鸟。



7

图中共画错了4个地方，请找出来。



8

小兔打电话请朋友们来参加聚会，看看谁没有来呢？



答案：② 18, 16, 15, 8, 7, 4, 3, 1, 0。③ 4号箭。④ 一只。⑦ 兔子尾巴；公鸡脚；鱼在岸上；鸭嘴。⑧ 小鸡没有来。

①



等级评判标准：

答对7题以上者得A；

答对4题以上6题以下者得B；

答对3题以下者得C。

我的成绩：()