

请用  
神秘解题卡

# 幼儿天天练



## 加法



$1 + 0 =$



$2 + 4 =$

$5 + 1 = \square$


鸭子有耳朵吗?



中国少年儿童出版社

## YOU ER TIAN TIAN LIAN

---

◆ 出版发行：中国少年儿童出版社  
出版人：

---

作者：吴仁佑  
责任编辑：韩娟

美术编辑：太阳花儿童工场  
责任印务：栾永生

---

社址：北京东四十二条21号  
电话：086-010-64032266

邮政编码：100708  
传 真：086-010-64177391

---

印刷：北京中国人民大学印刷厂  
开本：787×1092 1/16

经销：新华书店  
印张：2

---

2003年7月北京第1版

2003年7月北京第1次印刷  
印数：20000册

---

ISBN 7-5007-6477-4/G·5040

定价：36.00元（全六册）


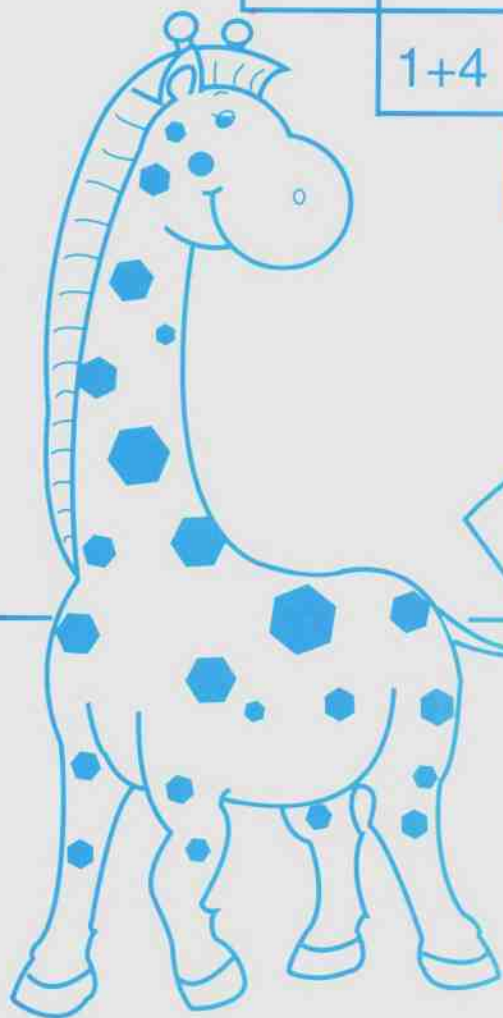
---

图书若有印装问题，请随时向印刷厂退换。  
版权所有，侵权必究。












# 基础加法运算



1+1	2+1	3+1	4+1	5+1	6+1	7+1	8+1	9+1
	1+2	2+2	3+2	4+2	5+2	6+2	7+2	8+2
		1+3	2+3	3+3	4+3	5+3	6+3	7+3
			1+4	2+4	3+4	4+4	5+4	6+4
				1+5	2+5	3+5	4+5	5+5
					1+6	2+6	3+6	4+6
						1+7	2+7	3+7
							1+8	2+8
								1+9



请将正确的数字填在每幅图的空格里。

 <input type="text"/> 	 <input type="text"/> 
 <input type="text"/> 	 <input type="text"/> 
 <input type="text"/> 	<p>小知识</p>  <p>鸭子有耳朵吗?</p>



图上有什?分别是几?请把相应的数字填在后面的空格里



1 2 3 4 5



1 2 3 4 5



1 2 3 4 5



1 2 3 4 5


















1 2 3 4 5



1 2 3 4 5



想一想, 看谁算得又快又好

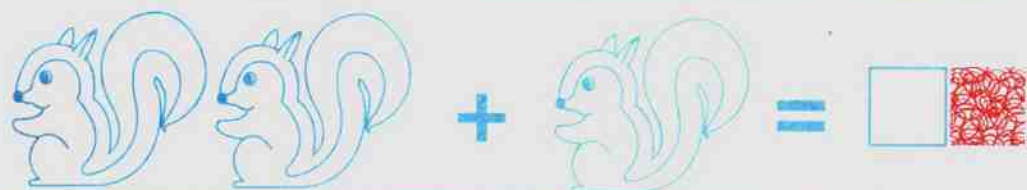
	+		=	<input type="text"/>	
	+		=	<input type="text"/>	
	+		=	<input type="text"/>	
	+		=	<input type="text"/>	
	+		=	<input type="text"/>	

小知识







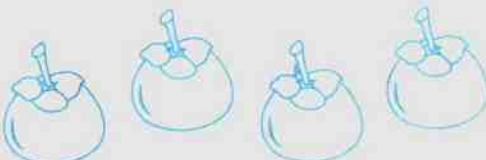








动物世界中谁跑得最快?



请你用最快的时间把答案写在空格里




你能马上把答案写出来吗?

	+		=	<input type="text"/>	
	+		=	<input type="text"/>	
	+		=	<input type="text"/>	
	+		=	<input type="text"/>	
	+		=	<input type="text"/>	

小知识

蚂蚁可以搬动多重的物体?




















看一下,做完这几道题,一共用了几分钟?



想一想,看谁算得又快又好

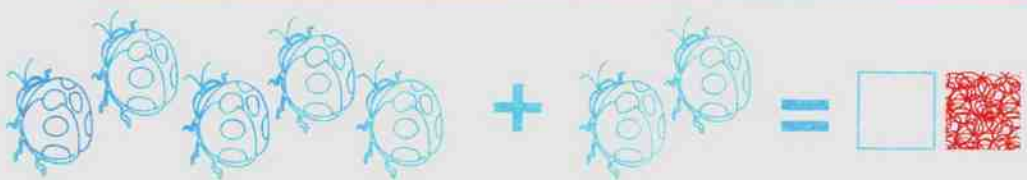
	+		=	<input type="text"/>	
	+		=	<input type="text"/>	
	+		=	<input type="text"/>	
	+		=	<input type="text"/>	
	+		=	<input type="text"/>	

小知识












珍珠是怎样形成的?



你能做对这几道题吗？



苹果上的数字可以分为几和几?想一想,还有没有其它的分法?

 <p>5</p> <p>4</p> <input data-bbox="532 511 611 590" type="text"/> 	 <p>4</p> <p>2</p> <input data-bbox="1085 511 1164 590" type="text"/> 
 <p>3</p> <p>3</p> <input data-bbox="532 952 611 1031" type="text"/> 	 <p>2</p> <p>1</p> <input data-bbox="1085 952 1164 1031" type="text"/> 
 <p>1</p> <p>0</p> <input data-bbox="532 1393 611 1472" type="text"/> 	<p>小知识</p>  <p>狗的祖先是谁?</p>



请你用最短的时间,把答案写在空格里

$2 + 1 = \square$  

$3 + 1 = \square$  

$2 + 3 = \square$  

$1 + 4 = \square$  

$4 + 1 = \square$  

$4 + 0 = \square$  

$3 + 2 = \square$  

$1 + 1 = \square$  

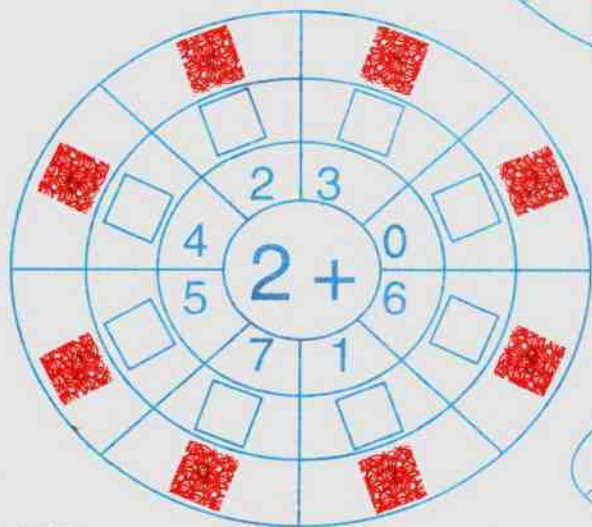
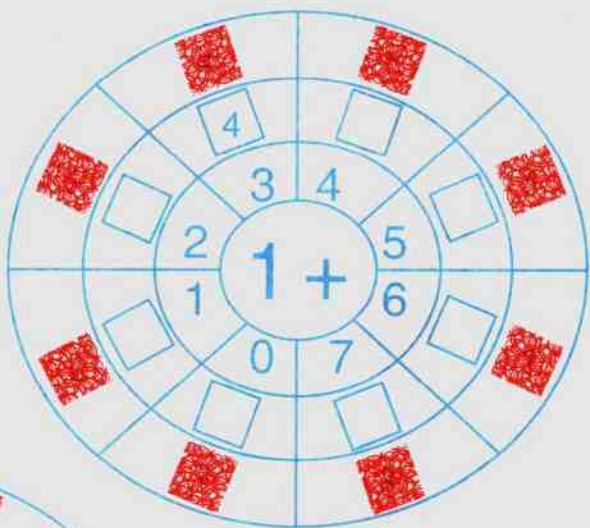
$1 + 3 = \square$  

$5 + 0 = \square$  

$0 + 1 = \square$  


$1 + 2 = \square$  

按照例题, 请你把答案填在相应的空格里



小知识

最像人的动物是什么?



请你将正确的数字填在空格里

$3 + \square = 5$

$4 + \square = 4$

$1 + \square = 3$

$6 + \square = 7$

$2 + \square = 4$

$5 + \square = 8$

$4 + \square = 5$

$3 + \square = 9$

$5 + \square = 6$

$2 + \square = 5$

$1 + \square = 2$

$4 + \square = 6$

算一算,然后将正确的数字填在空格里。

$$\square + 2 = 5$$



$$\square + 3 = 4$$



$$\square + 4 = 4$$



$$\square + 0 = 2$$



$$\square + 3 = 6$$



$$\square + 7 = 7$$



$$\square + 1 = 2$$



小知识


穿山甲有牙齿吗?



$$\square + 0 = 1$$




$$\square + 5 = 7$$





认真想一想,一步一步算,把答案写在空格里。

$1 + 1 + 3 = \square$ 


$4 + 3 + 1 = \square$ 

$2 + 4 + 1 = \square$ 


$2 + 1 + 2 = \square$ 


$3 + 3 + 3 = \square$ 


$1 + 5 + 1 = \square$ 

$4 + 2 + 3 = \square$ 

$3 + 0 + 1 = \square$ 

$5 + 0 + 3 = \square$ 

$6 + 1 + 2 = \square$ 

$1 + 5 + 4 = \square$ 

$1 + 3 + 2 = \square$ 