



大树指计划 幼儿认知系列

9

学减法

XUE JIAN FA

$$2-1=1$$



湖北美术出版社

图书在版编目 (CIP) 数据

学减法/拇指龙工作室编著.
-武汉:湖北美术出版社,2002.12
(大拇指计划幼儿认知系列)
ISBN 7-5394-1311-5

I. 学...

II. 拇...

III. 算术课-学前教育-教学参考资料

IV. G613.4

中国版本图书馆CIP数据

核字(2002)第084703号

责任编辑:姜晓鹏

美术编辑:韩方

美术绘图:曾刚

韩方

汤玲

曾瑜

彭红梅

整体设计:拇指龙工作室



出版发行:湖北美术出版社

地址:武汉市武昌黄鹄路75号

邮编:430077

电话:(027)86787105

经销:新华书店

印制:湖北新华印务有限公司

开本:889mm×1194mm 1/20

印张:1.6

印数:8000册

版次:2003年1月第1版

2003年1月第1次印刷

ISBN 7-5394-1311-5/G · 51

全套十本定价:50.00元

单册定价:5.00元

尊敬的家长：

每一个宝宝都是天生的探索者，从他们第一次睁开眼睛，就开始了学习。望子成龙，不让孩子输在起跑线上是每一位家长的心愿。在宝宝的成长过程中，相信您最担心的就是宝宝可能会对学习知识产生厌烦心理。怎样做才能让孩子主动愉快地学习？我们根据国家学前教育大纲及幼儿心理教育相关科学理论，特别开发了这套切合当代幼儿心理的综合教育丛书。

《“大拇指计划”幼儿认知系列》旨在改变填鸭式的幼儿教育模式，通过引导幼儿对各种事物的观察激发他们学习的兴趣，变被动学习为主动学习。培养幼儿发现问题、分析问题、解决问题的能力，从而挖掘出幼儿的巨大潜能。强调幼儿主动认识世界，提高幼儿的想像力，使幼儿在认知、情感、心理、智力方面得到均衡发展。

学减法




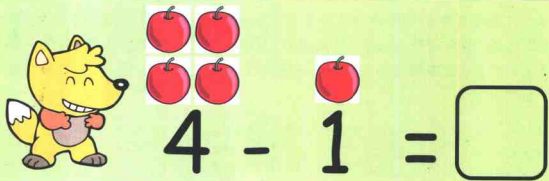
让孩子在游戏中快乐地成长



看谁吃的多



小灰和小黄分别有四个苹果，小灰吃了3个，小黄吃了1个，请问它们各剩下几个？



谁剩下的最多？请打钩





勤劳小蜜蜂

大蜂巢里的蜂蜜是三只小蜜蜂共同采的，那么你能根据提示算出其中一只采了多少蜜吗？



$$9 - 3 - 2 = \square$$





$$9 - 4 - 2 = \square$$



还剩下多少



这些你都吃过吗？减一减看看还剩下多少？





神秘的我

我可是很神秘的哦，你能根据下列给出的提示发现我是谁吗？



我比5大，比8大，但是比10小。 我是

我是5与2相减的值。

我是

我是7减去1再减去2的值。

我是

标靶练习



小朋友，请从给出的
3个数字中选出两个使等
式成立，正中靶心。

7 4 2

$$\square - \square = 5$$



9 5 6

$$\square - \square = 3$$





谁比谁少

比比看，下列哪一组少？少多少呢？



5



4

$$\square - \square = \square$$



7



9

$$\square - \square = \square$$



减法蛇



10

9

8

7

1

1

1

小朋友，减法蛇的下半部分由你填上，根据左上图的提示，你知道该怎样填吗？

9

8

7

6

7

5

3

1


学
减
法



奇妙大十字

你能从给出的数字中选出4个放入大十字中，让它们上与下、左与右分别相减为1吗？

8 1 7 9 6



减法大比拼



小朋友，做过了前面的减法，下面这些题你能做出来吗？

$3 - 2 = \square$

$3 - 1 = \square$

$2 - 2 = \square$

$4 - 2 = \square$

$4 - 4 = \square$

$10 - 1 = \square$



减法大比拼

左边的题做完了吗？如果一个没错的话，那这边的连减法可是又一次大挑战哦！鼓起勇气吧，我相信你都能做对！！

$$8 - 3 - 3 = \square \quad 8 - 2 - 5 = \square$$

$$6 - 3 - 2 = \square \quad 9 - 7 - 1 = \square$$


$$4 - 3 - 1 = \square \quad 7 - 4 - 2 = \square$$



看谁吃的多



小红和小黄分别有3串葡萄，小红吃了1串，小黄吃了2串，请问它们各还剩下几串？



$$3 - 2 = \square$$



$$3 - 1 = \square$$

谁剩下的最多？请打钩





勤劳小蜜蜂

大蜂巢里的蜂蜜是三只小蜜蜂共同采的，那么你能根据提示算出其中一只采了多少蜜吗？



$$8 - 3 - 3 = \square$$



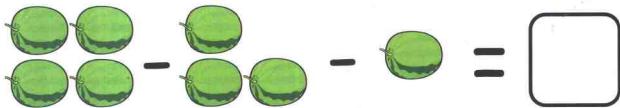
$$8 - 2 - 5 = \square$$



还剩下多少



这些水果你都吃过
吗？减一减看看还剩下
多少？





神秘的我

我可是很神秘的哦，你能根据下列给出的提示发现我是谁吗？



我比1大，比3大，但是比5小。
我是

我是6与3相减的值。

我是

我是9减去8再减去1的值。

我是

