

请用
神秘解题卡

幼儿天天练



除法



$$8 \div 2 =$$

$$4 \div 1 =$$

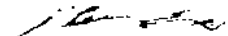
$$6 \div 3 =$$



犀牛是食肉动物吗？



YOU ER TIAN TIAN LIAN

◆ 出版发行：中国少年儿童出版社
出版人：

作者：吴仁佑
责任编辑：韩娟

美术编辑：太阳花儿童工场
责任印务：栾永生

社址：北京东四十二条21号
电话：086-010-64032266

邮政编码：100708
传真：086-010-64177391

印刷：北京中国人民大学印刷厂
开本：787×1092 1/16

经销：新华书店
印张：2

2003年7月北京第1版


2003年7月北京第1次印刷
印数：20000册

ISBN 7-5007-6477-4/G·5040

定价：36.00元（全六册）

图书若有印装问题，请随时向印刷厂退换。
版权所有，侵权必究。

用乘法口诀求商



一一得一									
一二得二	二二得四								
一三得三	二三得六	三三得九							
一四得四	二四得八	三四十二	四四十六						
一五得五	二五一十	三五十五	四五二十	五五二十五					
一六得六	二六十二	三六十八	四六二十四	五六三十	六六三十六				
一七得七	二七十四	三七二十一	四七二十八	五七三十五	六七四十二	七七四十九			
一八得八	二八十六	三八二十四	四八三十二	五八四十	六八四十八	七八五十六	八八六十四		
一九得九	二九十八	三九二十七	四九三十六	五九四十五	六九五十四	七九六十三	八九七十二	九九八十一	

除一除,看谁算得又快又好

$$\begin{array}{r} \square \\ 2 \overline{) 10} \end{array}$$

$$\begin{array}{r} \square \\ 3 \overline{) 15} \end{array}$$

$$6 \div 2 = \square$$

$$12 \div 2 = \square$$

$$8 \div 2 = \square$$

$$3 \div 3 = \square$$

$$2 \div 2 = \square$$

$$6 \div 3 = \square$$

小知识

$$\begin{array}{r} \square \\ 3 \overline{) 12} \end{array}$$

$$\begin{array}{r} \square \\ 2 \overline{) 14} \end{array}$$


$$\begin{array}{r} \square \\ 2 \overline{) 12} \end{array}$$

$$\begin{array}{r} \square \\ 2 \overline{) 8} \end{array}$$











$$\begin{array}{r} \square \\ 3 \overline{) 9} \end{array}$$









$$\begin{array}{r} \square \\ 2 \overline{) 6} \end{array}$$

狐和狸是相同的动物吗?



比一比,想一想,算出答案。

  =  	  =  
$4 \div 2 = \square$ 	$6 \div 2 = \square$ 

  =  	\square  $2 \overline{) 4}$ \square  $2 \overline{) 6}$ \square  $2 \overline{) 8}$
$8 \div 2 = \square$ 	

除一除,看谁算得又快又好。

$$\begin{array}{r} \square \\ 3 \overline{) 12} \end{array}$$

$$\begin{array}{r} \square \\ 3 \overline{) 18} \end{array}$$

$$\begin{array}{r} \square \\ 2 \overline{) 18} \end{array}$$

$$\begin{array}{r} \square \\ 3 \overline{) 15} \end{array}$$

$$\begin{array}{r} \square \\ 2 \overline{) 12} \end{array}$$

$$\begin{array}{r} \square \\ 2 \overline{) 14} \end{array}$$

$$\begin{array}{r} \square \\ 3 \overline{) 9} \end{array}$$

$$\begin{array}{r} \square \\ 2 \overline{) 16} \end{array}$$

$$14 \div 2 = \square$$

$$10 \div 2 = \square$$

$$6 \div 2 = \square$$

$$6 \div 3 = \square$$

$$4 \div 2 = \square$$

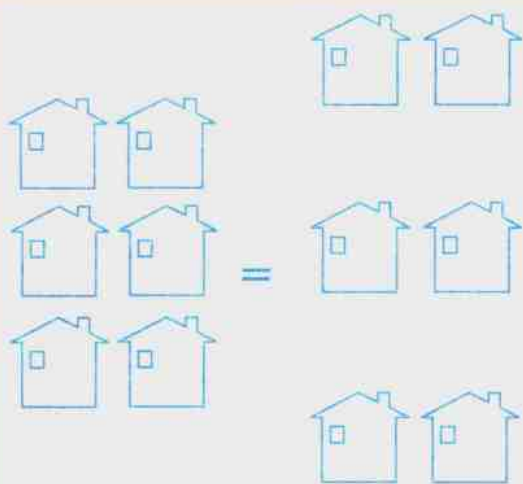
$$8 \div 4 = \square$$

小知识


一只大熊猫每天可以吃掉多少竹子?




比一比,想一想,算出答案



$$6 \div 3 = \square$$



$$9 \div 3 = \square$$



$$12 \div 3 = \square$$

$$\square$$
$$3 \overline{) 6}$$

$$\square$$
$$3 \overline{) 9}$$

$$\square$$
$$3 \overline{) 12}$$

除一除,看谁算得又快又好。

$$\begin{array}{r} \square \\ 1 \overline{) 2} \end{array}$$

$$\begin{array}{r} \square \\ 3 \overline{) 6} \end{array}$$

$$\begin{array}{r} \square \\ 1 \overline{) 3} \end{array}$$

$$\begin{array}{r} \square \\ 3 \overline{) 9} \end{array}$$

$$\begin{array}{r} \square \\ 5 \overline{) 10} \end{array}$$

$$\begin{array}{r} \square \\ 5 \overline{) 15} \end{array}$$

$$\begin{array}{r} \square \\ 9 \overline{) 9} \end{array}$$

$$\begin{array}{r} \square \\ 2 \overline{) 6} \end{array}$$

$$14 \div \square = 7$$

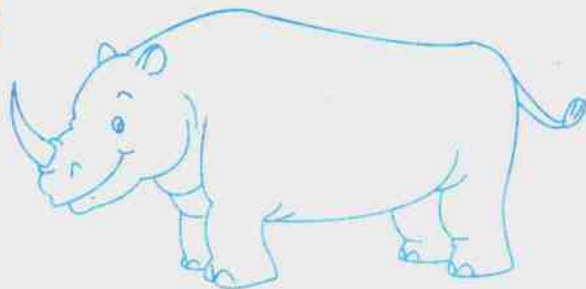
$$12 \div \square = 4$$

$$10 \div \square = 5$$






$$12 \div \square = 2$$






小知识

犀牛是食肉的吗?



用乘法口诀计算,把答案写在空格里。

除数	2	6	4	9	8
被除数	<input type="text"/>	3	<input type="text"/>	3	<input type="text"/>
商	1	<input type="text"/>	2	<input type="text"/>	4
答案					

除数	6	3	10	12	12
被除数	<input type="text"/>	3	<input type="text"/>	3	<input type="text"/>
商	3	<input type="text"/>	2	<input type="text"/>	2
答案					

你能又快又准的把答案写在空格里吗?

$$\begin{array}{r} \square \\ 4 \overline{) 12} \end{array}$$

$$\begin{array}{r} \square \\ 2 \overline{) 14} \end{array}$$

$$18 \div 2 = \square$$

$$\begin{array}{r} \square \\ 2 \overline{) 18} \end{array}$$

$$\begin{array}{r} \square \\ 2 \overline{) 16} \end{array}$$

$$12 \div 2 = \square$$

$$4 \div 2 = \square$$

$$9 \div 3 = \square$$

$$6 \div 3 = \square$$

$$8 \div 4 = \square$$

小知识

$$\begin{array}{r} \square \\ 3 \overline{) 15} \end{array}$$

$$\begin{array}{r} \square \\ 3 \overline{) 12} \end{array}$$

$$\begin{array}{r} \square \\ 2 \overline{) 12} \end{array}$$

$$\begin{array}{r} \square \\ 4 \overline{) 16} \end{array}$$



燕子为什么要筑巢?



按照例题,把计算结果写在空格里。

House 1 (Top Left):
Chimney: 2, 8, 4, 10, 12
Door: $4 \div 2 =$
Window: 1,
Red patterned squares: 1,
House 2 (Top Right):
Chimney: 14, 6, 16, 20, 18
Door: $16 \div 2 =$
Window:
Red patterned squares:
House 3 (Bottom Left):
Chimney: 3, 12, 6, 15, 9
Door: $6 \div 3 =$
Window:
Red patterned squares:
House 4 (Bottom Right):
Chimney: 18, 3, 21, 6, 24
Door: $21 \div 3 =$
Window:
Red patterned squares:

算一下,做完这几道题,你一共用了几分钟?

$$\begin{array}{r} \square \\ 4 \overline{) 16} \end{array}$$

$$\begin{array}{r} \square \\ 5 \overline{) 15} \end{array}$$

$$\begin{array}{r} \square \\ 5 \overline{) 10} \end{array}$$

$$\begin{array}{r} \square \\ 5 \overline{) 30} \end{array}$$

$$\begin{array}{r} \square \\ 4 \overline{) 28} \end{array}$$

$$\begin{array}{r} \square \\ 4 \overline{) 20} \end{array}$$

$$\begin{array}{r} \square \\ 5 \overline{) 25} \end{array}$$

$$\begin{array}{r} \square \\ 5 \overline{) 35} \end{array}$$

$$32 \div 4 = \square$$

$$40 \div 5 = \square$$

$$36 \div 4 = \square$$

$$45 \div 5 = \square$$

$$20 \div 5 = \square$$


$$8 \div 4 = \square$$

小知识

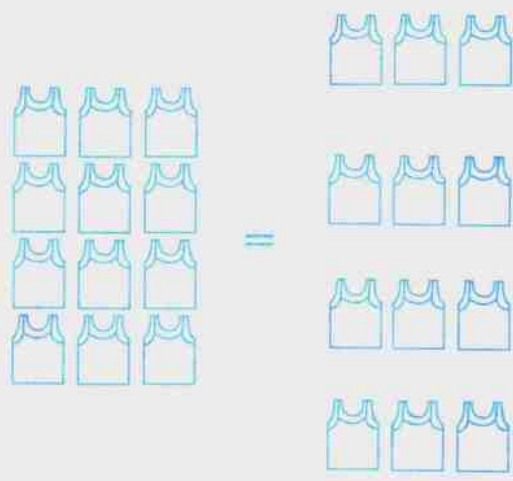
萤火虫为什么会发光?



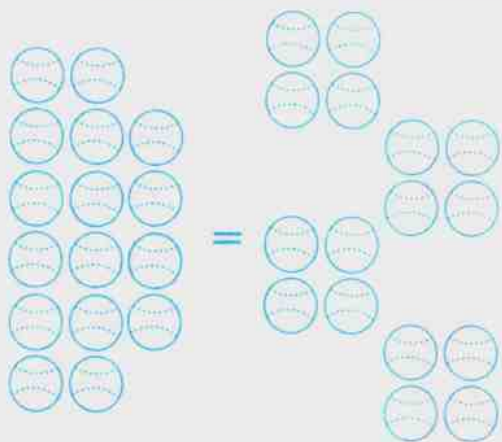
比一比,想一想,算出答案



$$8 \div 4 = \square \text{ } \text{[red pattern]}$$



$$12 \div 4 = \square \text{ } \text{[red pattern]}$$



$$16 \div 4 = \square \text{ } \text{[red pattern]}$$

$$\begin{array}{r} \square \text{ } \text{[red pattern]} \\ 4 \overline{) 8} \end{array}$$

$$\begin{array}{r} \square \text{ } \text{[red pattern]} \\ 4 \overline{) 12} \end{array}$$

$$\begin{array}{r} \square \text{ } \text{[red pattern]} \\ 4 \overline{) 16} \end{array}$$

空格里应该是几, 请你写出来

$$\begin{array}{r} \square \\ 4 \overline{) 12} \end{array}$$

$$\begin{array}{r} \square \\ 5 \overline{) 25} \end{array}$$

$$\begin{array}{r} \square \\ 4 \overline{) 20} \end{array}$$

$$\begin{array}{r} \square \\ 4 \overline{) 16} \end{array}$$

$$\begin{array}{r} \square \\ 5 \overline{) 45} \end{array}$$

$$\begin{array}{r} \square \\ 4 \overline{) 28} \end{array}$$

$$\begin{array}{r} \square \\ 5 \overline{) 20} \end{array}$$

$$\begin{array}{r} \square \\ 4 \overline{) 24} \end{array}$$

$$15 \div 5 = \square$$

$$40 \div 5 = \square$$

$$36 \div 4 = \square$$

$$32 \div 4 = \square$$

$$30 \div 5 = \square$$


$$10 \div 5 = \square$$

小知识


珊瑚是动物还是植物?




想一想,除一除,然后把答案写在空格里



$$10 \div 5 = \square$$



$$15 \div 5 = \square$$



$$20 \div 5 = \square$$

$$\square$$

$$5 \overline{) 10}$$

$$\square$$

$$5 \overline{) 15}$$

$$\square$$

$$5 \overline{) 20}$$

除一除,看谁算得又快又好。

$$\begin{array}{r} \square \\ 4 \overline{) 4} \end{array}$$

$$\begin{array}{r} \square \\ 2 \overline{) 8} \end{array}$$

$$\begin{array}{r} \square \\ 4 \overline{) 16} \end{array}$$

$$\begin{array}{r} \square \\ 3 \overline{) 12} \end{array}$$

$$\begin{array}{r} \square \\ 3 \overline{) 15} \end{array}$$

$$\begin{array}{r} \square \\ 9 \overline{) 18} \end{array}$$

$$\begin{array}{r} \square \\ 5 \overline{) 10} \end{array}$$

$$\begin{array}{r} \square \\ 6 \overline{) 12} \end{array}$$

$$5 \div \square = 1$$


$$12 \div \square = 2$$

$$9 \div \square = 3$$






$$3 \div \square = 1$$

小知识

鳄鱼为什么流眼泪?



用乘法口诀计算,把答案写在空格里。

除数	4	10	8	15	12
被除数	<input type="text"/>	5	<input type="text"/>	5	<input type="text"/>
商	4	<input type="text"/>	2	<input type="text"/>	3
答案					

除数	16	5	20	20	24
被除数	<input type="text"/>	5	<input type="text"/>	4	<input type="text"/>
商	4	<input type="text"/>	5	<input type="text"/>	4
答案	