


全日制普通高级中学·选修

地理填充图册

第一册

人民教育出版社地理社会室 合编
星球地图出版社地理室



学校_____

班级_____

姓名_____

星球地图出版社

主 编 江永欣 徐 岩
副 主 编 韦志榕 周瑞祥
责任编辑 张九玉 丁尧清
编 辑 王世晓 王继祥 贾从勇 刘家豪 覃燕飞 博 涛
王 丽 陶 阳 郭冬莲 全 斌
审 校 柳红军 高小玲 田 蔚 吴茂乔
审 订 吴履平 窦益山 杜志平

封面设计 林荣桓

全日制普通高级中学·选修

地理填充图册

第一册

人民教育出版社地理社会室 合编

星球地图出版社地理室

星球地图出版社出版

新华书店发行

解放军第一二零五厂(北京)印刷

开本890×1494 1/16 印张 2.5

2003年6月第1版 2003年6月第1次印刷

ISBN 7-80104-662-5/G·265 (课)

JS(2002)01-038 定价: 3.75 元

著作权所有·侵权必究

如发现印装质量问题, 请与星球地图出版社联系调换

社址: 北京市北三环中路69号 邮编: 100088 电话: 62055928

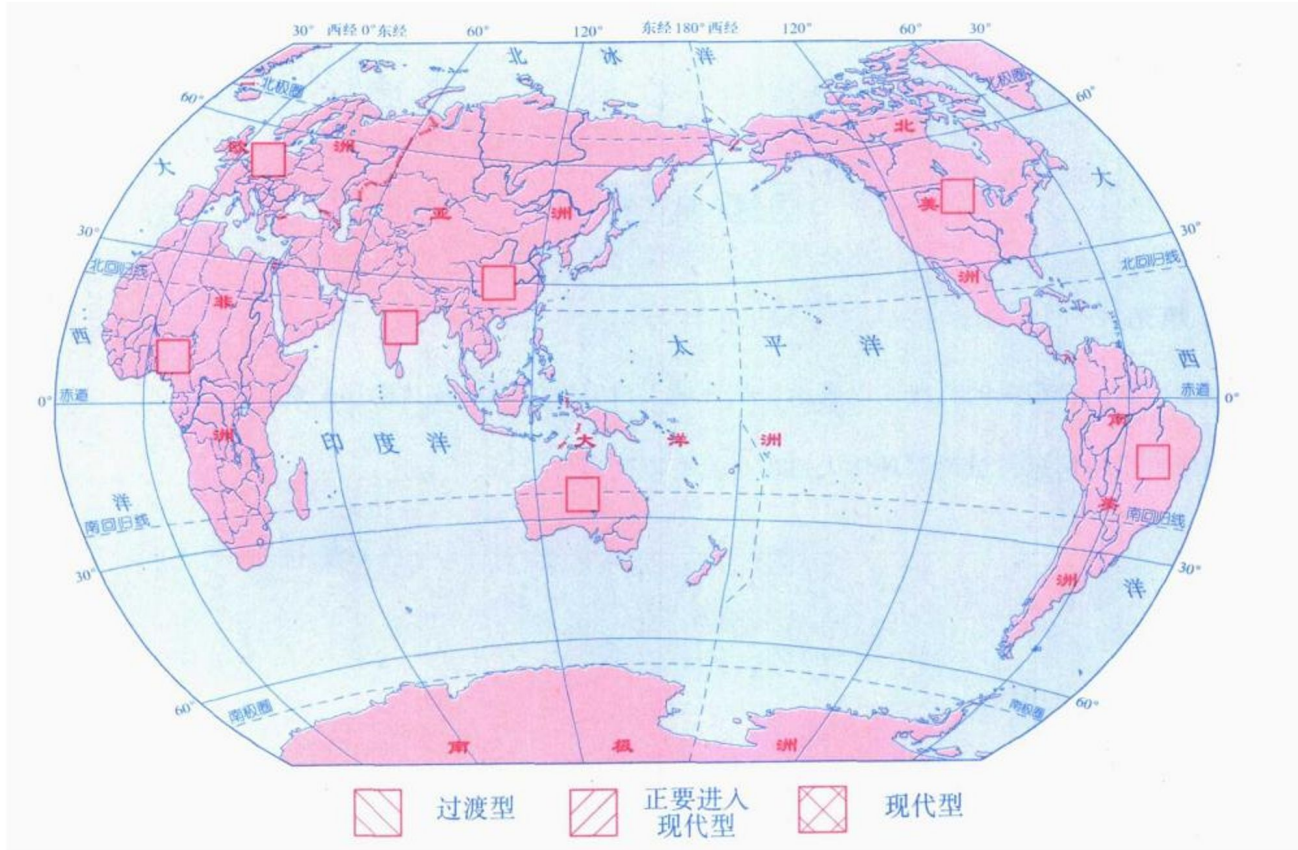
目 录

第一单元	人口与环境	
	1.1 人口再生产	1-2
	1.2 人口数量与环境	2
	1.3 环境人口容量	3
	1.4 人口素质与环境	4
	1.5 人口迁移与环境	5
	1.6 中国人口迁移	5-6
第二单元	城市的地域结构	
	2.1 城市的作用与形态	7-8
	2.2 城市地域功能分区	9-10
	2.3 城市地域功能分区结构和成因	10-12
	2.4 城市的合理规划	12
第三单元	文化景观	
	3.1 文化与地理	13
	3.2 文化景观及其特性	14
	3.3 文化景观与自然	15
	3.4 文化源地与文化区	16
	3.5 文化空间扩散	17~18
	3.6 身边的文化与地理	19
第四单元	旅游活动	
	4.1 旅游活动是人类社会发展的必然产物	20
	4.2 旅游资源	21
	4.3 旅游景观的欣赏(一)	22
	4.4 旅游景观的欣赏(二)	23
	4.5 旅游活动与地理环境的协调发展	24~25
第五单元	世界政治经济地理格局	
	5.1 世界政治地理格局	26~29
	5.2 世界经济全球化	30~31
	5.3 区域经济一体化	31~33
	5.4 综合国力竞争	34~封三

三、读图填充

1. 选择下图适当图例，填入图内的方框中，以表示部分大洲和部分国家人口再生产类型及其差异(北美洲、澳大利亚、中国、德国、印度、尼日利亚、巴西)。

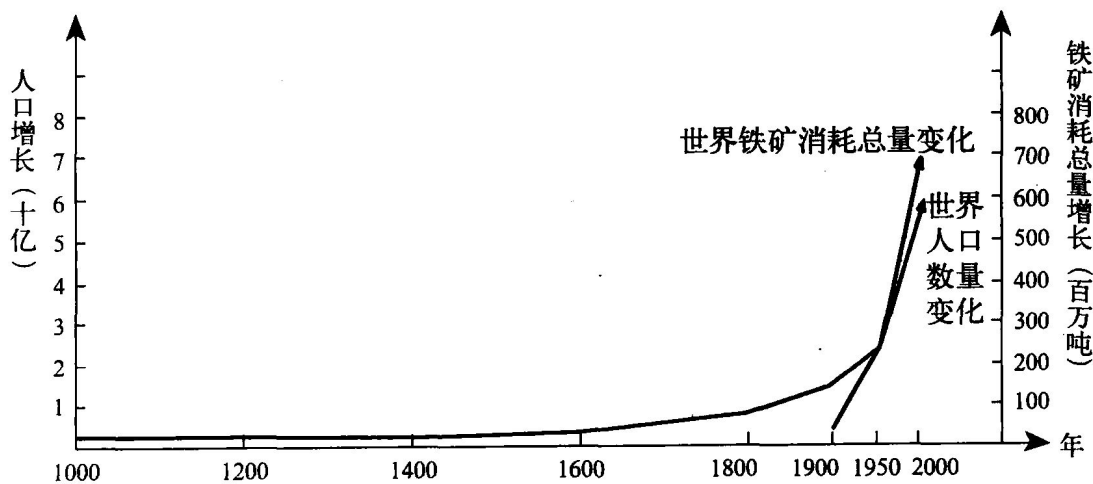
2. 使人口年龄结构呈老年型的人口再生产类型是_____，使人口年龄结构呈青年型的人口再生产类型是_____。



1.2 人口数量与环境

读图填充

分析下图两条曲线变化特点，可以看出：世界人口数量变化与世界铁矿消耗总量的关系是_____。



第一单元 人口与环境

1.3 环境人口容量

资源

科技发展水平

人口文化和生活消费

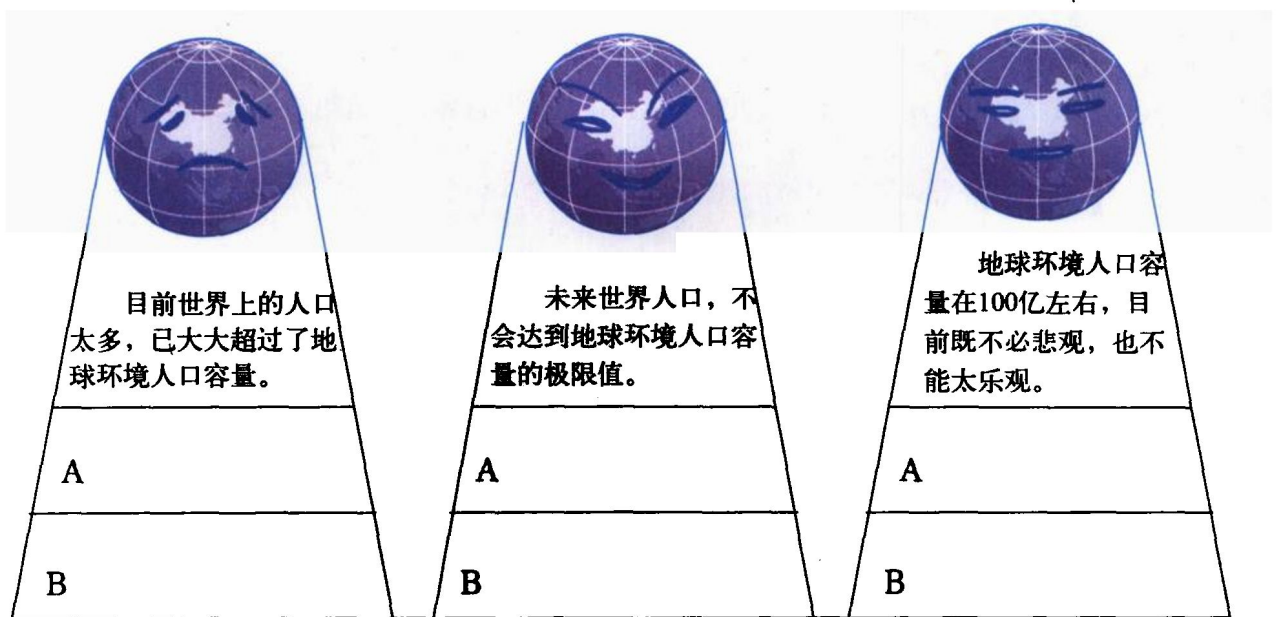
环境人口容量

一、连线、填充

1. 在上面框图中画出带箭头的直线，以表示影响环境人口容量的因素及其相互关系。
2. 利用框图所提供的信息，试说明环境人口容量具有不确定性_____。

二、读图回答

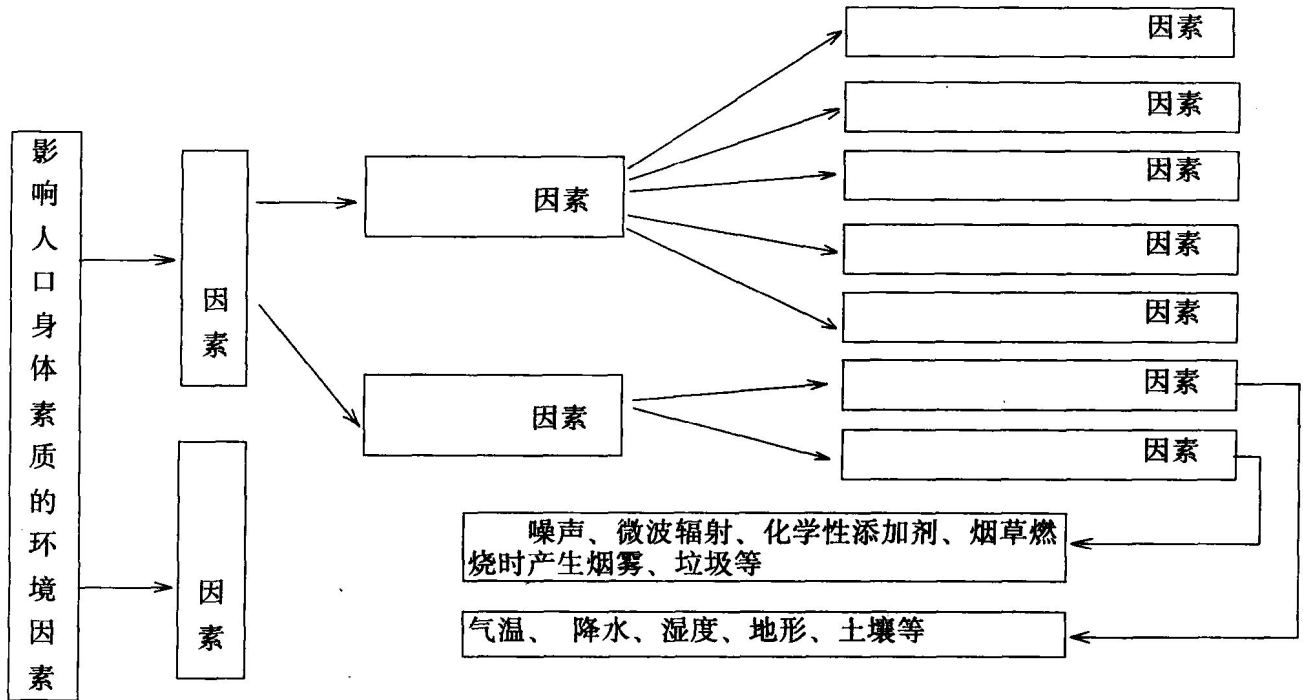
针对不同人群对地球环境人口容量的估计，下图三种论点确立的理由各有哪些？试各列举两例说明，填在图下方A、B处。



1.4 人口素质与环境

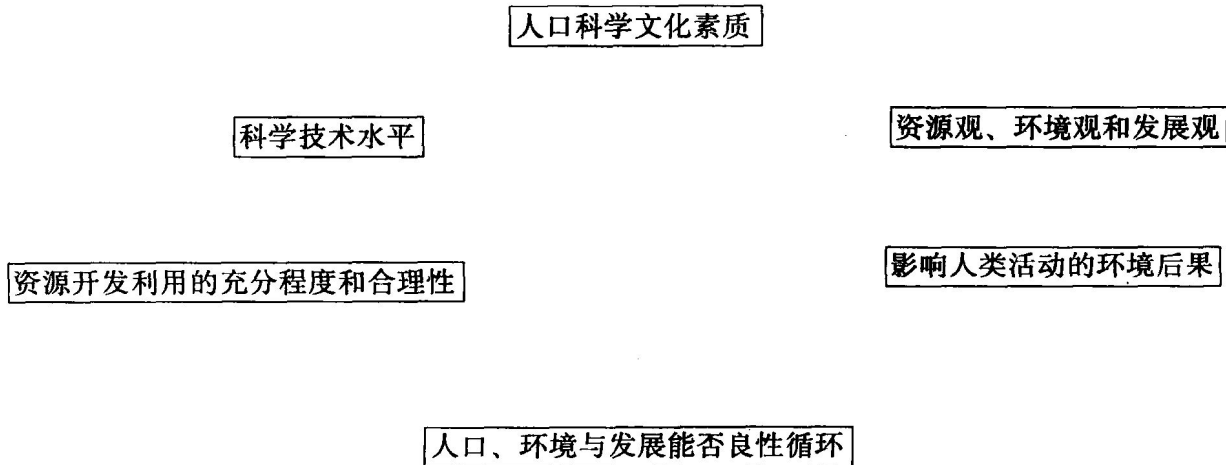
一、填图

在下列框图空白处填写适当内容，完成影响人口身体素质的环境因素的关系网络。



二、读图连线

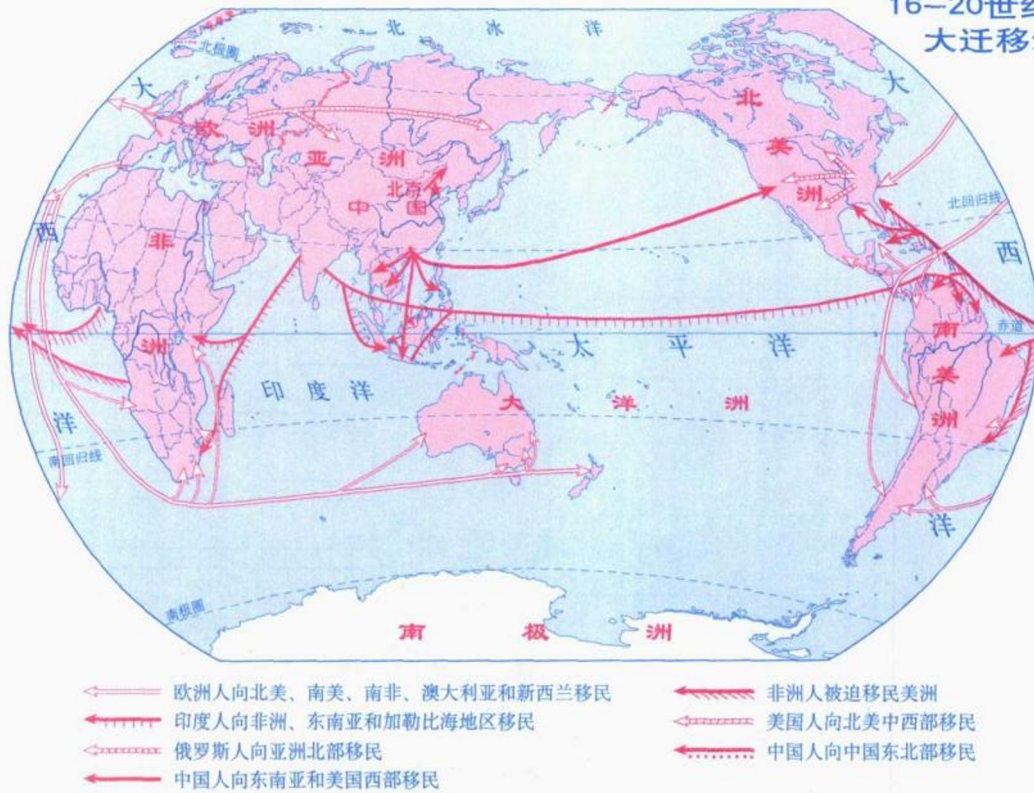
阅读教科书相关内容，在下列框图之间画出直线箭头，以表示人口科学文化素质对环境影响的知识关联。



第一单元 人口与环境

1.5 人口迁移与环境

16-20世纪世界人口大迁移示意图



读图连线

将国际人口迁移箭头所示人口迁移所面临的现实问题，与其所属影响因素和影响人口迁移的吸引力、排斥力用直线连接起来。

人口迁移的吸引力	异国房屋租金费用高	经济因素
无碍人口迁移的因素	与家庭成员分离时间长	家庭和婚姻
人口迁移的排斥力	学习先进科学技术、方法	文化教育事业
	与家庭成员联系方便	交通和通信
	奖学金和劳务工资水平高	政策因素
	政府鼓励学成回国发展	
	在外学习影响国内职务晋升	
	日本受东南亚金融风波影响严重	
	日本曾发生侵华战争	

1.6 中国人口迁移

一、读图填充

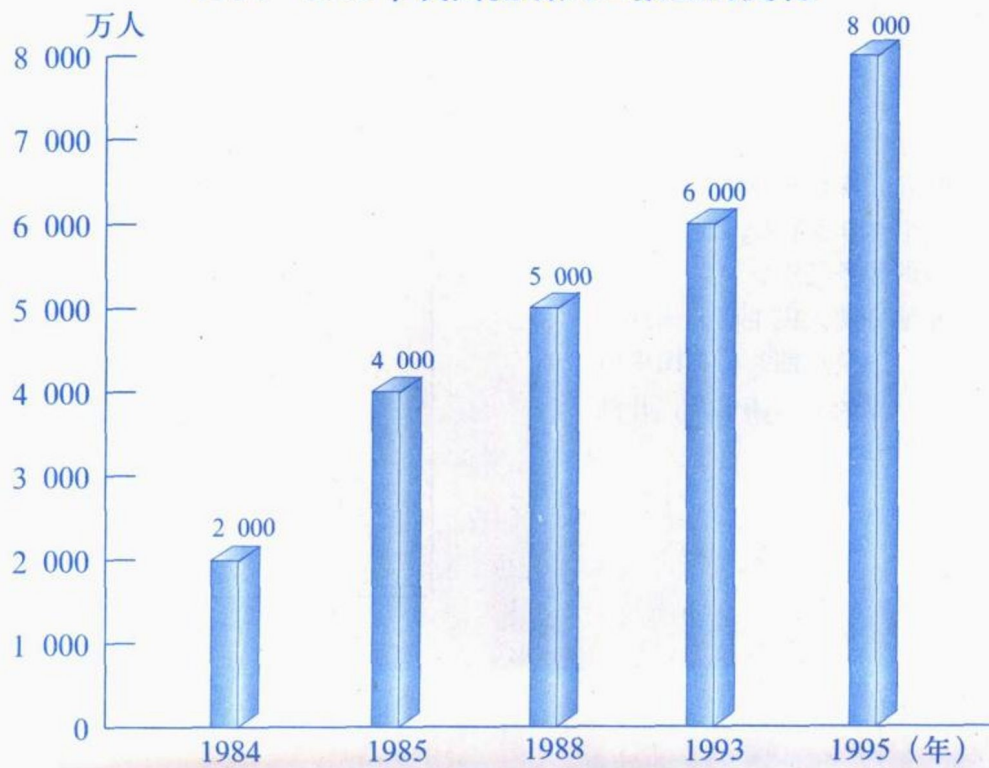
- 在第6页上图中相应范围内填出各省、自治区、直辖市的简称。
- 分别以 **+++** **---** **○○** 为图例，在图中标出我国1954~1984年人口净迁入、人口净迁出和人口迁入与迁出平衡的主要省区。
- 1954~1984年间，我国人口迁移的特点是_____、_____。原因主要有：



二、读图填充

1. 80年代中期以后，我国人口迁移的特点主要表现为_____。
2. 这一时期人口迁移的主要方向，一是_____；二是_____。

1984—1995年我国流动人口数量的变化



第二单元 城市的地域结构

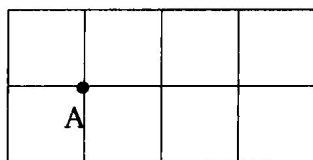
2.1 城市的作用与形态

一、填充

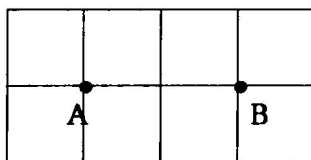
1. 假定A、B、C三个小店经营项目和规模相同，请自行设计图例在下面方格图中分别画出甲、乙、丙三种情况下，A、B、C三个小店的服务范围。

2. 在甲、乙、丙三种情况下，A、B、C三个小店的经营状况及原因如何？请简述填入表格中。

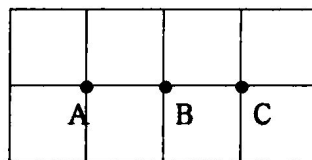
	店号	门槛人口 (人)	服务人口 (人)	服务范围 (平方千米)	小店经营状况及原因
甲	A	300	800	8	
	B	300	400	4	
乙	A	300	300	3	
	B	300	200	2	
	C	300	300	3	



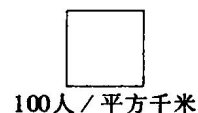
甲



乙



丙

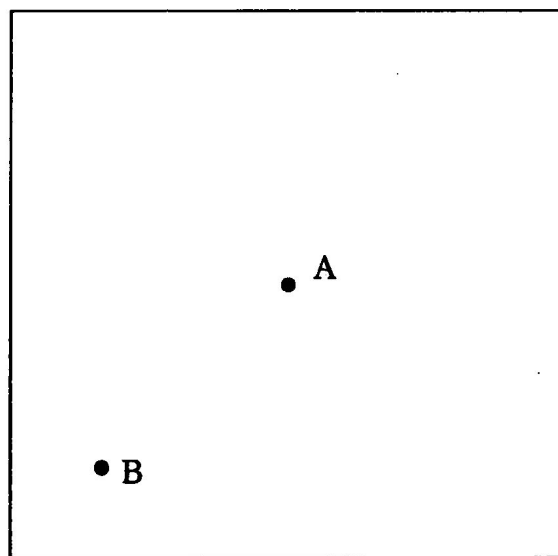


3. 为方便群众生活且使小店经营良好，该地区设小店数目以_____个为宜。

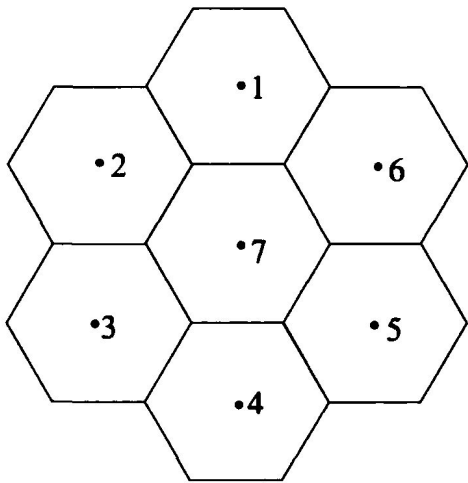
二、填图

1. 右图中A为餐馆，其服务半径1.5千米，B为早点铺，其服务半径为0.5千米，请在图中画出A、B两个中心地的服务范围。

2. 为了最大限度地方便人民生活，该地区还可以再建_____个早点铺？请在图中用C、D……标出这些早点铺的大体位置，并画出这些中心地的服务范围。



0 500 1000 1500米



三、填图

1. 左图中_____号中心地，适宜发展为更高一级中心地，请在图中用虚线画出其服务范围。

2. 从图中可以看出，低一级中心地适宜分布在高一级中心地服务范围的_____上。请在图中4号中心地服务范围适当位置上画出比4号中心地低一级的中心地的服务范围。

四、填图并回答

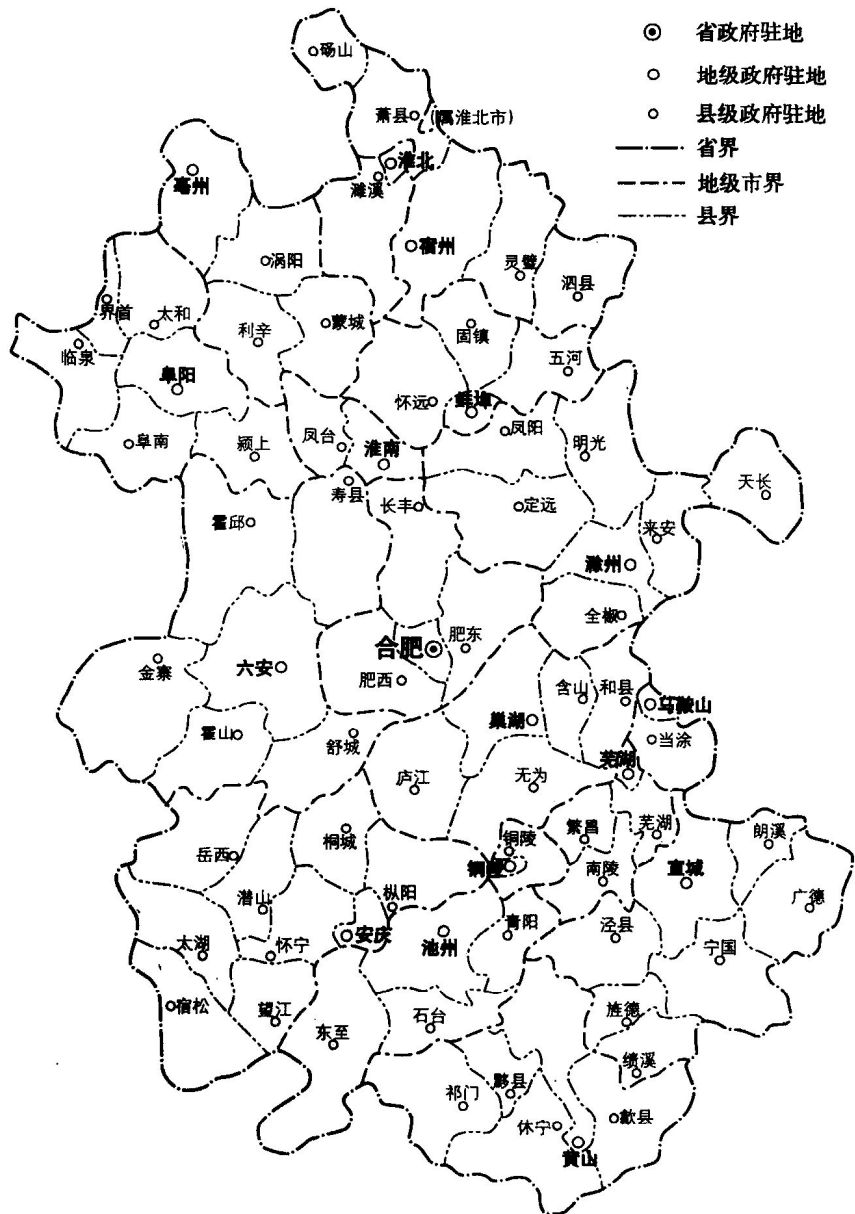
1. 右图，安徽省级行政中心选定在合肥市的区位优势有哪些？至少答出两方面：_____

_____。

2. 在图中用////// 将没有设立地级市的地区标注出来。

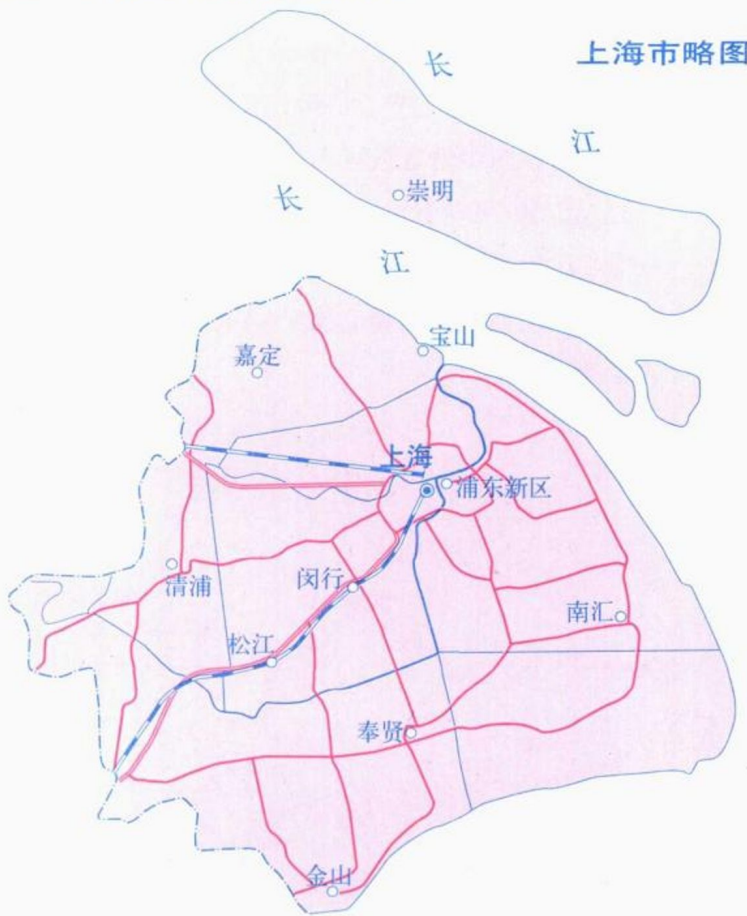
3. 在图中用“√”将有可能发展为地级市的县级行政中心地标注出来。讨论将这些县级行政中心地提升为地级行政中心地的意义，至少写出两方面：_____

_____。



第二单元 城市的地域结构

2.2 城市地域功能分区



一、填图并回答

1. 把黄浦江、吴淞江(苏州河)二条河流的名称填入左图中适当位置。

2. 用 \square 作图例大体标出上海外高桥工业区的分布范围。用 // 大体标出上海浦东金融贸易区的分布范围。

3. 上海外高桥工业区的区位优势是_____

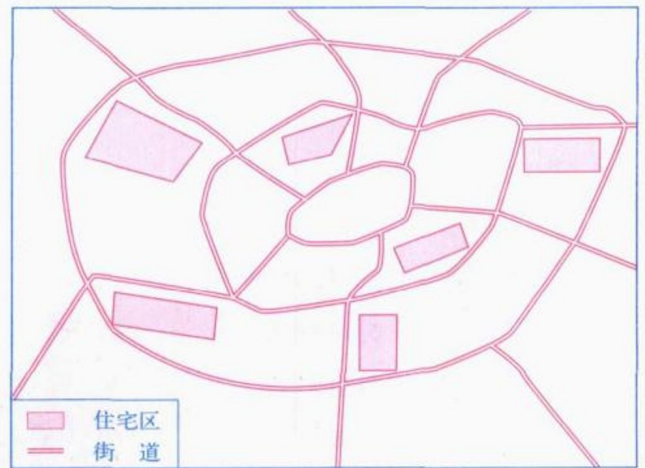
上海现代化中心商务区的发展为我们提供了_____

_____有益的启示。

二、填图

1. 若在右侧城市图中新建六片商业区，为方便城市人民生活需要请在图中选择适当区位，并在图中用“▲”表示出来。(区位选择合理即可，不求统一)

2. 该城市中最容易发展成为中心商务区的地方在哪里？用“☆”表示出来。



三、填表

按照中心商务区垂直分异规律，将下列职能部门填入右图中大厦垂直分布楼层内。办公室，高级办公室，副食百货，餐饮和娱乐，商场、零售和银行，律师行和会计师楼。

8-9层	
6-7层	
5层	
4层	
1-3层	
地下	
楼层	职能部门



四、填图并回答

1. 假定重新规划常州市工业区规划和分布，并控制常州市职工人数约为30万。若用“///”表示100公顷大小的工业用地，请在图中画出常州市工业区的规模及分布。(绘画合理即可)

2. 常州市住宅区应向城市哪个方向发展为宜，其理由是_____

_____。

请用“//////”大体绘出住宅区的分布范围。若照此规划建设，该城市职工上下班交通途中会遇到_____不便。解决的方法是_____。

3. 常州市的卫生防护带在何处建设为好？请在图中用“○○○”表示出来。

2.3 城市地域功能分区结构和成因

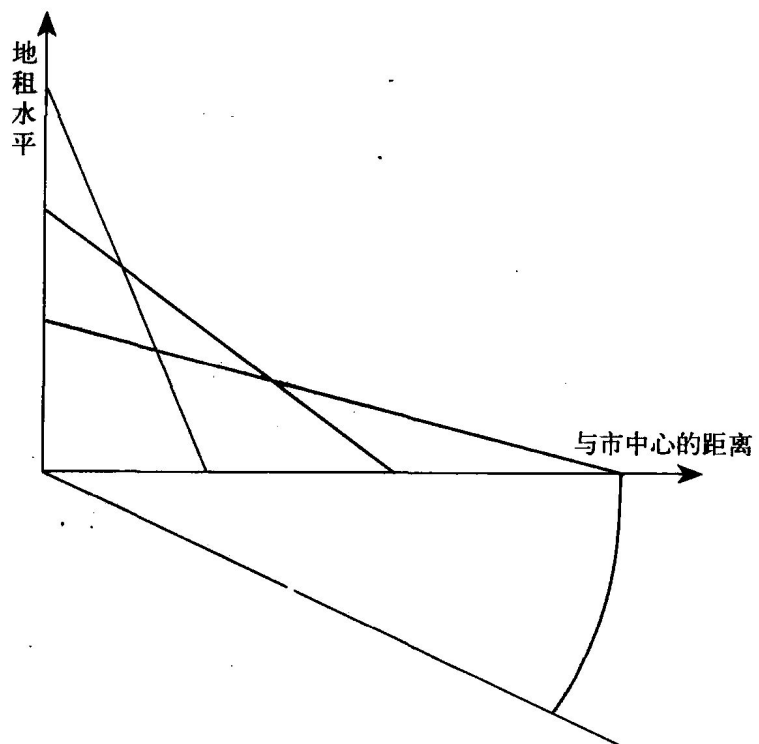
一、填图并回答

1. 将“商业”、“工业”、“住宅”分别填写在右侧该功能用地付租能力随距离递减曲线旁。

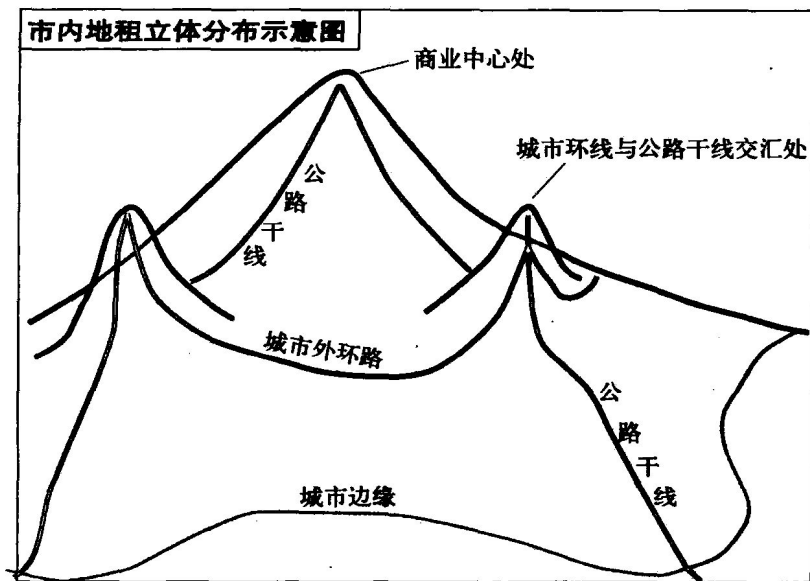
2. 在图中扇形范围内，画出商业区，工业区和住宅区在城市内的区位及范围，并填注这三类功能区的名称。

3. 用图中三条曲线的数量关系所示的付租原理，解释商业区分布在市中心的原因：_____

_____。



第二单元 城市的地域结构



二、填图并回答

1. 将下列图例所表示的城市用地类型填入左图中相应的位置、范围内。

- | | |
|---|--------|
| 1 | 商业中心用地 |
| 2 | 外围商业用地 |
| 3 | 工业用地 |
| 4 | 住宅用地 |

2. 据图中信息不难看出, 这四种用地类型对交通的需求程度由低到高大体排序是: _____

→ _____

3. 城市环线或公路干线、城市中心、城市环线与公路干线交汇处三种区位的地租水平, 由高到低排序是 _____

三、读图回答

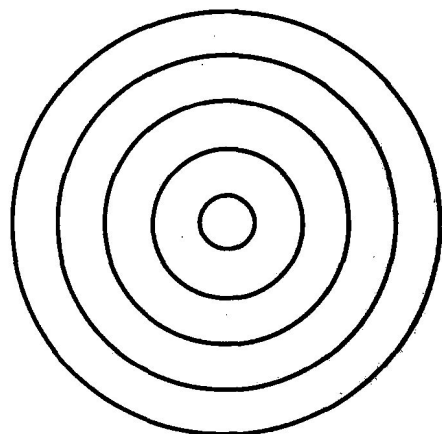
1. 将代表不同功能区的数字号填入下面三种模式图的相应范围内。

2. 总结这三种模式所反映的城市地域结构共同点, 至少写出四个方面: _____


_____ , _____ , _____

3. 若按城市地域结构发展历程由先至后将这三种模式排序, 大体应为: _____ → _____

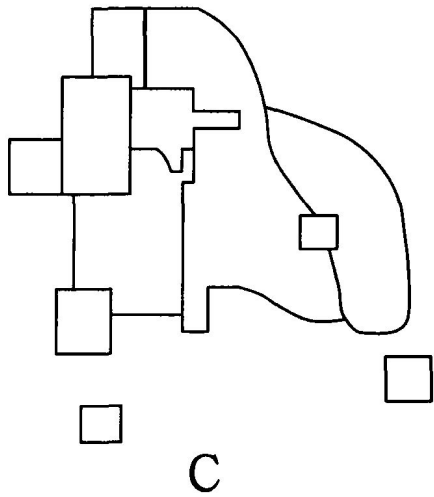
→ _____ (写出模式相应字母)。排序的理由是 _____



A



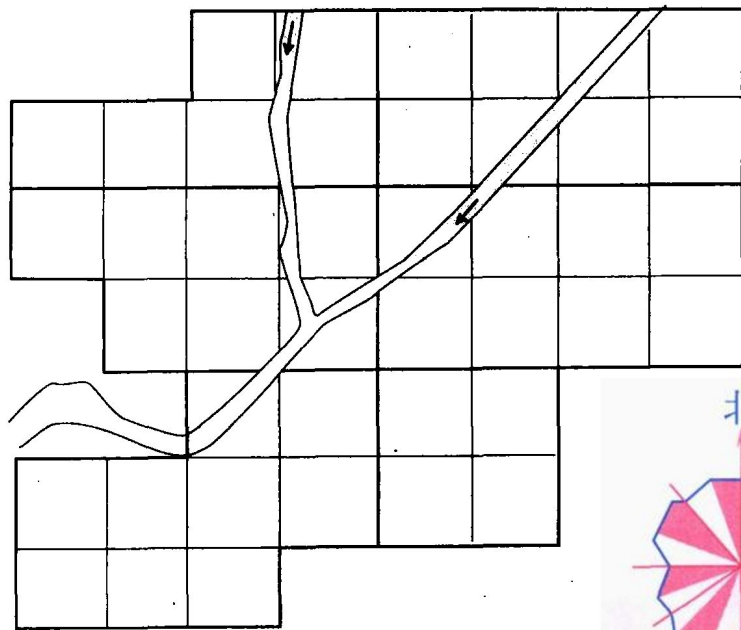
B



城市地域类别

- | | |
|-------------------|----------|
| 1. 中心商业区 | 6. 重工业区 |
| 2. 批发和轻工业带 (过渡地带) | 7. 次级商业区 |
| 3. 低级住宅区 | 8. 郊外工业区 |
| 4. 中级住宅区 | 9. 郊外住宅区 |
| 5. 高级住宅区 | |

2.4 城市的合理规划

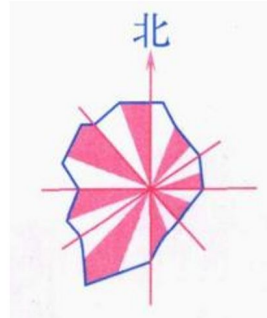


填图

左图所示新城规划面积约36平方千米(每格代表1平方千米)。现需要安排商业用地3平方千米, 工业用地7平方千米, 住宅用地18平方千米, 绿地8平方千米, 请按图中提供的信息完成:

1. 为该城市每一块土地选择合适的用地类型, 并用相应的图例在图中标出土地类型规划图;

2. 拟定在该城市新修几条总长约20千米的公路干线, 你认为应在何处修建? 请在你规划的图中绘制出来。




- | | |
|--|--|
|  商业用地 |  绿化用地 |
|  工业用地 |  公路干线 |
|  住宅用地 |  空地 |


第三单元 文化景观

3.1 文化与地理

一、读图回答：



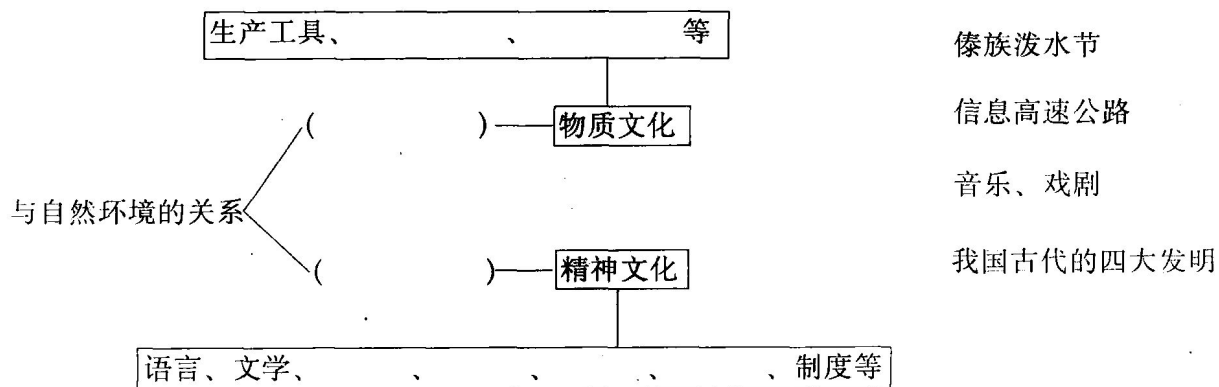
1. 上两幅景观图反映的事物属物质文化还是精神文化？分别说明两地居民的特点及与当地自然环境的关系。



2. 上两幅景观图反映的都是新疆的地理事物，左图属于_____文化，右图属于_____文化，它们与自然环境的关系有_____不同。

二、填图并连线

在下列图表中填出相应的内容并连线。





3.2 文化景观及其特性

一、读图回答



1. 上两幅景观图中, _____ 反映的是文化景观, 因为 _____。



2. 上景观图属于 _____ 景观, 具有 _____ 功能, 由此说明这景观的基本特征是 _____。

3. 上图文化景观圆明园遗址对我国人民有 _____ 意义。

二、简答

1. 京杭运河对文化景观与自然环境的关系有何指示意义?
2. 我国石窟分布的景观能反映我国宗教文化的哪些特点?