

… 全国高考看江苏  
… 江苏高考看启东

十年寒窗 高考一刻

# 启东中学

## 高考模拟试卷


启东中学一线特高级教师集体编写

总主编 王生  
分册主编 张伟

# 政治



机械工业出版社  
CHINA MACHINE PRESS






# 启东中学 高考模拟试卷

## 政治

总主编 王生  
副主编 钱宏达 张伟  
分册主编 姜婉楠 徐晓燕 黄海荣  
参编 顾莉平 黄红妹 倪静 吴联兴 陆金艳 姜正兴



机械工业出版社

### 图书在版编目(CIP)数据

启东中学高考模拟试卷. 政治/王生总主编. —2版. —北

京:机械工业出版社, 2007.9

ISBN 978-7-111-20233-2

I. 启… II. 王… III. 政治课—高中—习题—升学参考资料

料 IV. G634

中国版本图书馆 CIP 数据核字(2007)第 147081 号

机械工业出版社(北京市百万庄大街 22 号 邮政编码 100037)

策划编辑:胡明 责任编辑:王虹

责任印制:洪军汉

北京振兴源印务有限公司印刷厂印刷

2007 年 11 月第 2 版第 1 次印刷

370mm × 260mm · 7 印张 · 146 千字

标准书号: ISBN 978-7-111-20233-2

定价: 11.50 元

凡购本书,如有缺页、倒页、脱页,由本社发行部调换

销售服务热线电话:(010)68326294

购书热线电话:(010)88379639 88379641 88379643

编辑热线电话:(010)88379037

封面防伪标均为盗版



# 前言

人才培养的沃土 奥赛金牌的摇篮

——江苏省启东中学

江苏省启东中学创办于1928年10月,现占地350亩,建筑面积10.5万平方米,99个教学班,教职工450余人,在校学生5600余人。1998年4月,学校通过了“国家级示范性普通高中”的评估验收,2003年12月成为江苏省首批四星学校。

该校师资力量雄厚。在职教师中,有博士1人,硕士3人;特级教师5人,省中青年专家2人,高级教师120余人。校园环境优美,曾被评南通市十佳校园、南通市“建国50周年十大新景观”之一。学校办学条件优良,一流的实验室、图书馆、体育馆、艺术馆和多媒体教学网络,能满足师生教学和个性发展的需要。学校把“面向全体学生,促进全面发展,培养特色人才,为学生的终身发展奠基”作为学校的办学理念。多年来,高考成绩一直稳居全省前茅,重点大学上线率稳定在90%以上,每年都有10余名考生考入清华、北大。1995年至今我校在国际中学生奥林匹克竞赛中获得“十二金两银”。其中,朱力同学以第一名的优异成绩获得第7届亚洲中学生物理奥林匹克竞赛金牌,接着在第37届国际中学生物理奥林匹克竞赛中再夺金牌。体育、文艺、小发明等方面也培养了不少特长生:陈骏马、张天鹭的小发明获国际中学生小发明金奖;秦章原同学获第五届宋庆龄少年儿童发明奖;蔡洁伟同学荣获国家田径一级运动员称号,成为南通市普通中学中第一个获此称号的中学生。学校被誉为“人才培养的沃土,奥赛金牌的摇篮”,学校重视开展综合治理,创建和谐校园工作,为师生创造了良好的工作环境,先后获得全国文明城市精神文明建设先进单位、江苏省文明单位标兵、江苏省先进基层党组织、江苏省模范学校、江苏省德育先进学校、江苏省中小学党建工作先进集体、全国卫生体育工作先进单位、江苏省先进职工之家、江苏省五四红旗团委标兵、省市综合治理先进单位等荣誉称号。

经过近八十年的岁月洗礼,启东中学现已成为国内一流、国际有一定影响的现代化名校,她的名字已响彻大江南北。

启东中学的一批名师和学科带头人在教学之余,认真加强教育科研和中、高考试题的研究,建立起学校自己的题库,取得了很好的教学效果。为了真诚答谢全国兄弟学校的厚爱,满足广大师生的期盼,应国内久负盛名、权威的机械工业出版社的盛情邀请,我组织了教学一线的数十位特、高级教师和金牌教练,结合多年以来特别是新中、高考改革和新课程改革以来的教学实践经验,精心策划编写了这套科学、实用的《启东中学(高)考模拟试题卷》。启东中学和机械工业出版社强强联手推出的这套丛书,体现了我校的教学实际和培优补差经验,原汁原味,相信一定会受到广大读者朋友的青睐。

本套书题目编制上更是进行了大胆创新,体现出鲜活的时代气息,注重试题立意新、内容构造新,创设情景新、设问方式新、开放探究新,力求体现新一轮课改、教改、考改的新趋势,更能适应不同层次的地地区、学校、学生使用。既可打牢双基,又能提高学习能力、应试能力,本书充分凸现如下指导思想 and 特色:

1. 创新超凡的教育理念。编写时充分体现新一轮教改、课改的要求,体现新课程的教育思想、教育理念,闪现超凡思维。试题的选编体现“原创与经典”相结合的原则,着力加强“能力型、开放型、应用型 and 综合型”试题的开发和研究,各科均配有数量一定的作者最新原创题。本套《启东中学(高)考模拟试题卷》能从试题的考纲、考点、考题的“三考”导向目标上审视,并从试题解法方法与技巧上点拨与剖析,堪称中、高考学生导学、导练、导考的优秀辅导材料。

2. 详实规范的思路点拨。答案详解详析,以突出知识点和基本方法,并尽可能传授解题技法,注重解决“怎么做”和“怎样想到要这样做”的问题,适用面特别广。

在本套丛书的编写过程中,我们尽管做到字字推敲,题题把关,历时数月,反复校审,但仍难免存在一些错误和疏漏之处,恳请广大读者朋友批评指正,以便我们能及时修正。

欢迎您和启东中学共同进步!

(作者系江苏省启东中学校长、党委书记、中学数学特级教师、教育学博士、江苏省有突出贡献的中青年专家、全国人大代表)

王生

# 目录

前言	(1)
启东中学高考模拟试题卷 政治(一)	(9)
启东中学高考模拟试题卷 政治(二)	(17)
启东中学高考模拟试题卷 政治(三)	(25)
启东中学高考模拟试题卷 政治(四)	(33)
启东中学高考模拟试题卷 政治(五)	(41)
启东中学高考模拟试题卷 政治(六)	(49)
启东中学高考模拟试题卷 政治(七)	(57)
启东中学高考模拟试题卷 政治(八)	(65)
启东中学高考模拟试题卷 政治(九)	(73)
启东中学高考模拟试题卷 政治(十)	(81)
参考答案	(81)



# 启东中学高考模拟试卷 政治(一)

一、判断题:对下列各题观点进行判断,正确的选择A,错误的选择B。(10小题,每小题1分,共10分)

- 商品必须是劳动产品,劳动产品也一定是商品。
- 美元对人民币由1比8变为1比7.5,说明美元贬值,人民币汇率下降。
- 股份制是公有制的主要实现形式。
- 在现代市场经济运行中,市场这只“看不见的手”和国家的宏观调控这只“看得见的手”都发挥着基础性的作用。
- 中国共产党、各民主党派和人民政协具有组织和领导社会主义建设的国家职能。
- 人民代表大会是我国的政权组织形式和根本政治制度。
- 主权是国家的生命和灵魂,是国家存在的最重要因素。
- 哲学既是关于世界观的学说,又是关于方法论的学说。
- 马克思主义中国化的最新理论成果是社会主义荣辱观。
- 实践是指人们改造世界的一切活动。

二、单项选择题:下列各题的四个选项中,只有一项是符合题意的。请选出你认为正确的选项。(30小题,每小题2分,共60分)

- 十届全国人大五次会议审议通过《物权法》和《企业所得税法》,这体现了全国人大具有  
A. 最高决定权 B. 最高监督权  
C. 最高立法权 D. 最高任免权
- 仁海市、县人大进行换届选举工作,全市1000多万选民投票选举产生了5000多名新一届区、县人大代表。我国区、县人大代表的选举方式是  
A. 等额选举 B. 差额选举  
C. 直接选举 D. 间接选举
- 我国社会主义民主最广泛而深刻的实践是  
A. 实施人民代表大会制度  
B. 召开各级人民代表大会  
C. 职工代表大会制度  
D. 农村村民自治和城市居民自治
- “忧民之忧者,民亦忧其忧。”只要我们真心实意为群众办实事,尽最大的努力解决民生问题,就一定会得到人民群众的拥护,就能越来越充分地调动人民群众的积极性和创造力。对政府来说,要切实解决民生问题,最重要的是  
A. 建立健全有效制约和监督权力的机制  
B. 坚持以人为本,建设法治政府  
C. 坚持依法行政,自觉接受人民监督

- 建设服务型政府,强化社会管理和公共服务职能  
D. 建设服务型政府,强化社会管理和公共服务职能
- 联合国的主要宗旨是  
A. 尊重世界各国主权  
B. 维护世界和平与安全,促进国际合作与发展  
C. 维护各国领土和主权完整  
D. 以和平方式解决国际争端

- 我国十分重视民族和宗教问题的最主要原因是  
A. 民族和宗教问题会影响民族平等  
B. 民族和宗教问题直接影响到社会的稳定和国家的安全  
C. 民族和宗教问题与实施依法治国密切相关  
D. 民族和宗教问题上的矛盾主要是人民内部矛盾

- 2006年的诺贝尔和平奖授予了孟加拉国银行家尤努斯和他的乡村银行。评审委员会说:之所以打破和平奖只授予解决冲突问题的传统,而授予为解决贫穷问题做出贡献的人和团体,是因为对贫穷的解决有利于对冲突的解决。这表明  
A. 贫穷是导致世界局面不稳定的直接原因  
B. 维护和平是经济发展的前提条件  
C. 全球发展的最突出问题是南北发展不平衡  
D. 和平与发展仍然是时代的两大主题

- 2006年2月27日,陈水扁宣布终止“国统会”运作和“国统纲领”适用,遭到了海内外全体华人和国际社会的一致谴责和反对。这说明  
①“台独”分裂活动是威胁台海和平的祸源  
②坚持一个中国原则是实现祖国和平统一的基础  
③特别行政区域享有高度自治权  
④海峡两岸的统一有利于世界的和平与稳定  
A. ①②③ B. ①②④ C. ①② D. ①②③④

- 近年来,有关官员被问责的新闻频频见诸报端。在国务院责成查处的重大安全事故和责任事件中,被问责的官员就达百人之多,其中不乏省部级高官。这说明  
A. 国务院拥有国家的最高监督权  
B. 国务院在我国政权体系中居于最高地位  
C. 我国政府坚持依法行政和对人民负责的原则  
D. 立党为公、执政为民是我们党最重要最根本的执政规律

- 苏州市政府在打造“阳光政府”过程中,努力做政务公开的透明政府。他们积极兴办“政务超市”,推行“窗口式”“一站式”服务,推行一系列“阳光政策”,努力把政府工作置于全民监督之下。这样做的根本原因在于  
A. 公民享有监督权  
B. 政府是由人民直接选举产生的  
C. 我国是人民当家作主的社会主义国家  
D. 有利于政府作出正确决策

- 政府职能的转变是行政管理体制改革的核心,也是政府机构改革的关键。这体现的唯物辩证法道理是



28. “12319”是南京市政府将关于对市民反映的供水、供电、供热等情况进行整合的一条热线电话号码,它提高了为民服务的效率。这说明 ( )

- A. 联系是人有意创造出来的
- B. 人们建立新的具体联系突破了联系的客观性
- C. 政府坚持了正确的价值取向
- D. 人能够正确分析客观条件,达到活动最佳效果

29. 在我国,贯彻科学发展观必须努力实现三个“零增长”,即2030年人口规模“零增长”,2040年能源消耗“零增长”,2050年生态环境退化“零增长”。三个“零增长”目标的确立,所体现的哲理是 ( )

- ①内因和外因的有机结合
- ②尊重客观规律与发挥主观能动性相结合
- ③任何事物都是相互联系的
- ④用发展的观点看问题

30. 有人称近代机械唯物主义为半截子唯物主义,这主要是说机械唯物主义 ( )

- A. 没有实现唯物论与辩证法的统一
- B. 是形而上学的唯物主义
- C. 在自然观上是唯物主义,在历史观上是唯心主义
- D. 在思维和存在的关系上不承认思维与存在的同一性

31. 如今,彩铃已经成为一些人的消费时尚,“听觉经济”悄然而生。开通彩铃需要付费,这是因为 ( )

- A. 制作彩铃耗费了人类劳动
- B. 彩铃拓展了人们的交流渠道
- C. 彩铃已经成为人们的消费时尚
- D. 彩铃是无形商品

32. 2006年底彩铃用户已突破8000万,彩铃业务市场规模突破20亿元,成为电信运营新的业务增长点。“听觉经济”快速崛起,表明 ( )

- A. 采用高新技术一定能带来丰厚利润
- B. 彩铃业务市场是特殊商品市场
- C. 使用高新技术提高了产品信誉
- D. 供求状况具有调节生产和经营功能

33. 农村商业银行是由辖内农民、农村工商户、企业法人和其他经济组织共同发起成立的股份制地方性金融机构。它作为股份有限公司与有限责任公司的区别主要在于是否 ( )

- A. 最重要的市场主体
- B. 由法定数额的股东所组成
- C. 公开募集资本
- D. 由国家或集体控股

34. 普查数据显示,目前我国各类技工所占比例为:初级技工占53.6%,中级技工占 ( )

- A. 12.3%
- B. 15.4%
- C. 18.5%
- D. 21.6%

- A. 一切从实际出发,实事求是
- B. 主要矛盾在事物发展中起决定作用
- C. 社会存在决定社会意识
- D. 实践对认识具有重大作用

22. 孩子:“爸爸,小华的爸爸游泳游得可好了,你怎么不会呢?”爸爸:“小华的爸爸总是吃鱼,所以就会游泳。爸爸我不常吃鱼,怎么会游泳呢?”孩子:“可是,爸爸你总吃鸡,你会下蛋吗?”这则笑话包含的哲学原理是 ( )

- A. 事物是变化发展的
- B. 任何事物之间都存在联系
- C. 规律是可以认识和改变的
- D. 联系是客观的

23. “福娃”是2008年北京奥运会吉祥物,他们的造型融入了鱼、大熊猫、奥林匹克圣火、藏羚羊以及燕子的形象。5个“福娃”的名字连在一起就是北京对世界的盛情邀请——“北京欢迎你”。5个“福娃”各有特色,但都蕴含着中国文化的祥和精神。“福娃”设计者匠心独运之处在于 ( )

- A. 抓住了矛盾的特殊性
- B. 抓住了矛盾主次方面的统一
- C. 坚持矛盾分析法
- D. 坚持矛盾普遍性与特殊性的统一

24. 经过重新测量,我国向全世界公布:最新的珠穆朗玛峰高程数据为8844.43米。与重测前相比,高度降低了3.7米。这表明 ( )

- ①认识在实践基础上不断深化和发展
- ②实践是认识发展的根本动力
- ③世界是客观存在的物质世界
- ④理性认识是认识的根本目的

25. 早在1911年,现代航天技术奠基人康斯坦丁·齐奥尔科夫斯基就曾预言:人类必将挣脱地球的束缚飞向太空。这一飞天梦想激励着一代又一代航天人,去推动航天事业的发展。这体现了 ( )

- A. 世界上没有不可认识的事物
- B. 人的认识是变化发展的
- C. 崇高理想是社会进步的助推器
- D. 大胆想象是理想实现的基础

26. “要富口袋,先富脑袋”,成为广大农民致富奔小康的深切体会;“科教兴省”“文化强市”,成为许多地方的发展思路。这些情况表明 ( )

- A. 改造主观世界才能改造客观世界
- B. 文化是人类改造世界中创造的精神成果
- C. 先进的社会意识对社会进步具有促进作用
- D. 人民群众是先进文化的创造者

27. 右边漫画中“领导干部”的要求 ( )

- A. 违背了主观必须符合客观的哲理
- B. 抓住了事物的主要矛盾
- C. 坚持了发展的观点
- D. 充分重视了意识的能动作用

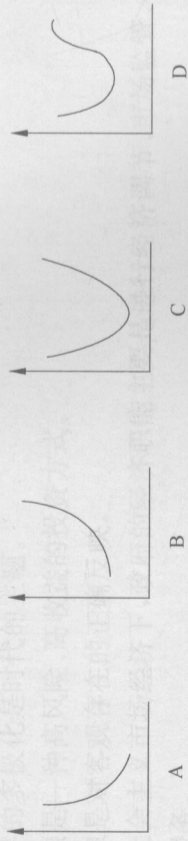




36. 9%, 而高级技工只占 9.5%, 这与发达国家存在较大差距。这给我们的启示是 ( )

- A. 加大高级技工培训力度就能缩小与发达国家差距
- B. 一个国家的劳动者技能水平代表着这个国家的技术实力
- C. 发挥聪明才智, 为经济发展和科技进步做贡献
- D. 要加快教育结构调整, 大力发展职业教育

35. 银行存款利率和证券市场的股票价格, 两者是相互影响的关系。这两者的关系用曲线来表示, 应该是 ( )



36. 近年来, 地震、台风和地质灾害给我国不少地区造成了严重的人员伤亡和经济损失。我们必须积极发展商业保险, 发挥其对社会保障的补充作用。这是因为, 商业保险

- A. 是社会保障制度中最基本、最核心的内容
- B. 是参与保险者个人意志的体现
- C. 有利于保障社会成员的基本生活水平
- D. 有利于补偿自然灾害或意外事故造成的损失

37. 为促进我国奶业的健康发展, 保护消费者合法权益, 国家质检总局等五部委发文, 决定对“复原乳”问题进行严厉整顿。所谓“复原乳”, 就是指用奶粉还原液态奶, 并被当作纯鲜牛奶、酸牛奶进行销售。企业这样做

- ①违背了市场经济法制性的特征
- ②违背了诚实守信的市场交易原则
- ③侵害了消费者的知情权
- ④是由市场调节的盲目性导致的

38. 2005 年我国进出口总额为 14221 亿美元, 比 2004 年增长 23.2%。我国对外贸易快速增长的根本原因是 ( )

- A. 加入了世界贸易组织
- B. 国民经济持续、快速发展
- C. 实行了对外开放政策
- D. 国外贸易壁垒的消除

39. 跨国并购是近期国内企业、媒体的热门话题。上汽集团并购韩国双龙、大字, TCL 先后收购施耐德和阿尔卡特手机业务。而中石油以 41.8 亿美元收购哈萨克斯坦 PK 石油公司, 成为迄今为止中国最大的海外收购案。这些跨国并购

- ①说明中国企业的实力大大增强
- ②是我国企业积极实施“走出去”战略的重要举措
- ③有利于提高中国企业的国内国际竞争力

④有利于提高中国企业国际化水平

- A. ①②③
- B. ②③④
- C. ①③④
- D. ①②③④

40. 现代企业主要的组织形式是 ( )

- A. 混合所有制经济
- B. 公司制
- C. 国有制
- D. 股份有限公司

三、简答题: 请紧扣题意, 结合所学相关知识, 简要回答问题。(2 题, 每题 8 分, 共 16 分)

41. 材料一: 就业是民生之本。我国政府从国情出发, 制定和实施了一系列积极的就业政策, 确立了“劳动者自主就业, 市场调节就业, 政府促进就业”的就业方针, 并由中央财政拨专项补助资金, 用于支持就业和再就业; 为引导农民按需有序流动就业, 国家制定了《2003—2010 年全国农民工培训规划》, 对农村劳动力开展引导性培训和职业技能培训, 提高农民工整体素质和就业能力。

材料二: 某市拥有 1500 多年历史, 具有丰富的人文资源和旅游资源。但是, 当地政府脱离实际, 热衷于搞虚假的“形象工程”, 结果财政收不抵支, 大量拖欠教师和公务员工资。群众非常不满, 政府运作也不正常, 政府的权威受到挑战。

结合材料回答: 怎样才能提高政府的威信?

42. 图 1、图 2 分别代表两种不同的个人收入分配模式及其结果, 请对这两种分配模式进行评价。




图 1

图 2



(2) 该班同学深入该县某村,采访村长关于建设新农村的设计,村长谈到:本村农民虽然年人均收入也只有1500元,但村委会决定在2006年按照社会主义新农村“村容整洁”的要求,用一年的时间按统一标准改造农民旧房,修建村庄大道,率先建成新农村。

请你用所学哲学知识对村长的设计进行评价。

四、综合探究题:请你进入下列情境中,参与问题的探究与分析(本题14分)。  
43. 江苏省A县某中学高三(8)班学生围绕“建设社会主义新农村”这一主题,采取多种方式获得如下资料:

表1 A县“十五”期间城乡居民收入情况 (单位:元)

项目	城镇居民		农村居民	
	人均可支配收入	增长率	人均纯收入	增长率
2001年	6860	8.5%	2366	4.2%
2002年	7703	13.4%	2476	4.8%
2003年	8472	9.0%	2622	4.3%
2004年	9422	7.7%	2936	6.8%
2005年	10317	9.5%	3303	12.5%

注:从2004年起,江苏省取消了农业税并且对种粮农户给予粮食补贴。

表2 A县农村经济、社会发展部分情况

农业生产经营状况	农民科技文化素质		农村社会事业		村民对村委会的满意率
	农产品加工率	懂技术的农民占农民比重	参加各类社会保险比重	患病就医率	
30%	20%	10%	5%	60%	50%
	6年	6年	5%	60%	

(1) ① 上述材料分别反映了A县农村经济社会发展中存在的哪些问题?

② 假如你是该班学生,请你谈谈收集上述材料的一般方法,选择一个研究性课题,并简单写出选题的理由。

(3) 建设社会主义新农村功在当代、利在千秋,必须经过长期的艰苦努力,需要各级领导真正做到权为民所用、情为民所系、利为民所谋。运用政治常识相关知识,说明上述政绩观的正确性。

(4) 针对该县情况,请你用所学经济常识知识,为该县建设社会主义新农村提出合理化建议。



## 启东中学高考模拟试卷 政治(二)

一、判断题:对下列各观点进行判断,正确的选择 A,错误的选择 B。(10 小题,每小题 1 分,共 10 分)

1. 自在事物的联系是客观的,人为事物的联系是主观的。
2. 商品的价格是由供求关系决定的。
3. 世界的多极化是时代的主题。
4. 股票是一种高风险、高收益的投资方式。
5. 意识是对客观存在的正确反映。
6. 在社会主义市场经济下,政府的经济职能主要是进行经济调节、市场监管、社会管理、公共服务。
7. 恩格尔系数减小,表明消费结构改善,人们的生活水平提高。
8. 公有制的主体地位体现在公有资产在所有地方、所有产业的总资产中都占优势。
9. 人民政协是我国多党合作的重要机构。
10. 生产方式是人类社会存在和发展的基础。

二、单项选择题:下列各题的四个选项中,只有一项是符合题意的。请选出你认为正确的选项。(30 小题,每小题 2 分,共 60 分)

11. 《中共中央关于制定国民经济和社会发展第十一个五年规划的建议》,具体量化了我  
国“十一五”期间两项主要经济指标:实现 2010 年人均国内生产总值比 2000 年翻一  
番,单位国内生产总值能源消耗比“十五”期末降低 20% 左右。从政治常识角度看,中  
国共产党具体量化了我国“十一五”期间两项主要经济指标,是坚持\_\_\_\_\_的体现。  
A. 民主执政 B. 科学执政  
C. 依法执政 D. 经济管理职能
12. 国务院发布的《国家突发公共事件总体应急预案》,明确了各类突发公共事件分级分  
类和预案框架体系。为了指导预防和处置各类突发公共事件,国务院发布了《国家突  
发公共事件总体应急预案》。这表明  
A. 国务院是突发事件应急管理工作的最高行政领导机构  
B. 国务院是国家立法机关  
C. 国务院行使国家最高权力  
D. 国务院在履行文化职能
13. 十届全国人大五次会议审查和批准了国务院关于 2006 年国民经济和社会发展计划  
执行情况与 2007 年国民经济和社会发展计划、国务院关于 2006 年中央和地方预算  
执行情况与 2007 年中央和地方预算等报告,听取和审议了最高人民法院和最高人民  
检察院的工作报告。这说明  
A. 人民代表大会是我国的最高权力机关  
B. 最高人民法院和最高人民检察院仅对全国人大负责  
C. 我国实行“三权分立”制度

D. 我国国家机构实行民主集中制原则

14. 近年来,我国的政治文明建设取得了很大的成就,出现了一系列的民主政治新形式,如直选村干部,政务公开,政府决策的民主听证会、网上征求公民的议案等。这表明

- A. 我国的民主主体在不断扩大
  - B. 我国人民的民主权利具有真实性
  - C. 我国人民的民主权利范围十分广泛
  - D. 国家机构的组织和活动原则是民主集中制
15. “官无德则民无德,则国家、民族无望。领导干部的状况如何,直接影响到整个干部队伍  
的道德水准和整个社会风气,直接关系到革命和建设事业的成败,决定着党和国家  
的兴衰存亡。”上述材料给我们的启示是
- A. 党和国家应加强对领导干部的监督
  - B. 提高领导干部的道德素质是党的建设的重要任务
  - C. 党的思想建设、组织建设不重要
  - D. 党要在宪法和法律规定的范围内活动

16. 随着我国民主形式的日益丰富发展,公民将有更多的机会直接参与决策的过程,对决  
策的形式发挥更加积极的作用。下列选项属于我国参与民主决策的基本形式有

- ① 专家咨询制度
- ② 社情民意反映制度
- ③ 社会听证制度
- ④ 重大事项社会公示制度

17. 在我国社会主义制度下,国家、集体和公民的个人利益在根本上是一致的。从国家角  
度看

- A. 要自觉履行义务,维护国家利益
  - B. 牺牲个人利益,维护国家利益
  - C. 把个人利益与国家利益结合起来
  - D. 依法保障公民的合法权益
18. 关于民族区域自治权的正确表述是
- A. 民族区域自治权由民族自治地方的人民政府、法院和检察院行使
  - B. 民族区域自治权由民族自治地方的人民代表大会和人民政府行使
  - C. 民族区域自治权少数民族都可以享有
  - D. 民族区域自治权的实质是少数民族的自由权

19. 关于人民代表大会制度,下列说法错误的有

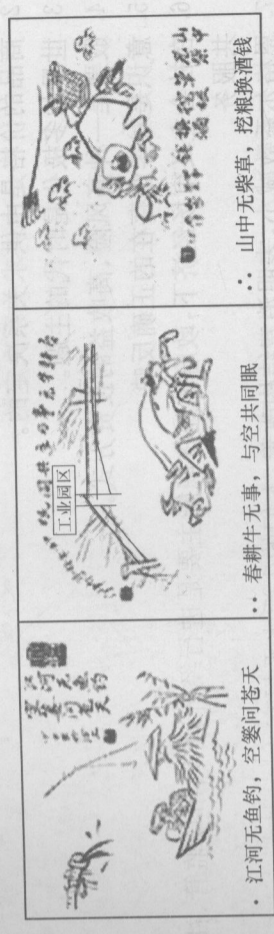
- A. 它是我国的根本政治制度
- B. 它是我国的国家权力机关
- C. 其组织与活动的根本原则是民主集中制
- D. 有利于保证我国各民族的平等与团结

20. “万物并育而不相害,道并行而不相悖。”和谐是当今中国既覆被于内又输扬于外的基  
本精神。中国希望与各国友好相处,谋和平,谋合作,共同发展。这表明

- ① 中国与各国的利益完全一致



- 少10%。这一目标体现了
- ①实践是有意识、有目的的能动性活动
  - ②认识是不断地深化、扩展与推移的
  - ③事物的发展是前进性与曲折性的统一
  - ④联系具有普遍性与客观性,必须用联系的观点看问题
- A. ①②③      B. ①②④      C. ①③④      D. ②③④
29. 下面一组漫画反映的共同哲学道理有



- ①发挥主观能动性应该尊重客观规律
  - ②联系具有多样性,我们可以根据需要建立多种联系
  - ③应该用发展的眼光看问题
  - ④人们应正确把握事物的因果联系,提高活动的自觉性与预见性
- A. ①②③      B. ①②④      C. ①③④      D. ②③④
30. 8年来,江苏省如皋市137名乡邮员倾心帮扶216位孤寡老人,137条“爱心邮路”情动中国,这说明
- ①人生的真正价值在于对社会的责任与贡献
  - ②集体主义是正确的价值取向
  - ③理想是社会进步的助推器
  - ④个人活动决定着社会发展
- A. ①②      B. ③④      C. ①③      D. ②④

31. 从经济学上看,要实现建设节约型社会的目标必须
- A. 面向市场调整经济结构
  - B. 加大能源的进口力度,维护经济安全
  - C. 扩大内需,拉动经济增长
  - D. 实现经济增长方式由粗放型向集约型转变
32. “十五”时期我国城镇居民消费结构情况如下表:

年份	2001年		2002年		2003年		2004年		2005年	
	项目									
消费支出	100.0		100.0		100.0		100.0		100.0	
其中:食品	38.2		37.7		37.1		37.7		36.7	

- 这说明,“十五”时期,我国城镇居民
- A. 食品支出越来越少
  - B. 食品支出越来越多

- ②维护国家间的共同利益是各国推行对外政策的依据
  - ③中国致力于维护世界和平与发展
  - ④中国遵循联合国宪章的宗旨与原则,维护国家间的共同利益
- A. ①②      B. ①③      C. ③④      D. ②④
21. 意识是客观事物在人脑中的反映。意识对物质的能动作用突出表现在
- A. 意识能够正确反映事物的现象、本质和规律
  - B. 意识能够反作用于客观事物
  - C. 意识是客观存在的反映
  - D. 意识在一定条件下决定物质

22. 下列说法中与“皮之不存,毛将焉附?”所体现哲理一样的选项是
- A. 人非圣贤,孰能无过
  - B. 泰山不让土壤,故能成其大
  - C. 城门失火,殃及池鱼
  - D. 春色满园关不住,一枝红杏出墙来
23. 没有农民的富裕,就没有全社会的繁荣和稳定。从哲学上看,这要求我们
- A. 始终把解决三农问题作为我们经济工作的重中之重
  - B. 要有大局观念,做事情要从整体出发
  - C. 努力发展农业,促进农村经济发展,提高农民收入
  - D. 搞好局部,使得整体的功能得到最佳发挥

24. 2007年6月25日,胡锦涛在中央党校省部级干部进修班发表重要讲话指出,加强社会建设,要以解决人民最关心、最直接、最现实的利益问题为重点,使经济发展成果更多体现到改善民生上。这是因为,人民群众是
- A. 社会物质财富的创造者
  - B. 实践的主体,是历史的创造者
  - C. 我国的领导力量
  - D. 社会变革的决定力量
25. 最新研究表明,约50%的癌症与饮食因素有关,1/3的癌症是人们“吃”出来的。对于癌症等疾病,还有很多未知的领域,还缺乏有效的根治方法。这说明
- A. 客观规律妨碍着人们主观能动性的发挥
  - B. 每一时期人们对客观事物的认识总是有限的
  - C. 只要占有丰富的感性材料,就能获得理性认识
  - D. 人在规律面前有时表现得无能为力

26. 唯物主义与唯心主义的分歧,是围绕\_\_\_\_\_关系的问题而展开的。
- A. 物质和运动
  - B. 量变和质变
  - C. 物质和意识
  - D. 实践和认识
27. 社会发展和变革的先导是
- A. 实践基础上的理论创新
  - B. 科技创新
  - C. 文化创新
  - D. 体制创新

28. “十一五”规划强调以科学发展统领经济社会发展全局,把节约资源作为基本国策,计划单位国内生产总值能源消耗比“十五”期末降低20%左右,主要污染物排放总量减



制度,全面落实城市居民最低生活保障,积极建立农村养老、医疗和最低生活保障制度。这一要求 ( )

- ①是构建社会主义和谐社会的根本之策
  - ②是社会主义本质的要求
  - ③有利于维护社会稳定
  - ④有助于实现社会同步富裕
- A. ①②③ B. ②③ C. ①②③④ D. ①②

三、简答题:请紧扣题意,结合所学相关知识,简要回答问题。(2题,每题8分,共16分)

41. 中国煤炭产量占世界的31%,但煤矿事故死亡人数却占世界的79%。每年的煤矿事故经济损失达到2500亿元,造成众多家庭支离破碎。广东兴宁矿难后,国务院总理温家宝主持召开国务院常务会议,研究落实全国人大常委会安全生产法执法检查的整改措施。会议审议并原则通过《国务院关于预防煤矿生产安全事故的特别规定(草案)》,要求有关部门和地方政府采取更加严格的措施,加大整改工作力度,切实做好安全生产工作。

运用政治常识的知识,回答下列问题:

(1) 在市场经济条件下,国务院的主要职能是什么?

(2) 材料体现了政治常识哪些道理?是如何体现的?

C. 重物质消费、轻精神消费  
D. 生活水平提高,消费结构改善

33. 2007年是质量技术监督生产加工环节质量安全监管职能的第二年。国家之所以重视食品质量,这是因为 ( )

- A. 商品是使用价值与价值的统一体
- B. 质量是商品的本质属性
- C. 食品工业是我国的基础产业
- D. 良好的信誉与形象对企业至关重要

34. 建设创新型国家要建立在企业为主体、市场为先导、产、学、研结合的技术创新体系。建设创新型国家之所以要以企业为主体,是因为企业 ( )

- A. 是以盈利为目的的法人组织
- B. 是各种物品和服务的生产者
- C. 是推动社会经济技术进步的主要力量
- D. 是社会消费的直接承担者

35. 杭州某超市制定内部制度,要求员工下班的时候在超市出口处摸围棋,摸到黑子的则被搜身。这一做法 ( )

- A. 有利于维护企业的合法权益
- B. 侵犯了劳动者获得安全卫生保护的权利
- C. 违反了法律、行政法规规定的原则
- D. 违背了市场经济的自发性,应加强宏观调控

36. 2007年上半年,全国已关停小火电机组550万千瓦,完成全年关停1000万千瓦目标的55%。这是政府运用\_\_\_\_\_手段进行宏观调控。 ( )

- A. 经济 B. 行政 C. 法律 D. 政治

37. 右图说明面对日益激烈的就业形势,大学生应 ( )

- ①转变就业观念
  - ②提高学历水平
  - ③争取政府扶持
  - ④提高自身素质
- A. ①② B. ②③ C. ①③ D. ③④



38. 在财政收入形式中占主导地位,征收面最广、最稳定可靠的财政收入形式是 ( )

- A. 税收收入 B. 利润收入 C. 债务收入 D. 罚没收入

39. 一些医院药价过高、过度服务和乱收费现象严重,群众意见很大。这种现象主要说明 ( )

- A. 追求经济效益的行为是错误的
- B. 人身安全权是消费者最主要的权利
- C. 市场调节具有盲目性和滞后性的弱点
- D. 市场调节具有自发性弱点

40. “十一五”规划指出,我们要进一步完善城镇职工基本养老保险、失业保险和医疗保险



42. 十六届五中全会指出要“培养有文化、懂技术、会经营的新型农民,提高农民的整体素质,通过农民的辛勤劳动和国家的政策扶持,明显改善广大农村的生产生活条件和整体面貌”。

“明显改善广大农村的生产生活条件和整体面貌”中有一点就是要提高农村的文化消费水平,运用经济学常识有关知识说明如何提高农村的文化消费水平?

#### 四、综合探究题:请你进入下列情景中,参与问题的探究与分析(本题 14 分)。

43. 某班同学在开展“中国汽车产业的现状与发展趋势”的研究性学习活动中,收集了如下几则材料:

**材料一** 《国务院关于加快推进产能过剩行业结构调整的通知》指出:当前,部分行业盲目投资、低水平扩张导致生产能力过剩,已成为经济运行中的一个突出问题。汽车、钢铁等行业产能已经出现明显过剩,但一些地方和企业仍在这些领域上新项目,导致这些行业产品价格下跌,库存上升,企业利润增幅下降,亏损增加。

#### 材料二

我国汽车行业生产能力和需求现状及趋势预测 (单位:万辆)

	产 能	销 售
2005 年	800	570
2007 年	1400	700
“十一·五”期末	2000	1000

注:中国汽车产业的整体水平与世界先进水平有较大距离。中国汽车企业规模较小,产业散、乱,现象严重,在 100 多家整车生产厂家中,7 家产能及销售占市场 70% 以上,而年销量不足 1 万辆的有 72 家,年销量在 1000 辆以下的有 46 家。目前国内汽车产业自主品牌缺乏,而进口品牌过剩。

**材料三** 小排量汽车曾因废气、噪声污染严重,安全性不达标,外观不佳影响城市形象,而被许多城市叫停。其实,这种限制措施的善意并不符合我国目前发展阶段的要求。事实证明,小排量汽车占用城市道路资源和停车场比较小,是一种经济型车子。通过技术革新,其安全和环保状况也有很大改善。据国家统计局公布的数字,在国家政策鼓励和引导小排量汽车发展的政策引导下,1~2 月份我国汽车整车行业主营业务收入同比增长 38.2%,实现利润同比增长 3.2 倍。

阅读上述材料,回答下列问题:

(1) 该班同学收集的资料包含了哪些经济信息?

(2) 该班同学要以获得的经济信息为依据,拟订一个解决我国汽车产业存在问题的方案,你能从经济学方面为他们拟订方案提供哪些参考性意见?

(3) 从哲学角度看,开禁小排量汽车体现了什么样的想问题、办事情的原则和方法?



## 启东中学高考模拟试卷 政治(三)

一、判断题:对下列各题观点进行判断,正确的选择 A,错误的选择 B。(10 小题,每小题 1 分,共 10 分)

1. 货币执行价值尺度和流通手段职能需要的是现实的货币。
2. 我国的个体经济、私营经济、外资经济都是社会主义市场经济的重要组成部分。
3. 对外开放是我国的一项长期的基本国策。
4. 外汇储备是稳定汇率的有效手段。
5. 专制制国家不存在民主,民主制国家不存在专政。
6. 人民代表大会和其他国家机关是领导与被领导,监督与被监督的关系。
7. “三个代表”重要思想从经济、文化、政治方面完整地概括了党的先进性。
8. 离开物质谈运动会犯形而上学的错误,离开运动谈物质会陷入唯心主义,因而都是错误的。
9. 任何两个事物之间都有联系,说明联系具有普遍性。
10. 事物发展的总趋势是曲折的。

二、单项选择题:下列各题的四个选项中,只有一项是符合题意的。请选出你认为正确的选项。(30 小题,每小题 2 分,共 60 分)

11. “三个代表”重要思想是我们党的立党之本,执政之基,力量之源。贯彻“三个代表”重要思想,关键是  
A. 大力发展生产力  
B. 人民群众的支持和拥护  
C. 坚持与时俱进  
D. 坚持党的先进性
12. 南京市建邺区公安分局南湖派出所民警为犯罪嫌疑人准备了护腕,以免手铐将犯罪嫌疑人手腕勒出印痕;各地司法机关表示,不再组织罪犯“游街”示众,不再组织“公开审判大会”,不再以侵犯罪犯的人格尊严来震慑犯罪。这些做法体现了  
A. 任何公民的违法犯罪行为都将受到法律的制裁  
B. 任何公民在立法和司法方面都是平等的  
C. 任何公民都平等地享有权利和履行义务  
D. 任何公民的合法权利都受到法律保护
13. 党的思想建设、组织建设、作风建设是党的建设的基本组成部分。党的执政能力建设与它们之间的关系是  
A. 党的思想建设和作风建设提供思想基础  
B. 党的思想建设、组织建设和作风建设是有机统一的  
C. 党的执政能力建设必须为党的基本建设服务  
D. 党的各方面建设,最终都应体现在党的执政能力建设上来
14. 我国人民行使国家权力,参与管理国家事务的基础和标志是  
A. 人民民主专政的国家政权

- B. 行使选举权和被选举权
- C. 坚持社会主义公有制为主体
- D. 享有政治自由权利

15. 新实施的《公务员法》把干部竞争上岗、公开选拔、任职公示、引咎辞职都上升为法律条文,这将使干部聘任、使用高度透明、民主。由此可见 ( )

- A. 民主是社会主义的本质属性和内在要求
- B. 社会主义民主政治建设的主要任务是扩大公民民主权利
- C. 社会主义政治文明不断得到发展
- D. 发展社会主义民主,就是实行民主决策、民主监督

16. 符合市场原则的中海油并购美国优尼科公司、阿联酋公司并购美国港口等海外并购议案,都因美国认为会危及国家安全而受阻。这主要说明 ( )

- A. 国家利益决定国际关系
- B. 国家力量决定国际关系
- C. 国家性质决定外交政策
- D. 国家力量决定外交政策

17. 下列对民族区域自治的理解,正确的是 ( )

- A. 民族区域自治制度是我国的根本政治制度
- B. 实行民族区域自治是我国处理民族关系的基本原则
- C. 民族区域自治地方是在中央统一领导下的地方行政区域
- D. 实行民族区域自治的地方享有高度自治权

18. 2006 年 1 月 1 日零时,中华人民共和国中央人民政府门户网站正式开通。中国政府门户网站的开通 ( )

- ①有利于公民更好地行使监督权
- ②反映了我国政府开明、民主的新形象
- ③有利于我国公民意志的充分表达
- ④使人民群众能直接行使国家权力

A. ①②③ B. ②③④ C. ①③④ D. ①②③④

19. 一个警告人们如果不吃“旺旺”,就会让你一年不旺的“旺旺”产品电视广告片,因涉嫌违反《广告法》第 7 条,传播迷信内容,被江苏省工商局紧急叫停。人类社会发展到今天,竟然会出现宣传封建迷信的电视广告片,向天下广而告之。由此可见 ( )

- ①国家要履行文化职能,在全国加强科学世界观的宣传
- ②国家要教育人民,自觉抵制封建迷信思想的侵蚀
- ③社会主义文化建设能够为经济建设提供精神动力
- ④国家要实施以德治国战略,加强社会主义精神文明建设

A. ①②③ B. ②③④ C. ①②③④ D. ①②④

20. 为了实现“两个率先”,江苏省委、省政府多次召开党外人士座谈会,听取人民政协各民主党派、工商联领导人和无党派人士的意见和建议。这表明 ( )

- ①中国共产党坚持民主执政
- ②人民政协具有参政议政、民主监督等职能
- ③中国共产党充分发扬党内民主



④我国坚持中国共产党领导的多党合作和政治协商制度

- A. ①②③ B. ②③④ C. ①②④ D. ①③④

21. “江山代有才人出,各领风骚数百年。”其哲学寓意是

- A. 量变必然引起质变  
B. 事物是不断变化发展的  
C. 运动是物质的唯一特性  
D. 杰出人物决定历史发展方向

22. 右侧漫画《各人心目中的“上帝”》的哲学寓意是

- A. 上帝也是客观存在的  
B. “上帝”纯粹是人心灵的产物  
C. 意识是客观事物在人脑中的再现  
D. 意识的内容是客观的,形式是主观的

23. 儒家学说中的“己所不欲,勿施于人”和“仁者爱人”思想,在今天依然是我们处理人与人之间关系的准则。这表明

- A. 科学理论具有巨大的促进作用  
B. 事物处于历史联系中  
C. 社会意识的影响是第一性的  
D. 矛盾特殊性寓于矛盾普遍性之中

24. 被列宁称之为“马克思主义活的灵魂”的是

- A. 坚持一切从实际出发  
B. 坚持实事求是  
C. 坚持具体问题具体分析  
D. 坚持用一分为二的观点看问题

25. “当不幸降临他人头上时,人们往往都能像智者一样劝慰别人;而当同样的不幸降临到自己身上时,人往往很难同样地开导自己。”这表明

- A. 事物的内部矛盾是事物发展的动力  
B. 矛盾双方的地位和作用具有不平衡性  
C. 复杂事物所包含的多种矛盾具有主次之分  
D. 矛盾主次方面相互依赖、相互影响

26. 从哲学角度讲,抓关键就要

- A. 统筹兼顾  
B. 集中力量抓矛盾的主要方面  
C. 集中力量解决主要矛盾  
D. 抓重点就不能不谈两点论

27. 一位哲学家曾说:“经验丰富的读书人读书用两只眼睛,用一只眼睛看到纸面上的话,还要用另一只眼睛看到纸的背面。”这表明

- A. 经验是我们办事的根本出发点  
B. 现象不可靠,本质才是可靠的  
C. 两分法是认识事物的根本方法  
D. 要不断提高自己的认识能力

28. 实现主观与客观、个人与社会相统一的基础是

- A. 正确认识和把握国情  
B. 物质资料的生产方式  
C. 生产劳动  
D. 社会实践

29. 采用GDP作为衡量经济发展的指标,导致了人们单纯追求GDP的增长而不惜以牺牲资源和环境为代价。据此,有关专家提出绿色GDP的概念。这说明

- ①理念总是落后于现实的  
②物质决定意识,意识对物质具有反作用  
③联系具有普遍性和客观性  
④认识在实践基础上不断深化和发展

- A. ①②③ B. ②③④ C. ①②④ D. ①③④

30. “区域的整体定位以及各城市的职能与分工”是长三角区域规划的一个重要内容。确定这一内容,从哲学上讲是因为

- ①整体功能大于局部功能之和  
②搞好局部,整体功能就能得到最大发挥  
③在整体和部分的系中,整体处于统率的决定地位  
④整体和部分相互影响、相互制约

- A. ①②③ B. ②③④ C. ②③④④ D. ③④④

31. 货币在人们的经济生活中,有价值尺度、流通手段、贮藏手段、支付手段和世界货币等职能,这些职能

- A. 是货币本质的表现  
B. 可由纸币来执行  
C. 伴随着货币的产生而产生  
D. 是货币与一般等价物共有的

32. 漫画反映了市场调节具有\_\_\_\_\_的弊端。

- A. 盲目性  
B. 自发性  
C. 滞后性  
D. 无序性


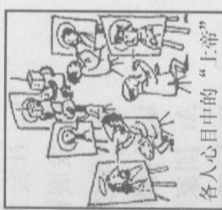
33. “民亦劳止,汔可小康。”其意是讲,老百姓日夜劳作不止,最大的希望就是

- ①全面发展  
②以人为本  
③同步发展  
④协调发展

- A. ①②③ B. ①③④ C. ①②④ D. ②③④

34. 目前,我国各级政府正致力于提升医疗、住房、教育、安全、社会保障等民生指标,以推进和谐社会的建设。这表明各级政府

- A. 坚持以人民群众的根本利益为出发点  
B. 重视事物量的积累  
C. 尊重和维个人利益





D. 树立崇高的社会理想

35. 2006年12月11日是我国加入世界贸易组织5周年纪念日。加入世贸组织 ( )

- ①标志着我国已成为世界经济强国
- ②有利于扩大对外开放
- ③有利于促进经济体制改革和经济结构的战略性调整
- ④使我国经济发展面临严峻的挑战

A. ①②③

B. ②③④

C. ①②④

D. ①③④

36. “面粉涨价了,也得买”;“金涨价了,以后再买金项链吧”。这些经济现象我们都感受过。这里包含的经济学道理是

- ①价格变动会引起商品需求量的变动
- ②价格变动对生活必需品需求量的影响较小
- ③价格变动对高档耐用品需求量的影响比较大
- ④价格变动对各种商品需求量的影响是相同的

A. ①②③

B. ②③④

C. ①③④

D. ①②④

37. 最近几年,内地与香港、澳门建立了更紧密经贸关系,内地对原产于香港、澳门的产品进口已经全部实施零关税。此外,自去年起,大陆对台湾10余种水果实行零关税。其主要目的是

A. 保护大陆同类商品的生产发展

B. 增加先进技术和设备的进口

C. 调节大陆市场的供求关系

D. 促进大陆与港澳台经济的共同发展

38. 发展社会主义市场经济需要建立完善的信用体系。信用体系建立及正常运行的根本保障是

A. 加强社会主义道德建设

B. 加强国家对经济的干预

C. 加强社会主义法制建设

D. 加强群众的舆论监督

39. 我国新型工业化道路的主要特征是

A. 以信息化带动工业化

B. 以产业化带动工业化

C. 以知识化带动工业化

D. 以现代化带动工业化

40. 食品安全问题越来越引起人们的关注,许多地方把搞好食品安全作为政府重要工作来抓。关注食品安全,体现了

A. 人们的消费水平越来越高

B. 使用价值是商品的本质属性

C. 使用价值是价值的物质承担者

D. 商品价值关系人们的切身利益

三、简答题:请紧扣题意,结合所学相关知识,简要回答问题。(2题,每题8分,共16分)

41. 几年来,朝鲜核问题又成为全球一大焦点,中方在朝鲜核问题上的立场是一贯的、明确的。我们历来主张并积极致力于维护朝鲜半岛的和平与稳定,赞成半岛无核化,反对大规模杀伤性武器在朝鲜半岛的扩散。这不仅是在本地区和平与稳定的需要,也符合国际社会的共同利益。同时,我们认为,朝鲜的安全必须得到切实的保证。只有通过有关各方建设性的对话、磋商和真诚合作,才是最终解决朝核问题唯一正确和有效的途径。中国与国际社会一样十分关注近来围绕朝核问题出现的一些新情况,真诚地希望有关各方能保持克制,从维护朝鲜半岛和平与稳定的大局出发,在平等和相互尊重的基础上,通过对话和谈判努力寻求以和平外交的方法解决有关问题。

结合上述材料说明我国政府的上述立场是如何体现我国的外交政策的。

42. GDP代表着目前世界通行的国民经济核算体系,但是它并没有反映经济发展对资源环境所产生的负面影响。据了解,每万元GDP能源(吨标准煤)消耗,日本为1.96,德国为2.36,美国为3.93,中国为11.8。单纯追求GDP增长,导致了传统经济发展模式“产品高价,资源低价,环境无价”的特征,导致了严重的资源破坏与环境污染,对人类社会的发展带来威胁。

阅读上述材料,简要回答:

(1)请从哲学上说明单纯追求GDP数量增长是错误的。

(2)依据所学经济生活知识,谈谈如何解决单纯追求GDP数量增长的错误倾向。



四、综合探究题：请你进入下列情境中，参与问题的探究与分析。（本题 14 分）

43. 2006 年 3 月 4 日，中共中央总书记、国家主席、中央军委主席胡锦涛在看望参加两会的政协委员时强调要引导广大干部群众特别是青少年树立社会主义荣辱观，并将之概括为鲜明而精辟的“八荣八耻”。某校高三(5)班同学决定围绕“树立和践行社会主义荣辱观”这一课题展开探究学习。

(1) 经过探究，同学们首先明确了树立社会主义荣辱观的重要意义。假设你是该班学生，请你运用矛盾的观点分析说明知荣明耻的重要意义。

(2) 通过调查，学生们发现，中国目前正处于改革转型期，多元的价值一方面扩展了国人的选择自由，很多人都可按照自己的想法生活而无需背负很大的思想压力；另一方面也在价值折中和多元妥协中模糊了一些基本的道德判断。比如，艰苦奋斗曾是国人引以为豪的一种品质，可这种品质正被一种蔓延的骄奢淫逸之风所稀释，人们介绍自己“是靠艰苦奋斗而取得某种成绩”时不再像过去那么充满自豪感。

请你针对上述情况，从价值观角度说明，新时期我们为什么还应该以艰苦奋斗为荣、以骄奢淫逸为耻？

(3) 运用政治学的有关知识，谈谈你对树立和践行社会主义荣辱观的认识。

(4) 经过探究，学生们达成这样一个共识：树立社会主义荣辱观，青年学生应走在前列。请你写一封信，对青年学生应怎样树立和践行社会主义的荣辱观提出两条建议。



## 启东中学高考模拟试卷 政治(四)

一、判断题:对下列各题观点进行判断,正确的选择 A,错误的选择 B。(10 小题,每小题 1 分,共 10 分)

1. 县、乡两级人民代表大会的代表由选民间接选举产生。
2. 我们要扩大人民群众的知情权、参与权、监督权和决策权。
3. 中国共产党和各民主党派的知情权、参与权、监督权和决策权的关系。
4. 我国的基本民族政策是民族平等、民族团结和各民族共同繁荣。
5. 货币的基本职能是价值尺度和流通手段。
6. 就业是民生之本。扩大就业是我国当前和今后长期重大而艰巨的任务。
7. 吸收存款、发放贷款、办理结算是各类银行的三大基本业务。
8. 运动是指事物的前进和上升,是新事物的产生、旧事物的灭亡。
9. 真理最基本的属性是客观性。
10. 整体与部分的关系就是系统与要素的关系。

二、单项选择题:下列各题的四个选项中,只有一项是符合题意的。请选出你认为正确的选项。(30 小题,每小题 2 分,共 60 分)

11. 党的十六大报告指出,发展社会主义民主政治,建设社会主义政治文明,是全面建设小康社会的重要目标。发展社会主义民主政治,最根本的是
  - A. 把坚持党的领导放在首位
  - B. 把坚持人民当家作主放在首位
  - C. 把坚持依法治国放在首位
  - D. 坚持党的领导、人民当家作主和依法治国的有机统一
12. 由于“国家性质决定国家职能”,因此
  - A. 国家性质也就是国家职能
  - B. 国家性质相同,国家职能也就相同
  - C. 国家性质不同,国家职能也就不同
  - D. 国家职能的履行是和国家的性质相一致
13. 我国的国家主席
  - A. 有权单独决定国家的重大事务
  - B. 是由人民代表大会选举产生
  - C. 连续任期不得超过两届
  - D. 其权力相当于总统制民主共和制下的总统
14. 依照我国现行法律,我国的人大代表选举实行的是\_\_\_\_\_选举制度,任期\_\_\_\_\_。
  - A. 直接选举 三年
  - B. 直接选举和间接选举相结合 三年
  - C. 间接选举 三年
  - D. 直接选举和间接选举相结合 五年
15. 对于我国的政党制度,正确的认识是
  - A. 生存权和发展权
  - B. 选举权和被选举权
  - C. 集会言论等自由权利

- ① 中国共产党是执政党,在国家机构体系中处于最高地位
- ② 民主党派是参政党,在人民代表会议中有代表民主党派派的党员
- ③ 坚持四项基本原则是多党合作的政治基础
- ④ 建设中国特色社会主义理论是新时期巩固和发展多党合作的指导思想
- ⑤ 民主党派和中国共产党在组织上独立,在法律地位上平等

- A. ①②③④⑤
- B. ②③④⑤
- C. ③⑤
- D. ③④⑤

16. 右图漫画主要说明

- A. 封建迷信在新时期本质发生了很大变化
- B. 封建迷信骗钱害人,必须依法惩治
- C. 封建迷信与宗教是有本质区别的
- D. 宗教对社会的发展主要起阻碍作用

17. 清朝有位商人从上海运一批货物到汉口,受到了各地官吏的百般刁难和严重勒索。他气愤地说:“清政府有条约规定,外国商船和军舰可以在长江自由航行,不受盘查,而我们中国人为什么不行?难道非要中国商船插上外国旗帜才有生路?”这给我们的启示是

- A. 国家利益是国家生存和发展的必要条件
- B. 提高综合国力必须先提高经济实力
- C. 主权是国家的生命和灵魂
- D. 在国家交往中必须遵守《国际法》

18. 近几年,我国在立法上坚持群众路线,通过组织立法听证会、论证会、座谈会等多种形式,广泛征求社会各方面的意见。这样做

- ① 使制定的法律能够充分体现人民群众的意见
- ② 增强了法律贯彻实施的群众基础
- ③ 贯彻了公民在法律面前人人平等的原则
- ④ 有利于公民充分行使立法权

- A. ①②③
- B. ①②
- C. ①②③④
- D. ②③

19. 胡锦涛在美国耶鲁大学发表演讲时指出,文明多样性是人类社会的客观现实,是当今世界的基本特征,也是人类进步的重要动力。尊重文明多样性

- A. ①②③
- B. ②③④
- C. ①③④
- D. ①②④

20. 在我国既是公民最基本的民主权利,又是公民参与国家管理的重要标志的是

- A. 生存权和发展权
- B. 选举权和被选举权
- C. 集会言论等自由权利



27. 小张采用银行按揭贷款的方式买了售价为30万元的新房,首付款8万元,然后在15年内付清银行贷款22万元及利息5万元。其中5万元利息、30万元房价、8万元首付金分别体现了货币的\_\_\_\_\_职能。( )

- A. 贮藏手段、流通手段、价值尺度
- B. 价值尺度、支付手段、流通手段
- C. 支付手段、流通手段、贮藏手段
- D. 支付手段、价值尺度、流通手段

28. 下列关于经济效益与劳动生产率之间关系的正确说法是( )

- A. 两者的提高都一定能导致利润的增加
- B. 两者都是衡量一切经济活动的最终的综合指标
- C. 劳动生产率的提高意味着经济效益的提高
- D. 一般来说企业的经济效益好,其劳动生产率高

29. 据统计,近十多年来,我国已有约2400万农民成为失地农民,其中相当一部分已转化为城镇的打工者或居民。对此认识正确的是( )

- A. 失地农民的出现有利于促进建设社会主义新农村
- B. 农民转化为城镇的打工者或居民有利于打破城乡二元结构
- C. 特殊群体的产生不利于构建社会主义和谐社会
- D. 失地农民节约了大量土地资源,从根本上解决了土地紧缺问题

30. 世界贸易组织第六次部长级会议的主要成果包括:发达成员和部分发展中成员同意2008年前向最不发达国家提供免关税和配额市场准入;发达成员2006年取消棉花出口补贴,2013年底前取消农产品出口补贴。这( )

- A. 有利于最不发达国家的出口贸易
- B. 消除了国际贸易中的不等价交换问题
- C. 保证了发展中国家实现贸易顺差
- D. 解决了最不发达国家经济问题

31. 2008年北京奥运会的口号是“同一个世界,同一个梦想”。这一口号反映的哲学观点是( )

- A. 没有梦想,就没有世界
- B. 思维与存在的关系
- C. 形而上学观点
- D. 唯心主义观点

32. “臭虫至秽,变为蝉而饮露于秋风;腐草无光,化为萤而耀彩于夏月。因知洁常自污出,明每以秽生也。”这句话说明的哲理是( )

- A. 事物现象分为真象和假象
- B. 感性认识必须上升到理性认识
- C. 实践是认识的来源和动力
- D. 矛盾指的就是对立统一

33. 子曰:“三人行,必有我师焉,择其善者而从之,择其不善者而改之。”下列名言中与此具有相同哲理的是( )

- A. 人无远虑,必有近忧

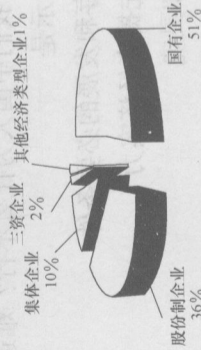
D. 对国家机关及其工作人员的监督权  
21. 汉字激光照排系统的问世,使我国印刷业告别了铅与火时代,逐步进入光与电的时代,有力地推动了我国新闻出版事业的发展。这一事实说明了( )

- A. 创新是社会进步的不竭动力
- B. 创新需要发挥主观能动性
- C. 创新是事物性质的根本变化
- D. 只有高新技术才能推动社会发展

22. 汉字激光照排系统在市场上也创造了一个神话,早在1992年就已占据了中国报业的92%、海外中文报业80%的市场份额。这对中国企业最重要的启示是( )

- A. 要努力扩大市场
- B. 要提高产品质量
- C. 要走自主创新之路
- D. 要投资高新技术产业

23. 某地工业增加值的不同所有制的构成( )



上图表明该地

- A. 坚持走新兴工业化道路
- B. 股份制已成为公有制经济的主要实现形式
- C. 形成了公有制为主体,多种所有制经济共同发展的所有制结构
- D. 国有经济的主体地位不断增强

24. 人民最关心最直接、最现实的就业、教育、卫生、房地产价格等重大问题得到2006年“两会”的高度关注。从经济学上看,这是因为( )

- A. 任何社会成员都同等地享受社会保障
- B. 社会主义生产目的是满足人民日益增长的物质文化需求
- C. 市场调节的弱点和缺陷需要加强国家的宏观调控
- D. 实现充分就业有利于保障社会的稳定

25. 在社会再生产四个环节中起决定作用的是( )

- A. 生产
- B. 分配
- C. 交换
- D. 消费

26. 目前,使用银行信用卡已成为人们生活的重要内容。人们之所以喜欢使用银行信用卡,这是因为它( )

- ①具有消费、转账结算、存取现金、信用贷款等功能
- ②方便购物消费,增强消费安全,方便持卡人
- ③能够减少现金的使用,简化收款手续,方便银行和商家
- ④能借助于银行的电子计算系统自动完成,不存在风险

- A. ①②③
- B. ②③④
- C. ①②④
- D. ①③④