

…三年磨一剑
…启东铸辉煌

启东中学

中考模拟试卷


启东中学一线特级教师集体编写

总主编 王生
分册主编 张永胜

历史



机械工业出版社
CHINA MACHINE PRESS



目 录

前 言

人才培养的沃土 美赛金牌的摇篮

——江苏省启东中学

江苏省启东中学创办于1928年10月,现占地350亩,建筑面积10.5万平方米,99个教学班,教职工450余人,在校学生5600余人。1998年4月,学校通过了“国家级示范性普通高中”的评估验收,2003年12月成为江苏省首批四星学校。

该校师资力量雄厚。在职教师中,有博士1人,硕士3人;特级教师5人,省中青年专家2人,高级教师120余人。校园环境优美,曾被评为南通市十佳校园、南通市“建国50周年十大新景观”之一。学校办学条件优良,一流的实验楼、图书馆、体育馆、艺术馆和多媒体教学网络,能满足师生教学训练和个性发展的需要。学校把“面向全体学生,促进全面发展,培养特色人才,为学生的终身发展奠基”作为学校的办学理念。多年来,高考成绩一直稳居全省前茅,重点大学上线率稳定在90%以上,每年都有10余名考生考入清华、北大。1995年至今我校在国际奥林匹克奥林匹克竞赛中获得“十二金两银”。其中,朱力同学以第一名的优异成绩获得第7届亚洲中学生物理奥林匹克竞赛金牌,接着在第37届国际中学生物理奥林匹克竞赛中再夺金牌。体育、文艺、小发明等方面培养了不少特长生,陈骏马、张大雷的小发明获国际中学生小发明金奖;秦章原同学荣获第五届全国青少年发明成果奖;蔡启楷同学荣获国家田径一级运动员称号,成为南通市普通中学中第一个获此称号的中学生。学校被誉为“人才培养的沃土、美赛金牌的摇篮”。学校重视开展综合治理,创建和谐校园工作,为师生创造了良好的工作环境,先后获得全国精神文明先进单位、江苏省文明单位标兵、江苏省先进基层党组织、江苏省模范学校、江苏省德育先进学校、江苏省小学党建工作先进单位、全国卫生工作先进单位、江苏省先进职工之家、江苏省五四红旗团委标兵、江苏省综合治理先进单位等荣誉称号。

经过近八十年的岁月洗礼,启东中学现已成为国内一流、国际有一定影响的现代化名校,她的名字已响彻大江南北。

启东中学的一批名师和学科带头人,在教学之余,认真加强教育科研和高中、高考试题的研究,建立起学校自己的题库,取得了很好的教学效果。为了真诚答谢全国兄弟学校的厚爱,满足广大师生的期盼,应国内久负盛名、权威的机械工业出版社的盛情邀请,我校组织了教学一线的数十位特、高级教师和金牌教练,结合多年以来特别是新、高考改革和新课程改革以来的教学实践经验,精心策划编写了这套科学、实用的《启东中学中(高)考模拟试卷》。启东中学和机械工业出版社强强联手推出的这套丛书,体现了我校的教学实际和培优补差经验,原汁原味,相信一定会受到广大读者朋友的青睐。

本套书目标编制上更是进行了大胆创新,体现出鲜活的时代气息,注重试题立意新、内容构造新、创设情景新、设问方式新、开放探究新,力求体现新一轮课改、教改、考改的新趋势,更能适应不同层次的地、校、学生使用,既可打双基础,又能提高学习能力、应试能力,本书充分凸现如下指导思想 and 特色:

1. 创新思维的教育理念。编写时充分体现新一轮课改、课改的要求,体现新课程的教育思想、教育观念,闪现超凡思维。试题的选编体现“原创与经典”相结合的原则,着力加强“能力型、开放型、应用型 and 综合型”试题的开发和研究,各科均配有有一定数量的作者最新原创作品。本套《启东中学中(高)考模拟试卷》能从试题的考纲、考点、考题的“三考”导向目标上审视,并从试题解题方法与技巧上点拨与剖析,堪称中、高考学生导学、导练、导考的优秀辅导材料。

2. 详实规范的思路点拨。答案详解详析,以突出知识点和基本方法,并尽可能传授解题技法,注重“解决”怎么做”和“怎样想到要这样做”的问题,适用面特别广。

在本套丛书的编写过程中,我们尽管做到字字推敲,题题把关,历时数月,反复校审,但仍难免存在一些错误和疏漏之处,恳请广大读者朋友批评指正,以便我们能及时修正。

狄道德和启东中学共同进步!

(作者为江苏省启东中学校长、党委书记、中学教育特级教师、教育专家、江苏省有突出贡献的中青年专家、全国人大代表)

前 言	(1)
启东中学中考模拟试卷 历史(一)	(9)
启东中学中考模拟试卷 历史(二)	(17)
启东中学中考模拟试卷 历史(三)	(25)
启东中学中考模拟试卷 历史(四)	(33)
启东中学中考模拟试卷 历史(五)	(41)
启东中学中考模拟试卷 历史(六)	(49)
启东中学中考模拟试卷 历史(七)	(57)
启东中学中考模拟试卷 历史(八)	(65)
启东中学中考模拟试卷 历史(九)	(73)
启东中学中考模拟试卷 历史(十)	(81)
参考答案	

启东中学中考模拟试卷 历史(一)

班级 _____ 学号 _____ 姓名 _____ 得分 _____

本试卷分第 I 卷(选择题)和第 II 卷(非选择题)两部分,共 50 分钟。考试时间为 50 分钟。考试结束,将试卷、答题卡一并交回。

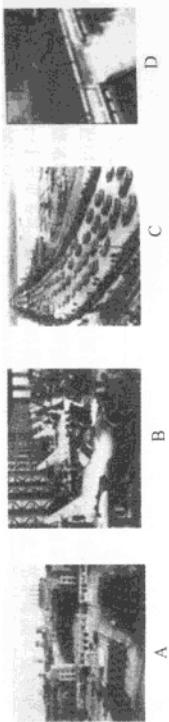
注意: 1. 答 I 卷前,考生必须将自己的姓名、考号、科目名称用 2B 铅笔填涂在答题卡上。
2. 每小题选出答案后,用 2B 铅笔把答题卡上对应题目的答案标号涂黑,如需改动,用橡皮擦干净,再选其他答案,不能答在试卷上。

第 I 卷(选择题 共 20 分)

一、选择题(下列各题的四个选项中,只有一个最符合题意的答案。每小题 1 分,共 20 分)

题号	1	2	3	4	5	6	7	8	9	10	11	12	13	14	15	16	17	18	19	20
答案																				

- 在一次历史知识竞赛上,主持人刚说完:“这是一次由战胜国参加的国际会议,会上中国代表的正义要求遭到拒绝,消息传到中国,引发了一场大规模的反帝反封建爱国运动”,张明同学就知道了正确答案。这一会议是
A. 巴黎和会 B. 华盛顿会议 C. 慕尼黑会议 D. 雅尔塔会议
- 一名军人是在 1928 年底在井冈山参军入伍的,当年他参加的队伍应该是
A. 国民革命军 B. 中国工农红军 C. 新四军 D. 解放军
- 学完抗日战争这段历史,某班同学出了一期板报,下列板报内容最能反映日军野蛮暴行的是
A. 难忘九一八 B. 血染卢沟桥 C. 南京大屠杀 D. 血战台儿庄
- 抗战期间,中国军队主动出击日军最大规模的战役是
A. 平型关大捷 B. 徐州会战 C. 百团大战 D. 台儿庄战役
- 某校历史兴趣小组的同学准备举办“一五计划成果展示会”。他们找到了以下图片资料,哪一项不适合采用
A. 长春第一汽车制造厂 B. 第一批国产喷气式飞机
C. 武汉长江大桥 D. 葛洲坝水利工程



- 1954 年制定的《中华人民共和国宪法》最主要的特点是
A. 规定了人民的权利和义务 B. 是中国第一部社会主义类型的宪法
C. 代表广大人民的意志 D. 是中国人民建设社会主义的保证
- “大跃进”和人民公社化运动,是党在什么过程中的一次严重失误
A. 第一个五年计划具体实施过程中 B. 探索社会主义道路过程中
C. 新中国成立后的土地改革过程中 D. 三大改造和社会主义制度建立过程中
- 下列事件发生的先后顺序是
①九一八事变 ②七七事变 ③八一三事变 ④西安事变
A. ①④②③ B. ①②④③ C. ①③④② D. ①②③④
- 人民解放军以徐州为中心,同国民党军展开主力决战的是
A. 辽沈战役 B. 平津战役 C. 淮海战役 D. 渡江战役
- 1913 年英、美、德、法的实力对比如下表

	英	德	美	法
在工业产品数量上所占位次	3	2	1	4
在殖民地面积上所占位次	1	4	5	2

- 上述表格所反映的史实导致的直接后果是
A. 三国同盟和三国协约的形成 B. 轴心国集团和反法西斯同盟的形成
C. 北约和华约的形成 D. 欧盟和欧元体的形成
- 关于二战后世界政治经济格局表述错误的一项是
A. 1995 年成立的世贸组织是世界经济全球化的一个重要表现
B. 中国在 2001 年加入 WTO 后,在经济全球化过程中扮演越来越重要的角色
C. 在经济全球化过程中,发展中国家常常处于不利地位
D. 苏联解体后,美国奉行霸权主义政策,世界依然存在随时爆发大规模战争的危险
 - 美国南北战争时,林肯政府对南方宣战主要是为了
A. 发展资本主义 B. 解放黑人奴隶
C. 争夺西部领土 D. 维护国家统一
 - 1991 年 12 月 25 日,红蓝白三色旗取代了镰刀锤子红旗,以此为标志而结束的苏联在历史上存在了
A. 67 年 B. 69 年 C. 73 年 D. 74 年
 - 二战后,促进日本经济发展的措施中,最具远见的一项是
A. 大力引进外国先进技术和管理经验 B. 重视科技和教育的发展
C. 实行国民经济非军事化 D. 实行严格的企业管理制度
 - 某同学在复习课上将文艺复兴、启蒙运动、新文化运动归纳为一个专题,这个专题的名称可以确定为
A. 民主革命的影响 B. 政治改革的意义
C. 民族战争的结果 D. 思想解放的作用
 - 在罗斯福新政中,既直接提高就业率,又为经济发展开拓空间的措施是
A. 恢复银行信用 B. 调整农业经济

(2)结合所学知识,简要说说我国改革开放的格局是怎样的?有何特点?(2分)

- C. 规范企业行为
D. 兴建公共工程
17. 明明同学暑假期间旅行到某地区,发现那里不同国籍的人却拥有统一的护照,使用统一的货币。他所到之地属于 ()
A. 欧洲 B. 北美洲 C. 大洋洲 D. 南美洲
18. 莎士比亚是文艺复兴时期著名的剧作家,他的作品主要有 ()
①《神曲》 ②《威尼斯商人》 ③《哈姆雷特》 ④《巨人传》 ⑤《堂吉珂德》
A. ①② B. ②③ C. ③④ D. ④⑤
19. 下列内容与雅尔塔会议有关的是 ()
A. 成立国际联盟 B. 在欧洲开辟第二战场
C. 敦促日本无条件投降 D. 成立联合国
20. 各国走上资本主义道路的方式多种多样,俄国是通过废除农奴制的改革走上资本主义道路的,签署这项法令的沙皇是 ()
A. 彼得一世 B. 叶卡捷琳娜二世 C. 亚历山大二世 D. 尼古拉二世

第 II 卷(非选择题 共 30 分)

注意事项:

用钢笔或圆珠笔直接答在试卷上

题号	21	22	23	24	25	II 卷总分	总分人	核分人
得分								

二、材料分析题(15分)

21. 材料一:改革开放的胆子要大一些,敢于试验,不能像小脚女人一样,看准了的,就大胆地试,大胆地闯。

材料二:党的基本路线要管一百年,动摇不得。

材料三:发展才是硬道理。

请回答:

(1)上述这些材料是谁说的?他在我国改革开放和现代化建设中居于什么地位?(2分)

22. (1)它是南亚印度河流域古代雅利安人的一种严格的等级制度。根据这个制度,社会分为四个等级,各个等级之间高低贵贱有别,下一等级的人没有资格从事高一等级的职业,不同等级的不得通婚。这个制度是_____。(1分)

(2)他是古巴比伦王国的国王,为维护奴隶主利益,他制定了一部法典,这部法典是世界上最上现存古代第一部比较完备的成文法典。这个人物是_____。(1分)

(3)他是一个军事天才,在24岁的时候因战功卓著当上了将军,成为法国大革命时期一颗璀璨的新星,后发动政变,加冕称帝,多次打败反法同盟,打了无数次的胜仗,但最后因滑铁卢之战,一世英名毁于一旦。同时他颁布了巩固资产阶级成果的《法典》。这个人物是_____。(1分)

23. 材料一：欧洲正在奔向奴役和毁灭。两年以来，它一直疯狂地沿着这条突破性的道路越走越远。……在德国，已经宣布所有16~60岁，有劳动能力的男女公民全体动员……德国报界赞同这个方案，声称“往后再也不能容忍无赖和寄生者”，其他国家无疑也将仿效这个榜样。

材料二：胡赫铸出席俄国战争胜利60周年庆典时表示，60年前，法西斯侵略者发动的侵略战争是人类历史上一场前所未有的浩劫。包括苏联和中国在内的60多个国家，近20亿人卷入这场战争。在那场正义与邪恶殊死搏斗的战争中，全世界爱好和平的国家和人民团结一致，英勇奋战，用鲜血和生命捍卫了人类的尊严，赢得了世界和平。

根据材料和所学知识，回答下列问题：

(1) 材料一记载了第一次世界大战的史实，请问这场战争的导火线是什么？性质是什么？作为战争一方的“同盟国”阵营的领导者是谁？(3分)

(3) “一战”中最残酷的战役是哪一次？“二战”最后结束的标志是什么？(2分)

(4) “一战”后战胜国与德国签署了什么条约？“二战”中召开的关于处置德国的会议是什么？(2分)

(2) 材料二所反映的这次世界大战的性质是什么？(1分)

三、问答题(15分)

24. 十一届三中全会以后，我国在社会主义民主与法制建设中得到了完善与加强。请你说说这一时期我国在民主与法制建设上取得了哪些成绩？(4分)

25. 1776年7月4日,北美大陆会议发表《独立宣言》,宣告北美13个殖民地脱离英国独立,美国诞生了。到今天,美国立国已有230多年的历史。结合所学知识,回答下列问题。(11分)

(1)美国历史上的哪两次资产阶级革命促进了美国资本主义经济的发展?(2分)

(4)20世纪90年代,美国经济发展进入什么时代?有何特征?(2分)

(2)1929年,从美国开始的经济大危机席卷整个世界,美国是如何渡过经济大危机的?(1分)

(5)结合(1)、(2)题的历史事件,举出和三个历史事件相关的美国总统。(3分)

(3)20世纪人类经历了两次世界大战,凭借这两次大战美国的政治经济实力大增。请举出一战和二战后的世界格局变化。(3分)

启东中学中考模拟试卷 历史(二)

班级 _____ 学号 _____ 姓名 _____ 得分 _____


本试卷分第I卷(选择题)和第II卷(非选择题)两部分。共50分。考试时间为50分钟。考试结束,将本试卷和答题卡一并交回。

注意: 1. 答I卷前,考生务必将自己的姓名、考试号,科目名称用2B铅笔涂写在答题卡上。
2. 每小题选出答案后,用2B铅笔把答题卡上对应题目的答案标号涂黑。如需改动,用橡皮擦干净,再选涂其他答案。不能答在试卷上。

第I卷(选择题 共20分)

一、选择题(下列各题的四个选项中,只有一个最符合题意的答案。每小题1分,共20分)

题号	1	2	3	4	5	6	7	8	9	10	11	12	13	14	15	16	17	18	19	20
答案																				

- 下列洋务企业属于民用工业的是
A. 安庆内军械所 B. 江南制造总局 C. 轮船招商局 D. 福州船政局
- 我市某中学历史剧小组准备编排一个关于陈独秀早期革命活动的历史剧,下列哪个情节不能编入
A. 创办《新青年》杂志 B. 领导新文化运动
C. 创办中国第一个共产党早期组织 D. 主持召开中共一大
- “掀起八一历史长,南昌打响第一枪……”这首歌谣反映的历史事件距今有
A. 90周年 B. 86周年 C. 80周年 D. 76周年
- 下面是反映红军长征过程中的几张图片,按时间顺序排列正确的一项是


- ①飞夺泸定桥 ②巧渡金沙江 ③爬雪山 ④过草地
A. ②①③④ B. ①②③④ C. ①④③② D. ②③④①
5. 20世纪30年代,东北三省迅速沦陷敌手的主要原因是
A. 日本侵略者蓄谋已久 B. 蒋介石执行不抵抗政策
C. 中国军队武器落后 D. 中国军队战术失当

6. “钟山风雨起苍黄,百万雄师过大江。虎踞龙盘今胜昔,天翻地覆慨而慷……”这首诗是毛泽东在下列哪次战役后打写的
A. 辽沈战役 B. 淮海战役 C. 平津战役 D. 渡江战役
7. “凤阳地多不打粮,碾子一住就逃荒”、“改革鼓点先敲响,如今飞出金凤凰”这两段《凤阳花鼓》词中安徽凤阳农民生活的变迁与下列哪一政策息息相关
A. 大跃进 B. 农业的社会主义改革
C. 开辟经济特区 D. 家庭联产承包责任制
8. 下列重大事件,发生在1956年的是
①中共八大召开 ②我国初步建立起社会主义的基本制度 ③共和国第一部宪法颁布 ④匈牙利事件
A. ②③ B. ①②
C. ①②④ D. ①②③
9. 欧洲人皮肤白皙,鼻梁高,而撒哈拉沙漠以南的非洲人皮肤黝黑,鼻子扁平,毛发卷曲,造成这种差异的主要原因是
A. 自然地理环境等多种因素长期影响的结果 B. 进化阶段不同
C. 种族优劣 D. 生活习惯不同
10. 1787年,美国制定了宪法,确定美国的政治体制是
A. 邦联制 B. 联邦制 C. 君主立宪制 D. 总统制
11. 下列说法错误的是
A. 拿破仑的对外战争既打击了欧洲的封建势力,也损害了被侵略国家的利益
B. 美国的独立战争对欧洲及拉丁美洲的革命起了推动作用
C. 法国大革命时期,罗伯斯庇尔等人掌握政权,颁布了《法典》,把法国革命推向高潮
D. 美国内战废除了黑人奴隶制度,为美国资本主义发展扫清了道路
12. 1863年,一名记者从欧洲出发前往华盛顿,采访美国总统林肯,他可能使用的交通工具是
A. 帆船 B. 汽船 C. 马车 D. 火车
13. 第二次工业革命中走在资本主义国家前列的有
A. 日本、俄国 B. 英国、法国 C. 美国、德国 D. 美国、英国
14. 列宁说:“靠《凡尔赛和约》来维持的整个国际体系、国际秩序是建立在火山口上的。”列宁这样说主要是因为
A. 帝国主义国家与殖民地半殖民地国家的矛盾没有解决
B. 帝国主义国家与社会主义国家之间的矛盾没有解决
C. 帝国主义国家之间的矛盾没有从根本上消除
D. 进一步造成法西斯政权的建立
15. 苏联的解体说明了
A. 资本主义阵营力量强大
B. 资本主义制度战胜了社会主义制度
C. 一种新的社会制度代替旧的社会制度需要经过长期、曲折、艰苦的斗争
D. 科学社会主义是行不通的
16. 美苏冷战开始的标志是

22. 材料一：“5月3日晚，学生在北京大学法科礼堂集会。进步记者邵飘萍在会上报告了巴黎和会上中国失败的经过和原因，学生们听了悲愤交加，痛哭失声。一个学生在当场撕下衣襟，咬破中指，血书‘还我青岛’四个大字……5月4日，北京3000多名学生在天安门集会。他们高呼‘外争国权，内惩国贼’，‘废除二十一条’，‘拒绝在和约上签字’等口号，一致要求惩办亲日派卖国贼曹汝霖，陆宗舆，章宗祥，举行示威活动。”

材料二：“中国的土地可以征服而不可以断送！中国的人民可以杀戮而不可以低头！”

根据材料回答：

(1)五四运动的性质是什么？这次运动的性质从材料中的哪一句话最能反映出来？(2分)

(2)我们把五四运动期间爱国青年所表现出来的精神称为“五四精神”。请你根据上述材料二，谈谈什么是“五四精神”。(2分)

(3)作为当代青年，你认为我们应该怎样继承和发扬“五四”精神？(1分)

- A. 古巴导弹危机的出现
C. “星球大战”计划的提出
17. 地区冲突是威胁世界安全的重要因素之一。冷战结束后，霸权主义利用并介入地区冲突的典型事例是
A. 两次柏林危机 B. 朝鲜战争
C. 古巴导弹危机 D. 科索沃战争
18. 按照时间排列，下列事件的正确顺序是
①斯大林格勒战役 ②七七事变 ③珍珠港事件 ④德军进攻苏联 ⑤诺曼底登陆 ⑥德国闪击波兰
A. ④③①②⑤⑥ B. ②⑥④③①⑤ C. ④①③②⑤⑥ D. ⑤⑥④③②①
19. 在今天的英国、日本、荷兰等资本主义国家仍然保留有国王或天皇的称号，这一历史现象与下列哪一部文献确立的政体有关？
A. 《独立宣言》 B. 《人权宣言》 C. 《权利法案》 D. 《拿破仑法典》
20. 一位美国历史学家在谈到第一次世界大战前的欧洲形势时说：“欧洲变成了一只火药桶，只等一粒火星将它引爆。”引爆这只“火药桶”的“火星”是
A. 三国同盟的形成 B. 三国协约的形成 C. 萨拉热窝事件 D. 凡尔登战役

第 II 卷 (非选择题 共 30 分)

注意事项：

用钢笔或圆珠笔直接答在试卷上

题号	21	22	23	24	II 卷总分	总分	核分人
得分							

二、材料分析题 (14 分)

21. 这是中外两张邮票，反映了世界经济由区域化走向全球化的趋势。



回答：

- (1)左图外国邮票上蓝底环星是哪一个组织的标志？这个组织成立后成为世界上____的经济体。(2分)
- (2)右图邮票中的 WTO 是个什么组织？哪一年成立的？这一组织建立的意义是什么？中国是在哪一年加入这个组织的？(4分)

23. 材料一：一九一七年的俄国革命，是二十世纪中世界革命的先声。

材料二：试看将来的环球，必将是赤旗的世界！

阅读材料一、材料二，回答以下问题：

(1)上述两段材料的作者是谁？(1分)

(2)十月革命是人类历史上第一次获得胜利的社会主义革命，它发生在哪一年？为巩固无产阶级政权，探索社会主义建设道路，列宁在位时实施了什么经济政策？(2分)

(2)为宣传马克思主义，他又在北京创办了《 》，它和早先由陈独秀创办的《 》一起成为新文化运动的主要阵地。(2分)

三、问答题(16分)

24. 从十月革命胜利到东欧剧变、苏联解体，社会主义道路的探索没有停止过，也给中国特色的社会主义建设提供了借鉴。结合所学的知识，回答下列问题：

(1)马克思主义理论诞生的标志是什么？人类历史上无产阶级建立政权的第一次伟大尝试是哪一事件？(2分)

(3) 列宁逝世后,苏联的经济政策发生变化,形成什么模式?这一模式形成的标志是什么?二战后苏联哪一位领导人对这一模式进行改革,成效不大?(3分)

(5) 二战后东欧一些国家建立社会主义政权,照搬苏联模式,经济发展陷入困境。哪一年开始,东欧哪些国家发生剧变?(4分)

(4) 20世纪80年代后,苏联哪一位领导人进行政治经济体制改革失败,导致苏联解体?苏联解体在哪一年?苏联解体后,俄罗斯联邦的第一位总统是谁?(3分)

(6) 我国在社会主义建设过程中也走了许多弯路,请你举出我国社会主义建设过程中有哪几次重大失误。(2分)

启东中学中考模拟试卷 历史(三)

班级 _____ 学号 _____ 姓名 _____ 得分 _____

本试卷分第I卷(选择题)和第II卷(非选择题)两部分。共50分。考试时间为50分钟。考试结束,将本试卷和答题卡一并交回。

注意事项:

1. 答I卷前,考生必须将自己的姓名、考试号、科目名称用2B铅笔填涂在答题卡上。
2. 每小题选出答案后,用2B铅笔把答题卡上对应题目的答案标号涂黑。如需改动,用橡皮擦干净,再选涂其他答案。不能答在试卷上。

第I卷(选择题 共20分)

一、选择题(下列各题的四个选项中,只有一个最符合题意的答案。每小题1分,共20分)

题号	1	2	3	4	5	6	7	8	9	10	11	12	13	14	15	16	17	18	19	20
答案																				

1. 孙中山认为“帝制从此不存于中国之内,民国的目的亦可以达到。”导致孙中山得出这一结论的直接原因是
 - A. 武昌起义的胜利
 - B. 中华民国的建立
 - C. 清帝下诏退位
 - D. 《临时约法》的颁布
2. 英国资产阶级革命的导火线是
 - A. 三级会议的召开
 - B. 苏格兰人民起义
 - C. 查理一世重新召开会议
 - D. 内战的爆发
3. “是你拉着我的手,在村口的大树旁,一同告别了旧娘,踏上北伐的战场”这是一首描写国共关系的网络诗歌,诗中国共两党这次合作的目的的是
 - A. 统一全中国
 - B. 同北洋军阀抢夺地盘
 - C. 推翻帝国主义和封建军阀在中国的统治,将革命推向全国
 - D. 共同抗日,将日本帝国主义赶出中国
4. 抗日战争期间,中国军队取得了台儿庄战役的重大胜利,沉重地打击了日本侵略者,直接指挥这场战役的是
 - A. 蒋介石
 - B. 彭德怀
 - C. 林彪
 - D. 李宗仁
5. 在右图所示的事件中,蒋介石一方三次邀毛泽东去谈判,其目的是
 - A. 为了避免内战
 - B. 实现真正的和平与民主
 - C. 赢得备战时间,欺骗人民
 - D. 建立联合政府
6. 在我国社会主义建设过程中,有一段时期,人们大胆宣布自己生产“万斤”甚至“十多万斤”,称之为“放卫星”,这种事出现在
 - A. 1958年
 - B. 1960年
 - C. 1962年
 - D. 1964年



- A. 第一个五年计划期间
 - B. 大跃进运动期间
 - C. 文化大革命期间
 - D. 改革开放以来
7. 我国第一个五年计划的基本任务是
 - A. 集中主要力量发展军事工业
 - B. 集中主要力量发展民用工业
 - C. 集中主要力量发展重工业
 - D. 集中主要力量发展轻工业
 8. 党的十一届三中全会以后,国内改革首先开始于
 - A. 农村
 - B. 城市
 - C. 国有企业
 - D. 政府机关
 9. 人类早期的文明最先诞生于亚非地区的大河流域,其中古代印度文明起源于
 - A. 尼罗河流域
 - B. 两河流域
 - C. 印度河—恒河流域
 - D. 黄河流域
 10. 公元前11世纪,罗马共和国发生了严重的社会危机,各派经过激烈的较量,公元前27年,一个人物开始独揽大权,成为实际上的皇帝,罗马共和国被罗马帝国所取代。这个历史人物是
 - A. 凯撒
 - B. 屋大维
 - C. 伯利克里
 - D. 亚历山大
 11. 恩格斯说:“文艺复兴这个名字没有把这个时代充分表达出来。”其含义是
 - A. 它没有把古代希腊、罗马的文化全部复兴起来
 - B. 它没有将古代文化“古为今用”
 - C. 它没有准确地揭示这场运动的性质
 - D. 它没有提出建立资产阶级政权的要求
 12. 1649年1月30日,伦敦白金汉宫的广场上,一位特殊的犯人被送上断头台,这位“特殊的犯人”是
 - A. 詹姆士一世
 - B. 查理一世
 - C. 查理二世
 - D. 路易十六
 13. 在一次战役中,美军对包围的英军散发传单说:“自独立战争开始两年来,尽管我们遭遇了巨大的困难和挫折,但今天,你们必须投降,因为上帝正全力支持我们的正义事业。”据此判断这场战役是
 - A. 波士顿倾茶事件
 - B. 来克星顿的枪声
 - C. 萨拉托加战役
 - D. 约克镇战役
 14. 第一次工业革命是“一枝独秀”的革命,第二次工业革命是“遍地开花”的革命。这里的“一枝独秀”的革命是指
 - A. 英国
 - B. 法国
 - C. 荷兰
 - D. 美国
 15. 关于两次世界大战说法错误的一项是
 - A. 第一次世界大战,塞尔维亚为争取民族的独立而战,所以一战具有正义性
 - B. 美国于1917年对德宣战,参加了协约国方面作战
 - C. 新成立俄国苏维埃政权坚决退出了第一次世界大战,同德国、奥匈帝国议和
 - D. 日本军部法西斯上台,标志着第二次世界大战亚洲策源地形成
 16. 不同历史时期,不同国家的改革(变法)具有不同的时代特征和内涵。下列有关对改革(变法)的认识不正确的是
 - A. 俄国1861年改革彻底废除了农奴制,使国家走上了发展资本主义的道路
 - B. 明治维新使日本摆脱了民族危机,成为亚洲唯一能保持民族独立的国家
 - C. 美国罗斯福新政的目的是消除严重的经济危机和政治危机
 - D. 日本军部法西斯上台,标志着第二次世界大战亚洲策源地形成

(2)文中的“陪都”是现在的什么地方? (1分)

- D. 中国从1978年开始的改革是社会主义制度的自我完善
 17. 在20世纪30年代,面对法西斯国家的侵略和进攻,西方大国采取了牺牲弱小,纵容侵略,姑息养奸的“绥靖政策”。体现这一政策的有 ()
 ①日本侵略中国东北 ②德国吞并奥地利 ③《慕尼黑协定》的签订 ④德军侵占丹麦、挪威
 A. ①②③ B. ②③④ C. ①②④ D. ①③④

18. 20世纪70年代初,在资本主义世界里,仅次于美国的第二经济大国是 ()
 A. 英国 B. 法国 C. 德国 D. 日本

19. 苏联、东欧社会主义国家的剧变和我国建设有中国特色社会主义的伟大成就说明 ()
 ①社会主义仍有强大的生命力 ②社会主义在曲折中前进 ③只有中国才适合走社会主义道路 ④社会主义发展中的局部倒退和反复,不会改变其代替资本主义的必然趋势
 A. ①②③ B. ①②④ C. ②③④ D. ②④

(3)类似的电报他发过几次?他为什么要这样做? (2分)

20. 从第二次世界大战结束到今天的近60年里,世界政治格局发展的基本趋势是 ()
 A. 两极格局——多极格局——单边主义下的单极世界倾向
 B. 单极格局——多极格局——单边主义下的两极世界倾向
 C. 多极格局——两极格局——单边主义下的单极世界倾向
 D. 两极格局——单极格局——单边主义下的多极世界倾向

第Ⅱ卷(非选择题 共30分)

注意事项:

用钢笔或圆珠笔直接答在试卷上题号

题号	21	22	23	24	25	Ⅱ卷总分	结分人	核分人
得分								

(4)毛泽东为什么要去谈判?结果如何? (2分)

二、材料分析题(19分)

21. 材料: 万急,延安毛泽东先生勋鉴:倭寇投降,世界永久和平局面可能实现,举凡国际国内各种重要问题,亟待解决,特请先生克日惠临陪都,共同商讨,事关国家大计,幸勿吝教,临电不胜迫切翘盼之至。

请回答:

(1)这是谁发给毛泽东的电报?是在什么情况下发出的? (2分)

22. 政治方面：“废藩置县”，加强中央集权；经济方面：允许土地买卖，引进西方先进科学技术，鼓励发展近代工业；社会生活方面：提倡“文明开化”，努力发展教育。

阅读以上材料，结合课文内容回答：

(1) 上述材料是日本历史上哪一次改革的内容？（1分）

(4) 通过这次改革，日本很快走上了侵略扩张的道路，之后不久，日本和中国进行了一次什么战争？战争结果如何？签订了什么条约？（3分）

(2) 这次改革的性质是什么？（1分）

23. 材料一：《北大西洋公约》第五条规定：“对欧洲或北美一个或几个缔约国的武装进攻，应视为对缔约国全体之攻击。”

材料二：1952年，美国共拨款一百三十多亿美元，帮助西欧和土耳其度过了难关……

材料三：1947年，杜鲁门在国会发表演说，宣称美国有领导“自由世界”的使命，以“防止共产主义的渗入”……

请回答：

(1) 以上材料被概括为二战后实行的什么政策？（1分）

(3) 通过这次改革，日本的社会性质发生了什么样的变化？（1分）

(1)这个政策的政治、经济和军事上的表现是什么?目的是什么?(4分)

三、问答题(11分)

24. 社会主义三大改造指的是什么?分别采用了什么样的方式?如何评价?(6分)

(3)这种政策结束的标志是什么?(1分)

25. 西班牙、葡萄牙在探索新航路过程中具有开创性的贡献。请你说说最先发现美洲的是谁?最早完成环球航行的是谁?新航路开辟的意义是什么?(5分)

启东中学中考模拟试卷 历史(四)

班级 _____ 学号 _____ 姓名 _____ 得分 _____

本试卷分第 I 卷(选择题)和第 II 卷(非选择题)两部分。共 50 分钟。考试时间为 50 分钟。考试结束,将本试卷和答题卡一并交回。

注意事项:

1. 答 I 卷前,考生务必将自己的姓名、考号、科目名称用 2B 铅笔填涂在答题卡上。
2. 每小题选出答案后,用 2B 铅笔把答题卡上对应题目的答案标号涂黑。如需改动,用橡皮擦干净,再涂涂其他答案。不能答在试卷上。

第 I 卷(选择题 共 20 分)

一. 选择题(下列各题的四个选项中,只有一个最符合题意的答案。每小题 1 分,共 20 分)

题号	1	2	3	4	5	6	7	8	9	10	11	12	13	14	15	16	17	18	19	20
答案																				

1. “上海轮船招商局创办三年内,外轮就损失一千三百万两(白银),湖北官办织布局开办后,江南海关每年洋布进口减少十多万匹。”以上材料说明洋务运动的兴起 ()
 - A. 对国外经济势力的扩张起到了一定的抵制作用
 - B. 能使中国走上富强之路
 - C. 增加了清政府的财政收入
 - D. 为民族资产阶级的产生和发展起到了促进作用
2. 毛泽东曾称赞傅作义是“民族的功臣”,“为和平解决各地战争问题和减轻人民的战争痛苦树立了榜样”。上述评价和哪次战役有关 ()
 - A. 辽沈战役
 - B. 淮海战役
 - C. 平津战役
 - D. 渡江战役
3. 我国基本上实现生产资料私有制转变为社会主义公有制的标志是 ()
 - A. 新中国成立
 - B. 土地改革完成
 - C. 新宪法制定
 - D. 三大改造基本完成
4. 下列各项属于“左”倾错误的有 ()
 - A. 大跃进
 - B. 改革开放
 - C. 整风运动
 - D. 反右派斗争
5. 真理标准问题的讨论对十一届三中全会的成功奠定了 ()
 - A. 组织基础
 - B. 政治基础
 - C. 思想基础
 - D. 经济基础
6. 我国开放的经济特区中,属于广东省的是 ()
 - ①深圳 ②珠海 ③汕头 ④厦门 ⑤海南
 - A. ①②③
 - B. ②③④
 - C. ①⑤
 - D. ①③
7. 邓小平南巡讲话的内容包括 ()
 - ①特区姓“社”不姓“资” ②发展才是硬道理 ③党的基本路线要管一百年,动摇不得
 - ④走自己的路,建设有中国特色的社会主义

A. ①②③④ B. ①③④ C. ②③④ D. ①②③

8. 古希腊历史学家希罗多德称:“埃及是尼罗河的赠礼”,这句话的意思是 ()
 - A. 尼罗河哺育了古代埃及文明
 - B. 尼罗河是古代埃及的势力范围
 - C. 古代埃及人民把尼罗河治理得很好
 - D. 有了古代埃及文明,就有了尼罗河
9. 木马病毒是目前数量最多的病毒程序,它会隐藏在正常系统中,具备破坏和删除文件、发送密码,记录键盘和 Dos 攻击等特殊功能,对用户电脑产生很大的危害。那么“木马”一词的来源与下列哪次战争有关 ()
 - A. 希波战争
 - B. 特洛伊战争
 - C. 亚历山大东征
 - D. 布匿战争
10. 率船队首先完成了环球航行的是 ()
 - A. 迪亚士
 - B. 达·伽马
 - C. 哥伦布
 - D. 麦哲伦
11. 英国资产阶级革命后,享权的阶层有 ()
 - ①地主 ②贵族 ③资产阶级 ④新贵族
 - A. ①② B. ②③ C. ③④ D. ②④
12. 工业革命最早出现的工业部门是 ()
 - A. 棉纺织业
 - B. 交通运输业
 - C. 采矿业
 - D. 冶金业
13. 第二次工业革命,内燃机的发明为人类实现飞上天的梦想插上了翅膀,内燃机和飞机的发明者分别是 ()
 - A. 史蒂芬孙 莱特兄弟
 - B. 卡尔·本茨 富尔敦
 - C. 史蒂芬孙 法拉第
 - D. 卡尔·本茨 莱特兄弟
14. 巴黎公社的性质是 ()
 - A. 世界上第一次工人阶级的武装斗争
 - B. 世界上第一个无产阶级政权
 - C. 世界上第一个无产阶级专政的国家
 - D. 世界上第一个马克思主义政权
15. 右图反映的是什么时期的社会现象 ()
 - A. 美国独立战争前
 - B. 美国独立战争后
 - C. 美国内战前
 - D. 美国内战后
16. 第二次世界大战全面爆发的标志是 ()
 - A. 德国吞并捷克斯洛伐克
 - B. 德国突袭波兰
 - C. 日本发动“七·七”事变
 - D. 日本发动“九·一八”事变
17. 关于斯大林模式说法错误的一项是 ()
 - A. 优先发展重工业,长期忽视农业和轻工业的发展
 - B. 大清洗运动是斯大林模式的一种极端表现形式
 - C. 它是在苏联高度发达的社会主义经济文化体制下形成的
 - D. 1936 年苏联新宪法的颁布标志着斯大林模式的形成
18. 二战时美苏结成的战时同盟正式破裂的标志是 ()
 - A. 德国突袭波兰
 - B. 德国突袭波兰
 - C. 日本发动“七·七”事变
 - D. 日本发动“九·一八”事变

22. 读下列材料,回答问题。(5分)

1929年~1933年资本主义世界爆发了一次空前严重的经济危机。
 材料一:作为一个国家,我们拒绝了彻底的革命计划。为了永远的纠正我们经济制度中的严重缺点,我们依靠的是旧民主制度秩序的新的应用。——罗斯福
 材料二:我们要求得到领土和土地(殖民地)来养活我们人民和迁移我国过剩人口……德意志民族是最优秀的民族,有权统治全世界……用德国的剑为德国的犁取得土地。——《世界近现代史精要》

请回答:

(1)这次经济危机的主要特点是什么?(1分)

19. 20世纪70年代以后,资本主义世界开始逐渐形成三足鼎立局面,这三个国家和地区是指 ()
- A. 马歇尔计划的实施
 B. 杜鲁门主义的出台
 C. 北约组织的成立
 D. 丘吉尔“铁幕”演说的发表
20. 1999年,以美国为首的北约打着维护人权,制止“种族清洗”的旗号,轰炸南联盟;2003年3月,美国在未取得联合国许可之下,对伊拉克宣战。这充分说明 ()
- A. 欧洲共同体、日本、美国
 B. 欧洲共同体、日本、英国
 C. 美国、新加坡、日本
 D. 日本、美国、联邦德国
- A. 和平与发展是当今时代的主题
 B. 国际间竞争愈演愈烈
 C. 世界格局多极化受阻
 D. 和平与发展不可兼得

第Ⅱ卷(非选择题 共30分)

注意事项:

用圆笔或圆珠笔直接答在试卷上

题号	21	22	23	24	25	Ⅱ卷总分	结分人	核分人
得分								

二、材料分析题(18分)

21. 阅读下列材料,回答问题。(6分)

“本志同人本来无罪,只因为拥护那德莫克拉西和赛因斯两位先生,才犯了这几条滔天的大罪,要拥护那德先生,便不能不反对孔教、礼法、贞节、旧伦理、旧政治;要拥护那赛先生,便不得不反对旧艺术、旧宗教。要拥护德先生又要拥护赛先生,便不得不反对国粹和旧文学。”

——《本志罪案之答辩书》

- (1)你认为文中“本志”是指《 》(杂志)。它的创刊,标志着 运动的开始,其矛头直指尊孔复古的封建专制文化。(2分)
- (2)文中的“赛先生”及“德先生”分别指 和 。(2分)
- (3)上文的作者应该是 。(1分)
- (4)你还能说出这场运动中其他的代表人物吗?(1分)

(2)为摆脱经济危机,资本主义世界出现了那两种不同方式?(2分)

(3)材料二中德国是如何实施“用德国的剑为德国的犁取得土地”这一设想的? 结局如何?(2分)