


社会

九年义务教育^五六年制小学

第五册 (五年制小学五年级上学期用)
(六年制小学六年级上学期用)

试卷



山东教育出版社

出版说明

根据国家教委“为了丰富学生的课外活动,拓宽知识视野、开发智力、提高学生的思想道德素质和指导学生掌握正确的学习方法,社会有关单位和各界人士、各级教育部门、出版单位应积极编写和出版健康有益的课外读物”的精神,山东教育出版社结合我省中小学教材使用和课程设置情况,根据教学大纲和教材,组织教学及命题经验丰富的教师分学科编写了这套“中小学各年级试卷”。

每册“试卷”包括单元试卷和期中、期末试卷(分A、B卷)两部分内容,具有题目典型、覆盖面广、编排新颖的特点。通过答卷,既能了解学生掌握知识的情况,又能增强与提高学生的能力和技能。

《九年义务教育 $\frac{五}{六}$ 年制小学社会试卷》共6册,每学期一册。本册是第五册,供五年制小学五年级、六年制小学六年级上学期用。这套社会试卷是自测题,后面附有“参考答案”。试卷仍按百分制标上了分数,使用时可以按等级标准,转换为等级。

本书由刘德义、张翠华、张文然、马传丽编写。

目 录

| | |
|-----------------|------|
| 第十一单元试卷(一)..... | (1) |
| 第十一单元试卷(二)..... | (5) |
| 期中试卷(A) | (9) |
| 期中试卷(B) | (13) |
| 第十二单元试卷 | (17) |
| 第十三单元试卷 | (21) |
| 第十四单元试卷 | (25) |
| 期末试卷(A) | (29) |
| 期末试卷(B) | (33) |
| 参考答案 | (37) |

第十一单元试卷(一)

(第一~第六课)

____ 年级 ____ 班 姓名 _____ 成绩 _____

一 填空。(每空1分,共30分)

- 1 “关东山,三宗宝, _____、_____、_____。”
- 2 黑龙江的 _____ 地区,素有“鹤乡”之称。
- 3 华北平原上三条主要的河流分别是 _____、_____、_____。
- 4 黄河中游的 _____、_____、_____、_____ 等省区境内,有世界上面积最大的黄土分布区。
- 5 黄土高原上全年降水量较少,气候 _____。
- 6 _____ 是黄土高原上一种传统的民居形式。
- 7 _____ 是“黑色的金子”、“工业的粮食”。
- 8 _____ 曾是我国著名的“米市”。
- 9 现在上海正在变成国际 _____、_____、_____ 中心,向着现代化大城市迈进。
- 10 在傣语中,“西双版纳”的意思是“_____”,“版纳”是指 _____,所以“西双版纳”的意思是 _____。1959年才将西双版纳辖区改为 _____ 个县。西双版纳为 _____ 省的一个傣族自治州,首府是 _____。
- 11 _____ 江自北向南,从西双版纳中部流过。
- 12 西双版纳是我国第二大 _____ 生产基地,并有闻名国内外的“_____茶”。
- 13 _____ 成为傣族村寨的普遍建筑。
- 14 西双版纳原始森林里植物种类可多了,被称为“_____”,还有“_____”的美称。

二 选择(选择正确答案,将其序号填写在括号里)。(11分)

- 1 东北林区中的()被称为“林木之王”。
①落叶松 ②红松 ③水曲柳 ④胡桃楸
- 2 传说中的中华民族始祖黄帝的陵墓就在()上。
①东北平原 ②华北平原 ③黄土高原

- 3 我国最大的平原是()。
- ①长江中下游平原 ②华北平原 ③东北平原
- 4 “一望无际的田野,地势平坦,阡陌纵横”。这是()的一个缩影。
- ①华北平原 ②黄土高原 ③江南水乡
- 5 上海市大部在长江入海口的()。
- ①东面 ②西面 ③南面 ④北面
- 6 “麦浪滚滚棉花白”,描写的是()地区的特征。
- ①江南水乡 ②华北平原 ③黄土高原
- 7 “湖塘星罗棋布,河渠纵横交错”,这是()的特点。
- ①华北平原 ②东北大地 ③江南水乡 ④黄土高原
- 8 北京和天津都坐落在华北平原的()。
- ①北部 ②中部 ③南部 ④西部
- 9 东北地区的三个省会城市是()。
- ①吉林、长春、哈尔滨 ②辽宁、吉林、黑龙江
③沈阳、长春、哈尔滨
- 10 黄土高原在()。
- ①秦岭以南 ②太行山以东 ③太行山以西、秦岭以北
- 11 著名的曼飞龙佛塔在()境内。
- ①杭州 ②西藏 ③青海 ④西双版纳

三 判断(判断正误,正确的,请在后面的括号里画“√”,错误的画“×”)。(17分)

- 1 东北平原西、北、东三面环山,西面和北面是大、小兴安岭。()
- 2 东北的山区是我国著名的天然林区。()
- 3 东北地区有闻名全国的长春化学工业。()
- 4 山东和山西两个省的煤储量,就占全国煤储量的80%左右。()
- 5 黄土高原是我国著名的茶叶产地。()
- 6 华北平原的形成归功于河流泥沙的长期沉积作用。()
- 7 京杭运河在太湖西面。()
- 8 上海是我国最大的城市,比北京还大。()
- 9 黄浦江是长江的最后一条支流,斜穿上海市区。()
- 10 上海郊区有两个著名的地方,一个是金山,一个是南京路。()
- 11 江南水乡是我国人口最稠密的地区之一。()
- 12 上海浦东新区的开发,吸引了大量的国内外投资。()

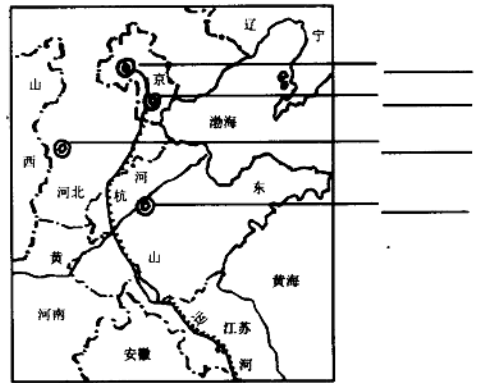
- 13 与西双版纳接壤的国家有老挝和缅甸。()
- 14 西双版纳山地面积占了总面积的 95%。()
- 15 西双版纳四季分明,气候宜人。()
- 16 黑土地是一种十分肥沃的土壤,人们说它“一把能掬出油来”。()
- 17 黄土高原的人们因地制宜,在坡缓而且灌溉条件较好的地方改种树、种草。()

四 连线(把人们对某些地方的特殊称呼与它们所指的地方,用直线连接起来)。(8分)

- | | |
|------|------|
| 煤海 | 苏州 |
| 棉乡 | 黄土高原 |
| 钢都 | 华北平原 |
| 丝绸古城 | 鞍山 |

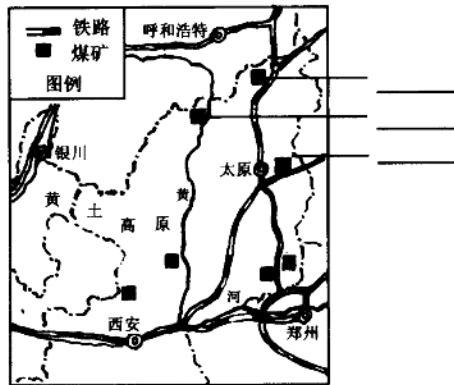
五 填图。(14分)

1 在右图上写出 4 个主要棉纺织工业城市名称。



华北平原主要棉纺织工业分布简图

2 写出右图所指的 3 个大煤矿名称。



黄土高原上的大煤矿

六 简答。(20分)

1 东北地区发展重工业有哪些有利条件?(7分)

2 在华北平原上发展棉纺织工业有什么有利条件?(3分)

3 为什么黄土高原有我国的“煤海”之称?(5分)

4 江南水乡传统的住房都盖得比较高,门和窗户也开得比较大。这是为什么?(5分)

第十一单元试卷(二)

(第七~第十一课)

____ 年级 ____ 班 姓名 _____ 成绩 _____

一 填空。(每空1分,共39分)

1 位于我国西南部的 _____ 省和 _____ 区是我国藏族的主要聚居区。

2 _____ 是藏族人民的主食。

3 _____ 是青藏高寒环境中的主要农作物。

4 _____ 是青藏高寒环境中的特有牲畜。

5 _____ 是青藏高原的主要特征。

6 新疆维吾尔自治区位于我国 _____ 内陆,其境内的 _____ 沙漠,是我国最大的沙漠。

7 _____ 是新疆的主要牧区。新疆的 _____ 和 _____ 是我国的著名畜种。

8 台湾的大城市主要有 _____、_____ 和 _____ 等。

9 内蒙古在我国的北方,与 _____ 和 _____ 接壤。

10 内蒙古草原上的牧业生产,逐渐从传统的游牧方式,向 _____ 方式转变。

11 草原上的明珠——_____。

12 内蒙古首府是_____。

13 台湾岛的周围还分布着 _____、_____ 和赤尾屿等许多小岛。

14 _____ 族是最早居住在台湾的古老民族。

15 “_____”“_____”是高山族少不了的音乐舞蹈节目。

16 台湾中部阿里山的一个盆地中,静卧着著名的天然湖泊——_____。

17 1842年中英《_____》,英国强占了我国的香港岛。

18 鸦片战争后,_____ 人侵占了澳门。

19 _____ 年 _____ 月 _____ 日设立澳门特别行政区。

20 香港特别行政区位于 _____ 东侧,毗邻广东省 _____ 市。它主要包括 _____、_____ 和 _____ 三部分。

- 21 香港是重要的国际_____中心、_____中心,也是_____中心。
22 _____业的收入是澳门的主要经济来源之一。

二 选择(选择正确答案,将其序号填写在括号里)。(8分)

1 由于青藏高原上()等原因,这里的青稞、小麦等农作物都长得穗大粒重,单位面积产量高。

- ①气候寒冷 ②土地肥沃 ③日照强烈

2 ()是我国最重要的畜牧业基地。

- ①新疆天山山地 ②内蒙古草原
③青藏高原 ④西双版纳

3 喝着醇香的奶茶和马奶酒,吃着香喷喷的奶酪和羊肉,拉起悠扬的马头琴。这是描写的()人民的生活情景。

- ①藏族 ②维吾尔族 ③蒙古族 ④傣族

4 我国最大的钾肥厂在()附近。

- ①上海宝山 ②内蒙古包头
③青海察尔汗盐湖 ④新疆吐鲁番

5 新疆沙漠中有水的地方,就有绿洲。()上的冰雪融水是这些绿洲的主要水源。

- ①天山、昆仑山、阴山 ②天山、昆仑山、阿尔泰山
③天山、阿尔泰山、喜马拉雅山

6 ()是我国最干旱少雨的地区。

- ①黄土高原 ②内蒙古草原
③新疆 ④青藏高原

7 棉花产量和质量都跃居全国第一位的是()。

- ①山东 ②河南 ③河北 ④新疆

8 台湾被人们比作()。

- ①海上粮仓、东方糖库、樟脑王国、瓜果之乡
②鱼米之乡、东方糖库、樟脑王国、水果之乡
③海上粮仓、东方糖库、樟脑王国、水果之乡

三 判断(正确的,请在后面的括号里画“√”,错误的画“×”)。(12分)

1 青藏高原是世界上最高的大高原。()

2 地势越高的地方,空气越稀薄,阳光照射得厉害,气候越温暖。()

3 糌粑是把青稞、豌豆磨成面,再用酥油茶或青稞酒拌和、捏成饭团,最后上锅蒸熟食用。()

4 牦牛连同藏绵羊、藏山羊,是青藏高寒牧区的三大主要牲畜。()

5 敬献哈达表示藏族人民对客人的尊敬。()

6 新疆绿洲地区的农民们,在春夏干旱时,不是盼着阴天下雨,而是盼着大晴天。()

7 台北商业的繁荣居全省之首。()

8 香港特别行政区,是享有高度自治权的地方行政区域。()

9 澳门位于珠江口西岸,毗邻广东省珠海市。()

10 香港是祖国大陆商品走向世界的重要桥梁。()

11 强大的社会主义祖国是港、澳经济发展的靠山。()

12 我国最大的地热发电站在包头。()

四 连线(把某些事物的特殊称呼与这些事物用直线连接起来)。(8分)

世界屋脊

青藏高原

高原之舟

牦牛

日光城

拉萨

聚宝盆

柴达木盆地

草原钢城

香港

海上走廊

台湾海峡

东方明珠

包头

购物者的天堂

鞍山

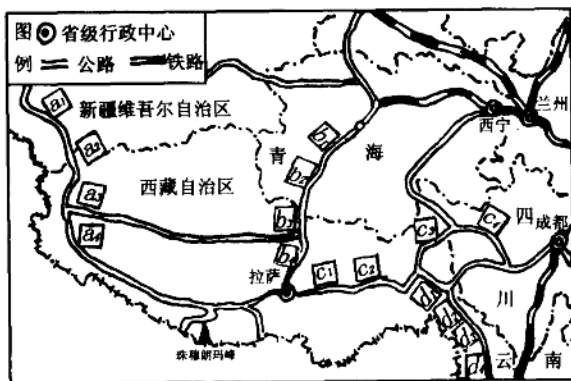
五 填图(对照“青藏高原公路网”图,写出如下4条以拉萨为中心的公路名称)。(8分)

a₁a₂a₃a₄表示:

b₁b₂b₃b₄表示:

c₁c₂c₃c₄表示:

d₁d₂d₃d₄表示:



青藏高原公路网

六 简答。(25分)

1 蒙古袍有什么特点?这样做有什么好处?(8分)

2 为什么称柴达木盆地东部盐湖区是“盐的世界”?(7分)

3 藏族人民的穿戴有什么特点?为什么?(10分)

期 中 试 卷(A)

_____ 年级 _____ 班 姓名 _____ 成绩 _____

一 填空。(每空1分,共35分)

- 1 “关东山,三宗宝,_____、_____、_____。”
- 2 华北平原三条主要的河流是_____、_____、_____。
- 3 _____是黄土高原上一种传统的民居形式。
- 4 黄河中游的_____、_____、_____、_____等省区境内有世界上面积最大的黄土分布区。
- 5 西双版纳为_____省的一个_____族自治州,首府是_____。
- 6 西双版纳是我国第二大_____生产基地,并有闻名国内外的“_____茶”。
- 7 _____是藏族人民的主食。青藏高寒环境中的主要农作物是_____、主要牲畜是_____。
- 8 新疆维吾尔自治区位于我国_____内陆,其境内的_____沙漠,是我国最大的沙漠。
- 9 新疆的_____和_____是我国的著名畜种。
- 10 内蒙古在我国的北方,与_____和_____接壤。内蒙古首府所在地是_____。
- 11 _____族是最早居住在台湾的古老民族。
- 12 台湾中部阿里山的一个盆地中,静卧着著名的天然湖泊——_____。
- 13 1842年中英《_____条约》,_____强占了我国的香港岛。
- 14 鸦片战争后,_____人侵占了我国澳门。
- 15 _____年__月__日,香港回到祖国的怀抱,设立了_____ ,相当于省、自治区、直辖市一级。

二 判断(正确的,在后面的括号里画“√”,错误的画“×”。)(10分)

- 1 东北平原西、北、东三面环山,西面和北面是大、小兴安岭。()
- 2 东北地区有闻名全国的长春化学工业。()

- 3 山东和山西两个省的煤炭储量就占全国煤炭储量的 80% 左右。()
- 4 京杭运河在太湖的东面。()
- 5 我国最大的平原是华北平原()
- 6 青藏高原是世界上最高的大高原。()
- 7 献哈达主要表示藏族人民对客人的尊敬。()
- 8 新疆绿洲地区的农民们,在春夏干旱时,不是盼着阴天下雨,而是盼着大晴天。()
- 9 台北是台湾省商业最繁荣的地方。()
- 10 澳门位于长江口西岸,毗邻广东省珠海市。()

三 选择(选择正确答案,将其序号填写在括号里)。(10分)

- 1 东北林区中的()被称为“林木之王”。
①红松 ②落叶松 ③胡桃楸 ④水曲柳
- 2 “一望无际的田野,地势平坦,阡陌纵横。”这是()的一个缩影。
①黄土高原 ②华北平原 ③江南水乡
- 3 华北平原的工业十分发达,其中()工业占有重要位置。
①棉纺织 ②煤炭 ③钢铁
- 4 东北地区的三个省会城市是()。
①大连、长春、哈尔滨 ②黑龙江、吉林、辽宁
③沈阳、长春、哈尔滨
- 5 著名的曼飞龙佛塔在()境内。
①杭州 ②拉萨 ③新疆 ④西双版纳
- 6 由于青藏高原上()等原因,这里青稞、小麦等农作物都长得穗大粒重,单位面积产量高。
①气候寒冷 ②土地肥沃 ③日照强烈
- 7 喝着醇香的奶茶和马奶酒,吃着香喷喷的奶酪和羊肉,拉起悠扬的马头琴 这是描写的()人民的生活情景。
①维吾尔族 ②藏族 ③蒙古族 ④高山族
- 8 “麦浪滚滚棉花白”,描写的是()地区的特征。
①江南水乡 ②华北平原 ③内蒙草原
- 9 ()是我国最干旱少雨的地区。
①内蒙古草原 ②黄土高原 ③新疆 ④青藏高原

10 台湾被人们比作“()”。

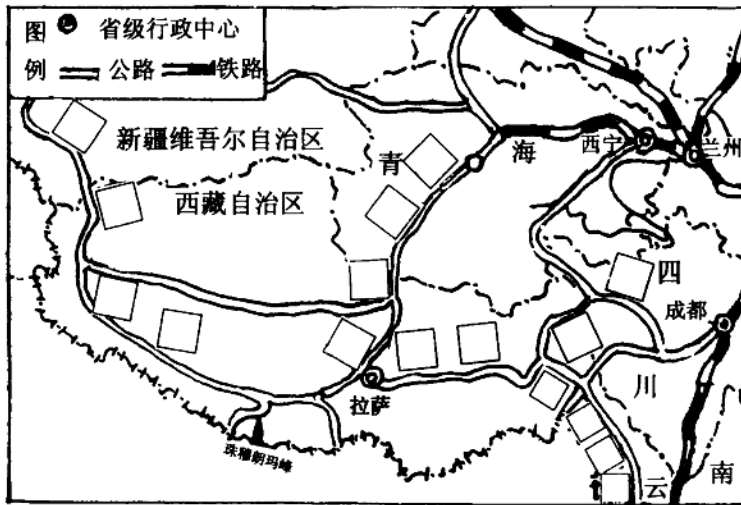
- ①海上粮仓、东方糖库、樟脑王国、水果之乡
- ②鱼米之乡、东方糖库、樟脑王国、水果之乡
- ③海上粮仓、东方糖库、樟脑王国、瓜果之乡

四 连线。(5分)

| | |
|------|------|
| 棉乡 | 鞍山 |
| 钢都 | 华北平原 |
| 日光城 | 包头 |
| 草原钢城 | 香港 |
| 东方明珠 | 拉萨 |

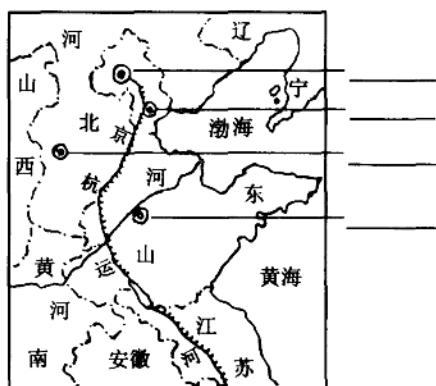
五 填图。(16分)

1 在“青藏高原公路网”图上填写4条以拉萨为中心的公路名称。



青藏高原公路网

2 在“华北平原主要棉纺织工业分布图”上,填写4个主要棉纺织工业城市的名称。



华北平原主要棉纺织工业分布简图

六 简答。(24分)

1 在华北平原上发展棉纺织工业有什么有利条件？(8分)

2 为什么黄土高原有我国的“煤海”之称？(8分)

3 为什么称柴达木盆地东部盐湖区是“盐的世界”？(8分)

期 中 试 卷(B)

_____ 年级 _____ 班 姓名 _____ 成绩 _____

一 填空。(每空1分,共33分)

- 1 黑龙江的 _____ 地区,素有“鹤乡”之称。
- 2 _____ 是“黑色的金子”、“工业的粮食”。
- 3 现在上海正在变成国际 _____、_____、_____ 中心,向着现代化城市迈进。
- 4 在傣语中,“西双版纳”的意思是“_____”,“版纳”是指 _____,所以“西双版纳”的意思是指 _____。
- 5 _____ 成为傣族村寨的普遍建筑。
- 6 西双版纳的原始森林里植物种类可多了,被称为“_____”,还有“_____”的美称。
- 7 位于我国西南部的 _____ 省和 _____ 区,是我国藏族人民的主要聚居区。
- 8 _____ 是青藏高原的主要特征。
- 9 _____ 是新疆的主要牧区。
- 10 内蒙古草原上的牧业生产,逐渐从传统的游牧方式,向 _____ 方式转变。
- 11 台湾的大城市主要有 _____、_____、_____ 等。
- 12 “_____”、“_____”是高山族少不了的音乐舞蹈节目。
- 13 _____ 年 _____ 月 _____ 日设立澳门特别行政区。
- 14 香港特别行政区,位于广东省 _____ 口东侧,毗邻广东省 _____ 市。它主要包括 _____、_____ 和 _____ 三部分。
- 15 香港是重要的国际 _____ 中心、_____ 中心,也是 _____ 中心。

二 判断(正确的,在后面的括号里画“√”,错误的画“×”)。(13分)

- 1 东北的山区是我国著名的天然林区。()
- 2 华北平原的形成归功于河流泥沙的长期沉积作用。()
- 3 江南水乡是我国人口最稠密的地区之一。()

- 4 黄土高原是我国著名的茶叶产地。()
- 5 黄土高原的人们因地制宜,在陡坡上改为种树、种草。()
- 6 上海市是我国最大的城市,比北京还大。()
- 7 上海郊区有两个著名的地方,一个是金山,另一个是南京路。()
- 8 地势越高的地方,空气越稀薄,阳光照射得厉害,气候越温暖。()
- 9 牦牛连同藏绵羊、藏山羊,是青藏高寒牧区的三大主要牲畜。()
- 10 香港特别行政区,是享有高度自治权的地方行政区域。()
- 11 澳门位于珠江口西岸,毗邻广东省珠海市。()
- 12 香港是祖国大陆商品走向世界的重要桥梁。()
- 13 我国最大的地热发电站在拉萨以北的羊八井。()

三 选择(选择正确答案,将其序号填写在括号里)。(8分)

- 1 传说中的中华民族始祖黄帝的陵墓就在()上。
①华北平原 ②黄土高原 ③东北平原
- 2 上海市大部在长江入海口的()。
①东面 ②西面 ③南面 ④北面
- 3 “湖塘星罗棋布,河渠纵横交错”,这是()的特点。
①华北平原 ②江南水乡 ③东北地区 ④黄土高原
- 4 黄土高原在()。
①秦岭以南 ②太行山以东 ③太行山以西、秦岭以北
- 5 ()是我国最重要的畜牧业基地。
①天山山地 ②内蒙古草原 ③青藏高原 ④西双版纳
- 6 我国最大的钾肥厂在()附近。
①上海宝山 ②内蒙古包头 ③青海察尔汗盐湖
- 7 新疆沙漠中有水的地方就有绿洲。()上的冰雪融水是这些绿洲的主要水源。
①天山、昆仑山、阿尔泰山 ②天山、昆仑山、阴山
③天山、昆仑山、喜马拉雅山
- 8 棉花产量和质量都跃居全国第一位的是()。
①山东 ②河南 ③新疆 ④河北