

上 册

Shijie Dili Tianchong Tuce

世界地理填充图册

年级

班级

学号

姓名

编者的话

根据各地教师和出版者的意见，我们对本填充图册进行了修编。改16开本，双色印刷，调整了篇幅和部分习题内容，以便更好地配合学生填图和思考练习的需要。但这些习题仅供教师布置作业参考，不是教学中规定必须完成的作业。地理课本改编后，限于时间，有部分习题配合不够紧密，待再版时修订。

世界地理填充图册

上册

编辑：刘勇民 编绘：周清 审校：顾炎芬

中国地图出版社编制出版

北京出版社重印

北京市新华书店发行

北京印刷厂印刷

787×1092 1/16 32开本

1990年9月第5版

1990年8月第1次印刷

ISBN 7-5031-0422-1 G·223 (册)

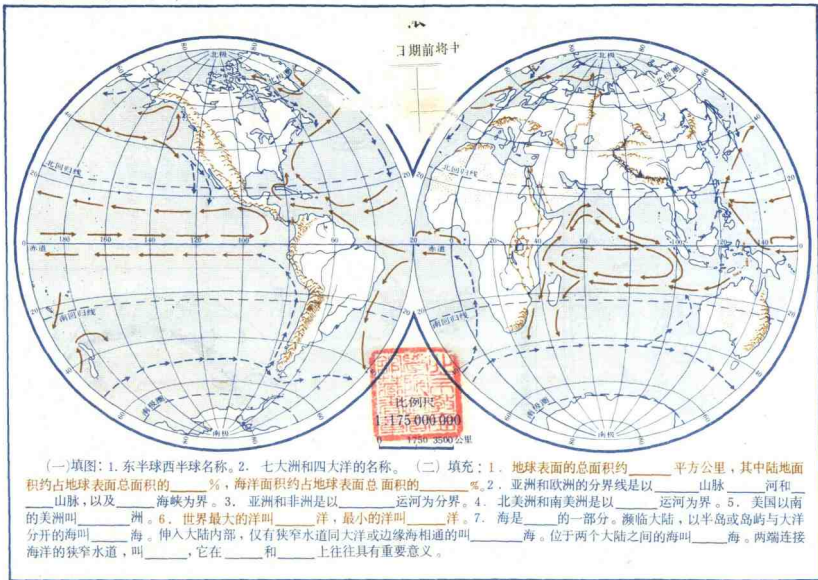
定价：0.34元

本图册中国国界线系按国务院1989年出版的
1:400万《中华人民共和国地图》绘制

图 例

★ 我国首都		运 河	■ 煤	△ 铝	◻ 铀
⊙ 外国首都、首府		河 流	■ 石油	◆ 菱镁矿	✧ 金刚石
○ 城 市		湖 泊	□ 天然气	◻ 锡	⊕ 钽
— · — · — 洲 界		季 节 河	▲ 铁	● 金	◆ 磷
— — — — 国 界		季 节 湖	■ 锰	⊙ 钨	▲ 硫
— — — — 未 定 国 界		山 脉	■ 铬	◻ 铋	▭ 石墨
— — — — 地 区 界	▲ 山 峰		■ 铜	⊖ 钴	☾ 云母
— — — — 铁 路	■ 火 山		▲ 镍	⊙ 锗	
		沙 漠	⊙ 铅 锌	▲ 砷	

ACT36/10



根据国家教育委员会1986年制订的《地理教学大纲》, 调整了部分习题。凡棕色字体的习题,

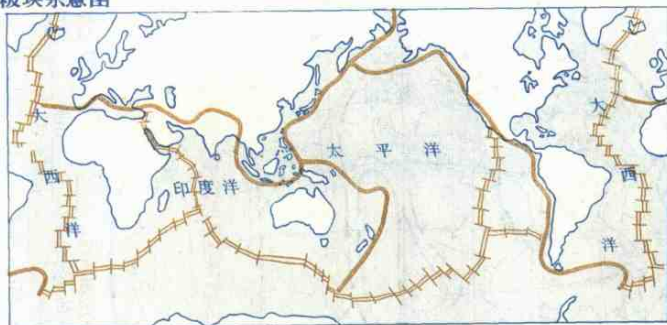
仅供爱好地理的学生参考。下同。

A1736/10

145745-

六大板块示意图

A图



—— 扩张中心 (海岭) ——— 海沟、造山带 (消亡边界)

世界主要山脉、火山、地震分布略图

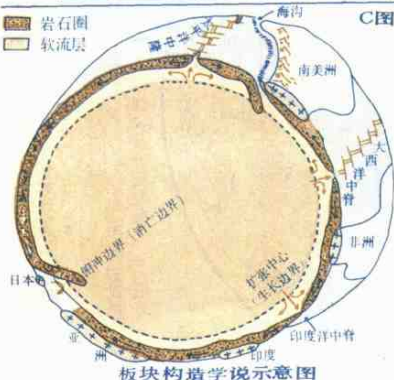
B图



—— 世界主要山脉分布区 ····· 地震剧烈区 ▲ 火山

■ 岩石圈
□ 软流层

C图




板块构造学说示意图

1. 在A图上注出六大板块名称。
2. 看A图填充：_____板块几乎全部在海洋，其它_____板块_____板块_____板块_____板块，既包括海洋，也包括陆地。
3. 看图思考：①仔细观看C图理解板块构造学说的思想。②比较A、B两图，想一想，为什么世界的山脉、火山、地震带恰巧与板块的消亡边界吻合。

看图思考：

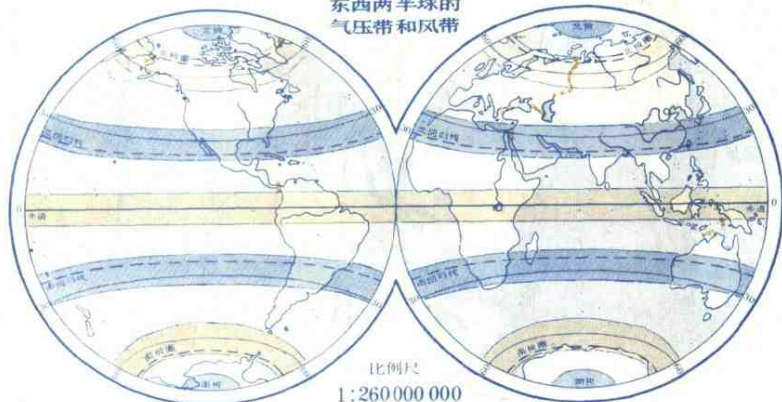
气压带在地球表面由赤道向南、北是怎样排列的？从下面选择一个正确答案：

1. 按冷的地方为高压带，热的地方为低压带的规律排列。
2. 没有什么规律。
3. 按高低相同的规律排列。
4. 高纬度为高压带，低纬度为低压带。



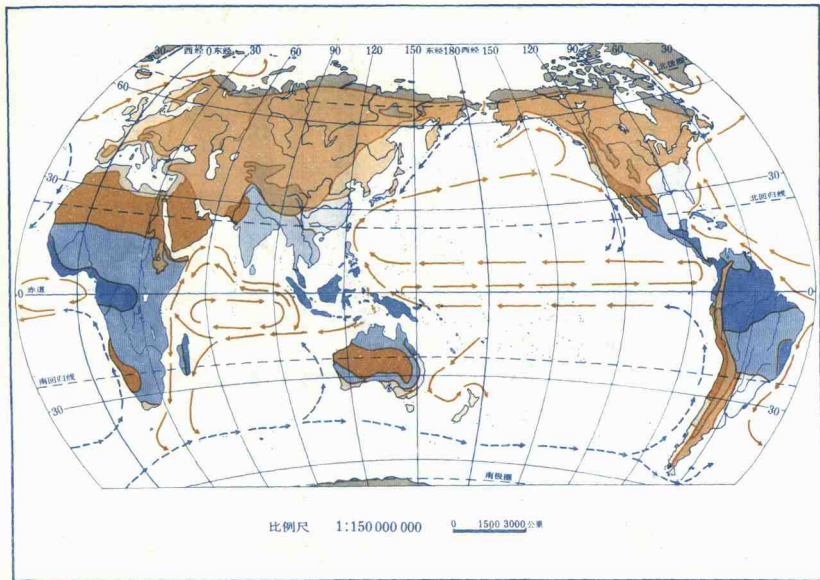
大气环流示意图

东西两半球的气压带和风带













- (一) 填注：1. 赤道低气压带、副热带高压带、极地高压带（注在图外南北极处）、副极地低气压带。2. 东北信风带、东南信风带、西风带、极地东风带。并绘箭头表示风向。
- (二) 看图填充：上图气压带和风带分布概况，说明太阳直射点大约在_____附近。当太阳直射点向北逐渐移至北回归线上时，地球上的气压带和风带也随之向_____移动；当太阳直射点向南逐渐移至南回归线上时，地球上的气压带和风带也随之向_____移动。所以说，世界各地气候是随着太阳_____点的南北移动而有规律的变化。

4 世界气候类型 (一)



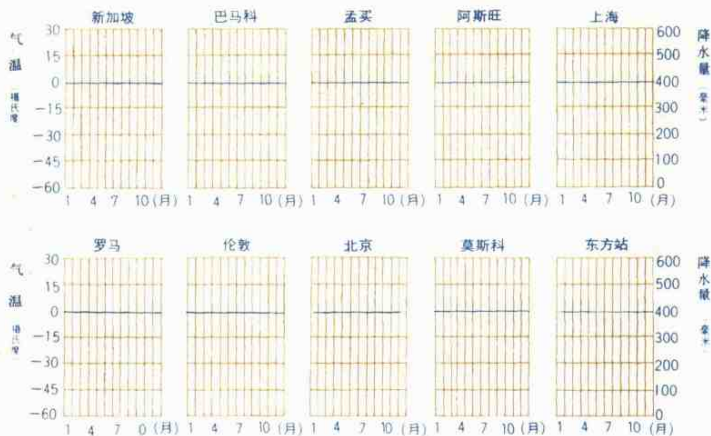
看左图填下表:

图 例	气候类型名称	分布规律	主要特征
	热带雨林气候		
	热带草原气候		
	热带季风气候		
	热带沙漠气候		
	亚热带季风性湿润气候		
	地中海式气候		
	温带海洋性气候		
	温带季风气候		
	温带大陆性气候 (包括亚寒带针叶林气候)		
	极地气候 (包括苔原和冰原气候)		
	高山气候		

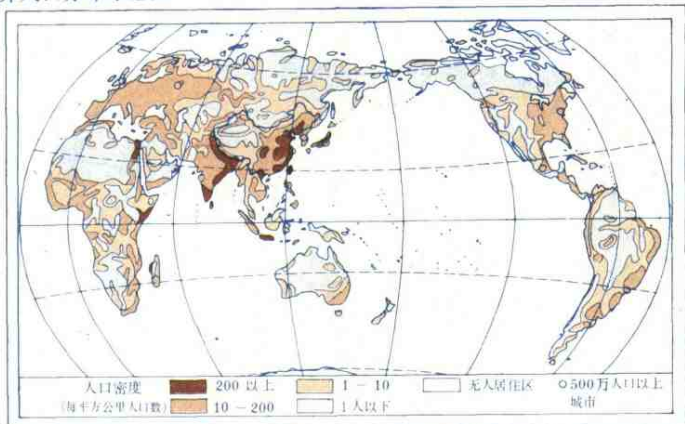
世界各种气候类型的降水量和气温月份分配表

气候类型	地点	月												全年	
		气温 和降水量	1	2	3	4	5	6	7	8	9	10	11		12
	新加坡	气温	26	27	27	28	28	28	29	27	26	26	26	25	27
		降水量	290	320	210	220	120	170	110	270	260	420	300	280	2970
	巴马科	气温	25	28	31	32	32	30	27	26	27	27	28	25	28
		降水量	2	0	5	24	88	147	215	365	179	60	10	0	1093
	孟买	气温	24	24	26	28	29	28	27	27	27	27	25	26	
		降水量	3	3	3	3	20	465	617	351	267	56	10	3	1793
	阿斯旺	气温	16	17	21	26	31	33	33	33	31	28	23	17	26
		降水量	0	0	0	0	2	0	0	0	0	1	0	0	3
	上海	气温	3	4	8	13	19	23	27	27	23	17	11	6	16
		降水量	50	59	84	93	94	180	148	145	128	72	50	36	1139
	罗马	气温	7	8	12	14	18	23	26	26	22	18	13	9	16
		降水量	74	87	79	62	57	38	6	23	66	123	121	92	828
	伦敦	气温	3	4	6	9	12	16	17	17	14	10	6	4	10
		降水量	50	37	38	40	48	52	62	58	55	70	56	48	613
	北京	气温	-4.7	-2.3	4.4	13.2	20.2	24.2	26.0	24.6	19.5	12.5	4.0	-2.8	11
		降水量	3	8	9	22	36	70	196.6	243.5	64	21	8	2	683
	莫斯科	气温	-10	-8	-4	4	13	16	19	17	11	4	-2	-7	4
		降水量	28	23	31	38	48	51	71	74	56	36	41	38	533
	东方站	气温	-31	-45	-57	-64	-62	-68	-65	-72	-66	-61	-43	-33	-56
		降水量				3	5	6	6	7	16	9	3		

根据上列表中所示的气温和降水量的数据, 在下列各相应的表格中绘制出降水量和气温图表, 并注出各属何种气候类型。气温如在格内填不下时, 可相应延出格外, 注出数据。

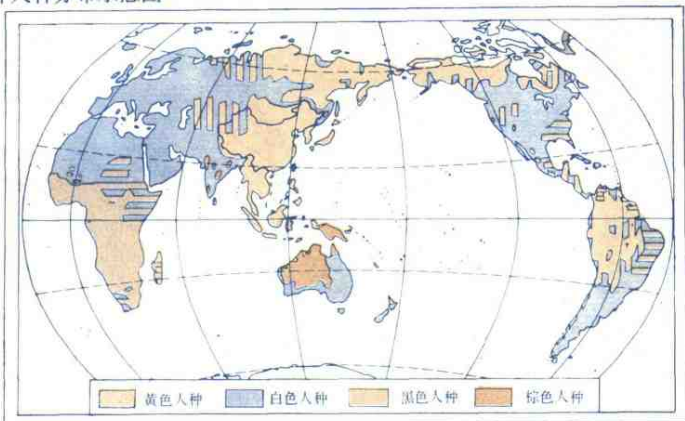


世界人口分布示意图



读图填充：亚洲的_____部、_____部和欧洲的_____地区是人口稠密的地区。

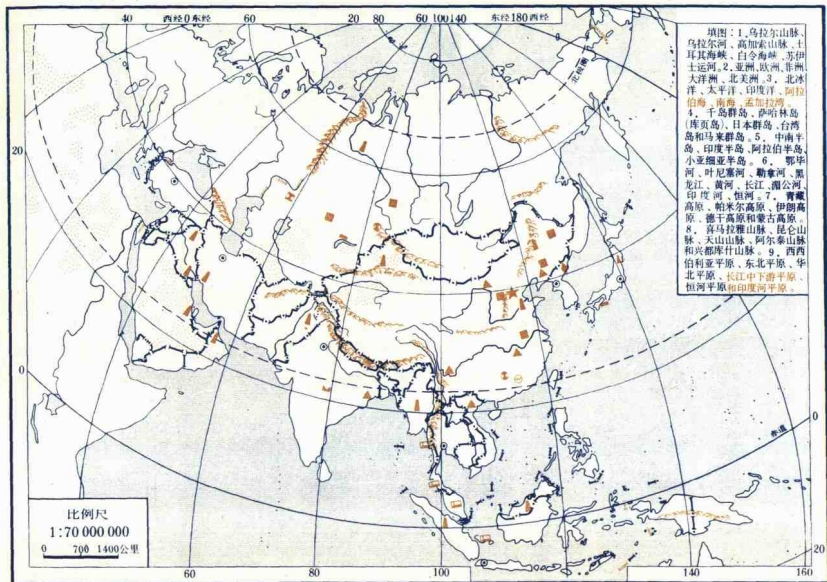
世界人种分布示意图



填下表：

	主 要 分 布 地 区
黄色人种	
棕色人种	
白色人种	
黑色人种	

8 亚洲 (一)



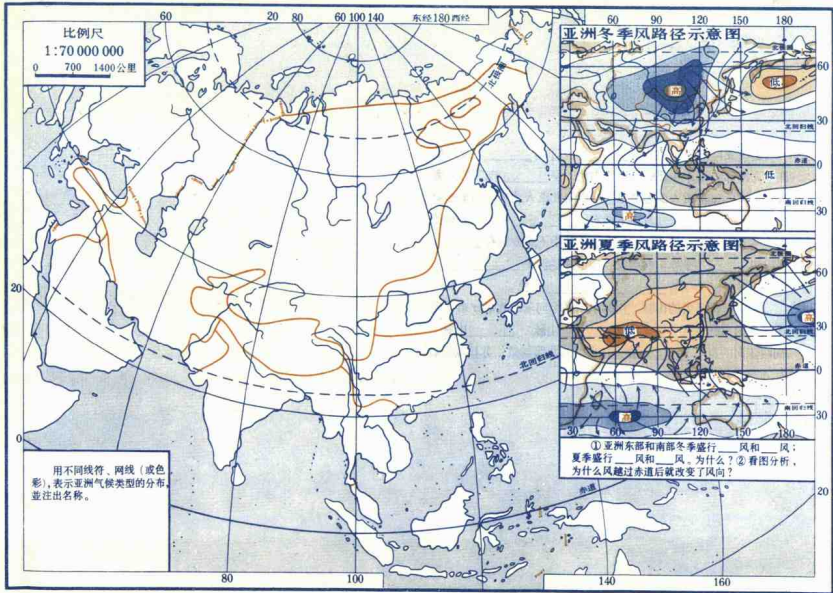
填充题：

1. 亚洲是世界最_____的洲。它位于_____半球，东起_____海峡，西至_____海海滨，东西跨经度160多度。北部的北地群岛地处北纬_____度，南部的努沙登加拉群岛横卧在_____纬_____度附近。

2. 亚洲的地势，中部_____，四周_____。亚洲的许多大河都发源于中部的高原、山地，呈_____向四方分流，各河的中、下游大多为平原。其中向北流入北冰洋的主要河流_____、_____，其中下游有_____平原，向东流入太平洋的主要河流_____、_____，其中下游分别有_____平原和_____平原，向南流入印度洋的河流_____、_____，其中下游分别有_____、_____平原。

3. 亚洲著名的山脉，由帕米尔高原向东西放射分布，向东走向的山脉有_____山脉、_____山脉、_____山脉；向西走向的有_____山脉。在中国西北部与蒙、苏接壤处有_____山脉。

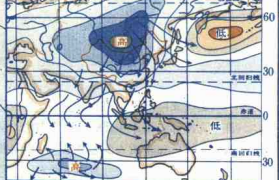
10 亚洲气候类型 (一)



比例尺
1:70 000 000
0 700 1400公里

用不同线符、网线(或色彩),表示亚洲气候类型的分布,并注出名称。

亚洲冬季风路径示意图



亚洲夏季风路径示意图



① 亚洲东部和南部冬季盛行____风和____风;夏季盛行____风和____风,为什么? ② 看图分析,为什么风越过赤道后就改变了风向?

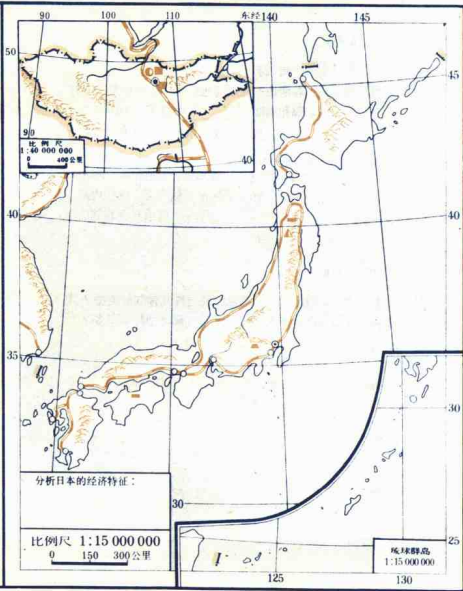
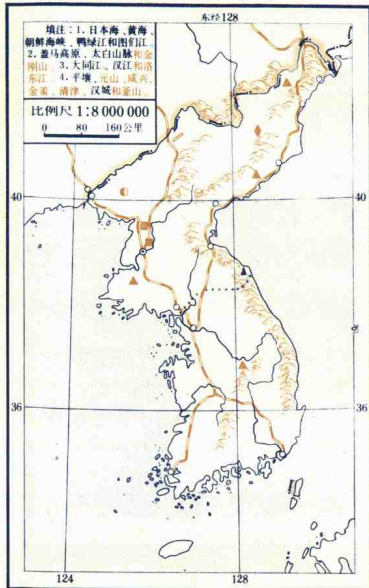
(一) 填充题：

1. 亚洲地域广阔,跨_____、_____、_____三个气候带,又因各地地形和距海远近不同,气候复杂多样。
2. 亚洲的东部和南部_____气候显著。中南半岛、印度半岛主要属_____气候。我国东部,朝鲜和日本属_____气候和_____气候。
3. 马来半岛南部和马来群岛大部,横跨赤道,终年高温多雨,属于_____气候。亚洲中部和西部,地处内陆,海洋影响小,属于干旱的_____气候。西伯利亚北部沿海,终年严寒,属_____气候。

(二) 分析题：

1. 北回归线从西至东在亚洲经过哪几种气候类型?其中哪种气候类型所占面积最大,哪种气候类型降水最多?为什么处于同一纬度带上,气候彼此不同?
2. 1405年,当时航海技术还不发达,只能扬帆远涉重洋。那么,当年郑和下西洋时,应该是冬季从江苏出发,还是夏季从江苏出发?为什么?
3. 亚洲的气候特点是什么?

12 日本、朝鲜、蒙古 (一)



*** 军事分界线

一) 填图:

1. 在日本图上填注: ①太平洋、东海、日本海、朝鲜海峡和濑户内海。②日本四大岛: 北海道、本州、四国、九州。③东京、横滨、大阪、神户、名古屋、北九州及两大渔港: 下关、函馆。④富士山。

2. 在蒙古图上填注: ①蒙古邻国中华人民共和国和苏联。②蒙古高原、阿尔泰山脉、杭爱山脉、色楞格河。

③乌兰巴托。

(二) 填充:

1. 日本领土由_____、_____、_____、_____四个大岛和附近的一些小岛组成。

2. 日本处于_____板块与_____板块交界处, 地壳很不稳定, 多_____、_____。著名的富士山是一座_____山。

3. 日本工业主要汇集在_____洋沿岸与_____内海沿岸狭小地区。日本资源贫乏, 工业所需的主要_____、_____、绝大部分依靠进口。其工业产品大量销往_____。

4. 朝鲜是个多山的_____国家, 地势由东北向西南倾斜, 北部山地以_____高原为中心, 地形崎岖, 东部山地的主体是南北走向的_____山脉, 西部、南部是丘陵和平原。

5. 蒙古地处亚洲中部, 蒙古高原的北部, 是世界上最大的_____国。因距海遥远, 属于典型的_____气候。地面除戈壁、沙漠外, 草原较广, 是个以_____业为主的, 主要牲畜有_____、_____、_____等。

(三) 分析题:

根据下表资料分析东亚气候的特点, 由海洋向内陆是由_____气候向_____气候过渡。

项目 地名	最冷月均温 (摄氏度)	最热月均温 (摄氏度)	年均温 (摄氏度)	年降水量 (毫米)
东京	3.0 (1月)	25.4 (8月)	13.8	1626
平壤	-8.2 (1月)	24.3 (8月)	9.2	922
乌兰巴托	-23.7 (1月)	17.1 (7月)	-2.2	101

14 东南亚 (一)

