



Zhongguo Dili
Tianchong Tuce

中国地理填充图册

下 册

年级

班级

学号

姓名

图 例

★ 我国首都	 湖 泊	 铬
◎ 外国首都、首府	 季 节 河	 镍
● 省、自治区、直辖市 人民政府驻地	 季 节 湖	 铜
○ 城 市	 山 脉	 铅 锌
 国 界	 山 峰	 铝
 未定国界	 火 山	 锡
 地 区 界	 沙 漠	 钨
..... 印巴停火线	 煤	 汞
 铁 路	 油 页 岩	 铍
 公 路	 石 油	 稀 土
 运 河	 天 然 气	 磷
 城 市、镇、村、 通轮船江点	 铁	 盐
 河 流	 锰	
 水 库、水 电 站、 水 利 枢 纽		

编 者 的 话

根据各地教师和出版者的意见，我们对本填充图册进行了修编。扩大为16开本，双色印刷，调整了篇幅和部份习题内容，以便更好地配合学生读图和思考练习的需要。但这些习题仅供教师布置作业参考，不是教学中规定必须完成的作业。地理课本改编后，限于时间，有部分习题配合不够紧密，待再版时修订。

中国地理填充图册 (下册)

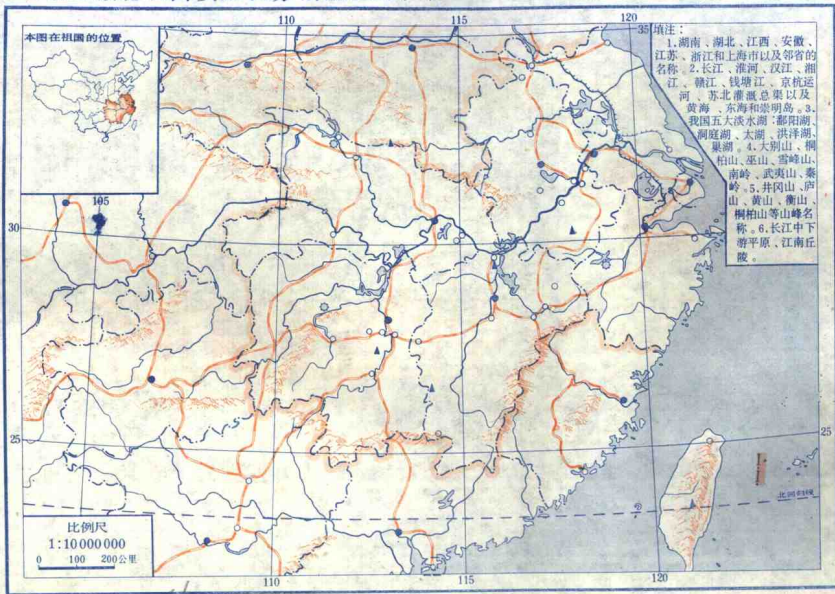
编辑：刘勇民 编绘：周之翠、孙冬冬、
袁一凡 审校：周清、肖简

地图出版社编制出版
北京出版社重印
北京市新华书店发行
北京胶印厂印刷

787×1092 1/16 2印张
1986年9月第1版
1987年1月第1次印刷

统一书号：K12014·1482 定价：0.25元
本图册为中国国界线系统图按1980年出版的
1:400万《中华人民共和国地图》绘制。

1 湖南 湖北 江西 安徽 江苏 浙江 上海(一)



ACF36/06

列日期前将书还回

填充题：

1. 长江中下游平原是由长江中游的 _____ 平原、 _____ 平原、 _____ 平原和下游的 _____ 三角洲组成。这里是我国 _____、 _____、 _____、 _____ 和 _____ 鱼的最重要产区。

2. 长江以南、 _____ 岭以北、 _____ 高原以东、 _____ 山脉以西的广大地区，以丘陵山地为主，总称江南丘陵。

3. 江南丘陵的名山有：皖南的 _____ 山、赣北的 _____ 山、湘中的 _____ 山。它们都是风景优美的旅游胜地。 _____ 山位于 _____ 省，有“革命摇篮”之称。

4. 红壤是在 _____ 的气候条件下发育成的一种土壤，土壤中 _____、 _____ 成分较多。它是一种 _____ 性土壤， _____ 含量少，土质粘重，肥力低，是低产土壤。改良的主要方法是增施 _____，补充 _____ 等。

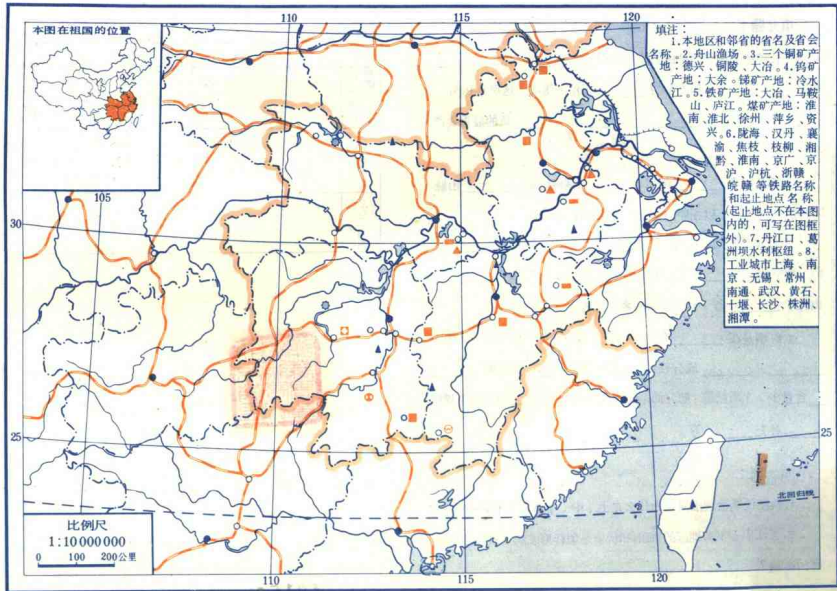
问答题：

1. 读图说明治理淮河，为什么在上、中、下游采取不同的措施？
2. 长江中、下游地区的梅雨和伏旱是怎样形成的，对农业生产有何影响？

填下：

		成 因	特 点
洞庭湖平原	江汉平原		
	鄱阳湖平原		
	长江三角洲		

3 湖南 湖北 江西 安徽 江苏 浙江 上海 (三)



填充题：

1.本区内河航运发达，_____、_____水系横贯东西，构成庞大的水运网，_____河纵贯南北，起着沟通江、淮水运的作用。

2.本区“三纵三横”的铁路干线是_____；两大交通枢纽是_____、_____；四个水陆交通中心是_____、_____、_____、_____；两大主要海港是_____、_____。

3.长江三角洲的重要工业城市有_____、_____、_____、_____等。湘中工业区的工业城市有_____、_____、_____。鄂西工业区的_____是我国新建的第二汽车制造厂所在地。

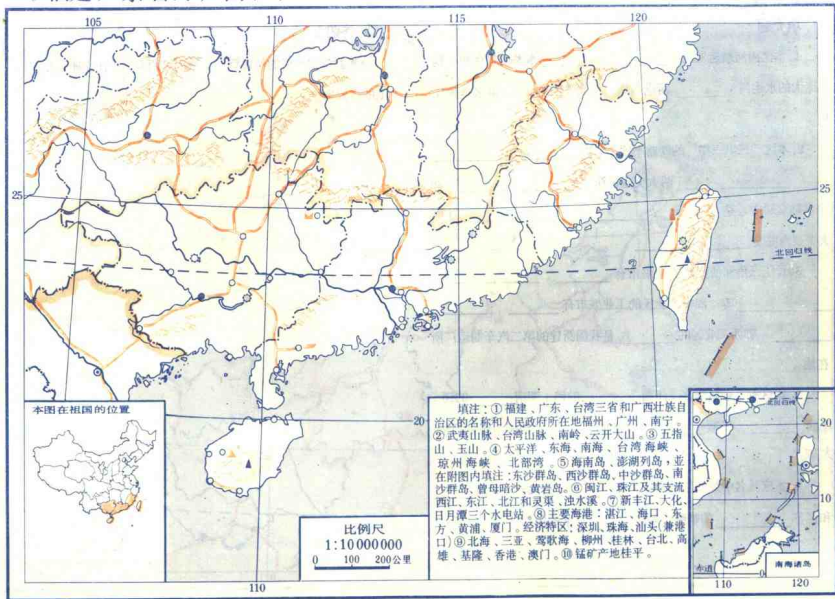
4.本区有色金属丰富。江西_____的钨，湖南_____的锑，江西_____、安徽_____、湖北_____的铜，储量都很大。

5.本区驰名中外的工艺品有江苏_____的陶器，湖南_____和江苏_____的刺绣，浙江_____的织锦。

问答题：

分析武汉和上海的位置特点，说明这两大城市在交通上和工业上的重要地位。

5 福建广东台湾广西(一)



填充题：

1. 本区地形的主要特征是_____。丘陵大都在_____米以下，山脉多呈_____走向。南岭横亘于粤、桂、湘、赣之间，呈_____走向，它是_____水系和_____水系的分水岭。

2. 南海诸岛包括_____群岛、_____群岛、_____群岛、_____群岛和_____岛。它们处在_____洋和_____洋之间的交通要道上，又是我国开发南海资源的基地，地理位置非常重要。

3. 北回归线横贯本区_____和_____，东南又濒临_____海和_____海。因此本区的主要气候特征是_____、我国年降水量最多的地方是_____。

4. 本区最大的水系是_____江和_____江。粤、桂、闽、台的河流共同特点是_____。

5. 本区主要农作物是_____和_____。_____和_____等热带地区是我国发展热带作物的基地。热带作物主要有_____等

6. 本区高温多雨，果树种类繁多，主要有_____

_____。其中_____是名贵特产。

7. 根据《中英联合声明》，我国政府将于_____年_____月_____日对香港恢复行使主权。

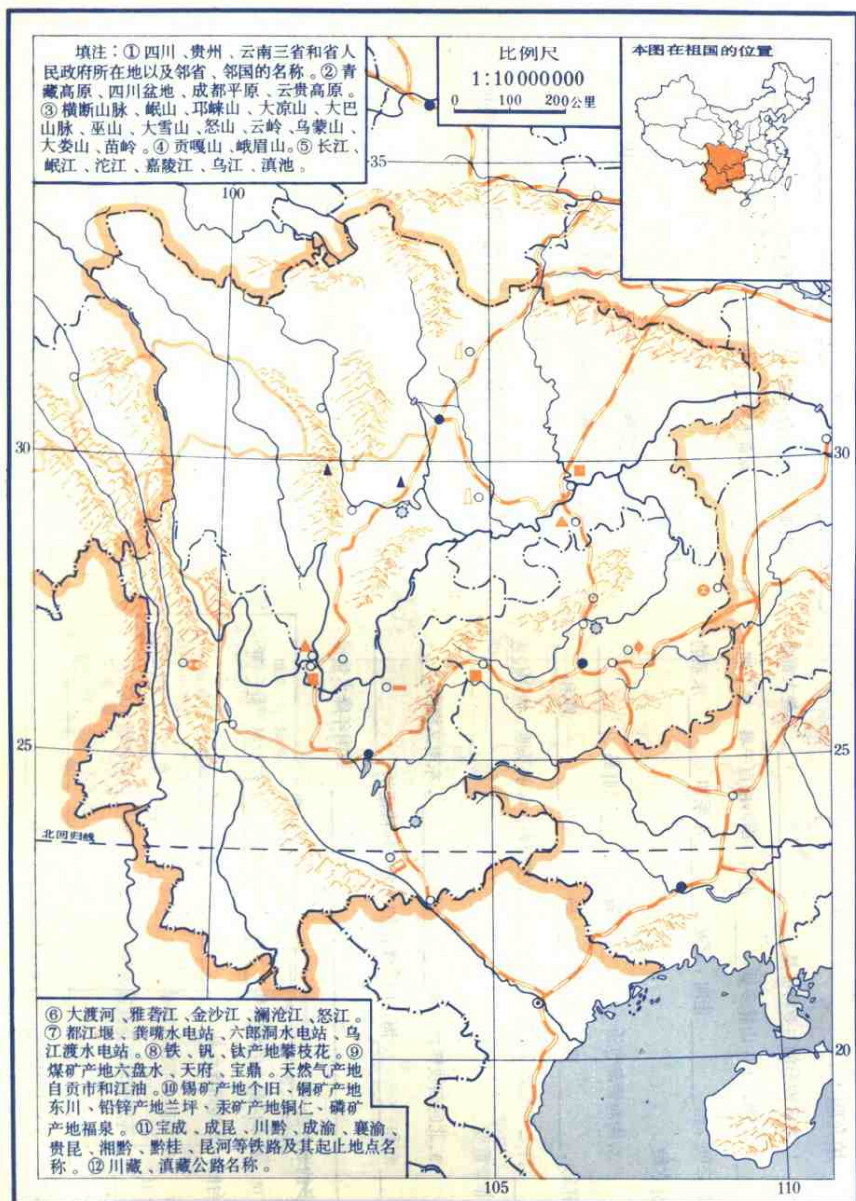
问答题：

1. 说明桂林、阳朔一带的秀丽山水景色形成的原因。

2. 说明珠江三角洲桑基鱼塘生产的特点。

3. 简述香港在世界经济中的重要地位。

4. 台湾省下列地方为什么著名：日月潭、高雄、澎湖列岛、台北。



填充题：

1. 西南三省的地势由_____向_____倾斜，_____洋和_____洋的季风都可达到，雨量丰沛。由于_____的影响，三省河流向东，向南和东南三面成扇形分流而下。
2. 四川盆地终年温暖，雨量充沛，属_____地区。这里广泛分布着_____色的沙岩和页岩，经风化形成_____色土，含有丰富的_____和_____等养分，有利于农业生产。
3. 云贵高原包括_____省的东部和_____省的大部，它的主要地形特征是_____地形广泛分布。它的气候特点是：夏季_____季风和_____季风都可达到本区，降水丰沛，各地气温相差_____；冬季，约以东经104°为界，东部多_____天气，西部多_____天气。
4. 横断山区，山高谷深，气候、植被的特征是_____分布显著。从山麓的_____气候、_____植物到高山的_____气候和_____植物都可见到。

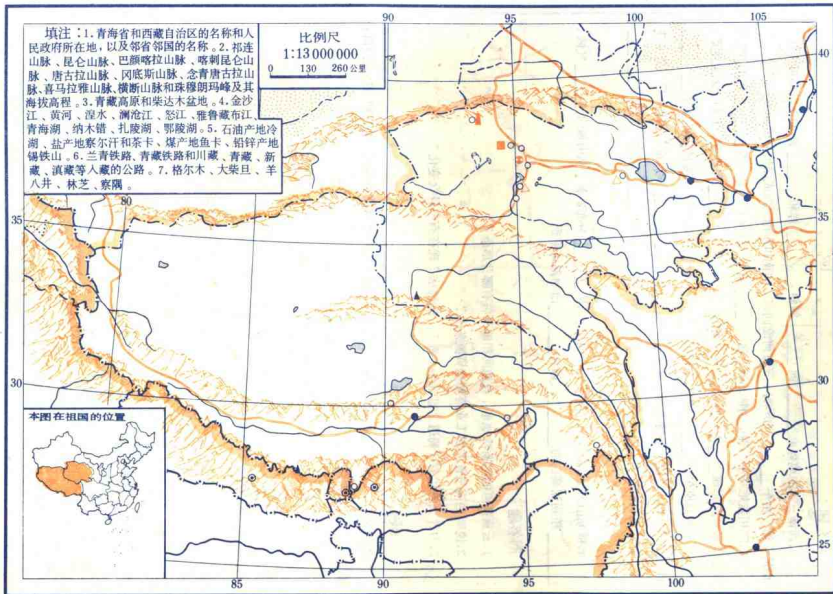
问答题：

1. 云贵高原的喀斯特地形，在地面和地下各有哪些形态？
2. 说明西南三省发展工业有哪些资源条件？
3. 为什么古代有“蜀道之难难于上青天”的说法？现在有什么变化？

绘图题：

参阅地图，设计绘出从徐州出发，乘火车经上海到昆明的铁路线略图，并注明沿途可停留在哪些城市，参观哪些名胜。

9 青海西藏 (一)



填充题：

1. 青藏高原是世界上最_____、最_____、最_____的大高原。

2. 发源于青藏高原注入太平洋的河流有：_____河、_____江；注入印度洋的有：_____江、_____江、_____江等。

3. 青藏高原南部_____山脉与_____山脉之间，是强烈的地热活动带。今已在_____建立了地热试验电站。

4. 青藏高原的气候特征是：日照_____、气温_____、日较差_____、降水_____。

5. 西宁位于_____谷地。这个谷地是青海最_____的地方，年降水量较_____，无霜期有_____月以上，土地肥沃，是青海省的主要_____区。

6. 柴达木盆地位于_____省，在很早以前，它就是一个_____盆。这里矿产丰富，有_____的石油、_____的煤、_____的钾盐、_____的池盐、_____的铅锌矿。

问答题：

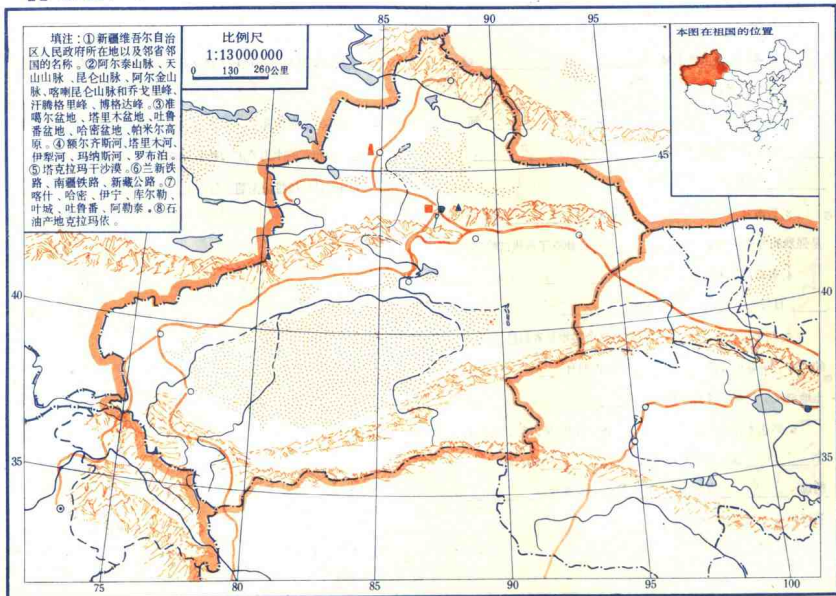
1. 青藏高原日照强，地热资源丰富，对本区生产发展有什么意义？

2. 青藏高原的湖泊和长江中下游平原的湖泊有什么不同？

3. 雅鲁藏布江的水力资源为什么异常丰富？

4. 我国的喜马拉雅山南麓，气候上有什么特点？

11 新疆(一)



新疆(二)

填空题：

1. 新疆位于我国_____部，是我国面积最_____的省级自治区。全区有_____等13个民族，其中_____族人口最多。

2. 吐鲁番盆地和哈密盆地同是_____山的陷落盆地。吐鲁番盆地低于海平面_____米，是我国最低的地方，也是气温最_____的地方。由于这两个盆地夏季气温高，积温大、日照充分、无霜期较长，是我国_____棉的主要产区。

3. 新疆瓜果特别甜的主要原因是：_____。

4. 新疆地处非季风区，_____农业是新疆农业的特色。_____山地是新疆的主要牧区。

5. 我国唯一注入北冰洋的河流是_____河。我国最大的内陆河是_____河。

6. 新疆城市的特点，一般都是位于_____上。如喀什位于_____上，哈密位于_____上，伊宁位于_____。

绘图题：

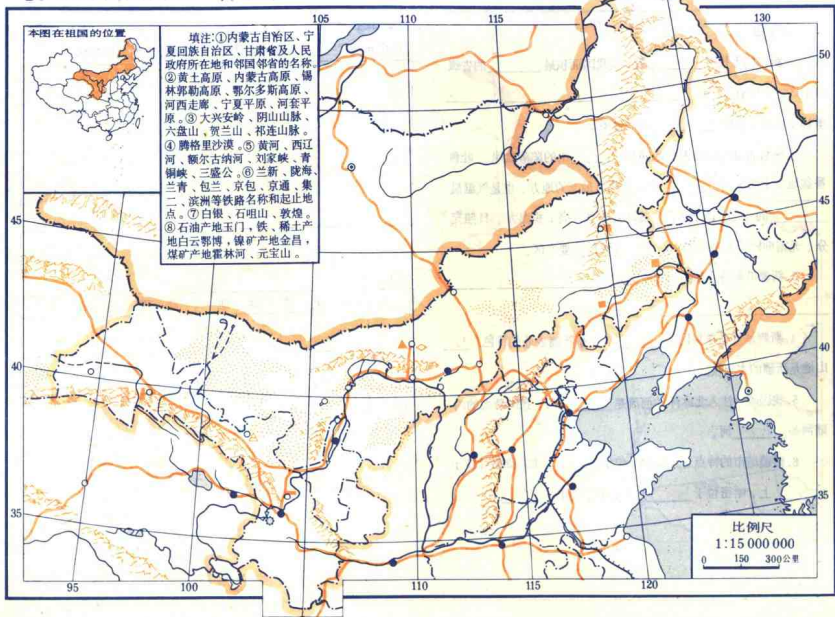
绘出新疆“三山夹两盆”示意图，并注出三山两盆的名称。



填表：

	塔里木盆地	准噶尔盆地
气候		
沙漠名称		
物产		

13 北部内陆两区一省(一)



北部内陆两区一省(二)

填充题：

1. 内陆两区一省地处我国地势第_____级阶梯范围内，地形以_____为主。主要地形区有_____和_____。

2. 内陆两区一省东起东经_____度，西至东经_____度。由于本区地处内地，东西距离又长，越往西受海洋的影响越_____，降水量也随之_____。因而越往西干旱的大陆性气候特征也就越典型。反映在自然景观上，形成了从森林到_____到_____的变化。

3. 甘肃、宁夏、内蒙古的商品粮基地是_____、_____和_____。它们都是干旱地区的重要灌溉农业区。

4. _____市是我国西北的重要工业城市和交通枢纽，它位于_____、_____、_____和_____铁路的交点。_____工业比较有名，还发展了毛纺织工业。

问答题：

1. 分析河西走廊在历史上的重要交通地位及其原因。
2. 河西走廊的地下水特别丰富对发展农业有什么好处？
3. 在干旱地区的农田里，如果只灌溉而不注意排水，会出现什么现象？

绘图题：

绘一示意图，说明从祁连山北麓到山顶的自然景观的垂直变化。



量算题：

从地图上量算出，从北京乘火车到兰州，走北线（经包头）和南线（经郑州），各约多少公里。

