

下 册

Shijie Dili Tianchong Tuce

世界地理填充图册

年级

班级

学号

姓名



编者的话

根据各地教师和出版者的意见，我们对本填充图册进行了修编。扩大为16开本，改双色印刷，调整了部分习题内容，以便更好地配合学生填图和思考练习的需要。但这些习题仅供教师布置作业参考，不是教学中规定必须完成的作业。

世界地理填充图册 (下册)

中国地图出版社编制出版
北京出版社重印
北京市新华书店发行
北京胶印厂印刷

787×1092 1/16 2印张

1990年6月第4版

1991年1月第7次印刷

ISBN7-5031-0622-0/G·305(课)

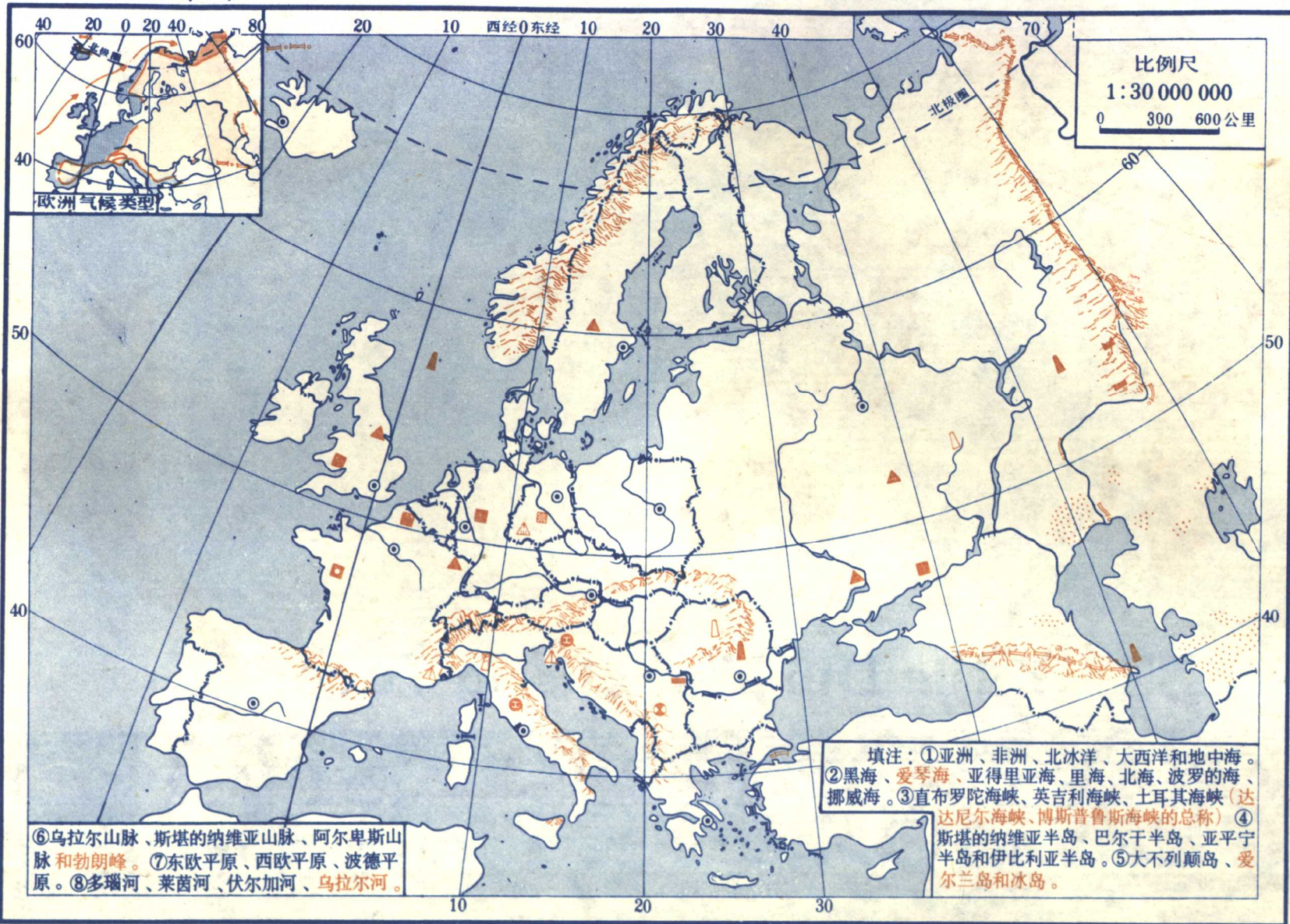
定价：0.54元

本图册中国国界线系统按照我社1980年出版的
1:400万《中华人民共和国地图》绘制。

图 例

★ 我国首都	运河	■ 煤	△ 镍	⊕ 铂
◎ 外国首都、首府	河流	▨ 褐煤	■ 铜	▲ 硫
○ 城市	湖泊	▲ 石油	⊗ 铅锌	◇ 氟石 (萤石)
—·—·— 洲界	季节性河	▭ 天然气	△ 铝	Ⓟ 铋
— — — — 国界	季节性湖	▲ 铁	▭ 锡	■ 铀
— — — — 未定国界	山脉	▭ 锰	⊗ 钨	▲ 钾盐
— — — — 地区界	山峰	▭ 铬	⊕ 汞	
——— 铁路	火山			
	沙漠			

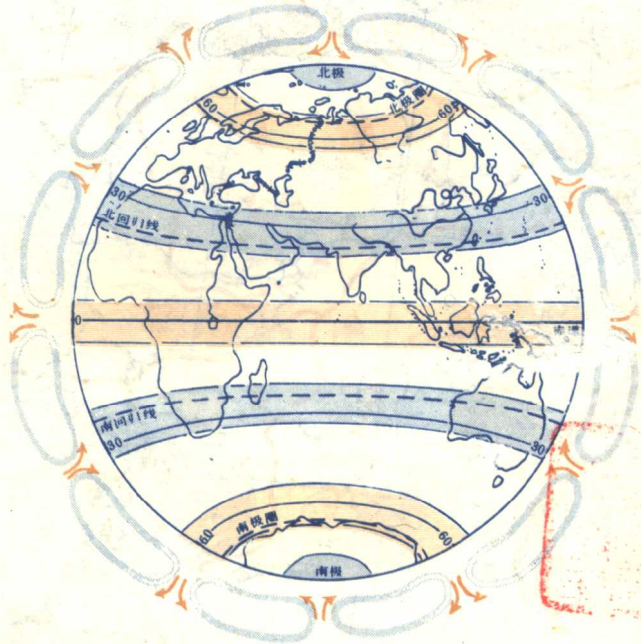
1 欧洲 (一)



根据国家教育委员会1986年制订的《地理教学大纲》，调整了部分习题。凡棕色字体的习题，仅供爱好地理的学生参考。下同。

ACT36/07

东半球气压带和风带模式图

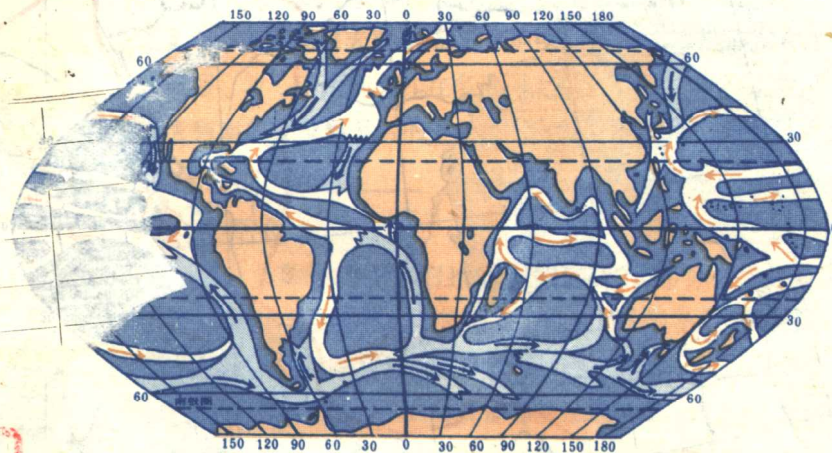


填图：注出各气压带和风带名称

填充题：

1. 欧洲北临_____洋，西临_____洋，南临_____海。由于海岸线曲折，大陆边缘有许多内海、海湾、海峡、半岛和岛屿。主要的海峡有西南端的_____海峡、西部的_____海峡。主要的内海有南部的_____海、_____海、_____海和北部的_____海。主要的半岛有南部的_____半岛、_____半岛、_____半岛和北部的_____半岛。

世界洋流示意图



北大西洋暖流 宽几百公里，深800 米，是世界上最大的暖流。

填图：将北大西洋暖流涂上红色，注出名称。

半岛。

2. 欧洲的地形以_____为主，是世界海拔最_____的一个洲。主要平原从东向西有_____平原、_____平原和_____平原。欧洲地势南北_____（高、低）中间_____（高、低），北部有_____山脉，南部有_____山脉。

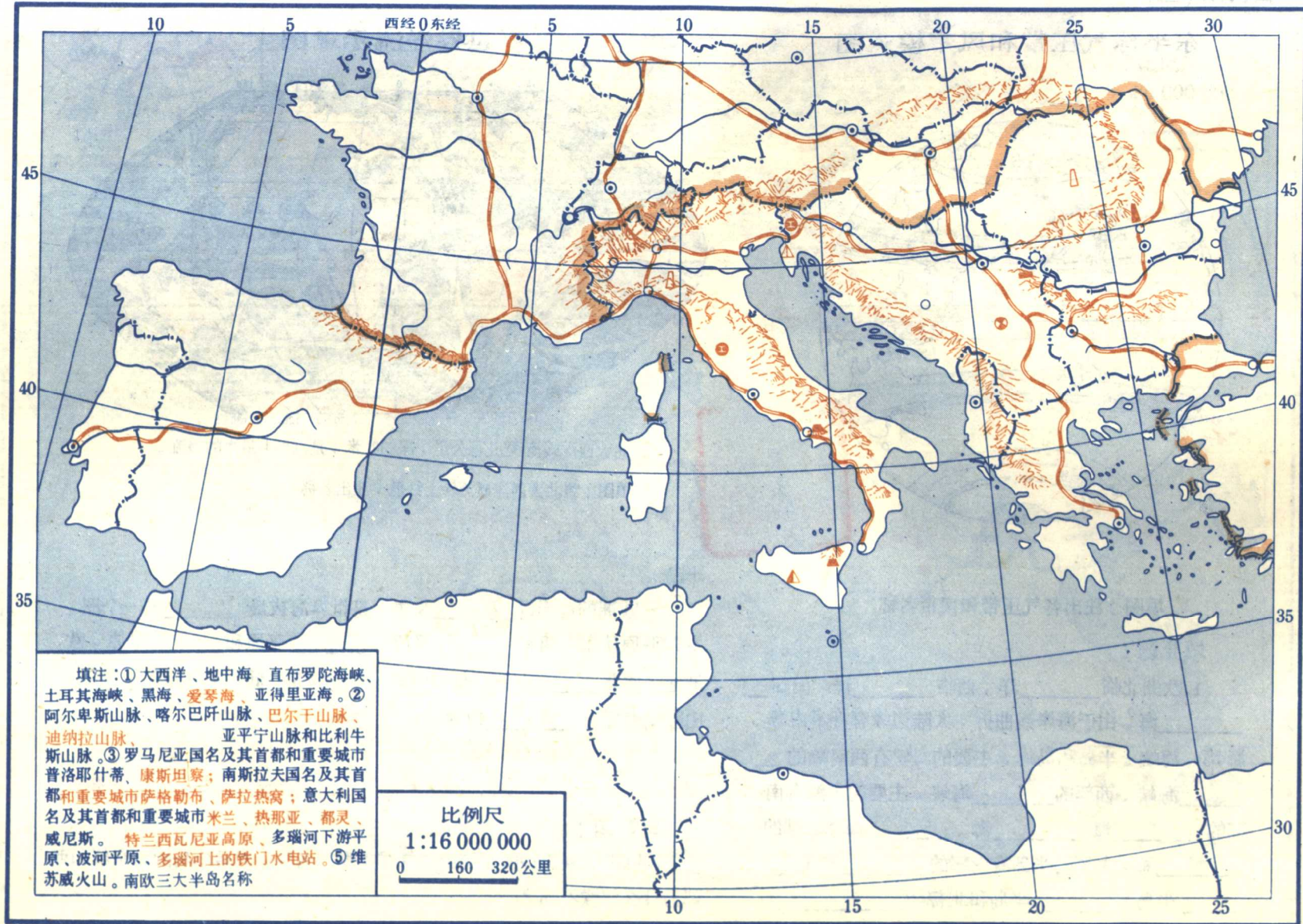
3. 看气压带和风带图填充：西风带大约在纬度_____度至_____度之间，随着季节的变化而南北移动。欧洲大部分地区处于_____风带内。

问答题：

读欧洲气候类型图，注出各气候类型的名称。然后分析欧洲东部和西部为什么气候不同？

ACF36/07

3 南欧 (一)



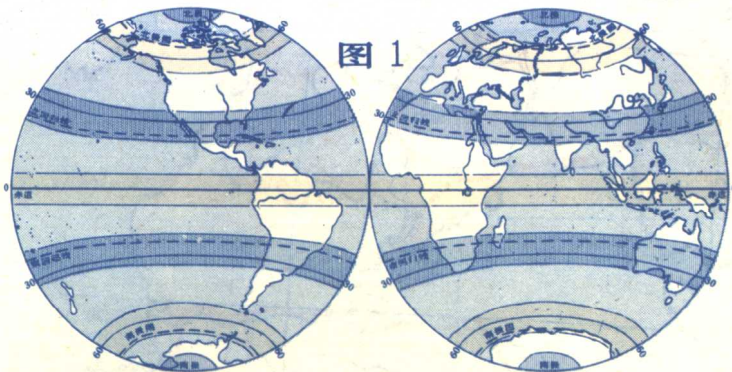


图 1

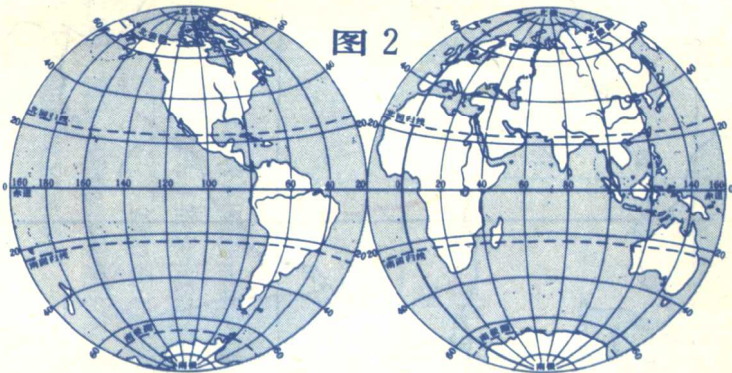


图 2

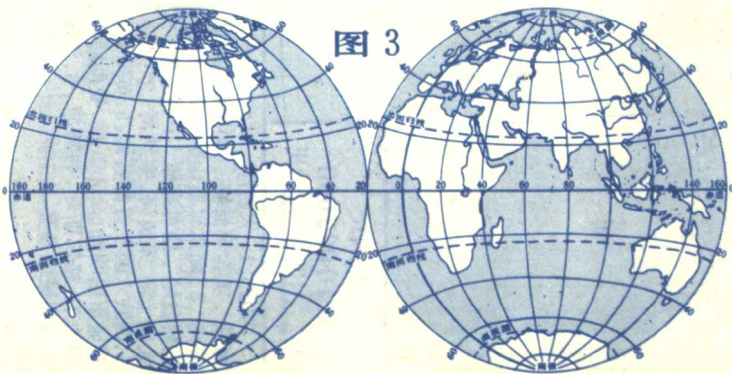


图 3

填充题:

罗马尼亚的主要矿产有 _____, 普洛耶什蒂是 _____ 工业中心。南斯拉夫西北部的高原上, _____ 地形发育比较典型。罗、南两国合作在多瑙河上建立了 _____ 水电站。意大利南部有世界著名的 _____ 火山, 东北部沿海有世界著名的水上城市 _____。

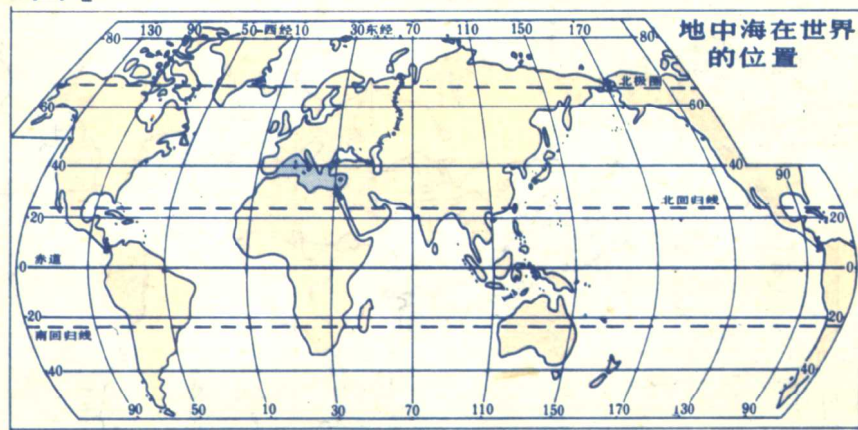
绘图题:

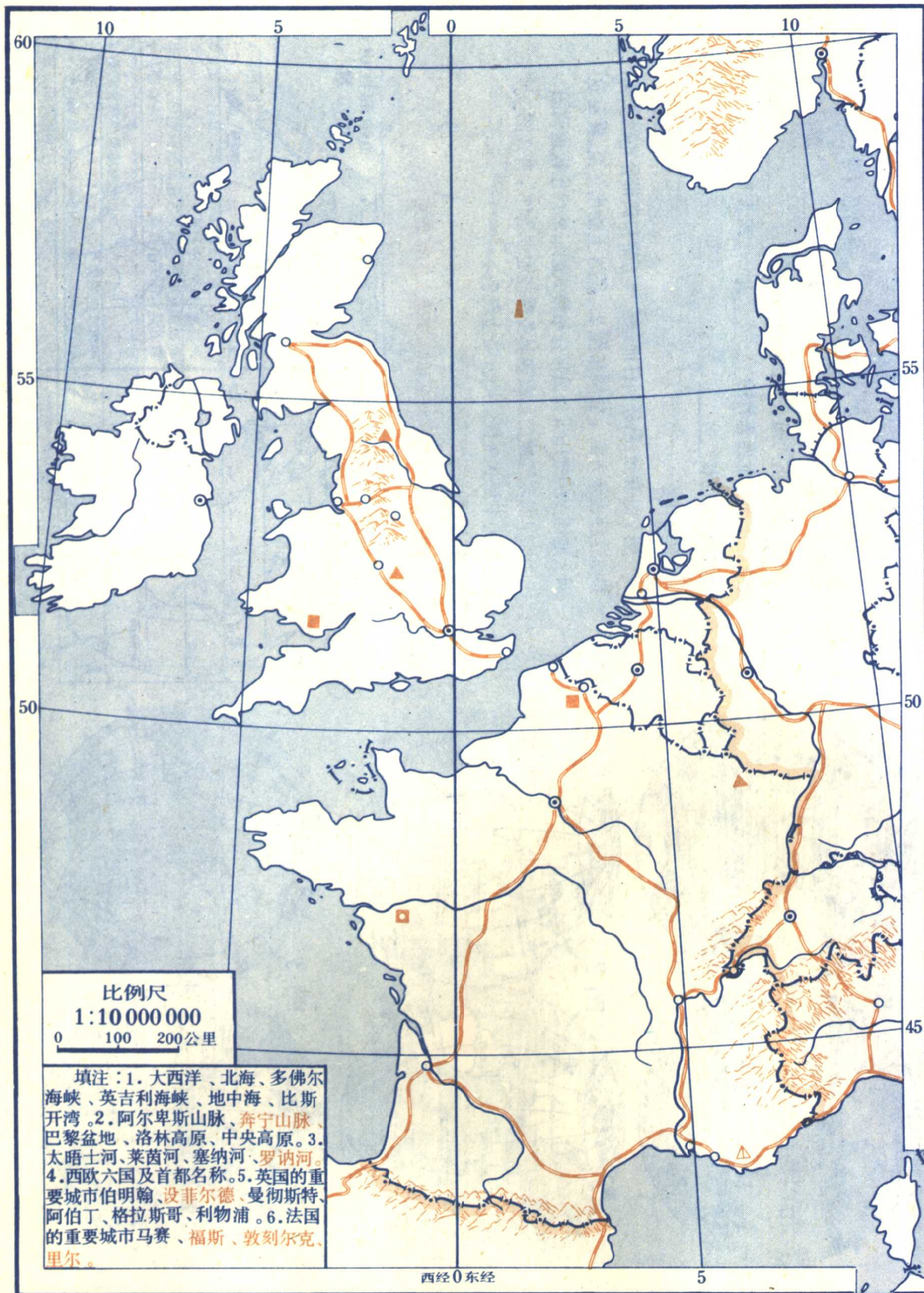
图 1 是春分、秋分两日地球上气压带和风带分布模式图。参照这种表示方法, 分别在图 2、图 3 上绘出冬至、夏至这两天地球上的气压带和风带分布模式图。然后比较这两图, 说明地中海式气候的形成要具备哪些地理条件, 并在图 3 上, 将具备地中海式气候的地方染上红色。

分析题:

看图 4 分析地中海在世界交通上的重要意义。

图 4





填充题：

1. 西欧是指欧洲西部濒临_____洋的地区和附近的_____。由于_____风和_____暖流的影响，西欧大部分地区属温带海洋性气候。海洋性气候的主要特点，是冬季_____，夏季_____。全年降水量比较_____。
2. 通过英国_____的那条经线叫本初子午线。
3. 筑堤拦海，挖渠排水，把大面积海底改造成良田的是_____人民。

填表题：

1. 英、法工农业生产比较表

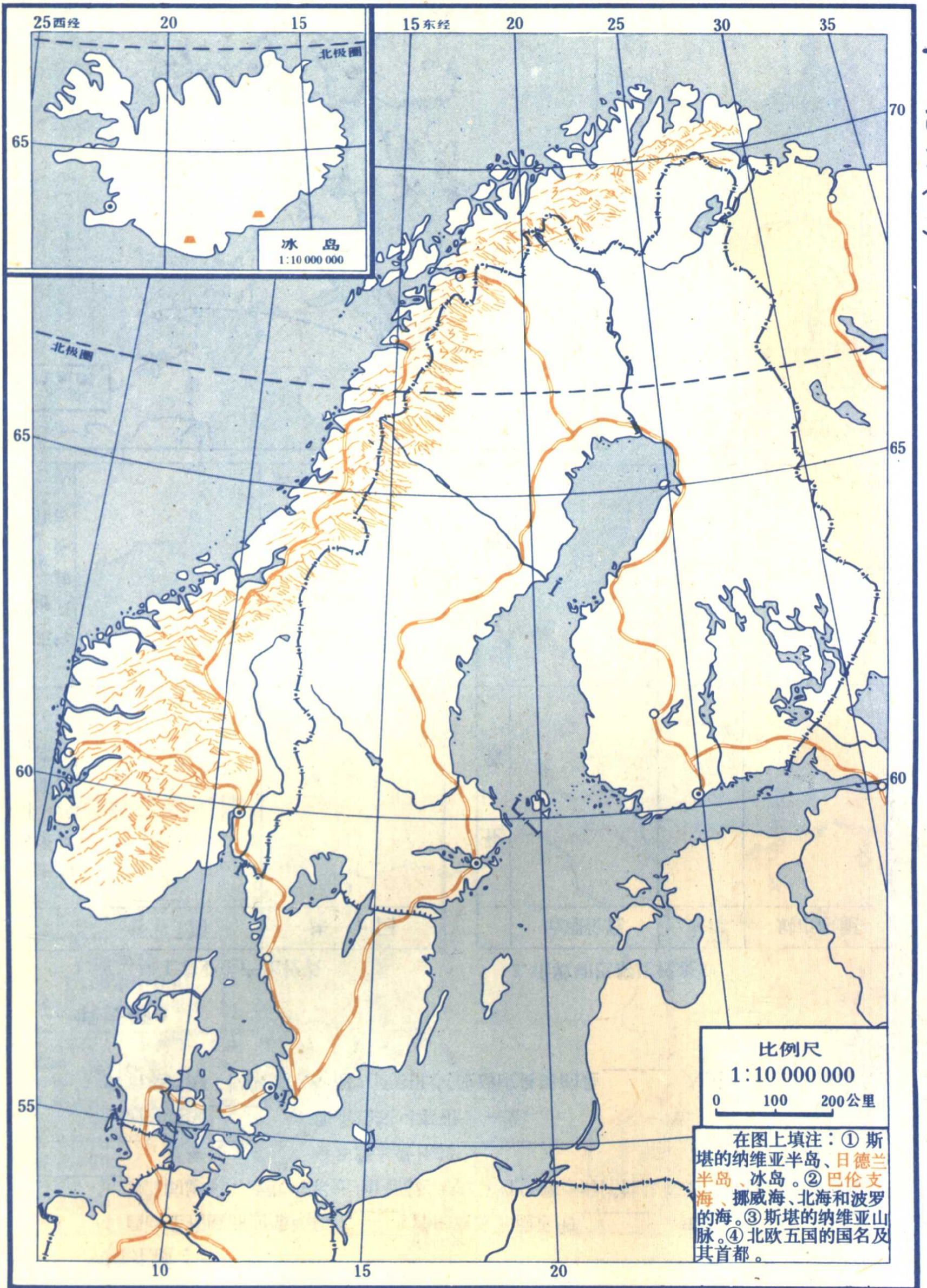
	英 国	法 国
主 门 要 及 工 其 业 分 部 布		
主 物 要 及 其 农 作 分 布		

2. 伦敦和巴黎比较表

	地 理 位 置	人 口	城 市 职 能
伦 敦			
巴 黎			



读左图分析北海在交通上和经济上的意义。



连接题：

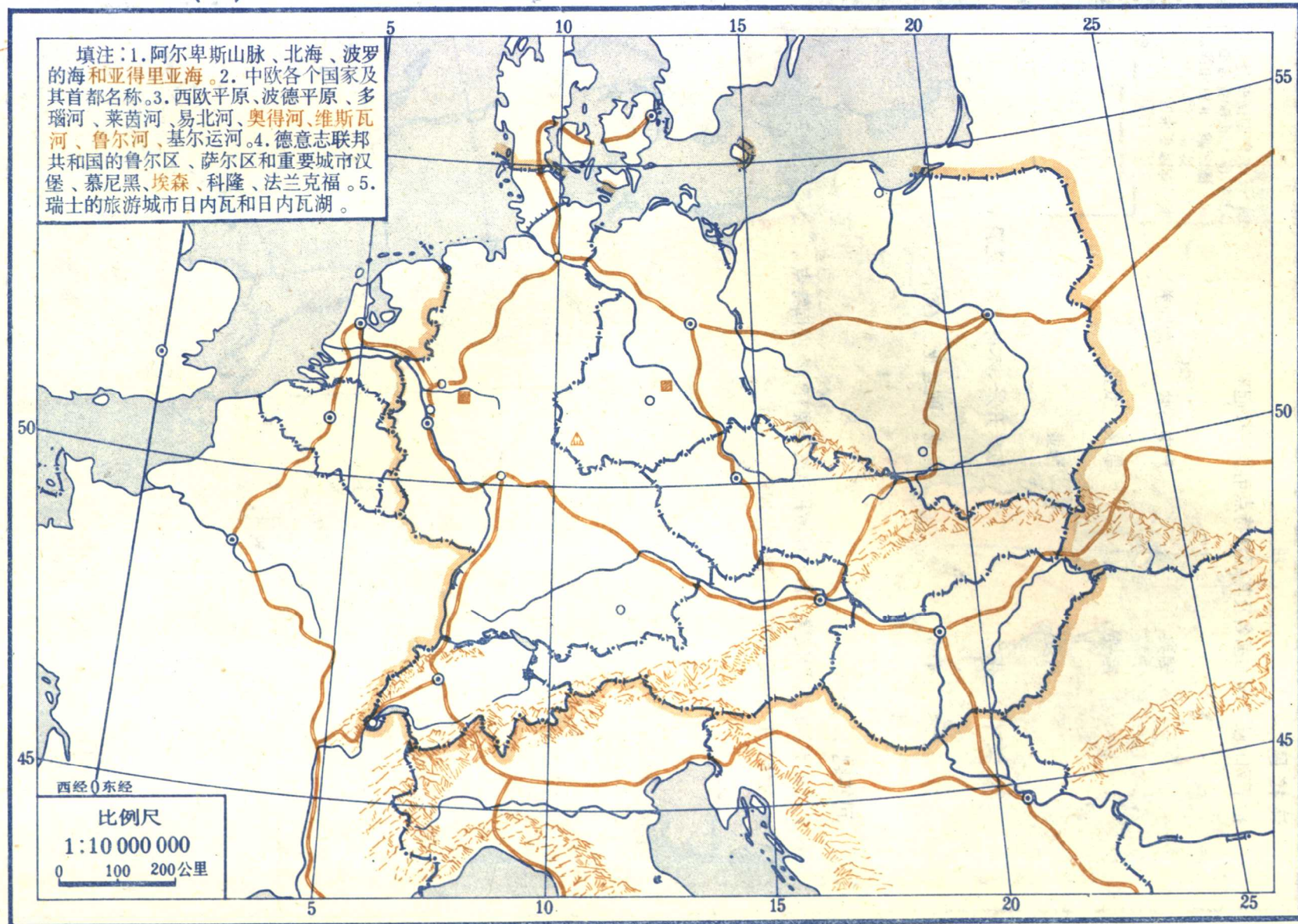
把下列北欧五国的国名及其经济特点用线连接起来。

瑞典	乳肉畜牧、家禽饲养
挪威	纸浆、纸张
丹麦	渔业
芬兰	铁矿开采、木材加工、造船
冰岛	渔业、航运业、石油

问答题：

1. 北欧五国的地理位置、自然环境和自然资源有什么共同特点。
2. 为什么在北极圈内有极昼极夜的现象。

9 中欧(一)



柏林西区或称柏林(西)，仍处于美、英、法三国军事占领下。

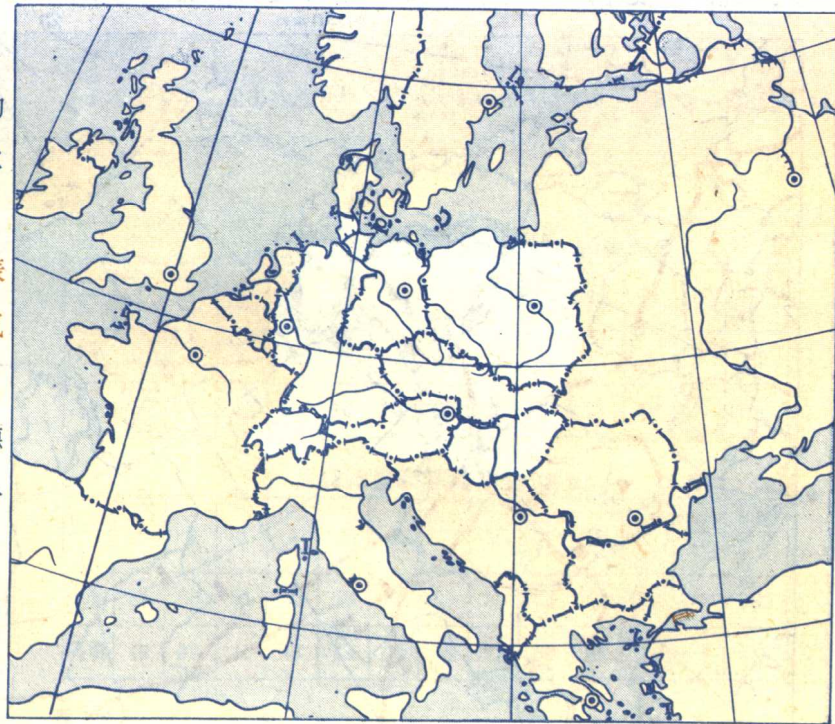
填充题：

1. 中欧地势自南向北逐级下降，可分为三个地形区：南部是雄伟的_____山脉；中部是起伏错综的_____山地；北部是遍布冰碛物的_____平原。

2. 中欧气候具有从西欧向东欧(从沿海向内地)的过渡性质，主要表现在欧洲西部为_____气候，欧洲东部已属温和的_____气候了。

3. 莱茵河右岸的_____区，工厂连绵，城市栉比，是联邦德国最重要的工业区。那里煤藏丰富，水陆运输便利，集中了全国大部分_____、_____、_____、_____等重工业。

4. 德意志民主共和国工业比较发达，主要矿产是_____和_____。_____产量占世界第一位。



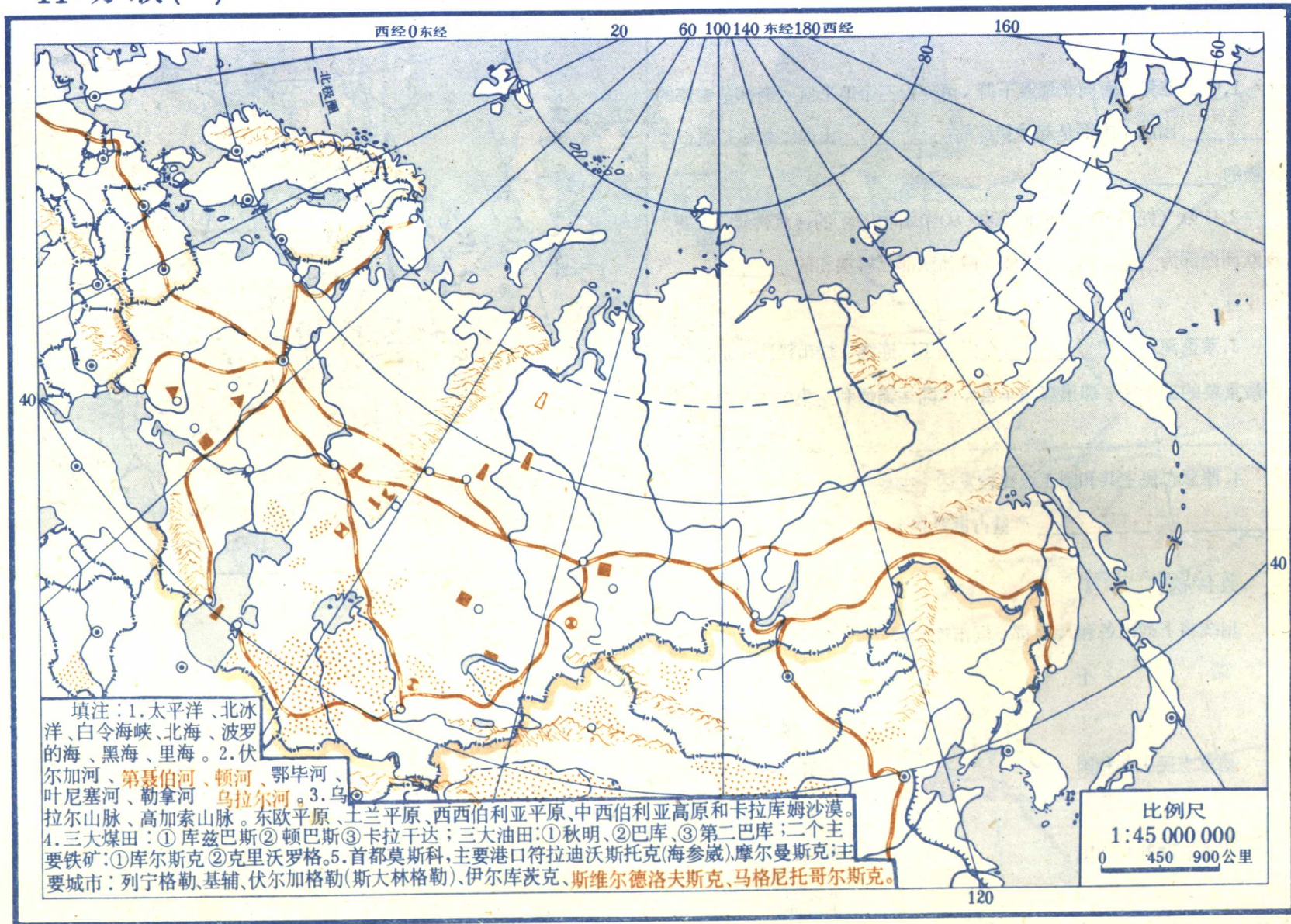
看上图分析中欧交通位置的重要性。

连接题：

用线将下列国名和其首都、城市连接起来。

- | | | | |
|----------|---|---|----|
| 瑞 | 士 | 柏 | 林 |
| | | 波 | 恩 |
| 德意志民主共和国 | | 伯 | 尔尼 |
| | | 日 | 内瓦 |
| 德意志联邦共和国 | | 莱 | 比锡 |
| | | 慕 | 尼黑 |

11 苏联(一)



苏联(二)

填充题：

1. 苏联是世界上面积最大的国家，地跨_____两洲，在传统上是_____洲国家。

2. 苏联地形以_____河为界，分为东西两部分，西部主要是_____，东部多_____和_____。苏联运输量最大的河流是_____河。中亚地区的内陆河有_____河和_____河。

3. 苏联是个工业大国，全国有4个主要工业区：

①以_____、_____为中心的中部和西北部工业区，是全国最大的工业区。

②_____南部工业区。本区利用_____的煤，_____的铁和_____的水电，发展了采煤、钢铁、机械等工业。

③_____工业区。以_____钢铁基地和_____等机械工业为中心。

④亚洲部分的_____、_____重工业区，工业中心是_____。

4. 苏联最大的港口是位于波罗的海沿岸的_____。太平洋沿岸最大的港口是_____。北冰洋沿岸最大的港口是_____，因受_____影响是个不冻港。

问答题：

苏联工业中心的分布与日本有什么不同？为什么？

练习 题

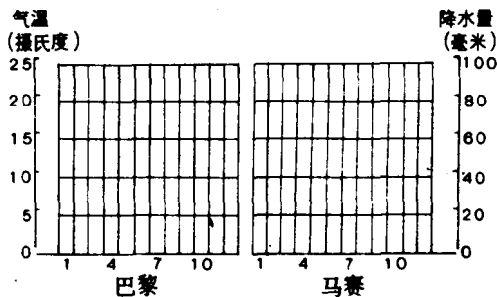
用下表资料，绘出两地全年气温曲线图和各月降水量柱状图表，然后分析这两个地方各属何种气候类型，它们的气候特点为什么不同。

月平均气温和年平均气温(℃)

	1	2	3	4	5	6	7	8	9	10	11	12	年平均气温
巴黎	2	4	6	10	13	17	18	18	15	10	6	3	10
马赛	6	7	9	13	16	20	22	22	19	15	10	7	14

月降水量和年降水量(毫米)

	1	2	3	4	5	6	7	8	9	10	11	12	全年降水量
巴黎	63	50	51	53	58	61	50	71	64	86	79	77	763
马赛	45	33	41	49	43	29	16	27	52	89	71	53	548





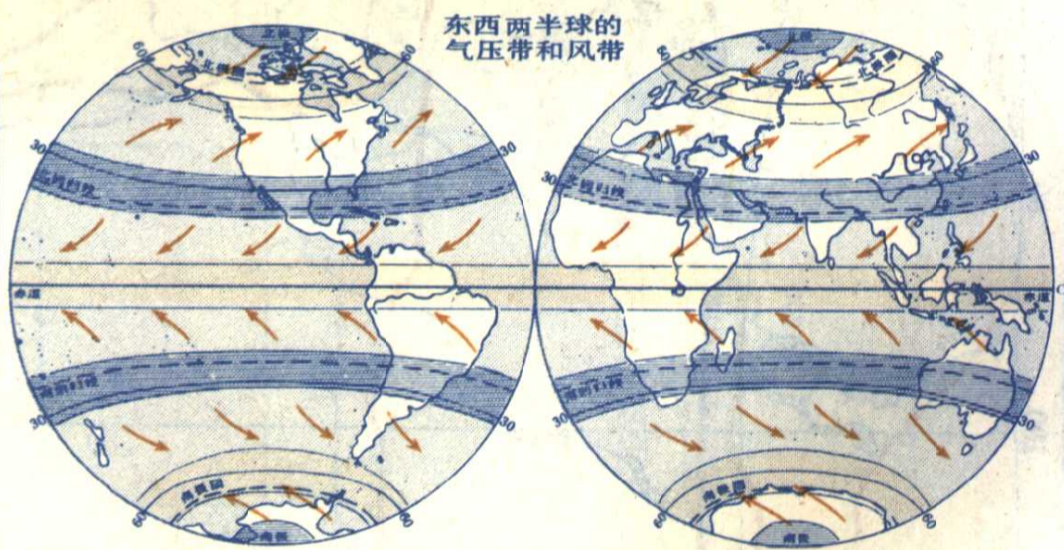

北美洲

填充题：

北美洲地形的明显特点是：全洲分为_____个_____纵列带，西部是_____，中部是_____，东部是_____，形成东西两侧_____，中间_____的特点。最长最高的山系叫_____山系。主要包括_____山脉_____山脉和_____山脉。中部平原区北起_____河口，南至_____湾。最长的河流叫_____河。

分析题：

读右图，结合北美洲东部、亚洲东部的地形，列表比较两地气候的异同点。



加拿大

填充题：

加拿大自然资源丰富，主要矿产有_____、_____和_____等。农产品中以_____产量最大。东部沿海的_____岛附近，是世界著名的渔场。加拿大约有一半领土覆盖_____，它是世界上出产_____和_____最多的国家。全国最大的工业城市是_____，第二大工业城市是_____。

分析题：

读东西两半球的气压带和风带图，结合加拿大地形分析加拿大的气候特点。