


少年儿童彩图百科丛书

小叮当 数学小百科

4



中国电影出版社



(京)新登字 076 号

本书由台湾博学馆出版社授权独家出版
版权贸易合同审核登记号
930155

小叮当数学小百科④

*

中国电影出版社出版发行
(北京北三环东路 22 号)

北京胶印厂制版印刷 新华书店经销

*

开本:787×1092 毫米 1/16 印张 6 印数:10000 册

1994 年 6 月第 1 版北京第 1 次印刷

ISBN7-106-00953-9/G·0260 定价:(精)15.80 元

小叮当


4


数学小百科



中国电影出版社


1994 北京





目 录

一、乘法(一)	5
练习一	11
二、称称看有多重	17
练习二	25
三、量量看有多长	31
练习三	34
四、除法	39
练习四	43
五、三角形和角	48
练习五	53
六、分数	56
练习六	61
七、乘法(二)	65
练习七	69
八、时刻和时间	74
练习八	80
九、小数	86
练习九	90



$2 \times 2 = 4$

$2 \times 3 = 6$

$2 \times 4 = 8$

$2 \times 5 = 10$

$2 \times 6 = 12$

$2 \times 7 = 14$

$2 \times 8 = 16$

$2 \times 9 = 18$

$3 \times 2 = 6$

$3 \times 3 = 9$

$3 \times 4 = 12$

$3 \times 5 = 15$

$3 \times 6 = 18$

$3 \times 7 = 21$

$3 \times 8 = 24$

$3 \times 9 = 27$

$4 \times 2 = 8$

$4 \times 3 = 12$

$4 \times 4 = 16$

$4 \times 5 = 20$

$4 \times 6 = 24$

$4 \times 7 = 28$

$4 \times 8 = 32$

$4 \times 9 = 36$

$5 \times 2 = 10$

$5 \times 3 = 15$

$5 \times 4 = 20$

$5 \times 5 = 25$

$5 \times 6 = 30$

$5 \times 7 = 35$

$5 \times 8 = 40$

$5 \times 9 = 45$

$6 \times 2 = 12$

$6 \times 3 = 18$

$6 \times 4 = 24$

$6 \times 5 = 30$

$6 \times 6 = 36$

$6 \times 7 = 42$

$6 \times 8 = 48$

$6 \times 9 = 54$

$7 \times 2 = 14$

$7 \times 3 = 21$

$7 \times 4 = 28$

$7 \times 5 = 35$

$7 \times 6 = 42$

$7 \times 7 = 49$

$7 \times 8 = 56$

$7 \times 9 = 63$

$8 \times 2 = 16$

$8 \times 3 = 24$

$8 \times 4 = 32$

$8 \times 5 = 40$

$8 \times 6 = 48$

$8 \times 7 = 56$

$8 \times 8 = 64$

$8 \times 9 = 72$

$9 \times 2 = 18$

$9 \times 3 = 27$

$9 \times 4 = 36$

$9 \times 5 = 45$

$9 \times 6 = 54$

$9 \times 7 = 63$


$9 \times 8 = 72$

$9 \times 9 = 81$




一、乘法(一)







可是我觉得
很好玩啊!




还是做些有意义的
活动吧!




有个非常有意义的活
动，不知各位愿不愿
意参加?





说说看!



说不定
我们会参加呢!



快说!
是什么活动?





我有个
建议!



什么建议?



我们去打
羽毛球。





可是我们没
有羽毛球啊!



我这里有
好多个!



哪儿来的?



那么1星期可以
生产多少个呢？

1650 乘以 7，每星期
可生产 11550 个。

真多呀！

如果星期日
休息呢？

那1星期只
工作6天。

1650 乘以 6，等于
9900。



练习一

(一) 选择题:

- (1) 两数相乘的结果是 ① 差 ② 和 ③ 积 ④ 商
- (2) 乘法是什么的简算法? ① 加法 ② 减法
③ 乘法 ④ 除法
- (3) 下面式子中, 哪一个答数最少?
① 30×6 ② 30×7 ③ 30×4 ④ 30×5
- (4) 100×0 比 99×0 大或小 ① 大 ② 小
③ 一样 ④ 无法比较

(5) $300 \times 5 = 1500$ ，这式子中的“5”，
 是什么数？①乘数 ②被乘数 ③
 积数 ④和

答案(一)：(1) 3 (2) 1
 (3) 3 (4) 3 (5) 1



(二) 算算看：

$$\begin{array}{r} (1) \quad 25 \\ \times \quad 8 \\ \hline \end{array}$$

$$\begin{array}{r} (2) \quad 140 \\ \times \quad 6 \\ \hline \end{array}$$

$$\begin{array}{r} (3) \quad 147 \\ \times \quad 2 \\ \hline \end{array}$$

$$\begin{array}{r} (4) \quad 17 \\ \times \quad 4 \\ \hline \end{array}$$

$$\begin{array}{r} (5) \quad 224 \\ \times \quad 3 \\ \hline \end{array}$$

$$\begin{array}{r} (6) \quad 241 \\ \times \quad 4 \\ \hline \end{array}$$

$$\begin{array}{r} (7) \quad 63 \\ \times \quad 5 \\ \hline \end{array}$$




$$\begin{array}{r} (8) \quad 27 \\ \times \quad 5 \\ \hline \end{array}$$



答案(二)

(1) 200 (2) 840 (3) 294 (4) 68

(5) 672 (6) 964 (7) 315 (8) 135



(三) 在 () 里填进 >、< 或 =


(1) 750×10 () 75×100

(2) 506×6 () 560×6

(3) 205×7 () 204×7

(4) 800×5 () 400×10

(5) 380×9 () 390×8




答案：(三)

(1) = (2) < (3) > (4) = (5) >



(四) 1 打香皂有 12 块，买 5 打一共有多少块？




答案： $12 \times 5 = 60$


$$\begin{array}{r} 12 \\ \times 5 \\ \hline 10 \dots \dots 2 \times 5 \\ 50 \dots \dots 10 \times 5 \\ \hline 60 \end{array}$$

$$\begin{array}{r} 12 \\ \times 5 \\ \hline 60 \end{array}$$

答： 60 块。



(七) 宜静每月储蓄 465 元，半年一共储蓄多少钱？



(八) 大雄平均每分钟跑 121 步，5 分钟共跑多少步？



(九) 1 辆货车每次可载米 75 包，每天可以载 7 次，请问 1 星期可以载多少包？

