

总主编◎陈无极

2020

上海新高考试题 分类汇编

· 思想政治 ·
(二模)

等级考必刷题

研习模拟题，探究新的命题规律
分类汇编，吃透题目变换类型

主编◎倪 楠

权威

必备

精准



四川大学出版社



同济大学出版社
TONGJI UNIVERSITY PRESS

总主编◎陈无极

2020

上海新高考考试 分类汇编

· 思想政治 · (二模)

等级考必刷题
研习模拟题，探究新的命题规律
分类汇编，吃透题目变换类型

主编◎倪楠

权威

必备

精准



四川大学出版社



同济大学出版社
TONGJI UNIVERSITY PRESS

项目策划：孙滨蓉
责任编辑：杨 果
责任校对：孙滨蓉
封面设计：戚亮选
责任印制：王 炜

图书在版编目 (CIP) 数据

2020 上海新高考试题分类汇编. 思想政治. 二模 / 倪楠主编. — 成都 : 四川大学出版社 ; 上海 : 同济大学出版社, 2019.9

ISBN 978-7-5690-3098-3

I. ① 2… II. ①倪… III. ①政治课—高中—习题集—升学参考资料 IV. ① G634

中国版本图书馆 CIP 数据核字 (2019) 第 213305 号

书名 2020 上海新高考试题分类汇编 思想政治 (二模)

2020 SHANGHAI XIN GAOKAO SHITI FENLEI HUIBIAN SIXIANG ZHENGZHI (ERMO)

| | |
|------|-------------------------|
| 主 编 | 倪楠 |
| 出 版 | 四川大学出版社 同济大学出版社 |
| 地 址 | 成都市一环路南一段 24 号 (610065) |
| 发 行 | 四川大学出版社 |
| 书 号 | ISBN 978-7-5690-3098-3 |
| 印前制作 | 南京展望文化发展有限公司 |
| 印 刷 | 浙江广育爱多印务有限公司 |
| 成品尺寸 | 188mm×260mm |
| 印 张 | 8 |
| 字 数 | 207 千字 |
| 版 次 | 2019 年 10 月第 1 版 |
| 印 次 | 2019 年 10 月第 1 次印刷 |
| 定 价 | 32.00 元 |

版权所有 ◆ 侵权必究

- ◆ 读者邮购本书, 请与本社发行科联系。
电话: (028)85408408/(028)85401670/
(028)86408023 邮政编码: 610065
- ◆ 本社图书如有印装质量问题, 请寄回出版社调换。
- ◆ 网址: <http://press.scu.edu.cn>



四川大学出版社
微信公众号

◆ 致 2020 年新高考考生

对中国学生而言,高考几乎是进入大学的唯一途径。新高考改革是一场自上而下的招生制度大变革,身处在这个年代的中学生都要参与这场改革的洪流中。

作为一名考生,首先,要有自己的人生规划和目标;其次,认清在新高考中取胜的关键因素;最后,在此前提下制订学习和选科方案,为顺利进入大学打下良好基础。

人生规划和目标不是越早越好,但到了高中阶段,应该有大致的专业方向。学生可以按自己的人生规划方向参与课外实践活动,了解相关专业知识。中学时代试错的成本低,若进入大学学习或参加工作几年以后,才发现自己并不喜欢所学习或从事的专业,试错的成本就会大大提高。新高考增加了“对学生进行综合素质评价”这一项,提醒学生不仅要埋头学习,也要抬头展望未来。综合素质评价面试环节旨在考查学生有无人生规划方向以及做了哪些努力来实现目标。这是能否进入名校的最后一道门槛。

新高考改革的设计,按照“3+3”总分进行排序、录取。

“大三门”——语文、数学、外语总分 450 分,占到新高考可区分分值(540 分)的 83.3%,所以对于每一个考生来说都是重中之重。高考的目的在于为高校选拔人才,试卷整体难度不是很大,每科试卷难度较大的题目分值在 20 分以内。也就是说,大多数学生认认真真、扎扎实实地学习,考 120 多分并不是很难的事情。

“小三门”——“6(地理、历史、思想政治、生命科学、物理、化学)选 3”,每科可区分分值 30 分。等级考考试时间缩短至 60 分钟,考题难度大大降低。这就更需要学生扎扎实实学好课本基础知识,并按照考纲要求复习,千万不要追逐难题、怪题。例如,等级考物理试卷,选择题全部为单项选择题,与旧高考中有不定项选择题相比,难度自然是降低的。另外,往年试卷中的实验压轴题、计算压轴题没有了,所以,如选考物理的考生在平时的练习中遇到历年的这类考题,可以统统跳过。“小三门”采取等级性考试成绩计入总分的方式,会出现卷面分值差 1 分,而实际成绩差 3 分的现象,考生务必慎重对待!

新高考拉长了考试战线,采取了不同的计分方式,公布成绩也在不同的时间,所以对考生而言,选科技巧性因素和心理承受能力会影响最终的结果。考生在报考专业不受影响的前提下,可以在“+3”的等级考中选择有利于自己总分提高的组合。但是并不建议为了暂时的高分而避重就轻。人生是长跑,有些竞争无法避免就一定要设法应对。何况目前选考科目试题难度不高,普通学生完全有能力胜任。在“大三门”考试之前,考生已经知道了“小三门”的成绩,对有些考分不理想的考生会产生极大的心理压力,进而影响“大三门”考试的发挥。考生只有调整心态,轻松上阵,才能在余下的 83.3%的博弈中取胜。

2020 年的考生,已经有了三年的上海市“一模”“二模”试卷作指导。为了方便学生复习,

配合第一轮复习进度,特推出“2020 上海新高考试题分类汇编”丛书。上海市教育考试院不再印发真题材料,本丛书就成了新高考“必刷”题,而分类汇编有助于学生吃透新高考题型变换模式,帮助考生做到无论题型怎么变换,都能从容应对。

编者

2019 年 6 月

目 录

经济常识 / 1

- 第一课 发展经济 改善生活 / 1
- 第二课 产业发展 劳动就业 / 6
- 第三课 合理消费 依法维权 / 8
- 第四课 国家财政 依法纳税 / 10
- 第五课 金融服务 家庭理财 / 12
- 第六课 经济制度 社会保障 / 14
- 第七课 市场调节 宏观调控 / 18
- 第八课 对外开放 合作共赢 / 21
- 拓展部分 / 24
- 论述题专题 / 25

哲学常识 / 42

- 第一课 学习哲学 运用哲学 / 42
- 第二课 认识世界 尊重实际 / 43
- 第三课 探索规律 实事求是 / 46
- 第四课 把握联系 促进发展 / 49

- 第五课 分析矛盾 辩证思维 / 61
- 第六课 注重实践 寻求真知 / 67
- 第七课 掌握理论 坚持真理 / 70
- 第八课 探求价值 繁荣文化 / 71
- 拓展部分 / 74

政治常识 / 76

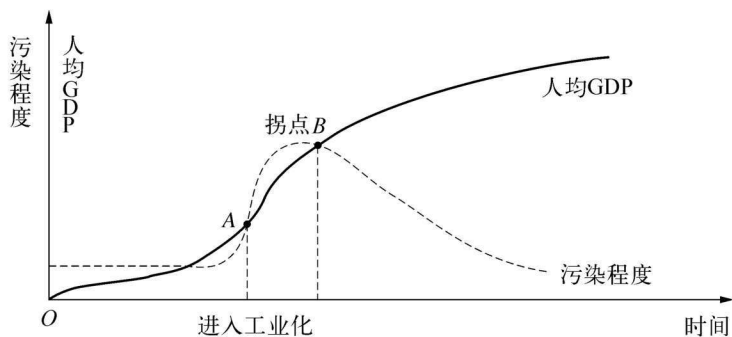
- 第一课 人民政权 人民当家 / 76
- 第二课 国家机构 服务人民 / 80
- 第三课 民主政治 依法治国 / 84
- 第四课 国家统一 民族团结 / 88
- 第五课 独立自主 和平发展 / 92
- 第六课 立党为公 执政兴国 / 96
- 拓展部分 / 100

参考答案 / 103

第一课 发展经济 改善生活

1. (2019·虹口·二模)据中华人民共和国人力资源和社会保障部2018年1月通报的数据显示,2017年全国共有20个地区调整了最低工资标准,平均调增幅度为11%。上调最低工资标准可在生产环节()。
A. 提高人民生活水平 B. 倒逼企业降低成本 C. 促进社会分配公平
2. (2019·杨浦·二模)2019年的《政府工作报告》指出,2018年我国国内生产总值同比增长6.6%,首次突破90万亿元,稳居世界第二位。90万亿元的国内生产总值可以衡量我国的()。
A. 经济实力和市场规模 B. 居民生活的富裕程度 C. 产业结构优化的水平
3. (2019·青浦·二模)西南交通大学等数十所四川高校实施职务发明产权混改,科技工作者可拥有职务发明的部分产权,这让四川高校科技成果转化呈“井喷”之势。“产权混改”从根本上来说是()。
A. 要解决经济发展的速度、方式等问题
B. 通过强化产权提升劳动者的积极性
C. 调整生产关系不适应生产力发展的方面
4. (2019·黄浦·二模)推销员金·吉列发明了可更换刀片的剃须刀。他以极低的折扣将刀架卖给军队,军队将剃须刀当作生活必需品发给士兵。他又以这种低折扣的方式将刀架与合作伙伴的多种商品搭配销售,然后通过卖剃须刀片赚钱,创下了一年销售1.3亿刀片的神话。下列做法与金·吉列的策略相似的是()。
A. 电信公司送手机给客户,但要求每月话费须达到一定数额
B. 某品牌汽车热销,经销商要求购车者必须在本店购买保险
C. 微软与联想公司合作,在电脑出厂时就预装微软正版软件
5. (2019·普陀·二模)在经济工作中,一方面要坚持以推进供给侧结构性改革为主线,扩大有效供给,减少无效、低效供给;另一方面要适度扩大总需求并提高有效性。供给和需求是一枚硬币的两面,说明在经济工作中应该()。
A. 扩大供给,满足市场需求,促进经济协调发展
B. 发挥供求机制的运行作用,合理调整产品价格
C. 把握生产与消费的辩证关系,实现供求动态平衡
6. (2019·普陀·二模)社会主义生产的根本目的是在发展生产的基础上逐步改善人民生活,使全体人民共享经济发展成果,实现共同富裕。要实现这个目的,就要()。
A. 使城乡之间、地区之间经济更加健康协调发展
B. 使政府部门的管理与决策更加符合企业的利益

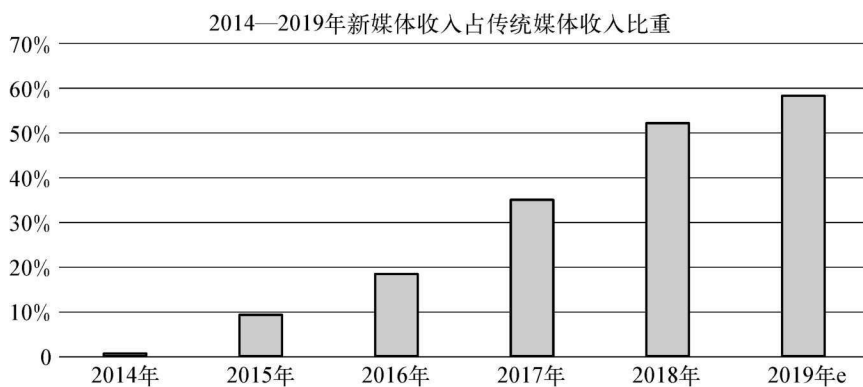
- C. 使每一经济主体的行为纳入政府工作的轨道
7. (2019·浦东·二模)为纪念改革开放四十年,某校要求学生制作以“人民的幸福生活”为主题的手抄报。下面最适合作为手抄报素材的是()。
- A. 我国多年保持全球货物贸易第一大国地位
B. 我国建立了全世界最完整的现代工业体系
C. 我国建成了世界规模最大的社会保障体系
8. (2019·静安·二模)2019年2月19日发布的第16个指导我国“三农”工作的中央一号文件提出,要“夯实农业基础,保障重要农产品有效供给”。这是因为农业()。
- A. 决定着—国的国力和现代化水平
B. 是社会生产中最基础的生产部门
C. 为人们提供最基本的生活消费品
9. (2019·宝山·二模)2018年我国GDP总量突破90万亿元,城镇新增就业人数1361万,居民人均可支配收入实际增长6.5%,居民消费支出实际增长6.2%,国内旅游人数达55.4亿人次。以上数据表明我国()。
- A. 高质量的发展成果惠及广大人民群众
B. 经济增长方式从数量型转化为质量型
C. 产业结构优化升级推动就业结构升级
10. (2019·金山·二模)改革就是不断调整生产关系以适应生产力的不断发展。下列属于变革生产关系的是()。
- A. 实行社会主义市场经济,激发全要素活力
B. 实行登月工程,提升我国载人航天水平
C. 实行“互联网+教育”,推动我国教育现代化
11. (2019·崇明·二模)小郑同学是一名高三学生,在下列有关他春节期间生活的描述中,属于经济活动中消费环节的是()。
- A. 他得到了1000元的压岁钱
B. 他观看了电影《流浪地球》
C. 他在商场购买了一双运动鞋
12. (2019·松江·二模)“环境库兹涅茨曲线”是通过人均GDP与环境污染指标之间的演变模拟,说明经济发展对环境污染程度的影响。该曲线源于对发达国家早期环境问题的研究和实证比对。



(第12题图)

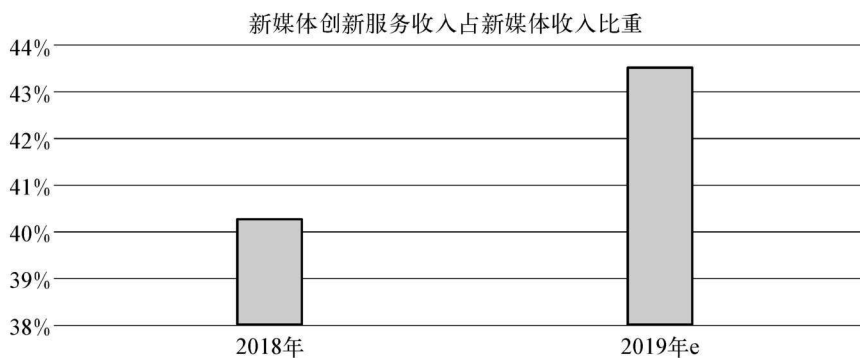
科技进步和消费观念的转变有助于“拐点”的出现。针对这一结论,请运用相关知识分别说明这两个因素是如何促进企业改善环境质量的。

13. (2019·青浦·二模)当今世界,媒体行业正发生着深刻变化,媒体融合(传统媒体与新兴媒体的有机互动和融合,如报刊、广播、电视与互联网的融合互动等)向纵深发展。上海报业集团(简称“上报集团”)发展情况如下:



注:经过五年探索,上报集团已经从一家以报刊为主的传统报业集团,开始转变为拥有网站、客户端、微博、微信公众号、手机报等新媒体形态,新媒体收入占据半壁江山的新型主流媒体集团。“e”表示“预计的”,下同

图 1



注:当前,在媒体走向深度融合的过程中,物联网、大数据、虚拟技术、人工智能等新技术应用已经越来越多地介入媒体运行和传播过程,融媒体走向智媒体的特征愈发鲜明

图 2

(第 13 题图)

上海报业集团新媒体发展的上述变化,有利于促进就业,实现社会主义生产目的。针对这一结论,分别概括图 1、图 2 相关数据,运用经济常识的相关知识简要说明理由。

14. (2019·嘉定·二模)下列数据从侧面反映了我国“坚持创新引领发展,培育壮大新动能”的情况。

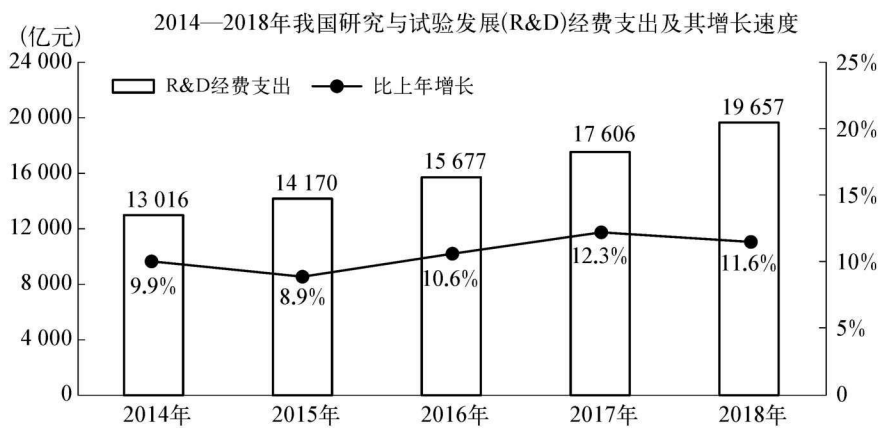
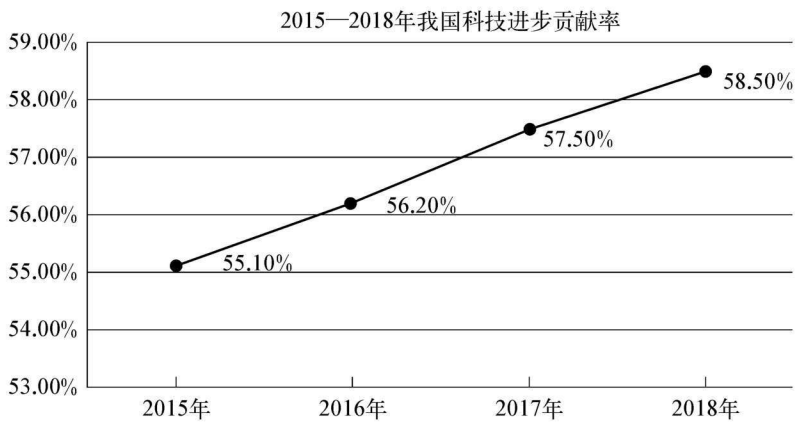


图 1



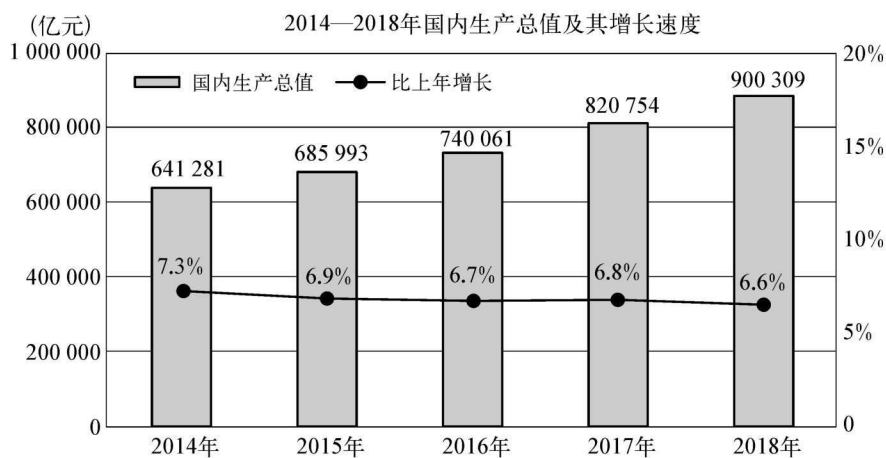
注:科技进步贡献率是指科技进步对经济增长的贡献份额。它是衡量区域科技竞争实力和科技转化为现实生产力的综合性指标

图 2

(第 14 题图)

以上数据的变化,有利于发挥科技创新在经济社会发展中的支撑和引领作用。针对这一结论,分别概括图 1 和图 2 的相关数据,运用经济常识的相关知识简要说明理由。

15. (2019·崇明·二模)下列数据从侧面反映了我国近年来经济的变化情况。



(第 15 题图)

表 2016—2018 年我国三大需求对国内生产总值增长的贡献率

| 年份 | 最终消费支出的贡献率 | 资本形成总额的贡献率 | 货物和服务净出口的贡献率 |
|------|------------|------------|--------------|
| 2016 | 66.5% | 43.1% | -9.6% |
| 2017 | 58.8% | 32.1% | 9.1% |
| 2018 | 76.2% | 32.4% | -8.6% |

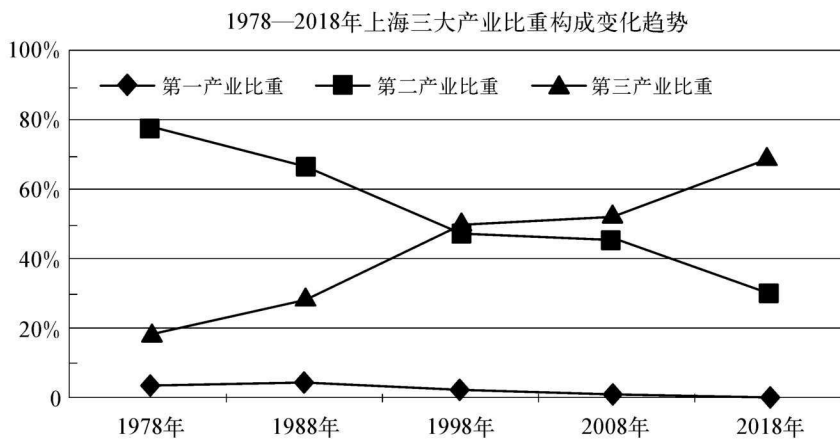
注: 1978 年最终消费支出对国内生产总值增长的贡献率为 38.3%, 资本形成总额对国内生产总值增长的贡献率为 67.0%, 货物和服务净出口对国内生产总值增长的贡献率为 -5.3%

(第 15 题表)

结合材料,分别概括图、表相关数据,运用经济常识的相关知识预测 2019 年我国经济变化趋势,并简要说明理由。

第二课 产业发展 劳动就业

1. (2019·闵行·二模)劳动者要树立正确的择业就业观,下列正确的有()。
- A. 树立竞争就业观,提高个人素质
B. 树立平等就业观,注重经济收入
C. 坚持自主择业观,凭借兴趣爱好
2. (2019·普陀·二模)下图和下表阶段性地反映了改革开放以来,上海产业结构发展和“两个中心”建设的情况。



(第2题图)

表 国家推进上海“两个中心”建设大事记

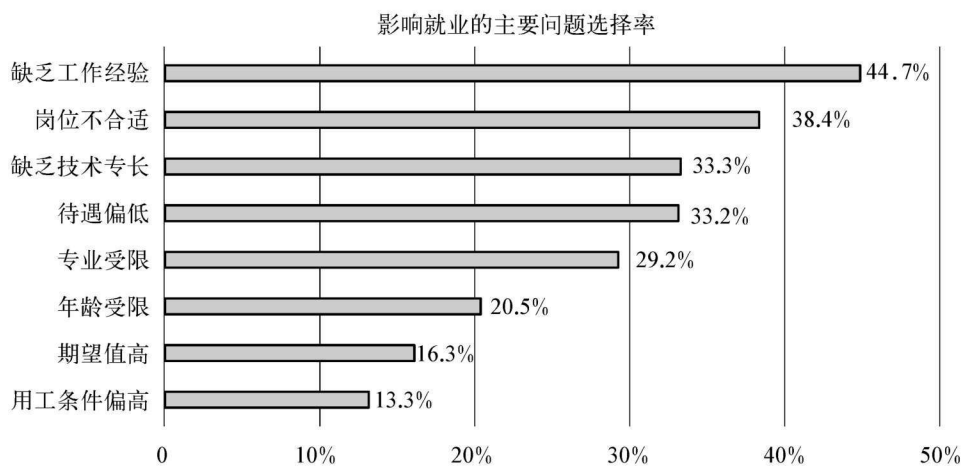
| | |
|-------|--|
| 1992年 | 党中央提出“尽快把上海建设成为国际经济、金融、贸易中心之一,带动长江三角洲和整个长江流域地区经济新飞跃” |
| 1995年 | 党中央国务院做出建设上海国际航运中心的重大决策 |
| 2009年 | 国务院发布《关于推进上海加快发展现代服务业和先进制造业,建设国际金融中心和国际航运中心的意见》 |

注:“两个中心”是指国际金融中心和国际航运中心

(第2题表)

上海产业结构变化和推进“两个中心”建设对我国社会 and 经济发展有着积极影响。针对这一结论,概括和联系图、表内容,运用经济常识的相关知识简要说明理由。

3. (2019·浦东·二模)2018年我国城镇新增就业1361万人,完成全年目标的123.7%,创历史新高,但影响就业的问题仍然存在。某机构对影响就业因素所做的调查结果如下:



(第3题图)

近年来我国技术工人的求人倍率(求人倍率=有效需求人数/有效求职人数)一直保持在1.5以上,高级技工的求人倍率甚至达到2以上的水平。

结合材料回答下列问题:

- (1) 概括上图所反映的主要问题。

- (2) 针对这一问题,从劳动者角度提出两项解决措施,并说明理由。

第三课 合理消费 依法维权

- (2019·嘉定·二模)在经济日益发展的当下,作为文化基地的博物馆逐步融入百姓的生活中,“博物馆里过大年”已成为无数家庭欢度春节的首选。这说明()。
 - 文化消费水平与经济发展是同步的
 - 注重精神消费有助于改善生活质量
 - 文化消费已是首要的刚性生活需求
- (2019·嘉定·二模)公平交易权是消费者依法享有的权利之一。下列情形有助于维护消费者这一权利的是()。
 - 乳业公司采用环保的包装材料
 - 药厂提供通俗易懂的药品说明
 - 农贸市场设立标准秤服务窗口
- (2019·长宁·二模)记者在全国多地鸡蛋产区调查发现,不少从业者将普通鸡蛋包装成各种名目的土鸡蛋、柴鸡蛋等,高价销售。2019年“3·15”晚会就曝光了这种用色素“化妆”出来的“土鸡蛋”。“3·15”晚会这一举措旨在保护消费者的()。
 - 自主选择权
 - 获得赔偿权
 - 公平交易权
- (2019·闵行·二模)大三学生小刘在某知名知识网站下载文献时,按网站“最低充值金额限制”要求充值了50元。小刘用7元下载文献后,想将余额进行退款操作,却遭到了网站的拒绝。网站的这种做法侵犯了小刘的()。
 - 自主选择权和公平交易权
 - 获得赔偿权和自主选择权
 - 获得赔偿权和公平交易权
- (2019·宝山·二模)随着我国居民人均可支配收入的持续增长,居民消费正在从“有”向“好”转变。

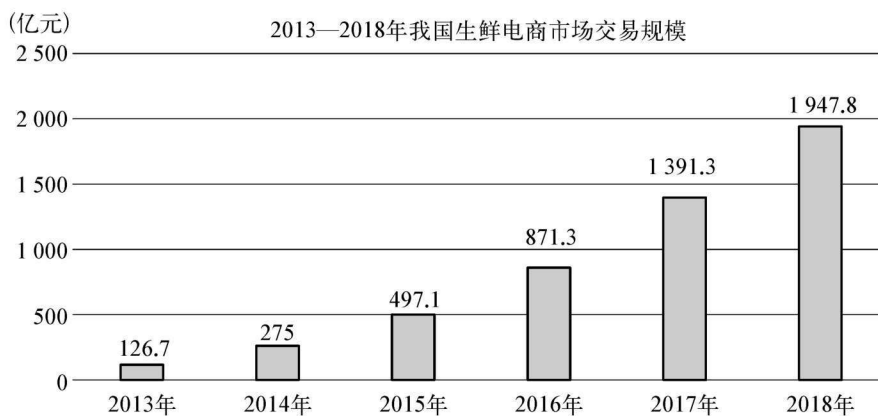


(第5题图)

材料：2018年，我国全年恩格尔系数为28.4%，比上年下降0.9个百分点；服务消费占居民人均消费支出比重44.2%，比上年提高1.6%；汽车类商品中，代表升级方向的运动型和新能源汽车销售的比重提高；消费对经济增长的贡献率为76.2%，比上年提高18.6%。

概括图、材料所反映的经济现象及实质。我国居民消费的上述变化，有利于经济的可持续发展，针对这一结论，运用经济常识的相关知识简要说明理由。

6. (2019·静安·二模)近年来，“盒马鲜生”“易果生鲜”等越来越多的生鲜电商企业走进了人们的视野，它们通过互联网把各种优质新鲜的水果、蔬菜、水产、肉类等生鲜产品快速便捷地送达广大消费者手中。下列数据从侧面反映了我国生鲜电商市场近年来的发展情况。



(第6题图)

生鲜电商市场随电子商务的发展而发展，未来几年我国人均GDP将进一步提高。结合材料，运用生产与消费关系的相关知识预测我国通过电商平台购买生鲜产品的人数、生鲜电商企业数量的变化趋势，并简要说明理由。

第四课 国家财政 依法纳税

1. (2019·青浦·二模)2018年,个人所得税改革成为税制改革的一个亮点。起征点上调和专项附加扣除,使7000多万人“工薪所得”免征税。这会()。
- A. 使得国家财政收入持续减少
B. 使全体纳税人得到实际实惠
C. 提升中低收入者的劳动积极性
2. (2019·杨浦·二模)2019年的《政府工作报告》指出,2019年全年将减轻企业税收和社保缴费负担近2万亿元。下表为减税降费的部分措施:

| 2019年减税降费类目 | 2019年减税降费内容 |
|-------------|--|
| 制造业 | 从16%下降到13% |
| 交通运输业、建筑业 | 从10%下降到9% |
| 适用6%的行业 | 对生产、生活性服务业增加税收抵扣 |
| 小规模纳税人 | 增值税起征点从月销售额3万元提高到10万元 |
| 电价 | 清理附加收费,降低制造业用电成本,一般工商业平均电价再降低10% |
| 交通 | 降低过路过桥费用,取消或降低一批铁路、港口收费,两年内基本取消全国高速公路省界收费站 |

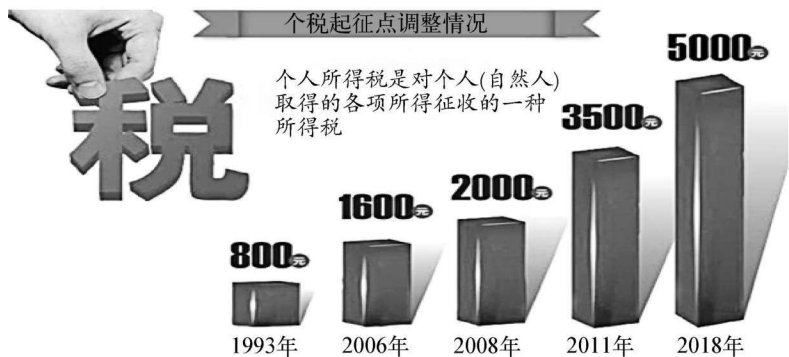
(第2题表)

- 从上表可以看出,税收是()。
- A. 组织财政收入的基本形式
B. 调节国民经济的重要杠杆
C. 实行经济监督的重要手段
3. (2019·静安·二模)2019年我国将继续实施积极的财政政策(又称扩张性财政政策),确保经济运行在合理区间,促进经济社会持续健康发展。下列举措与这一政策的价值取向相符合的是()。
- A. 提高赤字率
B. 下调存贷款基准利率
C. 压缩基本建设投资规模
4. (2019·徐汇·二模)2019年《政府工作报告》提出深化增值税改革,将制造业等行业现行16%的税率降至13%,将交通运输业、建筑业等行业现行10%的税率降至9%。据此,可以推断出下列上海企业中,减税幅度最大的是()。
- A. 上海申沃客车有限公司
B. 上海申通地铁股份有限公司
C. 上海巴士实业(集团)股份有限公司
5. (2019·金山·二模)个人所得税专项附加扣除是2019年个税变化的一大亮点,根据国务院印发的《个人所得税专项附加扣除暂行办法》规定,个人所得税专项附加扣除指的是,如

果纳税人的条件符合子女教育、继续教育、大病医疗、住房贷款利息或者住房租金支出、赡养老人支出等 6 个专项附加扣除中的一项或多项,就可以根据定额扣除或是限额扣除的方式享受专项附加扣除。6 个专项附加扣除的增加,调整的是税收制度中()。

- A. 税率 B. 纳税人 C. 征税对象

6. (2019·奉贤·二模)2018 年 8 月 31 日,第十三届全国人民代表大会常务委员会第五次会议表决通过《关于修改〈中华人民共和国个人所得税法〉的决定》,将个税起征点从每月 3 500 元调整至 5 000 元。首次增加子女教育支出、继续教育支出、大病医疗支出、住房贷款利息或者住房租金支出、赡养老人支出等专项附加扣除。优化调整税率结构,扩大较低档税率级距。



(第 6 题图)

个税的调整,有利于维护社会公平,促进经济持续健康发展。针对这一结论,提取并概括材料信息,运用经济常识的相关知识简要说明理由。
