

根据新版义务教育课程标准编写

暑假 新动向

SHUJIA XINDONGXIANG


《暑假新动向》编写组 编

数学

一年级



电子科技大学出版社

 根据最新版义务教育课程标准编写

暑假 新动向

SHUJIA XINDONGXIANG

《暑假新动向》编委会 编

数 学
一 年 级

图书在版编目 (CIP) 数据

暑假新动向·数学·一年级/《暑假新动向》编写组主编. —成都: 电子科技大学出版社, 2015. 4

ISBN 978-7-5647-2922-6

I. ①暑… II. ①暑… III. ①小学数学课—习题集
IV. ①G624

中国版本图书馆 CIP 数据核字 (2015) 第 070019 号

暑假新动向 数学 一年级

《暑假新动向》编委会 编

出版发行: 电子科技大学出版社

(成都市一环路东一段 159 号电子信息产业大厦 邮编: 610051)

策划编辑: 杜 倩

责任编辑: 罗 丹

主 页: www.uestcp.com.cn

电子邮箱: uestcp@uestcp.com.cn

印 刷: 四川省平轩印务有限公司

成品尺寸: 185mm×260mm

印 张: 4.5

字 数: 60 千字

版 次: 2015 年 4 月第一版

印 次: 2015 年 4 月第一次印刷

书 号: ISBN 978-7-5647-2922-6

定 价: 22.00 元

■ 版权所有 侵权必究 ■



◆ 本社发行部电话: 028-83202463; 本社邮购电话: 028-83201495。

◆ 本书如有缺页、破损、装订错误, 请寄回印刷厂调换。

目录

CONTENTS

认识图形(二)	1
20以内的退位减法——十几减9	3
20以内的退位减法——十几减8、7、6	5
20以内的退位减法——十几减5、4、3、2	7
综合练习(一)	9
综合练习(二)	11
分类与整理	13






100以内数的认识——数数、数的组成	15
100以内数的认识——数的顺序、比较大 小	17
100以内数的认识——整十数加一位数及 相应的减法	19
综合练习(三)	21
认识人民币和简单的计算	23
100以内的加法和减法(一)——整十数 加、减整十数	25

100 以内的加法和减法(一)——两位数加一位数、整十数	27
100 以内的加法和减法(一)——两位数减一位数、整十数	29
100 以内的加法和减法(一)——连加、连减、加减混合运算	31
综合练习(四)	33
综合练习(五)	35
找规律	37
20 以内数的退位减法总复习	39
100 以内数的读写和加减法总复习	41
图形的统计和分类总复习	43
认识和计算人民币总复习	45
★解决问题	47
假期乐园一	49
假期乐园二	51
假期乐园三	53
假期乐园四	55
假期乐园五	57
假期乐园六	59
假期乐园七	61
假期乐园八	63
部分参考答案	65



一	二	三	四	五	六	日
		1	2	3	4	5
6	7	8	9	10	11	12
13	14	15	16	17	18	19
20	21	22	23	24	25	26
27	28	29	30	31		

今日天气预报

心情日记

认识图形(二)

jì suàn tiān tiān liàn

1. 计算天天练。

$5+1=$

$5+2=$

$5+3=$

$5+5=$

$5+6=$

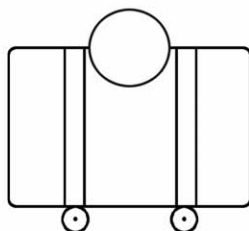
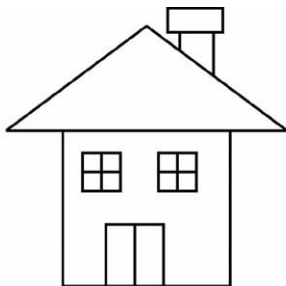
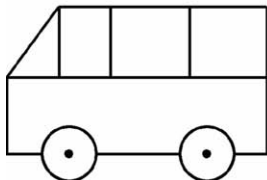
$5+7=$

$5+9=$

$5+10=$

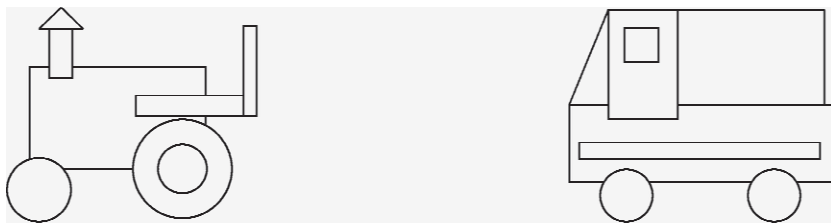
$15-10=$

tú yì tú jiāng cháng fāng xíng tú chéng hóng sè zhèng fāng xíng tú
 2. 涂一涂。(将长方形涂成红色，正方形涂成黄色，圆形涂成蓝色，三角形涂成绿色)



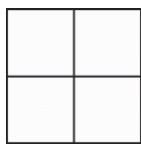
huà yì huà

3. 画一画。

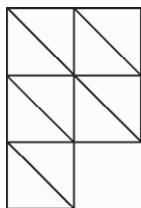


suàn yì suàn

4. 算一算。



在左边的图形中，() 个小正方形能组成 1 个大正方形，() 个小正方形能组成 1 个长方形。



在左边的图形中，() 个三角形能组成 1 个小正方形，小正方形有 () 个。




dòng dòng shǒu

5. 动动手。

一张长方形的纸对折两次后能折出什么图形？一张正方形的纸对边折两次后能折出什么图形？一张正方形的纸对角折两次后能折出什么图形？动动手，试一试，然后再写出你的答案。

一	二	三	四	五	六	日
		1	2	3	4	5
6	7	8	9	10	11	12
13	14	15	16	17	18	19
20	21	22	23	24	25	26
27	28	29	30	31		

今日天气播报

心情日记

20 以内的退位减法——十几减9

1. 计算天天练。

$13+10=$

$20-7=$

$5+9=$

$30-9=$

$7+9=$

$8+10=$


$9+8+7=$

$19-7-9=$

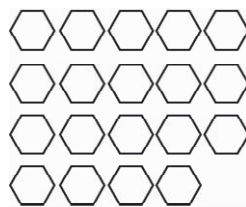
$20+7+9=$

2. 画一画。

(1) 先涂 13 个，再画去 9 个。



(2) 先涂 19 个，再画去 8 个。



3. 比一比。(在 \bigcirc 里填上 “>” “<” 或 “=”) huò

$11-9 \bigcirc 3$

$7+2 \bigcirc 18-9$

$15-9 \bigcirc 7$

$13-9 \bigcirc 9-6$

kàn tú liè shì

4. 看图列式。


(1)



拿走? 个
后, 剩下9个。

列式: $\square - \square = \square$ (个)

(2)




开走9辆
后,
还剩下? 辆。

列式: $\square - \square = \square$ (辆)

dòng dòng shǒu

qǐng xiǎo péng yǒu àn yāo qiú quān chū xiǎo mián yáng




5. 动动手。(请小朋友按要求圈出小绵羊)



圈走9个后, 剩下_____个。

一	二	三	四	五	六	日
		1	2	3	4	5
6	7	8	9	10	11	12
13	14	15	16	17	18	19
20	21	22	23	24	25	26
27	28	29	30	31		

今日天气预报

心情日记



20 以内的退位减法——十几减 8、7、6



jì suàn tiān tiān liàn

1. 计算天天练。

$50 - 10 - 9 =$

$63 - 7 - 9 =$

$88 + 10 - 9 =$

$30 - 5 + 5 =$

$20 + 20 + 9 =$

$12 + 8 + 9 =$

$36 + 7 + 5 =$

$45 - 7 + 8 =$

$92 - 30 - 20 =$

huà yì huà

2. 画一画。

(1) 先涂 14 个，再画去 8 个。



(2) 先涂 11 个，再画去 7 个。



3. 比一比。(在 \bigcirc 里填上 “ $>$ ” “ $<$ ” 或 “ $=$ ”)

bǐ yì bǐ

zài

li tián shàng

huò

$11 - 7 \bigcirc 5$

$5 + 3 \bigcirc 13 - 8$


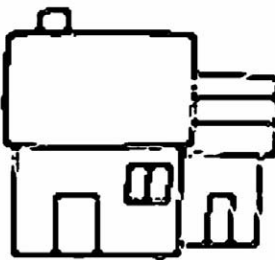
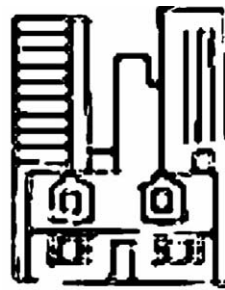
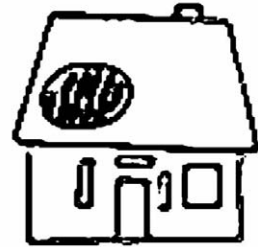
$15 - 8 \bigcirc 9$

$13 - 7 \bigcirc 14 - 8$






dòng dòng shǒu qǐng xiǎo péng yǒu xuǎn zé xià miàn de tú xíng tú sè
4. 动手。(请小朋友选择下面的图形涂色，

huáng sè tú 6 gè , hóng sè tú 6 gè)
黄色涂 6 个，红色涂 6 个)



一	二	三	四	五	六	日
		1	2	3	4	5
6	7	8	9	10	11	12
13	14	15	16	17	18	19
20	21	22	23	24	25	26
27	28	29	30	31		

今日天气播报

心情日记

20 以内的退位减法——十几减 5、4、3、2

jì suàn tiān tiān liàn

1. 计算天天练。

$9-6+10=$

$5-2+8=$

$7+9-3=$

$2+11-5=$

$5-3+9=$

$9-7+8=$

$7+9-5=$

$6-1+9=$

$7+11-4=$

xuǎn yì xuǎn

2. 选一选。

(1) 小明有 13 块巧克力，吃了 5 块，还剩()块。

A. 8

B. 9

C. 7

D. 6

(2) 下列算式的结果与 $17-9$ 相同的是()。

A. $13-5$

B. $11-4$

C. $12-3$

D. $15-6$

(3) 下列算式的结果与其他不同的是()。

A. $17-5$

B. $13-2$

C. $18-7$

D. $19-8$



kàn tú liè shì

3. 看图列式。



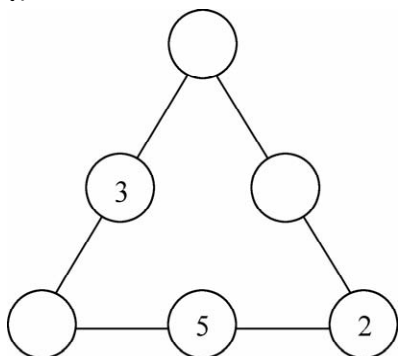
树上有19个●，
摘下5个后还剩？
个。再摘下3个还
剩？个。

$$\square - \square = \square \text{ (个)}$$

$$\square - \square = \square \text{ (个)}$$

tián yì tián

4. 填一填。



在圆圈里填数，
使每条线上三个
数相加的和等于
13。




dòng dòng shǒu dǎ qì qiú

5. 动动手，打气球。

打掉8个，剩
下()个。

打掉6个，剩
下()个。

打掉4个，剩
下()个。



打掉9个，剩
下()个。




打掉7个，剩
下()个。

打掉5个，剩
下()个。



一	二	三	四	五	六	日
		1	2	3	4	5
6	7	8	9	10	11	12
13	14	15	16	17	18	19
20	21	22	23	24	25	26
27	28	29	30	31		

今日天气预报

心情日记

综合练习 (一)

1. 计算天天练。

$6+5=$

$55-50=$

$30+3=$

$26-6=$

$8+3=$

$24-4=$

$7+70=$

$2+80=$

$12-7=$

2. 比一比。(在 \bigcirc 里填上 “ $>$ ” “ $<$ ” 或 “ $=$ ”)

$3+9 \bigcirc 14-2$

$17-8 \bigcirc 8$

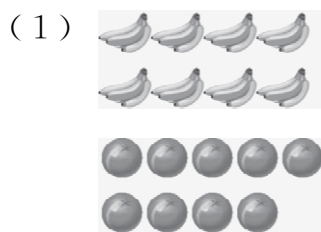
$15-5 \bigcirc 8+3$

$12-4 \bigcirc 11-2$

$4+7 \bigcirc 15-6$

$8+3 \bigcirc 13-4$

3. 看图解决问题。




\bigcirc 比  多几个?

$\square \bigcirc \square = \square$ (个)



(2)



有 () 辆，

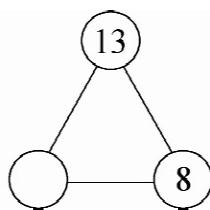
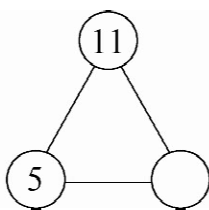
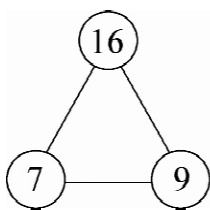
有 () 辆，

比 多多少辆？

$$\square \bigcirc \square = \square \text{ (辆)}$$

zhǎo guī lǜ tián yì tián

4. 找规律，填一填。



5. (1) 学校组织同学们去郊游，一年级 1 班共有 19 人，刚好坐满一辆车。已知车上坐了 2 名老师和 9 名男同学，请问 1 班女同学有几人？



$$19 - (\quad) = (\quad) \text{ (人)}$$

$$(\quad) - 9 = (\quad) \text{ (人)}$$

答：1 班女同学有 _____ 人。

- (2) 1 班和 2 班进行足球比赛，每队有 7 人上场，替补队员数名。已知两个班上场比赛和替补的队员一共有 19 人，其中 1 班替补队员有 2 人，请问 2 班的替补队员有几人？



$$7 + 2 = (\quad) \text{ (人)}$$

$$19 - (\quad) = (\quad) \text{ (人)}$$




$$(\quad) - 7 = (\quad) \text{ (人)}$$

答：2 班替补队员有 _____ 人。



一	二	三	四	五	六	日
		1	2	3	4	5
6	7	8	9	10	11	12
13	14	15	16	17	18	19
20	21	22	23	24	25	26
27	28	29	30	31		

今日天气预报

心情日记

综合练习(二)

jì suàn tiān tiān liàn

1. 计算天天练。

$18 - 9 =$

$3 + 42 =$

$19 - 6 =$

$7 + 27 =$

$38 - 8 =$

$12 + 6 =$

$35 + 60 =$

$90 - 20 =$

$48 - 8 =$

tián yì tián

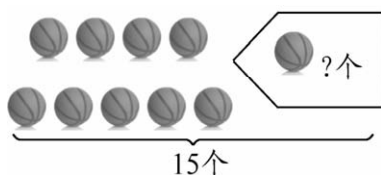
2. 填一填。

$$15 - \begin{array}{|c|} \hline 5 \\ \hline \\ \hline 6 \\ \hline \end{array} = \begin{array}{|c|} \hline \\ \hline 8 \\ \hline \\ \hline \end{array}$$

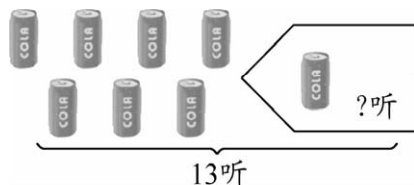
$$14 - \begin{array}{|c|} \hline 7 \\ \hline \\ \hline 9 \\ \hline \end{array} = \begin{array}{|c|} \hline \\ \hline 8 \\ \hline \\ \hline \end{array}$$

kàn tú liè shì jì suàn

3. 看图列式计算。



$\square - \square = \square \text{ (个)}$



$\square - \square = \square \text{ (听)}$

pái yi pái suàn yi suàn

4. 排一排，算一算。

体育课排队时，小军排在第1排，他的左边有7个同学，右边有8个同学。你能算出第1排有多少个同学吗？


$$7 + 8 = (\quad) (\text{个})$$

$$(\quad) + 1 = (\quad) (\text{个})$$


答：第1排有 _____ 个同学。

dòng dòng shǒu qǐng yòng xū xiàn quān chū qù diào de bù fèn


5. 动动手。（请用虚线圈出去掉的部分）

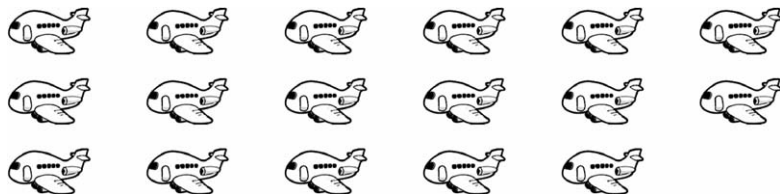
(1) 剩下9个 .




(2) 剩下6辆 .



(3) 剩下8个 .



(4) 剩下7辆 .

