



杨柳 编著

练习精编

(八年级下册)

历史与社会·道德与法治

历史与社会部分

班级_____ 姓名_____

 浙江科学技术出版社




杨柳 编著

历史与社会·道德与法治

(八年级下册)

练习精编

历史与社会部分

 浙江科学技术出版社

目录 CONTENTS

精益求精 · 杨柳

第五单元 绵延不绝的中华文明（三）：

农耕文明繁盛与近代前夜的危机

第一课 大一统国家的兴盛与农耕经济的繁荣 2

第一框 明清帝国的兴替 2

第二框 统一多民族国家的巩固与发展 6

第三框 农耕文明的繁盛 10

第二课 新旧交织的明清文化 14

第一框 文化专制与八股取士 14

第二框 进步思潮与世俗文化 17

第三框 群星璀璨的晚明科学巨匠 21

第三课 皇权膨胀与近代前夜的危机 25

第一框 皇权膨胀 25

第二框 近代前夜的危机 28

综合探究五 探讨乾隆盛世的危机 32

第六单元 世界工业文明的曙光与近代社会的开端

第一课 连通世界的新航路 36

第二课 冲破思想的牢笼 40

第一框 “人的发现” 40

第二框 科学革命 44

第三框 启蒙运动 47

第三课 资产阶级革命：新体制的创立 51

第一框 英国议会对王权的胜利 51

第二框 美国的诞生 54

第三框 法国大革命和拿破仑帝国 58

综合探究六 郑和下西洋与哥伦布航海的比较 62

第七单元 席卷全球的工业文明浪潮

第一课 工业革命 65

第二课 工人的斗争与马克思主义的诞生 69

第三课 资本主义的扩展 73

第一框 德国统一 73

第二框 美国南北战争 77

第三框 俄国改革 81

第四框 明治维新 85

第四课 殖民扩张与民族解放运动 89

第五课 第二次工业革命 93

综合探究七 感悟工业时代的社会变迁 97

第八单元 19世纪中后期工业文明大潮中的近代中国

第一课 民族危机与中国人民的英勇抗争 101

第一框 鸦片战争的烽烟 101

第二框 第二次鸦片战争与太平天国运动 105

第三框 甲午战争与列强瓜分中国的狂潮 109

第四框 义和团运动与八国联军侵华战争 113

第二课 洋务运动与近代民族工业的发展 117

第三课 清末变法图强的尝试与文教革新 121

第一框 维新变法运动 121

第二框 文化教育革新 125

综合探究八 结识近代中国最早“开眼看世界”的人 129



将来的你，
一定会感谢现在奋发努力的自己！

——杨柳

第五单元 绵延不绝的中华文明(三): 农耕文明繁盛与近代前夜的危机

第一课 大一统国家的兴盛和农耕经济的繁荣

第一框 明清帝国的兴替

知识梳理

一、明朝的建立与统一

1. 明朝的建立

(1)背景:元朝末年,阶级矛盾和民族矛盾激化,激起大规模农民起义。

(2)时间:1368年。

(3)人物:_____,即明太祖。

(4)都城:_____(今江苏南京)。

2. 明朝的统一 1368年秋,明军攻占大都,蒙古残余势力逃往漠北。此后,明朝军队先后平定西北等地,统一中国。

3. 明朝的疆域 明朝疆域最广时,东北抵日本海、鄂霍次克海,兀的河(今乌第河)流域,西北到新疆哈密,西南包括今天的西藏、云南,东南到今东海、南海并及于海外诸岛。



明朝疆域图

二、明朝的兴盛与衰亡

1. 明朝的兴盛/明朝巩固统治的措施

领域	措施		影响
政治	明太祖朱元璋和明成祖朱棣执政期间,通过_____、_____、设厂卫特务机构和迁都_____等举措		强化皇权,奠定了明代政治体制的基本格局
经济	明初	实施奖励垦荒、轻徭薄赋和提高手工匠身份等政策	使社会经济得到全面恢复和发展。朱棣在位期间,社会安定,国家富强,成为中国古代历史上又一强盛时期(“永乐盛世”)
	明中后期	进一步改革赋役制度	刺激商品经济发展,推动市镇经济高度繁荣
对外关系	明朝前期(1405~1433),_____下西洋		开辟_____海上通道的壮举,表明了明朝对国外的强大影响和在世界范围的先进地位

2. 明朝的衰亡与明末农民起义

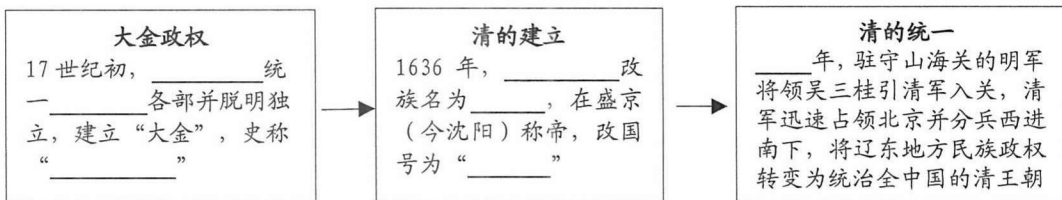
(1)背景:历经三百年的时间,明朝日趋衰败,官府多次增加赋税和各种杂税,土地兼并恶性发展,大量农民破产逃亡。明末,在对后金用兵以及连年天灾重压下,终于爆发大规模的农民起义。

(2) 明末农民起义

爆发时间	1627年
领导人	高迎祥、张献忠、_____
口号	“_____”“_____”
规模	起义的烈火燃遍陕西、河南等地，先后卷入几百万民众，持续了近二十年
结果	李自成在西安建立大顺政权。1644年，李自成率军攻入北京，推翻明朝。驻守山海关的明军将领吴三桂引清军入关，击败起义军

三、清朝前期的统治

1. 清朝的建立



2. 清朝初年弊政/清初各族人民抗清斗争不断的原因 清初二三十年间，政府推行大规模圈占土地、强制东南沿海居民内迁和威胁逼迫汉人剃发梳辫等弊政，激起民众的反抗。

3. 清初各族人民的抗清斗争及影响

(1) 抗清斗争：新成立的南明政权，在长江中下游和两广、福建地区举起反清复明的大旗。一些明末起义军余部联合南明，共同抗清。

(2) 影响：清初各族人民的抗清斗争促使统治者调整野蛮落后的政策，制止了社会经济的倒退逆转。_____、_____、_____三朝，社会经济得以恢复发展，很快达到中国历史上新的高峰。

【重要提醒】

1. 明朝都城的变化：明太祖朱元璋建立明朝时，定都应天（今江苏南京）；明成祖朱棣执政后将都城迁往了北京。
2. 推翻明朝统治的是李自成的农民起义军而不是清军。
3. 少数民族建立的统一的封建王朝：清朝是我国历史上第二个由少数民族（满族）建立的统一的封建王朝，其建立者为皇太极；第一个由少数民族建立的统一封建王朝是由蒙古族建立的元朝，其建立者为忽必烈。

拓展延伸

“康乾盛世”真的存在吗

清前期康熙（1662~1722）、雍正（1723~1735）、乾隆（1736~1795）三朝统治的134年间，是中国封建社会政治、经济、文化空前大统一、大发展时期，社会安定，国泰民安，史称“康乾盛世”或“康雍乾盛世”。



康熙

雍正

乾隆

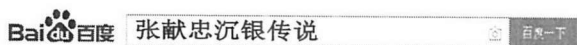
近年来，“康乾盛世”是否真的存在吸引了历史学家们的关注，历史学界对此也存有争议。这其中的原因可能是：一是，历史学家们研究的视角不同，因此研究结论也就有差异。二是，康雍乾三朝在我国历史上原本就是一个颇具争议的时期。这一时期的统治者功过兼有，因此历史学家们就更难以达成一致性的观点。

■练习精编

一、选择题

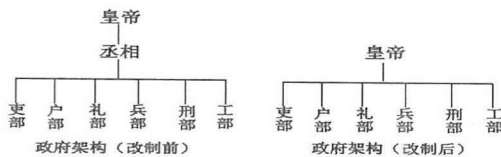
《三字经》是中国传统启蒙读物。书中写道：“太祖兴，国大明。号洪武，都金陵，迨成祖，迁燕京。十六世，至崇祯。权阉肆，寇如林。李闯出，神器焚。”据此回答1~2题。

1. 文中的“太祖”指的是 ()
 A. 朱元璋 B. 朱棣 C. 李世民 D. 赵匡胤
2. 关于文中“太祖”的叙述，以下正确的是 ()
 A. 在位时曾经派郑和七下西洋
 B. 杯酒释兵权，加强中央集权
 C. 削平群雄，建立大明王朝，定都应天
 D. 提出“均田”“免粮”，推翻元朝统治
3. 2017年初的四川岷江彭山“沉银遗址”考古活动，引起了八年级学生杨洋的浓厚兴趣，他用百度搜索下图关键词后，可能搜索出的相关信息有 ()



第3题

- ①该传说发生于明末清初时期 ②张献忠与李自成都是元末农民起义领袖
 ③张献忠在西安建立大顺政权 ④遗址出土文物的历史价值高于民间传说
 A. ①② B. ①④ C. ②③ D. ③④
4. 中华历史是由各民族共同缔造的，其中由少数民族建立的统一的封建王朝是..... ()
 A. 秦、汉 B. 元、清 C. 金、元 D. 辽、宋
5. 梁启超认为“天下之理，不外因果”。以下历史事件因果关系对应有误的是..... ()
 A. 明末的腐败统治——导致了大规模农民起义的爆发
 B. 明朝废除了丞相——大大加强皇帝权威和中央集权
 C. 郑和七次下西洋——促进了中国与亚欧国家的交流
 D. 清调整野蛮弊政——促使社会经济得到恢复和发展
6. 后金和清朝的关系类似于 ()
 A. 蒙古和元朝 B. 北宋和南宋
 C. 契丹和辽 D. 隋朝和唐朝
7. 如图是某朝政府架构的改制图。据此判断该朝代是..... ()
 A. 秦朝
 B. 西汉
 C. 唐朝
 D. 明朝



第7题

8. 上题中政府架构变化反映的实质是 ()
 A. 君主专制的加强 B. 君主专制的弱化
 C. 丞相制度的改革 D. 地方权力的增大

二、非选择题

9. 阅读材料，回答问题。

材料一：太祖在总结元亡教训时谈道：“主荒臣专，威服下移，由是法度不行，人心涣散，遂至天下大乱。……家给人足，斯民小康方乃天下治平之根本。”

——《明史》

材料二：明末陕西社会状况摘选。

年份	社会状况
崇祯十三年	粮价顿贵，每担 2.8 两
崇祯十四年	大旱，蝗，饿死者无算，米石 5 两
崇祯十五年	大旱，民死道路无计，人相食

材料三：新成立的南明政权在两广、福建地区举起了反清复明的大旗，一些明末起义军余部联合南明政权，共同抗清。

(1) 材料一中太祖认为元朝灭亡的原因是什么？他采取了哪些措施来解决“天下治平之根本”？（5分）

(2) 联系材料二和所学知识，分析明末农民起义爆发的原因。（4分）

(3) 从统治政策的角度，说说清朝初年抗清斗争不断的原因及其影响。（4分）

第二框 统一多民族国家的巩固与发展

知识梳理

一、抵御外来侵略

地区	史实详情	影响
东南沿海	明朝中期, _____ 海盗经常骚扰中国东南沿海地区, 当时人们称之为“倭寇”。16世纪中期, _____ 和 _____ 奉命抗倭, 抗倭战争取得决定性胜利	东南沿海的倭寇基本肃清
台湾	17世纪初, _____ 殖民者侵占了台湾。1661年, 在东南沿海坚持抗清的 _____ 率领军队从金门出发, 横渡台湾海峡。1662年, 荷兰守军被迫签字投降	台湾重新回到了祖国的怀抱, 维护了国家统一和领土完整
东北	17世纪中期, 沙俄入侵我国黑龙江流域。1685~1687年, _____ 两次组织清军进行 _____ 之战, 清军击毙侵略军头目, 取得了胜利	1689年, 中俄签订《_____》, 从法律上确定了黑龙江和乌苏里江流域的广大地区为中国领土

二、加强边疆管理

地区	史实	作用
西北地区 (新疆)	<p>①17世纪下半期, 蒙古草原西部的准噶尔部在首领 _____ 的统治下, 发展为一支强大的割据势力。噶尔丹在沙俄的支持下, 屡次向清朝政府挑衅。18世纪中期, 清朝平定准噶尔, 统一了 _____ 地区</p> <p>②天山以南地区爆发了 _____ 叛乱, 清军经过两年战斗平定叛乱</p> <p>③清朝政府在该地区设置 _____, 管理整个新疆地区事务</p>	加强了新疆与清朝中央政府联系, 使清朝对西北地区的统治增强, 边防更加巩固; 维护了国家统一和民族团结
西南少数民族地区	<p>①明朝初期, 统治者沿用元朝中央政府的办法, 任命当地民族首领土司为官, 对这一地区进行管理</p> <p>②明朝明成祖, 为了加强中央对地方的管理, 在一些条件成熟的地区, 取消 _____ 制度, 设立与中原地区相同的行政制度, 派遣有一定任期的 _____ 进行管理。这就是 _____。清朝雍正时期, 开始 _____ 推行。</p> <p>③明朝政府在多地设置 _____, 专门管理茶马贸易事宜</p>	加强了中央与西南少数民族地区的联系; 促进了经济、文化交流; 维护了国家统一和民族团结
西藏	<p>①清初, 确立西藏历世 _____ 和 _____ 都必须经过中央政府的册封</p> <p>②1727年, 清朝在西藏设立 _____, 代表中央政府与达赖和班禅共同管理西藏。后来, 驻藏大臣的职权进一步加强, 如主管西藏官吏的任免, 掌管藏区军队的调遣, 办理一切涉外事务</p> <p>③1792年开始清朝实行 _____ 制度, 以此决定达赖和班禅的继承人</p>	密切了西藏与中央政府的关系, 加强了对西藏的管理; 巩固和发展了统一的多民族国家
台湾	<p>①1683年, 清军进入台湾, 郑成功的后代归顺清朝</p> <p>②1684年, 清朝设置 _____ (隶属 _____ 省)</p>	加强了台湾同祖国内地的联系, 巩固了东南海防; 维护了国家统一

三、明清时期的民族政策


民族政策	具体做法(表现)	影响
明朝 ____政策	为了防范蒙古骑兵南下, 明朝进一步加固、增修_____ (明修长城)	有效地保护了中原地区经济的发展, 出现长期稳定的和平交往局面
清朝 ____政策	在承德修建_____, 并在山庄周围修建了宏伟的喇嘛庙。清朝统治者经常在夏季前往避暑山庄和附近的木兰围场, 接见蒙古王公、西藏政教首领以及其他少数民族上层人物, 与他们联络感情 (清修庙)	加强了民族感情, 促进了统一的多民族国家的巩固与发展

四、明清巩固统一措施的共同意义

维护了国家统一, 促进了边疆地区的经济开发及与内地的经济文化交流, 奠定了今天我国多民族国家的_____。

五、清前期疆域

西跨葱岭, 西北达巴尔喀什湖, 北接西伯利亚, 东北至黑龙江以北的外兴安岭和库页岛, 东临太平洋, 东南到_____及其附属岛屿_____、赤尾屿等, 南至南海诸岛, 是亚洲最大的国家。



(清)四川彝族土司印



金瓶



清朝疆域图

【重要提醒】

1. 新疆、西藏、台湾自古以来就是中国领土的一部分:

新疆	公元前 60 年, 西汉政府设置西域都护府, 新疆正式接受中央政府管辖
	18 世纪中期, 清政府平定准噶尔叛乱和大小和卓叛乱之后, 设置伊犁将军, 管辖整个新疆地区事务
西藏	元朝, 在中央设立宣政院, 西藏成为元朝正式行政区
	清朝, 确立班禅、达赖册封制度; 1727 年, 清政府在西藏设立驻藏大臣, 代表中央与达赖和班禅共同管理西藏; 1792 年, 确立金瓶掣签制
台湾	三国时候, 吴国船队到达夷洲 (今台湾), 加强了内地和台湾的联系
	1662 年, 郑成功从荷兰殖民者手中收复台湾。1684 年, 清政府设置台湾府 (隶属福建省)

2. 郑成功收复台湾: 郑成功代表明朝收复台湾, 但其收复台湾的时间, 从历史上看已经是清朝。

拓展延伸

达赖与班禅系统

清朝在少数民族政策上非常注重因俗而治，在西藏等地大力提倡喇嘛教，利用宗教首领的影响，使下层牧民诚心归附。顺治九年，（1652）达赖五世前往北京拜见顺治帝。在达赖返程途中，顺治帝派礼部尚书、理藩院侍郎等高级官员对达赖五世进行册封。从此时起，“达赖喇嘛”的名号正式由中央政府确定下来。

康熙五十二年（1713）册封班禅五世为“班禅额尔德尼”，这是班禅活佛转世系统受到中央政府正式册封的开端，班禅的地位从此被正式确定下来。



顺治会见五世达赖

练习精编

一、选择题

1. 发生在 17 世纪末，被英国学者赫德森评为“在中国政府与欧洲国家的首次战争中，获胜的是中国人”的战役是 ()
 A. 山海关之战
 B. 郑成功收复台湾
 C. 雅克萨之战
 D. 戚继光台州九捷
2. 1683 年中秋节，康熙帝欣然赋诗：“岛屿全军入，沧溟一战收。”此后清朝中央政府在 该地采取的主要措施是 ()
 A. 设置台湾府
 B. 实行改土归流
 C. 设立宣政院
 D. 设立驻藏大臣
3. 右图为清代金瓶掣签仪式所用的金奔巴瓶，作为文物，其最大的史料价值在于..... ()
 A. 反映了中外交流最新成果
 B. 印证了清朝皇帝皈依佛教
 C. 代表了手工业的最高水平
 D. 见证了多民族国家的巩固
4. 下列图片所反映的人物或事件与明清政府加强对西北地区管辖有关的是 ()



第 3 题




A. 郑成功



B. 伊犁将军府



C. 戚继光



D. 四川彝族土司印

5. 民间有“明修长城清修庙”的说法，这反映了清朝一些统治者实行了颇具远见卓识的民族政策，对边疆少数民族进行安抚。以下内容与此相符的是..... ()
 ① 平定准噶尔部叛乱
 ② 修建避暑山庄，接见少数民族首领
 ③ 平定大小和卓叛乱
 ④ 赐予达赖五世“达赖喇嘛”的封号
 A. ①③
 B. ②③
 C. ①④
 D. ②④

6. 元朝设立宣政院，明朝加固增修长城，清朝大规模推行改土归流。这些措施的共同意义在于 ()

- A. 加强中央集权
- B. 削弱地方权力
- C. 抵御外来入侵
- D. 维护国家统一

7. 从右图可以看出的历史信息是..... ()

- ① 清朝奠定今天中国疆域的基础
- ② 清朝继承元明以来的分省建制
- ③ 《尼布楚条约》确定了我国西北地区的主权地位
- ④ 台湾、新疆、新疆自古以来就是我国领土的组成部分

- A. ①②③
- B. ①②④
- C. ①③④
- D. ②③④



第 7 题 清朝疆域图

二、非选择题

8. 阅读材料，回答问题。

材料一：见下表。

资料	资料反映的措施	措施开始实行的朝代	共同主题 (用一句话概括)
<p>永乐十一年……乃分其地为八府四州，设贵州布政使司，而以长官司七十五分隶焉，属户部。</p> <p>——《明史》</p>	改土归流	① _____	⑤ _____
<p>达赖五世金印 驻藏大臣令牌(局部)</p>	② _____ ③ _____	④ _____	_____

材料二：明清时期的特点之一是对外抗击外敌入侵，对内同分裂和叛乱势力作斗争，两者密切相结合。

——摘编自中国历史七年级下册《教师教学用书》

(1) 阅读材料一，填写表格。(5分)

(2) “论从史出，史论结合”是学习历史的重要方法。图片“驻藏大臣令牌”反映的史实证明了材料二中的哪个观点？请再用明清的两例史实证明材料二的另一个观点。(4分)

第三框 农耕文明的繁盛

■知识梳理

一、农耕文明繁盛的概况

____朝至____朝前期,中国的农耕文明达到鼎盛。无论是农业、手工业还是商业,都取得了巨大进步。

二、农耕文明繁盛的具体表现

1. 农业的发展

(1) **农业技术的进步:** _____农业继续发展。北方黄河流域形成了两年三熟制和三年四熟制;南方长江流域采用多种形式的一年两熟制;闽江和珠江流域一些地区形成一年三熟制。

(2) **大量新品种的培育和引进推广:** 一些原产南美洲的高产且适应性强的____、____等作物引进中国并逐步推广。(作用:这些新品种为粮食增产开辟了新途径,一定程度上解决了15世纪以来中国因人口不断增长带来的粮食紧张问题。)

2. 手工业繁荣

(1) _____业在明代已从南方推向北方,全国涌现出一批棉纺织基地。(当时流传着“买不尽____布,收不尽魏塘纱”的谚语)

(2) 榨油、粮食加工、制瓷(该行业中心在____)、采矿、冶铁、造船等手工业的发展也呈现出繁荣的景象。

(3) 明清时期的手工业在工具、技术、产品质量以及行业种类、规模、产量上都超过了前代。

(4) _____手工业迅速发展,取代官办工场和作坊,占据了主导地位。

(5) 新的_____经营形式出现。

新的 工场 手 工业	时间	_____以后
	地点	在一些经济发达地区,如____、____等地
	行业	纺织业
	新的特征	①目的: _____。 ②生产规模: 拥有大量资金、几台甚至几十台织机。 ③管理模式: 统一指挥、分工协作、劳动效率较高。 ④机工与机户的关系: 机户出资,机工出力,形成雇佣与被雇佣的关系,已经带有_____的特点

3. 商业发达

(1) **商业发达的原因:** 随着_____和_____的发展,明清时期农产品与手工制品大量投入市场,商品经济活跃起来。


(2) 商业发达的表现

① **工商业_____的兴起:** 除了北京、南京这样的传统的大城市日益繁荣外,在一些工商业发达的地区和交通要冲,大批工商业市镇逐渐兴起。大量农村人口流向


市镇，使市镇规模扩大，市面繁荣。_____、_____成为市镇人口的主体。

②**商帮的形成**：商品生产的发展，城市经济的繁荣以及工商业市镇的兴盛，给商人的活动开辟了广阔的天地。随着商人数量的增长，逐渐形成了资本雄厚的地区性商人群体——_____，其中著名的有_____、_____等。

③**海外贸易发达**：16世纪，沿海各地的海外贸易十分活跃。中国的商品不仅满足了当时国内的需求，还有许多被中转到欧洲等地。_____、生丝、土布、_____等产品大量进入国际市场，深受欢迎。流入中国的白银数量不断增加，_____在明代中后期成为主要货币。



松江出产的棉布
(手工业)



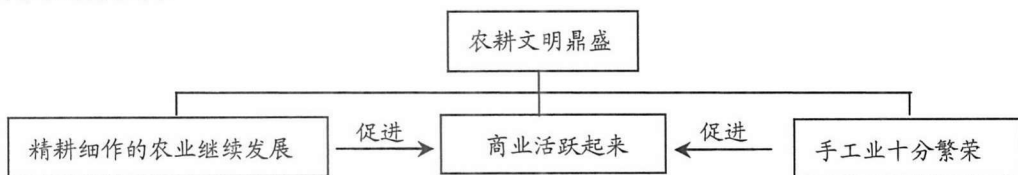
景德镇瓷器的制作流程之一
(手工业)



山西票号——日升昌
(商业)

【重要提醒】

1. 本框知识示意图：



2. 明朝至清朝前期，中国经济的主体：农业；绝大多数中国农民基本的生产和生活方式：男耕女织。

3. **甘薯的引入**：甘薯原产于美洲中部的墨西哥、哥伦比亚一带。15世纪末哥伦布发现新大陆以后，甘薯开始传播到各国，明代从东南亚传入中国。福建人陈振龙在引种甘薯方面作出了突出贡献。

拓展延伸

徽商

徽商，即徽州商人、新安商人，俗称“徽帮”，指徽州（府）籍商人的总称。徽商主要来自徽州，包括歙、休宁、婺源、祁门、黟、绩溪六县，即古代的新安郡。六县之中，歙县和休宁县的商人特别著名。徽商在宋代开始活跃，全盛期则在明代后期到清代初期。中国历史上的著名商帮，徽商皆处于贫困山区，种地无以生存。明代《安徽地志》记载：“徽人多商买，其势然也。”《徽州府志》载：“徽州保界山谷，山地依原麓，田瘠确，所产至薄，大都一岁所入，不能支什一。小民多执技艺，或贩负就食他郡者，常十九。”顾炎武说：徽州“中家以下皆无田可业。徽人多商贾，盖势其然也”。潮商与徽商、晋商，是中国历史上著名的“三大商帮”。



著名徽商胡雪岩

■练习精编

一、选择题

1. 下列有关明至清前期农业状况的叙述, 正确的是 ()
- 当时流传着“苏湖熟, 天下足”的谚语
 - 甘薯、玉米等新的物种引进中国并推广
 - 农业的主体地位逐渐被手工业、商业所代替
 - 南方长江流域的一些地区形成了一年三熟制

有学者说: “……时期, 中国在农耕文明轨道上发展到一个新的高峰, 并分离出一些迥异于传统经济模式的变异, 这些变异带有向工业文明演进的趋向。”据此回答 2~3 题。

2. 材料中“……时期”是指 ()
- 秦汉时期
 - 隋唐时期
 - 宋元时期
 - 明至清前期
3. 其中“迥异于传统经济模式的变异”反映了 ()
- 私营手工业占据绝对的主导地位
 - 江南出现颇具规模的工商业市镇
 - “机户出资, 机工出力”的雇佣关系
 - 白银在明代中后期逐步成为主要货币
4. “买不尽松江布, 收不尽魏塘纱”说明了明清时期的松江地区 ()
- 丝织业比较发达
 - 棉纺织业比较发达
 - 精耕细作农业继续发展
 - 资本主义生产关系萌芽已经出现
5. 中国古代妇女择偶一般“悔作商人妇”, 而到明清之际, 江南等地出现了“宁肯嫁与商人”的现象。这一变化说明 ()
- 统一的多民族国家得到巩固与发展
 - 商品经济发展, 传统观念发生变化
 - 资本主义萌芽产生, 传统社会结构解体
 - 西学东渐, 中国受到了西方文明的冲击

某一时期苏民无积聚, 多以丝织为生。东北半城皆居机户, 郡城之东皆习机业。……工匠各有专能, 匠有常主, 计日受值。……无主者黎明立桥以待。缎工立花桥, 纱工立广化寺桥。据此回答 6~7 题。

6. 材料中的现象出现的行业应该是 ()
- 制瓷业
 - 造船业
 - 纺织业
 - 冶铸业
7. 下列关于材料的解读正确的有 ()
- 这一时期工匠只有临时工, 随叫随到
 - 机户采用计时方式向机工付劳动报酬
 - 这种经营方式表明雇佣关系已经形成
 - 机户生产的目的是为了满自给需求
- ①②
 - ①④
 - ②③
 - ③④

8. 乔家大院位于山西省祁县乔家堡村，是一座具有北方汉族传统民居建筑风格的古宅。素有“皇家有故宫，民宅看乔家”之说，誉满海内外。根据所学判定，乔家大院是 ▲ 辉煌史的缩影。……………（ ）
- A. 陕商 B. 鲁商 C. 徽商 D. 晋商

二、非选择题

9. 阅读材料，回答问题。

材料一：甘薯所在，居人便足半年之粮，民间渐次广种。

——徐光启《农政全书》

材料二：见下图。



冯梦龙的《醒世恒言》中有这样的记载：施复夫妇是苏州盛泽镇上的小户人家，拥有一台织机，还养了几筐蚕，自己缫丝、织绸，过着自给自足的生活。不到十年，他们就添置了三四十台织机，成了大机户，雇人织绸，他们采用计时或计件方式向机工付酬。他们织出的绸缎是市场上的抢手货，人们争相购买。

材料三：在中国古代，士、农、工、商的排列顺序反映了这“四民”的社会地位。到了明清时期，晋商和山西票号崛起，雍正皇帝发现，山西人中最聪明能干的都去做商人，稍次一点的才去官府里当差。

- (1) “甘薯”引入中国是在哪个朝代？结合材料一及所学知识，说明“民间渐次广种”的意义。（4分）
- (2) 材料二反映的场景最早出现于哪一时期？结合材料，分析这种经营形式的特点。（4分）
- (3) 运用所学知识，谈谈材料一、二与材料三之间的联系。（3分）