

小学生每日10分钟



主编◎宋思德

..... 适用新课标

应用题

天天练

轻轻松松学数学



一年级
上册

电子科技大学出版社

应用题天天练

一年级上

主编 宋思德

学校 _____

年 级 _____

班 级 _____

姓 名 _____

电子科技大学出版社

图书在版编目 (CIP) 数据

应用题天天练. 一年级. 上册 / 宋思德主编. —成都:
电子科技大学出版社, 2013.6
ISBN 978-7-5647-1632-5

I. ①应… II. ①宋… III. ①应用题-小学-习题集
IV. ①G624.505

中国版本图书馆 CIP 数据核字 (2013) 第 116168 号

应用题天天练·一年级上

主编 宋思德

出版: 电子科技大学出版社 (成都市一环路东一段 159 号电子信息产业大厦
邮编: 610051)

策划编辑: 谢应成

责任编辑: 谢应成

主 页: www.uestcp.com.cn

电子邮箱: uestcp@uestcp.com.cn

发 行: 新华书店经销

印 刷: 成都火炬印务有限公司

成品尺寸: 140mm×203mm 印张 3.25 字数 82 千字

版 次: 2013 年 6 月第一版

印 次: 2013 年 6 月第一次印刷

书 号: ISBN 978-7-5647-1632-5

定 价: 11.80 元

■ 版权所有 侵权必究 ■

◆ 本社发行部电话: 028-83202463; 本社邮购电话: 028-83201495。

◆ 本书如有缺页、破损、装订错误, 请寄回印刷厂调换。

目 录

可爱的校园	1
一 生活中的数	3
二 比较	13
三 加与减(一)	19
四 分类	46
五 位置与顺序	50
六 认识图形	57
七 加与减(二)	60
八 认识钟表	76
总复习	83

可爱的校园

(一)



1

数一数。

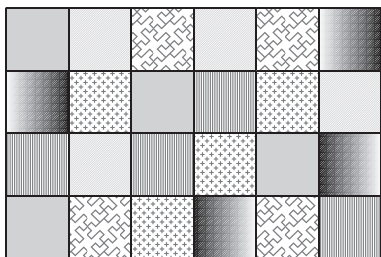
1	2	3	4	5	6	7	8	9	10
11	12	13	14	15	16	17	18	19	20
21	22	23	24	25	26	27	28	29	30

去年八月份中,有晴天()天,雨天()天,
阴天()天。



2

数一数。



图中有 ()个, ()个,
 ()个, ()个,
 ()个, ()个。




可爱的校园

(二)

1

算一算。



图中有()个羽毛球,()个水果,()个气球。

2

看一看。



一共有()个小朋友,()把扫帚。





★ 数学 ★ ____月____日 星期____

应用题天天练

一年级 上册 完成时间:____ 成绩:____



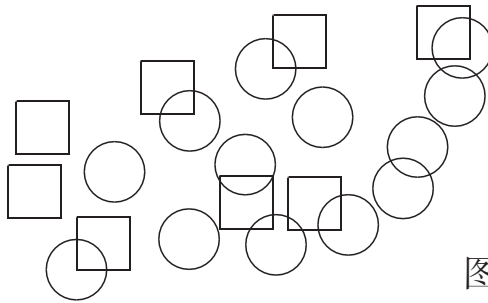
一 生活中的数

快乐的家园

(一)



数一数。



图中有方形()个，
圆圈()个。



看数画图(笑脸、实/空三角形、实/空心圆)。

4	
7	
3	
8	
6	



快乐的家园 (二)

1

连一连。

鱼

鼠

猴

象

蛙

狗

兔

鸭



2

看数涂色。

5 △ △ △ △ △ △ △ △ △ △ △

8 ○ ○ ○ ○ ○ ○ ○ ○ ○ ○ ○

7 ◇ ◇ ◇ ◇ ◇ ◇ ◇ ◇ ◇ ◇ ◇



玩 具

1

看数圈图。

2



4



5



2



1







6



2

看图写数。





★ 数学 ★ ____月____日 星期____

应用题天天练

一年级 上册 完成时间:____ 成绩:____

6

小猫钓鱼

1

看图写数。

我吃,我吃,我吃光光!



()



()



()



()



()


()

2


看图写数。



()



()



()



文具

(一)

1

看数补涂颜色。

5	<div> <div></div> <div></div> <div></div> <div></div> <div></div> <div></div> <div></div> <div></div> <div></div> <div></div> </div>
2	<div> <div></div> <div></div> <div></div> <div></div> <div></div> <div></div> <div></div> <div></div> <div></div> <div></div> </div>
7	<div> <div></div> <div></div> <div></div> <div></div> <div></div> <div></div> <div></div> <div></div> <div></div> <div></div> </div>
6	<div> <div></div> <div></div> <div></div> <div></div> <div></div> <div></div> <div></div> <div></div> <div></div> <div></div> </div>
4	<div> <div></div> <div></div> <div></div> <div></div> <div></div> <div></div> <div></div> <div></div> <div></div> <div></div> </div>

2

补图。

看,我有七个宝宝,一、二、三...





★ 数学 ★ ____月____日 星期____

应用题天天练

一年级 上册 完成时间:____ 成绩:____

8

文具 (二)




看数涂色。


10	<input type="radio"/> <input type="radio"/> <input type="radio"/> <input type="radio"/> <input type="radio"/> <input type="radio"/> <input type="radio"/> <input type="radio"/> <input type="radio"/> <input type="radio"/> <input type="radio"/>
9	<input type="radio"/> <input type="radio"/> <input type="radio"/> <input type="radio"/> <input type="radio"/> <input type="radio"/> <input type="radio"/> <input type="radio"/> <input type="radio"/> <input type="radio"/> <input type="radio"/>
8	<input type="radio"/> <input type="radio"/> <input type="radio"/> <input type="radio"/> <input type="radio"/> <input type="radio"/> <input type="radio"/> <input type="radio"/> <input type="radio"/> <input type="radio"/> <input type="radio"/>
7	<input type="radio"/> <input type="radio"/> <input type="radio"/> <input type="radio"/> <input type="radio"/> <input type="radio"/> <input type="radio"/> <input type="radio"/> <input type="radio"/> <input type="radio"/> <input type="radio"/>
6	<input type="radio"/> <input type="radio"/> <input type="radio"/> <input type="radio"/> <input type="radio"/> <input type="radio"/> <input type="radio"/> <input type="radio"/> <input type="radio"/> <input type="radio"/> <input type="radio"/>



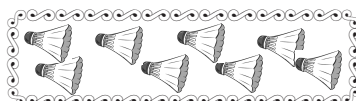
连一连。




6



7



8



9



10




快乐的午餐

1

在多的下面写 D。






2

在少的下面写 S。





3

填一填。

$5 > \square$

$6 < \square$

$8 < \square$

$2 > \square$

$7 < \square$

$\square > 5$

$\square < 3$

$\square > 7$



动物乐园

1

哪两组的总人数同样多? 打钩。

①


☐

②

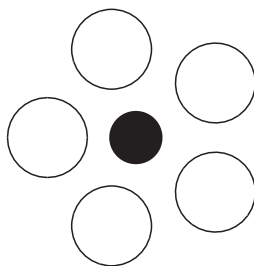


☐

③


☐

2

如果黑圆一样大,画钩;不一样大,打叉。


☐

3

数一数,哪组的人最多,画○。


☐
☐
☐


单元测试

(一)

1

看图写数。

个

个

朵

颗

2

写一写,涂一涂。

3

我放生,给小鸟自由。





★ 数学 ★ 月 日 星期

应用题天天练

一年级 上册 完成时间: 成绩:

13

二 比 较

过 生 日

1

高的写 G,矮的写 A。



2

在站得最高的动物身下的框框里画圈。



3

在大的下面画圈。

