

经江苏省中小学教辅材料评议委员会2013年评议通过



五年级

《寒假作业》编写组 编

上海科学技术出版社

班级_____

姓名_____



责任编辑：金波艳

封面设计：陈蕾

图书在版编目(CIP)数据

寒假作业.五年级/《寒假作业》编写组编.—上海：上海科学技术出版社，2019.1

ISBN 978-7-5478-3186-1

I. ①寒… II. ①寒… III. ①课程—小学—习题集 IV. ①G624

中国版本图书馆CIP数据核字(2018)第258665号

上海世纪出版(集团)有限公司
上海科学技术出版社^{出版、发行}

(上海市钦州南路71号 邮政编码200235)

常熟市兴达印刷有限公司印刷

开本787×1092 1/16 印张3 字数85 000

2019年1月第1版 2019年1月第1次印刷

ISBN 978-7-5478-3186-1 / G·695

定价：3.70元

此书如有缺页、错装或坏损等严重质量问题，
请向承印厂联系调换

审批号：苏费核(2018)JF-0836

举报电话：12358



www.sstp.cn

易文网：www.ewen.co

ISBN 978-7-5478-3186-1



9 787547 831861 >

同学们,寒假到了,你有什么计划吗?除了盼望着与家人一起度过中国最富有特色的传统节日——春节外,你会和爸爸妈妈出门旅行、游览祖国的美好山河吗?还是会参加社区的义务服务工作,体会帮助他人的乐趣?或者和同学一起参观博物馆、去野外郊游、参加体育锻炼,为自己的头脑和身体“充电”?你打算如何度过这个假期呢?在寒假开始的时候,请为自己制订一个生活、学习的计划吧!

积累运用

1. 填一填

一夫当关,_____	人非圣贤,_____
不鸣则已,_____	百尺竿头,_____
三十六计,_____	三军易得,_____
_____,后人乘凉	_____,言无不尽
_____,近墨者黑	_____,始于足下
_____,谬以千里	_____,百年树人

2. 连一连。

三 国	虎门销烟	郑 和
南北朝	草船借箭	花木兰
明 朝	替父从军	诸葛亮
清 朝	七下西洋	林则徐

诵读时间

捉月亮的网

[美国] 西尔弗斯坦



____月____日 星期____

我做了一个捉月亮的网,
今晚就要外出捕猎。
我要飞跑着把它抛向天空,
一定要套住那轮巨大的明月。
第二天,假如天上不见了月亮,
你完全可以这样想:
我已捕到了我的猎物,
把它装进了捉月亮的网。
万一月亮还在发光,
不妨瞧瞧下面,你会看清,
我正在天空自在地打着秋千,
网里的猎物却是个星星。

诵读提示:

这首轻柔、活泼的小诗带给我们新奇的、不一样的感受。诗人以丰富的想象力将我们带上夜空,去捕猎月亮。捕猎的结果也任由我们去猜想:也许把它装进了网,也许它仍在发亮发光。有感情地诵读这首诗,想象画面,感受小诗字里行间的快乐,让思想跟随好奇心一同插上翅膀……

一、填空。

1. 在 $+6, -6, 0, 0.88, -0.5, 3.14$ 中,正数有(),
负数有(),最大的数是(),最小的数是()。
2. 写出大于 -3 且小于 -2 的三个负数:(),(),
()。

3. 在下面的括号里填上适当的数。

1.2平方米=()平方厘米

406公顷=()平方千米

0.15公顷=()平方米

4.05平方千米=()公顷

4. 一个三角形的面积是20平方厘米,它的高是5厘米,底是()厘米。

5. 一个直角三角形,三条边分别为3厘米、4厘米、5厘米,它斜边上的高是()。

6. 小英按照一定的规律写数: $1, +2, -3, 4, +5, -6, 7, +8, -9, \dots$,当写完100个数时,小英停了下来。小英写的数中,一共有()个正数。

二、选择。

1. 用四根木条钉成的长方形,把它拉成平行四边形,它的()不变。

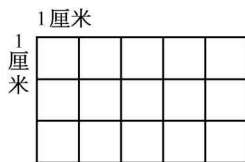
A. 面积 B. 周长 C. 周长和面积

2. 比海拔 -60 米高30米是()米。

A. $+90$ B. -30 C. $+30$ D. -90

三、动手实践。

在方格图中画一个三角形,使三角形的面积是6平方厘米。



四、解决问题。

1. 王叔叔想用18根1米长的木条围一个长方形花圃,怎样围面积最大?(列举法)

2. 五年级同学参加科技小组的有34人,比参加文艺小组人数的2倍少6人。参加文艺小组的有多少人?

欢乐一笑

第二个问题

老师:“我给同学们出两个问题,谁只要回答出第一个问题,就不要求他回答第二个问题了。现在我问第一个问题:谁知道自己有多少根头发?”

小丽:“我知道,我有99 999根头发。”

老师:“你是怎么知道的?”

小丽:“老师,这是第二个问题了,你不能要求我回答了。”

开阔视野,制订计划。

国外学生的假期

同学们,你们喜欢假期吗? I think you all like holidays because you can have a good time on holidays. Yes? 国外的学生和我们一样,也有暑假(summer vacation)和寒假(winter vacation),有些国家的学生甚至还有春假(spring holiday)和圣诞假期(Christmas holiday)等。

给自己的寒假做一个安排,用英语填写下表。

	Monday	Tuesday	Wednesday	Thursday	Friday	Saturday	Sunday
8:00 a. m.							
2:30 p. m.							

小试身手

一、智力大闯关。

把下列单词改变一个字母,使其成为一个新的单词。

1. bear — (一种水果)
2. fine — (动词)
3. hard — (一种物品)
4. soap — (一种食品)
5. house — (一种动物)

(答案在本册中找)

二、读一读,给短文取个名字。

The name of Christmas is short for “Christ Mass”. Christmas is a Christian holiday that celebrates the birth of Jesus Christ. In the 4th century, Christmas is a holiday for the church. By the 12th century, Christmas had become the most important religious festival in Europe.

In the 19th century, two Christmas customs became popular—decorating Christmas trees and sending Christmas cards to relatives and friends. Many well-known Christmas songs were written during this period. For most people who celebrate Christmas, this is a special holiday for gathering of family and friends, enjoying delicious foods, and giving gifts. A traditional Christmas dinner in American includes stuffed turkey, mashed potatoes and so on.

One of the most important Christmas traditions is receiving gifts from Santa Claus. Today, Santa Claus brings presents to children in many countries, including the United States, Canada, Great Britain and Australia.

三、根据所给汉语,完成句子,每空填一词。

1. 你会做什么?

我会踢足球。

What can you _____?

I can _____.

2. 我们的教室在哪里?

在这座楼的三层。

Where is _____ classroom?

It's _____ the _____ floor.



____月____日 星期____

字词闯关

某公司招聘经理,用四个读音相同的“gōng”字作为选拔优秀人才的标准,促进公司发展。在括号中写出正确的汉字。

礼貌谦逊突出“gōng()”; 办事无私突出“gōng()”;
勇于进取突出“gōng()”; 成果丰硕突出“gōng()”。

语文与生活

1. “标语设计师”:为了美化校园,让每一面墙壁说话,校长想请同学们当设计师,给下列地方设计标语(可以用合适的名言佳句,也可以自己创新)。

- (1) 学校体育馆:_____
- (2) 教室:_____
- (3) 学校餐厅:_____
- (4) 图书阅览室:_____

2. “名字的秘密”:实地搜集、摘记街名、路名、店名,感受名字的新颖精巧。(5~10个)

3. “精彩广告语”:搜集电视、商场、车站里的精彩广告语,摘记一条;选择自己喜爱的或常用的物品,给它设计一条广告语。

我的发现:_____

我的创作:_____

开心辞典

偶遇知音

某生素善琴,尝谓世无知音,抑抑不乐。一日无事,抚琴消遣,忽闻隔邻,有叹息声,大喜,以为知音在是,款扉叩之,邻媪曰:“无他,亡儿存日,以弹絮为业,今客鼓此,酷类其音,闻之,不觉悲从中耳。”

【译文】某先生平时喜欢弹琴,曾经说世上没有他的知音,总是怏怏不乐。一天闲着没事,他又弹琴消遣。忽然听到隔壁家有叹息声,以为遇到了知音,就去敲门问。隔壁老妇说:“没有什么,死去的儿子生前以弹棉花为生,今天您弹琴的声音特别像他弹棉花的声音,听了,不觉悲从中来。”

第3页“智力大闯关”参考答案:

1. pear, 2. find, 3. card, 4. soup, 5. horse


一、选择。

1. 如果 a 小于 0, 那么, a 一定是()。
A. 正数 B. 负数
2. 长度相同的两根铁丝, 分别围成长方形和平行四边形, 比较它们的面积, ()。
A. 长方形大 B. 平行四边形大
C. 同样大 D. 无法比较

二、填空。

1. 零上 6 摄氏度记作() $^{\circ}\text{C}$, 零下 10 摄氏度记作() $^{\circ}\text{C}$ 。
2. 由 5 个十、5 个百分之一和 5 个千分之一组成的数是()。
3. 0.68 米表示把()米平均分成()份, 表示这样的()份。
4. 在一次数学测验中, 某班平均分是 86 分, 把高于平均分的得分记作正数。平平得 100 分, 记作(); 灵灵得分记作 -5 分, 她的实际得分是()。
5. 一个平行四边形的两条邻边分别是 8 厘米、12 厘米, 一组对边的距离是 10 厘米。这个平行四边形的面积是()平方厘米。

三、在温度计上帮福娃们画出各个温度计上方所标的温度。



四、解决问题。

1. 有一堆煤, 计划每天烧 3.2 吨, 可以烧 48 天。实际每天烧 2.4 吨, 一共可以烧多少天?

2. 一块梯形菜地, 上底是 22 米, 下底是 28 米, 高是 12 米。每棵白菜占地 9 平方分米, 这块菜地最多有白菜多少棵?

五、思维训练。

- 小林有面值 4 角、5 角和 8 元的邮票各 1 枚, 他用这些邮票能组成多少种不同的邮资?

学法指导

have (has)

have (has)作“有”讲,强调“所属关系”,含有“拥有”之意,其主语一般是人,有时也可以是物,例如: They have many new books. The table has four legs. have 用于第一人称(I、we)、第二人称(you)及第三人称复数(they); has 用于第三人称单数(he、she、it)或单数名词,例如: 玛丽有一个大书包。Mary has a big schoolbag.

Reading Time

The friends and the bear

Two good friends are traveling together. They are on a mountain road. All of a sudden, they see a large bear coming their way. The bear sees the two men, too. With a roar(咆哮声), he is charging toward(朝……冲去) them.

One of them is very thin, and he quickly climbs up a tree. But the other traveler is fat, so he can't climb the tree. "Help me!" cries the fat one to his friend. "Help me climb the tree." "You are too fat to climb the tree," says the thin one. "If I help you, I will be in danger." The thin one climbs even higher up on the tree.

The fat traveler finds no way to escape(逃跑). He is so scared that

he falls to the ground. Suddenly, he remembers one thing "People say that the bear will not eat up a dead body," he thinks. So, he just closes his eyes as if he was dead.

The bear comes to the side of the fat man, and begins to smell him. The fat man holds his breath and does not move at all. The bear believes this is a dead man, so he turns around and leaves.

When the bear is out of sight, the thin traveler climbs down the tree. He says to his friend, "Great! You are not harmed at all. I don't understand why the bear leaves you. I see the bear say something to you. What does he say to you?"

"The bear tells me," answers the fat man, "A friend is not a good friend if he leaves you in danger." "He also tells me to never make friends with such a man." he adds.

判断下列句子是否正确,正确的写“T”,错误的写“F”。

- () 1. The bear says to the fat traveler, "Don't make friends with someone who leaves you in danger."
- () 2. All of a sudden, they see a large bear coming their way.
- () 3. One of the traveler is fat, and he climbs up a tree quickly.

第30页“智力大闯关”参考答案:

1. house, 2. C

你知道吗

关于“风”

1. 猜谜语。

云儿见它让路,小树见它招手。

禾苗见它弯腰,花儿见它点头。

(打一自然现象)

猜到了吗? 没错,就是“风”。

2. 词语中有“风”。

()风 ()风 ()风 ()风

3. 成语中有“风”。

一路()风 两袖()风 意气风()

风()日丽 捕风()影 甘()下风

4. 古诗中有“风”。

夜来风雨声,_____。——(唐)孟浩然《春晓》

_____,千树万树梨花开。
——(唐)岑参《白雪歌送武判官归京》

随风潜入夜,_____。——(唐)杜甫《春夜喜雨》

_____,春风吹又生。
——(唐)白居易《赋得古原草送别》

朔风如解意,_____。——(唐)崔道融《梅花》

_____,二月春风似剪刀。——(唐)贺知章《咏柳》

千磨万击还坚劲,_____。——(清)郑燮《竹石》

语文与生活



____月____日 星期____

招录保护环境小小志愿者

1. 招录对象:四、五、六年级学生
2. 招录名额:10 名
3. 报名方式:各班班主任处报名
4. 报名时间:即日起至 12 月 20 日

少先队大队部

2018 年 12 月 12 日

1. 根据海报内容,判断下列句子是否正确,正确的打“√”,错误的打“×”。

(1) 三年级(1)班的张晓亮可以报名参加招录。 ()

(2) 想参加此项活动的同学可以到少先队大队部报名。 ()

(3) 五(2)班王欣雨跟妈妈商量后,决定等月底钢琴考级结束再报名。 ()

2. 本次招录活动缺少一条标语,请你帮助他们写一条,要做到语言简洁,富有吸引力哦。

一、口算。


$$\begin{array}{lll} 0.63 \times 2 = & 1 - 0.75 = & 4.8 \div 0.6 = \\ 1.22 + 0.88 = & 9.6 \div 0.32 = & 2 - 0.09 = \\ 5.7 + 3 = & 0.25 \times 16 = & 1.25 \times 0 = \end{array}$$

二、计算下面各题,能简算的要简算。

$$10.4 + 9.6 \div 0.32 \qquad 13.4 + 5.62 + 17.6 + 4.38$$

$$9.28 \times 1.3 + 8.7 \times 9.28 \qquad 9.4 \div [(1.3 + 1.4) \div 0.27]$$

三、在下图中画出和三角形面积相等的梯形和平行四边形各一个。



四、笔算。

$$6.02 - 5.78$$

$$0.742 \div 3.5$$

五、填表。

图 形	底边 a, b (厘米)	高 h (厘米)	面积 S (平方厘米)
平行四边形	$a=12$	9	
	$a=45$	24	
三角形	$a=80$	50	
	$a=45$	30	
梯 形	$a=14, b=26$	10	
	$a=32, b=48$	25	

六、解决问题。(先列表,再填空)

用 30 米长的绳子围出长和宽都是整米数的长方形,一共有 () 种不同的围法;最大面积是 () 平方米。

一、请用几句话介绍你假期阅读的一个英语小故事,或者用思维导图把它的主要内容展示出来。

二、选择。

- () 1. I have two good friends. _____ is Tim. _____ is Mike.
A. One, One B. One, Other C. One, The other
- () 2. Does it _____ a big mouth?
A. have B. has C. like
- () 3. There _____ any apple juice in the glass.
A. isn't B. aren't C. no
- () 4. —Do you like _____ the model cars?
—Yes, I do.
A. make B. making C. to make
- () 5. You can see bald eagles in _____.
A. India B. Australia C. the US
- () 6. —What do your parents do _____ Sundays?
—They often go shopping _____ the morning and play table tennis _____ the afternoon.
A. at, in, in B. on, on, on C. on, in, in

三、从方框内选择适当的介词完成句子。

in on at beside under

- Some books are _____ the desk.
- We go to school _____ half past seven.
- There is a chair _____ the sofa.
- A pair of shoes is _____ the bed.
- What's this _____ English?

四、找出错误的一项,并在横线上改正。

- () 1. He have Maths, Chinese and English. _____
A B C
- () 2. Do you have some hobbies? _____
A B C
- () 3. My uncle likes grow flowers. _____
A B C
- () 4. Do you usually read magazines in Sundays? _____
A B C
- () 5. He do not like PE. _____
A B C

五、根据汉语意思完成句子,每空一词。

- Helen 在周末做什么? 她总是有舞蹈课。
What _____ Helen do at _____? She _____ has _____ lessons.
- 我们喜欢和我们的朋友一起打乒乓球。
We like _____ table tennis _____ our friends.
- 你会跳舞吗? 不会。
_____ you _____? No, I _____.
- 你爸爸是干什么的? 他是个工人,他制造汽车。
What _____ your father do? He is a _____. He _____ cars.



___月___日 星期___

字词闯关

给下面带有“理”字的成语找到合适的位置。

岂有此理 晓之以理 置之不理
合情合理 通情达理 慢条斯理

1. 合乎情况和道理。()
2. 懂道理,说话做事合乎情理。()
3. 说话、做事不慌不忙。()
4. 放在一边,不加理睬。()
5. 给人讲道理,使他明白。()
6. 哪有这样的道理。()

积累运用

根据情境填写诗句:

心童是那样的天真可爱。“_____,”
写出了儿童捕蝉时的专注;“_____,”写出
了儿童放风筝时的快乐;“_____,”写出了
儿童剥莲蓬时的可爱。

知识宝库

1. “书是人类进步的阶梯”是()的名言。
A. 托尔斯泰 B. 培根 C. 高尔基 D. 莎士比亚
2. 元杂剧中写杜丽娘故事的是()。
A. 《牡丹亭》 B. 《倩女离魂》 C. 《汉宫秋》 D. 《梧桐雨》
3. 传说孟轲的母亲为了教育儿子而选择居住环境,曾三次搬家,最后把家搬到了()。
A. 学堂附近 B. 穷乡僻壤 C. 繁华都市 D. 文化名城
4. “舌战群儒”这个成语的主人公是()。
A. 赵括 B. 项羽 C. 诸葛亮 D. 关羽
5. “头悬梁,锥刺股”说的是()刻苦学习的故事。
A. 孙康、苏秦 B. 孙敬、苏秦 C. 白衡、苏秦

闯关夺标

填写下列神话故事中的人物。

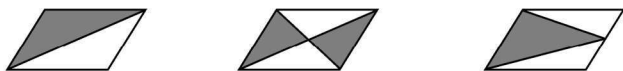
()填海	()补天
()开天	()奔月
()射日	()追日
()治水	()移山

一、填空。

1. 8.007 平方千米=()公顷 0.06 吨=()千克
830 平方分米=()平方米 0.9 公顷=()平方千米
2. 妈妈今年 a 岁,比小明大 x 岁。4 年后,妈妈比小明大()岁。
3. 一个三位小数用四舍五入法取近似值是 19.00,这个数最大是(),最小是()。
4. 一个平行四边形的底是 15 米,高是 6 米,一个与它等底等高的三角形的面积是()平方米。
5. 一个直角梯形的下底是 15 厘米,如果把下底缩短 3 厘米,原来的梯形就变成了正方形。原来梯形的面积是()平方厘米。
6. 将一个数的小数点向右移动一位,得到的新数比原来多了 46.8,原数是()。

二、我是小小裁判员。(对的在括号里打“√”,错的打“×”)

1. 北京某天的气温是 -3°C 到 8°C ,这天的温差是 5°C 。()
2. 大于 4.1 且小于 4.2 的两位小数有无数个。()
3. 平行四边形的底扩大为原来的 3 倍,高不变,它的面积就扩大为原来的 3 倍。()
4. 如图所示,三个完全一样的平行四边形,它们阴影部分的面积一样大。()



三、笔算。

$$13.07 - 3.48$$

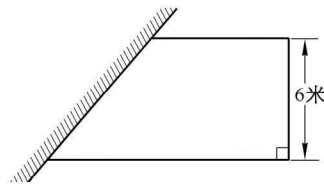
$$1.05 \times 24$$

$$25.2 \div 12$$

四、解决问题。

1. 一桶油连桶质量为 5 千克,倒出一半油后,连桶质量为 2.6 千克,原来有油多少千克?

2. 王伯伯用篱笆围了一个梯形养鸡场,如右图所示,一边利用房屋的墙壁。已知篱笆长 24 米,求这个养鸡场的面积。



五、拓展思维。

用 36 个边长为 1 厘米的小正方形拼成长方形(或正方形),一共有多少种不同的拼法?先在下表中列出所有不同的拼法,再回答问题。

长(厘米)	36	
宽(厘米)	1	

- (1) 一共有多少种不同的拼法?

- (2) 在所有不同的拼法中,长方形(或正方形)的周长最大是多少厘米?最小是多少厘米?

智力大闯关

Look at the puzzle carefully. The letters in the puzzle stand for the numbers 0~5. Can you work it out?

$$\begin{array}{rcccccc} & B & A & C & D & C \\ + & F & B & C & D & B \\ \hline E & D & F & C & B \end{array}$$

A=_____

B=_____

C=_____

D=_____

E=_____

F=_____

Reading Time

Just be yourselves

Nick is a small black swift(雨燕). He is always alone. He is too shy to make friends with other birds. One day, Nick meets a magpie(喜鹊). She has a beautiful long tail. "What a beautiful tail! My tail is short. It looks like scissors. I wish I could have a beautiful long tail too!" Nick finds some peacock feathers and decorates his tail. Finally it looks long and beautiful. But the feathers are too heavy. Nick loses his balance when he flies in the sky. Nick has to throw the feathers away. Nick meets a parrot. The parrot spreads his colourful wings.

What beautiful wings! My wings are black. I always look like a piece of coal(煤炭). I wish I could have a pair of colourful wings too. Nick finds some paints(颜料). He starts to colour his wings. They look bright and colourful. He flies happily in the sky. Suddenly it begins to rain. The rain washes away the paints. Nick's wings become black again.

Nick feels sad. At this time, a young bird falls out of its nest. The magpie and the parrot begin to scream. They all fly towards the young bird. Nick flies more swiftly than the other too. He saves the young bird. The young bird's mother come down for her baby. "Thanks for saving my baby! You are really SWIFT!"

"You are so cool! You looked like a flash(闪电) just now." the magpie and the parrot look at Nick adoringly(崇拜的). They wish they had Nick's tail and wings. So they could fly as swiftly as Nick.

The mother bird says to them, "You are all very excellent! Everyone has his or her own strong points. So just be yourselves!"

根据故事内容回答问题。

1. Why is the swift unhappy?

2. Why does Nick throw the peacock feathers away?

3. What can Nick do?

4. 根据上下文内容,你能说出文中划线单词的意思吗?

5. What do you learn from the story?

积累运用

1. 阅读下面这段话,填写恰当的书名和人名。

人们常常把弱不禁风的漂亮女孩比成《_____》里的林黛玉;
把智慧超群的人比成《_____》里的_____;
把险恶善变的坏女人比成《_____》里的_____;
把冒名行骗的人比成《水浒传》里的_____。

2. 一个外国学者读了钱钟书的小说《围城》,想登门拜访,钱钟书在电话里说:“假如你吃了一个鸡蛋,觉得不错,何必要认识那个下蛋的鸡呢?”钱钟书这话的弦外之音是_____。

3. 下面都是文艺界著名人士的名字或笔名,有人巧妙地利用它们编写出一副对联。上联是“碧野田间牛得草”,你能写出下联吗?

碧野 巴金 冰心 张天翼 牛得草 白杨 田间 林里 马识途 流沙河

下联是:_____

词句天地

1. 叹词妙用。

叹词运用得当,能很好地表达思想感情。读一读下面的句子,体会一下叹词表达了怎样的思想感情,写在括号里。

(1) 呀! 怎么会这样? ()

(2) 哇,好大的西瓜! ()

(3) 哼,争第一? 你别做梦了! ()

(4) 哎哟,我肚子疼。 ()

(5) 咳,我怎么这么糊涂! ()



____月____日 星期____

2. 仔细思考每组词语的意思,试着只用一个字概括每组词语所包含的共同意思。

(1) 肃然无声 悄无声息 万籁俱寂 鸦雀无声 ()

(2) 极目远眺 屏息凝视 亲眼目睹 察言观色 ()

(3) 各抒己见 议论纷纷 畅所欲言 自言自语 ()

(4) 豁然开朗 恍然大悟 茅塞顿开 灵光乍现 ()

3. 把下列句子整理成通顺的一段话。

() 所以,诗人写道:“春色先以柳荫归”“春风杨柳万千条”。

() 你看,在那冰雪初融的时候,不是暗暗泛青的芽首先把春意带到人间吗?

() 在北方广大地区,感受春意最早的乔木是垂柳。

() 你再看,大多数树木久睡刚醒,而垂柳已将粒粒柳芽抽成万条柳丝。

() 它那轻盈婆娑的树姿,那迎风摇摆的树枝,那青翠欲滴的细叶,不仅为桃杏增添了色彩,还给人们送来了春的气息。

第 21 页“读一读,猜一猜”答案:

1. mushroom 2. clock/watch 3. milk 4. age

一、填空。

1. 十分之几可以用()位小数表示,百分之几可以用()位小数表示。

2. 把一根木料锯成3段要2.4分钟,锯成6段要()分钟。

3. 一个平行四边形的面积和底都与三角形相等。如果三角形的高是16厘米,那么平行四边形的高是()厘米;如果平行四边形的高是16厘米,那么三角形的高是()厘米。

4. 在○里填上“>”“<”或“=”。

5.009公顷○5900平方米

$11.58 \div 1.56$ ○11.58

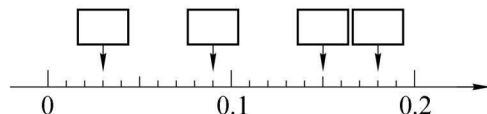
3000公顷○3平方千米

$8.6 \div 0.96$ ○8.6

9平方千米○9000公顷

$0.56 \div 1$ ○ 0.56×1

5. 在下图方框内填上恰当的数。



6. $1 \div 7$ 所得的商中,小数点后面第100位上的数字是()。

二、我是小小裁判员。(对的在括号里打“√”,错的打“×”)

1. 把一个平行四边形剪开后拼成一个长方形,面积和周长都没变。()

2. 任意一个平行四边形,一定能分成两个完全相同的三角形,或者两个完全相同的梯形。()

3. 两个三角形面积相等,它们一定等底等高。()

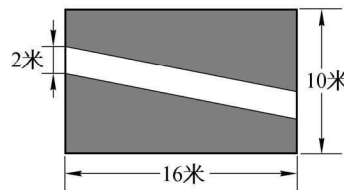
4. 学校操场的面积大约有1平方千米。()

三、填表。

	保留整数	保留一位小数	保留两位小数	保留三位小数
0.4528				
9.9543				

四、解决问题。

1. 如右图所示的一块长方形草地,长是16米,宽是10米,中间铺了一条石子路,石子路的宽是2米。那么草地部分的面积有多大?



2. 两辆汽车同时从相距654千米的两地相向开出,甲车每小时行驶75.5千米,乙车每小时行驶84.5千米,经过几小时后两车相距78千米?

五、拓展思维。

一本书,如果每天看18页,第5天能看完;如果每天看16页,第6天能看完。这本书可能有多少页?

一、找出下列句子中所含的与所给单词画线部分读音相同的单词,写在横线上。

1. There are thirty-five blackbirds and three parrots sitting in the tree. They are all thin and their mouths are all big.

think: _____

2. My good friend gives me a nice card, a cute cat and a green clock.

car: _____

二、阅读短文,选择正确的答案。

One morning, Maria finds (发现) an egg on her way to school. She takes it to her classmates. The children put the egg into a little box. In five days, the egg breaks open. Out comes a baby bird.

The children call the bird Tommy. It has become (成为) their pet. Each day (每天) they give it rice and water. But Tommy doesn't like to have vegetables. The children say that school is more fun (有趣)—now that they have a pet bird.

() 1. The best title (题目) is _____.

- A. Walking to School B. A Pet Bird
C. Eating Eggs D. A New School

() 2. One morning, Maria finds _____.

- A. an egg B. a bird C. a pet D. a baby

() 3. The bird likes _____ every day.

- A. rice B. water
C. vegetables D. Both A and B

知识库

认识 beside, near 和 next to

• next to 意为“紧靠……的旁边”,如:

The bedroom is next to the bathroom. 卧室紧挨着浴室。

• beside 通常是指“在……旁边”,如:

The hotel is beside the river. 那家宾馆在河边。

• near 意为“在……附近”,表示的距离比 beside 稍远些,如:

Don't play near the road. 不要在马路附近玩耍。

练习运用:

1. There is a book _____ the pencil.
2. There is a theatre _____ his home.
3. The new building _____ the bookstore is a cinema.