



结合小学一年级的教学内容，
根据教育部颁布的《**幼儿园教育指导纲要（试行）**》权威编写

学前数学

基础专项训练

赵 婷 编著

描写 + 学习 + 练习

100以内数的认识
和**加减法**



学前数学

基础专项训练

赵 婷 编著

100以内数的认识
和**加减法**

班 级：_____

姓 名：_____



图书在版编目 (CIP) 数据

学前数学基础专项训练. 100 以内数的认识和加减法 /
赵婷编著. -- 长春: 吉林出版集团股份有限公司,
2015. 1

ISBN 978-7-5534-5995-0

I. ①学… II. ①赵… III. ①算术课—学前教育—习
题集 IV. ①G613.4

中国版本图书馆 CIP 数据核字 (2014) 第 252259 号

学前数学基础专项训练 · 100 以内数的认识和加减法

编 著: 赵 婷

出 版 人: 齐 郁

责任编辑: 李 丹 李 冬 孙 璘

封面设计: 张 杰

版式设计: 朗鸣设计

法律顾问: 赵亚臣

出 版: 吉林出版集团股份有限公司

发 行: 吉林出版集团青少年书刊发行有限公司

地 址: 吉林省长春市人民大街 4646 号出版大厦

邮政编码: 130021

电 话: 0431-86037607

印 刷: 吉林省金昇印务有限公司

版 次: 2015 年 1 月第 1 版 2016 年 2 月第 3 次印刷

开 本: 787mm × 1092mm 1/16

印 张: 3.5

字 数: 24 千字

书 号: ISBN 978-7-5534-5995-0

定 价: 12.80 元

版权所有 翻印必究



51~100 数的认识

读一读，写一写。

51 51 51 51 51 52 52 52 52 52

53 53 53 53 53 54 54 54 54 54

55 55 55 55 55 56 56 56 56 56

57 57 57 57 57 58 58 58 58 58

59 59 59 59 59 60 60 60 60 60

61 61 61 61 61 62 62 62 62 62

63 63 63 63 63 64 64 64 64 64

65 65 65 65 65 66 66 66 66 66



67 67 67 67 67 68 68 68 68 68

69 69 69 69 69 70 70 70 70 70

71 71 71 71 71 72 72 72 72 72

73 73 73 73 73 74 74 74 74 74

75 75 75 75 75 76 76 76 76 76

77 77 77 77 77 78 78 78 78 78

79 79 79 79 79 80 80 80 80 80

81 81 81 81 81 82 82 82 82 82

83 83 83 83 83 84 84 84 84 84

评分: _____



85 85 85 85 85 86 86 86 86 86

87 87 87 87 87 88 88 88 88 88

89 89 89 89 89 90 90 90 90 90

91 91 91 91 91 92 92 92 92 92

93 93 93 93 93 94 94 94 94 94

95 95 95 95 95 96 96 96 96 96


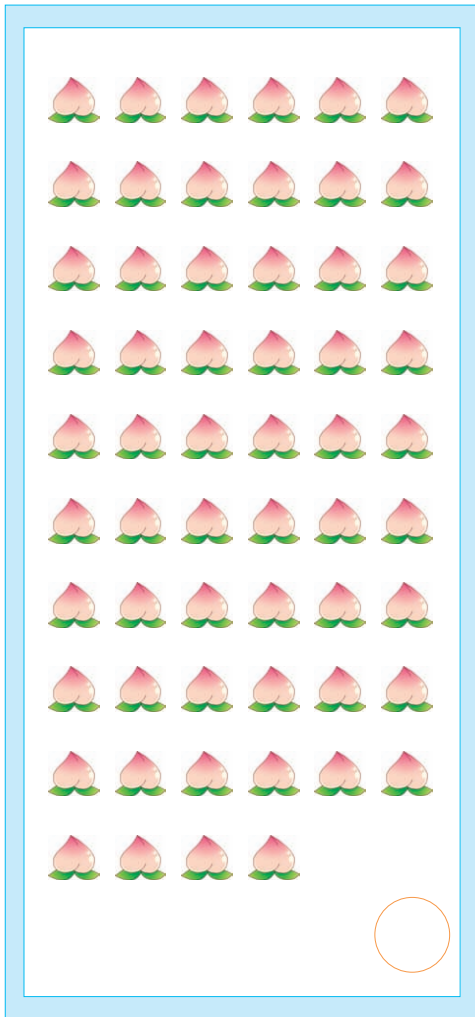
97 97 97 97 97 98 98 98 98 98

99 99 99 99 99 99 99 99 99 99




100 100 100 100 100 100



三、数一数，哪边的水果多？并将数字填在圆圈里。




四、照样子，写一写。







100 以内的不进位加法


一、为下面的算式选择正确的得数，并画上“√”。

 $50 + 1$
 (51) (52) (53) (54)

 $51 + 3$
 (52) (53) (54) (55)




 $53 + 4$
 (54) (55) (56) (57)




 $50 + 5$
 (55) (56) (57) (58)

 $51 + 6$
 (55) (56) (57) (58)




 $50 + 8$
 (57) (58) (59) (60)




二、请你列出算式，并将结果写在括号里。




45 只  $\left. \begin{array}{l} 45 \text{ 只} \\ 11 \text{ 只} \end{array} \right\}$ 共有 () 只 
 11 只 
 算式: _____

42 架  $\left. \begin{array}{l} 42 \text{ 架} \\ 12 \text{ 架} \end{array} \right\}$ 共有 () 架 
 12 架 
 算式: _____

41 个  $\left. \begin{array}{l} 41 \text{ 个} \\ 13 \text{ 个} \end{array} \right\}$ 共有 () 个 
 13 个 
 算式: _____

43 个  $\left. \begin{array}{l} 43 \text{ 个} \\ 12 \text{ 个} \end{array} \right\}$ 共有 () 个 
 12 个 
 算式: _____


41 个  $\left. \begin{array}{l} 41 \text{ 个} \\ 17 \text{ 个} \end{array} \right\}$ 共有 () 个 
 17 个 
 算式: _____

41 个  $\left. \begin{array}{l} 41 \text{ 个} \\ 18 \text{ 个} \end{array} \right\}$ 共有 () 个 
 18 个 
 算式: _____


评分: _____



三、算一算。



60+

1	3	2	6	5	4	7	9	8
<input type="text"/>	<input type="text"/>	<input type="text"/>	<input type="text"/>	<input type="text"/>	<input type="text"/>	<input type="text"/>	<input type="text"/>	<input type="text"/>



31+

21	24	23	22	28	27	26	25	20
<input type="text"/>	<input type="text"/>	<input type="text"/>	<input type="text"/>	<input type="text"/>	<input type="text"/>	<input type="text"/>	<input type="text"/>	<input type="text"/>


四、连一连，帮助小蜜蜂找到自己的花朵。

 23+41


66

 22+43


65

 21+45

64

 22+45

69

 46+22

68

 48+21

67



五、哪个算式的得数与小动物的数字卡片的和相等，请你圈出来。



$60+12$

$60+14$

$60+16$



$50+21$

$50+23$

$50+25$



$42+32$

$42+34$

$42+36$

六、在口里填上适当的数。

<input type="text"/>	+ 0 = 77
<input type="text"/>	+ 10 = 77
<input type="text"/>	+ 20 = 77
<input type="text"/>	+ 30 = 77
<input type="text"/>	+ 40 = 77
<input type="text"/>	+ 50 = 77
<input type="text"/>	+ 60 = 77
<input type="text"/>	+ 70 = 77

<input type="text"/>	+ 10 = 75
<input type="text"/>	+ 11 = 75
<input type="text"/>	+ 21 = 75
<input type="text"/>	+ 31 = 75
<input type="text"/>	+ 41 = 75
<input type="text"/>	+ 51 = 75
<input type="text"/>	+ 61 = 75
<input type="text"/>	+ 71 = 75



评分：_____



七、连一连，帮助青蛙找到自己的蝌蚪宝宝。



$62+21$



87



$64+22$



85



$23+65$



86



$66+21$



83



$23+61$



88



$61+24$



89



$60+29$



84

八、算一算。

$35 + 51 = \square$

$52 + 35 = \square$

$53 + 34 = \square$

$54 + 35 = \square$

$55 + 32 = \square$

$56 + 31 = \square$

$31 + 57 = \square$

$58 + 31 = \square$





九、请把计算的结果填在外面的圆圈里。

$\bigcirc = 15$ $11 = \bigcirc$
 $\bigcirc = 13$ $80 + 14 = \bigcirc$
 $12 = \bigcirc$ $18 = \bigcirc$

$\bigcirc = 25$ $23 = \bigcirc$
 $\bigcirc = 21$ $72 + 26 = \bigcirc$
 $\bigcirc = 22$ $24 = \bigcirc$

十、看图列式计算。

 60 块  31 块
 ? 块

$$\square + \square = \square$$

 61 个  32 个
 ? 个



$$\square + \square = \square$$

 33 个  61 个
 ? 个

$$\square + \square = \square$$

 63 个  34 个
 ? 个

$$\square + \square = \square$$

 35 块  61 块
 ? 块

$$\square + \square = \square$$

 63 个  36 个
 ? 个

$$\square + \square = \square$$

评分: _____



100 以内的进位加法

一、在方框里填上适当的数。

$$49 + 2 = \square$$

$$49 + 4 = \square$$

$$18 + 38 = \square$$

$$49 + 6 = \square$$

$$39 + 15 = \square$$

$$49 + 9 = \square$$

$$39 + 12 = \square$$

$$39 + 13 = \square$$

$$39 + 14 = \square$$

二、请你把计算正确的算式圈出来。

$49+3=52$

$7+48=54$

$18+39=46$

$8+49=57$

$9+49=58$

$16+39=55$

$33+9=52$


$37+17=44$

$5+48=53$







二、看图列式计算。


 55 块 9 块
 {
 ? 块


$$\square + \square = \square$$


 18 个 47 个
 {
 ? 个

$$\square + \square = \square$$


 36 个 26 个
 {
 ? 个

$$\square + \square = \square$$


 37 块 24 块
 {
 ? 块

$$\square + \square = \square$$

三、连一连，帮助小朋友们找到各自想要的礼物。



我想要比我大 13 的礼物。



我想要比我大 19 的礼物。



我想要比我大 15 的礼物。



我想要比我大 16 的礼物。





四、请将算式与正确的得数连线。



$47+28$



$44+27$



$46+26$



$49+25$



$48+28$

76


72

71

74

75

五、完成算式，摘下小旗。

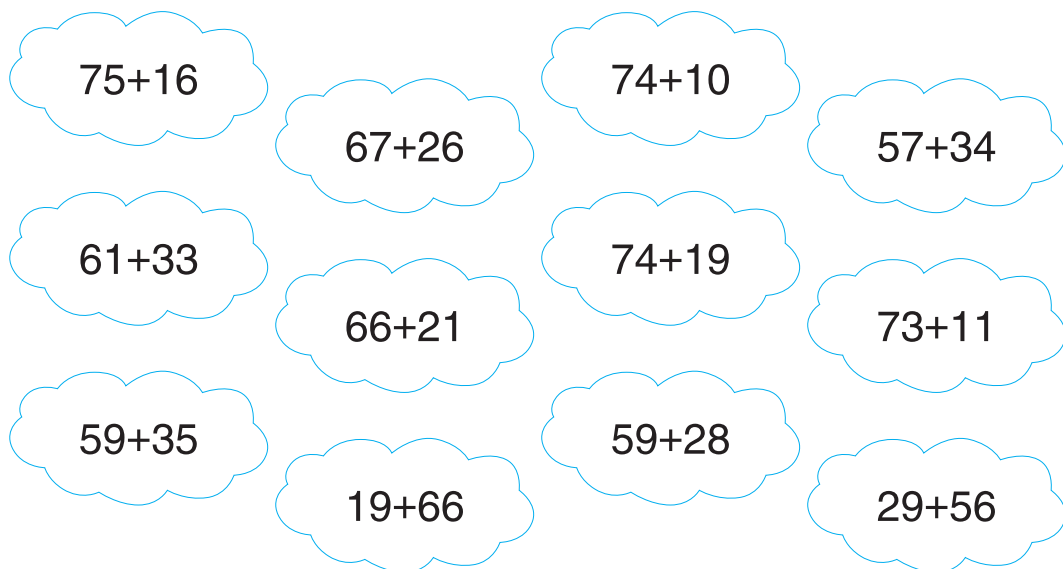
													
						$59+12=$							
						<input type="text"/>							
				$59+13=$		$59+14=$							
				<input type="text"/>		<input type="text"/>							
			$59+15=$		$59+16=$		$59+17=$						
			<input type="text"/>		<input type="text"/>		<input type="text"/>						
		$59+18=$		$59+19=$		$58+13=$		$58+14=$					
		<input type="text"/>		<input type="text"/>		<input type="text"/>		<input type="text"/>					
		$58+15=$		$58+16=$		$58+17=$		$58+18=$		$58+19=$			
		<input type="text"/>		<input type="text"/>		<input type="text"/>		<input type="text"/>		<input type="text"/>			
		$57+14=$		$57+15=$		$57+16=$		$57+17=$		$57+18=$		$57+19=$	
		<input type="text"/>		<input type="text"/>		<input type="text"/>		<input type="text"/>		<input type="text"/>		<input type="text"/>	



六、请将算式与正确的得数连线。



七、请给得数相同的两朵云涂上相同的颜色。



评分: _____