



中公教育

给人改变未来的力量

严格依据山东省选调优秀高校毕业生到村任职考试要求编写

山东省选调优秀高校毕业生 到村任职考试专用教材 全真模拟预测试卷

2014 / 中公版

权威·专业·高效·实用

李永新◎主编

中公教育山东公职考试研究院◎审定

本书看点

实战演练：全面模拟考试现场，快速把握命题规律

权威解析：公考名师审定答案，深入点拨解题思路

快速提分：精准预测考试趋势，轻松攻克重点难点

山东人民出版社

Shandong People's Publishing House

国家一级出版社 全国百佳图书出版单位



中公教育

严格依据山东省选调优秀高校毕业生到村任职考试要求编写

【剑佩代指业厚德行】

山东省选调优秀高校毕业生到村任职考试专用教材

全真模拟预测试卷

- (1) 根据题目要求,在四个选项中选择出一个最佳答案。
- (20) 根据题目要求,在四个选项中选择出一个最佳答案。
- (30) 根据题目要求,在四个选项中选择出一个最佳答案。
- (40) 根据题目要求,在四个选项中选择出一个最佳答案。
- (50) 根据题目要求,在四个选项中选择出一个最佳答案。
- (60) 根据题目要求,在四个选项中选择出一个最佳答案。
- (70) 根据题目要求,在四个选项中选择出一个最佳答案。
- (80) 根据题目要求,在四个选项中选择出一个最佳答案。
- (90) 根据题目要求,在四个选项中选择出一个最佳答案。
- (100) 根据题目要求,在四个选项中选择出一个最佳答案。

李永新 主编

中公教育山东公职考试研究院 审定

山东人民出版社
Shandong People's Publishing House

国家一级出版社 全国百佳图书出版单位

准考证号

姓名

图书在版编目(CIP)数据

全真模拟预测试卷 / 李永新主编. — 济南: 山东

人民出版社, 2013.12

山东省选调优秀高校毕业生到村任职考试专用教材

ISBN 978-7-209-07870-2

I. ①全… II. ①李… III. ①农村-干部工作-中国
-习题集②公务员-招聘-考试-中国-习题集 IV.

①F325.4-44②D630.3-44

中国版本图书馆 CIP 数据核字(2013)第 268206 号

责任编辑: 张 丽

山东省选调优秀高校毕业生到村任职考试专用教材【全真模拟预测试卷】

李永新 主编

山东出版传媒股份有限公司

山东人民出版社出版发行

社 址: 济南市经九路胜利大街 39 号 邮 编: 250001

网 址: <http://www.sd-book.com.cn>

发行部: (0531)82098027 82098028

新华书店经销

三河市宇通印刷装订厂印装

规 格 8 开(260mm×370mm)

印 张 11

字 数 264 千字

版 次 2013 年 12 月第 1 版

印 次 2013 年 12 月第 1 次

ISBN 978-7-209-07870-2

定 价 28.00 元

如有质量或印装问题,请拨打售后服务电话 010-82838515

4.2012年10月24日,国资委主任王勇向十一届全国人大常委会作《国务院关于国有企业改革与发展工作情况的报告》,指出“我国国有企业在市场竞争中发展壮大,上海《财富》世界500强中国国有企业由2003年的6家增至2012年的54家。这主要表明()。

编委会名单

主 编: 李永新

副主编: 张永生 李 琳 刘 彦 王学永 李国斌

云 哲 王 娜 赵金川 葛树明 单堂云

陈 巍

编 委: 刘 伟 刘 斌 杨国平 张丽雨 孙 霖

石 磊 彭华娟 卢 伟 王明旭 罗建萍

康 健 吕春梅 骆 勇 杨月珠 史小号

龚新华 贾文霞 郭世泓 张文府 孙卫星

刘泽东 陶廷廷 高英英 熊莉莉 刘海珊等

中公教育核心研发团队

李永新 中公教育首席研究与辅导专家

毕业于北京大学政府管理学院,具有深厚的公务员考试核心理论专业背景,对中央国家机关和地方各级公务员招录考试有着博大精深的研究,极具丰富的公务员考试实战经验。主持并研发了引领公考领域行业标准的深度辅导教材系列和辅导课程、专项突破辅导教材和辅导课程,帮助无数考生成就了梦想,备受考生推崇,是公考辅导领域行业标准的开创者和引领者。

张永生 中公教育首席研究与辅导专家

中公教育资深专家与顶级辅导教师,多年来潜心致力于公务员考试的教学研究,参与编写了中央国家机关及地方各级公务员录用考试深度辅导教材,教学中认真负责,因材施教,实现了考生的高通过率,成为深受考生信赖的实力派讲师。

李琳 中公教育首席研究与辅导专家

中公教育研发团队核心成员,对行政职业能力测验有着系统深入的研究,对公务员考试命题趋势把握极其准确。在授课过程中,兼顾解题方法、技巧的传授和学员基础能力的提升,帮助无数考生在短期内大幅提升了考试成绩,于众多竞争者中脱颖而出。

刘彦 中公教育首席研究与辅导专家

毕业于北京大学物理学院,于多年执教生涯中积累了丰富的教学经验,对行政职业能力测验及面试辅导具备颇深的造诣,擅长用简单方法解决复杂的问题,授课幽默生动,备受学员推崇和欢迎。

张成 中公教育首席研究与辅导专家

国内最优秀的公务员考试申论研究专家,曾在政府机关文字综合部门任职十余年,在多家媒体发表百余篇、近20万字的评论性、介绍性文章,在结合多年工作经验的基础上,对申论进行了极其深入、全面、系统的研究,其成果代表了业界最前沿的研发水平。

邓湘树 中公教育首席研究与辅导专家

北京大学政府管理学博士,曾在组织部门工作多年,熟悉公务员考试录用工作,对中央国家机关和各省公务员考试有着博大精深的研究,具有丰富的公务员考试经验。辅导课程思路清晰,条理清楚,深入浅出,幽默生动,深受广大学员欢迎。

李国斌 中公教育首席研究与辅导专家

曾多年从事高等教育数学教学工作,对行政职业能力测验科目有系统深入的研究,尤为擅长判断推理部分,教学经验丰富,授课思路严谨,语言生动幽默。其对面试教学的研究,同样取得了令人瞩目的成果。

王学永 中公教育首席研究与辅导专家

北京大学政府管理学院公共管理硕士,理论基础扎实,对判断推理部分有深入的研究,具备丰富的辅导经验,在理论与实战完美结合的基础上,形成了业界最前沿的研发成果,有助于学员迅速提高成绩,受到各地学员的欢迎和认可。

张红军 中公教育首席研究与辅导专家

北京大学政府管理学院博士,具有深厚的公务员考试核心理论专业背景,对中央国家机关和地方公务员考试有深入的研究,讲授深刻、系统、精彩,深受考生欢迎。

张晗 中公教育资深研究与辅导专家

北京大学政府管理学院毕业,美国哥伦比亚大学政治科学硕士,具有深厚的公务员考试核心理论专业背景,从教多年来积累了丰富的教学经验,授课深入浅出,语言幽默生动,备受学员欢迎。

中公教育研发团队其他成员介绍详见:sd.offcn.com

目录

【行政职业能力测验】

山东省选调优秀高校毕业生到村任职考试《行政职业能力测验(含综合知识)》全真模拟预测试卷(一)	(1)
《行政职业能力测验(含综合知识)》全真模拟预测试卷(一)参考答案与解析	(120)
山东省选调优秀高校毕业生到村任职考试《行政职业能力测验(含综合知识)》全真模拟预测试卷(二)	(15)
《行政职业能力测验(含综合知识)》全真模拟预测试卷(二)参考答案与解析	(127)
山东省选调优秀高校毕业生到村任职考试《行政职业能力测验(含综合知识)》全真模拟预测试卷(三)	(28)
《行政职业能力测验(含综合知识)》全真模拟预测试卷(三)参考答案与解析	(133)
山东省选调优秀高校毕业生到村任职考试《行政职业能力测验(含综合知识)》全真模拟预测试卷(四)	(42)
《行政职业能力测验(含综合知识)》全真模拟预测试卷(四)参考答案与解析	(139)
山东省选调优秀高校毕业生到村任职考试《行政职业能力测验(含综合知识)》全真模拟预测试卷(五)	(56)
《行政职业能力测验(含综合知识)》全真模拟预测试卷(五)参考答案与解析	(146)
山东省选调优秀高校毕业生到村任职考试《行政职业能力测验(含综合知识)》全真模拟预测试卷(六)	(70)
《行政职业能力测验(含综合知识)》全真模拟预测试卷(六)参考答案与解析	(153)

【申论】

山东省选调优秀高校毕业生到村任职考试《申论》全真模拟预测试卷(一)	(84)
《申论》全真模拟预测试卷(一)参考答案	(160)
山东省选调优秀高校毕业生到村任职考试《申论》全真模拟预测试卷(二)	(91)
《申论》全真模拟预测试卷(二)参考答案	(162)
山东省选调优秀高校毕业生到村任职考试《申论》全真模拟预测试卷(三)	(97)
《申论》全真模拟预测试卷(三)参考答案	(164)
山东省选调优秀高校毕业生到村任职考试《申论》全真模拟预测试卷(四)	(103)
《申论》全真模拟预测试卷(四)参考答案	(166)
山东省选调优秀高校毕业生到村任职考试《申论》全真模拟预测试卷(五)	(108)
《申论》全真模拟预测试卷(五)参考答案	(168)
山东省选调优秀高校毕业生到村任职考试《申论》全真模拟预测试卷(六)	(114)
《申论》全真模拟预测试卷(六)参考答案	(170)

山东省选调优秀高校毕业生到村任职考试 《行政职业能力测验(含综合知识)》全真模拟预测试卷(一)

注意事项

- 1.本测验分为五个部分,共 80 小题。总时限为 90 分钟。各部分不分别计时,但都给出了参考时限,供你参考以分配时间。
- 2.将姓名与准考证号在指定位置上用黑色字迹的钢笔、签字笔和圆珠笔填写,并用 2B 铅笔在准考证号对应的数字上填涂。
- 3.请将题本上的条形码揭下,贴在答题卡指定位置。
没有贴条形码的答题卡将按废卡处理,成绩计为零分。
- 4.题目应在答题卡上答题,在题本上作答一律无效。
- 5.监考老师宣布考试开始后,方可答题。
- 6.监考老师宣布考试结束时,应立即停止答题。将题本、答题卡、草稿纸都翻过来放在桌上,待监考老师确认数量无误,允许离开后,方可离开考场。
- 7.试题答错不倒扣分。
- 8.严禁折叠答题卡!

第一部分 综合知识

(共 30 题,参考时限 30 分钟)

根据题目要求,在四个选项中选出一个最恰当的答案。

请开始答题:

- 1.为指导和推动循环经济加快发展,实现“十二五”规划纲要提出的资源产出率提高 15% 的目标,我国编制了《循环经济发展战略及近期行动计划》,对发展循环经济作出了战略规划。下列关于循环经济的表述,错误的是()。
 - A.遵循“减量化、再利用、资源化”的原则
 - B.发展循环经济有利于推进资源节约型、环境友好型社会建设,提高生态文明水平
 - C.它是符合可持续发展理念的经济增长模式,是对“先污染、后治理”的传统模式的根本变革
 - D.我国的“退田还湖”“退耕还林”“退牧还草”等生态系统建设遵循了循环经济发展理念
- 2.按劳分配是社会主义的分配原则,它体现着()分配领域中社会主义性质的分配关系。
 - A.全国生产资料
 - B.个人消费品
 - C.全部社会产品
 - D.全部劳动产品
- 3.总供给问题可以归结为()。
 - A.生产问题
 - B.投资问题
 - C.就业问题
 - D.消费问题

4.2012年10月24日,国资委主任王勇向十一届全国人大常委会作《国务院关于国有企业改革与发展工作情况的报告》时说,国有资本更多地向关系国民经济命脉和国家安全行业和领域集中;一批国有企业在竞争中发展壮大,上榜《财富》世界500强的国有企业由2003年的6家增至2012年的54家。这主要表明()。

- A.非公有制经济的国有化进程加快了
- B.国有经济在国民经济中的比重越高越好
- C.国有经济的竞争力在不断提高
- D.国有经济的布局已经实现了优化

5.哲学的党性是指()。

- A.哲学的阶级性,在阶级社会为一定阶级服务
- B.唯物主义和唯心主义的根本对立和斗争
- C.辩证法和形而上学的根本对立和斗争
- D.可知论同不可知论的对立和斗争

6.发展循环经济,是落实党的十八大推进生态文明建设战略部署的重大举措,是加快转变经济发展方式,建设资源节约型、环境友好型社会,实现可持续发展的必然选择。为此我国制定了相应的发展目标以指导循环经济的发展。下列关于发展目标的说法,表述有误的是()。

- A.循环型生产方式广泛推行,绿色消费模式普及推广
- B.覆盖全社会的资源循环利用体系初步建立
- C.资源产出率大幅提高,可持续发展能力显著增强
- D.主要资源产出率比“十一五”末提高10%,资源循环利用产业总产值达到1.8万亿元

7.下列自然科学中受到中世纪神学束缚最大的科学是()。

- A.化学
- B.生物学
- C.物理学
- D.数学

8.科学发展观是按照“统筹城乡发展、统筹区域发展、统筹()发展、统筹人与自然和谐发展、统筹国内发展和对外开放”的要求推进各项事业的改革和发展的一种方法论,是中国共产党的重大战略思想。

- A.政治社会
- B.经济社会
- C.文化社会
- D.精神社会

9.只有主权国家参加的国际组织是()。

- A.联合国、世界贸易组织
- B.联合国、世界卫生组织
- C.联合国、国际红十字会
- D.国际奥委会、亚太经合组织

10.“十二五”时期,必须坚持把解决好农业、农村、农民问题作为全党工作重中之重,统筹城乡发展,坚持()方针,加大强农惠农力度,夯实农业农村发展基础。

- A.农村土地承包经营不变
- B.工业反哺农业、城市支持农村和多予少取放活
- C.城镇化
- D.巩固农业基础地位、调整工业结构和加快基础设施建设

11.下列不属于我国社会保障制度中社会救助范畴的是()。

- A.自然灾害救助
- B.司法救助

- C.失业救助 D.孤寡病残救助
- 12.解决我国民族问题的基本原则是()。
- A.在少数民族聚居的地方实行民族区域自治
B.维护祖国统一,坚持民族平等、互助、团结、合作和各民族的共同繁荣
C.保护和发 展民族语言文字,尊重各民族的风俗习惯
D.尊重和保 护各民族的宗教信仰自由
- 13.教育、科技和(),是国家强盛、民族振兴的基石,也是综合国力的核心。
- A.国防 B.对外贸易 C.农业 D.人才
- 14.我国不仅是资源大国,而且是人口大国,按最新统计,我国各种矿产品人均占有量从世界水平看()。
- A.达到了世界平均水平 B.超过了世界平均水平
C.不到世界平均水平一半 D.是世界平均水平的一半
- 15.“三个主体,三个补充”的思想是由()提出来的。
- A.毛泽东 B.周恩来 C.邓小平 D.陈云
- 16.建立归属清晰、权能完整、流转顺畅、保护严格的农村集体产权制度,是激发农业农村发展活力的()。
- A.首要任务 B.发展趋势 C.内在要求 D.基本原则
- 17.我国推进现代农业建设的核心和基础是()。
- A.农村土地承包关系 B.农户集约经营水平
C.农业生产经营组织创新 D.新型农民合作组织
- 18.加快城镇化进程要促进大中小城市和小城镇的协调发展,特别是要重视小城镇的发展。从转移农村人口的目标出发,大中城市的生活成本和就业成本远远高于小城镇。发展小城镇的意义是()。
- ①有利于农民增收致富 ②有利于促进经济结构调整
③有利于农民脱贫致富 ④有利于促进农业的发展
- A.①②③ B.①③④ C.②③④ D.①②③④
- 19.新时期党中央对统筹城乡发展提出的新要求为:建立()长效机制,形成城乡经济社会发展一体化新格局。
- A.以工促农、以城带乡 B.工农互促、城乡共进
C.工业反哺农业、城市支持农村 D.新型城镇化
- 20.强化农业社会化服务是发展现代农业的重要举措。我们要进一步建立完善农技推广、动植物疫病防控和农产品质量监管“三位一体”的()两级农业公共服务体系。
- A.乡镇 B.县乡 C.市县 D.镇村
- 21.中国共产党如此重视推进农村改革发展问题,从经济学上体现了()。
- A.实践“三个代表”重要思想,代表人民群众的根本利益
B.社会主义本质要求,注重社会公平
C.坚决惩治党内的腐败现象,加强作风建设
D.保证人民群众共享改革发展的成果,直接参与国家事务的管理
- 22.下列依次与蒙古族、回族、藏族、维吾尔族、壮族有关的是()。

A.酥油茶、馓子、青稞酒、饕、萨其马

B.马头琴、冬不拉、铜钦、葫芦丝、芦笙

C.那达慕大会、开斋节、雪顿节、古尔邦节、泼水节

D.《嘎达梅林》《穆斯林的葬礼》《格萨尔王传》《阿凡提的故事》《刘三姐》

23.管理学中的“木桶原理”指的是在管理工作中要注意()。

A.灵活性

B.原则性

C.程序性

D.整体性

24.根据《宪法》和《物权法》，下列自然资源中不专属于国家所有的财产是()。

A.矿藏

B.土地

C.水流

D.海洋

25.依据我国特别行政区基本法，下列哪个选项的表述是正确的?()

A.特别行政区的立法不需要报全国人大常委会批准

B.不服特别行政区法院的判决，可以上诉至我国最高人民法院

C.特别行政区可以自主决定外交、经济、财政等事项

D.全国人大常委会可授权特别行政区依照基本法自行处理有关对外事务

26.下列哪一项不属于宪法规定的公民的基本权利?()

A.环境权

B.平等权

C.出版自由

D.受教育权

27.行政诉讼中，人民法院审理行政案件，可以参照()。

A.法律

B.行政法规

C.地方性法规

D.规章

28.历史学家们认为：“17世纪后期科学革命的胜利为启蒙运动提供了先决条件。”据此判断，启蒙运动在科学思想方面最重要的先驱者是()。

A.达尔文

B.牛顿

C.拉瓦锡

D.法拉第

29.下列关于我国近代前期科技的叙述，不正确的是()。

A.洋务运动引进的是第一次工业革命的成果

B.《海国图志》中有关西方近代科技的介绍

C.1909年中国人自行设计和施工的第一条铁路全线通车

D.李善兰和徐寿合作试制出我国第一艘木质蒸汽轮船，标志着我国近代造船业迈出了第一步

30.批复是答复下级请示的文件，是()。

A.被动发文

B.主动发文

C.是对报告的批件

D.下级没有请示，用来指导工作的

第二部分 言语理解与表达

(共15题，参考时限15分钟)

本部分包括表达与理解两方面的内容。请根据题目要求，在四个选项中选出一个最恰当的答案。

请开始答题：

31.在中国，从来没有一条河被寄托了这么多的感情，黄河在被尊为“母亲”时，也被赋予了

太多的历史_____。黄河流经晋陕峡谷到达吉县境内,水面一下子从400多米宽收缩为50余米,《书·禹贡》中只用八个字:“盖河漩涡,如一壶然。”壶口瀑布的_____跃然纸上。

填入画横线部分最恰当的一项是()。

- A.任务 现象
- B.使命 形象
- C.责任 特点
- D.使命 景象

32.有许多好书的价值只限于某一特定历史时期,它们没有展示出那种_____的吸引力,这种吸引力来源于用各个时代、各个地区的人都能理解的方式来讨论各时代、各地区的人都要_____的问题。

填入画横线部分最恰当的一项是()。

- A.一如既往 解决
- B.历久弥新 考察
- C.一倡百和 思考
- D.经久不衰 面对

33.书是作者思想表达的重要载体和有效形式,我们在阅读的时候,要_____作者的原意,大不可_____,也不能妄加猜测,将自己的意志强加于作者之上,把自己的价值观带入阅读之中,而是要设身处地地站在作者的角度去了解作者想要表达的意思。

填入画横线部分最恰当的一项是()。

- A.体会 寻章摘句
- B.尊重 断章取义
- C.揣摩 生吞活剥
- D.挖掘 牵强附会

34.这一系列因素最终可能引发全局性的金融风险。更重大的代价是在未来数十年中,国家的信用等级在国际社会中将大大下降,这方面有墨西哥的_____为证。

填入画横线部分最恰当的一项是()。

- A.他山之石
- B.前车之鉴
- C.囊中珍灿
- D.重蹈覆辙

35.为了研究和预报空间天气灾变规律,_____或减轻灾害性空间天气可能给人类活动带来的灾害和损失,一门把空间天气的监测、研究、模式、预报、效应、信息传输与处理以及对人类活动的影响加以综合而成的新学科_____。

填入画横线部分最恰当的一项是()。

- A.消除 水到渠成
- B.消除 脱颖而出
- C.避免 浮出水面
- D.避免 应运而生

36.下列句子中,标点符号使用正确的一项是()。

- A.我们班的同学来自全国各地,有山东的、浙江的、黑龙江的、贵州的……等。
- B.为支援灾区,全国各地为玉树灾区送去了帐篷、食物、药品、与一些恢复重建需要的其他物资。
- C.这次出去旅游,你打算去北京游长城呢?还是去上海看世博会?
- D.佛典里有一句话:“福不唐捐。”唐捐就是白白地丢了。我们也应该说:“功不唐捐!”没有一点努力是会白白地丢了的。

37.下列句子中,加点的词语使用不恰当的是()。

- A.离投票的日子越来越近了,虚虚实实,真真假假,凡是有损施瓦辛格形象的陈芝麻烂谷子都被翻出来了。
- B.还想让你爸爸保你过关吗?老实告诉你吧,他已是泥菩萨过河——自身难保了,谁也救

不了你!

C.不久前,王刚又杀回马枪,再返某电视台主持节目,舍“动物”而去找“朋友”,又迅速吸引了不少观众的眼球。

D.就你摊的那些活儿,我三下五除二就可以把它弄清楚,谁像你,几天也拿不下来。

38.下列各句中有语病的一句是()。

A.一项新的研究成果显示,动物不但具有独特的性格,而且性格相当复杂,它们性格的复杂性甚至能够与人类的相媲美。

B.进入21世纪,随着经济全球化进程的加快和知识经济的深入发展,国与国之间的竞争越来越集中到知识和人才方面。

C.电视的普及,在给现代人带来丰富多彩的视听艺术的同时,也悄然改变着人们在印刷媒介时代所形成的审美趣味和欣赏习惯。

D.生物入侵就是指那些本来不属于某一生态系统,但通过某种方式被引入到这一生态系统,然后定居、扩散、暴发危害的物种。

39.“刻板成见”是指人们对特定的事物所持的固定化、简单化的观念和印象。媒体在报道时对当事人身份的过分突出,很有可能会强化公众对这种身份的认识,使之刻板化,并自觉不自觉地以身份来判断某些人的品行,这很容易在公众的人际交往中制造误解,甚至人为地在不同身份的人中制造对立情绪。比如,普通公众中一些人对“富二代”的反感很难说与媒体的报道没有关系。

这段文字意在说明()。

A.媒体对公众身份的过分突出淡化了作为个体的人的丰富性

B.媒体在报道中应就事论事,不要过分强调新闻当事人的身份

C.“刻板成见”不利于公众对新闻进行更准确的判断和思考

D.在新闻报道中,应强调要微观真实和宏观真实相结合

40.回避制度是我国传统任官制度的重要特点,此制始于东汉,后为历代沿袭,至清已形成一种非常重要的人事管理制度,其目的是防止官员因某些关系徇情营私。清代回避制度主要有籍贯回避、亲属回避、师生回避。清代任官的回避制度,规则繁密,超过往代,在嘉道之前执行尤为严格,在防止官员利用亲缘、乡土、师生关系为亲戚、好友、学生营私舞弊方面,起到了重要作用。知县异地为官,客观上遏制了知县原来各种盘根错节的关系,既保护了知县行事的独立性,又减少了任官勾结营私的风险性。

对这段文字理解准确的是()。

A.在我国传统任官制度中,回避制度规则严密、执行严格

B.知县异地为官是清代回避制度中效果最好的一种回避方式

C.回避制度的发展在清代达到了顶峰,效果明显

D.回避制度所起的作用是防止官员因某些关系徇情营私

41.企业是社会的细胞,社会是企业利益的源泉。企业作为社会的重要组成部分,同样是“国家公民”之一,它有追求自身经济利益最大化的权利,又承担着“积善扬德、助困扶弱”的社会责任。企业竞争力在很大程度上依赖于企业竞争环境,企业慈善行为则可以博得更多的社会认同和影响,能增强企业的竞争力。一个有社会责任感的企业,消费者对其产品也就更加信赖。因此,成功的企业既要做好自己的商业品牌,也要树立企业的社会公民品牌。

这段文字的主要内容是()。

- A.高度的社会责任感是一个成功企业的必要条件
- B.企业慈善行为能够增强企业的市场竞争力
- C.成功的企业要做好商业与社会公民两个品牌
- D.做慈善既是企业的社会责任,也是企业发展的需要

42.社会冲突扮演了一个激发器的角色,它激发了新规范、规则和制度的建立,从而充当了促使敌对双方社会化的代理人。此外,冲突重新肯定了潜伏着的规范,从而强化了对社会生活的参与。作为规范改进和形成的激发器,冲突使得调整已经发生变化了的社会关系成为可能。但是,社会冲突是否有利于内部适应,取决于是在什么样的问题上发生冲突,以及冲突发生的社会结构。

这段文字主要说明()。

- A.社会冲突有助于社会整合
- B.社会冲突的整合功能是需要条件的
- C.社会冲突是社会化不充分的表现
- D.社会冲突是参与社会生活的方式之一

43.用刑罚同一切犯罪行为作斗争,保卫国家安全,保卫人民民主专政的政权和社会主义制度,保护国有财产和劳动群众集体所有的财产,保护公民私人所有的财产,保护公民的人身权利、民主权利和其他权利,维护社会秩序、经济秩序,保障社会主义建设事业的顺利进行,是我国刑法的任务。

对这段话的理解正确的是()。

- A.我国刑法的目的是打击违法犯罪行为
- B.我国刑法的目的是维护国家和人民的权利
- C.只有刑法才能够保障社会主义建设事业顺利进行
- D.刑法不保障犯罪分子的权利

44.《毛诗序》说:“情动于中而形于言,言之不足,故嗟叹之,嗟叹之不足,故咏歌之,咏歌之不足,不知手之舞之,足之蹈之也。”这说明人在非常激动、内心情感用语言以致唱歌都难以充分表达的时候,会情不自禁地通过手舞足蹈来抒发。舞蹈表达感情的特点是形神结合,以感情引起体动,以体动表达感情,给人以生动的直观形象。

这段文字意在说明()。

- A.舞蹈是内心情感的直观形象表现
- B.舞蹈是情感表现的最高境界
- C.舞蹈的艺术魅力在于能更好地表达内心情感
- D.舞蹈的灵魂源自内心情感

45.有一些老东西虽粗糙,却有非凡的价值。特别是食物,愈粗糙愈有益健康,像糙米胜过白米、黑麦面包胜过白面包、天然食物胜过加工食品。我们不断地把食物做得精致,事实上是在为自己制造祸害。在“过度加工”与“过度精制”的时代,使我们产生了巨大的盲点,并把这些盲点传给下一代,误以为加工与精制是好的,那些传统的、天然的事物反而被舍弃了。

这段话主要支持了这样一种观点,即()。

- A.越是粗糙的食物对身体健康越有裨益

B.返璞归真是重要的养生之道

C.“过度加工”时代,人们陷入“精即是好”的误区

D.精制未必是好的,传统和天然的可能更有价值

第三部分 数量关系

(共 10 题,参考时限 15 分钟)

一、数字推理。给你一个数列。但其中缺少一项。要求你仔细观察数列的排列规律,从四个选项中,选择最合适的一项。使之符合原数列的排列规律。

请开始答题:

46. -3, 3, 25, 127, 341, ()

A.627 B.717 C.731 D.1022

47. 8, 16, 43, 107, 232, ()

A.448 B.472 C.511 D.566

48. 24, 27, 41, 68, 112, ()

A.147 B.166 C.175 D.198

49. 1, 5, 21, 99, 351, ()

A.729 B.991 C.1377 D.1521

50. 243, -9, 234, -18, (), -36, 180

A.225 B.216 C.207 D.198

二、数学运算。在这部分试题中,每道题呈现一段表述数字关系的文字,要求你迅速、准确地计算出答案。

请开始答题:

51.有 16 个盒子,里面放了 27 个小球,每个盒子放了 1 个、2 个或者 3 个小球,其中放 1 个小球的盒子数与放 2 个和 3 个小球的盒子总数一样多,问放 2 个小球的盒子有多少个? ()

A.3 B.4 C.5 D.6

52.15 辆车组成一列车队以速度 v 经过主席台,已知主席台长度为 L ,车长为 S ,每辆车之间的距离为车长的 15 倍,请问这列车队经过主席台需要多少时间? ()

A. $\frac{225S+L}{v}$ B. $\frac{240S+L}{v}$ C. $\frac{225S+2L}{v}$ D. $\frac{210S+2L}{v}$

53.五对夫妇排坐一长桌,要求夫妇相邻而坐,且同性别的相间而坐,问有多少种坐法? ()

A.24 B.120 C.240 D.14400

54.现有 30ml 和 40ml 的试管各一个,纯净水和纯酒精各 2000ml。现在需要在大烧杯里配置某种酒精溶液 150ml,其中酒精和水的体积比为 1:2。若倒进或者倒出溶液都算一次操作,则最少需要多少次操作才能满足要求? ()

A.10 B.11 C.12 D.13

55.有 A、B、C 三支球队进行循环赛,每两队之间各赛一场,胜一场得 3 分,平一场得 1 分,

负一场得0分。已知A队总进球数为0,平了1场;B队净胜球数为-2,胜了一场。则C队得了()分。

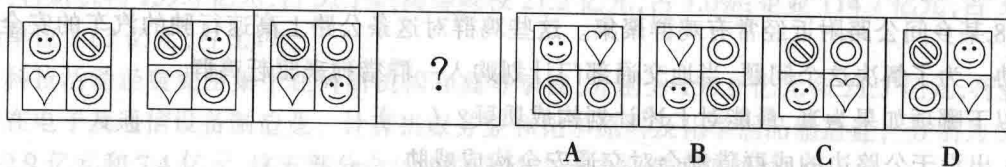
A.0 B.1 C.4 D.6

第四部分 判断推理

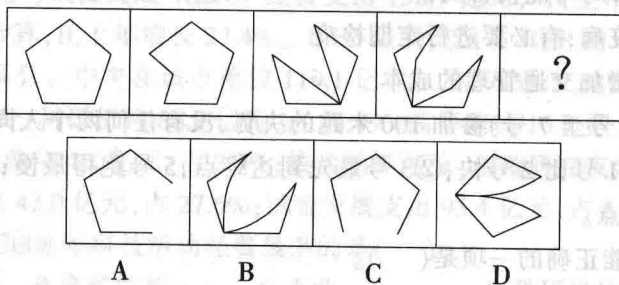
(共 15 题,参考时限 15 分钟)

一、图形推理。请按每道题的答题要求作答。

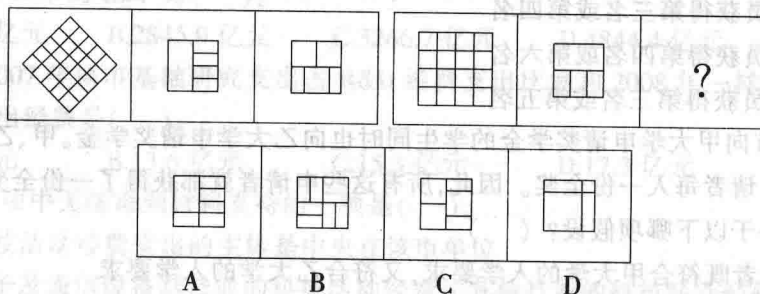
56.从所给的四个选项中,选择最合适的一个填入问号处,使之呈现一定的规律性。



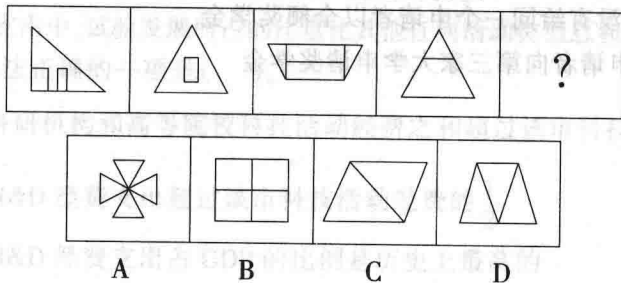
57.从所给的四个选项中,选择最合适的一个填入问号处,使之呈现一定的规律性。



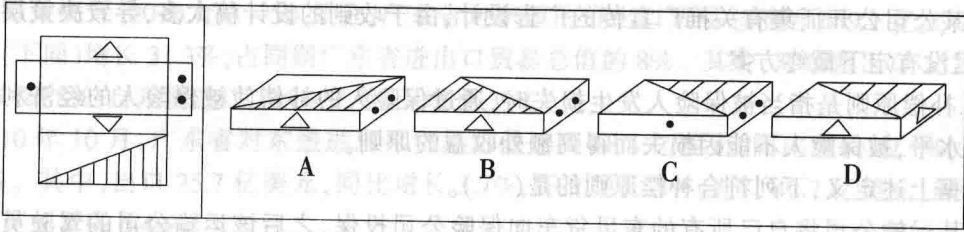
58.从所给的四个选项中,选择最合适的一个填入问号处,使之呈现一定的规律性。



59.从所给的四个选项中,选择最合适的一个填入问号处,使之呈现一定的规律性。



60. 左边给定的是纸盒的外表面, 右边哪一项能由它折叠而成?



二、定义判断。每道题先给出定义, 然后列出四种情况, 要求你严格依据定义, 从中选出一个最符合或最不符合该定义的答案。注意: 假设这个定义是正确的、不容置疑的。

61. 市场细分是指营销者通过市场调研, 依据消费者的需要和欲望、购买行为和购买习惯等方面的差异, 把某一产品的市场整体划分为若干消费者群的市场分类过程。每一个消费者群就是一个细分市场, 每一个细分市场都是具有类似需求倾向的消费者构成的群体。

根据上述定义, 下列选项与市场细分无关的是()。

A. 某航空公司就把力量集中在开拓那些对乘机持肯定态度, 只是还没有乘过飞机的高收入群体

B. 米勒啤酒公司通过调查决定把目标市场定在重度饮用者身上, 并果断决定对米勒的“海雷夫”牌啤酒进行重新定位

C. 一家建筑公司可以提供设计各种不同类型的大厦, 在短短几年内承接了国内外很多大厦, 如疗养院、体育场、写字楼、厂房、监狱或是大学生宿舍等

D. 网络销售商把客户的名字、前景以及其他很多信息输入数据仓库中, 营销人员在数据仓库中进行数据挖掘后将特定的市场供给品提供给潜在客户

62. 詹森效应: 是指那种平时表现良好, 但由于缺乏应有的心理素质而导致竞技场上失败的现象。詹森效应就是人的一种浅层的心理疾病, 就是将现有的困境无限放大的心理异常现象。

根据上述定义, 下列属于詹森效应的一项是()。

A. 张明在班里学习一直都是名列前茅, 但是在高考时患了感冒, 影响了水平的发挥, 导致高考失利

B. 小亮是一名网球运动员, 日常训练时就成绩平平, 特别是比赛时遇到的对手实力比较强, 心里难免紧张, 最终还是败下阵来

C. 后羿是夏朝著名的神箭手, 练就了一身百步穿杨的好本领, 几乎从来没有失过手。但是夏王想领略他那炉火纯青的射技时, 结果却大失水准

D. 李涛作为上届大运会跳远冠军, 实力是公认的, 但是在这次大运会赛场上由于旧伤发作, 不得以退出了比赛, 令人惋惜不已

63. 决策瘫痪: 微博之类的“碎片化信息”正在彻底改变我们的生活。但是, 意想不到的结果是, 在必须做出决定时, 我们超载的大脑在“信息洪流”的冲击下已经变得麻木, 面临大脑决策的瘫痪。

根据上述定义, 以下属于决策瘫痪的是()。

A. 某上市公司的董事会形同虚设, 各股东基本不参与具体决策, 都是由高管人员完成

B. 微博正在悄悄改变人们的日常生活, 一个人的小小提议能引来一帮拥护者

C.人所拥有的知识就像一个圆,圆内是已知的知识,已知的越多,就会发现未知的越多

D.某公司公开征集有关推广宣传的广告设计,由于收到的设计稿太多,导致决策层无法取舍,迟迟没有定下最终方案

64.补偿原则是指当被保险人发生损失时,通过保险人的补偿使被保险人的经济利益恢复到原来水平,被保险人不能因损失而得到额外收益的原则。

根据上述定义,下列符合补偿原则的是()。

A.某运输公司将自己所有的东风货车向保险公司投保,之后该运输公司的驾驶员王某在送货过程中发生交通事故,并造成廖某受伤,运输公司向保险公司要求赔付廖某的全部医疗费,随后廖某又向自己投保的公司申请医疗赔偿

B.赵某向保险公司购买了人身意外险后,赵某发生车祸,送医治疗花费8万余元,客运公司赔偿了全部的医疗费,随后赵某仍向保险公司要求赔偿,保险公司根据条款赔付赵某1.2万元

C.刘某为自己投保了医疗费用报销保险,由于生病住院花去医疗费用5000元,刘某通过社会医疗保险已经报销了2600元,随后刘某又向保险公司申请报销全部医疗费用5000元,保险公司赔付刘某2400元

D.吴某为自己投保了20万元的人寿保险,受益人为其妻孙某,不久后,吴某在一场车祸中不幸意外身故,保险公司根据规定赔付给孙某20万元

65.乘人之危,是指行为人利用对方当事人的急迫需要或危难处境,迫使其作出违背本意而接受对其非常不利的条件的意思表示。

根据上述定义,下列情形中不属于乘人之危的是()。

A.张某家境困难,母亲病重无钱救治,向宫某借款,宫某便以年息100%为条件,张某无奈被迫允诺

B.某厂厂长得知助手陈某家人遇到困难,需要大笔钱款,该厂长便倾力相助,拿出自己的积蓄帮助陈某家人渡过了难关,对陈某说日后要加倍努力工作

C.崔某为国家公务员,在一次公务中身遭陷害而被关押,唯一证人要求其以付巨款和透露国家秘密为交换条件

D.倪某父亲病重,向吴某借款,吴某便要倪某以嫁给他作为交换条件

三、逻辑判断。每道题给出一段陈述,这段陈述被假设是正确的、不容置疑的。要求你根据这段陈述,选择一个答案。注意:正确的答案应与所给的陈述相符合,不需要任何附加说明即可以从陈述中直接推出。

66.德国一水族馆的章鱼保罗在本届世界杯期间名声大噪,它通过选择国旗,准确预测了8场比赛的胜负,被称为“章鱼帝”。以至有这样的说法:人算不如天算,贝利(球王)不如海鲜(章鱼)。

下面各项都构成对章鱼保罗预测能力的质疑,除了()。

A.章鱼是一种极其聪明的海洋动物,有相当发达的大脑,还是逃生高手

B.在2008年欧洲杯决赛前,章鱼保罗预测德国队胜出,结果却是西班牙队赢得冠军

C.在西班牙队与荷兰队决赛前,章鱼保罗选择的西班牙国旗图案类似于它爱吃的食物:三条大虾加一只螃蟹

D.在德国队和加纳队比赛前,章鱼保罗预测德国队获胜,因为加纳国旗上有一颗五星让章