

1992年

全国高考地理模拟试题及答案精选

附 1990、1991 年高考试题及答案



中国广播电视出版社

1992年全国高考
地理模拟试题及答案精选
附1990、1991年高考试题及答案

马进福 李冬玉 张万钟 编
梁学萍 赵印庆

中国广播电视出版社

(京)新登字097号

1992年全国高考

地理模拟试题及答案精选

附1990、1991年高考试题及答案

马进福 李冬玉 张万钟 编
梁学萍 赵印庆

中国广播电视出版社出版

(北京复外广播电影电视部灰楼 邮政编码 100866)

陕西省印刷厂印刷

新华书店经销

787×1092毫米 32开本 6印张 120(千)字

1992年1月第1版 1992年1月第1次印刷

印数: 1—23000册 定价: 2.60元

ISBN 7-5043-1623-7/G·590

卷高国全半2001

微南家普文殿为思野野世

集卷五第 高考丛书编委 2001年

常 涌
畅 新
张引科
马 平

叶 达
吴文会
陆 虎
马进福

高 王 澎
五 章 荣
第 何 满 仓
二 贾 青

转理出册由器飞制中

出版说明

本丛书汇集的模拟题，有的出自近年来升学率较高的重点中学毕业把关教师之手，有的是连续几年高、中考单科成绩十分突出的任课教师精心设计。

模拟题编写者对新教学大纲理解透彻，对近年高、中考命题出现频率较高的知识点抓得准，并且密切注视现代标准化命题的发展趋向，因而提供的优质试题，凝聚着他们多年指导考生获得成功的心血，档次高，题型新，内容精，思路活，难易适度，具有一定的预见性。

在此基础上，我们又约请普教研机构中的专家、命题研究人员和参与多种考试命题的高校教师，对数十套模拟题反复审核、筛选、修正或重新设计，使得最终成书的模拟试题，显示出整体的精萃性、系统性和严谨性。可以说，各科数套侧重不同、角度多样的模拟题，覆盖了该学科所有的命题热点。

1992年大考即将来临，两套模拟试题丛书，对于广大考生从宏观上了解考试动态、掌握最新命题信息、检测标准化命题应试能力、发现复习的疏漏、开启解题思路、以及更有效地利用最后的关键时间，进行目的明确的突击等，无疑具有十分及时的导向作用。

目 录

高考地理模拟试题 (一)	(1)
参考答案 (一)	(18)
高考地理模拟试题 (二)	(22)
参考答案 (二)	(39)
高考地理模拟试题 (三)	(43)
参考答案 (三)	(59)
高考地理模拟试题 (四)	(62)
参考答案 (四)	(75)
高考地理模拟试题 (五)	(78)
参考答案 (五)	(95)
高考地理模拟试题 (六)	(98)
参考答案 (六)	(113)
高考地理模拟试题 (七)	(117)
参考答案 (七)	(130)
高考地理模拟试题 (八)	(132)
参考答案 (八)	(144)
附一 1990年全国普通高等学校招生统一考试 地理试题及答案.....	(146)
附二 1991年全国普通高等学校招生统一考试 地理试题及答案.....	(167)

高考地理模拟试题（一）

一、选择题

下列各题的四个选项中，有一个或一个以上是正确的，请把正确答案的代号填在题后括号内。

1. 我国各省区中，兼跨两大洋水系、两类季风区，在地形上东西两部分有明显差异的省区是：

- A. 西藏 B. 云南
C. 贵州 D. 新疆

()

2. 当北京正午太阳高度达到一年中最大值时，下列叙述正确的是：

- A. 地球将远离地球轨道上的远日点
B. 我国江淮地区和日本南部进入梅雨季节
C. 北半球大陆等温线向北凸出
D. 我国黄河已进入汛期

()

3. 既有大面积森林资源又有大面积温带草原分布的国家是：

- A. 美国、巴西
B. 加拿大、苏联
C. 阿根廷、澳大利亚
D. 中国、蒙古

()

4. 水能资源和水资源居前六位的国家是：

- A. 中国、苏联、美国、扎伊尔、巴西
- B. 美国、加拿大、苏联、巴西、中国
- C. 中国、美国、苏联、加拿大、印度尼西亚
- D. 中国、美国、苏联、扎伊尔、印度尼西亚

()

5. 在一张地图上, 北纬 60° 纬线上的甲、乙两地相距33.3厘米, 地方时相差4小时, 则该图的比例尺是下列中的:

A. 地图上1厘米相当于地面距离100公里

B. $\frac{1}{10,000,000}$

C. $\frac{1}{5,000,000}$

D. 1:100,000

()

6. 下列民族中, 是我国少数民族, 也是邻国少数民族的是:

A. 朝鲜族

B. 哈萨克族

C. 藏族

D. 蒙古族

()

7. 下列四组城市位于北纬 30° — 40° 地带的是:

A. 罗马、悉尼、上海、纽约

B. 洛杉矶、南京、亚历山大、安卡拉

C. 搭兰托、里斯本、东京、喀布尔

D. 伊斯兰堡、拉萨、平壤、日内瓦

()

8. 有关自然带的叙述, 正确的是:

- A. 亚热带常绿阔叶林带的典型气候是地中海式气候
- B. 袋鼠是生活在澳大利亚东部热带雨林带的典型动物
- C. 铁芒箕是分布在地中海沿岸亚热带常绿硬叶林带的典型植物
- D. 黑钙土是温带草原带中的典型土壤

()

9. 有关自然资源分布的叙述, 正确的是:

- A. 南美洲的水力资源约占全世界的1/5, 主要分布在巴西高原
- B. 南极洲有丰富的铁资源, 主要分布在维多利亚地
- C. 澳大利亚的铁矿资源丰富, 但煤炭资源不足
- D. 大猩猩、长颈鹿, 是非洲特有的珍奇动物

()

10. 酸雨是目前较严重的世界环境问题之一, 形成酸雨主要污染物是:

- A. 氮氧化合物
- B. 碳氧化合物
- C. 硫氧化合物
- D. 碳氢化合物

()

11. 下列哪些国家不产石油, 但石油加工工业却十分发达:

- A. 新加坡
- B. 澳大利亚
- C. 意大利
- D. 瑞典

()

12. 下列小麦重要输出路线正确组合的有:

- A. 阿根廷—→巴西、日本、中国

- B. 加拿大—→非洲、欧洲、南欧
- C. 澳大利亚—→中国、日本、新西兰
- D. 美国—→墨西哥、西印度群岛

()

13. 下列四组地名中, 按其所在纬度由低到高依次排列是:

- A. 衡山、泰山、嵩山、恒山
- B. 峨眉山、普陀山、九华山、五台山
- C. 珠海、深圳、汕头、厦门
- D. 水口、葛洲坝、安康、龙羊峡

()

14. 下列运动方向, 哪些是按逆时针方向运动的:

- A. 北半球气旋的气流
- B. 北太平洋高纬大洋环境
- C. 北印度洋冬季洋流
- D. 南极洲的极地东风

()

15. 在世界等温线分布图上, 当等温线向南凸出时, 可能在下列哪些情况下出现:

- A. 北半球七月的海洋
- B. 南半球七月的海洋
- C. 北半球一月的大陆
- D. 南半球一月的大陆

16. 在人地关系中, 属环境对人类社会产生反馈作用的是:

- A. 电离层受干扰, 无线电短波通讯中断
- B. 上海地区因过分抽取地下水, 使地盘下沉, 淡水短缺
- C. 华北平原地区的春旱
- D. 澳大利亚大自流井盆地地下水盐分高

()

17. 成因与风带、气压带位置的季节移动有关的气候类型是:

- A. 热带季风气候、亚热带季风气候、温带季风气候
- B. 热带雨林气候、地中海式气候、温带海洋性气候
- C. 亚寒带针叶林气候、温带大陆性气候、热带沙漠气候

气候

- D. 热带季风气候、地中海式气候、热带沙漠气候

()

18. 下列四组国家中, 人口超过1亿, 粮食年总量也超过1亿吨的一组是:

- A. 美国、中国、巴西、孟加拉国
- B. 美国、中国、苏联、印度
- C. 苏联、日本、巴西、美国
- D. 印度尼西亚、日本、印度、美国

()

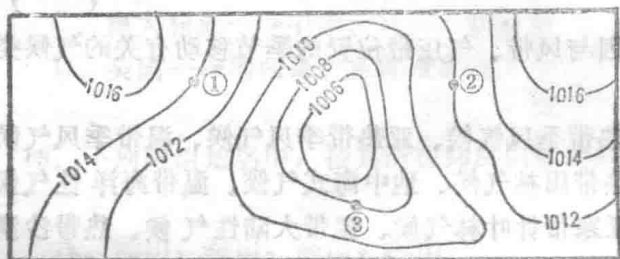
19. 我国西部地带百万人口以上的特大城市有:

- A. 成都、重庆
- B. 哈尔滨、齐齐哈尔
- C. 兰州、西安
- D. 昆明、贵阳

()

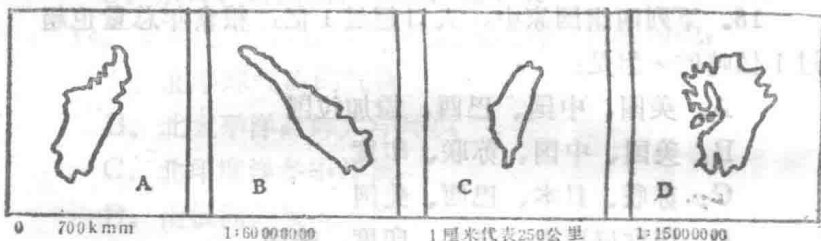
20. 下面是北纬 30° — 40° 某地等压线图, 判断图中①、②、③的风向是:

- A. ①偏南风 ②西北风 ③东北风
- B. ①偏北风 ②西北风 ③西南风
- C. ①东北风 ②东风 ③东南风
- D. ①偏北风 ②东南风 ③西南风



()

21. 读下面四个岛屿，据有关知识判读下列叙述正确的有



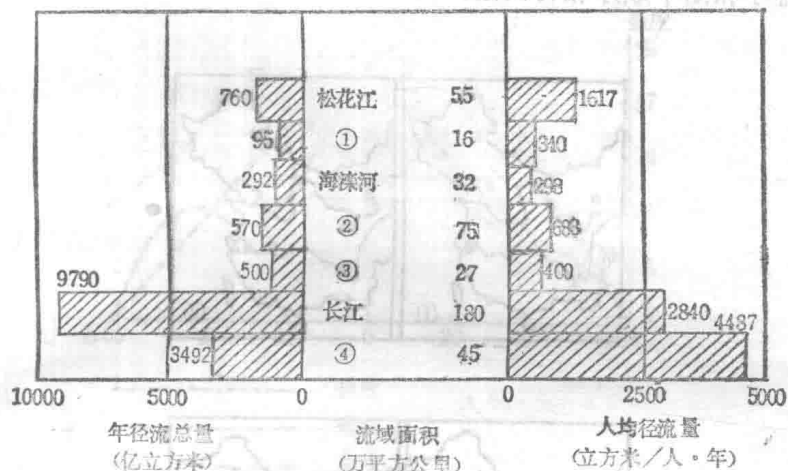
- A. 由北向南依次排列顺序为DCBA
 B. 比例尺由小到大依次排列顺序为BCAD
 C. 北回归线和赤道均穿过的岛屿是C岛
 D. 工业布局属于“临空型”的岛屿是D岛

()

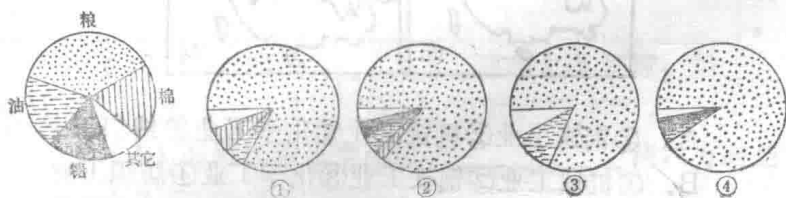
22. 在下页图中，①②③④所代表的河流名称依次是：

- A. ①淮河②黄河③辽河④珠江
 B. ①珠江②黄河③淮河④辽河
 C. ①辽河②淮河③珠江④黄河
 D. ①辽河②黄河③淮河④珠江

()



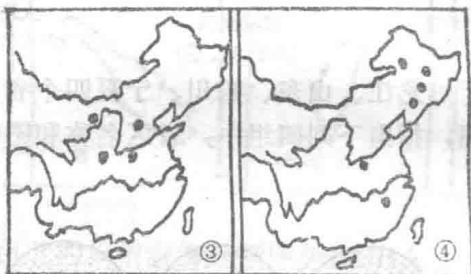
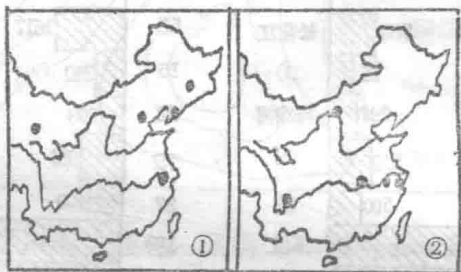
23. 分析黑龙江、山东、四川、宁夏四个省区农作物种植面积结构图，指出下列四组中，省区名称和图中顺序相符的是：



- A. ①鲁 ②宁 ③蜀 ④黑
- B. ①鲁 ②蜀 ③宁 ④黑
- C. ①黑 ②宁 ③蜀 ④鲁
- D. ①宁 ②蜀 ③鲁 ④黑

24. 读我国钢铁、纺织、化学、机械工业的部分分布图（每幅图表示一种工业），指出下列四组说明中，工业名称

排序和图中顺序相符的是：



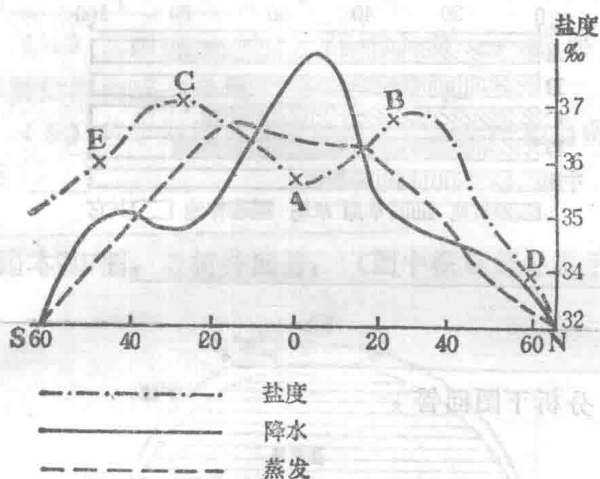
- A. ①钢铁工业②机械工业③化学工业④纺织工业
 B. ①机械工业②钢铁工业③化学工业④纺织工业
 C. ①机械工业②纺织工业③钢铁工业④化学工业
 D. ①化学工业②钢铁工业③纺织工业④机械工业

()

二、读图分析题

25. 在全球降水、蒸发、盐度的纬度变化示意图中，A、B、C、D、E分别表示五个海区，读图后回答：

(1) 盐度最高的是_____海区，原因是_____



(2) 海区盐度_____，因为_____

(3) D海区属_____型的大洋环流，呈_____时针方向流动。

(4) E海区形成全球性的_____流，方向是_____。

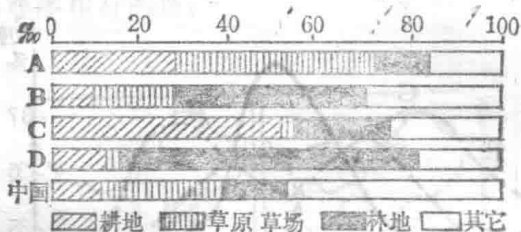
26. 下图是中国、苏联、日本、印度和英国的土地资源构成图，分析后回答：

(1) 写出A、B、C、D分别代表的国家名称：

A____ B____ C____ D____

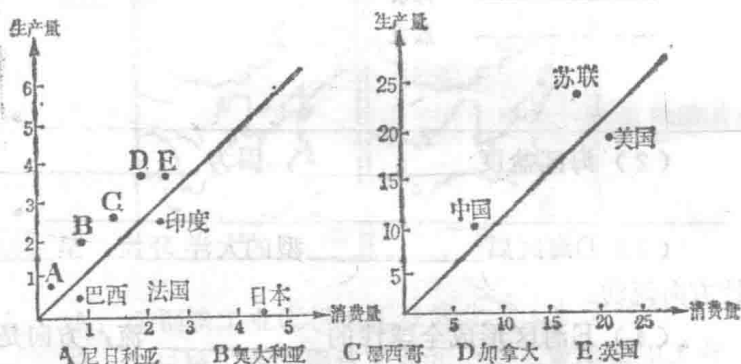
(2) 图中反映出我国土地资源构成的显著特点是_____。

(3) 我国土地资源利用的核心问题是_____。



；基本国策是

27. 分析下图回答



1987年部分国家能源生产 消费情况 (亿吨标准煤)

(1) 能源生产量最大的国家是_____，消费量最大的国家是_____。

(2) 日本的能源构成中，_____ (能源) 居最主要的地位，这种能源主要来自_____和东南亚。

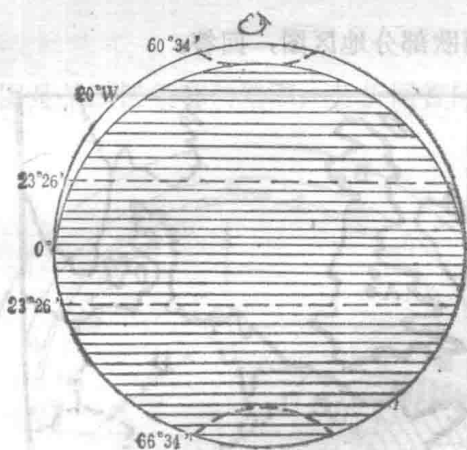
(3) 美国与这些国家相比较，生产量不算小，但每年还要从国外进口大量的_____ (能源)，这是因为美国

能源的_____。

(4) 法国的_____ (能源) 贫乏, 需要大量进口, 本国能源构成主要是_____和水电。

(5) 位于斜线右下侧的国家能源生产和消费的共同特点是_____。

28. 读下图, 分析并回答: (图中横线部分表示黑夜部分)



(1) 图所示日期为____月____日前后, 北京夏令时____时____分。

(2) 此时与赤道太阳高度相同的纬线是_____。

(3) 此时, 影响我国长江中下游地区的天气系统就锋面而言应是_____锋, 就影响雨带的气压系统而言, 其名称应是_____, 此时, 往本地区输送水汽的气团名称是_____。