



2008

2008年国家公务员
录用考试专用教材

明道·致用·事信·言文

考前模拟试卷

行政职业能力测验

学术的尊严·精神的魅力·科学的灵魂·心理的依据·实用的价值

★ 组 编：国家公务员录用考试命题研究组

★ 总策划：新起点文化

GUOJIAGONGWUYUAN
LUYONGKAOSHIZHUYONGJIAOCAI



北京大学出版社
PEKING UNIVERSITY PRESS

国家公务员录用考试专用教材

考前模拟试卷—— 行政职业能力测验

组 编 国家公务员录用考试命题研究组

总策划 新起点文化

北京大学出版社

图书在版编目(CIP)数据

考前模拟试卷·行政职业能力测验/国家公务员考试命题研究组编. —3版. —北京:北京大学出版社,2007.6

- 国家公务员录用考试专用教材·国家公务员考试系列
ISBN 978-7-301-09841-7.

I. 考… II. 国… III. ①公务员-招聘-考试-中国-习题②行政管理-能力倾向测验-中国-习题 IV. D630.3-44

中国版本图书馆CIP数据核字(2007)第071837号

书 名: 考前模拟试卷·行政职业能力测验

著作责任者: 国家公务员录用考试命题研究组

责任编辑: 关正虎 苑海波

标准书号: ISBN 978-7-301-09841-7/C·0382

出版者: 北京大学出版社

地 址: 北京市海淀区成府路205号 100871

网 址: <http://www.pup.cn> 电子邮箱: pw@pup.pku.edu.cn

电 话: 邮购部 62754450 发行部 62754623 编辑部 62768838
出版部 62754962

印 刷 者: 北京忠信诚胶印厂

经 销 者: 新华书店

787毫米×1092毫米 8开本 8.5印张 170千字

2007年6月第3版 2007年6月第1次印刷

定 价: 16.00元

未经许可,不得以任何方式复制或抄袭本书之部分或全部内容。

版权所有,翻版必究 举报电话:010-62752024 电子邮箱: fd@pup.pku.cn

前 言

本丛书由具有多年从事公务员考试命题及阅卷的专家精心编写,各位专家结合近年来的考试内容对 08 年命题趋势做了广泛的预测,在内容的编排上,本书严格按照近年来大纲要求的考核内容、题型、题量和难度系数进行设计。选题力求做到紧跟形势变化,把握住考试命题的最新动向,充分体现出公务员录用考试的动态趋势。考生在熟读本书后,能够将自身基础夯实,“以不变应万变”,轻松应对严峻的挑战。

本书的主要特色:

选题新颖、针对性强

各命题研究专家在对历年大纲的措词、内涵进行了缜密的研究后,有针对性地选取及创作了大量与今年大纲及当前命题形势吻合的试题素材,并且经过了编写组的集体论证,在今年增加了新题型——**数字推理与图形相结合**,所以本书内容具有充分的权威性、时效性和针对性。

注重提高考生的应试能力

本书有别于市面上常见的以“题海”为主的应试类辅导书籍,因为本书在题型、题量的选取上更侧重于合理分配,注重帮助考生掌握解决问题的思路和方法,加强对考生思维方式的训练。

紧紧把握命题方向

本书由多年从事命题研究的专家团队编写,专家组在对历年试题及 2008 年命题趋势进行严密分析论证后精心设计了这套模拟习题集,可以说每道题都凝聚着多位命题专家的心血,广大考生借助本书可以深刻把握公务员考试的精髓。

由于时间、水平所限,内容出现疏漏之处在所难免,希望各位读者、考生以及从事同类课题研究的专家学者提出宝贵意见,让本书更加贴近考生的需求,成为考生出色的辅导工具,真正为考生的应考提供切实有效的帮助。本书的策划人员及编者在此也衷心希望广大考生借助本书的帮助,在未来的考试中取得满意的成绩,最终迈向人生历程的**新起点!**

本书编委会

目 录

《行政职业能力测验》考前模拟试卷(一)	1
《行政职业能力测验》考前模拟试卷(二)	22
《行政职业能力测验》考前模拟试卷(三)	44
《行政职业能力测验》考前模拟试卷(四)	65
《行政职业能力测验》考前模拟试卷(五)	86
《行政职业能力测验》考前模拟试卷(六)	105
《行政职业能力测验》考前模拟试卷(一)参考答案	126
《行政职业能力测验》考前模拟试卷(二)参考答案	127
《行政职业能力测验》考前模拟试卷(三)参考答案	128
《行政职业能力测验》考前模拟试卷(四)参考答案	129
《行政职业能力测验》考前模拟试卷(五)参考答案	130
《行政职业能力测验》考前模拟试卷(六)参考答案	131

《行政职业能力测验》 考前模拟试卷(一)

第一部分 言语理解与表达

(共 30 题,参考时限 25 分钟)

每道题包含一段文字(或一个句子),后面是一个不完整的陈述,要求你从四个选项中选出一个来完成陈述。注意:问题可能是选择一个词语或一个句子使表达最为准确,也可能是考察对文字内容的理解,你的选择应与题目要求最相符合。

1. 管理大师德鲁克提出了一个重要的概念——目标管理,其最大优点是使得每一位经理人能控制自己的成就。自我控制意味着更强的激励一种要做得最好而不是敷衍了事的愿望。它意味着更高的成就目标和更广阔的眼界。目标管理的主要贡献之一就是它使得我们能用自我控制的管理来代替别人统治的管理。

下列选项中能正确反映这段话的观点是:

- A. 自我控制是目标管理不可缺少的内容 B. 自我控制的作用是消弱最上层的管理机制
C. 目标管理的概念是当前最先进的概念 D. 德鲁克本人已经达到自我控制的境界
2. 服装厂中,男女工人面对面地坐着,他们缝制同样的衣服,付出同样的劳动,可是当一个月劳动结束的时候,_____。

与上面的文字衔接最恰当的一项是:

- A. 老板给女工发 300 元的工资,但男工所得的却是 400 元
B. 女工从老板那儿领到 300 元工资,而男工所得的却是 400 元
C. 男工从老板那儿领到 400 元工资,而女工却只能得 300 元
D. 老板给男工发 400 元的工资,但女工却只能得 300 元
3. 注重人格修养要从一言一行、一点一滴做起。不仁之事不做,不义之财不取,不正之风不沾。人来到这个世界上就要有追求,但无论追求什么,都不能忘记了人格。要讲究修身,经常想自己所作所为是否符合一个高尚人格的要求。古人说,“修身齐家治国平天下”,修身做人是做好事业的前提。

这段话表明了这样一个观点:

- A. 人格修养非常重要,每个人都要加强人格修养
B. 人来到这个世界上就要有追求
C. “修身齐家治国平天下”应作为所有人的准则
D. 人格修养就是做到不仁之事不做,不义之财不取,不正之风不沾
4. 基于目前形势的复杂性和不确定性,冷局长觉得,每做一个决定、每采取一个行动都要_____。

- A. 百倍慎重,考虑自己的承受能力和实际条件,方案必须非常妥当
 - B. 百倍慎重,同时考虑到自己的实际基础和可能条件,制定完备的方案
 - C. 加倍慎重,同时还要充分注意思维角度的切实性,方案必须非常妥当
 - D. 加倍慎重,要确保更加稳妥、务实、有效和节约,要作出细致的思考和周密的安排
5. 现代城市的发展,以汽车和快速交通为基础,在拉近了人们工作生活距离的同时,也割裂了人作为生命体运动的一部分——行走。于是人们进健身房、体育场运动、补偿。假期到乡间、风景地徒步旅行。

这段话旨在说明:

- A. 现代城市的发展不要求人们行走了
 - B. 汽车和快速的交通是现代人的生命的基础
 - C. 现在的人越来越热爱大自然了
 - D. 现代城市的快节奏使人们再也不能像以前那样的“行走”了
6. 商品社会的游戏规则决定商品之间的竞争往往倚重于商品的广告宣传和各种促销手段,而全球化进程中的城市与区域之间由于在市场竞争上的较量愈来愈激烈,城市和城镇的空间也越来越以商品运作的方式被包装和出售。

对这段话最好的复述是:

- A. 城市和城镇的空间竞争在逐步地被卷入商品运作中
 - B. 商品社会的游戏规则无处不在
 - C. 城市与区域之间由于在市场竞争上的较量愈来愈激烈
 - D. 城市和城镇的空间竞争也倚重广告宣传和各种促销手段来运作
7. 改革开放后,国家实行非均衡发展战略,集中力量加快发展了区位优势、经济基础好的东部沿海地区,促进了东部地区的超常规发展,但同时也拉大了东部与中西部之间的距离。20世纪90年代以来,加快中西部地区的发展,逐步缩小东西部的差距,促进地区经济的协调发展的呼声越来越高。

下列说法正确的是:

- A. 国家的非均衡发展战略是错误的
 - B. 东部和中西部的差距是人为制造的
 - C. 不同的时期有不同的政策要求,政策应随时代变化灵活适应
 - D. 应该坚持东部和中西部地区的资源共享,实现均衡发展
8. 20世纪90年代以来,尽管中国能源状况仍以煤为主,但石油消费进入了一个快速增长期,1990年石油消费量还只有11485.60万吨,而到2001年已高达22838.30万吨。90年代中国原油消费量以平均每年5.77%的速度增加,而同期国内原油供应量增长速度仅为1.67%,对原油的需求速度大于生产速度,供需差距不断拉大。

对这段话的复述最恰当的一项是:

- A. 中国人民的生活水平提高了
- B. 20世纪90年代以前,中国的能源消费主要以煤为主
- C. 20世纪90年代以后,中国的能源消费主要以原油为主
- D. 20世纪90年代以后,中国的原油供需差距不断拉大,供不应求

9. 当今世界上,价值的增长不再仅仅是通过简单劳动,而且还要通过知识、通过知识含金量的增长,提高产品价值及附加值的增值。企业的竞争说到底人才的竞争。如何提高企业员工的综合素质,激发员工的创造性思维,这关系到企业竞争的成败。

这段话主要支持了这样一种观点:

- A. 价值的增长不再依赖简单的劳动
 - B. 产品价值及附加值的增值是企业追求的目标
 - C. 要提高企业的价值,增加经济利益,就必须重视人才
 - D. 人才的竞争是企业发展的动力
10. 毛泽东说:“只有让人民来监督政府,政府才不敢松懈。只有人人起来负责,才不会人亡政息。”民主管理的一个重要内容就是对经营者的监督,监督其经营行为的合理性、科学性和可行性,民主管理的另一个重要内容就是劳动者主人翁地位即人人负责的管理环境的建立。

对这段话的理解不正确的是:

- A. 毛泽东的话在此更加形象深刻地揭示出民主管理的必要性
 - B. 民主管理包括两个方面的内容
 - C. 民主管理重在强调对经营者的监督
 - D. 民主管理的这两个方面同等重要,不可偏废任何一方
11. 职权的存在和履行是行政执法问题的认定标准,没有行政职权或者超越职权范围,应当属于无效的行政行为,而不再是行政执法行为,因此这种行为根本不具备行政执法的构成要件,不具备实质上的正当性和合理性,更不具备行政执法行为的预期效力。

这句话主要是说:

- A. 职权的存在和履行是行政执法问题的认定标准
 - B. 无效行政行为不是行政执法行为
 - C. 无效行政行为不具备行政执法的构成要件
 - D. 无效行政行为不具备行政执法行为的预期效力
12. 在世界经济全球化的背景下,国内和国际的价值冲突空前地普遍和复杂。如何科学合理地认识“价值冲突”现象,用正确的方法有效地发挥“价值冲突”的正面社会效应,化解“价值冲突”的负面效应,是关系到我国能否坚持社会团结稳定的大局,关系到我国能否顺利进行社会主义现代化建设事业,全面实现小康社会目标的重大问题。

这段话旨在论述:

- A. 国内和国际的价值冲突空前地普遍和复杂
 - B. 合理的认识和处理“价值冲突”的重要性
 - C. 价值冲突的效应是双重性的
 - D. “价值冲突”是伴随着世界经济的全球化而来的
13. 很少有人会视婚姻为儿戏而动辄闹离婚。如果说结婚就好比“试错”(如果事实证明结婚选择没有错误,婚姻双方就皆大欢喜,白头偕老),离婚则好比“纠错”,法律一方面为“试错”提供了方便,也就应当同时为“纠错”提供方便,甚至可以说,提供后一种方便比提供前一种方便更重要。

这段话主要写了:

- A. 婚姻是个试错纠错的过程
B. 有些人对结婚离婚的态度很随便
C. 结婚是为了试错
D. 必需保障离婚自由
14. 尽管古代的一些作家,并不完全是唯物主义者,但是他们既然是现实主义者,他们思想中就不能不具有唯物主义的成分,因而他们能够从艺术描写中反映出一定的客观真理。
这段文字的主要观点是:
A. 古代的一些作家虽然不完全是唯物主义者,但是现实主义者
B. 古代的一些作家是现实主义者,所以思想中包含唯物主义成分
C. 古代的一些作家虽然不完全是唯物主义者,但他们的思想包含唯物主义的成分
D. 古代的一些作家虽然不完全是唯物主义者,但作品中能够反映一定的客观真理
15. 新能源,根据联合国 1981 年新型能源和可再生能源会议的定义,包括太阳能、水力发电、风能、生物质能、薪柴、木炭、畜力、海洋热能、波浪力能、潮汐能、泥炭、油母页岩和重质油砂共 14 种,主要指常规化石能源以外的可再生能源。
这段话主要阐述了这样一种论点,即新能源:
A. 种类繁多
B. 用途广泛
C. 不是常规化石能源
D. 是可再生能源
16. 可是现在有些人采取一种盲目的态度;不加分析,不辨是非,把一切外来的文化都视为珍品,_____,竟五体投地地顶礼膜拜。
填入横线上最恰当的是:
A. 其中的某些流派和创作方法被一些人看作海外奇珍
B. 甚至把某些流派和创作方法看作海外奇珍
C. 其中的某些流派和创作方法在他们的眼中成了海外奇珍
D. 甚至某些流派和创作方法被他们看作海外奇珍
17. 现在大脑研究者开始把脑看作一种全息图。全息图是一种新的摄影方法。在全息图的任何一个组成部分中,都包含了整个全息图的信息,并由此显示出一种非常逼真的、三维立体图像。例如,把一张关于桌子的全息照片粉碎,你可以发现在每碎片上所显示的图像并不是桌子的一部分而是整个桌子。这意味着:
A. 大脑是以整体方式工作的
B. 大脑是球形的
C. 大脑打破以后仍然有图像
D. 大脑是一种新的摄影方法
18. 当非洲撒哈拉沙漠的饥民们在饿殍遍野的沙漠上焦急地等待着联合国救援车队的粮车时,丹麦的米特克拉夫特电力公司却因小麦卖不出去而不得不用它来发电。
这段话不能支持哪个观点:
A. 粮食的过剩是相对过剩
B. 一边是极端的匮乏,一边是极度的浪费,这是一个可怕的怪圈
C. 非洲政府无能是导致其饥民遍地的根本原因
D. 整个世界的资源没有得到合理的共享和分配
19. 下列各句方括号中,必须加“的”字的一组是:
①为了实施西部大开发战略,加快当地经济[]发展,国家将在西部地区新建十大工程。
②天文学家在太阳系外一共发现 28 颗行星,它们[]存在是通过间接渠道推断出来的。

③风险投资的注入可以使你[]钱袋立即充盈,有实力去市场上拼抢厮杀,谋求新的发展。

④他有“乒坛黑马”之称,具备直拍选手快、灵、狠的特点,是欧亚高手取胜[]最大障碍。

A. ①②

B. ②④

C. ③④

D. ①③

20. 当代愤青们民族主义情绪的阵发性高涨,往往与我们国家改革进程的加快和我国社会与国际社会融合程度的提高同步。以迷惑性口号和夸张情绪包装起来的这些动作和言辞,由于其口号的鼓动性和表情的正统严肃,占据了话语制高点,对其他声音实际形成了强制性抑制。

对这段话理解正确的是:

A. 民族主义情绪是愤青们的一个特征

B. 迷惑性口号和夸张情绪表明愤青们是投机者

C. 对其他声音实际形成的强制性抑制说明愤青们是毫无理性的

D. 愤青的话语占据了制高点,说明其得到大多数中国人的支持

21. 咬文嚼字有时是一个坏习惯,_____这个成语的含义通常不很好。但是在文学,无论阅读或写作,我们_____有一字不肯放松的谨严。文学借文字_____思想情感,文字上面有含糊,就显得思想还没有_____,情感还没有凝练。

填入划横线部分最恰当的一项是:

A. 所以 必须 表现 透彻

B. 虽然 必须 表现 精确

C. 虽然 必需 表示 精确

D. 所以 必需 表示 透彻

22. 有些书可供一_____,有些书可以吞下,而有不多的几部书是应当_____消化的。这就是说,有些书只要读一读它们的一部分就够了;有些书可以多读,但是不必过于细心地去读;还有不多的几部书则应当全读,勤读,而且_____地读。

填入划横线部分最恰当的一项是:

A. 尝 咀嚼 用心 B. 尝 品味 悉心 C. 读 咀嚼 用心 D. 读 品味 悉心

23. 发掘的资料告诉人们:玛雅的人口平均每408年翻一翻,到公元800~900年,人口增至500万。这么多的人拥挤在危地马拉低地中,其密度和今天发达地区差不多。为了生存,玛雅人毁林造田,_____。

填入划横线部分最恰当的一项是:

A. 玛雅人终于自己毁了自己的家园,水土流失、连年灾害,结果背井离乡远去了

B. 结果是水土流失,连年灾害,玛雅人终于自己毁了自己的家园,背井离乡远去了

C. 结果是连年灾害,水土流失,玛雅人终于背井离乡远去了,自己毁了自己的家园

D. 结果是水土流失,连年灾害,玛雅人终于背井离乡远去了,自己毁了自己的家园

24. 遇事应灵活些,倘若_____,往往会把事情办糟。

填入划横线部分最恰当的一项是:

A. 缘木求鱼

B. 按部就班

C. 故步自封

D. 老马识途

25. 偏见只能在交流中被慢慢校正,绝不可能通过封闭而稍有消解,封闭只能导致更多更大的偏见发生。

这个句子的意思是:

A. 偏见是不可消除的

B. 交流有助于消除偏见

C. 有交流就没有偏见

D. 只要封闭就会有偏见

26. 在当今国际体系中,民族国家不再是唯一的国际行为体时,需要塑造新的认同,而非以旧瓶装新酒,倡导什么温和、理性和开放的“新民族主义”,而应该超越民族主义本身。在当今以主权国家而非民族国家为国际社会的基本单元时,应该以爱国主义代替民族主义,为国家自豪,为未来鼓舞。

这段文字的观点是:

- A. 国际体系中的民族国家越来越多
B. 爱国主义是对民族主义的一种超越
C. 主权国家将在国际社会取代民族国家
D. 国际体系应该向温和、理性和开放的方向发展
27. 自1999年起,我国普通高校开始实行扩招。大幅度的扩招 _____,因此出现了高校学生质量滑坡现象。

填入划横线部分最恰当的一项是:

- A. 使入学门槛骤然降低
B. 缓解了学生和家长的思 想压力
C. 给就业带来了巨大的压力
D. 使更多的学生有了上学的机会
28. 中国已成为世界第四大旅游目的地国,但我们的旅游纪念品产业发展尚不尽如人意,产品雷同、低档、缺乏创意者比比皆是,许多游客都抱怨买不到中意的旅游纪念品。有资料显示,我国旅游购物收入仅占旅游总收入的20%,而在世界发达国家,这一指标可达50%以上。偌大的一个市场,可望不可即,让人着急。寻求破局,乃当务之急。

这段文字主要在说明:

- A. 中国旅游业发展前景一片大好
B. 游客对中国旅游纪念品抱怨较多
C. 大力发展旅游纪念品产业势在必行
D. 旅游纪念品产业发展的空间和潜力很大
29. 手机垃圾短信息有“骚扰型”,多为恶作剧、“黄段子”、小道消息;有“陷阱型”,多是骗取用户钱财;有广告短信。短信业务的确给运营商们带来了丰厚的利润,但有些短信正成为一种“信息公害”,让人不堪其扰。一些急于开发新客户的新企业群发不少短信广告,绝大多数的垃圾短信制造者是运营商、“三无”产品经营者、诈骗者。现在应尽快完善相关监管法规,先管住短信服务提供者,垃圾短信这颗毒瘤,迟早是会被根除的。

最适合做这段文字标题的是:

- A. 垃圾短信成为信息公害
B. 切实治理垃圾短信
C. 垃圾短信为何屡禁不止
D. 法律监管垃圾短信尚未到位
30. 这朵黄花如果在别处,我也许不屑一顾,可是开在中流砥柱上,又是唯一的一朵,我便特别喜爱。_____。

填入划横线部分最恰当的一项是:

- A. 它是从石缝钻出的花,是“天行健”“自强不息”的文化徽章,它是生命力的象征,它是巨浪播下的种
B. 它是巨浪播下的种,它是石缝中钻出的花,它是生命力的象征,是“天行健”“自强不息”的文化徽章

- C. 它是生命力的象征,它是石缝中钻出的花,它是巨浪播下的种,是“天行健”“自强不息”的文化徽章
- D. 它是石缝中钻出的花,它是巨浪播下的种,它是生命力的象征,是“天行健”“自强不息”的文化徽章

第二部分 数量关系

(共 15 题,参考时限 20 分钟)

本部分包括两种类型的试题:

一、数字推理:共 5 题。给你一个数列,但其中缺少一项或两项,要求你仔细观察数列的排列规律,然后从四个选项中选出你认为最合理的一项来填补空缺项。

31. $-2, 4, -8, 16, (\quad)$
 A. 30 B. 32 C. -32 D. 36
32. $8, 8, (\quad), 24, 60, 180$
 A. 10 B. 12 C. 14 D. 16
33. $3, 4, 7, 16, 43, (\quad)$
 A. 56 B. 64 C. 120 D. 124
34. $\frac{1}{2}, \frac{1}{3}, \frac{1}{6}, \frac{1}{18}, \frac{1}{108}, (\quad)$
 A. $\frac{1}{236}$ B. $\frac{1}{324}$ C. $\frac{1}{1944}$ D. $\frac{1}{2024}$
35. $-1, 0, -1, -1, (\quad), -3$
 A. -2 B. 2 C. -3 D. 3

二、数学运算:共 10 题。你可以在草稿纸上运算,遇到难题,可以跳过暂时不做,待你有时间再返回解决它。

36. $45.76 - 12.25 - 17.75$ 的值是:
 A. 12.45 B. 15.76 C. 20.45 D. 22.46
37. $16.8 \times 0.125 \times 32 \times 25$ 的值是:
 A. 16.8 B. 1680 C. 168 D. 16800
38. $18 \div 1.5 + 0.15 \times 0.4$ 的值是:
 A. 10.6 B. 12.06 C. 12.6 D. 10.06
39. 一袋硬币,其中含五分、一角、五角三种币值,一角硬币枚数是五分币枚数的 2 倍,五角币是一角币的 3 倍,袋中钱的总数可能是多少元?
 A. 612 B. 666 C. 650 D. 720
40. $783.5 + 52.96 - 35.18 - 15.5 + 58.35$ 的值是:
 A. 845.15 B. 846.24 C. 844.13 D. 845.66

41. 有一种产品的长度分别是 25 米,35 米,45 米,55 米,65 米,那么它们的平均长度是多少米?
A. 35 B. 45 C. 55 D. 65
42. 一老人对孩子说:“你父亲的年龄是你的四倍,而我比你父亲大 50 岁,年龄正是你上小学时的 15 倍,你上小学时是你 2 岁弟弟年龄的 3 倍。”这个孩子现在年龄是多少?
A. 8 岁 B. 10 岁 C. 12 岁 D. 13 岁
43. 某学生在一次考试中,语文、数学、外语三门学科的平均成绩为 80 分,物理、化学两门学科的平均成绩为 85 分,则该生这五门学科的平均成绩是:
A. 81 分 B. 82 分 C. 82.5 分 D. 83 分
44. 甲用 1000 元人民币购买了一手股票,随即他将这手股票转卖给乙,获利 10%,乙而后再将这手股票返转卖给甲,但乙损失了 10%,最后甲按乙卖给自己的价格的九折将这手股票又卖给了乙,则在上述股票交易中:
A. 甲刚好盈亏平衡 B. 甲盈利 1 元
C. 甲盈利 9 元 D. 甲亏本 1.1 元
45. 有一个棱长为 4 的正方体容器,倒满水后,再把容器中的水倒入一个长为 8,宽为 2 的长方体容器中,刚好盛满。请问这个长方体容器的高是多少?
A. 2 B. 3 C. 4 D. 5

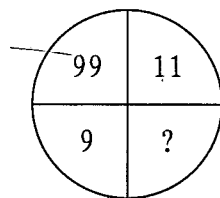
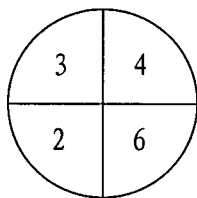
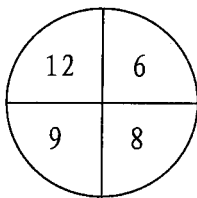
第三部分 判断推理

(共 45 题,参考时限 40 分钟)

本部分包括四种类型的题目:

一、图形推理:共 10 题。

46.



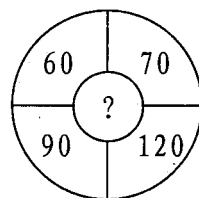
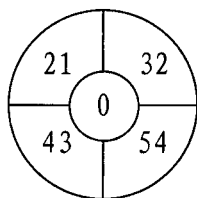
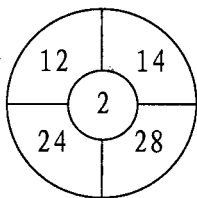
A. 10

B. 9

C. 8

D. 1

47.



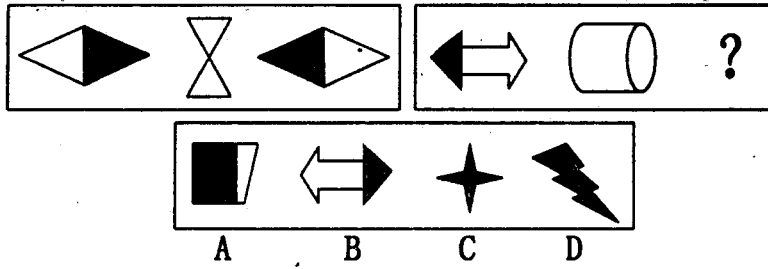
A. 10

B. 20

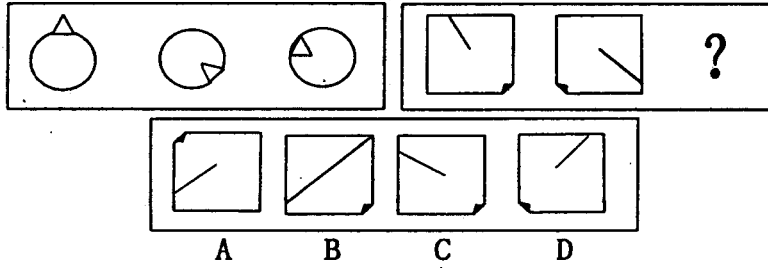
C. 30

D. 40

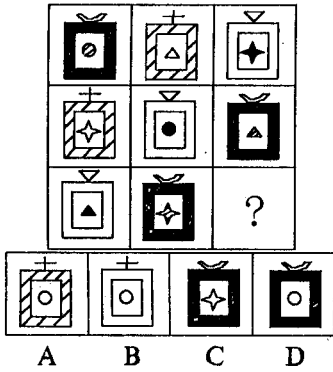
48.



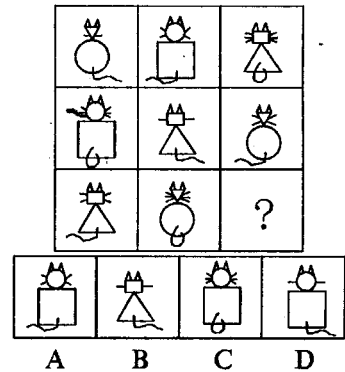
49.




50.



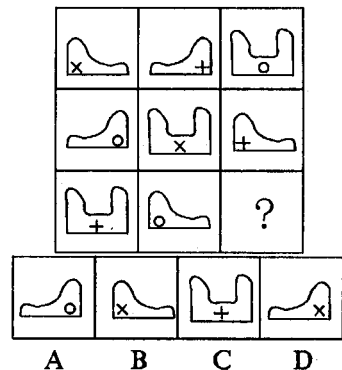
51.



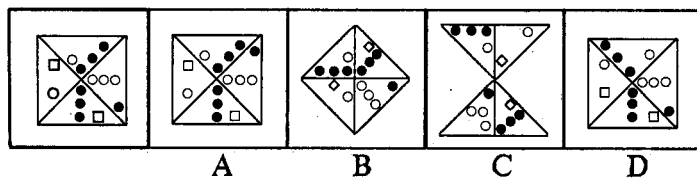
52.



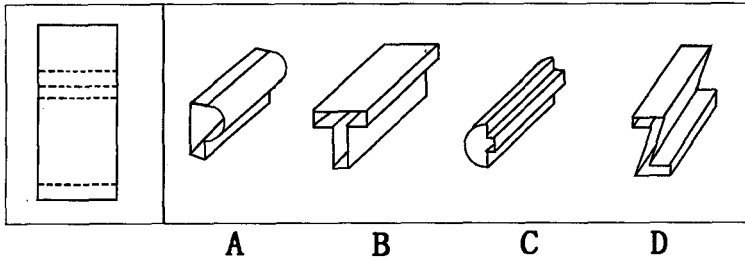
53.



54.



55.



二、逻辑判断:共 15 题。每题给出一段陈述,这段陈述被假设是正确的,不容置疑的。要求你根据这段陈述,选择一个答案。注意,正确答案应与所给的陈述相符合,不需要任何附加说明即可以从陈述中直接推出。

56. 一项对 30 名年龄在 3 岁的独生子女与 30 名同龄非独生的第一胎孩子的研究发现,这两组孩子日常行为能力非常相似,这种日常行为能力包括语言能力,对外界的反应能力,以及和同龄人,他们的家长及其他大人相处的能力等等。因此,独生子女与非独生子女的社会能力发展几乎一致。

以下哪项如果为真,最能削弱上述结论?

- A. 进行对比的两组孩子是不同的地区的孩子
 - B. 独生子女与母亲的接触时间多于非独生子女与母亲接触的时间
 - C. 家长通常在第一胎孩子接近 3 岁时怀有他们的第二胎孩子
 - D. 大部分参与此项目的研究者没有兄弟姐妹
57. 亲爱的编辑: 琼斯的新书有可能会毁掉在国内危机期间担任高级政府职位的人的名誉。然而,读者们应该不考虑琼斯的批评。琼斯的反政府态度是众所周知的,他的批评只能说服和他一样的人,即那些从未有过,以后也不会有真正的责任感的人,因此他们没有资格做出评判。

上述论述用了下面的哪种有质疑的技巧?

- A. 它用的“责任”这个词来表达不同的意思
 - B. 它假设攻击某一宣称的来源就足以否定这一宣称
 - C. 它假定大多数人与琼斯持相同的反政府政策的态度
 - D. 它呼吁一个不可靠的权威人士作为它的立场的支持者
58. “试点综合症”的问题屡见不鲜。每出台一项改革措施,先进行试点,积累经验后再推广,这种以点带面的工作方法本来是人们经常采用的。但现在许多项目中出现了“一试点就成功,一推广就失败”的怪现象。

以下哪项不是造成上述现象的可能原因?

- A. 在选择试点单位时,一般选择工作基础比较好的单位
 - B. 为保证试点成功,政府往往给予试点单位许多优惠政策
 - C. 在试点过程中,领导往往比较重视,各方面的问题解决得快
 - D. 全社会往往比较关注试点和试点的推广工作
59. 运动会上正在进行 10000 米径赛。参加比赛的是 A、B、C、D、E、F 六个人。关于谁会获得冠军,大家各有看法:

甲说,冠军不是 A 就是 B。

乙说,冠军绝不是 C。

丙说,D、E、F 都不可能获得冠军。

比赛结束后,人们发现他们三个人中只有一个人的说法是正确的,请问谁是 10000 米比赛的冠军?

A. 选手 A B. 选手 B C. 选手 C D. 选手 F

60. 所有爱斯基摩土著人都是穿黑衣服的;所有的北婆罗洲土著人都是穿白衣服的;没有穿白衣服又穿黑衣服的人;H 是穿白衣服的。

基于以上事实,下列哪个判断必为真?

A. H 是北婆罗洲土著人 B. H 不是爱斯基摩土著人
C. H 不是北婆罗洲土著人 D. H 是爱斯基摩土著人

61. 许多自称为教师的人实际上并不是教师,因为教书并不是他们主要的收入来源。

上述议论假设了以下哪项断定?

A. 一个人不能被称为作家,除非写作是其收入的主要来源。其他职业的情况也一样
B. 许多被称为教师的人缺乏合格的专业知识和技能
C. 收入的多少是一项职业受社会重视的尺度
D. 收入偏低使教师不能敬业乐业

62. 正是因为有了第二味觉,哺乳动物才能够边吃边呼吸。很明显,边吃边呼吸对保持哺乳动物高效率的新陈代谢是必要的。

以下哪种哺乳动物的发现,最能削弱以上的断言?

A. 有高效率的新陈代谢和边吃边呼吸的能力的哺乳动物
B. 有低效率的新陈代谢和边吃边呼吸的能力的哺乳动物
C. 有低效率的新陈代谢但没有边吃边呼吸能力的哺乳动物
D. 有高效率的新陈代谢但没有第二味觉的哺乳动物

63. 甲、乙、丙三人讨论“不劳动者不得食”这一原则所包含的意义。

甲说:“不劳动者不得食,意味着得食者可以不劳动。”

乙说:“不劳动者不得食,意味着得食者必须是劳动者。”

丙说:“不劳动者不得食,意味着得食者可能是劳动者。”

以下哪项结论是正确的?

A. 甲的意见正确,乙和丙的意见不正确
B. 乙的意见正确,甲和丙的意见不正确
C. 甲和丙的意见正确,乙的意见不正确
D. 丙的意见正确,甲和乙的意见不正确

64. 许多孕妇都出现了维生素缺乏的症状,但这通常不是由于孕妇的饮食中缺乏维生素,而是由于腹内婴儿的生长使她们比其他人对维生素有更高的需求。

为了评价上述结论的确切程度,以下哪项操作最为重要?

A. 对某个缺乏维生素的孕妇的日常饮食进行检测,确定其中维生素的含量
B. 对某个不缺乏维生素的孕妇的日常饮食进行检测,确定其中维生素的含量

- C. 对孕妇的科学食谱进行研究,以确定有利于孕妇摄入足量维生素的最佳食谱
- D. 对日常饮食中维生素足量的一个孕妇和一个非孕妇进行检测,并分别确定她们是否缺乏维生素
65. 针对作弊屡禁不止的现象,某学院某班承诺,只要全班同学都在承诺书上签字,那么如果全班有一人作弊,全班同学的考试成绩都以不及格计。校方接受并实施了该班的这一承诺。结果班上还是有人作弊,但班长的考试成绩是优秀。
- 以下哪项是从上述断定得出的结论?
- A. 班长采取不正当手段使校方没有严格实施承诺
- B. 全班多数人没有作弊
- C. 全班没有人在承诺书上签字
- D. 全班有人没在承诺书上签字
66. 汽油酒精,顾名思义是一种汽油酒精混合物。作为一种汽车燃料,和汽油相比,燃烧一个单位的汽油酒精能产生较多的能量,同时排出较少的有害气体一氧化碳和二氧化碳。以汽车日流量超过 200 万辆的北京为例,如果所有汽车都使用汽油酒精,那么,每天产生的二氧化碳,不比北京的绿色植被通过光合作用吸收的多。因此,可以预计,在世界范围内,汽油酒精将很快进军并占领汽车燃料市场。
- 以下各项如果为真,都能加强题干论证,除了:
- A. 汽车每公里消耗的汽油酒精量和汽油基本持平,至多略高
- B. 和汽油相比,汽油酒精的生产成本较低,因而售价也较低
- C. 和汽油相比,使用汽油酒精更有利于汽车的保养
- D. 全世界汽车日流量超过 200 万辆的城市中,北京的绿色植被覆盖率较低
67. 自 1940 年以来,全世界的离婚率不断上升。因此,目前世界上的单亲儿童,即只与生身父母中的某一位一起生活的儿童,在整个儿童中所占的比例,一定高于 1940 年。
- 以下哪项关于世界范围内相关情况的断定,如果为真,最能对上述推断提出质疑?
- A. 1940 年以来,特别是 70 年代以来,相对和平的环境和医疗技术的发展,使中青年已婚男女的死亡率极大地降低
- B. 1980 年以来,离婚男女中的再婚率逐年提高,但其中的复婚率却极低
- C. 目前全世界儿童的总数,是 1940 年的两倍以上
- D. 1970 年以来,初婚夫妇的平均年龄在逐年上升
68. 我国的婚姻法规定:凡男女双方自愿离婚的,准予离婚。而在某婚姻案件中,只有一方是自愿离婚的。所以,依据婚姻法,法院的判决结果应为:
- A. 不能离婚
- B. 可能判离婚
- C. 由当事人双方协调后再定
- D. 判决离婚
69. 最近,在一百万年前的河姆渡氏族公社遗址发现了烧焦的羚羊骨残片,这证明人类在很早的时候就掌握了取火煮食肉类的技术。
- 上述推论中隐含着下列哪项假设?
- A. 从河姆渡公社以来的所有人种都掌握了取火的技术
- B. 河姆渡人不生食羚羊肉