

决胜高三 赢在5·3



中国教育报
2006“好书教师评”
评出的最有价值教辅图书
★★★★★

5·3金卷 ② >>>>

5·3金卷 ②

2003-2007

5年高考真题详解

2008年高考总复习使用

快速服务通道 24小时服务电话 010-63735353 13311185353

5·3金卷文科全套定价:77.80元(不含听力) 5·3金卷理科全套定价:74.80元(不含听力)
5·3金卷文科全套定价:97.80元(含听力) 5·3金卷理科全套定价:94.80元(含听力)

语文: 13.80元 文数: 14.80元 英语: 36.80元 物理: 8.80元 生物: 7.80元 历史: 10.80元
理数: 16.80元 英语: 16.80元 (含听力三盘磁带) 化学: 9.80元 政治: 10.80元 地理: 10.80元
(不含听力)

防伪查询办法

1. 用开书上的全国电话号码登录, 输入16位密码从该手机短信, 群站用户发短信GZA, 或从快书到90078, 或从用户发短信TP, 或从快书到9882025, 短信小灵通用户发短信2903, 或从快书到90029, 等待短信, 如为正版图书, 将送你一张高科技“密级会员证书”一张(价值70元);
2. 查询书封底显示为方正版书或科苑元的书标志, 请及时拨打电话010-8102132或进行网上登记, 等待快书服务, 北京每半年送100010信箱12分高外书函1份, 邮编: 100070, 半年及封底到正版图书并安排重新印刷, 以保证有效的打击盗版现象, 有重奖。
3. 印刷物作者/名/多, 不含印刷物。
4. 本北京快书特快书只售一书所有。

特别提示: “答案全解全析”单独成册, 夹在试卷中, 不单独出售。

- 谁选用了5·3, 谁就选择了一条正确的复习道路
- 谁选用了5·3, 谁就掌握了科学的复习方法
- 谁选用了5·3, 谁就会取得理想的高考成绩

——乔家瑞 (北京快书总编辑)

ISBN 978-7-81119-025-9



9 787811 190359 >

定价: 10.80元(含答案)

丛书策划: 曲一线

装帧设计: 北京快书



政治

首都师范大学出版社

2006年“好书教师评”评出的
最有价值的教辅图书

高考誓言

我宣誓：

我要把今天当作生命的最后一天，
我要忘记昨天的光荣和遗憾。

我要以真理埋葬怀疑，

我要用自信驱赶黑暗。

我要以智慧解开迷雾，

我要以勤奋书写灿烂。

我要让今天成为不朽的纪念日，

我要让心中的梦实现。

宣誓人：_____

2006年“好书教师评”评出的
最有价值的教辅图书

第一部分 2007年全国高考真题

政治单科

1. 2007年普通高等学校招生全国统一考试（广东卷）
2. 2007年普通高等学校招生全国统一考试（江苏卷）
3. 2007年普通高等学校招生全国统一考试（上海卷）

文综政治

4. 2007年普通高等学校招生全国统一考试（全国卷一）
5. 2007年普通高等学校招生全国统一考试（全国卷二）
6. 2007年普通高等学校招生全国统一考试（北京卷）
7. 2007年普通高等学校招生全国统一考试（天津卷）
8. 2007年普通高等学校招生全国统一考试（重庆卷）
9. 2007年普通高等学校招生全国统一考试（四川卷）
10. 2007年普通高等学校招生全国统一考试（山东卷）
11. 2007年普通高等学校招生全国统一考试（宁夏卷）
12. 2007年普通高等学校招生全国统一考试（广东卷·文科基础）
13. 2007年普通高等学校招生全国统一考试（山东卷·基本能力）

第二部分 2003-2006年全国高考真题

14. 2006年普通高等学校招生全国统一考试（全国卷一）
15. 2006年普通高等学校招生全国统一考试（全国卷二）
16. 2005年普通高等学校招生全国统一考试（全国卷一）
17. 2005年普通高等学校招生全国统一考试（全国卷二）
18. 2005年普通高等学校招生全国统一考试（全国卷三）
19. 2004年普通高等学校招生全国统一考试（全国卷一）
20. 2004年普通高等学校招生全国统一考试（全国卷二）
21. 2004年普通高等学校招生全国统一考试（全国卷三）
22. 2004年普通高等学校招生全国统一考试（全国卷四）
23. 2003年普通高等学校招生全国统一考试（新课程卷）

第三部分 答案全解全析及评分细则

曲一线高考命题研究组
曲一线高考网 **2008**

5·3金卷 ②

5年高考真题详解

政治

- 丛书主编：曲一线
- 本书主编：姜明涛
- 副主编：孔凡云 于建波 岳磊 戴玉兰 葛德林
- 编 委：李文斌 王玉萍 贾玉华 曹金环 史京梅 樊英新 王丽娟 张士华 高扬军 穆朝天 李文萍 傅长军 陈永明 袁明君 周小文



首都师范大学出版社

中国教育报 2006年“好书教师评”评出的最有价值的教辅图书

轻轻地告诉你

朋友，我正看着你呢，你也正看着我。

我这不是一幅色彩缤纷、线条优美的画卷，也许不能让你感受生活的美妙、世界的神奇；

我这不是一曲余音绕梁、三月不败的仙乐，也许不能让你领悟高山的淳朴、河水的真挚。

我只是一行行前人的足迹，引领你登上书山的峰顶；

我只是一句句殷切的叮咛，提醒你拾起遗忘的点滴。

啊，朋友！

其实，我是一页页在久久期待，期待首能与你研读的文字。

我给予你的，是需要你辛勤劳作的土地。

我爱你，我对所有的学子充满敬意；你虽辛苦，因此你也最美丽。

我爱你，你的勤奋、刻苦、拼搏、进取，将成为我永久的记忆。

我想对你说，拥抱明天，需要你学会做人，学会学习，学会生存，也需要你付出百倍努力，学会考试！

我想对你说，考试就意味着竞争，考试就意味着较量，考试就意味着连接，考试就意味着优胜劣汰。考试需要健康的体魄和坚韧的心理，考试更需要有坚韧的毅力和顽强的斗志。

第一部分 2007年全国高考真题

2007年是新课改高考的第一次，新高考的红盖头已经被掀起。新课改虽不彻底，但新课改必将翻天覆地。新高考是一次教育智慧的展示，新高考是一次教育思想的洗礼。新高考将给教育带来无限生机。山东、广东、海南、宁夏四省区率先尝试，新课改已取得骄人成绩。

第一部分是2007年全国高考真题，包括自主命题的全部真题试卷。2007年试卷覆盖面、信息准确。2007年高考真题蕴藏着命题人大胆的构思和创意，展示着课程改革的最新信息。2007年高考试题“删繁就简三秋树，领异标新二月花”，是2006年高考总复习必备的完成练习题。

第二部分 2003—2006年全国高考真题

自2004年以来，虽然越来越多的省份实行自主命题，但全国卷仍是高考的风向标和导航仪。练习全国试卷，就会把握高考命题的真谛。

第三部分 答案全解全析及评分细则

答案全解 这是对试题的透彻解析，这是对答案的最新诠释。答案全解将最大限度地切近命题人的思路，答案全析将充分挖掘命题人的巧妙立意。

评分细则 这是命题人给出的评分细则、步骤分、采分点，也是你总复习时提高主观题得分的金钥匙，你要探寻这其中的奥秘。这是评卷时间卷人的采分依据。

考试背景 分为“励志高考”“策略技巧”“阳光心态”三个板块，这是对学生信念的激励，这是对生命意志的唤起，这是智慧的加油站，这是心灵的栖息地。如果拥有了这个支点，你将会拥有解决所有问题的妙计。

我想轻轻地告诉你，所有的人，都在注视着你。

你抬头向上看，上面写着，我永远祝福你；你回身向后看，后面写着，我永远祝福你。这一点毫不动摇。

朋友，我正看着你呢，我也正看着你。

图书在版编目(CIP)数据

五年高考真题详解·政治/曲一线主编.—北京：首都师范大学出版社，2007.6

(5·3金卷)

ISBN 978-7-81119-035-9

I.五... II.曲... III. 政治课—高中—解题—升学参考资料
IV. G632.479

中国版本图书馆CIP数据核字(2007)第083464号

五年高考真题详解·政治

丛书主编 曲一线

责任编辑 宋好 责任校对 宋芳

首都师范大学出版社出版发行

地址 北京西三环北路105号

邮编 100037

电话 68418525(总编室) 60962468(发行部)

网址 www.cnuph.com.cn

E-mail master@cnuph.com.cn

北京市北中印刷厂印刷

全国新华书店发行

版次 2007年6月第1版

印次 2007年6月第1次印刷

书号 ISBN 978-7-81119-035-9

开本 787×1092毫米 1/8

印张 0.5

字数 270千字

印数 0.001—10.000册

定价 10.80元

版权所有 违者必究

如有印刷问题 请与010-63721419联系退换

2007年全国各省市高考政治考试形式、试卷结构及试题评价

广东省高考考试形式及试卷结构

考试大纲	课程标准实验版
考试形式	3+文科基础+X
命题形式	自主命题
时间分值	120分钟 150分
题型说明	试卷包括选择题I、选择题II、简答题、辨析题、论述题等五种题型。
试卷结构	试卷中包括经济生活(约30%)、政治生活(约20%)、文化生活(约20%)、生活与哲学(约25%)、时事政治(约10%)、选考部分(经济学常识和国际组织常识的5%左右)六个部分。
试题评价	2007年高考部分试题包括“经济生活”、“政治生活”、“文化生活”和“生活与哲学”4部分,覆盖了18个核心知识点。试题以社会生活实际为出发点,不回避热点问题。考查考生对政治学科中的基本概念和原理的了解,认识生活中的政治、经济及文化现象;着重考查学生运用、获取与解读信息、调动与运用知识简单分析相关生活现象的能力,以及以正确的价值判断对多种现象的能力。

江苏省高考考试形式及试卷结构

考试大纲	全国统一一考试大纲
考试形式	3+2
命题形式	自主命题
时间分值	120分钟 150分
题型说明	一、单项选择题 二、双项选择题 三、简答题 四、辨析题 五、论述题 六、综合探究题
试卷结构	试卷分为选择题(包括单项(1—24)和双项(25—33))共75分,简答题18分,辨析题36—37题计24分,论述题18分,综合探究题19分。

上海市高考考试形式及试卷结构

考试大纲	全国统一一考试大纲
考试形式	文科:3+综合+1; 高职、专科:3+综合
命题形式	自主命题
时间分值	120分钟 150分
题型说明	①选择题分为单项选择题和不定项选择题 ②简答题 ③辨析题 ④论述题
试卷结构	试卷分为“分叉部分”和“共同部分”。分叉部分分为A、B两组,两组试题分值相同;考生任选一组作答,但不能交叉作答,若考生交叉作答,则以所选组计分。“共同部分”为所有考生必须作答的试题。
试题评价	2007年高考政治试卷中,时政内容占有突出的比重,这主要是为了考查考生是否善于运用所学知识正确解读发生在身边的政治现象。但是,试题有意地将考生对时政的关注与所学教材知识紧密衔接起来,通过强调现实生活中政治分析的实际价值来激活教材知识,因此是2007年试卷重要价值取向之一。

全国卷一高考考试形式及试卷结构

考试大纲	全国统一一考试大纲
考试形式	3+(3+文科综合)
命题形式	统一命题
时间分值	150分钟,300分
题型说明	试卷分为第I卷和第II卷,第I卷为选择题,第II卷为非选择题,试题全部为必做题。

试卷结构

试卷包括第I卷(选择题)和第II卷(非选择题)两部分构成。第24—35题为政治部分,第39题、40(1)(6)同为政治部分。选择题(24—35题)每题4分,共48分。非选择题52分。政治部分为100分,古文综合题分的1/3,其中经济常识34分,占政治分值的34%。哲学常识36分,占政治分值的36%。政治常识30分,占政治分值的30%。

试卷今年的文综试卷,整体结构与去年相比基本稳定,只是第二卷主观题部分有变化,36、37题是地理部分,38题是历史部分,39题是政治部分,40题是理科综合题。整体难度从目前考生反映来看,与去年相比略有上升。总体评价,今年试卷在考查基础知识的同时突出了能力考查,试卷结构与难度上稳中有新,稳中有升,较好地体现了考试大纲,达到了为高校选拔人才的目的。

试题评价

纵观政治部分试题做如下粗略的分析。

客观题部分

1.突出基础知识。24题考查的是社会劳动生产率与价值的关系,25题考查的是企业兼并与破产的理论原因及结果,26题考查的是对消费品征税的目的,27题考查的是消费对生产的反作用,29题考查的是认识论中认识的过程,31题考查的是主要矛盾与次要矛盾的相关知识,32题是对政府职能与性质界定的考查,33题考查的是公民的权利与义务的关系及自由与法律的关系,34题考查的是中国共产党领导与权力机关的关系等相关知识,35题考查的是中国共产党领导的多党合作和政治协商制度,多党合作的基本活动准则。

2.稳中有新。这一点尤其体现在28题和30上,28题较好地突出了生活、灵活性,通过机器人的海底作业解决工作中的难题,引发人们对人类活动及智能机器人的思考,涉及哲学唯物论部分相关知识,30题考查对哲学联系部分相关的知识,唯物中配置禁忌同题同启示我们是“事物是普遍联系的”“我们要客观分析事物在联系中的性质和作用”,而不能由此得出我们要“客观分析”“客观研究”的方法和“控制事物研究事物的方法”,这两种研究方法在我们政治学科中涉及不多,不过在以往做题无差,考生完全可以用排除法做出此题。

3.多项组合选择题依然是重点考查形式,并有增多的趋势。在这套试题选择题部分12个小题中有9个是多项组合选择题,其中“四选二”的题占了7个,分别是25、26、28、29、30、33、34题,“四选三”的题占了两个,分别是32、35题。正如前面所说的,做好这类选择题关键是运用好“排除法”。一排除错误,二排除大于小项,三排除无关。正确地运用了这种解题方法做对此题并不难。

主观题部分

1.文科内综合题(39题)进入了大家共同关注的热点问题。

39题主要考查的是我国的对外开放进口结构问题的要求,考查出我国对贸易保护政策及存在的困惑,并据此材料中反映的问题提出解决思路,第三问要求运用政治常识有关国际社会的知识,分析我国政府为什么采取材料三中列举的措施后,既维护了我国的国家利益,又避免了贸易保护的升级。

这道题出了很大的争议,避开了和谐社会、民生问题、现代农业、节能减排、长征精神等社会热点,不过也是考查我们经常运用的唯物论知识,主要有:转变外贸增长方式,提高自主创新能力,自主知识产权,国际竞争,我国的外交原则等。

2.最后的三大综合主观题,突出了灵活性,突出能力立意。此题也联系了社会热点,最后40题选取了一段古文“金迁都燕京”把社会学综合到了一起,政治学部分主要考查的是“辩证唯物主义”的知识。(5)“从辩证唯物主义的 viewpoint,支持迁都一方的主张体现了哪些合理理想”,(6)运用辩证唯物史观原理评析阴阳五行说与“国家吉凶,在德不在地”这两种迁都观点。

此题突出了人文性,考查考生的文学功底和文化底蕴。表面上看是围绕燕京的原始较为宽泛“辩证唯物主义”,但是考生也应该根据材料中的主张来选择相关管理分析,不可泛泛地随意选取知识点来分析。

全国卷二高考考试形式及试卷结构

考试大纲	全国统一一考试大纲
考试形式	3+文科综合
命题形式	统一命题
时间分值	150分钟 300分
题型说明	与全国卷一相同
试卷结构	试卷分为两部分第I卷和第II卷,第I卷为选择题,政治部分为24—35题,共48分。第II卷为非选择题,政治部分为39题,40(6)(7)同,共52分。政治分共占文综的1/3。其中经济常识为24、25、26、27、39(1)、40(6)3分,占36%。哲学常识28、29、30、31、39(3)、40(7)共35分,占35%。政治常识32、33、34、35、39(2)共29分,占29%。
试题评价	2007年的文科综合题与2005年、2006年差不多,难度基本持平。今年文综高考试题的特点:一是突出知识面的考查,二是突出人文知识知识程度的考查。政治部分难度较去年有所加大,比较突出,要求考生要有较强的分析能力,不能呆板地根据题面来理解,平时学习先牢记硬背是行不通的,这说明对学生综合能力考查要求提高了。

北京市高考考试形式及试卷结构

考试大纲	北京市考试大纲
考试形式	3+2
命题形式	自主命题
时间分值	150分钟 300分
题型说明	试题形式与全国卷相同
试卷结构	试卷分为第I卷和第II卷两部分。第I卷为选择题,其中第24—35题为政治部分,共计48分。第II卷为非选择题,其中第38、39题(2)同,第40题(3)(4)同为政治部分,共计52分。其中经济常识25、28、29、38(2)、40(3)(4)共39分,占39%。哲学常识24、26、34、35、38(1)(3)(2)共计37分,占37%。政治常识30、31、32、33、38(3)共25分,占25%。
试题评价	北京卷的特点跟全国卷现在看有很多非常不同的点。全国卷的亮点更多的是在客观性试题上,而北京卷在求新求变的层面上更多的是在主观性试题上。

北京卷非常明显的三个特点:

第一,北京卷的基础性非常强,就是对基础知识的要求,无论是主观性试题还是客观性试题,这都非常非常非常强,基础性非常强。基础和力量是北京卷当中好像表现得综合性结合得更好一些。

第二,北京卷特别强调学生已有知识的整合和迁移、运用的能力。北京卷表现出一个明显的特点,从历史上来看,它的答案还是源于教材,高于教材。但是如何调动起来,在考试的时候和它的题,题题能够调动、对比、分析,而是,这是它考察的一个难度所在。题的创新并不是表现在答案上,而是题型的设置,设问的方式等方面。在这一点上,北京卷表现得非常非常强。

第三,北京卷的第三个特点,尤其是主观性试题,开放性比去年还要强,也就是有更大的开放性,开放性试题更多。这一点很显然是受新课程、新课标的重大影响。它很强调求,但是稳中求变。从整体来看北京卷的试题注重教材,但强调调动和运用的能力要求相当高。我从它卷面内容、考察内容和考察的方式,从这几个方面来粗略分析一下北京卷。

北京试卷从考察的难度来讲,选择题和主观性试题现在看不太一

2007 年全国各省市高考政治考试形式、试卷结构及试题评价

样。客观题非常的平,选择题表现得平,从选择题所选取的题干材料,所考察的内容都比较平,也就是说它不像全国选择题那样比较难,属于平考平选,这是一个。它对内容的考察也比较平,这个可以理解,因为基本上考察的都是基本知识,基础知识,主要是学生已经掌握的基础知识,这个为平。所以,北京考试具体地说,这个字就是“平”。

第二个字“稳”。这个稳主要是指难度来讲,尤其是选择题,难度如果平年比平,应该没有什么难的,非常稳定,也可以说难度不大。非选择题的稳定性,而且不论切入点、落脚点,最后落脚点基本上考查的知识点多。基本同学基础知识掌握的好,在做选择题的时候,应该大部分都能一眼就会,基本上题不多也就一做就对了,所以,题型平,内容稳。

这是具体的特点,稳。北京的这个充分体现了不同题型,所以它考察的知识点非常广泛,这一点从历史这个学科来看和全国不同,非常明显。北京对热点,尤其是考前两周同学们所做的热点题,反复复习,在北京当中几乎都有所反映,不同题型,但是反映很广,它还明显地体现出学科自己的特点。比如历史,它涉及的热点有儒学思想,中国自古以来重思想,儒家思想重孝道,儒家思想背后实际上是在现在非常提倡的中国传统文化和和谐社会,在儒家思想当中都有体现。在这个一个背景下,它以一个什么为平台?它以孔子创立的儒学思想源远流长影响广泛为平台,在这里以具体的知识点切入到题干,最后考查的还是历史学科的学科内容和学科特点,这个题目的非常成熟,所以,这是一个特点。

比如它也涉及一个热点——经济。近代经济史要强国,实际上就是工业化的问题,工业化是近代化在经济方面的问题。所以,这个背景是当代大家关注的学科的主干,学科的重点问题。但是它具体考的时候还是历史史,背景是人类当中重大的历史事件,但是落脚点考查还是具体的知识点。所以,选择当中非常注重基础。

政治也涉及,几乎所有的热点都涉及政治。政治涉及的是民主化,法制化。中国近代化史中国共两党均都通过争取权利来争取政权,考查的是法制化。

在世界史方面,世界史发展的趋势是一体化。认识世界史,有助于培养开放的世界意识,一体化就是世界一体化实际上发展到国际是全球化,世界从联系到联系紧密,到全球化,背景非常明确。有一个是广阔的背景,在这个背景下,以一个主题为切入点,在这个一个平台上以同学们应该掌握的重要的知识点作为平台,很好地理解历史知识,历史主题和时代特征之间的关联。而在命题过程中,历史学科又非常明确,那么在这种明显的学科下,题目又显得不难,只是基础好,在这部分应该得分不成问题。

在选择当中北京的命题形式,稳,不回避热点,但是也有一定的创新性。创新性主要表现在对具体的历史事件的应用,对图片的运用,主要体现在 23 题图 6、图 7。这道题实际上所反映的考查的具体内容比较多,实际上不是一道题,如果拆开,应该拆三道题。每一个图片作为一道题反映的历史信息都不对等上,要求三张图片和下面反映的信息都对应上以后,这样的选项才作为正确答案。这个题实际上在形式上和真正上略有创新。

其次北京命题的亮点在于主观性试题。所以,下面对主观性试题,我用几个字概括:第一,新。主观性试题新主要表现在创新上,重点放在环境,但是它用学习历史的重要方法作为一个平台和切入点,最后让同学们运用这些方法分析对中国历史的演变,这是一个。再有,这个试题所设问,尤其是对所设各问题的条件非常新颖,甚至有超出给条件的状况。如果同学们在分析题的时候不能很好的找出这些隐含的条件,做起来会感觉到不太好下手。

其实文科在主观性试题题设问的过程中需要逻辑思维,而这种逻辑思维在文科具体表现为什么?实际上逻辑思维表现为一种步步

递、逻辑性思维。文科对考生的逻辑性要求更高,它希望你自己去挖掘步骤,挖掘出步骤还要进行连续性思维,把隐含的条件慢慢的都揭示出来,然后再组织语言,按照人家的要求把问题回答好。北京试题中主观性试题都非常明显地表现了这一点,它要求考生具有一种抓问题、分析问题、对问题连续性思维的过程。在这个过程中,实际上要求学生在做题过程当中是要有一个连贯性思维,这个连贯性思维的起点是什么?应该是紧紧抓住试题当中所隐含的最有效的信息,那就是问。在题干当中,由于题干都非常明显,所以对问和问的限定条件,这种隐含性,是考生对生的一大考验,在这个当中,恐怕有一部分考生在答题的时候甚至不读,甚至从哪儿下手有一定的困难。

这道题 37 题,主要是在形式上的创新。

37 题第二问理论指导,它列了一个表,这个表并不新鲜,去年也有这个表,但是今年这个表比去年那个表复杂了,而且跟去年不一样。这种复杂情况表现在哪儿呢?这个表中,无论是理论来论,基本主张还是结论,实际上都给了一个答案,而这个答案的作用是什么?这就是对问的一种暗示和暗示的条件。你可以根据它所给的答案把它当作一个条件,参照这个条件来回答手下的问题,跟它对应的问。所以,北京的主观性试题我理解为:一个新。这种新主要表现在形式创新,而形式创新的根本表现在对问所给的限制条件创新,对同学来讲逻辑思维一定要强。不仅仅字、表,在形式创新的同时,试题的开放性也非常明显,这个开放性不仅反映在试题的表面上,甚至表现在试题的答案上,在答案上有很强的开放性,这种开放性让你自己去选。但是表面上你做题,你完成以后,你所运用的知识还是你头脑中已掌握的知识。所以,开放和收在开放性试题当中,知识的分叉性是历史年来我 personally 感觉是最好的一次。这样式的创新,它的开放性,它的内涵性,学生在做题的时候都会感觉到有点。所以,下一个字应该是,但是难的应该做引导,这个难并不表现在答案本身,而是你在头脑中掌握了那么多知识,如何调用,对应这个问,对应这个问的要求。很多同学在考前复习的时候,实际上对知识是一种复述性,或者象象自己的知识复印机,是复印式的,而考试是重新创造,而这时需要你自己的知识进行重新概括,这种转移和运用是把知识概括出来按照它的要求去运用,运用它的一个难度。也就是说知识本身要求并不高,而难的是知识在运用过程中你有什么样的概括性和创造性,这是它的难点。它也是具有继承性,借鉴了以前高考的新题型,尤其是北京高考的新题型,今年的表更加系统化和完整。

北京的新题型主要表现在主观性试题上,选择也是用了“平”、“稳”、“新”三个字概括。主观性试题用了“新”、“放”、“收”、“带”、“融”五个字来概括。希望我们这种分析对 2008 年考生的复习能够有所帮助。(韩秋评价)

天津市高考考试形式及试卷结构

考试大纲	全国统一考试大纲
考试形式	3+文综
命题形式	自主命题
考试时间	150 分钟 300 分
题型说明	与全国卷相同,第 I 卷为选择题,第 II 卷为非选择题。
试卷结构	试题分为第 I 卷和第 II 卷两部分。第 I 卷为选择题(25—35 为政治,每题 4 分,共 44 分。第 II 卷为非选择题,其中 38 题 4 问均为政治部分,共 36 分。第 39 题(9)(10)为政治部分,共 20 分。政治部分 100 分,占文综总分的 1/3;其中经济常识 36 分,占政治部分的 36%。哲学常识 37 分,占政治部分的 37%。政治常识 27 分,占政治部分的 27%。

重庆市高考考试形式及试卷结构

考试大纲	全国统一考试大纲
考试形式	3+文综
命题形式	自主命题
考试时间	150 分钟 300 分
题型说明	试题模式与全国卷相同
试卷结构	试题分为两部分。第一部分为选择题,第二部分为综合题。第 24—35 题为政治部分,第 38、39 题(6)(7)为政治部分。选择题 48 分,综合题 52 分。政治总分 100 分,占文综总分值的 1/3。其中经济常识 34,25,26,27,38(1),39(6)共 36 分。哲学常识 28,29,30,31,38(2),39(7)共 36 分。政治常识 33,34,35,38(3)共 28 分。

四川省高考考试形式及试卷结构

考试大纲	全国统一考试大纲
考试形式	3+文综
命题形式	自主命题
考试时间	150 分钟 300 分
题型说明	试题模式与全国卷相同
试卷结构	试题结构与全国卷相同
试题评价	文科综合测试强调对地理、历史、政治各学科知识的整体、综合把握;注重多层次、多角度分析问题、解决问题的思维能力,具体考查了考生“获取和解读信息”、“调动和运用知识”、“描述和阐释事物”、“论证和探究问题”四个层次的能力。第一,紧扣考试大纲,关注时代热点,强调知识应用,体现了“学习生活有用知识,学习终生发展有用知识”的理念。第二,重视基础知识,主干知识,色彩能力立意,突出了对学科思维方法和思维能力的考查。第三,人文资料浓厚,学科融合自然,凸显文科的熔合性。第四,取材丰富,图文并茂,科学性强,引用得当。试卷中的地图、景观照片、插图、历史照片、文物图片、漫画等,均源自国家正式出版的专著、杂志、报纸、刊物。

山东省高考考试形式及试卷结构

考试大纲	课程标准实验版
考试形式	3+3+文综
命题形式	自主命题
考试时间	150 分钟 240 分
题型说明	增加了选做题题型,做题模式采用“量腹节食,限量选做”的方式。试题包括第 I 卷和第 II 卷。第 I 卷分为选择题,第 II 卷分为非选择题。第 I 卷全部为必考题;第 II 卷分为必考题和选考题。第 17—25 题为政治部分,28,29,36,37 题为政治部分。政治部分为 240 分,分为政治、经济、哲学三部分。

试题评价	
------	--

宁夏回族自治区高考考试形式及试卷结构

考试大纲	课程标准实验版
考试形式	3+3+小综合
命题形式	全部自主命题
考试时间	150 分钟 300 分
题型说明	试卷分为 I 卷和 II 卷。第 I 卷为选择题,第 II 卷为非选择题;试题分必做题和选做题,必做题考查公共部分内容,选做题考查选做题内容。试题包括第 I 卷(选择题)和第 II 卷(非选择题)两部分构成。第 12—23 题为政治部分,第 38、39、40 题为政治部分。选择题(12—23 题)每小题 4 分,共 48 分。非选择题 52 分。政治部分为 100 分,占文综总分值的 1/3。
试卷结构	



2007年普通高等学校招生全国 统一考试(广东卷)

政治 1A

● 试题难度 适中 ● 难度系数 0.61

● 友情提示 易错题:24,25,34 较难题:28,31,41

(本卷满分150分)

一、选择题 1.本大题共26小题,每小题2分,满分52分。在每小题给出的四个选项中,只有一项是符合题意的。

1. 2006年7月1日至2007年12月31日,全国进行_____换届选举。本次选举涉及选民约9亿,产生代表300多万人。()

- A. 县乡两级人大
- B. 市县两级政协
- C. 农村村民委员会与城市居民委员会
- D. 市县级人大

2. 2006年10月8日至11日,中国共产党第十六届中央委员会第六次全体会议审议通过了《中共中央关于构建社会主义和谐社会若干重大问题的决定》。这个纲领性文件。()

- ①体现了全党全国各族人民的共同愿望
- ②开辟了中国特色社会主义事业的新境界
- ③对构建社会主义和谐社会具有重大指导意义
- ④反映了建设富强民主文明和谐的社会主义现代化国家的内在要求

A. ①② B. ①②③ C. ①②④ D. ①②③④

3. 2007年初,中共中央、国务院下发《中共中央国务院关于积极发展_____扎实推进社会主义新农村建设的若干意见》。这是继2004年以来,中央连续第四年制定的指导“三农”工作的“1号文件”。()

- A. 农业科技
- B. 生态农业
- C. 现代农业
- D. 绿色农业

4. 2006年5月20日,_____全线建成。它是世界上最大的钢管混凝土重力坝。()

- A. 三峡大坝
- B. 阿斯特大坝
- C. 三门峡大坝
- D. 葛洲坝

5. 2006年12月1日至15日,第十五届亚运会在卡塔尔首都多哈举行。中国代表团共夺得了163枚金牌,连续_____次在亚运会上夺得金牌榜第一位。()

- A. 十二
- B. 五
- C. 七
- D. 十五

6. 2007年2月27日,中共中央、国务院在北京隆重举行国家科学技术奖励大会。中国科学院院士、中国科学院遗传发育所研究员李振声获得2006年度()

- A. 国家最高科学技术奖
- B. 国家科学技术进步一等奖
- C. 国家自然科学奖
- D. 国家技术发明奖

7. 2006年11月18日至19日,国家主席胡锦涛在第十四次亚太经合组织领导人非正式会议上,提出了构建_____的主张,得到了亚太各国的广泛认同,并作为亚太大家庭成员共同努力追求的目标。()

- A. 和谐亚太
- B. 活力亚太
- C. 和平亚太
- D. 和谐亚太


8. 我国的基本经济制度是公有制为主体,多种所有制经济共同发展。对“公有制为主体”的正确理解是()

- A. 公有制在各个经济领域必须占支配地位
- B. 在混合所有制经济中,公有制成分必须保持在50%以上
- C. 公有制在各个地方都必须保持量和质的优势

D. 公有资产在社会总资产中占优势,国有经济控制国民经济命脉

9. 观察右图,判断2006年我国经济发展所呈现的态势

- A. 高速增长态势
- B. 高速增长态势
- C. 低增长低通胀
- D. 低增长高通胀



10. 近年来我国商品价格普遍上涨过快,为了抑制物价涨幅,政府可以采取的措施有()

- A. 增加商品供应量的供给
- B. 扩大商品总需求
- C. 减少商品用地的供给
- D. 减少商品用地的供给

11. 就文件传达方式体现的税收特征是()

- A. 无偿性 B. 强制性 C. 固定性 D. 自觉性

12. 从权利和义务的角度看,上述材料说明我国公民()

- A. 收入越高,义务越大
- B. 权利和义务都不容推卸
- C. 必须自觉履行义务
- D. 基本义务是不断变化的

13. 经济全球化及国际恐怖主义等因素促使国际间不断加强合作,但这种合作并没有消除各国在经济上的竞争和安全隐患。这说明影响国际关系的决定性因素是()

- A. 国家利益
- B. 国家性质
- C. 综合国力
- D. 国际竞争

14. 今年年初,应国家总理的邀请,12名院士下乡,为村民、下田再就业人员等基层代表,出席国务院常务会议,体现了()

- A. 公民直接行使国家权力
- B. 公民有对国家权力机关反映意见的权利
- C. 政府坚持依法行政的原则
- D. 政府体察民情,尊重民意

15. 某市政府规定,凡是市政府发布由政府同意以部门名义印发的涉及经济社会发展和群众切身利益的重要文件,均须经“解读”。强调解读文件“要使用人民群众听得懂、听得明的语言”。这一措施()

- A. 有利于人民群众了解和监督政府的工作
- B. 体现了政府管理职能,民主决策的工作态度
- C. 能使人民群众直接参与政府决策
- D. 保障人民群众享有更多的管理权和监督权

16. 民族区域自治制度是在国家统一领导下,_____的地方实行区域自治,设立自治机关,行使自治权的制度。()

- A. 各民族聚居
- B. 少数民族聚居
- C. 各民族居住
- D. 少数民族居住

17. 该党支部书记的做法体现了共产党员在实践中()

- A. 发挥先锋模范作用
- B. 坚持科学执政、民主执政、依法执政
- C. 落实从群众中来,到群众中去的工作方法
- D. 坚持了辩证的综合观

18. 上述材料中“一人富了不算富,大家富才算叫富”的观点,体现价值判断与价值选择是()

- A. 自觉遵循社会发展的客观规律
- B. 自觉遵循自然发展的客观规律
- C. 个人价值与社会价值的统一
- D. 在劳动中创造价值

19. 季羡林说:“凡是在知识上有进展而在道德上没有进展的人,那便不是进步而是退步。”这说明()

- A. 知识比道德更重要
- B. 加强知识与道德修养是无止境的
- C. 知识与道德两者相互联系缺一不可
- D. 知识修养的根本意义在于道德修养

20. 两千多年前,孔子提出了“君子和而不同”的思想。这一思想对中华文化产生了深远影响。“和而不同”反映了中华文化具有的特点是()

- A. 包容性 B. 先进性 C. 民族性 D. 地域性

21. 在长期生产劳动和社会生活中,广东人民创作了《赛龙舟》、《大实话》、《步步高》、《想打佢嘅》等一大批富有岭南特色的经典音乐,享誉中外。这说明()

- ①人们在社会生活中获得和享用文化
- ②人们在实践中创造和发展文化
- ③文化自然是人类的精神产品
- ④人民群众需要健康有益的文化

A. ①②③ B. ②③④ C. ①②④ D. ①③④

22. 一个男人在社会上可能扮演父亲、儿子、学生、教师、管理者、被管理者等不同角色。这种现象从哲学上反映了()

- A. 联系的客观性
- B. 联系的普遍性
- C. 联系的多样性
- D. 联系的普遍性

23. “集腋成裘,聚沙成塔”与“要饭一锅,不能十步;骑马千里,功在不合”共同蕴涵的哲理是()

- A. 量变引起质变,促成质变
- B. 量变是渐进的,不显著的变化
- C. 重视量的积累
- D. 重视事物的质变

24. 2006年12月,科学家通过比较火星探测飞船在过去7年中对火星表面相同地点拍摄的照片,提出一个大胆的推论——火星上现在就可能存在生命所必需的液态水。这一科学探索活动表明()

- A. 自然界的演化不可能受人类的影响
- B. 人类能够在实践中认识自然
- C. 人类能够在实践中改造自然
- D. 自然界随人类意识变化而变化

25. “人生譬如朝露,只有知道如何停止的人,才知道如何加快速度。”这句格言说明事物是()

- A. 相互依存 B. 相互转化 C. 相互渗透 D. 相反相成

26. 歌德的一首小诗:“少年,我爱你的忧愁;中年,我爱你的言谈;老年,我爱你的德行。”这含蓄蕴藉的哲理是()

- A. 不同事物有不同的矛盾
- B. 同一事物在发展的不同阶段有不同特点
- C. 矛盾的特殊性与普遍性是统一的
- D. 事物矛盾的两个方面各有特点

二、选择题 27. 本大题共8小题,每小题3分,满分24分。在每小题给出的四个选项中,有两项或两项以上符合题意要求。错选、多选、少选,该小题不得分。

27. 2003年~2006年我国城镇居民收入变化情况(单位:元)

类别	年份			
	2003年	2004年	2005年	2006年
城镇居民人均可支配收入	8 472	9 432	10 493	11 759
农村居民人均纯收入	2 622	2 936	3 255	3 587

根据以上材料,可以看出()

三、简答题:本大题共3小题。其中35、36题为选做题。考生只选做一题;作答前须将答案卡上做题题的题号对应的信息点用2B铅笔涂黑;漏涂、错涂、多涂的答案无效。

35. (7分) [选做题《经济学常识》]

英国经济学家亚当·斯密自由放任思想在对对外贸易方面的表现,就是主张对外贸易的自由化,反对对外贸易垄断和政府对对外贸易的政策。斯密这一主张的理论来源于他批判重商主义时提出的对外贸易优劣原理。为了论证对外贸易自由化的必要性,斯密提出了绝对成本学说。

请结合上述材料,简要回答:斯密如何运用绝对成本学说解释对外贸易的必要性?

36. (7分) [选做题《国家和国际组织常识》]

美国有众多利益集团,它们通过游说国会议员、政府官员以及组织游行示威等方式,影响选举及政策决策。其中,代表大企业、大财团等的利益集团对美国政治影响较大。

请结合上述材料,简要回答美国利益集团的政治作用。

37. (10分) 看漫画,运用《文化生活》的知识,回答下列问题。



取之不尽

注:本漫画系根据罗森的《取之不尽》改编。

(1) 这幅漫画反映了什么文化现象? 如何看待这种现象? (5分)

(2) 结合漫画,分析应如何正确对待中国传统文(5分)

四、辨析题:本大题共2小题,每小题11分,满分22分。仅作判断不说明理由不得分。

38. (11分) 某镇政府计划为某村招商引资,镇政府向村民详细介绍项目情况,并读村民共识。村民会议投票表决,同意在本村兴建厂。几年后,该项目取得良好的经济和社会效益,深受村民欢迎。镇政府威望也进一步提高。有人说:政府事事让村民决策,就能增强政府权威。

39. (11分) 人如鱼了文化,文化又促进了人的全面发展,所以要大办发展各种文化。

五、论述题:本大题共2小题,第40题17分,第41题18分,满分35分。要求紧扣题意,综合运用所学知识,结合材料展开分析。


40. (17分) 阅读以下材料,回答问题。

材料 某学生利用寒暑假深入农村进行社会调查。期间,他与农民同吃同住同劳动,向农民认真学习农村基层建设中存在的种种问题,并虚心求教解决这些问题的办法。在此基础上,他撰写了4万多字的《乡村调查报告》,其中反映的农村真实情况以及提出的合理建议,为当地社会主义新农村建设提供了有价值的决策参考。

问题:请运用《生活与哲学》知识,结合材料,分析该学生深入实际、调查研究,完成反映真实情况的调查报告所体现的求真务实精神。

41. (18分) 运用《经济生活》的有关知识,根据以下材料回答问题。

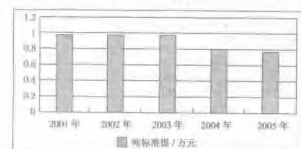
材料1 2001—2005年广东省能源消费变动状况



材料2 2001年—2005年广东省人均GDP变动情况

年份	2001年	2002年	2003年	2004年	2005年
广东省人均GDP(美元)	1 660.22	1 812.09	2 081.38	2 382.95	2 882.00

材料3 广东省单位GDP能耗变动状况



注:吨标准煤/万元是国际通用的能耗指标。

(1) 材料1、材料2和材料3各反映了什么经济现象? (6分)

(2) 材料1、材料2和材料3之间有什么联系? (5分)

(3) 材料2和材料3对我国经济发展有何启示? (7分)

- A. 城乡居民收入稳步增加
B. 城乡居民收入之间仍存在差距
C. 城镇居民人均可支配收入的增长慢于农村居民人均纯收入的增长
D. 城镇居民人均可支配收入的增长慢于农村居民人均纯收入的增长
38. 2006年是中国人加入WTO五周年。五年来,我国人均GDP由不足1 000美元提高到1 700美元,我国实际利用外资超过3 000亿美元,对外开放水平不断提高。这表明
- A. 经济全球化趋势迅速发展,各国经济联系日益密切
B. 当今的世界是开放的世界,中国的发展离不开世界
C. 提高对外开放水平,有利于提高社会生产力,综合国力和人民生活水平
D. 经济全球化主要是生产全球化,贸易全球化和资本全球化
39. 根据由第十届全国人大五次次会议审议和全国政协十届五次会议委员讨论提出的意见和建议,国务院对《政府工作报告》进行了仔细研究和认真修改。《政府工作报告》被修改33处,其中比较重要的修改有12处。这说明
- A. 国务院要对全国人大和全国政协负责和报告工作
B. 全国人大与国务院是监督与被监督的关系
C. 政协委员参与国家大政方针的协商
D. 全国政协与国务院是领导与被领导的关系
30. 2006年10月,中国—东盟建立对话关系15周年纪念峰会在广西南宁举行,中国和东盟全面合作关系得到进一步提升。中国进一步加强与东盟的关系
- A. 有利于维护亚太地区的和平与稳定
B. 体现了中国独立自主和平外交政策
C. 有利于睦邻友好,共同发展
D. 有利于地区经济交流与合作
31. 2006年5月,国务院公布了第一批非物质文化遗产名录,春节、中秋、端午等传统节日,白蛇传、烧纸、孟姜女等传说榜上有名。国家如此重视非物质文化遗产,说明
- A. 非物质文化遗产是传统文化的重要组成部分
B. 重视非物质文化遗产只是为了经济利益
C. 非物质文化遗产能满足人们的物质需求
D. 非物质文化遗产有利于增强民族凝聚力
32. 近年来,我国在世界许多国家成功举办“中国文化周”、“中国文化节”、“中国文化节”等活动,受到普遍欢迎。这说明
- A. 中国文化要成为世界文化的主流
B. 文化交融能促进中华文化的传播
C. 文化交融就是为了文化创新
D. 文化是民族魂,又是世界的
33. 赤潮作为一种自然现象自古就有,但随着工农业生产的迅速发展,水体污染日益加重,赤潮也日趋严重。近年来,人们采取了一系列治理措施,取得了明显效果。从尊重客观规律与发挥主观能动性的角度看
- A. 赤潮不能消灭但能有效控制
B. 赤潮不能消灭也不能根治
C. 人类总有一天能够消灭赤潮
D. 赤潮治理必须尊重客观规律
34. 有一则寓言:刺猬曾经上过很多次当,于是不再相信任何一个表示友好者,长了一身刺来保护自己。刺的效果当然明显,只是从此刺猬失去了很多朋友。这则寓言说明的哲学道理有
- A. 事物具有两面性
B. 任何事物都有主要矛盾和次要矛盾
C. 不能令大矛盾双方互相排斥的属性
D. 任何矛盾都有主要方面和次要方面

【试题难度】适中

【难度系数】0.63

【友情提示】易错题:11,16 较难题:25,37,38(2)

(本卷满分150分)

一、选择题1:本大题共24小题,每小题2分,共计48分。在每题给出的四个选项中,只有一项是最符合题意的。

1.中共十六届六中全会通过的《中共中央关于构建社会主义和谐社会若干重大问题的决定》指出,_____是中国特色社会主义的本质属性。()

A. 社会和谐 B. 发展经济 C. 共同富裕 D. 公平正义

2. 2006年10月22日,纪念红军长征胜利_____周年大会在北京隆重举行。长征的胜利,开辟了中国共产党领导下的光明道路,奠定了中国革命胜利前进的重要基础。()

A. 50 B. 60 C. 70 D. 80

3. 国务院决定从2006年起,每年6月的第二个星期六为中国的_____。()

A. 物质文化遗产日 B. 文化遗产日

C. 非物质文化遗产日 D. 文物保护日

4. 2006年4月,中共中央总书记胡锦涛在会见中国国民党荣誉主席连战及参加两岸经贸论坛的人士时强调,坚持_____是实现两岸和平发展的重要契机。()

A. 一个中国原则 B. 一国两制

C. 九二共识 D. 一国两体

5. 国家税务总局发布的《_____自行纳税申报办法(试行)》规定:2007年1月1日起,年所得_____万元以上的纳税人,在纳税年度终了后3个月内向主管税务机关办理纳税申报。()

A. 个人所得税 12 B. 消费税 12

C. 个人所得税 10 D. 消费税 10

6. 2006年5月,第60届联合国大会选举产生首届_____理事会,中国以146票当选为该理事会成员。()

A. 安全 B. 经社 C. 托管 D. 人权

7. 2007年2月,国家科学技术奖励大会在北京举行。南京大因冯本教授主持完成的“介电体晶格材料的设计、制备、性能和应用”荣获_____等奖。()

A. 国家最高科学技术奖 B. 国家自然科学奖

C. 国家科学技术进步奖 D. 国家技术发明奖

8. 早在20世纪50年代,中央就明确提出建设“社会主义新农村”。改革开放以来,中央的一些文件也有类似提法。2006年,中央又一次提出要坚持以科学发展观为指导建设社会主义新农村。这一过程说明()

A. 任何事物的发展都是前进性与曲折性的统一

B. 任何事物的发展总是从不完善到比较完善

C. 新事物最终必定要战胜旧事物

D. 旧事物还可能存在重新回到新事物

9. 赫拉克利特说,世界是一团永恒的活火,在一定分寸上燃烧,在一定分寸上熄灭。它包含的哲学道理有()

①世界是物质的 ②物质是运动的

③物质运动是有规律的 ④规律是可以认识和利用的

- A. ①②③ B. ①②④ C. ①③④ D. ②③④
10. 中共十六次代表大会,必须正确处理改革、发展、稳定的关系,把改革的力度、发展的速度和社会可承受的程度统一起来,促进社会协调发展。这在哲学上体现了()

A. 任何两个事物之间都存在内在联系

B. 事物的联系是多样的

C. 事物是相互联系着的有机整体

D. 事物的联系是有条件的

11. “天智若愚”所蕴涵的哲学道理是()

A. 要把做好事物的度

B. 任何事物都有其两面性

C. 要重视两点论与重点论的统一

D. 现象与本质的关系具有复杂性

12. 哲学基本问题在人们的现实生活中表现为()

A. 人与人的关系 B. 社会与自然的关系

C. 人与世界的关系 D. 主观与客观的关系

13. 党和政府的重大决策都要从人民群众的实践中汲取智慧,总结经验,都要依靠人民群众付诸实施,取得成功。这体现了()

①人民群众是实践的主体 ②认识的主体是中国共产党

③实践是认识的基础 ④从群众中来到群众中去的工作方法

A. ①②③ B. ①②④ C. ①③④ D. ②③④

14. 从右边漫画中可以看出,“生活导师”南昌告实际上否认了()



“生活导师”的忠告

A. 人是一种自然存在物 B. 人与自然界的有机联系

C. 人生活在多重社会关系之中 D. 人的活动的有意志性

15. 近年来,各级政府加大了对灾民地区的财政、科技等方面的扶持力度,有些地方逐步脱贫致富,但少数地区仍未走出困境。这个现象说明()

A. 对内因与外因的作用能一贵而而论

B. 外因并非在任何情况下都起作用

C. 内因在何种情况下都是变化的根据

D. 外因有时也能起决定作用

“请上批判网,反对网权网反。”(《文汇报·黄报网》)据此回答16—17题。

16. 这句话体现的哲学道理是()

A. 矛盾双方必然相互转化 B. 量变到一定程度必然会引起质变

C. 事物发展总是由内因到外因的统一 D. 事物是在曲折中发展的

17. 从经济学角度看,这是()

A. 价值规律的表现形式 B. 计划机制作用的结果

C. 劳动法定价值的体现 D. 供求关系对价值的影响

18. 第十届全国人大五次会议通过的《中华人民共和国物权法》规定:国家、集体、私人的物权和其他权利人的物权受法律保护,任何单位和个人不得侵犯。这一规定()

①有利于维护社会主义市场经济秩序

②重在保护个人的私有财产

- ③意在提高股份经济在公有制经济中的比重
- ④有利于促进公有制经济和非公有制经济的共同发展
- A. ①② B. ②③ C. ①③ D. ①④
19. 十届全国人大五次会议通过的《政府工作报告》指出:一定要守住全国耕地不少于18亿亩这条红线,实现土地资源的集约、节约使用。这是()

A. 巩固农业基础地位的要求

B. 发展优质高效农业的关键

C. 建设社会主义新农村的首要任务

D. 规范土地承包经营权流转的要求

20. 目前活跃在中国互联网上的流氓软件大概有100多种。只要上网,你的电脑就有可能被强行安装流氓软件。流氓软件不但会占用系统资源,同时还有可能被用来窃取信息,损害上网者的利益。流氓软件经营者的这一行为()

①侵犯了消费者的自主选择权

②利用了市场经济的固有缺陷

③体现了市场经济的一般特征

A. ①②③ B. ①②④ C. ①③④ D. ②③④

21. 被誉为“中国汽车名片”的奇瑞汽车,2006年出口约5万辆,成为我国第一个通过自主技术研制的汽车出口企业,经济收益大幅增长。这表明企业是()

A. 以营利为目的的经济组织 B. 以服务为目的的经济组织

C. 以出口为目的的经济组织 D. 以创新为目的的经济组织

22. 2006年11月30日,中国天主教爱国会江苏徐州教区王仁雷神父举行了继任主教授圣仪式。天主教称这一做法违反了教规。国家宗教局回应说,自行祝圣是中国内部事务,这体现了我国()

A. 依法加强对宗教事务的管理 B. 充分保护宗教信仰自由

C. 支持宗教界积极开展对外交往 D. 坚持独立自主自办教会原则

23. 近年来,人大代表致函省人大基层,倾听民声,了解民情,反映民意。在今年全国人大会议期间,一位人大代表说了这样一段话:“动物怕狗怕猫,吃植物怕毒素,喝饮料怕色素,吃什么心里数。”以期引起政府高度关注食品安全。这一材料表明()

A. 人民代表大会制度是我国的根本政治制度

B. 监督和反映群众的意见与要求是人大代表的职责

C. 全国人民代表大会是我国的最高权力机关

D. 人大代表代表人民和志愿行使国家行政权力

24. 目前,发达经济中国和中国东盟各国最为关心的问题,由于地域和经济关系等因素,双方日益形成一种命运共同体,中国和东盟的战略伙伴关系进一步得到巩固。这说明()

A. 竞争、合作是国际关系的基本形式

B. 主权国家是国际关系的主要参与者

C. 维护国家利益是主权国家制定和推行对外政策的依据

D. 国际组织在国际社会中发挥着积极作用

二、选择题16:本大题共9小题,每小题4分,共计36分。在每题给出的四个选项中,只有两项是符合题意的。错选、少选或多选,该题不得分。

25. 我国外向型经济比较发达的省(市)之一,在其他条件不变的情况下,人民币持续升值对我省经济和人民生活的影响表现在()

A. 增加了进口技术设备的成本

B. 有利于提升出口商品的市场竞争力

C. 有利于促进外贸出口增长方式的转变

D. 可以减少居民赴美留学、旅游的费用

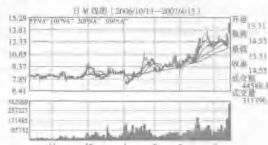
26. 节俭可以减少浪费。经济学家恩格斯提出了节俭论,认为节俭对个人、家庭来说是美德,而对社会节俭则意味着支出减少,导致有效需求不足,阻碍经济发展,造成失业增加,收入减少。这启示我们()

- A. 个人应该坚持节俭, 社会应该扩大消费
 B. 消费决定生产, 政府应当适当限制消费
 C. 既要勤俭节约, 又要适度消费
 D. 应重视消费对生产的影响, 积极引导消费

37. 2007年3月新通过的《中华人民共和国企业所得税法》规定, 在中华人民共和国境内, 外资企业与内资企业的所得税税率均为25%。这改变了以前内资企业税负高于外资企业的状况。该法的通过有利于

- A. 内、外资企业的公平竞争
 B. 更大规模地吸引外资
 C. 提高引进外资的质量
 D. 进一步强化投资的固定性

38. 下图反映了某一股票的价格波动情况, 从中可以看出



- A. 企业经营状况直接决定股票价格的波动
 B. 股票价格波动具有很大的不确定性
 C. 股票具有高风险高收益同在的特点
 D. 股票价格的波动取决于股民的心理预期

39. “脱套四年半, 一病回从前, 得了阑尾炎, 白疼一年田”, 这是一位全国政协委员在今年“两会”期间提出的一段描述“看病难、看病贵”的顺口溜。对此, 国家正在加强对医药生产和流通领域的监管, 积极建设覆盖城乡居民的基本卫生保健制度, 从政府角度看, 国家的这一举措表明

- A. 国家在履行管理经济的职能
 B. 国家在履行社会公共服务的职能
 C. 医疗卫生费用属于国家公共财政支出
 D. 体现了政协在国家管理中的决策权

30. 下边漫画中的主人公之所以产生困惑, 是因为他



难以领悟

- A. 不懂得政协具有一定的相对独立性
 B. 不清楚事物矛盾都有其普遍性

C. 不了解事物矛盾都有其特殊性

D. 不明白民主发展是一个渐进过程

31. 人的智力层次如何人如何学会改变自然界而发展的, 这一名言蕴涵的哲学道理有

- A. 人们在改造世界中提高认识世界的能力
 B. 人们认识世界的目的是为了为了更好地改造世界
 C. 人们改造主观世界可以高度改造客观世界的观念
 D. 人们在改造客观世界的过程中改造主观世界

32. 对于自己拥有的珍贵东西, 我们往往“不识庐山真面目”, 有时候需要通过别人的评价, 才能真正认识它。这说明

- A. 本质隐藏在事物内部, 只有靠个人是不可把握的
 B. 只有摆脱自身经验经验的限制, 才能真正地认识事物
 C. 只有从他人的评价出发, 才能客观地全面地看问题
 D. 只有坚持唯物辩证法, 才能如实地反映事物的本来面目

33. 海军大连舰艇学院方永刚教授, 把传播和实践党的创新理论看作是生命的最大价值, 看作是自己的“生命之舟”和“信念支撑”。他为宣传党的创新理论作出了重要贡献, 因而得到了党和人民的高度评价。这说明

- A. 集体主义是人人都在践行的价值观
 B. 脚踏实地做好本职工作是实现人生价值的重要途径
 C. 个人对社会的贡献是人生价值的根本标志
 D. 方永刚的行为是正确价值观的评价标准

三、简答题: 本大题共2小题, 每小题9分, 共计18分。

34. 《中华人民共和国宪法》第四十一条规定: “中华人民共和国公民对于任何国家机关和国家工作人员, 有提出批评和建议的权利。”

宪法赋予公民监督权利的根本原因是什么? 公民如何正确履行监督权?

25. 文化在经济发展 and 人们生活中的地位日益重要。江苏能源和矿产资源匮乏, 但文化资源丰富; 制造业发达, 而文化产业相对滞后。据此, 省委省政府提出了大力发展文化产业, 积极推进文化强省建设的战略。结合材料, 运用经济常识说明江苏发展文化产业的意义。

四、辨析题: 本大题共2小题, 每小题10分, 共计20分。

36. 在我国, 公民纳税越多, 享有的公共服务也越多。

37. 古人云: 疑乃觉悟之始, 小疑则小悟, 大疑则大悟, 不疑则不悟。

请就, 怀疑是创造性思维的源泉。

五、论述题: 本题18分。要求紧扣题意, 综合运用所学知识, 结合材料展开说明。

38. 材料一 中共十六届六中全会指出, 社会主义和谐社会是充满活力的社会, 也是团结和谐的社會。增强全社会参与活力, 形成万众一心共创伟业的良好局面。

材料二 江苏创新创业能力一直位于全国前列, 但与发达国家相比, 还有较大

差距。江苏拥有自己品牌和自主知识产权的企业和产品证很少, 创新绩效偏低。据此, 省委省政府提出了以“树立创新创业”为核心的新江苏精神, 使江苏经济又展现出了由投资驱动向创新驱动、资源依赖向科技驱动, 江苏创新向江苏创造转变的良好趋势。

材料三 目前江苏创新创业创优的社会氛围正在形成, “创”“领”“活”的接受体制、政策、观念等要素制约; 如把冒失者视为“异类”, 把打破常规者视为“异类”, 只防出不了类, 只求保险不愿冒险; 民众对创新创业的机制尚不完善……

材料四 2006年9月, 江苏省省委省政府出台的《关于进一步加快民营经济发展的若干意见》规定, 国家法律法规明确规定未禁入的领域外, 民营经济都可平等进入。这些措施体现了社会主义市场经济的平等性、竞争性。这些措施利用了市场经济的公平与竞争机制, 可以激发民营企业的经营创业积极性。

(1) 结合上述材料, 从历史唯物主义观, 谈谈江苏为什么要大力弘扬“三创”精神。

(2) 比照材料四, 针对材料三中的问题, 从经济常识、政治常识角度应如何激发社会活力各提一条建议, 并简要分析说明。

六、综合探究题: 本大题19分。要求紧扣题意, 结合情景, 综合运用所学知识和方法, 展开探究和分析。

39. 某中学门口因小摊贩设摊, 引起交通堵塞。在城管执法过程中, 摊贩与城管时常发生冲突。针对这一现象, 该校部分学生成立探究性学习小组, 进行相关调查。

一些同学进行实地考察:

城管人员认为: 小摊贩无证经营, 到处乱摆摊, 造成交通堵塞, 严重影响市容。

小摊贩王大爷表示: 办证钱不想交? 可我们是小本经营, 赚的勉强够糊口, 摊位租金又贵, 停在马路上还(不)停, 学生放学摆摊大多流下面人员和外来务工人员。

商家认为: 小摊贩设立合法方便且价格便宜。

另一些同学通过资料查阅, 收集到以下资料:

某城市有无证摊贩近5万, 以前一味采取简单的取缔办法, 给居民生活带来诸多不便, 后认识到与其死堵不如疏导, 改进了管理办法, 取得了较好的效果。

针对上述现象, 请你与同学们一起探讨:

(1) 运用经济常识说明小摊贩经营活动存在的原因。

(2) 运用哲学常识说明城管人员、小摊贩和商家三者的观点为什么不一致。

(3) 运用所学知识, 结合别国经验, 谈谈如何化解城管人员与小摊贩之间的矛盾。

(4) 反思并概括本次探究性学习过程中认识问题和解决问题的思路和方法。



2007年普通高等学校招生全国统一考试(上海卷)

政治

3A

● 试题难度: 适中

● 难度系数: 0.58

● 友情提示: 易错题: B组3, 共同20 较难题: A组18

(本卷满分150分)

分叉部分

A组(适合使用二期“课改教材的考生)

一、单项选择题(8分,每小题2分,每小题只有一个正确选项。)

1. 十届全国人大二次会议通过的《宪法修正案》把“国家尊重和保障人权”正式载入国家的根本大法。对任何国家和民族来说,人权的首要内容是
 - A. 知情权与监督权
 - B. 平等权与自由权
 - C. 生存权与发展权
 - D. 表达权与参政权
2. 江泽民指出:在人类战争史上——先后经历过冷兵器战争,热兵器战争,机械化战争,几次重大军事变革。目前正在发生的新军事变革,是迄今人类历史上影响最为广泛深刻的一次。在这个新军事变革的推动下,我军必须——,为目前构建现代作战体系,努力构建高技术特别是信息化条件下的高精战争
 - A. 技术本位
 - B. 信息化
 - C. 信息化
 - D. 知识化
3. 2006年我国部分城镇居民个人收入的增长高于应缴纳的税金,社会保障金的增值,因此该年度他们的个人可支配收入
 - A. 增加
 - B. 减少
 - C. 不变
 - D. 变动不确定
4. 我国社会主义市场经济体制时间不长,但传统文化因素下的一些规范,如“真君子义内取财”、“大丈夫仁中取利”已超越了现代市场经济学要求的
 - A. 竞争原则
 - B. 诚信原则
 - C. 互利原则
 - D. 逐利原则

二、不定项选择题(12分,每小题3分,每小题有一个或一个以上的正确选项,全部选对才计分,多选、少选、错选不给分。)

16. 从“人治”走向“法治”是政治文明进步的重要标志。在历史上,作为不同的治国方式和理论,“人治”与“法治”的对立主要表现为
 - A. 前者主张实行专制,后者主张实行共和制
 - B. 前者主张专制手段,后者诉诸劝导方式
 - C. 前者主张依贤能人治国家,后者主张依法律治国家
 - D. 前者主张随意性、多变性,后者具有一致性、稳定性
17. 改革开放以来,依德施治和法治,我国已初步建立起完整、全面的行政监督体系。请选择适当的选项完成下图



18. 实施“走出去”战略是我国对外开放新阶段的重大举措,只有“引进来”与“走出去”同时并举,中国经济才能在更大范围内和更高层次上参与国际竞争与合作。下列情况中属于“走出去”的是
 - A. 中国海尔集团在海外建立分公司
 - B. 中国 TCL 集团收购法国汤姆逊公司
 - C. 中国一家建筑公司承建国外住宅工程
 - D. 中国银行向美国花旗银行转让部分股权
19. 几位业主联手创办了一家广告策划公司,他们开经营的基本要素有
 - A. 一定数量的资本
 - B. 管理人才及员工
 - C. 经营场所
 - D. 拥有大量客户

四、简答题(10分)

23. 二战期间,国际红十字会向纳粹集中营里的囚徒提供一些食品、衣服、香烟等物品。战俘们因此进行商品交换或用劳券换取运输的行为经常发生,这使中、苏囚徒逐渐为大家普遍接受接受物品,例如,1件衬衣值80支香烟,为他人洗1件衣服可抵2支香烟……

请运用所学经济常识简要回答:
(1)在这个故事中,香烟充当了何种角色?执行了哪些功能?(6分)

(2)为什么香烟从普通消费品变成了具有特殊功能的物品?(4分)

B组(适合使用二期“课改教材的考生)

一、单项选择题(8分,每小题2分,每小题只有一个正确选项。)

1. 恩格斯把历史上走过的国家分为三种类型:“在古代是占有奴隶的公民的国家,在中世是封建贵族的国家,在我们的时代是资产阶级国家。”恩格斯划分国家的依据是
 - A. 国家政权的时代特征
 - B. 国家政权的组织形式
 - C. 国家政权的阶级性质
 - D. 国家政权的职能类型
2. 2007年1月,中国外交部发言人在例行记者会上表示,中方愿同梵蒂冈在承认“一个中国”的前提下建立正常的国家关系。外交部发言人进一步指出,双方不得干涉中国内政,包括不得以宗教事务为名干涉中国内政事务。这个主张主要体现了
 - A. 我国公民有宗教信仰的自由
 - B. 我国保护宗教团体的合法权益
 - C. 我国引导宗教为社会发展服务
 - D. 我国宗教坚持独立自主原则
3. 一个中国公民在美国工作,他在美国的收入应计入我国的
 - A. 社会总产值
 - B. 国内生产总值
 - C. 国民生产总值
 - D. 净出口总值
4. 在1992年的南方谈话中,邓小平明确提出:判断改革得失成败的标准,即
 - ① 是否有利于增强社会主义制度的巩固力
 - ② 是否有利于深化改革的开展
 - ③ 是否有利于发展社会主义的生产力
 - ④ 是否有利于提高人民的生活水平

二、不定项选择题(12分,每小题3分,每小题有一个或一个以上的正确选项,全部选对才计分,多选、少选、错选不给分。)

20. 2006年以来,中央继续深入开展廉政建设和反腐败斗争,一批违法违纪的高官员纷纷落马,受到法律制裁。这体现了
 - A. 公民权利和义务统一的原则
 - B. 公民在法律面前一律平等的原则
 - C. 保持社会稳定是社会主义基本原则的必然要求
 - D. 保护社会主义制度必须依法惩治腐败
21. 根据今年5月4日英国地方选举中,工党的主要对手保守党共获得大约40%的选票,如果保守党能继续获得支持,并在2007年的英国议会选举中赢得多数,则保守党将把工党赶下台。另据报导,目前由于布莱尔辞去工党领袖职务,工党于近期党内选出的新领导人,以接替和莱尔担任一职。上述报道反映了英国政治制度以下特点
 - A. 议会党制上议院的政党组成内閣
 - B. 典型的两党制国家
 - C. 政府首脑由多数党领袖担任
 - D. 政府首脑只对选民负责
22. 2007年5月9日,上证指数突破4 000点,与去年同期相比涨幅150%,市场的日成交量创下历史新高,股价普遍上涨。这次推动股价上涨的因素有
 - A. 居民收入增长,市场资金充裕
 - B. 实体经济趋于成熟,投资风险下降
 - C. 国家政策支持,投资者对未来普遍看好
 - D. 国家经济持续发展,上市公司整体业绩提高

三、简答题(10分)

24. 防止经济生活出现过高通货膨胀是政府宏观调控的重要任务。发生通货膨胀时通常会出现
 - A. 金融普遍滞销
 - B. 正常的商品流通秩序被扰乱
 - C. 居民生活消费价格上涨
 - D. 物价全面持续上涨

四、简答题(10分)

29. 十九世纪美国作家马克·吐温在《竞选日记·科波菲尔》中写到:年收入二十镑,开支十九镑九先令六便士,称为是幸福;年收入二十镑,开支二十镑零八先令六便士,称为是痛苦

(1)基于更高层次的“幸福”和“痛苦”的依据是什么?(5分)

(2)同样是“年收入二十镑,年支出十九镑九先令六便士”的人,获得“幸福”的程度也可能不同,为什么?(15分)

共同部分

一、单项选择题(22分,每小题2分,每小题只有一个正确选项。)

5. 去年12月12日,上海市许多区县举行了这些人民代表大会换届选举,选民踊跃投票,行使了
 - A. 公民的集会结社自由权利
 - B. 公民的选举权利
 - C. 公民的监督权利
 - D. 公民的言论自由权利
6. 社会保障体系的重要组成部分,保障在经济生活中的基本功能是
 - A. 提供金融投资资本
 - B. 分散风险,补偿损失
 - C. 为经济活动提供资金
 - D. 提供抗风险的预防性服务
7. 2006年我国财政收入呈现新的特点,东部、中部、西部财政收入全面增长。其根本原因是
 - A. 国家对税收制度进行了改革
 - B. 国家的宏观调控不断加强
 - C. 我国积极控制,稳定、协调发展
 - D. 公民的纳税意识得到了增强
8. 2006年长江三角洲地区16个城市经济持续发展,产业结构有所变化,第一产业比重下降了0.4个百分点,第三产业比重上升了0.4个百分点。这说明长江三角洲地区
 - A. 农业经济显著下降
 - B. 产业结构不断优化
 - C. 社会主义新农村建设仍然是重中之重
 - D. 服务业已取得主导地位

二、不定项选择题(12分,每小题3分,每小题有一个或一个以上的正确选项,全部选对才计分,多选、少选、错选不给分。)

9. 近年来,最低工资标准的执行在我国经济生活中发挥了重要作用,国家规定,在最低工资标准控制问题上,根据不同地区经济发展水平,采取不同的提高政策。这体现了
 - ① 生产决定分配
 - ② 社会保障制度不断完善
 - ③ 具体问题具体分析
 - ④ 内因与外因辩证统一
10. 2006年底,国务院国资委出台《关于推进国有企业重组和调整优化国有企业主业指导意见》,明确了161户中央企业在国有资本调整重组范围内,提出合理收缩中央企业的分布范围,推进国有资本的关系国家安全、国民经济重要行业和重大基础设施等六大领域集中。这体现了
 - ① 有利于增强国有经济在关键领域的控制力
 - ② 有利于国有资本产出的提高
 - ③ 有利于国有资本在国民经济总资产中占优势
 - ④ 有利于巩固国有经济的主导地位

三、不定项选择题(12分,每小题3分,每小题有一个或一个以上的正确选项,全部选对才计分,多选、少选、错选不给分。)

11. 我国的中央银行是政府银行,发行的银行和银行的银行,下列属于我国中央银行职能的是
 - A. 开展保险业务大型客户营销活动
 - B. 为外国企业办理国内外结算
 - C. 代理发行国债
 - D. 调整人民币存款基准利率
12. 美国《泰晤士报》日前撰文指出,低成本制造业的全球竞争即将结束,中国在研发领域的投入将超过日本跃居世界第二,高新制造业有必要迎接新的挑战。这段话说反映了
 - A. 美国正努力提高制造业产品的技术含量和附加值
 - B. 我国与世界各国的技术合作将进一步加强
 - C. 我国已不再发展低成本的制造业
 - D. 美国已成为贸易强国

四、简答题(10分)

13. 今年我国首次实行个人所得税的专项附加制度,在下图所示“所得项目”中属于资本要素分配的是
 - A. 国债利息
 - B. 银行存款利息
 - C. 股票股息
 - D. 房屋租金

个人所得税申报表(节略)

纳税人姓名 Taxpayer's name	身份证号 ID
所得项目 Category of income	应纳税额 Tax payable
①工资、薪金所得 Wage and salaries	
②稿酬所得 Author's remuneration	
③利息、股息、红利所得 Interest, dividends and bonuses	
④财产租赁所得 Income from lease of property	

- A. ①⑤ B. ②⑤ C. ②⑤ D. ①②
14. “宣传党的创新理论的楷模——方永刚”的先进事迹感动了千千万万的人,“方永刚”三个字成为今年4月份“旅行团”排行榜榜首。他说:“人活着就要负责,就要全身心投入到事业中去……”方永刚的事迹表明
- A. 有价物的人生是能够创造个人利益的
B. 衡量个人社会价值的标准是社会舆论
C. 社会给予个人的尊重和满足是第一位的
D. 个人对社会的责任和贡献是人生价值的主要内容
15. 旅行家保罗·泰鲁在《游历中国》中写到:“有昆仑山脉在,铁路就永远运不了拉萨。”然而,青藏铁路的建设者们依靠智慧与勇气,破解了多年难上,高原缺氧生态环境脆弱三大世界难题,创造了“天堑变通途”的人间奇迹。青藏铁路的建设表明

- A. 人类可以认识和利用规律造福自身
B. 实践活动不受客观条件的制约
C. 发挥主观能动性可以创造一切奇迹
D. 人类已经全面摆脱自然规律

二、不定项选择题(12分,每小题3分,每小题有一个或一个以上的正确选项,全部选对才给分,错选、少选、多选不给分。)

20. 人大设立常委会是我国人民代表大会制度的一个重要特点。在下列关于人大常委会的表述中,正确的有
- A. 各级人大设立常委会,作为同级人大的常设机关
B. 人大常委会在人大闭会期间依照宪法行使部分国家权力
C. 人大常委会的设立可以保证人大对其他国家机关实施经常性监督
D. 人大常委会与人大是隶属关系,对人大负责,受人大监督
21. 建立和完善社会主义市场经济需要法律的保障。这表明
- A. 政府的宏观调控要于法律规范之下
B. 企业的经济活动必须依法进行
C. 各市场主体间的活动必须受法律制约
D. 市场秩序的建立需要法律的保障
22. 胡锦涛同志指出,我国要共同建设、共同享有贯穿于和谐社会建设的全过程,真正做到共建共享中共,在共享中共建。共建共享理论本身所蕴涵的道理是
- A. 人民群众是社会变革的决定力量
B. 人民群众可以创造真理
C. 人民群众的实践是认识发展的动力
D. 人民群众是社会财富的创造者
23. 在下列成语中,能够体现量变和质变辩证关系的是
- A. 庖丁解牛,游刃有余 B. 邯郸学步,水滴石穿
C. 一叶障目,不见森林 D. 失之东隅,收之桑榆

三、填空题(4分,每小题1分。)

24. 2006年10月22日,在北京人民大会堂隆重举行纪念中国工农红军长征胜利_____周年大会。
25. 由中共中央文献研究室编撰,人民出版社出版的《_____文选》第一至第三卷于2006年8月10日起在全国发行。
26. 2007年3月16日,十届全国人大五次会以表决通过_____法,企业所得税法和其他法律文件。
27. 中共中央、国务院发布《2007年1号文件,深刻把握发展_____是社会主义新农村建设的首要任务。

28. 2006年6月10日是中国第一个“_____”,主题是“保护文化遗产,守护精神家园”。
29. 2007年世界转经会在_____城市举行。
30. 2006年10月13日,第61届联合国大会_____为联合国第8任秘书长。
31. 2006年8月14日,国际天文学联合会大会决定,将原太阳系九大行星中的_____定为“矮行星”,从而使它失去行星地位。

四、简答题(28分)

32. 近年来,中国政府倡导建立和谐国际新社会,并将和谐理念延伸到处理国际事务的实践中,逐步形成了新的外交理念。
- (1)这个新的外交理念被称为_____。(2分)
- (2)2006年以来,我国外交成果斐然,试举两例。(6分)

34. 2007年1月,在征集广大市民意见,听取各界意见并与各职能部门沟通的基础上,上海市政府出台了《上海市公共租赁住房建设实施意见》,完善救助人员服务设施及养老服务政策,实施公共交通工具优惠措施,农村中小学信息化设施项目建设,完成200家标准化菜市场建设”等一系列今年要完成的实事,并已着手实施。

- 请运用所学政治常识回答问题:
- (1)市政府的上述举措体现了政府什么职能? 决定市政府采取这些举措的根本原因因是什么?(4分)
- (2)为使市政府更好地完成上述实事,请你选择其中一项,提出一条合理、可行的建议。(3分)
35. 教育公平是重要的社会公平。今年全国财政收入调剂又义务教育经费比上年增加395亿元,今年起全国农村义务教育阶段的学杂费将全部免除,中央财政拨款95亿元专门用于帮助高等学校与中等职业学校的困难学生,国家的助学贷款政策也得到进一步落实。
- (1)国家财政对教育的投入属于国民财富两次分配中的哪一次分配?(2分)
- (2)实现教育公平必将推动经济和社会更好地发展。请运用所学经济常识简要回答其原因。(4分)
- (3)针对当前比较突出的社会矛盾,政府在经济发展的基础上加大对教育的投入,这符合唯物论的什么观点及方法论要求?(4分)

五、分析说明题(30分)

36. 1997年香港回归祖国以来,中央政府坚定地支持特别行政区依法施政,香港原有的经济、社会制度没有变,生活方式没有变,法律基本没有变,香港居民依法享有广泛的自由和民主权利,外国投资者在港的利润得到切实保护。
- 2006年,香港继续成为内地第四大贸易伙伴,第三大出口市场,和第二大贸易顺差地。同年,内地与澳门-香港分别签署了CEPA(内地与香港更紧密经贸关系的安排)补充协议三,根据该协议,内地从2007年1月1日起对香港在旅游、会展等9个领域进一步开放15项具体开放措施。
- 2007年3月25日,曾荫权以高票当选香港特别行政区第三任行政长官人选。4月,国家主席签署国务院令,任命曾荫权为中华人民共和国香港特别行政区第三任行政长官。
- 香港的繁荣稳定,对解决台湾问题具有重要的示范作用和促进作用。

请运用所学“一国两制”的有关内容分析上述材料。(13分)

37. 2007年3月16日,十届全国人大五次会审议通过了《中华人民共和国企业所得税法》,该税法从2008年1月1日起执行。与现行企业所得税法相比,新的企业所得税法做了很多调整。下列是三幅相关的图。

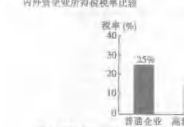
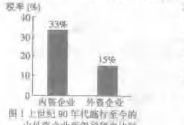



图3 2008年以后高新技术企业与符合条件的小型微利企业企业所得税税率对比



- (1)图1、图2和图3分别反映了什么经济现象?(3分)
- (2)请运用所学经济常识分别分析图1、图2和图3所示现象存在的合理性。(12分)
- 六、论述题(20分)
38. 中国共产党的宗旨是全心全意为人民服务。在改革发展作党执政兴国第一要务的今天,要想实现这一宗旨,必须大力加强党的执政能力建设。胡锦涛总书记在中共十六届四中全会上提出“坚持科学执政、民主执政、依法执政,在新的历史条件下加强党的执政能力建设是先进性和执政能力的重要内容。”
- 请运用所学政治常识阐述对“科学执政、民主执政、依法执政”内涵的理解。要求:(1)围绕论题,在论述中正确运用所学过的马克思主义基本立场、观点和方法。(2)论题论点,较为全面深入地展开论述。(3)根据论题要求,运用相关材料,理论联系实际加以论证。(4)条理清晰,语言流畅。



2007年普通高等学校招生全国
统一考试(全国卷一)

文综政治

4A

·试题难度·适中

·难度系数·0.62

·友情提示·易错题:24、32 难题题:28、39(3)

(本卷满分140分)

第I卷(选择题 共48分)

一、单项选择题(每小题4分,共48分)

24. 假定去年生产1克黄金的社会必要劳动时间是生产1克白银的社会必要劳动时间的2倍,且5件A商品=2克黄金。如果今年全社会生产黄金的生产率提高1倍,那么5件A商品的价格用白银表示为 ()
A. 4克 B. 8克 C. 16克 D. 32克
25. 在我国社会主义市场经济中,企业间的竞争越来越激烈,企业的兼并和破产现象也越来越多。企业间的兼并和企业破产 ()
①是价值规律作用的结果
②是股份制改造的最佳途径
③是市场失灵的具体表现
④是优化资源配置的客观要求
A. ①② B. ②③ C. ③④ D. ①④
26. 2006年4月1日,财政部、国家税务总局发布的《消费税暂行条例实施细则》生效。该《细则》规定,新增高档手表(指销售价格每只在10000元以上)的本月一次性准予抵扣,其税率分别为20%、5%;取消护肤护发品税目。国家对消费品有选择征税的目的是 ()
①抑制高消费奢靡浪费
②合理调节消费行为
③间接引导投资流向
④调节个人收入分配
A. ①② B. ②③ C. ①③ D. ③④
27. 生产决定消费,消费对生产具有重要反作用。下列选项中,体现消费对生产具有重要反作用的是 ()
A. 数字技术的发展,为人们提供了视听效果更完美的产品
B. 随着收入水平的不断提高,旅游成为人们生活的一部分
C. 网上购物方式不仅方便了消费者,而且降低了企业成本
D. 人们对健康的关注,推动了绿色食品业的迅速发展
28. 2007年初,台湾有南部海域地震造成海底光缆大范围严重损坏,中国电信部门在第一时间启动了海啸故障应急预案,使用机器人潜入海底排除故障,通讯得以恢复正常。使用机器人排除海啸故障的事例表明 ()
①机器人能延伸人的某些肢体功能
②机器人是具有独立意识的人工制造物
③人有可能克服的局限性,机器人有更好的环境适应性
④机器人可在某些功能上超越人类
A. ①② B. ①③ C. ②③ D. ③④
- 头头尚幼尚是一种常见的抗生素,临床应用十分广泛。但是,如果把它和某些药物一起服用,就会导致药效减弱,副作用增强,对人体造成伤害。这种现象在医学上称为配伍禁忌。在医学发现这个问题的同时,曾出现病人服用前药物死亡的案例。卫生主管部门在调查研究的基础上,并没有禁止使用这种药物,而是要求在药品使用说明书中明确配伍禁忌的有关情况。据此回答29~30题。

29. 对一种药物及其配伍禁忌的认识,体现出认识 ()
①是一个永无止境发展的过程
②是一个追求终极真理的过程
③是一个永无止境的无限发展过程
④是一个包含矛盾的辩证发展过程
A. ①② B. ②③ C. ③④ D. ①④
30. 药物的配伍禁忌问题启示我们 ()
①应该在普遍联系中认识事物的性质和作用
②应该客观地认识事物在联系中的性质和作用
③应该摒弃那种控制条件研究事物的方法
④应该摒弃那种分门别类研究事物的方法
A. ①② B. ②③ C. ③④ D. ①④
31. 关注民生,重视民生,保障民生,改善民生,是我们党全心全意为人民服务宗旨的要求,是人民政府的重要职责,也是当前构建社会主义和谐社会的关键所在。这说明 ()
A. 我国社会主要矛盾和次要矛盾的地位已经变化
B. 民生问题作为首要矛盾制约着主要矛盾解决
C. 解决民生问题是解决社会主要矛盾的具体体现
D. 民生问题已成为社会主义初级阶段的基本矛盾
32. 北京市两级政府每年拿出两亿元资金,逐步实施农村基本养老保障、农村居民基本医疗保险和农村最低生活保障三项工程,为农民构建起社会保障体系,实现了老有所养、病有所医和住有所居。在这件事中,政府的作用是 ()
①经济建设的组织者
②公共服务的提供者
③经济活动的调控者
④公共权力的所有者
A. ①②③ B. ①②④ C. ②③④ D. ①③④
33. 2007年2月7日,全国首例制作、传播计算机病毒大案告破,号称2006年度互联网“霸王”的“熊猫烧香”病毒的始作俑者李某某落入法网。这表明 ()
①公民在网络世界的行为不受法律约束
②公民自由总是在法律规范内的自由
③公民是现实社会的权利主体,但不是网络世界的权利主体
④公民有使用网络的权利,也有维护网络安全义务
A. ①③ B. ②③ C. ②④ D. ①④
34. 中共十六届五中全会提出《中共中央关于制定国民经济和社会发展第十一个五年规划的建议》,国务院根据中共中央的建议起草了“十一五”规划纲要草案,随后“十一五”规划纲要在全国人大十届常委会上正式通过。这一过程表明 ()
①全国人大是我国唯一的国家权力机关
②国务院行使国务院行政权
③“十一五”规划纲要草案由人民代表大会统一
④党的主张经过法定程序变为国家意志
A. ①② B. ③④ C. ①③ D. ②④
35. 中国共产党领导的多党合作和政治协商制度,是我国的一项基本政治制度。遵守宪法和法律是多党合作的根本活动准则。这一准则的基本内容包括 ()
①各民主党派与共产党一样,得到宪法确认和保护
②各政党享有宪法规定的政治自由、组织自由和法律地位平等
③各政党都应在法律规定的范围内开展活动
④各政党在政治生活中的地位完全平等
A. ①③④ B. ①②③ C. ①②④ D. ②③④

第II卷(非选择题 共92分)

二、非选择题

39. (32分)阅读材料,回答下列问题。

材料一

2001—2005年中国制成成品进出口货物分类表(单位:亿美元)

年份	进口			出口		
	总额	机电产品 进口占比	高新技术产品 进口占比	总额	机电产品 出口占比	高新技术产品 出口占比
2001	1 879	73	119	251	339	134
2002	2 479	90	103	386	271	131
2003	3 806	100	139	530	404	195
2004	4 420	93	200	628	504	196
2005	7 122	97	417	104	729	251

资料来源:《中国统计年鉴—2006》,北京,中国统计出版社,2006。

注:表中数据的取整;分类表中省略了“未分类其他商品”和“机械及运输设备”项。

材料二 据统计,2005年中国高科技产品出口占出口总额的比重约为30%。但高科技产品主要还是依赖进口,如100%的光纤制造设备,90%以上的集成电路芯片制造装备和石化工业装备,70%的轿车制造设备,数控机床、纺织机械等依赖进口。

材料三 近年来,随着我国对外贸易的发展,中国与贸易伙伴之间的贸易摩擦也有所增加。面对这一状况,中国政府采取了一系列措施,如完善我国涉外经济体制和法规政策,建立产品预警预警机制,开展与贸易伙伴国的经济战略对话,改革人民币汇率机制,积极增加进口,主动减免某些非洲国家的债务等。通过这些努力维护了我国的国家利益,又促进了贸易摩擦的升级。

(1)根据材料一、二,指出我国制成成品进出口现状并指出存在的问题。(10分)

(2)针对从材料一、二中所看出问题提出相应解决思路。(8分)

(3)运用政治常识中有关国际社会的知识,分析我国政府为什么在采取材料三中所列举的措施时,既维护了我国的国家利益,又避免了贸易摩擦的升级。(14分)

40. (60分)根据相关资料回答下列问题。

材料一



图8

材料二 1153年,金迁都燕京。据史书记载,在迁都前后,朝臣曾有激烈争论。反对迁都者提出,“上都之地,我国旺气,况是根本,何可弃之”。赞同迁都者的理由则是,“上京僻在一隅,转漕艰而民不便,唯燕京乃天地之中”;“燕都地处雄要……居庸、古北、松亭、榆林等关,东西千里,山峻相连,近在都畿,易于据守”;“燕京地广土坚,人物蕃息,乃礼义之所”;“本朝与辽接壤,辽之基业根本在河北……我本朝基业根本在山南之燕”。1151年,有司据阴阳五行学说规划燕都的布局。金帝完颜亮言,“国家吉凶,在德不在地。使朕时居之,虽卜蕃地何益?使羌彝居之,何用卜为?”迁都二十多年后,“女真人寔忘旧风”,“燕饮音乐,皆习汉风。”

——摘编自《大金国志》等

(1)指出1141年南宋与金“绍兴和议”所确定的双方分界线。(4分)

(2)根据材料一和材料二并结合所学知识,说明金迁都燕京的原因及其历史影响。(16分)



图9

(3)说明燕京城址选择的有利自然条件。(13分)

(4)说明燕京在区际联系中地址位置的重要性。(7分)

结合上述材料回答(5)~(6)小题。

(5)从辩证唯物论的观点看,支持迁都一方的主张体现了哪些合理思想?(12分)

(6)运用辩证唯物论原理评析阴阳五行说与“国家吉凶,在德不在地”这两种建都观点。(8分)



2007年普通高等学校招生全国
统一考试(全国卷二)

文综政治

5A

• 试题难度 适中

• 难度系数 0.58

• 友情提示 易错题:29、40(7) 较难题:24、28

[本卷满分140分]

第I卷(选择题 共48分)

一、单项选择题(每小题4分,共48分)

24. 假定生产一件甲商品的社会必要劳动时间为2小时,价值为40元。如果生产者A生产该商品的个别劳动时间为1小时,那么,A在4小时内生产的使用价值总量与生产出的商品的交换价值总量和单位商品的价值量分别是 ()
A. 2 80 40 B. 2 40 20 C. 4 80 20 D. 4 160 40
25. 某“80后”业余作家发表一部小说,获得稿酬1万元。此作家的稿酬属于 ()
A. 按劳分配所得的收入
B. 个体劳动经营所得的收入
C. 按生产要素分配所得的收入
D. 知识创新的奖励收入
26. 税收是调节经济的重要杠杆,通过对纳税人、征税对象、税率等的确定,税收可以 ()
①决定分配方式
②消除地方保护
③规范消费行为
④优化投资结构
A. ①② B. ②③ C. ①③ D. ③④
27. 到2006年年底,中国外汇储备已突破1万亿美元,比上一年增加2 800亿美元。外汇储备迅速增加的主要原因是
A. 中国对外贸易出超迅速增加
B. 社会劳动生产率迅速提高
C. 人民币对美元较大幅度升值
D. 获得世界银行大额信贷支持
- 图6中的画像借助于哈哈镜观察创作对象,把现实中的“瘦子”画成了“胖子”。



图6

28. 图中画家完成的作品 ()
A. 忠实再现原型又不拘泥于原型
B. 完全是该画师丰富想象力的产物
C. 摆脱原型的制约,实现了主体的创作意图
D. 实现了主体发挥主观能动性尊重客观事实的统一
29. 漫画家用夸张的笔法表现了人们对某些社会现象的新看法,这给我们在认识论上的启示是 ()
①认识是主体对客体的能动反映
②认识是主体创造客体的过程
③认识是摹写与创造的统一
④认识是客观物质自身的过程
A. ①② B. ②③ C. ③④ D. ①④
30. 人类在太空活动中发明起来的技术可以为人造卫星,但太空活动留下的大量太空垃圾等太空垃圾却可能给人类带来极大的危害。这个事实印证了一个古老的哲学命题:“福兮,祸之所伏。”这个命题能统一 ()
①矛盾双方逐渐融合趋向一个无差别的统一体
②矛盾双方相互对立,相互分离的趋势
③矛盾双方相互贯通,在一定条件下相互转化
④矛盾双方相互依赖,共处于一个统一体中
A. ①② B. ②③ C. ①④ D. ③④
31. 有一个珠宝商一生致力于珠宝的真伪之争,技术炉火纯青。一天,他看到一个孩子将真珠宝混在一起当作玩具玩耍而自得其乐。对此,珠宝商感叹不已。这个寓言表达的哲理是 ()
①在生活中人们辨别真伪是没有意义的
②游戏并快乐才能人们生活的真实意义
③人们对同一事物有着不同的价值观念
④不同价值观念决定了不同的人生态度
A. ①② B. ②③ C. ③④ D. ①④
32. 某省制定的艾滋病防治和管理办法规定:“艾滋病病毒感染者和艾滋病病人及其家属不得受到歧视,依法享有公民应有的工作、学习、享受医疗保健和参加社会活动的权利;不得剥夺其子女入托、入学、就业的权利;不得将病人的姓名、地址及有关情况公布和传播。”从这些规定可以看出
①艾滋病病人享有宪法、法律规定的权利
②艾滋病病人合法权益受到保护
③艾滋病病人的权利与义务不统一
④艾滋病病人并没有特殊权利
A. ①②③ B. ①③④ C. ②③④ D. ①②④
33. 2006年,广东省人大常委会对2005年报备案的省政府规章进行全面审查,并提出了审查意见。广东省政府根据审查意见对有关规章进行了修改。这体现出人大及其常委会与政府之间具有 ()
A. 相互分立的关系
B. 隶属的关系
C. 监督与被监督的关系
D. 相互制衡的关系
34. 《中共中央关于构建社会主义和谐社会若干重大问题的决定》指出,全面贯彻党的宗教信仰自由政策,全面贯彻党的民族政策,坚持和完善民族区域自治制度,坚持和完善宗教事务管理制度。全面贯彻党的宗教政策 ()
①能够使正宗宗教活动得到法律保护
②能够真正落实公民宗教信仰自由
③有利于引导宗教与社会主义社会相适应
④有利于使宗教成为统治阶级的工具
A. ①②③ B. ②③④ C. ①③④ D. ①②④
35. 近年来,美国举行的单边主义和先发制人的战略屡屡受挫,欧盟一体化进程加快,俄罗斯、英国、中国等国的综合国力不断增强,大国之间出现了既合作又竞争的局面。所有这些表明 ()
A. 世界格局继续向多极化方向发展
B. 强权政治已经退出历史舞台
C. 当今世界已经是一个多极化世界

D. 反对霸权主义失去了现实基础

第II卷(非选择题 共92分)

二、非选择题

39. (32分)阅读材料回答下列问题。

农民“看病难,看病贵”是当前社会关注的民生问题之一。为促进社会公平,构建社会主义和谐社会,党和政府根据我国农村实际情况,在逐步建立农村新型合作医疗制度的同时,采取农民自愿参加、个人、集体和政府多方筹资的办法,建立农村新型合作医疗制度,力求解决“看病难,看病贵”的问题。

- (1)用经济常识分析建设农村新型合作医疗制度对农村经济发展的积极作用。(10分)
- (2)用政治常识分析党和政府为什么要努力解决农民群众“看病难,看病贵”问题。(13分)
- (3)从矛盾分析的角度说明解决民生问题,促进社会公平对解决我国社会主义初级阶段主要矛盾的重要意义。(9分)

40. (60分)根据相关材料完成下列各题。

考古材料证明,玉米最早是在美洲培育出的。哥伦布将这种“奇异的谷物”带回欧洲,在全世界得到迅速传播,成为世界三大谷物之一。到16世纪中叶,玉米被引入朝鲜半岛和南岳,17世纪80年代在黄淮海平原和辽东半岛之间的地区得到广泛种植,17世纪末18世纪初传入南欧地区。

16世纪中叶玉米传入中国,清嘉庆年间大面积种植,到鸦片战争前已在我国大部分地区引种而普遍种植。玉米等作物的引进与大面积种植,大大缓解了18世纪中叶到19世纪中叶中国人口大幅度增长而带来的巨大粮食压力。

历史学家评述玉米在世界传播的意义时说,“其价值超过了所有的黄金”。(摘编自《通向现代世界的500年——哥伦布以来东西两半球汇合的世界影响》)根据上述材料并结合所学知识,回答问题:

- (1)概括玉米在200年内传播到世界各地的历史背景。(5分)
- (2)历史学家为什么说玉米在世界传播“其价值超过了所有的黄金”? (5分)

林肯总统从美国种植玉米的成功看到了提高粮食产量和给西部农业提供大量饲料的前景,于是大力推广种植玉米。他不顾恶劣气候条件的总体特点和已形成的农作物种植结构,要求在全垦各地,在每一个集体农庄和国营农场普遍种植玉米。林肯行政命令式的要求之下,玉米的播种面积迅速扩大,1953年达580万公顷,1958年达1 640万公顷,1962年增至3 710万公顷。许多原来种植传统作

粮食作物小麦和黑麦的耕地也种上了玉米。这些被“挤挤”的农作物比玉米更适应当地的土壤和气候条件。玉米在很多地方因生长条件不佳和管理不善,产量并不理想,作为饲料的青玉米营养价值也没有预期的那样高。

——摘编自《赫鲁晓夫执政史》等

(3) 根据上述材料并结合所学知识,概括赫鲁晓夫大力推广种植玉米给苏联农业带来的不良后果及其原因。(10分)

读表1,回答问题。

表1 吉林省近年来三种谷物种植面积

年份	种植面积(1 000 hm ²)			合计
	稻谷	小麦	玉米	
2001	686.9	53.8	2 609.5	3 350.2
2003	541.0	22.1	2 627.2	3 190.3
2004	600.1	11.4	2 901.5	3 513.0
2005	654.0	9.5	2 775.2	3 438.7

(5) 表中四年数据表明,稻谷种植面积的变化趋势是_____。(7)

若以每年三种谷物种植总面积为100%计算,则玉米种植面积所占百分比最高达_____⑧,2005年小麦种植面积所占百分比为_____⑨。

(6分)

中国的东北,华北等很多地区都适合种植玉米,如今中国的玉米种植面积和产量仅次于美国。近年来,随着科技的发展,中国的玉米深加工产业发展很快,成为玉米需求新的增长点。

表2 中国玉米产需表

单位:10 000t

年度	产量	年度总需求	需求结构			
			饲料消费	食用消费	工业加工	其他
2001	10 600	11 813	8 380	771	1 180	1 482
2002	11 136	12 410	8 327	737	1 380	1 966
2003	12 130	13 789	9 020	828	1 430	2 500
2004	11 400	13 077	9 156	792	1 540	1 589
2005	12 160	13 181	9 360	820	1 730	1 271
2006	13 000	13 400	10 000	-	-	600

(6) 根据表2中玉米产量与需求变化情况,分析玉米价格变化的趋势,并指出这种趋势对玉米生产可能产生的影响。(10分)

图9表示甲、乙两地年内各月气温与降水量,甲地为苏联中亚某地(46°N, 62°E),乙地为我国吉林省某地(44°N, 125°E)。

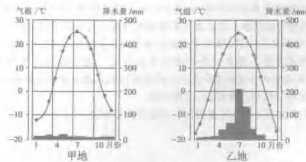


图9

(4) 甲地属于_____①_____气候,对种植玉米不利的气候条件是_____②_____,适宜发展的农业为_____③_____;乙地属于_____④_____气候,对种植玉米有利的气候条件是_____⑤_____;中国的玉米带主要分布在东北平原的_____⑥_____平原。(14分)

作为世界最大的玉米生产国,美国把玉米深加工产业当作一个绿色的能源产业加以发展。近年来,出于开发新能源和消化炼化等多种考虑,中国发展了燃料乙醇等玉米深加工产业。当中国玉米燃料乙醇工业迅速发展引起玉米供需关系明显变化,库存急速下降,并影响其他相关产业正常发展的情况下,2006年中国国家发展与改革委员会明确表示不支持玉米燃料乙醇等产业过度发展。

(7) 运用唯物辩证的观点分析中国玉米深加工产业政策调整的哲学依据。(10分)



2007年普通高等学校招生全国
统一考试(北京卷)

文综政治

6A

【试题难度】较难

【难度系数】0.56

【友情提示】易错题:27、32、39(2) 较难题:28、35

(本卷满分136分)

第I卷(选择题 共48分)

一、单项选择题(每小题4分,共48分)

- “十一五”期间,北京将大力发展文化创意产业。据此回答24~25题。
- 24.北京市积极世界经济发展趋势,依靠其深厚的文化积淀,强劲的科技创新能力和丰富的人才资源,根据不同地区的特点合理规划,积极建设数字娱乐示范基地、“798”艺术区等多个特色文化创意产业聚集区。这一做法坚持的原则是 ()
- A. 主观与客观相统一
B. 分析与综合相结合
C. 办事情抓住重点
D. 一分而为二地看问题
25. 作为文化创意与制造业相结合的产物,奥运吉祥物“福娃”受到市场的普遍欢迎。据估计,它会创造数十亿元的商业价值,其经济效益远远超过普通玩具。这说明 ()

- ①文化创意融入人可以提高商品的价值
②非物质生产要素可以取代物质生产要素
③开发适销对路的商品可以促进消费增长
④第三产业的发展可以提高第二产业经济效益

A. ①③④ B. ②③④ C. ①②③④ D. ①②③④

- 现代社会存在多种风险,应该建立健全风险防控体系。据此回答26~27题。
26. 经过“非典”、禽流感 and 印度洋海啸等事件,人们普遍意识到现代社会中风险存在的普遍性,加强了对风险的防范和管理,建立风险防范预警机制。这一过程表明 ()

- ①人们可以根据已有联系建立新的联系
②人们可以能动地运用因果关系
③自然与社会相互影响,相互制约
④认识事物的本质需要创造必要条件

A. ①② B. ①③④ C. ①②③④ D. ①②③④

27. 生病、车祸、火灾等不可预测事件往往会使一个家庭的经济生活陷入困境。下列选项中能够帮助家庭抵御上述风险的是 ()

- ①健全的全融体系
②有序的企业竞争环境
③完善的社会保障制度
④公平竞争的劳动力市场

A. ①②③ B. ①③④ C. ①②③④ D. ①②④

- 随着改革开放不断深入,我国经济与世界经济联系日益紧密,居民财产开始迅速增长广泛。据此回答28~29题。

28. 近年来,我国面临国际收支顺差大幅增加的问题。针对这一问题,以下判断正确的是 ()
- A. 扩大政府海外采购,有利于减少国际收支顺差
B. 降低进口关税,不利于国际收支平衡
C. 扩大劳务输出,有利于减少国际收支顺差
D. 鼓励居民海外旅游购物,不利于国际收支平衡

29. 金融体系的改革使居民的理财方式日益多样。小华有人民币7 700元,如果目前

汇率是1美元=7.7元人民币,人民币一年期存款利率是3%,美元是4%,预计一年后人民币升值到1美元=7.5元人民币,小华可行的最佳理财方案是 ()

- A. 用人民币存款,一年后可得8 142元
B. 用人民币存款,一年后可得7 931元
C. 用美元存款,一年后可得1 057美元
D. 用美元存款,一年后可得1 040美元

30. 2007年中央1号文件“明确提出,要加强党对农村工作的领导,各级领导干部要深入乡村,帮助基层解决实际问题;大力推进基层民主,选好村乡党组织班子,加强以村党组织为核心的村级组织配套建设。中央提出这些要求的依据是 ()
- ①改进党的作风是强化党的政治优势的重要途径
②加强党的组织建设是实现党的领导的要求
③民主集中制是党的根本组织制度和领导制度
④转变乡村两级政府职能是基层政权建设的重要内容

A. ①②③ B. ①③④ C. ①③④ D. ②③④

31. 每年3月,我国都要召开全国人民代表大会和全国政协协商会议,全国人大代表和全国政协委员汇集北京,共商国是。以下关于“两会”代表、委员的表述,正确的是 ()

- A. 代表的任务是参政议政,委员的任务是政治协商
B. 代表参加制定国家法律,委员协商国家重大事务
C. 人大是最高国家权力机关,政协是最高国家监督机关
D. 人大直接创建国家管理制度,政协行使国家管理职能

32. 今年4月,国务院公布了《中华人民共和国信息公开条例》。根据条例,中国公民有权依法获知除涉及国家秘密、商业秘密和个人隐私以外的政府信息。公开政府信息是 ()

- A. 各级政府机关的权力
B. 政府转变职能的条件
C. 政府简政放权的表现
D. 政府依法行政的体现

33. 中华民族崇尚仁爱平等、主张和而不同。孔子在两千多年前提出的“己所不欲,勿施于人”,被誉为处理国家间关系的“黄金法则”。在有关我国外交政策的阐释中,最能体现“黄金法则”的是 ()

- A. 外交政策的基本立场
B. 外交政策的基本目标
C. 对外关系的基本准则
D. 对外关系的基本立足点

【解析】尊重主权、平等互利是宗旨。【答案】C

34. 生活中我们发现,当一个人穿上竖条纹衣服时,给人收腹感,显得稍瘦;穿上斜条纹衣服时,给人扩张感,显得稍胖。不同颜色的衣服产生不同视觉效果表明 ()

- A. 错觉实际上是一种假象
B. 感性认识是易变、不可靠的
C. 感性认识受到客观因素制约的
D. 认识的根本任务是透过现象把握本质

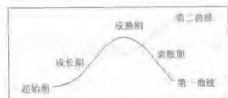
35. 在平面解析几何中,当动点到一定定点的距离与它到一条定直线(定点不在定直线上)的距离之比是常数时,该动点的轨迹为圆锥曲线。常数的值不同,圆锥曲线的形状就不同。当常数小于1时,轨迹是椭圆;而当常数等于1时,轨迹是抛物线;当常数大于1时,轨迹是双曲线。上述结论表明 ()

- ①共性寓于个性之中
②矛盾的同一性推动事物的发展
③事物的量变引起质变
④事物的联系是具体的、多样的
- A. ①② B. ③④ C. ①②④ D. ①③④

【解析】非选择题 第II卷(非选择题 共88分)

- 二、非选择题
38. (32分)一般地说,企业的发展都会经历一个从“起始期”、“成长期”到“成熟期”。

“成熟期”的生命周期,其运动轨迹被称为“第一曲线”。为了能够实现持续发展,避免先衰,企业需要在高峰到来之前,开辟一条新道路,这条新路发展的轨迹被称为“第二曲线”。据此完成下列问题。



- (1)从唯物辩证法角度,谈谈“第二曲线”的开辟和发展给我们的启示。(11分)

- (2)结合经济常识,分析下列案例中企业是如何从“第一曲线”向“第二曲线”转化的。(12分)

某市素有“中国磁都”之称。近年来,铜、铝等原材料价格大幅上涨,该市铜具企业加大研发投入,改变以模仿为主的制造工艺,使用新型、便宜的人工合成材料,使产品种类不断推陈出新,销售量持续上升。

分析:

某公司在20世纪80年代只是一个中型国有企业。1992年,该公司任命新总裁。他敏锐地意识到无线通讯产品在全球将有巨大的市场,果断决定放弃并压缩电视、电视等原有的核心业务,集中资金和人力生产移动通信产品。适时的业务转变,使公司成为全球无线通讯市场的佼佼者。

分析:

甲乙两企业都是中国有影响力的家电销售企业,前者在全国综合实力排名为明显,后者在长三角等地区具有较大市场份额。二者合并后,新集团保留原有品牌,进行双品牌经营,既保持了原有优势,又通过统一采购、物流和管理,引发全国“一盘棋”格局。

分析:

【解析】(32分)一般地说,企业的发展都会经历一个从“起始期”、“成长期”到“成熟期”。

某语言培训学校在发展过程中不断突破,于2000年成立了投资有限公司,又于2006年在美国纽约证券交易所挂牌上市,最终从一个私人企业成长为国际化的教育科技集团。

分析:

高速发展的中国经济也存在着开辟“第二曲线”的问题。当前,中央强调全面落实科学发展观,要求转变经济增长方式,实现可持续发展。然而,一些地方政府仍然片面追求和盲目攀比GDP增长率,造成资源浪费和环境污染。为此,中央政府需要对地方政府的行为。

(3)运用政治常识,说明中央政府能够约束地方政府的依据。(9分)

39. (28分)大运河是我国古代劳动人民创造的一项伟大工程,是祖先留给我们的珍贵物质和精神财富,是活着的、流动的重要人类遗产。完成下列问题。



隋朝大运河示意图

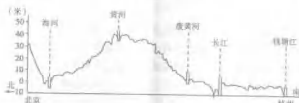
隋朝沿用了隋朝开凿的大运河。唐高祖,唐太宗在位期间,每年从外地通过运河运到长安的粮食约20万石,唐玄宗天宝年间增加到250万石。安史之乱后,唐朝还能再延续150多年,很重要的原因就是靠运河转运的东南财政支持。大运河把长安、洛阳、涿郡、江都(扬州)、余杭(杭州)等通都大邑联系起来。杭州在中唐以后日益繁荣,“方商所聚,百货所积……舳舻二十里,开肆三万室”。

(1)读图,结合材料概括大运河在唐朝发挥的作用。(8分)

目前,大运河文化遗产的状况令人忧虑。出于经济利益的考虑,一些地方将古河道擅自拉直和填河沟,而另一些地方在古河道、古桥、古码头修建了大量现代建筑,改变了运河区域的风貌。这些行为导致了对运河物质文化遗产和非物质文化遗产的破坏。尽管许多地方采取了保护措施,但省分段的管理体制使大运河的保护工作难以协调进行。

(2)结合材料,谈谈大运河文化遗产保护中应怎样坚持正确的价值观。(10分)

南水北调东线工程是对古老运河的有效利用,既体现运河价值,又保护运河景观。



京杭运河沿线河床地势剖面示意图

(3)读图,简述京杭运河北京至长江段河床地势变化对南水北调的影响及需要采取的措施。(10分)

40. (28分)资源短缺和市场有限制约的一个国家的发展。历史上,许多国家为了获取资源,争夺市场采用了非和平的手段。我国政府明确提出,中国坚持走和平发展道路。完成下列问题。

(1)以一种陆地资源为例,说明其特点分布规律。(10分)

经济竞争和国内困难激起了对殖民地的争夺……19世纪后期几乎所有的强国都卷入了这场对绝对统治权的争夺,因此它们在一个又一个地区接二连三地发生了冲突……这些围绕殖民地产生的争端制造了一种不断加剧的紧张气氛。

——《全球通史》

(2)结合材料和所学知识,根据说明19世纪末欧洲列国激烈争夺殖民地的原因。这种激烈争夺最终导致了什么结果?(8分)

下表显示了A、B两国在国际贸易博弈中的策略选择及其结果。“打贸易战”策略指大规模采取高关税及不合理的非关税壁垒等行为,阻止别国产品进入本国市场。“不打贸易战”策略指遵循世界贸易组织规定的各项基本原则,进行公平、自由的对外贸易。

B国的策略		A国的策略	
		打贸易战	不打贸易战
打贸易战	A国损失100, B国损失100	A国获利50, B国损失50	A国获利50, B国损失50
	(第一种结果)	(第二种结果)	(第三种结果)
不打贸易战	A国损失50, B国获利50	A国获利100, B国获利100	A国获利100, B国获利100
	(第四种结果)	(第四种结果)	(第四种结果)

(3)分析说明上表。(2分)

(4)中国走和平发展道路,应该选择不打贸易战,追求第四种结果。请说明这种选择的经济学理由。(8分)