

# 决胜高三 赢在5·3



中国教育报  
2006“好书教师评”  
评出的最有价值教辅图书  
★★★★★

## 5·3金卷 ② >>>>

## 5·3金卷 ②

2003—2007

# 5年高考真题详解

2008年高考总复习使用

快速服务通道 24小时服务电话 010-63735353 13311185353

5·3金卷文科全套定价:77.80元(不含听力) 5·3金卷理科全套定价:74.80元(不含听力)  
5·3金卷文科全套定价:67.80元(含听力) 5·3金卷理科全套定价:64.80元(含听力)

语文: 13.80元 文数: 14.80元 英语: 36.80元 物理: 9.80元 生物: 7.80元 历史: 10.80元  
理数: 16.80元 英语: 16.80元 (含听力三套磁带) 化学: 9.80元 政治: 10.80元 地理: 10.80元 (不含听力)

### 防伪查询办法

- 1 刮开书上的全国电话防伪标签,输入与位置码及数字码,利用用户发短信QZA,按提示拨打950178,联通用户发短信TP,按提示拨打832325,短信小灵通用户发短信2003,按提示拨打965029,查询防伪,如为正版图书,赠送统一读者咨询热线(价值30元);
- 2 在购书时请显示为正版图书封面防伪标签,请及时拨打电话010-61021132进行核实登记,并填写防伪卡,国家新闻出版010010368719部外举报电话: 邮编 100070,读者及经销商可据此向有关部门举报,如发现有仿书行为,我们将依法严肃处理;
- 3 防伪标签每本1元/套,不含邮递运费;
- 4 本次活动最终解释权归一线所有。

特别提示:“答案全解全析”单独成册,只在试卷中,不单独出售。

- ◆ 谁选用了5·3,谁就选择了一条正确的复习道路
- ◆ 谁选用了5·3,谁就掌握了科学的复习方法
- ◆ 谁选用了5·3,谁就会取得理想的高考成绩

——乔家瑞 (北京市特级教师)



# 历史

ISBN 978-7-311-19036-6



9 787811 190366 >

定价: 10.80元(含答案)

丛书策划: 曲一线

装帧设计: 2007年11月

首都师范大学出版社

2006年“好书教师评”评出的  
最有价值的教辅图书

## 高考誓言

我宣誓：

我要把今天当作生命的最后一天，  
我要忘记昨天的光荣和遗憾。

我要以真理埋葬怀疑，  
我要用自信驱赶黑暗。

我要以智慧解开迷雾，  
我要以勤奋书写灿烂。

我要让今天成为不朽的纪念日，  
我要让心中的梦实现。

宣誓人：\_\_\_\_\_

2006年“好书教师评”评出的  
最有价值的教辅图书

### 第一部分 2007年全国高考真题

#### 历史单科

1. 2007年普通高等学校招生全国统一考试 (广东卷·海南卷)
2. 2007年普通高等学校招生全国统一考试 (江苏卷)
3. 2007年普通高等学校招生全国统一考试 (上海卷)

#### 文综历史

4. 2007年普通高等学校招生全国统一考试 (全国卷一)
5. 2007年普通高等学校招生全国统一考试 (全国卷二)
6. 2007年普通高等学校招生全国统一考试 (北京卷)
7. 2007年普通高等学校招生全国统一考试 (天津卷)
8. 2007年普通高等学校招生全国统一考试 (重庆卷)
9. 2007年普通高等学校招生全国统一考试 (四川卷)
10. 2007年普通高等学校招生全国统一考试 (山东卷)
11. 2007年普通高等学校招生全国统一考试 (宁夏卷)
12. 2007年普通高等学校招生全国统一考试 (广东卷·文科基础)
13. 2007年普通高等学校招生全国统一考试 (山东卷·基本能力)

### 第二部分 2003—2008年全国高考真题

14. 2006年普通高等学校招生全国统一考试 (全国卷一)
15. 2006年普通高等学校招生全国统一考试 (全国卷二)
16. 2005年普通高等学校招生全国统一考试 (全国卷一)
17. 2005年普通高等学校招生全国统一考试 (全国卷二)
18. 2005年普通高等学校招生全国统一考试 (全国卷三)
19. 2004年普通高等学校招生全国统一考试 (全国卷一)
20. 2004年普通高等学校招生全国统一考试 (全国卷二)
21. 2004年普通高等学校招生全国统一考试 (全国卷三)
22. 2004年普通高等学校招生全国统一考试 (全国卷四)
23. 2003年普通高等学校招生全国统一考试 (新课程卷)

### 第三部分 答案全解全析及评分细则

曲一线高考命题研究组  
曲一线高考网 **2008**

# 5·3金卷 ②

# 5年高考真题详解

## 历史

- 丛书主编：曲一线
- 本册主编：卢 鑫
- 副主编：李 婷 马春红 郑小燕 董 磊  
吴俊丹 陈紫云
- 编 委：韩庆利 王洪康 石玉海 王朝华  
齐桂玲 石志海 薛士惠 魏海华  
朱亚新 张金梅 张文海 任大勇  
郭志伟 魏 强

# 中国教育报 2006年“好书教师评”评出的最有价值的教辅图书

## 轻轻地告诉你

朋友，我正看着你呢，你也正看着我。

我不是一个色彩缤纷、线条优美的高卷，也许不能让你感受生活的美妙，世界的神奇；

我这不是一曲余音绕梁、三月不绝的仙乐，也许不能让你领略高山的淳朴、溪水的真挚。

我只是一行行前人的足迹，引领你登上书山的峰顶；

我只是一句句殷切的叮咛，提醒你拾起遗漏的点滴。

啊，朋友！

其实，我是一页页在久期待，期待着能与你唱读的文字。

我给你予你的，是需要你辛勤劳作的土地。

我爱你，我对所有的学子充满敬意；你最辛苦，因此你也最美丽。

我爱你，你的勤奋、刻苦、拼搏、进取，将成为我永久的记忆。

我想对你说，拥抱明天、需要你学会做人、学会学习、学会生存，也需要你付出百倍努力，学会考试！

我想对你说，考试就意味着竞争，考试就意味着较量，考试就意味着选拔，考试就意味着优胜劣汰。考试需要有健康的体魄和坚韧的心理，考试更需要有坚韧的毅力和顽强的斗志。

### 第一部分 2007年全国高考真题

2007年是新课改高考的第一次，新高考的红盖头已经被掀开。新课改虽不彻底，但新课改必将翻天覆地。新高考是一次教育智慧的展示，新高考是一次教育思想的洗礼，新高考给教育带来无限生机。山东、广东、海南、宁夏四省率先尝试，新课改已取得骄人成绩。

第一部分是2007年全国高考真题，包括自主命题的全部真题试卷。2007年试卷收集全面、信息准确。2007年高考真题蕴藏着命题人大胆的构思和创意，展示着课程改革的最新信息。2007年高考试题“删繁就简三秋树，领异标新二月花”，是2006年高考总复习必备的实战演习题。

### 第二部分 2003-2006年全国高考真题

自2004年以来，虽然越来越多的省份实行自主命题，但全国卷仍是高考的风向标和导航仪，练习全国试卷，就会把握高考命题的真谛。

### 第三部分 答案全解全析及评分细则

**答案全解** 这是对试题的透彻解析，这是对答案的最新诠释，答案全解将最大限度地切近命题人的思路，答案全解将充分挖掘命题人的巧妙立意。

**评分细则** 这是命题人给出的评分细则，步骤分、采分点，也是你总复习时提高主观题成绩的关键，你要探寻其中的奥秘，这是评卷时间卷人的采分依据。

**考试背景** 分为“励志高考”“策略技巧”“阳光心态”三个板块。这是对人生信念的激励，这是对生命意志的唤起，这是智慧的加油站，这是心灵的栖息地。如果拥有了这个支点，你将会拥有解决所有问题的妙计。

我想轻轻地告诉你，所有的人，都在祝福你。

你抬头向上看，上面写着，我永远祝福你；你回转头向后看，后面写着，我永远祝福你。

这一点毫不怀疑。

朋友，你正看着我呢；我也正看着你。

图书在版编目(CIP)数据

五年高考真题详解·历史·曲一线主编—北京：首都师范大学出版社，2007.6

(5·3金卷)

ISBN 978-7-81119-036-6

I.五... II.曲... III.历史课—高中—解题—升学参考资料  
IV.G632.479

中国版本图书馆CIP数据核字(2007)第088488号

五年高考真题详解·历史

丛书主编 曲一线

责任编辑 刘东明 责任校对 蔡水贵

首都师范大学出版社发行

地址 北京西三环北路105号

邮编 100037

电话 68418323(总编室) 68982468(发行部)

网址 www.cnup.com.cn

E-mail master@cnup.com.cn

北京市北中印刷厂印刷

全国新华书店发行

版次 2007年6月第1版

印次 2007年6月第1次印刷

书号 ISBN 978-7-81119-036-6

开本 787×1092毫米 1/8

印张 8.5

字数 270千

印数 0 001—10 000册

定价 10.80元

版权所有 违者必究

如有印刷问题 请与010-63721419联系退换

# 2007年全国各省市高考历史考试形式、试卷结构及试题评价

## 广东省高考考试形式及试卷结构

|      |   |
|------|---|
| 考试大綱 | 課程標準實驗版   |
| 考試形式 | 3+文科基礎/理科基礎+X   |
| 命題形式 | 自主命題  |
| 時間分值 | 120分 150分   |
| 題型說明 | 分為選擇題和非選擇題兩種題型  |
| 試卷結構 | 試卷分為必選題和選題。必選題分為選擇題和非選擇題兩種題型，其中1—15題為選擇題，每小題3分，共45分。26—32題為非選擇題，其中26—30題為必選題，共66分。31、32題為選題各占33分。                   |
| 試題評價 | 2007年高考試題延續古、近代、現代史三大部分中的22個考點，以宏觀史實作為切入點，考查再認再現基本的歷史知識和歷史發展線索的能力；運用“新史料、新情境”考查學生初步理解歷史事實、分析歷史結論、說明和论证歷史現象和歷史觀點的能力。 |

## 江蘇省高考考試形式及試卷結構

|      |   |
|------|---|
| 考試大綱 | 全國統一考試大綱  |
| 考試形式 | 3+2 高考試目設置分卷  |
| 命題形式 | 全部自主命題  |
| 時間分值 | 120分 150分   |
| 題型說明 | 試卷分為單項選擇題、材料解題、問答題三種類型。   |
| 試卷結構 | 全卷共30小題，150分。<br>①—24小題為單項選擇題，每小題3分，共計72分，為卷面分值的48%。<br>②5—27小題為材料解題題，其中25題10分，26題13分，27題10分，共33分。為全卷分值的22%。<br>③28—30小題為問答題，其中28題14分，29題16分，30題15分，共計45分。為全卷分值的30%。<br>其中：中國古代史部分約占41%，約占全卷分值的27%。<br>中國近現代史部分約占50%，約占全卷分值的33%。<br>世界近現代史部分約占29%，約占全卷分值的20%。 |

## 上海市高考考試形式及試卷結構

|      |  |
|------|--|
| 考試大綱 | 全國統一考試大綱   |
| 考試形式 | 本科：3+綜合+1<br>高職：文、理+綜合   |
| 命題形式 | 自主命題   |
| 時間分值 | 120分 150分  |
| 題型說明 | 對歷史學科的命題採取“一卷兩分叉”的辦法，分為選擇題、簡答與問答題、材料分析論述題等題型。  |
| 試卷結構 | 試卷分為“分叉部分”和“共同部分”。“分叉部分”分為A、B兩組，兩組試卷分值相同，共45分。其中1—15小題為選擇題，每小題2分共30分；16、17題為簡答與問答題，共15分。“共同部分”中的18—32小題為選擇題，每小題2分共30分。33—37題為簡答與問答題共45分。38題為材料分析論述題30分。“共同部分”總計105分。 |
| 試題評價 | 命題思路有了進步。歷史試題的考查目標和功能突異。繼續拓展歷史學的視野，引入觀念史、閱讀史、心志史等國際前沿的研究領域。  |

## 全國卷一高考考試形式及試卷結構

|      |           |
|------|-----------|
| 考試大綱 | 全國統一考試大綱  |
| 考試形式 | 3+文綜/理綜   |
| 命題形式 | 全國統一命題    |
| 時間分值 | 150分 300分 |

## 題型說明

### 試卷結構

試卷包括選擇題和非選擇題兩種題型  
試卷分為1卷和B卷，第1卷為單項選擇題(12—23小題，計48分)。第B卷為非選擇題(38題和40題的②、③，計52分) 歷史部分共100分。

### 試題評價

選擇題占48%，非選擇題占52%。  
中國古代史約22%；中國近現代史約32%；世界近現代史約36%。  
2007年普通高考試科綜合歷史試題有別于往年老題和考點，可能是高考試題反題趨勢，還有就是部分模擬扣題和老題考點問題較多不的原因。估計難度比2006年要大，考生反映，做起来不是很順手。試卷的變化体现在材料題試題增加，能力要求提升，还有就是組合型試題只考了一組，這樣增加了知識的覆蓋面。從難度上看，可能有些大難。單選題12題考帝王的編造，考生需有相當的文化史的功底才能判斷出來；有4個題是材料題選擇題，背景材料增加了閱讀的難度。主選題37題考的是美國在二戰時期對法西斯侵略的態度變化。在知識方面考生并不陌生，主要難在材料較長，考生從材料中獲取信息不易，對概括能力要求也較高。從命題趨向看，一是增加了材料費量，考生通過閱讀材料，挖掘歷史的时空信息，再聯系所學，解決問題；二是能力要求有所提升，体现了文科綜合能力測試積極追求的目標，即大綱規定的以學習能力為評價核心的目標。總的來說，歷史試題貫徹了大綱的命題目標，是一套較理想的考查題型。估計今年文綜試卷的區分度會很好。

## 全國二高考試形式及試卷結構

|      |  |
|------|--|
| 考試大綱 | 全國統一考試大綱   |
| 考試形式 | 3+文綜/理綜  |
| 命題形式 | 統一命題   |
| 時間分值 | 150分 300分  |
| 題型說明 | 試卷包括選擇題、非選擇題兩種題型   |
| 試卷結構 | 試卷分為1卷和B卷，第1卷為單項選擇題(12—23小題，計48分)第B卷為非選擇題(38題、40題的②、③，計52分) 歷史部分共100分。其中：選擇題占48%，非選擇題占52%。<br>中國古代史占24%；中國近現代史占34%；世界近現代史占42%。<br>文綜難度與2005年、2006年差不多，難度基本持平。今年文綜高考試題的命題特點：一是突出知識的考查；二是突出人文知識熟練程度的考查。政治部分難度較去年有加大，比較複雜，要求考生要有較強的分析能力，不能單從紙面知識面來理解，平時學習光靠死記硬背是不行的。這說明對學生綜合能力的要求提高了。 |

### 試題評價

試卷包括選擇題和非選擇題兩種題型  
試卷分為1卷和B卷，第1卷為單項選擇題(12—23小題，計48分)第B卷為非選擇題(37題、39題的②、③，計52分)。歷史部分共100分。選擇題占48%，非選擇題占52%。  
中國古代史約24%；中國近現代史約36%；世界近現代史約40%。

### 試題評價

北京卷的特點與全國卷有很多非常明顯的不同。全國卷的最低點是在選擇題上，在客觀性試題上。而北京卷在大求新變的亮点上更多的体现在主觀性試題上。所以，北京卷也在大求新變上更多的有些取法。北京卷的特點，明顯的有三個特點：  
第一，北京卷的基礎性非常強，就是對基礎知識的考查，無論是主觀性試題還是客觀性試題，這個表現得非常明顯，基礎性非常強。基礎和能力的北京卷中結合性結合得更好一些，這是第一。  
第二，北京卷特別強調學生已有知識的駕馭和迁移、運用的能力。北京卷表現出一個明顯的特點，從歷史上來看，它的答案不是靠于教材、高于教材。但是如何問詢起來，在考試的時候和它的題、題之間能夠對應、分析、運用，這是它考查的一個維度所在。一個創新并不是表現得再深，也不是考你查了、不會。它就是在一基礎的基礎上再運用，在這一點上，北京卷表現得非常明顯。所以，這是它的第二個特點。  
第三，北京卷的第三個特點，尤其是主觀試題，開放性比去年還更強，也就是有更大的開放性，開放性試題更多。這一點很显然是受新課程、新課標規定的影響。它積極求新，但是稳中求大。從整體來看北京卷的試卷還是緊扣教材，但是調動和運用知識的能力要求相當高。我從它的考查的難度、考查的內容和考查的方式，從這几个方面來做略分析一下北京卷的試卷。  
北京卷從考查的難度來講，選擇題和主觀性試題在看不大一樣。客觀題非常公平，選擇題表現得更好，從選擇題所選取的題干材料、所考查的內容都比較平，也就是說它不像全國非選擇題那樣比較新穎，它以平為主，這是一。它對內容的考查也比較平，這可以理解為基本上考查的都是基本知識、基礎知識，主要是學生已經掌握過的基礎知識，以這為主。所以，北京卷具體地說第一個字就是“平”。  
第二個字“穩”。這個字主要是從難度來講，尤其是選擇題，難度如果和去年比，應該沒有什麼大的，非常穩定，也可以說難度不大。非常強調基礎性，而且不論是切入點、落腳點，考查的基礎知識都一樣。只要同學基礎知識掌握的好，在做選擇題的時候，應該大部分題一看就對，基本上差不多也是一做對，所以，選擇平、內容穩。  
這是具體的特點，平、穩。  
具體的第三個特點“活”。北京的題充分体现了不回避熱點，所以它熱的熱非常明顯，這一點從歷史這個學科來看和全國卷不同，非常明顯。北京對熱點，尤其是前年同學們所做的熱點考題、熱點問題的變化，在北京題中幾乎都有所反映，不回避熱點。但是反映是反映，它還明顯地体现出各學科自己的特點。比如像歷史、考試及到的熱點有兩個學科，中國社會主義思想。  
傳統文化和社會，在儒家思想當中都有體現。在这么一个背景下，它為什麼為平吧？它孔子創立的儒學思想遠遠影響廣泛為平，在這以具體的知識點切入為歷史，最后考查的還是歷史學科的學科內容和學科特點，這題出的非常客观。所以，這是三個特點。  
北京它又涉及到一个熱點——經濟。近代經濟史學說，實際上就是工業化的問題，工業化是近代化這個學科來看和全國卷不同，這個背景都是大家關注的學科的干學科、熱點的問題。但是它具體考的時候還是求實，背景是人類當中重大的歷史事件，但是落腳點考查還是具體的知識。所以，選擇題當中非常注重基礎。政治也涉及到，幾乎所有的題都涉及到熱點。政治涉及到的是民主化、法治化。中國近現代史上因為國共兩黨都有導致其行政權執政取考，考查的是法制化。在世界方面，世界史發展的趨勢是一體化。認識世界史，有助於培養對世界觀一體化，就是世界一體化實際上發展到現在就是全球化，世界從緊要聯繫緊密，到全球化，背景非常明顯，有一個全國的熱點背景，在这么一个背景下，以一個主題作為一個平台，在這個平台上以同學們該掌握的非常重要的知識點作為切入點，很好地理解歷史知識，歷史主題和時代特征之間的關係。而在命題过程当中，歷史學科又非常明顯，那么在這種明顯的學科下，題又顯得平穩，只要是基礎好，在這

# 2007年全国各省市高考历史考试形式、试卷结构与试题评价

部分得分或不成问题。在选择题当中北京的题目虽较平易,却不回避热点,但是也有一定的创新性。选择题主要表现在对具体的历史、图片的运用,对图片的运用,主要表现在22题D项、E项。这道题实际上所反映的考查的具体内容甚多,实际上不是一道题,如果拆开,应该是三道题。每一个图片作为一道题反映的历史信息不同,上要求三张图片看和下面反映的信息都对应上以后,这样再选才作为正确答案。这道题实际上在形式上和内容上都有创新。其次北京真正的新,在于主观性试题。所以,下面对主观性试题,用五个字概括:新、高、对、主、性。试题新主要表现在创新上,重复历史知识,用历史学习历史的重要方法作为一个平台和切入点,然后让同学去运用这些方法分析中国需要的改变,这是一个点。其次文科在主观性试题得分的过慢当中需要调整思维,而这种调整思维在文科具体表现为什么?实际上理科思维表现为一种非逻辑、逻辑性思维。实际上文科对中国的逻辑性的要求还更高,它需要你自己去把握步骤,挖掘出步骤还要进行逻辑性思维;而理科的条件性的逻辑的步骤了,然后才逻辑语言,按人家的要求把问题写好。北京试题的主观性试题非常明显地体现了这一点,它要求考生具有一种问题、分析问题、解决问题连续性的思维的过程。

在命题当中,由于题型创新非常明显,所以对向和问的限制条件,这种隐含性,是对考生的一大考验。在这个当中,恐怕有一部分考生在答题的时候不读题,甚至从哪儿下手有一定的困难。这是它的新,主要地在形式上的创新。37题第二个问题追问,它到了这个表,这个表开始,形式上也有这个表,但是今年这个表比去年那个表复杂了,而且跟去年不一样。这种复杂情况表现在哪儿呢?在这个表中,无论怎样来读题,基本主张还是结果,实际上都给了一个答案,而这个答案的作用是什么?这就是对同一的一种隐含而所出的条件。你可以根据它所给的资料把它当作一个条件,想过了这个条件来问下边的问题,跟它对应的。所以,北京的主观性试题我理解为:一个新,这种新主要表现在形式上,而形式新的根本表现是在对向所给的限制条件隐藏,对同学来把握能力一定要强。第二个字,放。在打破创新的同时,试题的开放性非常明显,这种开放性不仅仅表现在试题的表面上,甚至表现在试题的答案上。在答案上有很强的开放性,这种开放性让你自己去选,但是表面上你自己去选这属于你的选择,这是很强的开放性。这个间又有很强的开放性。你选完之后,你所用的知识还是你知识当中已经有的知识。这样它的创新,它的开放性,它的内在性。考生在答卷的时候感觉有点矛盾。所以,下一个字应该读准,但是这里的读准加引号,这个准并不表现在答案本身,而是头脑中掌握了那么多知识,如何调动出来,对应这个问,对应这个问的要求。很多同学考前复习的时候,实际上对知识是一种死记硬背,或者是拿自己的经验当复制机,是复印式的,而考试就是重新填图,而这时要求你要有自己的知识进行重新构造,这种迁移和运用是把知识鲜活出来按照它的要求去知识在运用,这个字。也就是说知识本身要求并具,而且要求是知识在运用过程中你有什么样的概括性和创新性,这是它的难度。题型虽然有明显的创新,但是在题型上并不是创新的,不是个新的,它也是具有继承性,沿袭了以前高考的新题型,尤其是北京高考的新题型,今年的表更加系统和完整性。北京的难度主要体现在主观性试题上,选择试题我是用了“新”、“高”、“对”、“主”、“性”五个字来概括。希望我们这种分析对2008年考生的复习能够有所帮助。(院校评价)

## ◆◆◆ 天津市高考考试形式及试卷结构 ◆◆◆

考试大纲 全国统一考试大纲  
考试形式 3+文综

命题形式 全部自主命题  
考试时间 150分钟 300分  
题型说明 试卷包括选择题和非选择题两种题型

## ◆◆◆ 重庆市高考考试形式及试卷结构 ◆◆◆

考试大纲 全国统一考试大纲  
考试形式 3+文理/理综  
命题形式 全部自主命题  
考试时间 150分钟 300分  
题型说明 试卷包括选择题、非选择题两种类型

试卷分为I卷和II卷,第I卷为单项选择题(12—23小题,共16分)第II卷为多项选择题(37题和39题的①②③④⑤⑥⑦)历史部分共100分,分选择题48%,非选择题占52%。  
中国古代史约占30%;中国近现代史约占40%;世界近现代史约占30%。

## ◆◆◆ 四川省高考考试形式及试卷结构 ◆◆◆

考试大纲 全国统一考试大纲  
考试形式 3+文综  
命题形式 自主命题  
考试时间 150分钟 300分  
题型说明 试卷包括选择题、非选择题两种类型

与全国卷相同,分为I卷(选择题)和II卷(非选择题)两种题型。I卷选择题12—23小题,每小题4分,共48分)II卷非选择题(37题,32分;39题的①②③④⑤⑥⑦)占历史部分共100分,其中选择题占48%,非选择题占52%。其中,中国古代史部分占20%,中国近现代史部分占45%;世界近现代史部分占35%。

文科综合命题强调对地理、历史、政治各学科知识的整体、综合把握;注重多层次、多角度分析问题、解决问题的思维训练;具体考查了考生“获取和解读信息”、“调动和运用知识”、“描述和阐释事物”、“论证和探究问题”四个层次的能力。第一,紧扣大纲,关注时代热点,强调知识应用,体现了“学习历史有用知识,学习历史发生有用知识”的理念。第二,重视基础知识,主干知识,坚持能力立意,突出对学科综合能力与思维能力的考查。第三,人文色彩浓厚,渗透综合自然、社会、文科相结合。第四,素材丰富,图表资料科学准确,图文并茂。第五,中国的地图、景观照片、模式图、历史照片、文物图片、漫画等,均源自国家正式出版的权威专业文献,准确、可靠。

## ◆◆◆ 山东省高考考试形式及试卷结构 ◆◆◆

考试大纲 课程标准实验版  
考试形式 3+文综  
命题形式 自主命题  
考试时间 150分钟 240分  
题型说明 增加了选做题部分,选做题采用“量体裁衣,量体裁衣”的方式,增加了基本能力考查科目

试卷包括I卷(选择题)和II卷(非选择题)。第I卷全部为必考题;第II卷分为必考题和选考题两部分。其中历史部分占78分,占文综总分的32.5%。在第I卷中,9—16小题为历史部分选择题,共8

小题,每小题4分,共32分。在第II卷中,27题为历史部分必做题,占25分;29题的(2)问与历史必做题,占11分;33、34、35小题为历史部分选做题,考生只需从中做一题即可,每题占10分。

## 试题评价

1. 密切联系实际,努力反映时代热点为社会发展提供借鉴是历史学科的重要功能,历史试题较好地反映了这一功能,整个卷面洋溢着浓郁的时代气息。2007年是抗日战争爆发70周年的特殊年份,为此,试题设计了第12小题“抗日根据地的建立和发展”,以纪念抗日战争的伟大胜利。而发展不仅为当今世界各国所普遍关注,而且为中国政府所高度重视。针对这一问题,试卷设计了27题“罗斯福新政的社会保障制度建设”,既能反映当今世界的发展主题,又可为中国社会保障制度建设提供借鉴。试题同时作为当代国际关系和各国国内关系的重要而敏感的话题,针对这一问题,试卷14题以1953年版人民币设计为题材,围绕民族关系问题,以考查学生对党和国家的民族关系方针的了解。

2. 增加乡土气息,体现地方特色是近年高考试题的重要特征。这一特征的出现与历史研究的发展息息相关,反映着健康向上、开拓创新的时代精神。为体现这一特征,第29题将山东置于世界范围内,突出其在先秦时期的历史地位,并以在中国近代教育界开风气之先的齐州文会馆、山东大学置于山东经济发展的影响问题,为考生营造了一种亲切的地域文化氛围。

3. 稳中求变,变中求新,2007年历史试题以教材主干知识为主导,注重考查学生的基本能力,同时又注重逻辑脱离实际,反映学生的不同水平或具体情况。在题量与难度方面,与去年的国家卷大致相当。同时,试卷也呈现出了较多创新:(1)结构创新。例如,选择打破了依次为中国古代史、中国近代史、世界史的框架顺序,注重重文化的内在逻辑及逻辑关系。(2)情景创新。注重情景设置,尤其注重区别于教材的情景设置,这在增大考题题目中均有体现。(3)材料创新。注重新颖、罕见的引用。例如,第29题引用了齐州文会馆和山东大学的相关课程;第34题选用了中国近代史上第一份登报广告。这些材料鲜活可爱,具有浓郁的生活气息。(4)立意创新。立意有层次感,小至图片识读,材料分析,大至论述题甚至整个试题命题立意、命题的建构,可谓处处都有新意。(5)视野创新。试题注重对学生历史意识、世界视野的熏陶;如第9题和第10题,第15题和第16题,把中国历史置于世界历史的大背景下考查,以培养学生的世界史观。

4. 注重对基本能力尤其是自主学习探究能力的考查,充分体现新课改精神。第27题中关于罗斯福新政的社会保障制度,有人认为是为克服危机而采取的临时性措施,有人认为主要是为维护资产阶级生产关系而进行的一种制度性建设。题目期待学生选择其中之一并予以简要说明,允许考生各抒己见。这就扩大了考生自主答题的空间,表现出一定的开放性和探究性。

## ◆◆◆ 宁夏回族自治区高考考试形式及试卷结构 ◆◆◆

考试大纲 课程标准实验版  
考试形式 3+小综合  
命题形式 全部自主命题  
考试时间 150分钟 300分  
题型说明 试卷分为I卷和II卷,I卷是选择题;II卷是非选择题;试题必做题和选做题,必做题考查公共部分内容,选做题考查选修部分的内容。试卷包括I卷(选择题)和II卷(非选择题)两部分。第II卷第42题为必考题,其他题为选考题。

第I卷中的24—35小题为历史科选择题,每题4分,计48分。第II卷中的41题37分,42题15分,计52分。历史部分占全卷100分。

试卷结构



2007年普通高等学校招生  
全国统一考试(广东卷、海南卷)

历史 1A

·难度等级· 较小

·难度系数· 0.62

·友情提示· 易错题: 1, 6, 15, 21 较难题: 5, 7

(满分150分, 考试用时120分钟)

一、单项选择题(满分75分。本大题共25小题, 每小题3分。在每小题列出的四个选项中, 只有一项符合题目要求。)

1. 下列选项中, 能反映商朝农耕生产的是



3. 孔孟学说是讨论的是

- A. 人与人的关系  
B. 人与自然的关系  
C. 国与国的关系  
D. 夷夏关系

3. 20世纪90年代, 陕西章台出土了一些秦代封泥(密封信件文书时加盖了印章的泥巴), 上面有上郡、代郡、邯郸等郡名和虚汗阳等县名。这一发现可以印证秦朝( )

- A. 政治上四分五裂的事实  
B. 出现了造纸业的事实  
C. 实行了郡县制度的事实  
D. 用铁制农具的事实

4. 下列选项中, 通过直接提高宰相制度来加强君主专制措施有

- ①商周实行分封制  
②西汉设置御史大夫  
③明朝实行三官制  
④宋朝设立参知政事  
A. ①②  
B. ①③  
C. ②③  
D. ③④

5. 从汉赋、唐诗、宋词、明清小说等主流文学表达形式的变化看, 中国古代文学的发展趋势是

- A. 逐渐平民化  
B. 逐渐贵族化  
C. 逐渐神化  
D. 逐渐宗教化

6. 下图所示是民国九年的一则报纸广告, 作为直接证据, 它可以用于研究



- A. 马克思主义的传播  
B. 实业救国的思潮  
C. 工人阶级的诞生  
D. 民族资本主义的产生

7. 1919年孙中山在演讲中指出: “八年以来的中华民国, 政治不良到这个地位, 实由于前没有, 没有振起民族主义的缘故。”“他族陈土”指的是

- A. 清国皇室  
B. 资产阶级保皇派  
C. 军阀、土绅、官僚  
D. 军阀、官僚、政客  
8. 1942年国统区某报纸评论: “平时骂人叫小赤, 一般人夸为精明干练。今日打了蒋介石, 人人骂为冷血动物。”这主要反映了  
A. 民众普遍的反战心理  
B. 舆论对军人的评价很低  
C. 民众救亡意识的增强  
D. 舆论对国统区的抗议  
9. 1945年8月, 《大公报》报道毛泽东来到重庆的消息时称: “爱好民主自由的人士都知道, 这是维系中国目前及未来历史和人民幸福的一个喜讯。”这反映了“爱好民主自由的人士”期盼  
A. 国共双方和平谈判, 创建新中国  
B. 国共双方消除隔阂, 共同抗日  
C. 共产党领导人民推翻国民党的统治  
D. 共产党与民主党派合作建立新中国

10. “蓬莱李准一品香, 西洋风味将先尝。刀叉哪暇意犹哉, 我受香换酒一觞。”这一情景在上海最早可能出现于  
A. 明朝  
B. 清朝  
C. 民国  
D. 新中国  
11. 《共同纲领》在新中国历史上具有重要地位, 因为它  
A. 确定了国家性质  
B. 确定了依法治国的方针  
C. 由全国人民代表大会制定  
D. 规定了社会主义建设的总目标  
12. 和平共处五项原则的提出, 表明  
A. 中国在世界范围赢得了广泛的盟友  
B. 中苏同盟关系出现了严重的裂痕  
C. 中国在外交政策上实现了明显的转变  
D. “一边倒”战略取得了重大的胜利

13. 1964年5-6月间, 中共中央在北京举行工作会议, 决定在三年时间内减少2000万城镇人口, 其主要目的是  
A. 推动农村教育事业的发展  
B. 加快城市化进程  
C. 支援农村的经济体制改革  
D. 缓解国家的经济困难  
14. 邓小平1992年南方谈话所阐发的一个中心思想是, 抓住有利时机, 把中国特色的社会主义事业全面推向前进。就外部环境而言, “有利时机”指的是  
A. 和平与发展成为时代的主题  
B. 经济危机使西方国家实力大减  
C. 世界局势紧张因东欧剧变而解除  
D. 公正合理的国际新秩序已经建立  
15. 20世纪90年代, 中共中央为实现我国社会主义现代化而作出的重大部署是  
A. 开展真理标准问题的大讨论  
B. 实施科教兴国的战略  
C. 提出“三个面向”的教育方针  
D. 提出“百花齐放, 百家争鸣”的方针

16. 罗马法在世界法律史上具有十分重要的地位, 因为它  
A. 是近现代西方法律的先驱  
B. 推行和巩固了罗马帝国的统治  
C. 揭露和批判了私有制的罪恶  
D. 给予自由民和奴隶以公民权  
17. 16世纪一位外交官说, 在对东方的探险中, 宗教提供借口, 而黄金提供动力。这反映了当时  
A. 寻找黄金是为了传播基督教  
B. 输出黄金是殖民扩张的重要方式  
C. 黄金是推行外交政策的唯一手段  
D. 追求黄金是冒险航行的重要动力之一  
18. 有学者提出: “那些为17世纪的大部分欧洲人提供了理解和当时的大不同观点而未获得全胜的原则(自由与平等)”, 已在新英格兰(美国在北美的殖民地)的法律上得到了全部承认, 并被用于法律的条款之中。”这句话的正确理解是  
A. 17世纪的新英格兰已是一个专制国家  
B. 17世纪的英国还处于封建势力的统治之下  
C. 美国的民主政治早在17世纪就已开始孕育  
D. 欧洲在17世纪并未受到文艺复兴的影响  
19. 下表反映了英国农业人口的变化, 导致这一变化的主要原因是 ( )
- | 年份           | 1840 | 1870 | 1900 | 1920 |
|--------------|------|------|------|------|
| 农业人口占总人口的百分比 | 22   | 14.8 | 8.4  | 7.1  |
- A. 工业革命  
B. 殖民战争  
C. 资产阶级革命  
D. 第一次世界大战  
20. 马克思主义的产生, 与下列哪些国家和地区的历史经验有密切关系 ( )  
A. 英法德  
B. 美法俄  
C. 美法德  
D. 美法德  
21. 1929-1933年发生了一场席卷整个资本主义世界的经济危机。当时人们最有可能的体验是  
A. “牛奶倒包价格都涨到天上去”  
B. “找工作比买彩票中奖还难”  
C. “整个西方世界象一潭死水般平静”  
D. “为共渡难关各国变得亲如兄弟”  
22. 20世纪90年代以来, 世界多极化趋势加强的是  
A. 苏联解体导致全世界独立国家数量增多  
B. 两极对峙结束, 美、欧、中、日、俄势均力敌的格局  
C. 美国日益走向独、中、日、俄等力量的制衡  
D. 区域集团化使世界分裂成几个相互隔绝的地区  
23. 1971年尼克松宣布: 美国将不接受以美元兑换黄金, 外国人可以任意处置美元, 外国银行家可以决定美元价值。这表明  
A. 美国和西欧资本主义关系正常化  
B. 布雷顿森林体系发生动摇  
C. 欧元出现导致美元地位下降  
D. 北大西洋公约组织解体  
24. 1954年, 美国一个城市管理自来水的专员发现, 该市自来水耗水量在某些三分钟时段内会奇怪地突然增加; 出现这种现象的原因可能是  
A. 当时汽车开始在美国普及, 这三分钟时段是车主集中洗车时间  
B. 顾客通过收取网费自来水公司的电脑系统, 导致数据计算错误  
C. 第二次世界大战后美国企业管理水平普遍下降, 统计数据计算错误  
D. 当时电视开始在美国普及, 这三分钟时段广告时间, 大家上厕所集中用水  
25. 20世纪初, 物理学本身发生了一场革命性的变化。下列选项中推动这一变化的是  
A. 祖冲之的圆周率  
B. 量子论的提出和发展  
C. 经典力学的发展  
D. 原子能在军事上的应用

- 二、非选择题(满分75分。本大题共7小题, 其中第31、32题是选做题, 考生只能选做其中的一题。)
26. (9分) 有研究者论述“明朝妇女婚姻观的双重性”时, 引用过下列材料:

| 年份           | 1840 | 1870 | 1900 | 1920 |
|--------------|------|------|------|------|
| 农业人口占总人口的百分比 | 22   | 14.8 | 8.4  | 7.1  |

- 材料一 凡儿闻基姑, 三十以前夫亡守志(不改嫁)者, 五十以后不守节(节操)者, 俱表门闾(表彰其家世), 除免奉家祭祀。
- 材料二 正史中各朝代妇女数字: [唐书]54人; [宋史]55人; [元史]157人; [明史]“不下万余人”。
- 材料三 女子网络与男子群二阶相视, “日月相视, 各具有情”, 二人通过巧妙的自我介绍, 订下终身。
- 材料四 据中国婚姻史表
- 据明中后期小说《醒世姻缘》

31. (10分) 阅读下列材料, 回答问题。
- 材料一 1911年, 孙中山在《民权主义》中说: “国家者, 由一定之土地、人民、主权三者构成之。土地者, 国家之基础也; 人民者, 国家之主体也; 主权者, 国家之灵魂也。三者缺一不可, 缺一不可。”
- 材料二 1912年, 袁世凯在《临时约法》中说: “中华民国之主权, 属于全体国民。人民有选举、罢免、创制、复决四权。政府有立法、行政、司法、考试、监察五权。”
- 材料三 1913年, 袁世凯在《袁氏称帝记》中说: “袁世凯称帝, 是当时中国历史发展的必然结果。袁世凯称帝, 是当时中国历史发展的必然结果。”

32. (10分) 阅读下列材料, 回答问题。
- 材料一 1911年, 孙中山在《民权主义》中说: “国家者, 由一定之土地、人民、主权三者构成之。土地者, 国家之基础也; 人民者, 国家之主体也; 主权者, 国家之灵魂也。三者缺一不可, 缺一不可。”
- 材料二 1912年, 袁世凯在《临时约法》中说: “中华民国之主权, 属于全体国民。人民有选举、罢免、创制、复决四权。政府有立法、行政、司法、考试、监察五权。”
- 材料三 1913年, 袁世凯在《袁氏称帝记》中说: “袁世凯称帝, 是当时中国历史发展的必然结果。袁世凯称帝, 是当时中国历史发展的必然结果。”

33. (10分) 阅读下列材料, 回答问题。
- 材料一 1911年, 孙中山在《民权主义》中说: “国家者, 由一定之土地、人民、主权三者构成之。土地者, 国家之基础也; 人民者, 国家之主体也; 主权者, 国家之灵魂也。三者缺一不可, 缺一不可。”
- 材料二 1912年, 袁世凯在《临时约法》中说: “中华民国之主权, 属于全体国民。人民有选举、罢免、创制、复决四权。政府有立法、行政、司法、考试、监察五权。”
- 材料三 1913年, 袁世凯在《袁氏称帝记》中说: “袁世凯称帝, 是当时中国历史发展的必然结果。袁世凯称帝, 是当时中国历史发展的必然结果。”

34. (10分) 阅读下列材料, 回答问题。
- 材料一 1911年, 孙中山在《民权主义》中说: “国家者, 由一定之土地、人民、主权三者构成之。土地者, 国家之基础也; 人民者, 国家之主体也; 主权者, 国家之灵魂也。三者缺一不可, 缺一不可。”
- 材料二 1912年, 袁世凯在《临时约法》中说: “中华民国之主权, 属于全体国民。人民有选举、罢免、创制、复决四权。政府有立法、行政、司法、考试、监察五权。”
- 材料三 1913年, 袁世凯在《袁氏称帝记》中说: “袁世凯称帝, 是当时中国历史发展的必然结果。袁世凯称帝, 是当时中国历史发展的必然结果。”

35. (10分) 阅读下列材料, 回答问题。
- 材料一 1911年, 孙中山在《民权主义》中说: “国家者, 由一定之土地、人民、主权三者构成之。土地者, 国家之基础也; 人民者, 国家之主体也; 主权者, 国家之灵魂也。三者缺一不可, 缺一不可。”
- 材料二 1912年, 袁世凯在《临时约法》中说: “中华民国之主权, 属于全体国民。人民有选举、罢免、创制、复决四权。政府有立法、行政、司法、考试、监察五权。”
- 材料三 1913年, 袁世凯在《袁氏称帝记》中说: “袁世凯称帝, 是当时中国历史发展的必然结果。袁世凯称帝, 是当时中国历史发展的必然结果。”

36. (10分) 阅读下列材料, 回答问题。
- 材料一 1911年, 孙中山在《民权主义》中说: “国家者, 由一定之土地、人民、主权三者构成之。土地者, 国家之基础也; 人民者, 国家之主体也; 主权者, 国家之灵魂也。三者缺一不可, 缺一不可。”
- 材料二 1912年, 袁世凯在《临时约法》中说: “中华民国之主权, 属于全体国民。人民有选举、罢免、创制、复决四权。政府有立法、行政、司法、考试、监察五权。”
- 材料三 1913年, 袁世凯在《袁氏称帝记》中说: “袁世凯称帝, 是当时中国历史发展的必然结果。袁世凯称帝, 是当时中国历史发展的必然结果。”

37. (10分) 阅读下列材料, 回答问题。
- 材料一 1911年, 孙中山在《民权主义》中说: “国家者, 由一定之土地、人民、主权三者构成之。土地者, 国家之基础也; 人民者, 国家之主体也; 主权者, 国家之灵魂也。三者缺一不可, 缺一不可。”
- 材料二 1912年, 袁世凯在《临时约法》中说: “中华民国之主权, 属于全体国民。人民有选举、罢免、创制、复决四权。政府有立法、行政、司法、考试、监察五权。”
- 材料三 1913年, 袁世凯在《袁氏称帝记》中说: “袁世凯称帝, 是当时中国历史发展的必然结果。袁世凯称帝, 是当时中国历史发展的必然结果。”

38. (10分) 阅读下列材料, 回答问题。
- 材料一 1911年, 孙中山在《民权主义》中说: “国家者, 由一定之土地、人民、主权三者构成之。土地者, 国家之基础也; 人民者, 国家之主体也; 主权者, 国家之灵魂也。三者缺一不可, 缺一不可。”
- 材料二 1912年, 袁世凯在《临时约法》中说: “中华民国之主权, 属于全体国民。人民有选举、罢免、创制、复决四权。政府有立法、行政、司法、考试、监察五权。”
- 材料三 1913年, 袁世凯在《袁氏称帝记》中说: “袁世凯称帝, 是当时中国历史发展的必然结果。袁世凯称帝, 是当时中国历史发展的必然结果。”



材料四 五三楼夫后改嫁,亲戚及乡邻皆贺,“少女做妇的,你担着不救他人,留着地做什么?”

——明中后期小说《金瓶梅》

请回答:

(1)该研究者认为,明朝妇女的婚姻观存在两重性,即保守性与自主性。他可能使用上述哪些材料来分别证明?(2分)

(2)结合明朝中后期的经济、文化知识,你认为,该研究者提出的明朝妇女婚姻自主性出现的原因是什么?(4分)

(3)上述材料分别来自官方文献、学者著作和小说,你对该研究者利用这些材料进行研究有何看法?(3分)

27. (16分)阅读材料:

文明之所以进,其原因不一,而思想自由,其总因也。欧洲之所以有今日,皆由十四五世纪时,古学复兴,脱教会之樊篱,一洗思想界之陋习,其进步乃沛乎莫能御……吾中国学者之光明,人物之伟大,莫盛于战国,盖思想自由之明证也……嗚呼,吾今日读学日新,思潮横溢之时代,而能以教权为尊礼于,斯亦不可以已乎!

——梁启超:《保教非所以尊孔论》(1902年)

请结合所学知识回答:

(1)梁启超文中的欧洲“古学复兴”指的是什么?(2分)

(2)战国的“思想自由”状况在秦汉、宋明时期发生了怎样的变化?(6分)

(3)梁启超所说的“今日读学日新,思潮横溢”有何具体表现?(4分)

(4)欧洲的十四五世纪,中国的战国时期,梁启超所处的这个时代,有什么共同之处?(4分)

28. (10分)阅读材料:

英国人一定是丧失了所有的道德和自由感,否则怎么会在这场世界经历过的最重要革命,对它正在进行的庄严方式,不表敬仰赞赏。凡有奇蹟这一伟大城市最近三天发展的问题,一定不会认为我的话是夸大的。

——《晨邮报》1789年7月21日巴士底狱的陷落

请结合所学的知识回答:

(1)1789—1815年的历史事实是否说明法国革命是一场“世界经历过的最重要革命”?为什么?(6分)

(2)《晨邮报》的这则评论认为,英国对法国正在进行的事件应该持有怎样的态度?结合所学知识解释你的判断。(4分)

29. (14分)阅读下列材料:

材料一 长期以来,很多学者将中国近代史的基本线索概括为“两个过程”,即中国土和封建主义相结合,把中国变为半殖民地半封建地的过程,同时也是中国人民反抗帝国主义和封建主义的过程,主张以这一基本线索作为指导中国近代史研究的重要准则。

材料二 近二十年来,有学者注重从现代化角度研究中国近代史,认为中国的现代化就是从传统农业社会向现代工业社会的转变,涉及到政治、经济、文化等方面。1840年以来中国错综复杂的历史,可以用“从传统到现代”这一思路作解释。

请结合所学知识回答:

(1)按照材料一的研究角度来研究中国近代史,可能会对1840—1911年间的哪些重要事件评价较高?(5分)

(2)按照材料二的研究角度,评价辛亥革命。(5分)

(3)综合材料一和材料二的观点,分析中华人民共和国建立的影响。(6分)

30. (17分)阅读下列材料,结合所学知识回答问题:

材料一 1928年苏联开始实行第一个五年计划,计划目的是使国家富强,在军事上和工业上自给自足。工业化,特别是重工业的发展,是计划的中心。在没有外国贷款的情况下进行工业化,农业部门成为重要的资金来源。集体化使大规模的农业代替了以往的小块田地,这就使资本(机器,拖拉机)应用于土地成为可

能,这有利于提高人均产量。集体化又使上级机关更容易通过管理手段来控制集体农庄的剩余产品。

——(美)帕尔默、科尔顿:《世界近代史》

(1)1928年后苏联农业政策发生了怎样的变化?原因是什么?(3分)

(2)从工业与农业关系的角度,评价斯大林时期形成的经济体制。(6分)

材料二 中国的工业化是在农业生产力水平很低的状况下启动的,落后的传统农业对工业化造成极大的制约,这种制约突出表现在农产品供给短缺的制约和农村市场需求不足的制约两种形式。因此随着中国工业化发展战略的全面推行,对农业发展的要求就变得十分强烈。

——解铃代亮:《20世纪50年代中国急向社会主义过渡的工业化背景分析》

(3)新中国“一五”和“二五”计划期间,在农业方面开展了哪些运动?(2分)

(4)1978年后中国的农村经济体制发生了什么重大变化?斯大林经济体制有何突破?(6分)

31 题和 32 题是选做题。考生只能选做其中的一题。

31. (9分)16世纪对教会的反叛,以其世俗主义标志着近代的开端。

——(英)约翰·巴克尔著:《西方社会史》

请结合所学知识回答:

(1)“16世纪对教会的反叛”,在欧洲以德意志、瑞士和英国的宗教改革为典型。三国家宗教改革的发动者分别是谁?(3分)

(2)16世纪的宗教改革有何历史意义?(6分)

32. (9分)在创立土耳其国后,凯末尔就致力于创造新土耳其人这一同样艰巨的任务。

——(美)斯塔夫里阿诺斯:《全球通史》

请结合所学知识回答:

(1)“新土耳其”的国家性质是什么?(2分)

(2)凯末尔为“创立新土耳其”和“创造新土耳其人”采取了哪些措施?(7分)





2007年普通高等学校招生  
全国统一考试(江苏卷)

历史 2A

● 试题难度 较小 ● 难度系数 0.65

● 友情提示 易错题: 15 较难题: 2, 5

一、单项选择题(本大题共24小题,每小题3分,共计72分。在每小题列出的四个选项中,只有一项是符合题目要求的。)

1. 中国古代某项水利工程兴建后,当地出现了“水旱从人,不知饥馑,时无荒年,天下谓之天府”的景象。该水利工程的始建者是  
A. 孙叔敖 B. 管仲 C. 李冰 D. 郑国
2. 平天六国,秦始自一法度,衡石、丈尺,车同轨,书同文字”。其中“书同文字”是指把以下哪种字体为全国统一的官方字体  
A. 篆书 B. 隶书 C. 楷书 D. 行书



3. 东晋南朝时期,江南经济迅速发展,乃至有“江南之为国盛矣”的赞叹。该时期江南开发的主要因素不包括  
A. 北方大量人口南迁 B. 民族融合进一步加强  
C. 统治者推行劝课农桑等政策 D. 农产品商品化程度提高
4. 下图为《元朝疆域图》,其中宣政院管辖的地区是  
A. ① B. ② C. ③ D. ④



5. 中国古代历史上屡次出现的南北分裂对峙,最终多以北方政权统一南方政权为结局。以下哪次统一改变了这一“定势”  
A. 隋朝统一 B. 北宋统一 C. 明朝统一 D. 清朝统一
6. 下列图片中的情景应出现在哪两次战争期间  
A. 鸦片战争 B. 第二次鸦片战争



① 鸦片战争 ② 第二次鸦片战争

- ③ 甲午中日战争 ④ 八国联军侵华战争  
A. ①② B. ③④ C. ①③ D. ①④
7. 中国无产阶级的产生先于中国资产阶级,造成这种现象的原因是  
A. 外国资本主义在中国早期资本输出  
B. 外国资本主义在中国倾销商品  
C. 外国资本主义压迫和掠夺中国资产阶级  
D. 外国资本主义在中国掠夺原料
8. 戊戌变法、新文化运动是中国近代化历程中的重大事件。下列关于两者共同点的表述,错误的是  
A. 都是近代中国的思想解放运动 B. 都提倡民权和西学  
C. 都始于反对罢黜的倒行逆施 D. 都押在封建思想文化
9. “万户涕泪,一人冠冕,其心尚有共和两字存耶?既忘共和,即称民贼。”这是1915年陈天华一宣言中的内容,发表此宣言的是  
A. 梁启超 B. 黄兴 C. 孙中山 D. 蔡元培
10. 2005年4月29日,中共中央总书记胡锦涛会见中国国民党主席连战,这是60年来国共两党领导人的首次握手。国共两党历史上曾有过两次合作,这两次合作正式实现的标志是  
① 中国国民党第一次全国代表大会举行  
② 中共驻共产国际代表团发表“八一宣言”  
③ 国民党公布中共中央提出的国共合作宣言  
④ 国共两党发表宣言《政府与中共代表会谈纪要》  
A. ①② B. ①③ C. ②③ D. ②④
11. 1940年5月,国民党领导将领李宗仁在一次会战中与日寇奋战数月,壮烈殉国,周恩来称他为“全国人杰”。这场会战是  
A. 淞沪会战 B. 太原会战 C. 徐州会战 D. 平津会战
12. 下图是台湾回归的重要场景,它表明被日本占领了50年的台湾回到祖国怀抱。这一历史时刻是在  
A. 1943年 B. 1945年 C. 1997年 D. 1999年



13. 有人形象地说南京既是近代史的起点,也是中国近代史的终点。下列能够反映这种说法的两个历史片段是  
① 英国侵略者强迫清政府在南京江面同英舰上签订不平等条约  
② 蒋介石在南京宣布《天朝田亩制度》  
③ 孙中山在南京主持中华民国临时政府第一次国务会议  
④ 人民解放军占领南京国民政府“总统府”  
A. ①② B. ②③ C. ③④ D. ①④
14. “文革”中我国国民经济遭受严重破坏,1973年初出现复苏局面,这是因为  
A. 周恩来主持中央日常工作,着手恢复国民经济  
B. “四人帮”的倒行逆施遭到毛泽东批评  
C. “文革”动乱接近尾声  
D. 国际形势趋于缓和
15. 台湾诗人余光中的《乡愁》吟道:“乡愁是一湾浅浅的海峡,我在这边,大陆在那边。”为早日结束两岸分离局面,实现祖国统一,邓小平提出了“一国两制”伟大构想。下列哪位文件阐述了这一构想  
A. 1978年《十一届三中全会决议》  
B. 1979年《告台湾同胞书》  
C. 1981年《关于台湾回归祖国,实现和平统一的大政方针》

- D. 1984年《政府工作报告》
16. 文艺复兴和启蒙运动是欧洲历史上著名的思想解放运动,下列搭配错误的是  
A. 彼特拉克——以“人学”对抗“神学”  
B. 拉伯雷——提出三权分立学说  
C. 卢梭——倡导“人民主权”说  
D. 狄德罗——宣扬科学与理性
17. 清康熙巡抚徐体斋曾“提三尺之剑,开疆万里,乃不爵位号,不传子孙,而创为推举之法,几于天下为公”的卵石,被镶嵌在某开国者的纪念碑上。此开国者是  
A. 拿破仑 B. 华盛顿 C. 伊达尔哥 D. 俾斯麦
18. 严冬季节,一个煤矿工家庭的母子有这样一段对话:  
子:“家里为什么不生火?” 母:“因为我们买不起煤。”  
子:“为什么买不起?” 母:“因为你父亲失业了。”  
子:“父亲为什么失业?” 母:“因为做生产得太多了。”  
这段对话反映了资本主义经济危机的实质,它最可能出现在  
A. 1825年的英国 B. 1861年的俄国  
C. 1888年的日本 D. 1871年的德国
19. 这是一首流行于美国的歌曲:“我希望站在满是棉花的土地上/古老的时光难以忘却/看那棉花吧!尽情地看着吧!迦西的土城是我出生的地方……”南方种植园主标志的一场战争使这块土地洒满鲜血,与这场战争相关的战役是  
A. 葛底斯堡战役 B. 瓦尔密战役  
C. 色当战役 D. 纳西比战役
20. 下列关于苏联社会主义建设的叙述,不属于勃列日涅夫时期的是  
A. 推高以重工业为重点的工业化  
B. 形成比较齐全的工业体系  
C. 结合个体小农经济并改造为大规模集体经济  
D. “民主社会主义”取代科学社会主义
21. 下图是1942年的一幅战时宣传海报,题名《救死希特勒》。图中三只手代表着当时有德作战的主要三个国家,这三国是  
A. 美国,英国,法国 B. 英国,法国,苏联  
C. 美国,英国,苏联 D. 美国,法国,苏联



22. 20世纪60年代起,新加坡、韩国等亚洲国家经济高速增长的因素不包括  
A. 吸引外国资本和技术 B. 进行产业升级换代  
C. 积极参与国际竞争 D. 发展资本密集型产业
23. 当今世界人类面临许多共同问题,其中被称为“21世纪的政治瘟疫”的是  
A. 粮食短缺 B. 恐怖主义 C. 政变迭起 D. 民族矛盾
24. 邓小平指出:“现代国际间的竞争,说到底综合国力的竞争,关键是科学技术的竞争。”下列重大科技成就中,中国参与的是  
A. 电子计算机的问世 B. 人类基因组工作草图的公布  
C. 伽利略号的提出 D. 电脑病毒现象的发现
25. 材料解析题(本大题共3小题,第25题10分,第26题13分,第27题10分,共计33分。要求分析材料,结合所学知识回答问题。)
25. 阅读下列材料:



材料一 仁者之世,提升增序,夏国增德,界兵西德,费累百万。 ——《宋史》

材料二 陛下(宋神宗)即位五年,更张改进者数千百事……其议论最多者,王雱也。一白和二,二白免役(也称募役),四曰保甲,五曰市易。……免役之法废,则农时不序,而民力均耗。……市易之法废,则官廪通流,而国用虚糜。

——王安石《临川先生文集》

材料三 (王安石)不恣富民而强富民,志欲破富民以惠贫民。……及其得志,号以此为事,设者偷法,以奉富民之利。民无贫富,两税之外,皆重出息十二,吏缘为奸,至倍息,公私皆病矣。

——苏轼《老练三集》

材料四 (司马光)请罢新法,曰:“……王安石不达大体,专用取见,变乱旧章,辄先帝任使,迨至民多失业,国用穷乏。……免役侵民,富者而困贫,以养浮浪之人,使农民失业,穷愁号咷。”

——《续资治通鉴长编》

请回答:

(1)北宋“积弱”原因,除材料一中涉及的以外,还有重要一项是什么?(1分)

(2)王安石变法针对“积弱”采取的措施,除材料二中提及的以外,还有哪两“新”?依据材料二,概括王安石变法取得的成效。(4分)

(3)依据材料三、材料四,指出王安石“新法”遭到废除的原因。(2分)

(4)有关王安石变法的评价,目前史学界主要有两种意见。一是肯定说,认为王安石变法一定程度上扭转了北宋积弱积弊的局面。二是否定说,认为王安石变法是一场脱离实际的变法运动。请选择其中一种意见,发表评述。(3分)

26. 阅读下列材料:

材料一 改变生产资料私有制为社会主义公有制这个极其复杂和困难的历史任务,现在在我国已经基本上完成了。我国社会主义和资本主义谁战胜谁的问题,现在已经解决了。

——刘少奇《在中国共产党第八次全国代表大会上的政治报告》

材料二 (中共)八大报告所阐述的一些经济建设的重要方针,因有“一五”计划的经验与教训作借鉴,所以比较符合社会主义改造完成后我国经济工作的实际。

——石仲泉等《中共八大史》

材料三 八大的路线是正确的。但是……没有能够在实践中坚持下去。八大以后,我们取得了社会主义建设的许多成就,同时也遭到了严重挫折。

——《邓小平文选》

材料四 (中国共产党十一届三中全会以后,我们……就是准确地、完整地学习和运用毛泽东思想呢。基本点还是那些。从许多方面来说,现在我们还是把毛泽东同志已经提出,但是没有做的事情做起来,把他反对错了的改正过来,把他没有做好的事情做好。……当然,我们也有发展,而且还要继续发展。

——《邓小平文选》

请回答:

(1)依据材料一、材料二,概括八大路线形成的重要背景。(3分)

(2)“八大”对当时国内主要任务和经济发展方针是怎样阐述的?八大路线的意

(3)材料三中提到八大路线“没有能够在实践中坚持下去”,社会主义建设遭到“严重挫折”。指出20世纪50年代经济工作遭到“严重挫折”的具体表现及原因。(4分)

(4)八大路线是毛泽东思想的重要内容。依据材料四,指出邓小平理论的形成与八大路线之间的关系。(2分)

27. 阅读下列材料:

材料一 国际联盟之宗旨为:各缔约国为增进国际合作,并维持其和平与安全起见,特允允受不从事战争之义务,维护各国间公开、公正、荣誉之邦交,严格遵守国际公法之规范。

——《国际联盟盟约》

材料二 从1934年开始,意大利军队不断在索马里与埃塞俄比亚边境挑衅,导致流血冲突。1935年1月3日,埃塞俄比亚向国际联盟理事会提出控诉。……10月7日,国联宣布意大利为侵略者,10月19日宣布对意大利进行经济和财政制裁。……制裁的清单中没有包括石油。……墨索里尼事后对青蜂观说:“如果国际联盟把对意大利的经济制裁扩大到石油方面,那我一周后只好退出埃塞俄比亚。”

——马世力《世界史纲》

材料三 联合国之宗旨为:维持国际和平及安全……并以和平方法解决依正义及国际法之原则,调整或解决足以破坏和平之国际争端或情势。……促进国际合作,以解决国际间属于经济、社会、文化及人类福利性质之国际问题。

——《联合国宪章》

材料四



请回答:

(1)建立国际联盟的构想是哪位政治家在哪个文件中提出的?依据材料一,指出国际联盟的建立反映了当时世界各国怎样的愿望?(3分)

(2)材料二中,国际联盟对意大利的经济制裁没有包括石油,其隐含的原因是什么?这造成了怎样的后果?(3分)

(3)依据材料一和材料三,指出联合国宗旨与国际联盟宗旨的不同之处,以及它反映了世界怎样的一种趋势?(2分)

(4)材料四再现了第26届联合国大会通过恢复中华人民共和国在联合国合法席位提案时欢呼场面,这一历史性时刻发生于哪年?此后,中国在联合国中发

三、问答题:本大题共3小题,第28题14分,第29题16分,第30题15分,共计45分  
28. 儒学为中国传统思想文化的重要内容;“新儒家”、“儒学复兴”、“孔子学盟”等现当代文化现象的出现,又反映了儒学的因时之变与应世之理。请简述先秦、西汉、南宋儒学的代表人物及其主要思想主张,并说明中国古代历史上儒学地位的变化。(14分)

29. 中日是一衣带水的邻邦,两国关系的发展有赖于青年一代的沟通与交流。为此,我省N中学邀请日本某校学生前来访问,并拟定了以下交流提纲。假如你作为N中学的一员,参照提纲要求,将如何回答下列问题?  
(1)在中日友好交往的历史中,先进的中华文明曾于日本以很大影响。请以汉、唐为例,各举一项史实说明。(2分)

(2)19世纪60年代后,中日两国开始近代化道路探索。试以“洋务运动”和“明治维新”为例,简述其背景的共同点和各自军事改革的措施。(6分)

(3)明治维新后,日本走上对外扩张道路,中日关系发生逆转。指出日本发动侵华战争的根源。(3分)

(4)近代日本发动的两次大规模侵华战争,给中国人民带来深重灾难,试列举日军制造的两起惨绝人寰的大屠杀。(2分)同时,侵略战争也使日本人民备受战争的苦难,右图(1945年8月的“鸟”)的景象是哪次空袭军事行动的结果?(1分)



(5)综上所述,你认为怎样才能实现中日关系的友好发展?(2分)

30. 大国崛起是世界历史舞台上令人瞩目的现象。在近代历史上,英国、德国、俄国(1917年前)都经历了崛起的过程。请回答下列问题:  
(1)英国崛起的诸多因素中,关键因素在于它率先完成了政治制度的创新与经济领域的变革,请指出其表现形式及实现途径。(4分)

(2)普法战争后,德国走上了崛起之路。指出德国崛起的重要前提及其实现方式,并概括推动德国崛起的主要内外因素。(4分)

(3)19世纪60年代起,俄国也开始崛起。请问崛起过程中俄国在内外政策方面采取了哪些举措?(3分)

(4)分析英国、德国、俄国崛起道路的共同之处,并就中国的繁荣富强之路谈你的看法。(4分)

·试题难度·适中

·难度系数·0.58

·友情提示·易错题:14、15、19、24 较难题:22

第I卷(选择题 共48分)

一、单项选择题(本大题共12小题,每小题4分,共计48分。在每小题列出的四个选项中,只有一项是符合题目要求的。)

- 科学技术的进步性且受到人们的重视。回答13—14题。
13. 韩非若为张衡鼻祖,“如此全面发展之人物,在世界中亦所罕见。”此评价的依据之一是张衡 ( )  
A. 创制了简仪 B. 最早做了关于太阳黑子的记录  
C. 制定了《大衍历》 D. 最早对月食作了科学的解释
14. 1985年,美国总统卡特倡议制定“尤里卡计划”,呼吁西欧国家在光电子学等尖端领域展开合作,建立“科技欧洲”。提出该计划的目的是 ( )  
A. 推动政治一体化的进程 B. 加强对科学研究的支持  
C. 提升高科技领域竞争力 D. 适应国际经济格局调整
15. 和谐社会与和谐世界是人类进步力量的共同追求。回答15—17题。
15. 从图7中可以获得的信息包括 ( )



图7

- ①和亲有利于民族之间的和睦  
②阻国认同感具有强大影响力  
③反对外来侵略维护国家统一  
④民族平等是历代的民族政策
- A. ①② B. ③④  
C. ①③ D. ②④

16. 1971年,周恩来在接见来访的美国乒乓球代表团时说:“你们这次来,打开了两国人民友好的大门。”这反映出当时中美关系解冻的特点是 ( )  
A. 以民促官 B. 国际推动 C. 官方交流 D. 以官带民
17. 1970年一个冬日,联邦德国总理勃兰特在华沙被纳粹杀害的波兰人纪念碑前神色凝重地跪下了。这一举动的内涵表明德国 ( )  
A. 曾经占领波兰 B. 深刻反省历史  
C. 实行非军事化 D. 奉行和平外交
18. 日常生活现象折射着社会文明的曲折历程。回答18—20题。
18. 唐朝时,蔬菜品种日益丰富,开始出现原产于地中海的莴苣,印度的豆蔻、波棱国(今尼泊尔)的菠菜等。这一情况透露出唐朝 ( )  
A. 农业生产的发达 B. 对外交流的繁荣  
C. 西域都护的设置 D. 泉州口岸的开放
19. 清末的一首打油诗云:“洋朝洋衣洋式鞋,短朝两袖口张开。平生第一伤心事,眼瞅生财学不才。”该诗反映了当时 ( )  
A. 服饰的西化 B. 洋装倾销中国

- C. 社会上的崇洋现象 D. 学习西方的迫切愿望
20. 1873年的一天,侍奉日本天皇的女官例行前天皇梳头时发时吃惊地发现,天皇已将自己的长发剪掉。这件事主要反映了天皇决心 ( )  
A. 革除封建礼仪 B. 废除封建身份制度  
C. 推动文明开化 D. 进行政治制度改革
21. “平均地权”,“耕者有其田”的主张由孙中山最先提出,但在民主革命时期卓有成效付诸实施的是中国共产党。这主要取决于后者 ( )  
A. 同情农民疾苦 B. 否定了封建土地所有制  
C. 抑制贫富不均 D. 制定了可行的土地纲领
22. 《中国共产党为公布国共合作宣言》(1937年9月由国民党公布)提出抗日的三项主张:争取中华民族之独立自由与解放;实现民权政治,召开国民大会,以制定宪法与规定救国方针;实现中国人民之幸福与愉快的生活。这三项主张的主旨是 ( )  
A. 国共摒弃前嫌再度合作 B. 在民主主义基础上团结抗战  
C. 国民党承认中共合法地位 D. 呼吁建立抗日民族统一战线
23. 《拿破仑法典》所述的原则是:私有财产不可侵犯,契约自由和法律面前人人平等。它的历史作用不包括 ( )  
A. 把启蒙思想的原则规定下来 B. 奠定资本主义社会立法基础  
C. 推动资本主义生活方式确立 D. 摧毁了法国小农土地所有制
24. 罗斯福说,工业复兴法是美国国会制定的“最具有深远意义”的法规。实施该法的主要目的是 ( )  
A. 实现经济复兴 B. 增加就业机会  
C. 国家干预经济 D. 防止盲目竞争

第II卷(非选择题 共32分)

二、非选择题(本卷共2大题,共32分。)

27. (32分)君与民的关系问题曾在中外政治发展进程中不断探索。阅读下列图文材料,回答问题。



图11

材料一 孟子认为君权的获得依赖于天命和民心两方面,董仲舒主张“天子受命于天,天下受命于天子”,黄宗羲则主张“天下为主,君为客”。

(1)图11中唐太宗这句话的思想内涵是什么?(2分)在其统治政策中是如何体现的?(4分)

(2)材料一中三位思想家的观点有何异同?(4分)

材料二 洛克(1632—1704)认为,“人天生都是自由、平等和独立的”,因此人们缔结契约,组建国家,将政治权力分为立法、行政和对权。人民推选代表组成拥有最高权力的立法机关,并选定国家的形式;其他两种权力由君主掌握。法律一经制定,任何人也不能凭借自己的权威违反法律的制裁。

(3)概括材料二中洛克的思想(不得照抄原文),(4分)指出其与孟德斯鸠主张的差异。(4分)说明洛克的基本思想在英国成为近代民主国家过程中是怎样体现的。(4分)

材料三 魏为在一份代拟的奏折中称,东西各国之强,皆以宪法开国之故。国会者,君与国民共议一国之政法也。人君与千万万国民共为一体,国安得不强?吾国行专制政体,一君与大臣数人共治其国,国安得不弱?盖千百万之人胜于数人者,自然之教也。他在《日本宪政记》结语中又说:吾命于此,非其其时也。

(4)材料三中奏折的主旨是什么?(2分)结合所学知识说明“非其其时”的社会原因。(4分)

(5)概括说明魏为的思想与材料一所反映的中国传统思想,材料二所反映的西方近代思想的关系。(4分)

39. (60分)环渤海地区被确定为我国继珠江三角洲、长江三角洲之后的重点发展区域,是在全面部署落实科学发展观新形势下,党和国家作出的又一项重大战略部署。阅读图文材料,回答问题。



图12

(1)甲、乙、丙三区域工业发展共同的区位优势,除了良好的农业基础,发达的沿海交通、优惠的政策,还有哪些?请再列举两方面的。(6分)

(2)甲、乙两区域建立化学工业不同的主导区位因素各是什么？(6分)

材料一 妈祖是我国古代民间传说中海上渔民和船工的保护神。妈祖文化是我国沿海地区民俗文化的组成部分,最早出现在福建的湄洲。

(3)妈祖文化由湄洲流传到甲、乙两沿海地区的现象称为\_\_\_\_\_。(2分)  
妈祖庙分布在天津、上海、广州的共同自然环境条件有哪些？(6分)

材料二 1793年,美国马歇尔尼使团来华,要求开放天津、宁波等地通商。乾隆皇帝严辞拒绝,并表示如果“英商将贸易欲至浙江、天津地方”,“定当立时驱逐出洋”。

(4)材料二反映了当时中、英两国怎样的历史状况？(4分)

材料三 18世纪中期以后,广州是清政府对外贸易的唯一口岸。1843年上海开埠后,城市商业中心由城东高的“南市”逐渐转移到城北沿苏州河新闸一带的租界地区,全国对外贸易的中心逐渐由广州转移到上海。1861年天津开埠后,城市经济中心由城北沿河一带逐渐转移到城东南的租界地区,天津逐渐成为北方外贸中心。到20世纪二三十年代,广州、上海、天津发展成近代大城市。

(5)广州、上海、天津被开辟为通商口岸各依据什么不平等条约？(2分)


概括材料三反映的中国近代口岸城市发展的主要特点。(4分)



(6)依据图13-15,结合改革开放的历史进程,说明新时期我国对外开放的基本格局。(2分)指出图15所示地区与前两地开发时相比,在经济运行环境方面的最大优势。(2分)

(7)依据材料二、三和图13-15,并结合所学历史知识,分别指出近代、当代中国经济发展与世界经济发展趋势的关系。(6分)

材料四 2005年三大区域产业结构状况与全国的比较



(8)分析材料四所反映的经济现象。(4分)

材料五 天津滨海新区全面贯彻落实科学发展观,不断加大电子通讯、石油开采、汽车制造、现代冶金等支柱产业,精心培育医药、航空航天、新材料等高新技术引领的产业集群,全力抓好金融、物流、中介、旅游等现代服务业,提升了整体经济质量,呈现出良好的发展态势。

(9)依据材料五,说明天津滨海新区正在形成怎样的产业格局及其意义。(6分)

(10)结合材料五,从哲学角度分析滨海新区经济发展呈现良好态势的原因。(10分)

试题难度 适中

难度系数 0.59

友情提示 易错题:15,22 较难题:19,20,23

第1卷(选择题 共48分)

一、单项选择题(共12小题,每小题4分,共计48分。在每小题给出的四个选项中,只有一项是最符合题目要求的。)

中国古代各民族共同促进了祖国的发展。回答12-13题。

12. 生活在东北地区的女真族 ( )
- A. 由粟米稻菽发展而来
  - B. 首领完颜阿骨打建立了八旗制度
  - C. 建州等部明确归顺了都司管辖
  - D. 在努尔哈齐时将族名改为满洲
13. 下列反映先进文化促进少数民族地区发展的表述,不正确的是 ( )
- A. 汉代中原地区的铸铁技术传入今新疆地区
  - B. 契丹族仿照汉字创制自己的文字
  - C. 西夏仿效唐宋王朝建立政治制度
  - D. 清代开始在西南地区实行“改土归流”

经济的发展与变化反映了社会的需要。回答14-16题。

14. 下列关于中国古代经济发展的表述,正确的是 ( )
- A. 春秋战国时期开始酿酒
  - B. 唐朝前期政府开始征收茶税
  - C. 明代引进原产于美洲的高产农作物
  - D. 清政府逐渐扩大手工工业生产规模

15. 图6为隋朝时期局部图。A、B、C、D四城市中,同时以陶瓷和纺织著称的是 ( )



图6

16. 在抗日根据地建设的进程中,适应现实要求的内容是 ( )
- A. 打土豪分田地
  - B. 废除封建债务
  - C. 限制富农经济
  - D. 减轻封建剥削

中国近代社会巨变中产生了许多杰出历史人物。回答17-18题。

17. 开创近代西方战船九国的著名人物是 ( )



- A. 林则徐 B. 曾国藩 C. 李鸿章 D. 左宗棠
18. 中国共产党第一个早期组织负责人 ( )
- A. 发表了《文学改良议》
  - B. 领导了五四爱国运动
  - C. 主持了中共“一大”
  - D. 出席了中共八七会议
- 思想解放是社会变革的先导。回答19-20题。
19. 文艺复兴与中国明末清初启蒙思想的相同点是 ( )
- ①有唯物主义思想
  - ②有反封建思想
  - ③有完整的思想体系
  - ④有广泛的阶级基础
- A. ①② B. ①③ C. ②③ D. ③④
20. 1919年12月,重庆《川东学生周刊》创刊。对其“刊登宗旨”和“改良社会”理解全面的是 ( )
- A. 反对北洋政府
  - B. 追求民主自由
  - C. 反对专制皇权
  - D. 抨击专制皇权

第二次世界大战后,世界经济出现了新变化。回答21-23题。

21. 韩国日本与韩国经济发展的共同因素主要有 ( )
- ①充分利用国际市场
  - ②受到局部战争刺激
  - ③引进先进科学技术
  - ④实行国民经济非军事化
- A. ①② B. ①③ C. ②③ D. ②④
22. 印度、伊拉克和伊朗经济发展面临的共同问题是 ( )
- A. 人口压力、粮食短缺,经济单一
  - B. 人口压力、边界争端,能源纷争
  - C. 能源纷争、边界争端,市场狭窄
  - D. 粮食短缺,经济单一,市场狭窄

23. 当今世界各国之间的经济联系愈加紧密。推动这一趋势发展的主要原因有 ( )

- ①跨国公司发挥主要作用
- ②科技进步和生产力的提高
- ③冷战以后局部冲突减少
- ④国际经济秩序的建立

A. ①② B. ①③ C. ②③ D. ③④

二、本部分共2题,共92分。

37. (32分)根据材料回答问题。

材料一 孔子教授弟子,弟子三千。其中不少弟子“富且贵”,还有社会地位。

材料二 古之取士皆本于学校,故能一于上,习俗成于下,其人材皆足以有为于世。自孔子之没,教养之法无所本,士虽有美材而无学校师友以成就之,此没者之所患也。今欲复古制以革其弊……以保(守待)朝廷兴建学校。

王念孙(临川侯)

材料三 19世纪60年代到90年代初期,在北京、上海、天津等地以同文馆、电报学堂、武备学堂、水师学堂、自强学堂等命名的学堂相继创办。其间还有150多人被派赴美、英、法等国留学。

材料四 拿破仑通过《教育基本法》等法令实施教育改革,加强国家对教育的控制;同时兴建与发展为资产阶级政治经济服务的初等学校、中等学校、专科学校和军事学校等。

(1)材料一反映了孔子的什么教育主张?(2分)结合所学知识,说明孔子的教育主张和实践给当时的教育格局带来了怎样的变化?(4分)

(2)根据材料二并结合所学知识,分析王安石教育改革的背景。(2分)概括其教育改革措施的特征。(6分)

(3)根据材料三,结合所学知识,分析这一教育变革的历史背景。(4分)并对此变革加以评价。(4分)

(4)根据材料四并结合所学知识,归纳拿破仑教育改革的特点。(4分)说明拿破仑教育改革的目的是什么。(4分)

(5)综合以上材料,你得到什么启示?(2分)

(2)根据材料二并结合所学知识,分析王安石教育改革的背景。(2分)概括其教育改革措施的特征。(6分)

(3)根据材料三,结合所学知识,分析这一教育变革的历史背景。(4分)并对此变革加以评价。(4分)

(4)根据材料四并结合所学知识,归纳拿破仑教育改革的特点。(4分)说明拿破仑教育改革的目的是什么。(4分)

(5)综合以上材料,你得到什么启示?(2分)

39. (60分)2007年1月30日至2月10日,国家主席胡锦涛对非洲八国进行了友好访问,请写了中非友谊的新篇章。

根据图10、图11和材料回答问题。

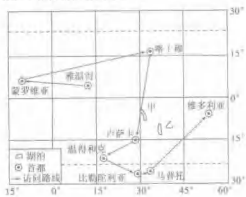


图10

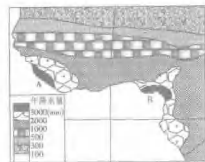


图11

(1)访问首日,八国首都中正午太阳高度角最大的是\_\_\_\_\_。甲、乙两湖为世界著名深水湖,其形成原因是\_\_\_\_\_。(4分)



(2) 分析图 11 中 A、B 区域年降水量特别丰沛的主要原因。(8 分)

(3) 说出北非地区主要的矿产资源, 并分析矿产资源开发的有利与不利区位因素。(8 分)

**材料一** 19 世纪末 20 世纪初, 由于列强商品的涌入, 非洲各地原有的手工业、冶炼业进一步受到摧残, 而机器制造业几乎是空白。单一作物制或矿产制的推行, 更使非洲经济具有极大的依附性。

**材料二** 新中国成立后, 每当一个非洲国家取得独立, 中国政府立即予以承认。从 1956 年到 1965 年, 中国先后同 19 个非洲国家建立外交关系, 并与几内亚、加纳等许多国家签订了友好条约和经济技术合作协定。

**材料三** 改革开放以来, 我国鼓励企业扩大对非洲的投资, 积极扩大从非洲

的进口。我国企业实施“引进来”和“走出去”战略, 遵循市场经济规律, 发展中非经贸合作, 实现互利共赢。苏丹喀土穆炼油有限公司是中国石油天然气集团公司和苏丹能矿部各以 50% 股份合资建成的公司。杨传涛主席访问非洲期间在考察该公司时指出, 中苏丹石油合作既有利于中国企业发展, 也促进苏丹建成了完备的石油工业体系, 为苏丹合理利用资源、创造就业机会、增加税收, 把本国资源优势转化为经济发展优势作出了贡献。事实证明, 中苏丹石油合作堪称南南合作的典范。

(4) 归纳材料一反映的非洲殖民地经济的特点。(4 分) 结合所学历史知识分析其成因。(6 分)

(5) 根据材料二并结合所学历史知识, 分析这一时期中国政府发展与非洲国家外交关系的原因。(6 分) 指出 20 世纪 50—70 年代中非友好合作的主要作用。(4 分)

(6) 根据材料三, 运用经济常识, 谈谈在中非经贸合作中我国企业应如何促进双方互利共赢。(10 分)

(7) 根据材料三, 运用唯物论观点, 分析我国企业在发展中非经贸合作中实施“引进来”和“走出去”战略的哲学依据。(10 分)

● 试题难度 适中

● 难度系数 0.59

● 友情提示 易错题:21

较难题:20

第 I 卷(选择题 共 48 分)

一、单项选择题(本试卷共 12 小题,每小题 4 分,共 48 分。在每小题给出的四个选项中,只有一项是符合题目要求的。)

1. 整顿吏治是制度文明建设的重要内容。回答 12—14 题。

12. 加强对官吏的监察是实现吏治清明的重要措施。历史上,下列机构或官职具有监察职权的是 ( )

- ①御史大夫 ②通判 ③御史台 ④军机处  
A. ①②③ B. ①②④ C. ①③④ D. ②③④

13. 出身“布衣”,重视经济立法并严惩贪腐的古代皇帝是 ( )

- A. 隋文帝 B. 唐玄宗 C. 明太祖 D. 乾隆帝

14. 新中国建立之初,中国共产党就重视生产队干部队伍中的分化堕落分子。图 4 反映的运动的作用不包括 ( )



图 4 刘青山、张子善伏法

- A. 教育了广大干部和群众  
B. 抵制了资产阶级腐化的侵蚀  
C. 肃清了反革命残余势力  
D. 纠正了官僚主义的作风

“天下最大事,莫若万物之归心。”民生问题是关系社会稳定与发展的基石。回答 15—18 题。

15. 宋元时期,话本、杂剧的出现丰富了人们的精神生活。其流行主要是适应了下列哪一社会阶层的需要 ( )

- A. 官僚 B. 市民 C. 皇族 D. 农民

16. 在近现代中国,系统阐释了民生思想并把它作为纲领的政治原则是 ( )

- A. 地主阶级洋务派 B. 资产阶级维新派  
C. 资产阶级立宪派 D. 资产阶级革命派

17. 图 5 所示证件是百姓购买生活物资的凭证,但现在已经失去了它原有的作用。这一变化的主要原因不包括 ( )



图 5

- A. 经济体制改革深化  
B. 农业生产稳步增加  
C. 生活物资日益丰富  
D. 粮棉物资统一管理

18. “大萧条”时期,主要资本主义工业国都采取了一系列增加就业的措施。其中美国实行的主要措施是 ( )

- A. 兴办公共工程 B. 发展军事工业  
C. 调整农业生产 D. 加紧殖民掠夺

德国是影响欧洲政治格局演变的重要角色。回答 19—21 题。

19. 小说《最后一课》中,韩麦尔先生对他的学生说:“孩子们……柏林来了命令,阿尔萨斯和洛林两省的学校只准教德语……今天是你们最后一堂法语课。”与此一情节密切相关的历史事件是 ( )

- A. 普法战争 B. 第一次世界大战  
C. 普法战争 D. 第二次世界大战

20. 下列有关德国影响欧洲局势的表述,符合历史实际的是 ( )

- A. “一战”中德国的盟国包括奥匈帝国、罗马尼亚和保加利亚  
B. 德国在希特勒成为元首后退出了国际联盟

C. 通过慕尼黑协定德国割占了捷克斯洛伐克

D. 奥斯陆战役后德军在欧陆战场已无力全面进攻

21. 图 6 反映的历史事件对当时的德国人意味着 ( )



图 6 拆毁柏林墙

- A. 欧洲将从此出现和平局面  
B. 德意志民族即将再度统一  
C. 东西德经济差距将迅速缩小  
D. 影响德国分裂的苏联即将解体

凡俗文化遗产是近年来历史研究关注的重要领域。回答 22—23 题。

22. “好男当兵上前线,抗日队伍出四川。坐上大船到武汉,武汉火线扯得宽。哪怕飞机丢炸弹,哪怕凶恶起烟烟……”(《川江号子·好男当兵上前线》)。这一作品创作的时间最早可能是在 ( )

- A. 1931 年 B. 1936 年 C. 1938 年 D. 1939 年

23. 图 7 反映的艺术形式,具有浓郁四川地方文化特色的是 ( )



图 7

- A. ①②③ B. ①③ C. ②③ D. ①②④

第 II 卷(非选择题 共 92 分)

二、非选择题(本卷共 2 大题,共 92 分)

27. (32 分)不同文明之间的相互交流与学习是影响历史发展变迁的重要因素。阅读下列材料

材料一



图 11

材料二 17—18 世纪,中国古代的主要经典和儒家学说,通过传教士的介绍,在欧洲知识界上层社会得到了流传和宣扬,成为伏尔泰等启蒙运动者汲取精神力量的源泉。……中国历史上传统的仁君统治和大一统的思想,更是直接开明专制制的启蒙思想家反对欧洲王权所追求的社会楷模。……(启蒙思想家)霍尔巴赫说:“中国是世界上唯一的将政治和伦理道德相结合的国家。”

——摘编自沈福伟《中西文化交流史》

材料三 19 世纪末 20 世纪初,中国(知识分子)对国外作品的兴趣从纯科技转向制度和政治方面。……对自然科学和应用科学的热情向社会科学和人文科学转移。新的重点对以后几年中国的政治和社会发展起着重大影响。

——摘编自费正清,对广东《剑桥中国晚清史》

回答:

(1) 历史学家霍伯赞认为,丝绸之路的开通,其意义不亚于新航路的发现。西汉时期开通的陆上丝绸之路和海上丝绸之路,促进了中国同亚洲哪些地区之间的经济文化交流?(4 分)从全球史观的角度看,新航路的开辟有何重要意义?(3 分)

(2) 根据材料一图示发明并结合所学知识,概括人类文明交流的发展趋向。(4 分)这些趋向对 20 世纪后期世界经济的发展有何重大影响?(4 分)

(3) 根据材料二,指出西方启蒙思想家在汲取中国文化时的侧重点。(3 分)这同他们的什么政治主张产生了影响?(3 分)

- (4) 根据材料三, 指出在学习西方文化的过程中, 中国知识界关注的重点有何变化? (2分) 这一变化为五四运动前中国的哪些重大历史事件提供了思想准备? (3分) 请任选一事件概述其主导思想。(4分)

- (5) 以文明的相互交流与学习为主题, 另拟一篇历史小论文的标题。(要求: 内容具体, 有新意。)(2分)

材料二



图13

- (3) 图13所示为风力侵蚀作用形成的自然景观。在图12中的①、②、③、④四地, 可能见到这种景观的是\_\_\_\_\_地。观赏该景观时, 为了获得特定的形态美感, 从旅游景观欣赏的角度看, 关键在于\_\_\_\_\_。(4分)

材料三



材料四

表3 1928、1940年苏联主要产品产量简表

| 项目      | 1928年 | 1940年  | 增幅(%) |
|---------|-------|--------|-------|
| 钢(万吨)   | 430   | 1 830  | 326   |
| 煤炭(万吨)  | 3 550 | 16 600 | 368   |
| 林纸物(亿米) | 26.78 | 39.54  | 48    |
| 谷物(万吨)  | 7 300 | 9 550  | 31    |

表4 1952、1957年中国主要产品产量简表

| 项目     | 1952年  | 1957年  | 增幅(%) |
|--------|--------|--------|-------|
| 钢(万吨)  | 135    | 535    | 296   |
| 煤炭(万吨) | 6 600  | 13 100 | 98    |
| 布(亿米)  | 38.3   | 50.5   | 32    |
| 粮(万吨)  | 16 392 | 19 505 | 19    |

(表3据王新德《世界现代史参考资料》编制; 表4据国家统计局《新中国五十年统计资料汇编》编制)

材料五 1953年, (苏联)宣布实行农产品义务交售制。……提高工业品的出售价格, 压低农产品的收购价格。……以加快(工业化的)资金投入。

1953年, 中国实行以固定价格收购粮食的制度。……为初定的工业化规划提供了资源。……低价的收购制度提供了把物资调拨至无赔地转出农业部门的手段。……(摘编自亨德里克·魏斯曼·现代史稿, 费正清《剑桥中华人民共和国史》)

- (4) 材料三中国14人物对苏联的帮助主要体现在哪些方面? (3分) 参照图15、16, 并结合所学知识, 分析苏联的支持对建设新中国的主要作用。(3分)

- (5) 根据材料四, 概括20世纪二三十年苏联和五十年代中国经济发展的主要相似特点及存在的主要问题。(10分) 并分析新中国存在这些问题的主要原因。(4分)

材料六 俄罗斯和韩国是中国的重要邻邦。近年来, 中俄、中韩贸易发展迅速。见表5:

表5 中俄、中韩贸易基本情况

|    | 贸易额(单位: 亿美元) |         | 贸易产品结构 | 贸易地位                           |
|----|--------------|---------|--------|--------------------------------|
|    | 1992年        | 2006年   |        |                                |
| 中俄 | 46.3         | 333.9   | 中国出口   | 纺织服装类商品, 轻工产品等劳动密集型产品          |
|    |              |         | 中国进口   | 石油、天然气、木材、钢材、化肥等资源密集型产品        |
| 中韩 | 50           | 1 343.1 | 中国出口   | 原材料、矿产品、纺织服装、皮革等初级产品或劳动密集型产品   |
|    |              |         | 中国进口   | 化工产品, 电子通讯设备、机电产品等技术密集型和高附加值产品 |

- (6) 表5反映了哪些经济现象? 请运用常带常识说明中俄、中韩贸易迅速发展的原因。(10分)

材料七 改革开放以来, 我国政府多次公开阐明: 中国过去不称霸, 现在不称霸, 将来强大了也不称霸。今年3月温家宝总理在《政府工作报告》中再次强调, 面对复杂多变的国际形势, 我们要高举和平、发展、合作的旗帜, 坚定不移地走和平发展道路。

- (7) 指出我国走和平发展道路的政治依据, 并以近年来我国处理与图12所示地区一国(或多国)关系的实例, 说明我国走和平发展道路的正确性。(10分)

39. (60分) 阅读下列材料, 回答相关问题。

材料一

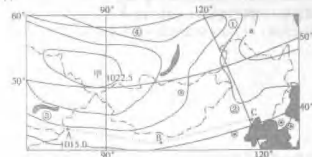


图12

- (1) 在图12所示气压形势下, a等压线的数值为\_\_\_\_\_百帕, ①地可能出现的风向是\_\_\_\_\_。若甲天气系统中心气压值增大, 几天后长江中下游地区出现阴雨天气, 在此期间, ②地的气压和天气变化状况是\_\_\_\_\_。随着季节变化, 当甲天气系统消失时, 控制澳大利亚大陆西南角的气压带或风带是\_\_\_\_\_。(8分)
- (2) 图12中A-B-C一线年降水量大致呈现出由A至B逐渐减少, 由C至B逐渐减少的变化特点, 试分析其原因。(8分)



·试题难度·适中

·难度系数·0.55

·友情提示·易错题:9,14

·难度题:12,15

第 I 卷(必做,共 32 分)

14~16 世纪,西欧逐渐告别了中世纪,中国仍然在封建道路上缓慢前行。回答 9~10 题。

服饰是一个时代政治、经济和思想文化的具体体现。图 5 到图 7 是明代祖制颁行全国的三种男子朝服,你从中得到的确切信息是 ( )



图 5



图 6



图 7

- A. 朱元璋关心民众生活  
B. 朱元璋鼓励发展纺织业  
C. 明朝极力加强专制皇权  
D. 明朝百姓服饰都有统一规范
9. 马丁·路德说:“我们应当让世俗政权在整个基督教世界中执行它的职务,不要以任何阻碍,无论什么人,不管他高教皇、主教、传教士,或是修士、修女,世俗权力都有权来管他。”该材料反映了马丁·路德 ( )
- A. 倡导人的解放  
B. 否定基督教  
C. 宣扬圣经精神  
D. 否定教皇地位

10. 诗歌、图画和鲜活的历史,它们生动地向我们讲述着社会的变迁。回答 11~12 题。

11. 白居易诗:“机梭声札札,牛驴走纍纍。……有财不行道,有丁不入军。家家守村业,头白不出门。”诗中的描述还反映了 ( )

- ①男耕女织的自然经济  
②重视农业的观念  
③家庭手工业的发展促进了商品流通  
④女士重迁的思想
- A. ①②③  
B. ①②④  
C. ①③④  
D. ②③④

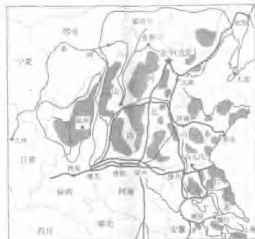


图 8

12. 图 8 是某同学在研究性学习中使用的一幅地图。据图中阴影部分判断,他的研究课题是 ( )
- A. 工农武装割据的形成  
B. 七事变前日本占领区域的变化  
C. 抗日根据地的建立和发展  
D. 三大战役后解放区的扩大
- 20 世纪五六十年代,我国在经济和政治建设方面进行了一系列探索。回答 13~14 题。
13. 1964 年,周恩来与美国作家斯诺交谈时说:“过去 15 年中有些事情我们是做对了,但我们也做了一些错事。……只有敢于承认自己的缺点和错误,我们才能改正它们。”针对 50 年代末经济建设中的“缺点和错误”,党和政府的纠正措施是 ( )
- A. 对资本主义工商业进行社会主义改造  
B. 正确分析我国社会主要矛盾  
C. 提出建设社会主义总路线  
D. 提出调整国民经济八字方针

14. 图 9 是 1953 年版人民币 10 元券背面图案,图案的设计理念体现了 ( )



图 9

- ①民族团结原则  
②民族平等原则  
③民族区域自治制度正式确立  
④党和政府尊重少数民族文化
- A. ①③④  
B. ①②④  
C. ②③④  
D. ①②③④
- 在人类历史由分散割裂整体的发展过程中,中国与世界的联系日益密切。回答 15~16 题。
15. 一个英国人在乾隆二十五年(1760 年)来到中国,这一年他可能经历的事情是 ( )

- A. 看到机户和机工因工资纠纷到衙门打官司  
B. 邀请中国朋友去他乘坐的船上品尝汽锅鸡  
C. 北京的朋友邀请他去看京剧演出  
D. 收到国内来信说英王解散了议会
16. 1972 年中美上海《联合公报》:“美国认识到,在台湾海峡两岸的所有中国人,都认为只有一个中国,台湾是中国的一部分。美国政府对这一立场不提出异议。”美国发表这一声明意在 ( )

- A. 缓和中美关系,集中对抗苏联  
B. 承认中国日益提高的国际地位  
C. 缓和中美关系,促进中国统一  
D. 承认封锁新中国政策的错误

第 II 卷(必做 60 分+选做 30 分,共 90 分)

27. (25 分)社会保障制度建设是当今世界各国普遍关注的重大问题,美国罗斯福新政对此曾做了有益探索。阅读材料,回答问题。

材料一



1900 年的美国矿工



1935 年美国矿工在雪地里



罗斯福与矿工工人在一起

图 10

图 11

图 12

材料二 《全国工业复兴法》包括三方面内容:一是建立国家复兴管理局。二是由国家举办各种公共工程,减少失业大军。三是适当提高劳工地位,改善劳工待遇。劳工组织有与资方谈判的权利,雇主不得以工人参加何种工会作为雇佣条件,雇主必须遵守最高工时和最低工时管理,不得雇佣童工。

——富叙林《世界改革史》

材料三 1933 年 5 月通过《紧急经济法令》,到 1936 年止,政府大约支出 30 亿美元用于失业救济。1935 年提出《社会保障法》,在全国范围内推行养老金制度和失业保险制度。

——高德步《世界经济通史》

(1)材料一反映了罗斯福关注什么社会问题?

(2)材料二中有关社会保障的内容有哪些?《全国工业复兴法》旨在复兴美国工业,但为什么涉及社会保障问题?

(3)依据材料二、三,指出“新政”的社会保障制度主要是通过什么方式建立的。(4 分)

(4)关于“新政”中的社会保障措施,有人认为主要是为克服危机而采取的临时性措施,有人认为主要是为维护资产阶级民主制而进行的长期性制度建设。请选择你认同的一种观点并简要说明理由。

29. (35分)根据相关资料完成下列问题。

山东是中华民族的发祥地之一,在中国乃至世界历史上都占有重要地位。  
(1)结合史实,从政治、经济、思想三方面说明山东在中国先秦时期的重要地位。

(4)简要回答这种分布对山东省经济发展的主要影响。

(2)结合王安石变法的相关知识,谈谈你对材料二、三中“非大坏则不更造”和“适应于时代”的理解。(6分)

材料一 登州文会馆是美国传教士狄考文1876年创办的一所教会学校,表3为该校正斋(中学部)开设的主要课程:

表3

| 宗教类            | 中国经学类                       | 自然科学类  | 社会科学类及其他                 |
|----------------|-----------------------------|--|--------------------------|
| 天经、道经、救世之妙、马书等 | 书经、诗经、论语、孟子、易经、礼记、孟子、立论、易经等 | 代数、算学、圆锥曲线、测角学、植物(声、光、电等)、航海法、物理、算学、化学、动植物学等、积分学、天文摘要等 | 读作作文、万国通译、二十一史韵编、算学、万国算等 |

材料二 试办山东大学章程规定:“以四书、五经为体,以历代文辞及中外政治、史学(注:史学指算、法、矿、医、声、光、化、电)为用。”

——姜作璋等《齐鲁文化通史》

(2)分析材料一、二,指出两所学校在课程设置上的共同之处。这类新式学校的创办对山东近代经济发展有何积极影响?

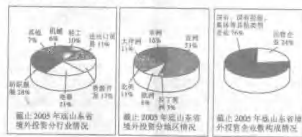
材料三 改革开放以来,山东省已成为外商投资的重点地区。2005年外商直接投资额达97.7亿美元,占全国外商直接投资总额的比重达14.9%,其中,制造业是外商直接投资的主要领域。表4为山东省各城市1992—2005年累计外商直接投资额占全省同期累计外商直接投资总额的比重。

表4

| 地区 | 投资比重(%) | 地区 | 投资比重(%) | 地区 | 投资比重(%) |
|----|---------|----|---------|----|---------|
| 青岛 | 5.36    | 潍坊 | 7.26    | 临沂 | 1.68    |
| 青岛 | 37.19   | 济宁 | 2.91    | 德州 | 2.13    |
| 淄博 | 4.14    | 泰安 | 1.16    | 聊城 | 0.98    |
| 东营 | 1.13    | 威海 | 10.91   | 滨州 | 1.14    |
| 东营 | 1.41    | 日照 | 1.59    | 菏泽 | 1.11    |
| 烟台 | 19.21   | 莱芜 | 0.68    |    |         |

(3)根据表4,根据山东省外商直接投资集中分布的两个地带,并说明其形成的主要原因。

材料四 自2000年中央提出加快实施“走出去”战略以来,山东境外投资进入快速发展的新阶段,呈现一些新特点。



(5)图18、图19分别表明山东境外投资领域进一步拓宽、投资区域不断扩大。以这样的思路,你认为图20体现的山东境外投资的特点应该如何概括?请对山东企业如何实现境外投资的新突破提出合理化建议。

34. (10分)【历史——近代社会的民主思想与实践】

20世纪初,中国社会发生了深刻变化,旧的习俗被打破,新的观念逐渐形成,社会风气也在悄然改变。阅读材料,回答问题。

今有清谈志士甚夥,此君尚未娶妇,志欲追求天下有志女子,聘定为宜。其主义如下:一娶天足,二要通晓中西学术门径,三聘娶仪节悉照文明通例,务除中国旧有之陋俗,如有假合以上诸格及自愿出嫁,又有完全自主权者,毋论满汉新旧,贫富贵贱,长幼婚嫁均可。 ——《大公报》1902年6月26日

(1)上述材料反映了当时新妇女观的哪些内容?(4分)

(2)这种新妇女观受到了哪种思想影响?列举近代中国在这种思想影响下发生的思想解放运动和反封建革命。(6分)

35. (10分)【历史——20世纪的战争与和平】

战争造成的灾难有目共睹,但不同时代,不同人对战争有不同的思考和主张。阅读材料,回答问题。

材料一



图24

图25

材料二 “战争不仅是一种实际上的必要,它也是一种理论上的必要,一种逻辑的要求。国家这一概念意味着战争的概念……” ——《大同崛起》

(1)材料一反映了怎样的主题?(3分)

33. (10分)【历史——历史上重大改革回眸】

王安石变法在历史上产生了重大影响,人们对此却评价不一。阅读材料,回答问题。

材料一 今介有为政……士吏兵农工商皆道无一不得养故而守节者,纷纷就抚,莫安其居……

——司马光《家範集》

材料二 司马光:“治天下譬如居室,敝则修之,非大坏则不更造也。”

——《宋史》

材料三 北宋真宗时王公乞文,适应于时代。其民法是悉往就语今日民之能度……

——《宋史》