

安徽省 2007 年 党政机关录用公务员考试 配套用书



XINGZHENG ZHIYE NENGLI QINGXIANG CESHI MONI SHIJUAN

《行政职业能力倾向测试》

模拟试卷

本书编写组 编写

特别提示：
□ 按照 2007 年安徽省公务员录用考试大纲编写
□ 赠送上网卡，凭卡上网获取考前资料
(安人公务员考试网 www.argwy.net)

安徽人民出版社

安徽省 2007 年
党政机关录用公务员考试配套用书

《行政职业能力倾向测试》模拟试卷

本书编写组 编写

安徽人民出版社

责任编辑:安 策

装帧设计:宋文岚

图书在版编目(CIP)数据

《行政职业能力倾向测试》模拟试卷/《《行政职业能力倾向测试》模拟试卷》编写组编. —合肥:安徽人民出版社,2007.7

ISBN 978 - 7 - 212 - 02992 - 0

I. 行... II. 行... III. ①公务员—招聘—考试—中国—习题②行政管理—能力倾向测验—中国—习题 IV. D630.3 - 44

中国版本图书馆 CIP 数据核字(2007)第 043853 号

《行政职业能力倾向测试》模拟试卷

本书编写组 编写

出版发行:安徽人民出版社

地 址:合肥市金寨路 381 号九州大厦 邮编:230063

发 行 部:0551 - 2833066 0551 - 2833099(传真)

E - mail:ahp0208@sina.com

经 销:新华书店

照 排 厂:合肥市中旭制版有限责任公司

印 刷:合肥市东方红印务有限责任公司

开 本:787 × 1092 1/8 印张:12.25 字数:300 千

版 次:2007 年 4 月第 1 版 2007 年 4 月第 1 次印刷

标准书号:ISBN 978 - 7 - 212 - 02992 - 0

定 价:25.00 元

本版图书凡印刷、装订错误可及时向承印厂调换

目 录

《行政职业能力倾向测试》模拟试卷一	1
《行政职业能力倾向测试》模拟试卷二	16
《行政职业能力倾向测试》模拟试卷三	32
《行政职业能力倾向测试》模拟试卷四	47
《行政职业能力倾向测试》模拟试卷五	62
《行政职业能力倾向测试》模拟试卷六	77
《行政职业能力倾向测试》模拟试卷七	93
《行政职业能力倾向测试》模拟试卷八	109
《行政职业能力倾向测试》模拟试卷一参考答案及解析	125
《行政职业能力倾向测试》模拟试卷二参考答案及解析	135
《行政职业能力倾向测试》模拟试卷三参考答案及解析	144
《行政职业能力倾向测试》模拟试卷四参考答案及解析	152
《行政职业能力倾向测试》模拟试卷五参考答案及解析	161
《行政职业能力倾向测试》模拟试卷六参考答案及解析	169
《行政职业能力倾向测试》模拟试卷七参考答案及解析	177
《行政职业能力倾向测试》模拟试卷八参考答案及解析	185

《行政职业能力倾向测试》模拟试卷一

第一部分 数量关系

(共 15 题,参考时限 15 分钟)

一、数字推理

1. $\frac{2}{\sqrt{3}-1}$ $\frac{2}{\sqrt{5}-\sqrt{3}}$ $\sqrt{7}+\sqrt{5}$ ()

A. $\frac{2}{3+\sqrt{7}}$

B. $\frac{2}{3-\sqrt{7}}$

C. $\frac{2}{\sqrt{7}-\sqrt{5}}$

D. $\frac{2}{\sqrt{7}+\sqrt{5}}$

2. $\frac{1}{4}$ $\frac{1}{16}$ $\frac{1}{64}$ () $\frac{1}{1024}$

A. $\frac{1}{128}$

B. $\frac{5}{64}$

C. $\frac{1}{256}$

D. $\frac{1}{1024}$

3. 0 3 8 15 24 ()

A. 33

B. 35

C. 48

D. 49

4. 2 5 11 23 47 ()

A. 71

B. 67

C. 91

D. 95

5. 0.2 0.34 0.456 ()

A. 0.56789

B. 0.6789

C. 0.5678

D. 0.4567

二、数学运算

6. 一根绳子长 160 米,三次对折后,再从中间剪断,那么最短的一截长为()。

A. 20 米

B. 10 米

C. 5 米

D. 16 米

7. $7900 \div 25 \div 8$ 的值为()。

A. 39

B. 39.5

C. 41.5

D. 42.5

8. 前天是星期四,那么过 108 天后是()。

A. 星期一

B. 星期天

C. 星期二

D. 星期六

9. 周长都一样的三角形、圆形、正方形、菱形中,面积最大的是()。

A. 正方形

B. 三角形

C. 菱形

D. 圆形

10. 如果每隔 10 米远栽 1 棵树,则 400 米长的环形操场可栽()。

A. 39 棵

B. 41 棵

C. 40 棵

D. 38 棵

11. 在自行车比赛中,某运动员第一小时行了全程的 30%,第二小时比第一小时多行 5 千米,又行了 15 千米才达到终点。比赛的全程有()。

- A. 40 千米 B. 50 千米 C. 55 千米 D. 60 千米
12. 一只蚂蚁从树底爬到树顶,若树高 18 米,它每次爬 6 米,又下滑 3 米,按这一速度, ()天爬到树顶。
A. 5 B. 18 C. 6 D. 25
13. 有一工作,甲做 2 天后乙接着做,做了 10 天后完成了工作。已知乙单独完成需要 30 天,那么甲单独完成需()。
A. 3 天 B. 1 天 C. 10 天 D. 2 天
14. 瓶内装有酒精,倒进 500 克以后又倒出一半,再倒进 500 克,这时瓶内有酒精 1200 克,瓶内原有酒精()。
A. 1200 克 B. 900 克 C. 1100 克 D. 1000 克
15. $\frac{1}{2} + (\frac{1}{2})^2 + (\frac{1}{2})^3 + (\frac{1}{2})^4$ 等于
A. $\frac{1}{16}$ B. $\frac{7}{8}$ C. $\frac{15}{16}$ D. $\frac{5}{8}$

第二部分 语言理解与表达

(共 25 题,参考时限 20 分钟)

一、语句表达

16. 有歧义的一句话是()。
A. 我去打点水来煮饭
B. 张原要儿子从街上带一斤肉回来招待客人
C. 院子里有许多孩子种的花
D. 学校已经放假好几天了
17. 有歧义的一句话是()。
A. 我大弟弟三岁
B. 赵匡胤统一了五代十国的分裂局面,建立了宋朝
C. 《围城》是钱钟书的一部名作
D. 这些打工妹大多来自山区
18. 下列的几句话中没有语病的一句是()。
A. 文字通顺,这是衡量一篇文章好坏的重要标准
B. 文字通顺与否,这是衡量一篇好文章的重要标准
C. 文字是否通顺,这是衡量一篇文章好坏的重要标准
D. 衡量一篇文章好坏的重要标准是文字通顺
19. 多重否定使用不恰当的一项是()。
A. 谁也不会否定我们的工作做出了很大成绩的
B. 我们并不否认这首诗没有透露出希望,而是说希望是很渺茫的
C. 我想不必叙述了吧,因为没有人会想象不出来的
D. 要全面提高文化素质,也不是一件容易的事

20. 下列句子表意准确且没有语病的一句是()。
- A. 他有一个女儿,在医院工作
 - B. HIV 是一种使人丧失免疫力的病毒
 - C. 大家对护林员揭发林业局带头偷运木料的问题,普遍感到非常气愤
 - D. 在古代,这类音乐作品只有文字记载,没有乐谱资料,既无法演奏,也无法演唱
21. 下列句子中没有歧义的一句是()。
- A. 他没有想到,最先报案的他竟成了罪犯
 - B. 作为他一生一世的朋友,他终于回到了祖国
 - C. 最近江苏省公安厅破获了一起特大纵火案
 - D. 我借了他两本很有趣的小说
22. 下列句子中没有歧义的一句是()。
- A. 某人接到一学术会议秘书组来函,信上说:只要你单位同意,报销差旅费,安排住处,领取大会出席证的问题可由我们解决……
 - B. 我有一个女儿,同许多年轻的妈妈一样,愿意把孩子打扮得漂亮些
 - C. 粮库主任的失职,使四十吨小麦霉烂变质。上级领导为了严肃法纪,决定给他行政记过处分,并赔偿部分经济损失
 - D. 爱护人民的政府,永远得到人民的拥护
23. 下列选项中表述准确且无语病的一项是()。
- A. 这种全封闭的“蚕豆”式自行车,最高时速可达 75.6 千米/小时
 - B. 这种全封闭的“蚕豆”式自行车,最高时速为 75.6 千米以上
 - C. 这种全封闭的“蚕豆”式自行车,最高速度为 75.6 千米/小时
 - D. 这种全封闭的“蚕豆”式自行车,最高时速为 75.6 千米
24. 下列各句中没有语病且句意明确的一项是()。
- A. 不仅日本军国主义给了中国人民深重的灾难,也给了日本人民深重的灾难。看了影片《望乡》,更加深了对日本军国主义的理解
 - B. 严复译赫胥黎的《天演论》,被誉为“桐城古风”,撇开那近于“骈四俪六”和过于译意且发挥,而简洁流畅,生动传神,确然吸引过一代知识分子的思考
 - C. 所谓“黄河之水天上来”,不过是诗人的幻觉,无源之水,无本之木,到底并不存在。中国无产阶级革命文艺又何独不然,能够从天而降
 - D. 自从班主任找他谈话以后,他对于自己的所犯错误,有了进一步的深刻的认识,并下决心改正
25. 下列没有语病的一句是()。
- A. 在欢迎的人群中,既有 70 多岁的老人,也有在人们怀抱里的两岁的孩子
 - B. 经过刻苦的练习,在选拔赛上他射击的五次成绩平均都在 95 环以上
 - C. 语文是各门学科的基础,学习自然科学如果不掌握语文这一工具,就不可能正确理解概念和原理,不可能有严密思维的能力
 - D. 画家蔡若虹到延安附近却受阻,只好绕道香港、河内、昆明,历时七个月才到达理想之地

二、阅读理解

26. 从 1901 年到 1961 年,诺贝尔文学奖几乎完全为欧美白人垄断;20 世纪 60 年代以后,亚、非、拉美作家居多;90 年代则没有欧美白人作家获奖。而 60 年代以后正是欧美

科学技术突飞猛进的时代,这是否意味着技术突起、科学精神会使文学作品失去人文魅力?

上面这段话主要支持了这样一种观点,即()。

- A. 科技高度发展可能使文学中的人文精神走向浅薄
B. 不排除技术和科学的干扰,就没有优秀的文学作品
C. 真正优秀的文学作品只能产生在落后的国家和地区
D. 科技发展是以文学作品丧失人文魅力为代价的
27. 菲尔丁说:“不好的书也像不好的朋友一样,可能会把你戕害。”这话没错。但也不必为此走向极端,夸大书籍对人的品格的影响。更多的情况是:_____。
填入横线上最恰当的是()。
- A. 好人读了坏书受害至深,坏人读了好书受益甚微
B. 好人读了好书取其精华,坏人读了坏书取其糟粕
C. 好人读了好书好上加好,坏人读了坏书不可救药
D. 好人读了坏书仍是好人,坏人读了好书仍是坏人
28. 研究人员设法将花粉蛋白固定在试管壁上,先注入抗体(IgG4),让它与花粉蛋白结合;洗去多余的 IgG4 后,再加入用放射性碘标记的螨虫蛋白,最后再用水漂洗。结果发现,有放射性标记的螨虫蛋白粘在试管壁上,这意味着抗体结合了两个不同的抗原。
下列陈述,符合以上文意的是()。
- A. 花粉蛋白固定在试管壁上,有助于稳定其与螨虫蛋白的结合
B. “多余的 IgG4”是指注入试管后没有与花粉蛋白结合的 IgG4
C. 第二次漂洗,是为了洗去多余的螨虫蛋白和多余的 IgG4 抗体
D. 给螨虫蛋白加放射性碘,是为了加快其与抗体 IgG4 的结合
29. 企业进行生产经营活动的实质就是一种风险行为,既会有盈,也会有亏,还会破产。因此,企业生产经营决策者必须对其资产有使用权、支配权。还必须具有自我约束能力,否则,一旦决策失误,轻则亏损,重则企业倾家荡产。
这段话主要支持了这样一种观点,即()。
- A. 企业生产经营活动是一种风险行为
B. 企业决策不能失误
C. 企业生产经营决策者必须与企业共存亡
D. 企业生产经营决策者必须有权
30. 苏轼认为,贾谊才学虽高,但不能审时度势,以致郁郁而死,未尽其才。他还说:“贾生志大而量小,才有余而识不足也。”从贾谊的际遇看,苏轼说的是实情;但是,导致贾谊悲剧的原因主要是当朝统治者的错误。
下列陈述,不符合文意的是()。
- A. 苏轼认为,识见不足是阻遏贾谊才智发挥的重要原因
B. 苏轼没有着眼社会环境来分析是造成贾谊悲剧的本源
C. 苏轼经历坎坷,所以与未尽其才的贾谊同病相怜
D. 苏轼肯定了贾谊的才学,指出了他性格上的弱点
31. 昨天,办公室来了一个小伙子,他主动跟小王搭话,说认识我们主编。能最准确复述这段话意思的是()。

密

封

线

内

不

要

答

题

- A. 这个小伙子认识小王
- B. 这个小伙子认识主编
- C. 这个小伙子认识主编,但不认识小王
- D. 这个小伙子自称认识主编

32. 婴儿对一点一滴的外部世界已经在头脑中建立起了某种模型,形成了对外部世界的某种看法。如果这种模型与外部世界相符合,他们就感到满意;若是不符合,即所期望的结果没有出现,他们就感到不满意。

根据这段话的意思,假如一个婴儿对着他所熟悉的面孔微笑,则说明了()。

- A. 他喜欢这个人
- B. 这张面孔看上去很亲切
- C. 他期望巩固头脑中的某种模型
- D. 这张面孔与他脑中的某种期望相符合

33. 人面呢?颜色比那纸制的小玩意儿好而且活泼,带着生气。可是你褒奖他的时候,他虽是高兴,脸上却装出很不愿意的样子;你指责他的时候,他虽是懊恼,脸上却偏要显示出勇于讷言的颜色。

这段话认为,纸面与人面最大的不同是()。

- A. 它并不具有人面的欺骗性
- B. 它经不住人们的褒奖或指责
- C. 它显现不出更鲜明的个性特征
- D. 它没有人面那种生动的色泽

阅读下文,回答 34 ~ 36 题

当我还很年轻的时候,仰慕各种各样的强者,也热切地希望自己能成为强者。什么人是强者?我曾毫不含糊地回答:能战胜别人的人便是强者——(a)在战场上厮杀,英勇善战,威震敌胆,能踏着血泊穿过硝烟走向胜利的人;在运动场上争雄,在力量、速度、技巧的较量中遥遥领先,能赢得金牌和奖杯的人;在考场上拼搏,沉着应战,才思泉涌,以一胜百,能荣获金榜题名的人;在平凡的岗位上忠诚地、勤奋地、创造性地工作,被同行和同辈喻为“佼佼者”的人……这样的人,可谓强者。

经历了富于幻想的少年时代,经历了勇于进取的青年时代,经历了许许多多的挫折和苦难,当我沉思着迈向中年的时候,惊讶地发现,我已从旧时的战胜别人的强者梦中醒来,又跌进了一个新的战胜自己的强者之梦(b),我不再渴望战胜别人,(c)而强烈地希望战胜自己。我想,一个人要战胜别人并不太难,往往只需要做出双倍的努力;但要正视和克服自身的弱点,却要有十倍的勇气和百倍的坚强。

有的人会因为自己聪明能干或血统高贵而骄傲自大,他们要战胜这个弱点,不知要碰多少回壁,挨多少次批评,作多少番深深的反省,他们是人生征途上的马拉松冠军。有的人为了战胜疾病和伤残,忍受着精神和肉体的巨大痛苦,无畏地向死神宣战,坚忍地同命运抗争,被厄运的千斤重压举起和推倒,令重量级的举重猛将也肃然起敬。还有那些为战胜私欲而处处克己的人,为战胜惰性而反复自策的人,为战胜暴躁而时时制怒的人,为战胜怯懦而不断自勉的人……他们,都是了不起的人!

朋友,不要冲着别人逞强吧,假如你能在思想上、作风上、性格上、气质上、心理上、身体上战胜自己的弱点,你便是一个真正的强者。

34. a 处的破折号的作用是()。

- A. 表示声音的延长
- B. 表示意义的转折

- C. 表示“强者”有特殊含义 D. 表示解释、说明

35. b 处画线部分的语音停顿划分正确的一项是()。

- A. 跌进了/一个/新的/战胜自己的/强者/之梦
B. 跌进了/一个/新的/战胜自己的强者/之梦
C. 跌进了/一个新的/战胜自己的强者/之梦
D. 跌进了/一个/新的/战胜自己的/强者之梦

36. c 处作者“强烈地希望战胜自己”的原因是()。

- A. 作者进入中年已成为强者,下一个目标就是战胜自己
B. 作者进入中年,还没有实现战胜别人的目标,所以他要先战胜自己
C. 作者经历了许多挫折和苦难之后,发现能克服自身弱点的人才是强者
D. 作者仍然充满进取精神,他进取的目标就是要战胜自己

阅读下文,回答 37 ~ 40 题

美国科学家最近发现,混凝土中加入碳纤维后其电阻会随外加应力等的变化而成比例改变。科学家们指出,利用这一特性制成的“智能混凝土”具有传感器功能,在道路和桥梁等建筑领域将具有广阔的应用前景。

美国布法罗大学的研究者发现,由于碳纤维比混凝土中的水泥浆具有更优异的导电性,实际上在混凝土中添加很少量的碳纤维成分,即可起到改变其电阻的作用。研究表明,混凝土中加入的碳纤维只需占到混凝土总体积的 0.2% ~ 0.5%,混凝土电阻就会按外加应力和压力变化而做出相应改变,而成为“智能混凝土”。

科学家们指出,当“智能混凝土”受外在压力等的作用发生变形后,其内部的碳纤维与水泥浆之间的接触程度会受到影响,从而导致其电阻变化。这一机制使得“智能混凝土”可充当灵敏度非常高的压力和应力探测器。“智能混凝土”在投入应用之前,可预先在实验室内通过测试而得出外加压力与混凝土电阻变化间的比例关系。这样,当汽车驶上“智能混凝土”构筑的路面时,通过测量路面电阻变化就能方便地称量出汽车的重量。利用同样的原理,甚至还可借助“智能混凝土”实验测量桥梁的震动情况。

37. 对于美国科学家的新发现,下面概括准确的一项是()。

- A. 加入碳纤维的混凝土在建筑领域具有广泛的应用前景
B. 加入碳纤维的“智能混凝土”具有传感器的功能
C. 利用“加入碳纤维的混凝土”制成的“智能混凝土”具有传感器的功能
D. 加入碳纤维的混凝土的电阻会随外加应力等的变化而成比例改变

38. 关于智能混凝土的制作,下列表达符合文意的一项是()。

- A. 在混凝土中加入占其总体积的 0.2% ~ 0.5% 的碳纤维,使其电阻按外加应力和压力变化而做出相应改变
B. 在混凝土中加入的碳纤维的含量,占其总体积的 0.2% ~ 0.5%,从而使其电阻能按外加的应力和压力的变化做出相应的改变
C. 在混凝土中加入的碳纤维的含量,占其总体积的 0.2% ~ 0.5%,使其电阻能按外加应力和压力的变化做出相应的改变
D. 在混凝土中加入占其总体积 0.2% ~ 0.5% 的碳纤维,使其电阻能按外加应力和压力的变化做出相应的改变

39. 科学家认为“智能混凝土”可充当灵敏度非常高的压力和应力探测器的原因是()。
- A. “智能混凝土”受外力作用后,其电阻发生了变化
 B. “智能混凝土”受外力作用变形后,其中的碳纤维与水泥浆的接触发生了变化
 C. “智能混凝土”发生变形后,其电阻会随外加应力等的变化而成比例改变
 D. “智能混凝土”发生变形后,其内部的碳纤维与水泥浆的接触所受到的影响能导致其电阻的变化
40. 下列说法不符合原文意思的一项是()。
- A. 碳纤维比混凝土中的水泥浆具有更优异的导电性能
 B. 混凝土中添加很少量的碳纤维成分,即可起到改变其电阻的作用
 C. “智能混凝土”投入使用前,必须预先测试出其外加压力与混凝土电阻变化之间的比例关系
 D. 人们可在“智能混凝土”路面上方便地称量出所通过的汽车的重量

第三部分 判断推理

(共 45 题,参考时限 40 分钟)

一、事件排序

41. (1) “五月花”号到达美洲 (2) 哥伦布发现西印度群岛
 (3) 英国将北美东部划为殖民地 (4) 马可·波罗宣扬东方极度富有
 (5) 美利坚民族形成
- A. 5—4—1—2—3
 B. 4—1—2—3—5
 C. 4—2—1—3—5
 D. 4—1—2—5—3
42. (1) 引起火灾 (2) 造成短路
 (3) 电线起火 (4) 造成损失
 (5) 使用大功率电炉
- A. 5—2—3—1—4
 B. 5—4—3—2—1
 C. 5—1—2—4—3
 D. 5—3—2—1—4
43. (1) 实验终于成功 (2) 进行科学实验
 (3) 刻苦钻研 (4) 失败
 (5) 再学习
- A. 3—2—4—5—1
 B. 2—4—5—3—1
 C. 5—3—4—2—1
 D. 1—2—4—3—5
44. (1) 满意而归 (2) 购买车票 (3) 准备行装
 (4) 乘车出发 (5) 游览名胜
- A. 5—3—4—2—1
 B. 2—4—3—5—1
 C. 2—3—4—5—1
 D. 2—3—5—4—1
45. (1) 强调家具应舒适、美观 (2) 对房屋布局提出了细致要求
 (3) 要求室内装修非同一般 (4) 将公寓的地点选在了风景区

(5) 室内陈设应具有美学观点

A. 1—2—3—4—5

C. 4—2—3—5—1

B. 1—3—5—2—4

D. 4—5—3—2—1

46. (1) 被捕入狱

(3) 痛改前非

(5) 入室盗窃

A. 5—1—3—2—4

C. 1—4—3—2—5

(2) 成为劳模

(4) 刑满释放

B. 5—1—4—3—2

D. 4—3—2—5—1

47. (1) 翻地

(4) 出售

A. 1—4—2—3—5

C. 1—5—3—2—4

(2) 洒农药

(5) 播种

(3) 施肥

B. 5—4—1—2—3

D. 4—5—1—2—3

48. (1) 培训员工

(4) 购买新机器

A. 4—3—1—2—5

C. 3—4—5—2—1

(2) 试产

(5) 正式生产

(3) 调试机器

B. 4—5—2—1—3

D. 5—3—4—2—1

49. (1) 鲜菜摆上货架

(3) 建造玻璃暖房

(5) 采摘成熟果实

A. 1—5—2—4—3

C. 3—4—2—5—1

(2) 给西红柿浇水

(4) 给炉子加煤炭

B. 5—2—1—3—4

D. 1—2—3—5—4

50. (1) 现场考察

(3) 争取项目

(5) 查阅资料

A. 5—3—1—4—2

C. 3—1—5—4—2

(2) 通过鉴定

(4) 模拟实验

B. 3—5—1—4—2

D. 3—5—4—1—2

二、定义判断

51. 外汇:是指以外国货币表示的,用于国际结算的多种支付凭证,它包括外国货币(钞票、铸币),外币有价证券(政府公债、国库券、公司债券、股票、息票等),外币支付凭证(票据、银行存款凭证、邮政储蓄凭证等)以及其他可以在国外兑付的凭证。

在中国,下列不属于外汇范畴的是()。

A. 英国政府发行的水利建设公债

B. 美国花旗银行的存款凭证

C. 欧元纸币 20 万张、硬币 30 万枚

D. 台资公司的 1000 万美元换成人民币后的现金存款凭证

52. 反诉:是指在已经提起的诉讼中,被告针对与原告有联系的行为,提起独立诉讼请求的行为。

根据以上定义,下列行为属于反诉的是()。

A. 老师起诉学生借钱不还,学生起诉老师剽窃

B. 原告起诉离婚,被告请求法院确认婚姻关系本来就是无效

密

封

线

内

不

要

答

题

C. 原告起诉,要求被告按买卖合同交货,被告起诉供货商未能按时交货

D. 原告起诉被告居住的房屋所有权是他的,被告请求法院让原告偿还欠款

53. 人身权:是与公民人身不能分离的没有财产内容的民事权利。其特征是:①人身权与民事权利主体的人身紧密相联,不能转让,随主体的消亡而自动消失;②人身权没有财产内容,它基于人身关系而产生,具有专有性。

根据以上定义,下列权利中不属于人身权的是()。

A. 姓名权 B. 继承权 C. 肖像权 D. 荣誉权

54. 大气污染:指因人类的生产生活使某种物质进入大气从而导致其特性改变,使人们的生活、身体健康以及生态环境直接或间接遭受危害的现象。主要污染物有烟尘、粉尘、硫氧化物、一氧化碳、碳氢化物、放射性污染等。下列所述属于大气污染的是()。

A. 韩庄农户有几十辆农用大卡车废弃在麦田里,影响了春耕时间

B. 淮河水质从新中国成立至今,越来越差

C. 兰州市上空布满了驱之不去的“阴云”,那是市郊工厂的废气

D. 汽车轰鸣声弄得老王整夜没有睡好觉

55. 营业税:是对在我国境内提供应税劳务、转让无形资产或销售不动产的营业收入征收的一种税。它发生在生产、经营、消费、流通过程中,是对所获得的商品经营、非商品服务收入征收的一种流转税。

下列情况不需缴纳营业税的一项是()。

A. 某大型超市

B. 房地产公司买卖地产

C. 教师向学生以工本费价格发放毕业证书

D. 某歌舞厅经营收入

56. 马太效应:指社会对已经出名(得到社会承认)的人才,给予愈来愈多,而对不出名的人才,则连应该给予的也不给予的现象。

下列不属于马太效应的是()。

A. 社会对已经成名的科学家,不断地加给他们各种头衔、名誉和各种优厚待遇

B. 某科学院院士成名后仍刻苦求进,不断攻克科学难题,获得很大成功

C. 许多科学家没有成名以前,论文无处发表、成果无人承认,甚至生活无从着落

D. 当一个知名教授与一个学生争执不下时,人们总是相信教授是对的

57. 资本输出:是指资本家、资本家集团或资本主义国家政府为了获得高额利润或利息对国外进行投资或贷款。

根据以上定义,下面不属于资本输出的是()。

A. 在国外投资办厂、开矿山

B. 私人银行和企业的对外贷款

C. 购买国外企业的有价证券

D. 向海外发行本国企业的股票和债券

58. 招标:是招标人在买卖大宗商品时,发包建设项目或合作经营某项业务前,不经过一般交易磋商程序,而是公开征求应征人递盘竞争,最后由招标人选定交易对象订约的交易方式。

下面交易方式属于招标的是()。

- A. 县政府为修建二级公路,发布通告,征求具有二级资质以上的单位前来竞标
- B. 美国悬赏 2500 万美元捉拿萨达姆
- C. 宏源公司上市股票以十五元价格抛出
- D. 天马公司的房子作抵押后,被拍卖还债

59. 发散思维:是指沿着不同的方向、不同的角度思考问题,从多方面寻找解决答案的思维模式。

下列属于发散思维的一项是()。

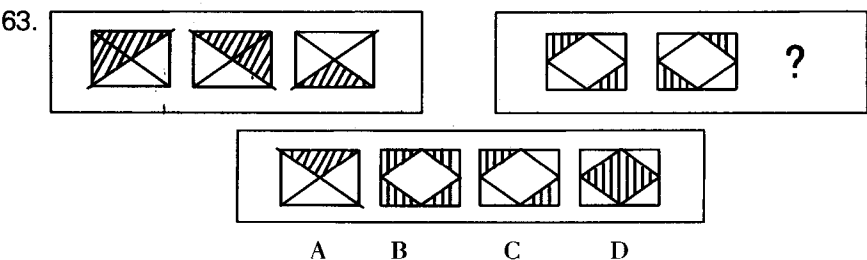
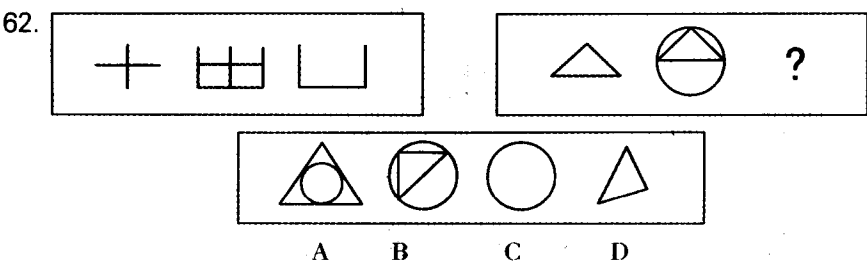
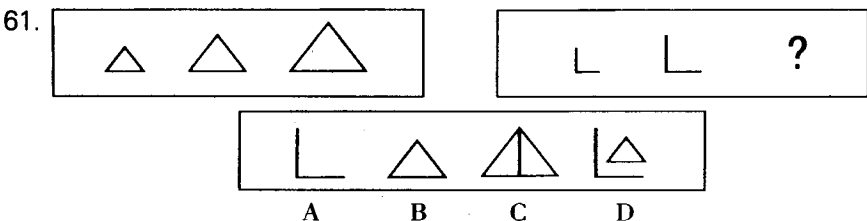
- A. 以某个问题为中心,从不同的方向和不同的角度,将思维指向这个中心
- B. 牛顿从苹果落地领悟到地心引力
- C. 鲁班从草划破手得到了启发,发明锯子
- D. 人类从昆虫的眼睛构成得到启示,研制了许多先进的夜视武器

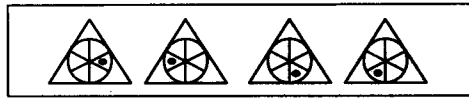
60. 行政复议参加人:是指行政争议的当事人和与行政争议的具体行政行为有利害关系而参加行政复议的人。

下列不是行政复议参加人的是()。

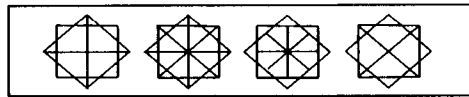

- A. 行政复议的第三人
- B. 行政复议的被申请人
- C. 行政复议的鉴定人
- D. 行政复议第三人委托的律师

三、图形推理

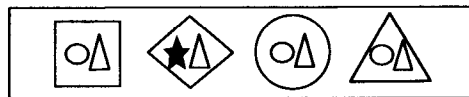




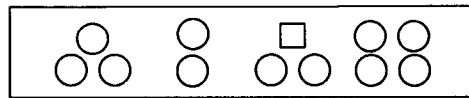
A B C D



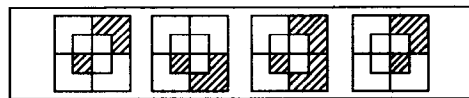
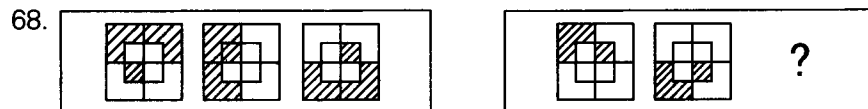
A B C D



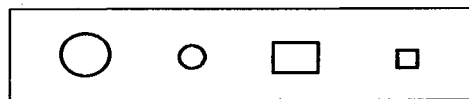
A B C D



A B C D

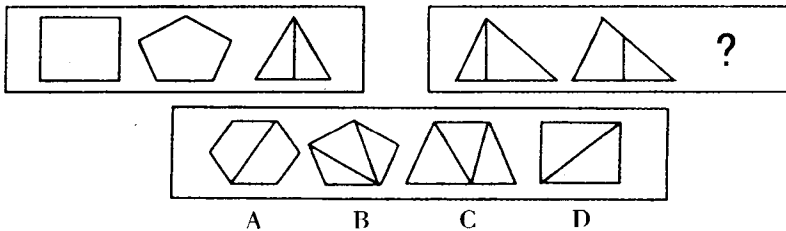


A B C D



A B C D

70.



四、推断题

71. 一位年轻的美国外交官在访问中国时,问了一个令他自己都尴尬的问题:东方人怎么会如此令人费解?中国官员笑了笑,然后,温和地回答他:就西方人的缺乏观察力而言,他们的民族才是令人费解的。
以下选项中最好地反映了中国官员解释的要点的是()。
- A. 不仅中国人,所有东方人都是令人费解的
B. 大多数美国人都是不能理解中国文化的
C. 人们没有观察到也许是因为观察的粗浅,而不是事物本身的隐晦
D. 自从美国和中国恢复外交关系,许多中国人逐渐不信任美国人
72. 在行政管理中要求权责一致,拥有一定的权利就要承担相应的责任。反之亦然,承担了一定的责任就应该拥有履行其责任的权力。因此()。
- A. 承担责任就应该拥有权利
B. 权利和责任是按照一定的职位来分配的
C. 行政权利的分配应注意与责任相符
D. 人人都应该拥有权利,承担责任
73. 如果某人是杀人犯,那么案发时他在现场。据此,我们可以推出()。
- A. 张三案发时在现场,所以张三是杀人犯
B. 李四不是杀人犯,所以李四案发时不在现场
C. 王五案发时不在现场,所以王五不是杀人犯
D. 许六不在案发现场,但许六是杀人犯
74. 就对个人和民族的作用而言,文化素质主要是通过形成特定的文化氛围,浸润其心灵,提升其境界;人文精神则主要是通过具体的价值意识,指导其行为,推动其前进。换言之,文化素质的作用是间接、抽象的;人文精神的作用则比较直接、具体。因此, ()。
- A. 文化素质比人文精神重要
B. 人文精神比文化素质重要
C. 文化素质与人文精神是一回事
D. 在大力提高民族文化素质的时候,应当高度重视人文精神的建设
75. 群众是汪洋大海,个人只不过是大海中的一滴水,但正是由一个个人汇成了群众这个汪洋大海,才推动了历史的前进。上面这段话的意思是说()。
- A. 个人是渺小的,发挥不发挥作用都是无所谓的
B. 群众是伟大的,但不可忽视个人的作用
C. 个人可以改写历史,英雄的力量是无穷的

- D. 个人应跟着群众走,不需要发挥自己的独创性
76. 一个人在用餐之后是昏昏欲睡还是精神饱满与所用食物中的蛋白质有关。多数蛋白质中都含有一种叫酪氨酸的氨基酸,它进入大脑,促使多巴胺和新肾上腺素的形成,从而使人大脑兴奋。禽类和鱼类含酪氨酸最多。不过并非所有含酪氨酸的食品都能使人大脑兴奋。猪肉中含酪氨酸,但脂肪妨碍了人体对它的吸收。由上可以推出()。
- A. 含蛋白质越多的食物越利于智力增长
B. 鱼类中的蛋白质易于消化吸收
C. 鱼类中含丰富的多巴胺类物质
D. 猪肉中脂肪含量多于鱼类
77. 西方企业面临的供大于求的宏观环境迫使企业相互竞争,提高效率。我国生产受资源限制,由于往往提出过高的经济指标,指经济处于求大于供的状况,因此()。
- A. 我国的企业都没有效率
B. 西方的企业更有效率
C. 经济目的与道德要求是统一的
D. 人类永远不可能使经济与道德相统一
78. 小说离不开对人生世相的描绘,一个阅历不多、涉世不深的作者,很难在这一领域崭露头角。诗的创作,特别是许多脍炙人口的诗篇的诞生,大都是源于诗人的灵感和天赋。所以,()。
- A. 诗人年纪一般都比较轻
B. 早慧的小说家,古今中外比较少有,而早慧的诗人历史上却较多
C. 一个人不可能既是优秀的小说家,同时又是杰出的诗人
D. 写小说的人都是中老年人
79. 学者们已经证明,效率与公平是一对矛盾的统一体。实现共同富裕需要经历若干阶段性过程,不可能一蹴而就,但我们又不能不在每一个阶段为实现共同富裕做具体的准备。所以,()。
- A. 我们在重视效率的前提下兼顾公平
B. 我们首先要重视公平
C. 我们要坚持效率优先
D. 效率与公平之间的矛盾永远不可能得到正确解决
80. 并非这里的货物既便宜质量又好。这说明()。
- A. 这里的货物若质量好,则不便宜 B. 这里的货物又便宜质量又好
C. 这里的货物质量不好但便宜 D. 这里的货物质量不好且便宜

五、常识题

81. 中国共产党始终代表中国先进生产力的发展要求,代表中国先进文化的前进方向,代表中国最广大人民的根本利益。
- 下列实例中能反映上述内容特征的是()。
- ①国家投资数千亿元,加大西部地区开发力度 - ②自2001年起,每年5月份的第三周在全国开展群众性的“科技活动周” ③2001年9月17日,中国加入世界贸易组织的所有法律文件在日内瓦获得通过,12月11日中国正式成为世贸组织的成员 ④