

全国注册城市规划师执业资格考试模拟测试

# 城市规划原理

## 城市规划相关知识

本书编委会 编

中国建筑工业出版社

全国注册城市规划师执业资格考试模拟测试

# 城市规划原理 城市规划相关知识

本书编委会 编



中国建筑工业出版社

图书在版编目(CIP)数据

全国注册城市规划师执业资格考试模拟测试:城市规划原理、城市规划相关知识/本书编委会编. —北京:中国建筑工业出版社,2007

ISBN 978-7-112-09324-3

I.全… II.本… III.城市规划—中国—建筑师—资格考核—习题 IV.TU984.2-44

中国版本图书馆CIP数据核字(2007)第086131号

责任编辑:陆新之

责任设计:赵明霞

责任校对:王雪竹 孟楠

全国注册城市规划师执业资格考试模拟测试  
城市规划原理 城市规划相关知识

本书编委会 编

中国建筑工业出版社出版、发行(北京西郊百万庄)

新华书店经销

北京普克创佳图文设计有限公司制作

北京中科印刷有限公司印刷

\*

开本:787×1092毫米 1/8 印张:35 字数:937千字

2007年7月第一版 2007年7月第一次印刷

印数:1-4500册 定价:72.00元

ISBN 978-7-112-09324-3

(15988)

版权所有 翻印必究

如有印装质量问题,可寄本社退换

(邮政编码 100037)

本社网址: <http://www.cabp.com.cn>

网上书店: <http://www.china-building.com.cn>

# 全国注册城市规划师执业资格考试模拟测试 总编辑委员会名单

主 任 邱 跃 刘临安  
委 员 (以姓氏笔画为序)

王 玮	王宇新	王翠萍	甘靖中
李祥平	迟志武	陈晓键	陆新之
罗 西	惠 劼		

# 目 录

## 城市规划原理篇

模拟测试一 .....	3
模拟测试二 .....	11
模拟测试三 .....	19
模拟测试四 .....	27
模拟测试五 .....	35
模拟测试六 .....	43
模拟测试七 .....	51
模拟测试八 .....	59
模拟测试九 .....	67
模拟测试十 .....	75
模拟测试一题解 .....	83
模拟测试二题解 .....	89
模拟测试三题解 .....	95
模拟测试四题解 .....	101
模拟测试五题解 .....	107
模拟测试六题解 .....	112
模拟测试七题解 .....	118
模拟测试八题解 .....	123
模拟测试九题解 .....	129
模拟测试十题解 .....	135

## 城市规划相关知识篇

模拟测试一 .....	145
模拟测试二 .....	151
模拟测试三 .....	157
模拟测试四 .....	163
模拟测试五 .....	169
模拟测试六 .....	175
模拟测试七 .....	181
模拟测试八 .....	187
模拟测试九 .....	193
模拟测试十 .....	199
模拟测试一题解 .....	205
模拟测试二题解 .....	212
模拟测试三题解 .....	220
模拟测试四题解 .....	227
模拟测试五题解 .....	234
模拟测试六题解 .....	241
模拟测试七题解 .....	248
模拟测试八题解 .....	255
模拟测试九题解 .....	262
模拟测试十题解 .....	269
后记 .....	276

# 城市规划原理篇

惠 劼 主编

李祥平 参编

勳 縣 魚 似 市 類

勳 縣 魚 似 市 類

勳 縣 魚 似 市 類


# 模拟测试一

## 一、单项选择题 (共 70 题, 每题 1 分。每题的备选项中, 只有一个最符合题意)

- 从现代城市的含义上来看, 以下哪个因素不包含在内?
  - 人口数量
  - 产业构成
  - 行政管辖
  - 用地布局
- 市政工程及城市公用设施的发展是基于\_\_\_\_\_而产生的。
  - 城市布局的变化
  - 城市工业的发展和人口的剧增
  - 城市生活水平的提高
  - 科技的发展
- 从工业化社会到后工业化社会, 各个城市发展具有相似的进化过程, 每个过程都显示出不同的特征。人口从农村向城市迁移是\_\_\_\_\_的特征。
  - 工业化初期
  - 工业化进入成熟期
  - 后工业化初期
  - 后工业化成熟期
- 在全球经济一体化的形势下, 世界经济的格局也发生了变化, 跨国公司在控制、管理功能趋于\_\_\_\_\_, 制造、装配功能趋于\_\_\_\_\_。
  - 空间集聚 空间扩散
  - 空间扩散 空间集聚
  - 权利集聚 权利扩散
  - 权利扩散 权利集聚
- 城市物质环境与经济增长之间的关联性的表现有:
  - 二个方面
  - 三个方面
  - 四个方面
  - 五个方面
- 一般在叙述城市化的含义时, 常说到: 城市化是人口向城市集中的过程。这种表述是哪个学科所为?
  - 社会学
  - 人口学
  - 经济学
  - 地理学
- 我国古代城市规划思想的形成是在哪个时期?
  - 西周
  - 商代
  - 战国
  - 西汉
- 世界发达地区的城市化在\_\_\_\_\_达到高峰。
  - 1915 年前后
  - 1925 年前后
  - 1935 年前后
  - 1945 年前后
- 谁的理想城市模式对西方文艺复兴时期的城市规划、建设有着极其重要的影响。
  - 亚里斯多德
  - 伊特鲁里亚
  - 柏拉图
  - 维特鲁威
- 分别建立的两座田园城市——莱契沃斯 (Letchworth) 和韦林 (Welwyn) 是在哪年?
  - 1898, 1903
  - 1903, 1913
  - 1903, 1920
  - 1908, 1920
- 我国在当代城市规划方面的主要实践不包括:
  - 高新技术产业园区
  - 各类开发区
  - 经济特区
  - 出口加工区
- 我国当前所面临的城市规划任务有哪些?
  - (1) 深入开展城市规划的研究工作 (2) 合理和有序地配置城市空间资源 (3) 促进经济和社会的发展 (4) 完善城市规划编制工作, 提高规划质量和水平 (5) 加强立法工作, 完善城市规划法规体系 (6) 建立各种引导机制和控制机制 (7) 严格依法行政, 提高城市规划管理水平 (8) 深化城市规划体制改革, 加强队伍建设 (9) 促进城市房地产市场的有序和健康运作
  - (1) (3) (5) (8)
  - (2) (3) (5) (7) (8) (9)
  - (2) (4) (6) (9)
  - (1) (4) (5) (7) (8)
- 城市规划行政体制的基本型制有几种?
  - 1
  - 2
  - 3
  - 4
- 现在一般认为完整的城市体系分析, 可以不包括:
  - 城市职能之间的相互关系

- B. 城市规模的相互关系  
C. 城市地域空间分布上的相互关系  
D. 城市人口之间的相互关系
15. 以下哪项不包含在可持续发展的支撑体系中?  
A. 行政体系  
B. 法制体系  
C. 科技体系  
D. 教育体系
16. 在经济全球化的背景下, 发展中国家的城市迅速地发展, 其主要因素是:  
A. 全球经济发展的带动  
B. 成为了跨国公司的制造/ 装配基地  
C. 发展中国家的发展速度加快  
D. 发展中国家的资源得到了利用
17. 城市规划的作用的发挥主要是通过哪方面来的安排来实现的?  
A. 城市物质空间  
B. 城市道路系统  
C. 城市空间布局  
D. 城市的土地使用
18. 在我国一般通过什么来确保建设活动能符合城市规划的意图?  
A. 行政管理手段  
B. 规划审批程序  
C. 法规制度  
D. “一书两证” 制度
19. 战略发展规划作为城市的中长期发展目标, 会对城市的一些具有长远影响的方面做出发展策略, 以下哪一方面是可以不考虑的?  
A. 城市与区域的关系  
B. 基础设施  
C. 交通管理  
D. 环境保护
20. 下面的描述不包括在区域规划的是:  
A. 对区域内的工、农业进行规划  
B. 对区域内的城镇体系进行规划  
C. 对区域内的第三产业进行规划  
D. 对区域内的工程设施进行规划
21. 区域规划为城市规划和专业工程规划提供了宏观、区域范围的\_\_\_\_\_。  
A. 技术经济依据  
B. 技术基础  
C. 参考依据  
D. 条件基础
22. 我国在上世纪 70~80 年代开始的 城市环境规划, 其实际的内容是:  
A. 环境保护措施规划  
B. 污染治理规划  
C. 环境整治规划  
D. 污染防治规划
23. 城市总体规划所调查的人口、耕地、劳动力和劳动力剩余等的变动情况, 其目的是:  
A. 预测就业岗位  
B. 预测城市化水平  
C. 预测城市发展用地  
D. 预测发展方向
24. 基础资料调查中, 家庭资料方面, 可以不考虑的是:  
A. 家庭规模  
B. 家庭生活方式  
C. 家庭空间行为模式  
D. 家庭生活空间规模
25. 在规划工作中, 需要将相关的资料进行分析, 才可以得到很好的应用。将频数和频率分析以及集中量数分析统称之为:  
A. 定性分析  
B. 统计分析  
C. 一元线性回归分析  
D. 空间模型分析
26. 在研究城市性质时, 对城市的职能, 特别是经济职能采用一定的技术指标, 从数量上去确定主导的生产部门。与这种说法相匹配的是下面哪条?  
A. 对城市性质的定性分析  
B. 对城市性质的定量分析  
C. 对城市职能的定量分析  
D. 定性分析的量化核定
27. 城市合理规模相关的“门槛理论”是指:  
A. 城市的环境容量  
B. 城市能源供应达到了供应能力  
C. 城市原有的规模及基础设施容量达到了极限  
D. 城市水源供应达到饱和
28. 城市用地与建设用地的评价差异在于:  
A. 评价方法不同  
B. 评价目的不同  
C. 更强调建设的可行性  
D. 更强调人为因素所造成的影响
29. 《村镇规划标准》中, 村镇建设用地是几大类, 几小类?  
A. 7 大类, 23 小类  
B. 8 大类, 28 小类  
C. 7 大类, 28 小类  
D. 8 大类, 23 小类
30. 《村镇规划编制办法》中规定, 镇区近期建设规划图不与建设规划图合并时, 比例尺采用:  
A. 1:100~1:500  
B. 1:100~1:1000

○ 密  
封  
线  
内  
不  
要  
答  
题



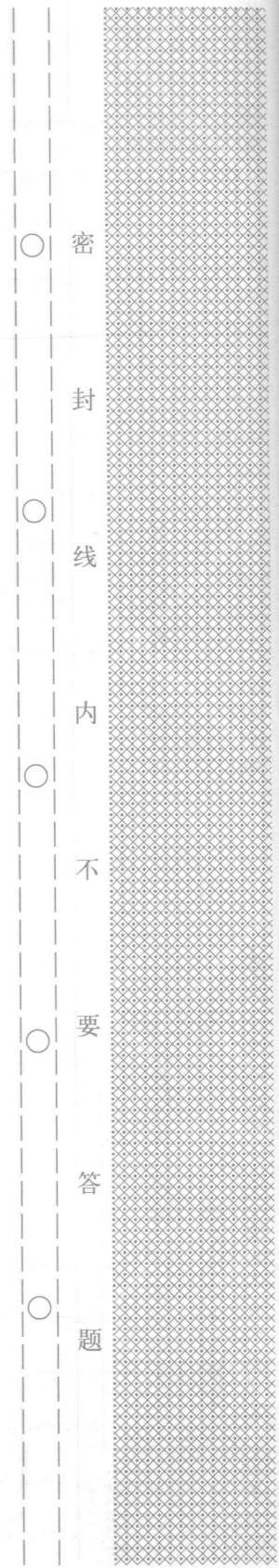


- C. 1:200~1:500  
D. 1:200~1:1000
31. 《村庄整治技术导则》中认为, 村庄整治规划的主要整治内容不包含:  
A. 公益性基础设施  
B. 公益性公共服务设施  
C. 村民的住房  
D. 防灾减灾设施和措施
32. 城市人民政府在提出编制总体规划之前, 应依据全国城镇体系规划和省域城镇体系规划, 对一些问题要进行前瞻性的研究, 其中不包括:  
A. 城市空间结构  
B. 城市定位  
C. 城市布局  
D. 城市功能
33. 在城市总体规划工作中, 对于军事机关提出的意见已采纳, 在城市总体规划报送审批时, 如何体现?  
A. 在规划方案中给予特别体现  
B. 采用专题的方式  
C. 在说明书中特别说明  
D. 在文本中注明
34. 分区现状图应可以不表示出 ( )。  
A. 分区位置  
B. 土地利用现状  
C. 市政设施现状  
D. 公共设施现状
35. 下列控制指标中属于控制性详细规划强制性内容的是:  
(1) 道路坐标 (2) 容积率 (3) 用地性质 (4) 人口容量 (5) 绿地率  
(6) 建筑高度 (7) 建筑面积  
A. (1)、(4)、(7)  
B. (2)、(3)、(5)、(6)  
C. (1)、(2)、(3)、(4)  
D. (1)、(2)、(3)、(4)、(5)、(6)、(7)
36. 建筑密度是指:  
A. 每公顷建筑用地上容纳的建筑物的总建筑面积  
B. 一定地块内, 总建筑面积与用地面积的比值  
C. 一定地块内所有建筑物的首层总面积占用地面积的比例  
D. 一定地块内所有建筑物的基底总面积占用地面积的比例
37. 控制性详细规划对具体地块的土地利用和建设提出的控制指标, 是作为建设主管部门作出什么决定的依据?  
A. 建设项目规划许可  
B. 建设项目适宜程度  
C. 建设规模适宜程度  
D. 建设项目合理程度

38. 《城市规划编制办法》中, 关于城市规划区范围的规定:  
A. 要能适用城市发展的要求  
B. 不得与行政管辖范围冲突  
C. 要位于行政管辖范围内  
D. 要在市域规划的范围以内
39. 城市总体规划的强制性内容, 关于城市历史文化遗产保护中无法明确划定范围的是:  
A. 历史文化街区  
B. 历史建筑  
C. 重要地下文物埋藏区  
D. 历史文化街区的影响控制区
40. 控制性详细规划, 对于道路不需控制的是:  
A. 红线  
B. 断面形式  
C. 交叉口形式  
D. 道路走向
41. 以下各项中, 在详细规划中, 相对来说日照要求较低的是:  
A. 学校  
B. 医院  
C. 宾馆  
D. 托幼
42. 若山西的大同在大寒日, 住宅底层的住户要获得两个小时的日照, 那么, 住宅的间距应为多少?  
A. 1.63h  
B. 1.67h  
C. 1.74h  
D. 1.75h
43. 不能属于城市内客运交通的是:  
A. 自行车交通  
B. 步行交通  
C. 轻轨  
D. 环线车
44. 一般市区中道路密度为\_\_\_\_\_左右, 城市边缘区的道路密度为\_\_\_\_\_。  
A. 4km/m<sup>2</sup> 3km/m<sup>2</sup>  
B. 3km/m<sup>2</sup> 2km/m<sup>2</sup>  
C. 4km/m<sup>2</sup> 2km/m<sup>2</sup>  
D. 5km/m<sup>2</sup> 3km/m<sup>2</sup>
45. 不能包含在城市交通系统基本元素中的是:  
A. 交通工具  
B. 站场  
C. 道路  
D. 管理规则和人员
46. 下列关于水源保护的叙述, 不正确的是 ( )。

- A. 城市水源河流取水点保护范围至少是上游 1000m 至下游 100m, 水厂生产区的保护范围半径至少 10m
- B. 以地下水为水源时, 水井周围 30m 的范围内, 不得设置渗水厕所、粪坑和废渣堆等污染源
- C. 取水口不宜设在码头附近, 距码头边缘至少 100m, 应征求航运、港务部门同意。必须在码头附近取水时, 宜用河床式取水构筑物
- D. 城市地表取水点至上游 1000m 的水域内, 不得排入工业废水和生活污水, 不得设立有害化学品仓库或堆场, 但沿岸农田可以使用工业废水和生活污水进行灌溉
47. 污水处理厂必须设在集中给水水源的 ( ) 游, 并要求在城市夏季最 ( ) 频率风向的上风侧, 并与城市、工厂、居民点有 ( ) m 以上的距离且要设防护带。
- A. 下; 小; 300
- B. 下; 大; 200
- C. 上; 小; 300
- D. 上; 大; 200
48. 城市公共厕所的相间距离或服务范围: 主要繁华街道公共厕所之间的距离宜为 ( ), 一般街道公厕之间的距离约 ( ) 为宜, 新建居民区公共厕所服务范围为 ( )。
- A. 300~500m; 750~1000m; 300~500m
- B. 200~500m; 650~900m; 200~500m
- C. 300~600m; 500~800m; 300~600m
- D. 250~600m; 500~700m; 250~500m
49. 一般情况下, 以下管线不属于压力管线的是 ( )。
- A. 给水
- B. 污水
- C. 灰渣管道
- D. 煤气
50. 《城市绿地分类标准》规定, 游乐园具有大型游乐设施, 如单独设置时, 其绿化应达到用地的多少?
- A. 35%
- B. 50%
- C. 65%
- D. 70%
51. 当城市道路的红线宽度大于 50m 时, 其绿化要达到:
- A. 20%
- B. 25%
- C. 30%
- D. 35%
52. 绿化对城市有 7 个方面的作用和功能, 要实现这些功能, 所需要的绿地类型是:
- A. 公园绿地
- B. 防护绿地
- C. 居住区绿地
- D. 所有各类绿地
53. 正式提出保护城市的历史地区的问题, 是:

- A. 《马丘比丘宪章》
- B. 《华盛顿宪章》
- C. 《内罗毕建议》
- D. 《佛罗伦萨宪章》
54. 我国第一批历史文化名镇(村)的名单公布于何时, 其中名镇多少个? 名村多少个?
- A. 1992 10 10
- B. 1993 10 12
- C. 1992 10 12
- D. 1993 10 10
55. 在审定历史文化名城时, 有一些原则须遵循的, 以下哪项可以不在其中?
- A. 着重看当前是否保存具有重大的历史、科学、艺术价值的较丰富、完好的文物古迹
- B. 现状格局和风貌是否保留历史特色, 是否有代表性的传统街区
- C. 文物古迹是否主要分布在市区或郊区
- D. 主要看城市的历史长短
56. 道路红线的设计标高与居住小区内 ( ) 标高相关较大。
- A. 自然地形
- B. 建筑室内外
- C. 最高点
- D. 标志物
57. 在采暖地区, 组团路的控制线之间的宽度是:
- A. 5m
- B. 8m
- C. 10m
- D. 12m
58. 道路红线宽度超过 ( ) m 的城市干道宜两侧布置给水配水管线和燃气配气管线; 道路红线宽度超过 ( ) m 的城市干道应在道路两侧布置排水管线。
- A. 50; 30
- B. 30; 50
- C. 60; 40
- D. 40; 60
59. 城市开发中常提到的“七通一平”是指:
- A. 给排水管线、电力线路、电话线路、燃气管道、热力管道、道路、绿化, 加上平整土地
- B. 给排水管线、电力线路、电话线路、燃气管道、道路、铁路、公路, 加上平整土地
- C. 给水管道、排水沟、电力线路、电话线路、热力管道、燃气管道六种管线及道路贯通, 加上平整土地
- D. 给水管道, 排水沟管、电力线路、电话线路、燃气管道、绿化带六种管线及道路贯通, 加上平整土地
60. 在水量不足的地区, 应至少设 ( ), 满足城市消防工作需求。
- A. 消防栓
- B. 消防水池
- C. 消防站



承诺人:

- D. 调度中心
61. 平遥和丽江是属于哪种类型的历史文化名城?  
 A. 有不完整的历史街区的  
 B. 有历史街区的  
 C. 古城风貌犹存  
 D. 古城的格局风貌比较完整
62. 我国《历史文化名城保护规划编制要求》，是哪一年发布?  
 A. 1987  
 B. 1990  
 C. 1994  
 D. 1996
63. 公民、企事业单位和社会团体实施城市规划的作用可以体现在 ( )。  
 A. 有偿使用  
 B. 主动参与  
 C. 客观实现  
 D. 监督实施
64. 在城市发展和建设领域中，要有公共政策来干预市场的自发过程，以克服 ( ) 的缺陷。  
 A. 城市规划  
 B. 城市管理  
 C. 城市建设法规  
 D. 市场机制
65. 《中华人民共和国宪法》规定，地方行政建制和行政区划分为四级，即：  
 A. 国家级、省级、市级、县级  
 B. 省级、地级、市级、县级  
 C. 省级、直辖市级、市级、县级  
 D. 省级、地级、县级、乡级
66. 城市规划主要是政府行为，在城市规划的实施中，( ) 具有最基本的作用。  
 A. 城市规划实施的行政机制  
 B. 城市规划实施的法律机制  
 C. 国家的有关行政法规  
 D. 城市规划实施的社会机制
67. 城市规划实施的社会机制体现的方面不包括：  
 A. 公众参与城市规划的制定  
 B. 城市规划管理做到政务公开  
 C. 公众有了解情况、反映意见的正常渠道  
 D. 社会团体监督城市规划实施
68. 城市规划实施的行政合法原则的核心是：  
 A. 依法行政  
 B. 严格执法  
 C. 法律面前人人平等  
 D. 合理合法
69. 行政合理原则的宗旨在于解决行政机关 ( ) 的合理性问题。

- A. 行政权力  
 B. 行政行为  
 C. 行政权限  
 D. 行政决定

70. 我国行政法律规范由 ( ) 制定，这就要求各级主体所制定的行政法律规范的内容要相互协调、衔接，不能相互抵触和冲突。  
 A. 单一主体  
 B. 多级主体  
 C. 各级人大  
 D. 各级政府

二、多项选择题 (共 30 题，每题 1 分。每题的备选项中，有二个以上选项符合题意。少选、多选或错选都不得分)

71. 区域对于城市来说是：  
 A. 生存环境  
 B. 存在的基础  
 C. 发展的腹地  
 D. 发展的动力  
 E. 成长的条件
72. 《中国 21 世纪议程》的第十章为人类住区的可持续发展。文件中对住区环境的描述是：  
 A. 清洁  
 B. 安全  
 C. 优美  
 D. 安静  
 E. 居住条件舒适
73. 新建的开发区相对于城市的建成区来说，更有利于为外资企业提供良好的投资环境，其优势体现在于：  
 A. 建设环境接近国外  
 B. 由于成片开发，易形成较理想的物质环境  
 C. 建筑密度低，绿化率高  
 D. 基础设施水准较高  
 E. 边界明确，便于提供优惠政策
74. 城市规划对城市建设的引导作用就是将城市规划的 \_\_\_\_\_ 贯彻到城市建设活动和过程之中。  
 A. 目的  
 B. 意图  
 C. 原则  
 D. 理论  
 E. 知识
75. 从发展战略到对城市的开发控制，要经过一系列的环节，实施性发展规划才是控制城市开发直接依据。属于实施性发展规划的有：

- A. 我国的分区规划  
B. 英国的地区规划  
C. 美国的综合规划  
D. 德国的城市土地利用规划  
E. 日本的土地利用分区
76. 1960年代以来, 由于工业的迅速发展, 城市化进程的加快, 促进了区域规划进入了一个新的发展阶段。其主要标志是:  
A. 发展中国家也普遍开展区域规划  
B. 区域规划的量、涉及面广、类型较多  
C. 各国各地区的区域规划联系起来, 形成整体化发展  
D. 区域规划中提高了对环境保护、生产福利设施以及就业安排等社会问题的重视程度  
E. 把区域规划与制定区域开发政策结合起来
77. 在城市规划工作中, 科学、系统的调查, 其作用是:  
A. 把握城市发展的状况  
B. 探索城市发展的客观规律  
C. 挖掘城市历史  
D. 摸清城市构成要素  
E. 认识城市未来发展的基础
78. 社会环境的资料调查, 首先是人口方面, 关于人口要了解的是:  
A. 城市人口的自然变动  
B. 城市人口的迁移变动  
C. 区域人口的迁移变动  
D. 区域人口的自然变动  
E. 城市人口的社会变动
79. 以下哪些内容的调查, 更宜于使用问卷的方式?  
A. 对公众参与的建议  
B. 居民对城市改建的意愿  
C. 城市空间使用的行为  
D. 人口的变动情况  
E. 城市发展的相关信息
80. 研究城市性质, 应有的几个层面是:  
A. 国家  
B. 省域  
C. 区域  
D. 市域  
E. 城市本身
81. 机械增长对城市人口规模的影响至关重要, 那么影响增长量的因素有:  
A. 社会经济发展速度  
B. 城市的建设和发展条件  
C. 城市发展的空间尺度  
D. 国家的城市发展方针政策  
E. 区域发展的需要
82. 太阳辐射的强度与日照率, 在不同纬度和地区存在着差异, 一般会对建筑产生哪些影响?  
A. 建筑外观  
B. 建筑的朝向  
C. 建筑日照间距的确定  
D. 建筑的日照标准  
E. 建筑的开窗
83. 在对城市土地经济进行评价时, 即在派生因素层也在因子层的影响因素是:  
A. 繁华度  
B. 道路便捷度  
C. 地形坡度  
D. 人口密度  
E. 建筑容积率
84. 村庄整治要贯彻资源优化配置与调剂利用的方针。提倡:  
A. 自力更生  
B. 就地取材  
C. 厉行节约  
D. 多办实事  
E. 多快好省
85. 不可以作为《城市规划编制办法》法定依据的是:  
A. 国家相关法律法规  
B. 国家政策  
C. 国家有关规定  
D. 建设部的技术要求  
E. 国家的相关文件
86. 《城市规划编制办法》中规定, 在编制城市规划时, 对于哪些问题必须执行强制性内容?  
A. 涉及城市重大基础设施  
B. 涉及城市发展长期保障的资源利用和环境保护  
C. 涉及风景名胜资源管理  
D. 涉及自然与文化遗产保护  
E. 涉及公共安全和公众利益
87. 城市总体规划的强制性内容, 关于城市历史文化遗产保护中需划定范围的是:  
A. 历史文化遗产保护区  
B. 历史文化街区  
C. 历史建筑  
D. 重要地下文物埋藏区  
E. 历史文化街区的影响控制区
88. 分区规划, 在公共服务设施的规划方面, 在增加了居住区级以外, 还要求规划:  
A. 规模  
B. 内容  
C. 位置  
D. 用地范围

○ 密  
封  
线  
内  
不  
要  
答  
题

- E. 控制原则
89. 控制性细规划, 对各用地内的建筑类型的确定采用的方式是:
- 可建
  - 不可建
  - 适建
  - 不适建
  - 有条件地允许建设
90. 2006年4月1日起实施的《城市规划编制办法》, 修建性详细规划增加的内容是:
- 景观组织与设计
  - 日照分析
  - 交通影响分析
  - 管线综合
  - 交通组织方案和设计
91. 在III、IV建筑气候区, 住宅的布局主要考虑的问题是:
- 日照
  - 夏季防热
  - 组织自然通风
  - 冬季的日照
  - 防风沙
92. 在居住区综合技术经济指标中, 能反映环境质量的指标是:
- 容积率
  - 人口密度
  - 建筑密度
  - 建筑层数
  - 绿地率
93. 下列哪些是城市主要出入口的大型停车场应设置的设施?
- 大型超市
  - 旅馆
  - 加油站
  - 通信设施
  - 娱乐休闲设施
94. 交通需求预测的方法包括:
- 社会发展需求预测
  - 顺序总体需求预测
  - 经济发展需求预测
  - 直接总体需求预测
  - 个体行为需求预测
95. 公共汽车作为城市公共交通, 其设备应有:
- 车辆
  - 运行线路
  - 车场
  - 停靠站
  - 首末站
96. 以下关于城市垃圾填埋的叙述正确的是 ( )。
- 目前, 我国处理固体废弃物的主要途径和首选方法为土地填埋
  - 垃圾填埋场填埋完工后, 至少2年封场监测期, 在封场监测期期间填埋场用地不准使用
  - 城市垃圾填埋主要分为卫生土地填埋和安全土地填埋两种
  - 目前确定城市生活垃圾填埋场的设计容量, 要考虑城市生活垃圾规划人均指标, 一般取 $0.9\text{kg} \sim 1.4\text{kg}/\text{日} \cdot \text{人}$
  - 垃圾填埋场产生的沼气可用作燃气, 产生的渗沥液可作为有机肥料直接用来灌溉农田
97. 下面各项中, 属于城市市政工程系统总体规划内容的是 ( )。
- 确定排水干管、渠的走向和出口位置, 并划分排水区域, 估算雨水、污水总量, 制定不同地区污水排放标准
  - 提出污水综合利用措施, 对污水处理工艺提出初步方案
  - 确定城市消防、防洪、人防、抗震等设防标准, 布置城市消防、防洪、人防等设施
  - 平衡供需水量, 选择水源, 确定取水方式和位置
  - 选择和布局规划范围内用户变配电站
  - 确定城市燃气气源和规模, 布置城市集中供热热源
98. 在城市总体规划阶段, 要搞好城市景观系统, 需要调查和评价的资料涉及到:
- 自然景观
  - 人工景观
  - 户外游憩条件
  - 城市空间构架
  - 城市建筑特色
99. 1964年的《威尼斯宪章》其出发点主要是针对:
- 文物单位
  - 古迹
  - 建筑群
  - 遗址
  - 古村落
100. 历史街区范围划定应兼顾的要求是:
- 地段的完整性
  - 风貌相对完整
  - 空间的连续性
  - 具备相对完整的社会结构体系
  - 地段社会的同质特点

89. 计算机病毒是指

- A. 可执行程序
- B. 不可执行程序
- C. 数据文件
- D. 可执行程序和数据文件

90. 2000年12月，微软公司宣布，将Windows XP操作系统

- A. 更名为Windows XP
- B. 更名为Windows 2000
- C. 更名为Windows XP
- D. 更名为Windows XP

91. 下列选项中，不属于网络病毒的是

- A. 蠕虫病毒
- B. 木马病毒
- C. 宏病毒
- D. 钓鱼病毒

92. 下列选项中，不属于网络病毒的是

- A. 蠕虫病毒
- B. 木马病毒
- C. 宏病毒
- D. 钓鱼病毒

93. 下列选项中，不属于网络病毒的是

- A. 蠕虫病毒
- B. 木马病毒
- C. 宏病毒
- D. 钓鱼病毒

94. 下列选项中，不属于网络病毒的是

- A. 蠕虫病毒
- B. 木马病毒
- C. 宏病毒
- D. 钓鱼病毒

95. 下列选项中，不属于网络病毒的是

- A. 蠕虫病毒
- B. 木马病毒
- C. 宏病毒
- D. 钓鱼病毒

96. 下列选项中，不属于网络病毒的是

- A. 蠕虫病毒
- B. 木马病毒
- C. 宏病毒
- D. 钓鱼病毒

97. 下列选项中，不属于网络病毒的是

- A. 蠕虫病毒
- B. 木马病毒
- C. 宏病毒
- D. 钓鱼病毒

98. 下列选项中，不属于网络病毒的是

- A. 蠕虫病毒
- B. 木马病毒
- C. 宏病毒
- D. 钓鱼病毒

99. 下列选项中，不属于网络病毒的是

- A. 蠕虫病毒
- B. 木马病毒
- C. 宏病毒
- D. 钓鱼病毒

100. 下列选项中，不属于网络病毒的是

- A. 蠕虫病毒
- B. 木马病毒
- C. 宏病毒
- D. 钓鱼病毒

101. 下列选项中，不属于网络病毒的是

- A. 蠕虫病毒
- B. 木马病毒
- C. 宏病毒
- D. 钓鱼病毒

102. 下列选项中，不属于网络病毒的是

- A. 蠕虫病毒
- B. 木马病毒
- C. 宏病毒
- D. 钓鱼病毒

103. 下列选项中，不属于网络病毒的是

- A. 蠕虫病毒
- B. 木马病毒
- C. 宏病毒
- D. 钓鱼病毒

104. 下列选项中，不属于网络病毒的是

- A. 蠕虫病毒
- B. 木马病毒
- C. 宏病毒
- D. 钓鱼病毒

105. 下列选项中，不属于网络病毒的是

- A. 蠕虫病毒
- B. 木马病毒
- C. 宏病毒
- D. 钓鱼病毒

106. 下列选项中，不属于网络病毒的是

- A. 蠕虫病毒
- B. 木马病毒
- C. 宏病毒
- D. 钓鱼病毒

107. 下列选项中，不属于网络病毒的是

- A. 蠕虫病毒
- B. 木马病毒
- C. 宏病毒
- D. 钓鱼病毒

108. 下列选项中，不属于网络病毒的是

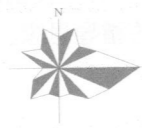
- A. 蠕虫病毒
- B. 木马病毒
- C. 宏病毒
- D. 钓鱼病毒

## 模拟测试二

一、单项选择题（共70题，每题1分。每题的备选项中，只有一个最符合题意）

- 城市起源的重要因素是（ ）。
  - 第一次社会大分工
  - 第二次社会大分工
  - 原始部落大分工
  - 私有制度出现
- 根据城市进化理论，城市发展的“相对分散”阶段主要出现于（ ）。
  - 工业化初期
  - 工业化成熟期
  - 后工业化初期
  - 后工业化成熟期
- 在城市物质环境中，公共领域和非公共领域的开发在时间和空间上应（ ）。
  - 保持协调
  - 同步行进
  - 约束公共领域开发
  - 约束非公共领域开发
- 城市社会与农村社会的基本特征的主要差别，下列哪一项是错误的？
  - 城市社会的异质性高于乡村社会
  - 城市社会的人际际是以社会分工为基础，而农村社会是以地缘关系和乡土意识为基础
  - 城市社会是不同经济社会背景的社群聚居，而农村社会是不同家族组合而成的共同体
  - 城市社会与农村社会的产业结构不同
- 第三产业是为（ ）。
  - 生产提供服务的部类
  - 再生产提供服务的部类
  - 生产和消费提供服务的部类
  - 消费提供服务的部类
- 下列哪项关于城镇体系群体性特征的表述是不正确的？
  - 城镇体系内的所有城镇共同担负着区域发展的任务
  - 城镇体系内的几个中心城镇共同担负区域发展的任务
  - 城镇体系内的各城镇，虽在规模、职能等方面各不相同，但具有内在统一性
  - 城镇体系内各城镇功能的总和构成了城镇体系的整体功能
- 元大都是唐长安后中国古代都城的又一典范，它在继承了古代都城传统的基础上，城市格局还受到（ ）的影响。
  - 商品经济和世俗观念
  - 佛教的轮回观念
  - 老子的自然至上理念
  - 道家的阴阳五行思想
- 我国古代城市规划思想的形成是在哪个时期？
  - 西周
  - 商代
  - 战国
  - 西汉
- 促进城市规划学科产生的根本原因是什么？
  - 工业发展
  - 居住环境恶化
  - 汽车交通的出现
  - 城市化进程的迅速推进
- 《雅典宪章》产生的时代背景是：
  - 现代城市规划学科孕育产生的时期
  - 城市改良的时期
  - 现代建筑运动蓬勃发展的时期
  - 现代建筑运动走向衰落的时期
- 可持续发展理念的提出是在：
  - 1977年
  - 1987年
  - 1992年
  - 1993年
- 21世纪城市所面临的主要社会经济条件没有包括：
  - 可持续发展
  - 知识经济
  - 经济全球化和信息化
  - 互联网
- 与当代城市规划理论的发展趋势相符的是：
  - 生态规划
  - 结构规划
  - 城市内部结构重组
  - 城市体系规划
- 下述对高科技园区的描述哪个是错的？
  - 高科技园区是城市营造科技创新环境的一项重要举措
  - 高科技园区是以吸引跨国公司投资为主的制造装配基地
  - 高科技园区是城市的重要组成部分，是高科技企业的聚集区
  - 高科技园区通常以大学或科研机构所提供的科技创新环境为基础
- 城市规划立法工作，应当按照（ ）规定的指导思想、基本制度、基本原则、基本程序进行。
  - 《中华人民共和国城市规划法》

- B. 《中华人民共和国宪法》  
C. 《中华人民共和国立法法》  
D. 《中华人民共和国地方各级人民代表大会和地方各级人民政府组织法》
16. 我国的《城市规划编制办法实施细则》属于城市规划法规体系中的( )。  
A. 行政法规  
B. 行政规章  
C. 技术规范  
D. 行政法的附属法规
17. 编制乡人民政府所在地的规划,一般分为( )进行。  
A. 集镇总体规划和集镇详细规划两个阶段  
B. 集镇总体规划和集镇建设规划两个阶段  
C. 乡域村镇体系规划、集镇总体规划和集镇详细规划三个阶段  
D. 乡域村镇体系规划、集镇总体规划和集镇建设规划三个阶段
18. 省人民政府行政主管部门审批的建设项目,由( )核发选址意见书。  
A. 项目所在地县、市人民政府  
B. 项目所在地县、市人民政府城市规划行政主管部门  
C. 省人民政府土地管理部门  
D. 省人民政府城市规划行政主管部门
19. 下述有关国民经济和社会发展规划与城市规划关系的描述中哪个是错误的?  
A. 国民经济和社会发展中长期计划是城市规划的重要依据之一,而城市规划同时也是国民经济和社会发展的年度计划及中期计划的依据  
B. 根据城市发展的长期性和连续性特点,城市规划应比国民经济和社会发展规划作更长远的考虑  
C. 城市规划根据国民经济与社会发展规划确定的有关内容,合理确定城市发展的规模、速度和内容等  
D. 城市规划在国民经济和社会发展规划指导下对行政区域范围内的土地开发和保护制定战略目标和具体计划
20. 下述有关城市总体规划与土地利用总体规划之间关系的描述中哪个是错误的?  
A. 市域土地利用总体规划是市域城镇体系规划的组成部分  
B. 土地利用总体规划和城市总体规划是相互协调和衔接的关系  
C. 城市总体规划中的用地选择、用地增量指标的确定,应与土地利用总体规划充分协调  
D. 城市规划区内的用地布局应根据城市空间结构的合理性进行安排
21. 城市环境保护规划的核心是( )。  
A. 对城市规划区范围内的自然资源进行合理利用  
B. 根据城市总体规划的要求,具体制定环境综合整治措施  
C. 保持城市规划区内的自然资源免受城市建设和发展的破坏  
D. 为城市规划区内的土地和空间资源的配置提供依据
22. 按照下图所示的风玫瑰图,在不考虑其他因素的前提下,居住区应该尽可能位于工业区的( )侧。



- A. 东  
B. 西  
C. 南  
D. 北
23. 地下水按其成因与埋藏条件可以分为上层滞水、潜水和承压水,具有城镇水源意义的地下水主要是( )。  
A. 上层滞水和潜水  
B. 潜水和承压水  
C. 上层滞水和承压水  
D. 上层滞水、潜水和承压水
24. 地价就是( )。  
A. 土地使用者为了获得城市土地所有权所支付的价格  
B. 国家向土地使用者出让一定时期内的城市土地使用权时获得的一次性货币收入  
C. 地租的市场表现形式,它的高低主要取决于地上建筑物的数量、质量和环境质量  
D. 国家或企事业单位征地时向农民支付的安置费用与青苗补偿费用
25. 根据《城市用地分类和城市建设用地标准》,城市的高速公路用地属于( )。  
A. 交通设施用地  
B. 道路广场用地  
C. 市政公用设施用地  
D. 对外交通用地
26. 城市用地布局应该遵循的一个重要原则是( )。  
A. 保护农田、不占耕地  
B. 城乡结合、统筹安排  
C. 工业优先、促进就业  
D. 先生产、后生活
27. 城市用地布局的主要模式大体可以分为( )。  
A. 网格状、环状、环形放射状、混合状  
B. 居住地区、居住区、居住小区、组团  
C. 同心圆、扇形、多核心  
D. 集中式、分散式、集中与分散相结合式
28. 石油码头在城市里的位置选择应该( )。  
A. 尽量位于河道的凸岸  
B. 尽可能位于城市的上游  
C. 尽量避开桥梁  
D. 尽可能位于城市的下风向
29. ( )是建立城市艺术骨架和组织城市空间的重要手段之一,它可以把城市空间组织成一个有秩序、有韵律的整体。  
A. 城市绿化  
B. 城市水面  
C. 城市制高点  
D. 城市轴线
30. 在城市空间布局时应当注意对城市进行整体艺术加工和形象塑造,这项工作的进行

密  
封  
线  
内  
不  
要  
答  
题



应该（ ）。

- A. 一切从平面构图效果出发
- B. 暂不考虑城市用地的需求
- C. 首先满足城市功能要求
- D. 先于各项用地和设施的安排

31. 我国现行的城市规划编制体系可以划分为（ ）。

- A. 城市总体规划、城市分区规划和城市详细规划三个层次
- B. 城市总体规划和城市详细规划两个层次
- C. 城市总体规划（含市域城镇体系规划）、控制性详细规划和修建性详细规划三个层次
- D. 城镇体系规划、城市总体规划、详细规划三个层次

32. 城市修建性详细规划（ ）。

- A. 必须在控制性详细规划的基础上编制，并报经城市人民代表大会或其常务委员会审批
- B. 应该对容积率的奖励和补偿作出明确规定
- C. 必须以城市总体规划为依据，并对总体规划提出具体修改意见
- D. 一般应结合具体建设项目或开发建设地区进行

33. 制定城市规划必须加强风景名胜区的保护，以下表述哪个是错误的？（ ）。

- A. 风景名胜区要把保护工作放在首位
- B. 风景名胜资源的上市必须报经国家建设行政主管部门的审批
- C. 位于城市规划区内的风景名胜区保护规划应该纳入城市总体规划
- D. 风景名胜区的工作原则是严格保护、统一管理、合理开发、永续利用

34. 在研究城市用地发展方向时，最有效的调查方法是（ ）。

- A. 问卷调查
- B. 访谈调查
- C. 现场踏勘
- D. 空间分析

35. 居住小区规划地区环境调查的范围是指（ ）。

- A. 与规划范围相邻的周边地区
- B. 规划对象所属的行政区
- C. 与规划范围关系密切的地域
- D. 与规划对象条件相似的居住小区

36. 城市规划中常用的分析方法是（ ）。

- A. 定性分析、定量分析、统计分析
- B. 定量分析、趋势分析、定性分析
- C. 定性分析、定量分析、空间模型分析
- D. 回归分析、统计分析、空间模型分析

37. 以下关于城市规划专题研究的陈述，哪种说法是不正确的？（ ）

- A. 是与城市专项规划对应的研究工作
- B. 是编制城市规划的依据之一
- C. 是城市规划各阶段的一项工作
- D. 是针对规划需要解决某些问题进行的研究

38. 以下哪一选项是城镇体系规划的主要工作程序？

- A. ①收集分析资料 ②人口城市化水平预测 ③城镇布局 ④安排区域基础设施

- B. ①收集分析资料 ②城镇布局 ③人口城市化水平预测 ④安排区域基础设施

- C. ①收集分析资料 ②安排区域基础设施 ③城镇布局 ④人口城市化水平预测

- D. ①收集分析资料 ②安排区域基础设施 ③人口城市化水平预测 ④城镇布局

39. 城市总体规划的成果中，不是必须提供的图纸是：

- A. 城市现状图
- B. 近期建设规划图
- C. 城市用地工程地质评价图
- D. 城市总体规划图

40. 下列关于分区规划文本内容描述正确的是：

- (1) 总则：编制规划的依据和原则 (2) 城市规划区范围 (3) 分区规划性质 (4) 分区土地利用原则及不同使用性质地段的划分 (5) 道路（包括主、次干道）规划红线位置及控制点坐标、标高 (6) 实施规划的措施

- A. (1)、(4)、(5)
- B. (1)、(2)、(4)、(5)
- C. (1)、(3)、(4)、(5)、(6)
- D. 全部都对

41. 以下哪一项不属于城市总体规划纲要的成果？

- A. 规划纲要文本
- B. 规划纲要文字说明
- C. 专题研究报告
- D. 示意性图纸

42. 下列控制指标中属于控制性详细规划规定性指标的是：

- (1) 道路坐标 (2) 容积率 (3) 用地性质 (4) 人口容量 (5) 交通出入口方位 (6) 停车泊位 (7) 建筑面积

- A. (1)、(4)、(7)
- B. (2)、(3)、(5)、(6)
- C. (1)、(2)、(3)、(4)
- D. (1)、(2)、(3)、(4)、(5)、(6)、(7)

43. 建筑密度是指：

- A. 每公顷建筑用地上容纳的建筑物的总建筑面积
- B. 一定地块内，总建筑面积与用地面积的比值
- C. 一定地块内所有建筑物的首层总面积占用地面积的比例
- D. 一定地块内所有建筑物的基底总面积占用地面积的比例

44. 城市规划设计成果一般由（ ）部分组成。

- A. 二
- B. 三
- C. 四
- D. 五

45. 在城市规划设计成果中没有文本要求的规划层次是：

- A. 总体规划
- B. 分区规划
- C. 控制性详细规划