

根据最新公务员录用考试大纲编写  
GENJU ZUIXIN GONGWUYUAN LUYONG KAOSHI DAGANG BIANXIE

**2008**  
**畅销教材**

(2001—2007)

# 浙江省公务员录用考试 历年真题详解

ZHEJIANGSHENG GONGWUYUAN LUYONG KAOSHI

LINIAN ZHENTI XIANGJIE

高 守 主 编

- 公务员录用考试用书
- 事业单位公开招聘考试用书
- 附军队转业干部录用考试试卷

浙江人民出版社

根据最新公务员录用考试大纲编写

GENJU ZUIXIN GONGWUYUAN LUYONG KAOSHI DAGANG BIANXIE



---

(2001—2007)

浙江省公务员录用考试  
**历年真题详解**

ZHEJIANGSHENG GONGWUYUAN LUYONG KAOSHI

LINIAN ZHENTI XIANGJIE

---

高 守 主 编

浙江人民出版社

---

图书在版编目(CIP)数据

浙江省公务员录用考试历年真题详解/高守主编. —杭州: 浙江人民出版社, 2007. 10

ISBN 978-7-213-03641-5

I. 浙… II. 高… III. 公务员—招聘—考试—中国—解题 IV. D630.3-44

中国版本图书馆 CIP 数据核字(2007)第 151154 号

书名	浙江省公务员录用考试历年真题详解
作者	高守主编
出版发行	浙江人民出版社 杭州市体育场路 347 号 市场部电话: (0571)85061682 85176516
责任编辑	叶国斌
封面设计	罗信文
电脑制版	杭州大漠照排印刷有限公司
印刷	浙江印刷集团有限公司 (杭州环城北路 177 号)
开本	787×1092 毫米 1/16
印张	17
字数	42.9 万
插页	1
版次	2007 年 10 月第 1 版·第 1 次印刷
书号	ISBN 978-7-213-03641-5
定价	30.00 元

如发现印装质量问题,影响阅读,请与市场部联系调换。



# 前 言

(2008 年版)

为了净化公务员考试用书市场,为广大考生提供精品辅导用书,公务员录用考试专业指导用书编委会特组织公务员考试命题研究方面的专家编写了“公务员录用考试专业指导用书”系列丛书,前几年已经陆续推出了“指定参考用书”系列、“专业考试用书”系列,现隆重推出“精品辅导用书”系列修订版。丛书具有以下几个特点:

## 一、紧扣大纲,与时俱进

这套丛书是根据《中华人民共和国公务员法》的精神及最新公务员录用考试公共科目大纲编写的。首先,2007年取消了行政职业能力(一)、(二)的分类。新大纲尽管对公务员招考职位有行政执法类与综合管理类的区分,但公务员资格考试使用同一张试卷。其次,丛书内容紧扣大纲编写。根据大纲的要求,增加了选词填空、逻辑判断、法律常识方面的内容。如常识判断部分,新大纲主要侧重测查应试者的法律知识运用能力,内容主要涉及宪法、民商法、行政法、经济法、刑法、诉讼法等。资料分析方面,具体的表述没有太大的变化,但例题部分有些变动。往年给定的例题是统计表,现在更强调统计图。统计表和统计图的难度是不一样的,统计表主要侧重于计算,统计图则侧重于定性。统计图相对容易些,可以通过观察得出结论。以上这些变化在这套书中都有非常明显的反映。可以说这套“精品辅导用书”系列是公务员法实施以来,唯一根据最新考试大纲编写的辅导教材。

## 二、作者权威,讲解精到

丛书的作者都是长期从事公务员考试命题研究的专家,有着丰富的经验和相当的影响力。如王益宝老师是著名的“行政职业能力测验”研究及培训方面的专家,曹文彪老师是“申论”研究及培训方面的权威,高守是公务员考试网([www.kaoshi.cc](http://www.kaoshi.cc))的首席培训官。作者对考试的每种题型都进行了深入的剖析,找出准确回答的理论根据,并概括出高分作答的基本方法及技巧,以便考生迅速熟悉考试的特点、要求,快速提升应对考试的能力。“精品辅导用书”注重系统性、科学性。如《行政职业能力测验精品辅导》中,每一章都有概述、常见题型精讲、解题技巧总结、能力拓展。这种结构的设计,不仅使考生较容易掌握每一类题目的要求、解题技巧,也使考生能有贴近实战的演练机会。又如《申论精品辅导》,它不仅使考生了解申论考试的目的、意义,更有助于考生掌握申论考试的重要环节和要领,包括阅读材料的技巧、概括大意的的方法、高分论述的关键等。

## 三、紧贴实战,难度相当

以往的辅导用书很多内容东拼西凑,知识点、题型过于陈旧,解析过于简单,缺乏系统



性,更不要说兼顾难度了。考生使用那样的辅导用书不仅达不到应有的效果,而且会浪费时间,效果适得其反。“精品辅导用书”系列是以历年真题为分析材料,尤其是以近几年的中央真题为基础,兼顾浙江、北京、上海、江苏、山东、福建、广东、广西等省份的真题。这样分析起来更具针对性,更贴近考试。像《行政职业能力测验精品辅导》中的能力拓展题,都选自中央及地方的公务员录用考试中有代表性的真题,有难度,有深度,贴近实战。另外,作者总结出的规律也有普遍意义,既适合中央、国家机关公务员的考试,又适合地方公务员的考试。“精品辅导用书”第一版推出后,得到了考生的广泛好评,也成为各大培训机构的首选教材。现根据最新大纲精神,对原书的内容、结构进行调整和完善,使第二版更加贴近实战。

#### 四、品种丰富,具备特色

“公务员录用考试专业指导用书”丛书已经形成了三大系列近 10 个品种,它们是“指定参考用书”系列:浙江省人事厅主编的《行政职业能力测验》、《申论》、《综合基础知识》;“精品辅导用书”系列:《申论精品辅导》、《行政职业能力测验精品辅导》、《中央、国家机关公务员录用考试历年真题详解》、《浙江省公务员录用考试历年真题详解》、《面试》等。这些书各有侧重,如“指定参考用书”系列注重公共知识的梳理,行政职业能力测验与申论的理论指导,“精品辅导用书”系列强调实战技巧的提升。当然在准备公务员考试时,侧重点是不一样的,考生可根据自己的实际情况自主选择。此外,丛书不仅适用于考中央、国家机关公务员的考生,也适用于考地方国家机关公务员的考生。

#### 五、资料新颖,互动性强

丛书涉及的资料非常丰富、新颖,涵盖面广,除了历年的中央、国家机关公务员录用考试的真题外,还涉及浙江、上海、北京、山东、江苏、福建、辽宁、广东、广西等省(区)的真题。而且很多是近一两年的真题,尤其是 2007 年的真题。这些都得益于公务员考试网([www.kaoshi.cc](http://www.kaoshi.cc))的大力支持、帮助。另外,为配合这套丛书的出版,浙江人民出版社公务员考试书籍热门信箱([chuban110@163.com](mailto:chuban110@163.com))也已经开通。

相信这套丛书的修订再版,必将推动公务员考试用书向规范、精品方向迈进,也必定会给考生带来收获的喜悦!

公务员录用考试专业指导用书编委会  
2007 年 10 月



# 目 录

## CONTENTS

### 第一部分 《行政职业能力测验》、《公共基础知识》试卷及答案详解

2007年浙江省公务员录用考试《行政职业能力测验》试卷 .....	(1)
参考答案及详解 .....	(20)
2006年浙江省公务员录用考试《行政职业能力测验》试卷 .....	(28)
参考答案及详解 .....	(47)
2005年浙江省公务员录用考试《行政职业能力测验》试卷 .....	(53)
参考答案及详解 .....	(73)
2004年浙江省公务员录用考试《行政职业能力测验》试卷 .....	(81)
参考答案及详解 .....	(99)
2003年浙江省公务员录用考试《行政职业能力倾向测验》试卷 .....	(106)
参考答案及详解 .....	(122)
2002年浙江省公务员录用考试《公共基础知识》试卷 .....	(128)
参考答案 .....	(135)
2002年浙江省公务员录用考试《行政职业能力倾向测验》试卷 .....	(136)
参考答案及详解 .....	(152)
2001年浙江省公务员录用考试《公共基础知识》试卷 .....	(157)
参考答案 .....	(164)
2001年浙江省公务员录用考试《行政职业能力倾向测验》试卷 .....	(165)
参考答案及详解 .....	(181)



## 第二部分 《申论》试卷及详解

2007年浙江省公务员录用考试《申论》试卷	(185)
试卷详解	(190)
2006年浙江省公务员录用考试《申论》试卷	(194)
试卷详解	(198)
2005年浙江省公务员录用考试《申论》试卷	(204)
试卷详解	(206)
2004年浙江省公务员录用考试《申论》试卷	(213)
试卷详解	(214)
2003年浙江省公务员录用考试《申论》试卷	(217)
试卷详解	(218)
2002年浙江省公务员录用考试《申论》试卷	(220)
试卷详解	(222)
2001年浙江省公务员录用考试《申论》试卷	(225)

## 附录 军队转业干部录用考试试卷及参考答案

宁波市军队转业干部录用考试试卷	(229)
参考答案	(232)
杭州市军队转业干部录用考试试卷	(233)
参考答案	(242)
浙江省军队转业干部录用考试试卷(一)	(243)
参考答案	(249)
浙江省军队转业干部录用考试试卷(二)	(252)
参考答案	(258)
浙江省军队转业干部录用考试试卷(三)	(261)
参考答案	(265)



# 第一部分 《行政职业能力测验》、《公共基础知识》 试卷及答案详解

## 2007年浙江省公务员录用考试 《行政职业能力测验》试卷

### 行政职业能力测验说明\*

这项测验共有五个部分,125道题,总分为100分。时限120分钟。各部分不分别计时,但都给出了参考时限,供你参考以分配时间。

请在题本和答题卡上严格按照要求填写自己的姓名、涂写准考证号。

请仔细阅读下面的注意事项,这对你获得成功非常重要:

1. 题目应在答题卡上作答,在这份题本上作答无效。
2. 你可以在此题本的空隙处打草稿。
3. 监考人员宣布考试开始后,你才可以开始答题。
4. 监考人员宣布考试结束时,你应立即放下铅笔,停止答题。
5. 考试结束后,当你将题本、答题卡交给监考人员时,请让监考人员在你的准考证上签名,以证明你确已将题本和答题卡交给监考人员。否则,若题本、答题卡遗失,由你承担责任。监考人员签名后,你才可离开考场。

6. 在这项测验中,可能有一些试题是很容易的,但任何人都很难答对所有的题目。因此你不要在一道题上思考时间太久,遇到不会答的题目,可先跳过去,待答完了那些容易的题目后,如果有时间再去思考,否则,你可能没有时间去答后面的更容易的题目。试题答错不倒扣分。

7. 特别提醒你注意,填涂答案时一定要认准题号。严禁折叠答题卡!

\*\*\*\*\*  
\*  
\* 停! 请不要往下翻! 待开考铃响后方可翻阅。 \*  
\* 否则,会影响你的成绩。 \*  
\*  
\*\*\*\*\*

\* 以下试卷均略去这部分内容。





## 第一部分 数量关系

(共 25 题,参考时限 30 分钟)

本部分包括两种类型的试题:

一、数字推理。共 10 题。给你一个数列,但其中缺少一项,要求你仔细观察数列的排列规律,然后从四个选项中选出最符合规律的一项来填补空缺项。

请开始答题:

1. 0.5 2  $\frac{2}{9}$  8 ( )  
A. 12.5                      B.  $\frac{27}{2}$                       C.  $14\frac{1}{2}$                       D. 16
2. 100 8 1  $\frac{1}{4}$  ( )  
A.  $\frac{1}{4}$                       B.  $\frac{1}{12}$                       C.  $\frac{1}{20}$                       D.  $\frac{1}{32}$
3. 85 52 ( ) 19 14  
A. 28                      B. 33                      C. 37                      D. 41
4. 1 6 30 ( ) 360  
A. 80                      B. 90                      C. 120                      D. 140
5. 0 9 26 65 ( ) 217  
A. 106                      B. 118                      C. 124                      D. 132
6. 243 217 206 197 171 ( ) 151  
A. 160                      B. 158                      C. 162                      D. 156
7. 36 24 ( )  $\frac{32}{3}$   $\frac{64}{9}$   
A.  $\frac{431}{27}$                       B.  $\frac{140}{9}$                       C.  $\frac{49}{3}$                       D. 16
8. 5 7 4 9 25 ( )  
A. 168                      B. 216                      C. 256                      D. 296
9. ( ) 35 63 80 99 143  
A. 24                      B. 15                      C. 8                      D. 1
10. 3 18 60 147 ( )  
A. 297                      B. 300                      C. 303                      D. 307

二、数学运算。共 15 题。每道试题呈现一道算术式,或表述数字关系的一段文字或几何图形,要求你迅速、准确地计算或论证出答案。

请开始答题:

11.  $1^{2007} + 3^{2007} + 5^{2007} + 7^{2007} + 9^{2007}$  的值的个位数是( )。  
A. 5                      B. 6                      C. 8                      D. 9
12. 把圆的直径缩短 20%,则其面积将缩小( )。



- A. 40%      B. 36%      C. 20%      D. 18%

13. 小张在做一道除法题时,误将除数 45 看成 54,结果得到的商是 3,余数是 7。问正确的商和余数之和是( )。

- A. 11      B. 18      C. 26      D. 37

14. 把自然数 1,2,3,4,5,⋯,98,99 分成三组,如果每组数的平均数恰好相等,那么此平均数为( )。

- A. 55      B. 60      C. 45      D. 50

15. 某部队战士排成了一个 6 行、8 列的长方阵。现在要求各行从左至右 1,2,1,2,1,2,1,2 报数,再各列从前到后 1,2,3,1,2,3 报数。问在两次报数中,所报数字不同的战士有( )。

- A. 18 个      B. 24 个      C. 32 个      D. 36 个

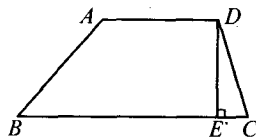
16. 同时扔出 A、B 两颗骰子(其六个面上的数字都为 1,2,3,4,5,6),问两颗骰子出现的数字的积为偶数的情形有几种?( )

- A. 27 种      B. 24 种      C. 32 种      D. 54 种

17. A、B 两地相距 100 千米,甲以 10 千米/小时的速度从 A 地出发骑自行车前往 B 地。6 小时后,乙开摩托车从 A 地出发驶向 B 地。问为了使乙不比甲晚到 B 地,摩托车每小时至少要行驶多少千米?( )

- A. 24 千米      B. 25 千米      C. 28 千米      D. 30 千米

18. 如图所示,梯形 ABCD,  $AD \parallel BC$ ,  $DE \perp BC$ 。现在假设 AD、BC 的长度都减少 10%,DE 的长度增加 10%,则新梯形的面积与原梯形的面积相比,会怎样变化?( )

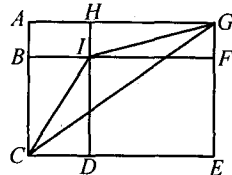


- A. 不变      B. 减少 1%  
C. 增加 10%      D. 减少 10%

19. 某单位实行五天工作制,即星期一至星期五上班,星期六和星期日休息。现已知某月有 31 天,且该单位职工小王在该月休息了 9 天(该月没有其他节日)。则这个月的六号可能是下列四天中的哪一天?( )

- A. 星期五      B. 星期四      C. 星期三      D. 星期一

20. 如图所示,长方形 ACEG 被线段 BF、HD 分成四个大小不等的小长方形。已知 AH 为 6cm,GF 为 3cm,DE 为 10cm,BC 为 7cm。则三角形 ICG 的面积为( )。

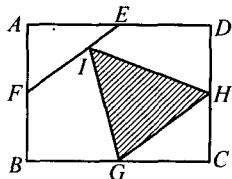


- A.  $32\text{cm}^2$       B.  $28\text{cm}^2$   
C.  $30\text{cm}^2$       D.  $26\text{cm}^2$

21. 某代表团有 756 名成员,现要对 A、B 两议案分别进行表决,且他们只能投赞成票或反对票。已知赞成 A 议案的有 476 人,赞成 B 议案的有 294 人,对 A、B 两议案都反对的有 169 人。则赞成 A 议案且反对 B 议案的有( )。

- A. 293 人      B. 297 人      C. 302 人      D. 306 人

22. 如图所示,矩形 ABCD 的面积为 1,E、F、G、H 分别为四条边的中点,FI 的长度是 IE 的两倍,问阴影部分的面积为多少?( )



- A.  $\frac{1}{3}$       B.  $\frac{1}{4}$   
C.  $\frac{5}{16}$       D.  $\frac{7}{24}$



23. 先将线段  $AB$  分成 20 等分, 线段上的等分点用“ $\triangle$ ”标注; 再将该线段分成 21 等分, 等分点用“ $O$ ”标注( $AB$  两点都不标注), 现在发现“ $\triangle$ ”, 和“ $O$ ”之间的最短处为 2 厘米, 问线段  $AB$  的长度为多少? ( )

- A. 2460 厘米      B. 1050 厘米      C. 840 厘米      D. 680 厘米

24. 林子里有猴子喜欢吃的野果, 23 只猴子可以在 9 周内吃光, 21 只猴子可以在 12 周内吃光, 问如果有 33 只猴子一起吃, 则需要几周吃光? (假定野果生长的速度不变)( )

- A. 2 周      B. 3 周      C. 4 周      D. 5 周

25. 某工程由小张、小王两人合作刚好可在规定的时间内完成。如果小张的工作效率提高 20%, 那么两人只需用规定时间的  $\frac{9}{10}$  就可完成工程; 如果小王的工作效率降低 25%, 那么两人就需延迟 2.5 小时完成工程。规定的时间是( )。

- A. 20 小时      B. 24 小时      C. 26 小时      D. 30 小时

## 第二部分 言语理解与表达

(共 30 题, 参考时限 25 分钟)

每道题包含一段话或一个句子, 后面是一个不完整的陈述, 要求你从四个选项中选出一个来完成陈述。注意: 答案可能是完成对所给文字主要意思的提要, 也可能是满足陈述中其他方面的要求, 你的选择应与所提要求最相符合。

请开始答题:

26. 边沁认为, 动机和意图作为行为过程中的两个因素, 其道德价值要通过行为结果表现出来。动机并非毫无作用, 有动机才有意图, 有意图才能发生行为, 有行为才会产生结果, 但动机和意图的好坏不取决于主观的道德动机, 而是要看它们带来的行为结果。

对这段文字理解正确的是( )。

- A. 人的道德品质可以从行为上来判断  
B. 动机和意图具有独立的道德价值  
C. 动机和意图的好坏依行为结果的好坏而定  
D. 动机和意图的依据不存在于客观效果中, 而存在于主观领域

27. 因为存在城乡二元结构, 同样的经济收入, 在城市生活十分艰难, 而在农村却可能过得舒适。城市是市场化的, 而农村却有相当部分非市场因素存在。总体来讲, 进城农民工愿意接受很低的工作报酬, 就是因为农村生产劳动力的成本比城市低。这也使中国从全球化中获得很多利益。

这段文字意在说明( )。

- A. 中国从全球化中获得好处的根本原因  
B. 我国城乡二元结构的存在具有一定的合理性  
C. 缩小城乡贫富差距, 是推进我国城市化建设的必要条件  
D. 建设社会主义新农村, 必须打破城乡二元结构

28. 政策和制度在相当程度上带有人们的主观意志, 或者说是人们意志作用的结果。因此在宏观经济管理过程中, 行政调节方法运用得是否合理和科学, 主要取决于人们主观上对客



观事物的认识是否正确,取决于人们对客观规律和复杂的经济活动的了解和掌握程度。

这段文字的主旨是( )。

- A. 行政调节方法在宏观经济管理中的局限性
- B. 政策和制度在制定过程中存在不科学性
- C. 应该用经济和法律等其他调节方法取代行政调节方法
- D. 政策和制度的正确与否,取决于其制定者的主观因素

29. 关联交易和资金转移在其他国家是明令禁止的,而在中国,借壳上市却成了许多人股市淘金的捷径。如果上市是为企业筹集资金,借壳也无可指责。然而,看多了像蓝田这样的皮包公司的伎俩,我们不能不对股市上的概念股打上几个问号。

下列陈述,不能从文意中得出的是( )。

- A. 通过借壳上市的方法可以为企业筹集资金
- B. 为企业筹集资金不是皮包公司借壳上市的真正目的
- C. 关联交易和资金转移在我国常有发生
- D. 中国在现阶段应该取消借壳上市的做法

30. 世界自然基金会的报告显示,如今生物物种消亡的速度比以往任何时候都快。目前非洲有 13000 头犀牛,而原先在这片大陆上,这种庞然大物的数目曾达到 100 万头。在非洲,河马的数量下降了 95%,现在那里只有 1300 头河马,而在 30 年前,这种厚皮动物的数量达到 29000 头。每年至少有 800 头河马的牙齿和肉在非洲被交易。

对这段话的理解正确的是( )。

- A. 世界自然基金会的主要职能是关注和保护地球生物物种
- B. 在过去的 30 年中全世界河马的数量已经下降了 95%
- C. 现在,厚皮动物的消亡速度要大大快于其他种类的动物
- D. 人类的活动是造成河马数量急剧下降的主要原因

31. 据悉,一只成熟的母鼠大约 20 天左右即繁殖一次,一胎少的可生六七只、多则十来只小老鼠。而一只小老鼠出生 1.5—2.5 个月就可达到性成熟,具备繁殖能力。有趣的是,科学家们发现,老鼠具有“计划生育”的功能。当一个地区老鼠的总量较多时,老鼠会减缓其繁殖频率,而在老鼠较少或人们大举灭鼠后,它们会加快繁殖力度,使老鼠快速地成倍增长。

这段文字的主旨是( )。

- A. 老鼠的寿命短,因此生育周期也短
- B. 老鼠中存在着生育数量自我调节现象
- C. 老鼠的繁殖能力惊人,危害性很大
- D. 老鼠的繁殖能力取决于外界环境因素

32. 创作一首成功的(甚至伟大的)作品不必采用很强的旋律,但是动听的、容易哼唱的旋律,总会给予普通的外行听众更多的欢乐。许多没有研究或分析过音乐的人,很容易被擅长旋律的作曲家所吸引。将巴洛克时期的作曲家和 20 世纪的一些作曲家相比,古典作曲家和浪漫作曲家都使自己的旋律更容易上口。长旋律比短促的旋律容易掌握。

根据这段话,理解正确的是( )。

- A. 优秀的作曲家就是擅长掌握听众耳朵的作曲家
- B. 与现代作曲家相比,古典作曲家更能使自己的旋律容易上口
- C. 浪漫作曲家在作曲过程中特别擅长对短旋律的运用



D. 社会主义制度下的音乐创作应当以大众的口味为导向

33. 欣赏是文学活动的有机组成部分,只有在欣赏过程中,作品才能获得其本质性,成为文学作品。传统文学理论忽视文学欣赏,致使文学研究难以更进一步,也阻碍了文学创作的发展。现代文学理论与传统文学理论的最大不同,就在于对文学欣赏的重视程度。可以这样说,对文学欣赏的研究,是现代文学理论的起点,现代文学理论就建立在文学欣赏理论的基础上。

根据这段话,理解最准确的是( )。

- A. 现代文学理论重视文学欣赏的过程
- B. 文学创作是文学欣赏的前提
- C. 文学欣赏是作品获得本质性的途径,它是文学活动最主要的部分
- D. 文学欣赏活动的普及奠定了文学理论的基石

34. 圣婴现象是一个全球性的气候形态,每四年发生一次,每次发生大约会维持一年半左右的时间,并影响全世界的气候。据统计,在上个世纪总共发生了 23 次。1998 年发生的圣婴现象规模甚大,当时给美国造成了洪水、农作物歉收等灾害,损失大约 15 亿美元。可是因为气候形态的改变却造成植物生长季节变长,冬天暖气燃油的使用量减少等情形,实际上,圣婴现象对美国经济的影响反而是净收益了 150 亿美元。

根据这段文字,下列理解正确的是( )。

- A. 1998 年的圣婴现象对美国造成的损失实际上远不止 15 亿美元
- B. 圣婴现象是指 20 世纪的一种常见的影响面很广的气候灾害
- C. 面对圣婴现象带来的灾害,1998 年冬天美国公民主动减少暖气燃油的使用
- D. 1998 年的圣婴现象给美国带来了灾害,也带来了意外的积极效应

35. 我国现阶段发展老龄产业,不仅能够满足老年人群的特殊需要,还有利于形成新的消费热点,扩大内需,增加就业岗位,优化产业结构。同时能促进城乡协调发展和代际反馈,它在应对人口老龄化和促进经济社会发展之间架起一座桥梁,达成双赢的局面。

对本文主旨理解最准确的是( )。

- A. 中国社会的老龄化问题亟待解决
- B. 我国老年人群的消费市场存在巨大潜力
- C. 目前我国推动老龄产业发展的时机已经成熟
- D. 老龄产业的发展必将在很大程度上拉动我国经济的增长

36. 二恶英是一种持久性有机污染物,目前对二恶英的治理存在各方面的难题。首先,对二恶英的监测技术要求很高,采样要求很严格,需要特殊的高灵敏检测仪器。其次,二恶英类化合物分布广泛、污染源多。垃圾焚烧是二恶英的一个重要来源,美、日、德都有比较先进的技术来处理,如活性炭吸附、催化剂处理等,但中国目前还很少采用这些办法。作为一个发展中国家来说,污染物处理的技术和成本都是需要考虑的问题。

根据这段话,理解正确的是( )。

- A. 技术和成本是制约我国治理二恶英污染的主要因素
- B. 我国目前还不具备从环境中检测出二恶英的技术水平
- C. 增加经费投入能够解决目前的问题
- D. 由于分布广泛,根除二恶英污染是不可能的

37. 调查发现,现在有 25% 的婴儿的血液和头发中水银含量超标,有 6% 的母亲体内水银超出标准。研究人员说,即便鱼类所含水银量均符合安全标准,假如孕妇长期并过量食用,也



会使水银经胎盘传给胎儿。由于胎儿的排泄能力较差,这样水银便很容易在其体内积聚下来,这会影响婴儿脑部的发育,造成智力发展迟缓。

根据以上文字,理解正确的是( )。

- A. 孕妇体内的水银超标,其婴儿体内的水银肯定也超标
- B. 孕妇饮食不当是造成婴儿智力发展迟缓的根本原因
- C. 孕妇长期并过量食用鱼类会影响婴儿脑部发育
- D. 现行的鱼类产品的水银含量安全标准是不科学的

38. 人类具有相信“自己人”的倾向,一个有经验的谈话者,总是使自己的声调、音量、节奏与对方相称,就连坐的姿势也尽力给对方在心理上有相容之感。比如,并排坐着比相对而坐在心理上更具有共同感。

这段话的主旨是( )。

- A. 有经验的谈话者一般都比较自信,在交谈过程中能掌控局面
- B. 人们总是更善于和自己熟悉的人谈话
- C. 谈话过程中的坐姿与声调、音量、节奏等同样重要
- D. 创造相容感能对谈话过程产生积极的作用

39. “龙”的英文“Dragon”,在西方世界被认为是一种充满霸气和攻击性的庞然大物。“龙”的形象往往让对中国历史和文化了解甚少的外国人片面而武断地产生一些不符合实际的联想。包括“龙”在内的一些中国形象标志也往往具有一定的局限性,容易招致误读误解或别有用心的歪曲。

这段文字最有可能是在表述( )。

- A. 反对“龙”作中国形象标志的理由
- B. 建议把“龙”作为中国形象的标志
- C. “龙”在西方人眼中的形象
- D. “龙”是中华民族的图腾

40. 厚重的历史文化遗产不是城市建设、城市发展的包袱,而是精神理念的载体,容易凝聚成当代建设最大的财富。开发人的内在动力,产生文化效应,大幅度提高市民素质,各种文化形态随之融汇渗透,辐射四方。这段话直接支持了这样一种观点,即( )。

- A. 物质层面的财富是城市建设可感可触的基础
- B. 历史文化景观作为城市建设的新视点的观念尚难为人们接受
- C. 文化建设是城市建设的主要组成部分
- D. 历史文化遗产有益于提升城市的精神品质和塑造城市的风貌形象

41. 当你把社会看作一个复杂的系统的时候,重视多种因素的动态协调,才会更好地促进社会的和谐。假如遇到问题,就从概念出发,进行简单的定性和判断,强求一致,非此即彼。这种思维的简单化、片面化、极端化,都与和谐社会的要求格格不入。

这段话的主旨是( )。

- A. 构建和谐社会需要系统思维
- B. 简单化、片面化地处理社会问题的方法是不正确的
- C. 面对复杂的问题时,我们不能简单地去做定性,简单地去做出判断
- D. “求同存异”是构建和谐社会的一个理念

42. 作为一个发展中国家,自主创新并非自己创新,更非封闭式创新。不能排斥技术引



进,但技术创新能力无法通过引进直接获得,关键技术更是买不来。日本和韩国引进技术和消化吸收费用的比例分别为 1:5 和 1:8,而我国的比例为 1:0.15。

由此可见,我国技术引进的主要问题是( )。

- A. 对引进技术的消化吸收和再创新不够
- B. 过分依赖技术引进,自主创新能力不强
- C. 引进先进技术的力度还不够
- D. 引进的技术并不是世界上最先进、最关键的技术

43. 下列句子中没有歧义的一项是( )。

- A. 他俩拿着一本书在看
- B. 居民很少发现赌博
- C. 小张到处传播小道消息
- D. 小李埋怨自己不应该

44. 下列句子中没有歧义的一项是( )。

- A. 需要相信自己的人
- B. 他们谁也没有干涉我的权利
- C. 任何事都要从头做起
- D. 他理解小张有困难

45. 下列句子中,句意明确,没有语病的一句是( )。

- A. 有极少数党组织至今仍不敢发展那些本人表现很好只是家庭出身不好的党员。
- B. 该经济特区,具有较强的工业基础,具有较丰富的动植物、矿产资源。
- C. 某杂志将莱卡列入了“21 世纪影响人类生活的十大服装品牌”之一。
- D. 国家决定免征关税和进口增值税的目的和意义,在于进一步扩大利用外资,鼓励引进国外的先进技术和设备,促进产业结构的调整和进步。

46. 下列句子中,句意明确,没有语病的一句是( )。

- A. 中国美院的每一个大学生将来都希望自己成为一个出色的美术家。
- B. 在古代,这类音乐作品只有文字记载,没有乐谱资料,既无法演奏,又无法演唱。
- C. 入世后,面对如此强大的竞争对手,通过强强联合的方式来实现文化产业的集团化,无疑是一个重要举措。
- D. 我们必须拿出自己的正版计算机游戏软件,否则,拿不出新软件,就难以抵制不健康的盗版软件。

47. 下列句子中标点符号使用完全正确的一项是( )。

- A. 许多人以为乐观主义的人不过是“嬉皮笑脸”,“随随便便”,“一切放任”,“得过且过”,“唯唯诺诺”。
- B. 我们要领会“俯首甘为孺子牛。”这句话的深刻意义。
- C. 看台上,同学们一个劲地喊着:“加油”、“加油”的口号,为运动员鼓劲。
- D. 一个没有理想的人,不但不知道明天走到哪里? 做什么? 就连今天做什么? 为什么要这样做? 都弄不清楚。

48. 下列句子中加点词语使用正确的一项是( )。

- A. 看对方的神态,全然没有剑拔弩张、严阵以待的气势,倒有几分闲庭信步、瓜田李下话桑麻的味道。



- B. 胡同文化是一种封闭的文化,住在胡同里的居民大都安土重迁,不大愿意搬家。  
 C. 这伙盗贼真是猖狂,竟然在犯罪现场坐地分赃,结果被及时赶到的警察全部擒获。  
 D. 有的人说的是“反腐倡廉”,做的却是“贪污腐化”,真的令人不可理喻。

49. 下列句子中加点词语使用不正确的一项是( )。

- A. 这一套百科全书,内容涉及各个领域、各个学科,真是蔚为大观,丰富多彩。  
 B. 她有过人的胆量,且有勇有谋,任何情况下都不会畏葸不前。  
 C. 大家议论了好久,莫衷一是,想不出好办法。  
 D. 当代诗坛颇不景气,想起唐诗宋词的成就,不禁让人产生今非昔比的感觉。

50. 他们单位办公室主任王某向来说话严谨,让人找不到\_\_\_\_\_。填入横线部分最恰当的一项是( )。

- A. 南北  
 B. 破绽  
 C. 头绪  
 D. 弊病

51. 由于缺乏诚信,这家大商场越办越差,现在每天去那里购物的顾客\_\_\_\_\_。填入横线部分最恰当的一项是( )。

- A. 寥寥无几  
 B. 人迹罕至  
 C. 熙来攘往  
 D. 门可罗雀

52. 人们对于蜜蜂的赞美,尤其充满\_\_\_\_\_的情趣。在思想史上,艺术史上,许许多多人都歌颂过蜜蜂。这不仅仅因为蜜蜂能够酿蜜,而且人们也能从蜜蜂酿蜜中得到\_\_\_\_\_。它能够博采,又能够提炼,终于,黄澄澄、香喷喷的蜜糖给酿造出来了。它的酿蜜可以说是一种卓越的创造。

填入横线部分最恰当的一项是( )。

- A. 哲理 重要的启示  
 B. 生活 实惠的馈赠  
 C. 甜蜜 滋味的享受  
 D. 奋进 创造的幸福

53. 人文教育的重要目的在于使学生经由大学教育,能够\_\_\_\_\_纯粹功利的职业取向,\_\_\_\_\_狭隘的专业意识,从细小的专业分支中走出来。

填入横线部分最恰当的一项是( )。

- A. 抵制 扭转  
 B. 制止 克服  
 C. 抵制 克服  
 D. 制止 扭转

54. 填入下列句子中横线上的词语,正确的一组是( )。

① 相关部门多次派人来\_\_\_\_\_这个公司的财务工作,发现了许多问题。

② 在我结婚的那天,妈妈拿出一个翡翠镯子给我,说那是祖上\_\_\_\_\_下来的。

- A. 检查 流传  
 B. 检察 流传  
 C. 检查 留传  
 D. 检察 留传

55. 五十多年后回顾这段历史,杜老依然\_\_\_\_\_,然而他也没有\_\_\_\_\_土改实施过程中的缺陷,例如消灭富农和侵犯中农,以及没有严格依法保护劳动者财产利益。

填入横线部分最恰当的一项是( )。

- A. 直言不讳 回避  
 B. 毫无隐瞒 忌讳  
 C. 慷慨激昂 避嫌  
 D. 激情满怀 避讳





## 第三部分 判断推理

(共 35 题, 参考时限 30 分钟)

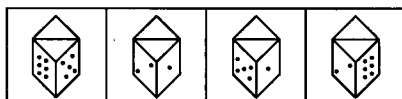
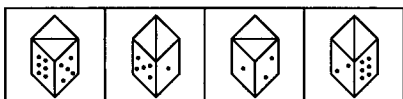
本部分包括四种类型的试题:

一、图形推理。包括三种类型的题目, 共 10 题。

1. 每道题目的左边 4 个图形呈现一定的规律性。根据这种规律, 你需要在右边所给出的备选答案中选出一个最合理的正确答案。每道题只有一个正确答案。

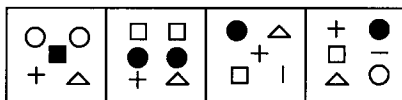
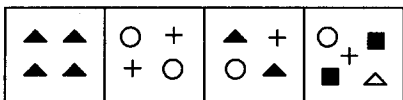
请开始答题:

56.



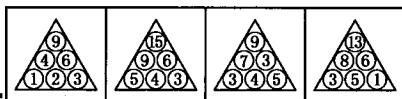
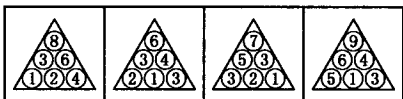
A. B. C. D.

57.



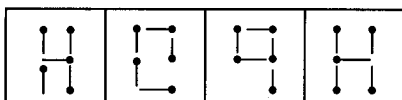
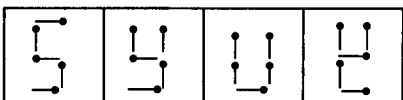
A. B. C. D.

58.



A. B. C. D.

59.

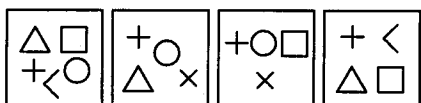
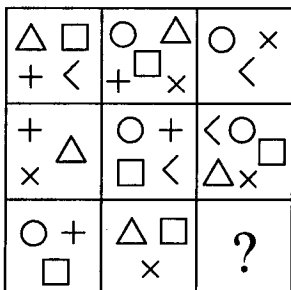


A. B. C. D.

2. 请从所给的四个选择项中, 选择最适合的一个填在问号处, 使之呈现一定的规律性。

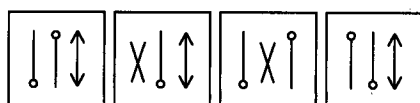
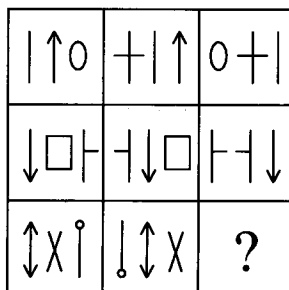
请开始答题:

60.



A. B. C. D.

61.



A. B. C. D.