

经国家教委中小学教材
审定委员会审查试用

地理 第2册

九年义务教育三年制初级中学教科书

人民教育出版社地理社会室编著



人民教育出版社出版

九年义务教育三年制初级中学教科书

地 理

第 二 册

人民教育出版社地理社会室 编著



人民教育出版社

京新登字 (113) 号

顾问: 黄秉维 侯仁之 吴传钧

主编: 陈尔寿 吴履平

编写者: 陈尔寿 徐岩 李明

韦志榕 伊才晓

地图编绘: 马宗尧 刘湘芝 博涛

绘画者: 孙平 高巍等

责任编辑: 徐岩 丁尧清

封面左上角: 地中海风光

封面底图: 北纬 26°附近尼罗河一段河谷及其周围地面的卫星照片

封底: 中、美、苏、法、英、日六国国际横穿南极大陆考察队在南极

九年义务教育三年制初级中学教科书

地 理

第二册

人民教育出版社地理社会室 编著

*

人民教育出版社出版
北京出版社重印
北京市新华书店发行
华云电子数据中心照排
北京宏伟胶印厂印刷

*

开本 787×1092 1/16 印张 8.5 插页 4 字数 110 000

1995 年 4 月第 2 版 2000 年 1 月第 5 次印刷

印数 1—11 300

ISBN 7—107—01779—9

G·3329(课) 定价: 11.00 元

如发现印装质量问题影响阅读请与北京出版社联系

电话: 6201 2334



彩 13 布隆迪民族的传统舞蹈



彩 14 几内亚女学生庆祝独立纪念日




彩 15 非洲乞力马扎罗山和山麓的热带草原



彩 16 刚果河沿岸农村



彩 17 南非黑人矿工在筛选金刚石矿砂



彩 18 科特迪瓦的首都亚穆苏克罗



彩 19 欧洲的平原




彩 22 阿尔卑斯山滑雪的人们



彩 21 荷兰的风车

彩 20 北欧的极夜

彩 23 伦敦街景(左为议会大厦)





彩 24 北海油田输油管道终端

彩 26 莱茵河的水运



彩 25 巴黎艾菲尔铁塔



彩 27 意大利罗马街头景象(右为大斗兽场遗址)

彩 29 俄罗斯东部地区的开发



彩 28 俄罗斯首都莫斯科红场



彩 30 印第安人




彩 34 美国密西西比河上的集装箱运输



彩 31 落基山一隅(加拿大)



彩 35 美国纽约港——商业中心曼哈顿岛




彩 32 加拿大的造纸工业



彩 36 亚马孙河流域

彩 33 在街上舞蹈的美国人

彩 37 安第斯山区印第安人的露天市场





彩 38 拉丁美洲香蕉丰收



彩 39 阿根廷潘帕斯草原牧场



彩 40 巴西狂欢节的街景

彩 42 南太平洋中的珊瑚岛礁




彩 41 墨西哥城

彩 43 新西兰的地热泉





彩 44 澳大利亚的羊市场




彩 45 澳大利亚悉尼歌剧院

彩 46 南极的企鹅和冰山



彩 47 中国南极中山站外景







彩 1 喜马拉雅山南麓



彩 2 印度雨季被淹没的街道



彩 3 印度恒河中沐浴圣水的人




彩 4 印度泰姬陵




彩 5 巴基斯坦的清真寺



彩 6 斯里兰卡茶园



彩 7 乌兹别克斯坦撒马尔罕的市场




彩 10 尼罗河风光



彩 8 科威特油港



彩 11 也门清真寺读可兰经的人



彩 9 阿尔及利亚市镇



彩 12 撒哈拉沙漠及沙漠中的绿洲



目 录

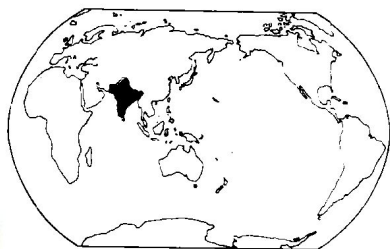
第十章	南亚	1
第一节	概述	1
第二节	印度	5
第十一章	中亚	10
第十二章	西亚和北非	15
第一节	地理位置和自然环境	16
第二节	居民和经济	19
第三节	埃及	22
第十三章	撒哈拉以南的非洲	27
第一节	自然环境	28
第二节	居民和经济	34
第十四章	欧洲西部	42
第一节	自然环境	42
第二节	国家和居民	48
第三节	德国	57
第十五章	欧洲东部和北亚	64
第一节	范围和国家	64
第二节	俄罗斯	66
第十六章	北美	74
第一节	概述	74
第二节	美国	82
第十七章	拉丁美洲	91
第一节	政区和自然环境	92
第二节	居民和经济	98
第三节	巴西	102

第十八章	大洋洲	109
第一节	概述	109
第二节	澳大利亚	111
第十九章	南极洲	116
第二十章	人类共同生活在一个地球上	123

第一节 概 述

你知道有关《西游记》的神话故事吗？历史上确有
关于唐代高僧玄奘取经真人真事的记载。他从长安（今
西安）西行，不畏艰险，过流沙，翻雪山，经西域往
南，到达佛教发源地天竺。古代的天竺就在现在的南亚
地区。

读图：读南亚政区图（图 10.2），看南亚大体在什么
山脉和什么大洋之间？大部分在什么纬度之间？南亚有
哪些国家？哪些国家同我国相邻？



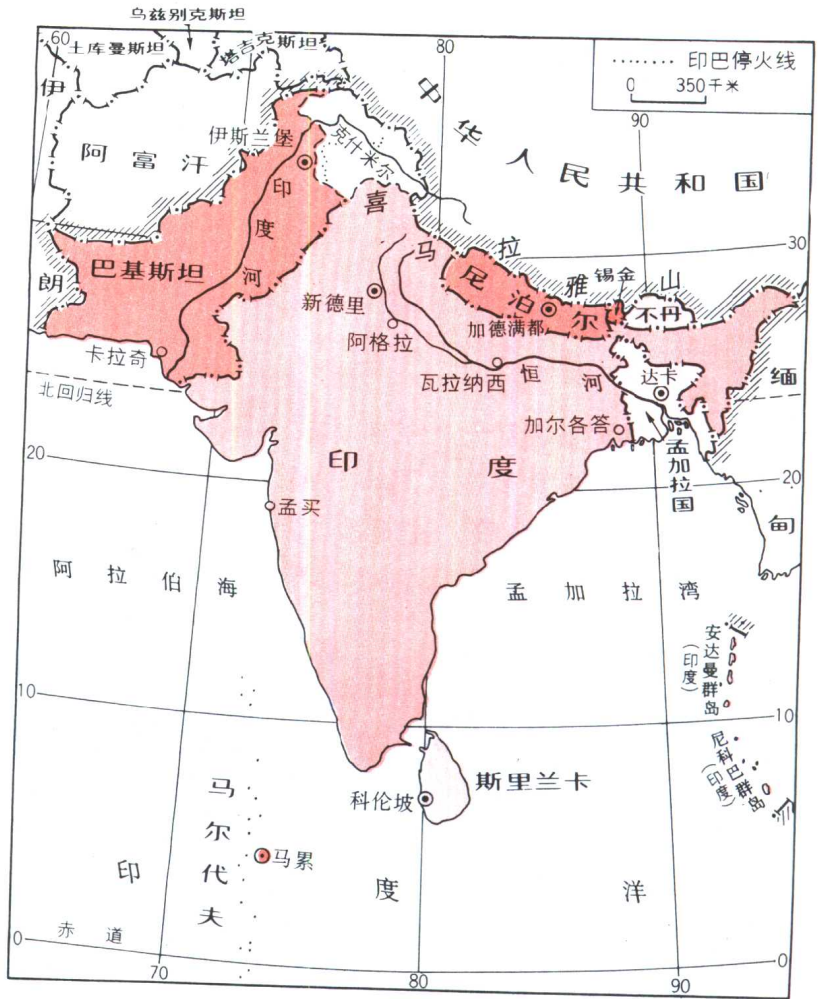
10.1 南亚在世界上的位置

悠久的历史

南亚是人类古代文明中心之一。
在印度河流域，几千年前就形成了城
市。但是从 16 世纪起，葡萄牙、英、
法国殖民主义者先后入侵，南亚绝大部分地方成为英
国的殖民地。大量矿产品、棉花、黄麻等工业原料被掠
往英国。英语也成为南亚一些国家的第二语言。第二次
世界大战以后，南亚各国先后获得独立，发展了自己的
民族经济。

**佛教和印度
教的发源地**

南亚是佛教和印度教的发源地。
目前，除了斯里兰卡居民仍多信奉佛
教以外，南亚其他国家信奉佛教的人
已不多。印度、尼泊尔等国大多数居民信奉印度教，巴
基斯坦和孟加拉国的居民多信奉伊斯兰教。



10.2 南亚的政区

读一读



在恒河中游有一座古老的城市，名叫瓦拉纳西。它是印度教的“圣地”。每个印度教徒都希望能到这里来朝圣，在这里的恒河水中沐浴（彩图3）。他们认为在恒河水中沐浴可洗掉身上的罪孽。在瓦拉纳西逝世，可以“升天堂”，所以许多老人迁居到这里度晚年，等候“升天堂”。

**三大地形区
和两大河流**

读图 10.3:

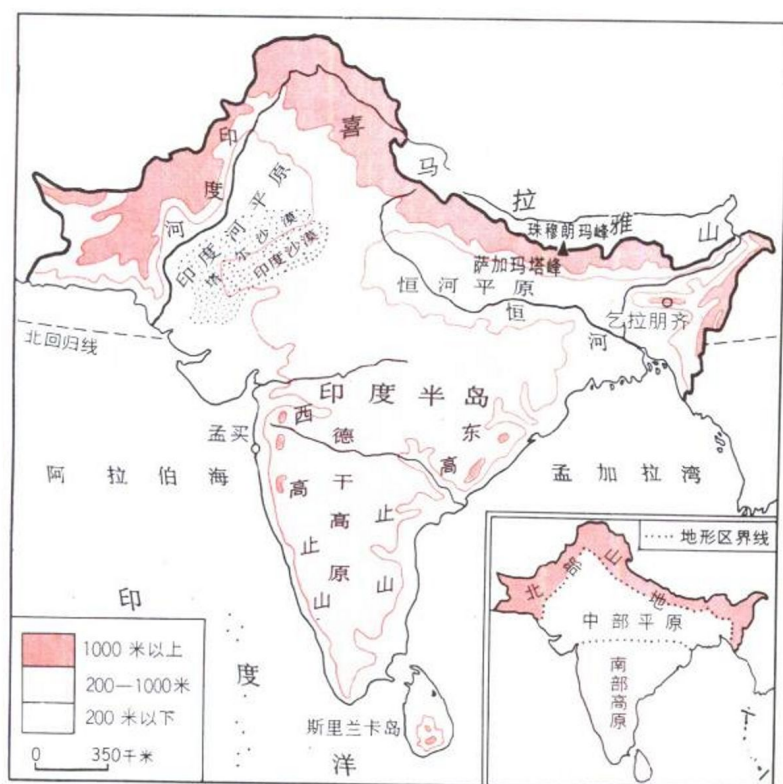
1. 南亚地形可分为哪三个主要部分？
2. 中部的平原主要由哪两条大河冲积而成？这两条大河的发源地和河口各在哪里？

积而成？这两条大河的发源地和河口各在哪里？

3. 南亚的哪些国家位于山区？哪个国家占有印度河平原的大部分？哪个国家占有德干高原和恒河平原的大部分？

4. 哪个国家位于面积较大的岛上？

南亚北部有绵延高耸的喜马拉雅山脉屏立。它把南亚同亚洲大陆的其他部分隔开。人们把喜马拉雅山以南直至印度洋这一部分称为“南亚次大陆”。喜马拉雅山南坡的地势逐级下降，成为崎岖而狭长的一带山地。



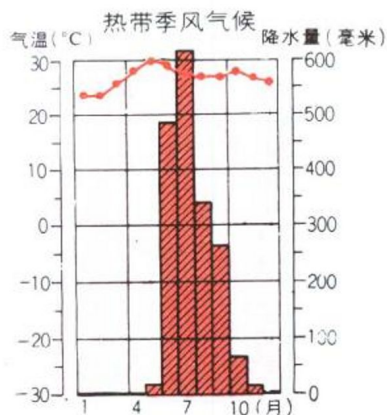
10.3 南亚的地形

中部平原由印度河和恒河冲积而成，西起阿拉伯海岸，略成弧形，向东延伸至孟加拉湾。平原面积广大，是南亚的主要农业区和人口密集区。

印度半岛大部分被德干高原所占据，西部略高，东部略低。沿海有狭窄的平原。半岛以南的印度洋中有斯

里兰卡岛。

印度河源出我国西藏，向西南流经南亚西部的干旱地区，注入阿拉伯海。它是巴基斯坦重要的灌溉水源。恒河自西北喜马拉雅山区流向东南，大部分在印度境内，下游流经孟加拉国，注入孟加拉湾。河口有恒河三角洲。



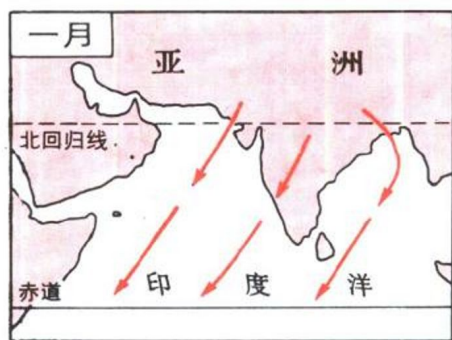
10.4 孟买各月气温与降水量的分配

热带季风气候与农业

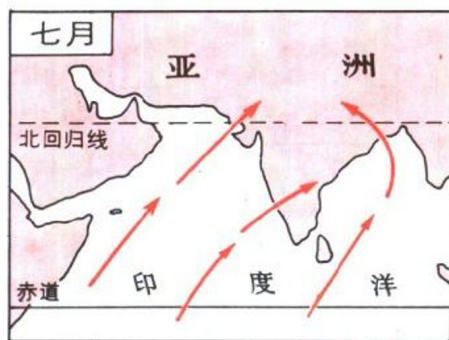
读图 10.4: 孟买是印度的一座城市。请根据图上各月的气温状况和降水季节分配，说明它的气候特点。

南亚大部分属热带季风气候。从图 10.2 中可以看出，南亚的大部分地区位于北纬 $10^{\circ}\sim 30^{\circ}$ 之间，多属热带。因为北面有高山屏障，气温比同纬度地区偏高。

南亚各地的降水量相差很大。一般来说，迎风坡降水较多。印度东北部的乞拉朋齐，年平均降水量有 11 000 多毫米，是世界上降水最多的地区之一。南亚西北部降水稀少，气候干燥，加上古代原始森林遭到破坏，地面缺乏植物保护，形成沙漠。



10.5 南亚一月风向



10.6 南亚七月风向



哪个风向的季风给南亚带来了大量的降水？为什么？

南亚的降水受季风的影响。每年 6 月~9 月盛行西南季风，为雨季（图 10.6）。10 月~次年 5 月（图