

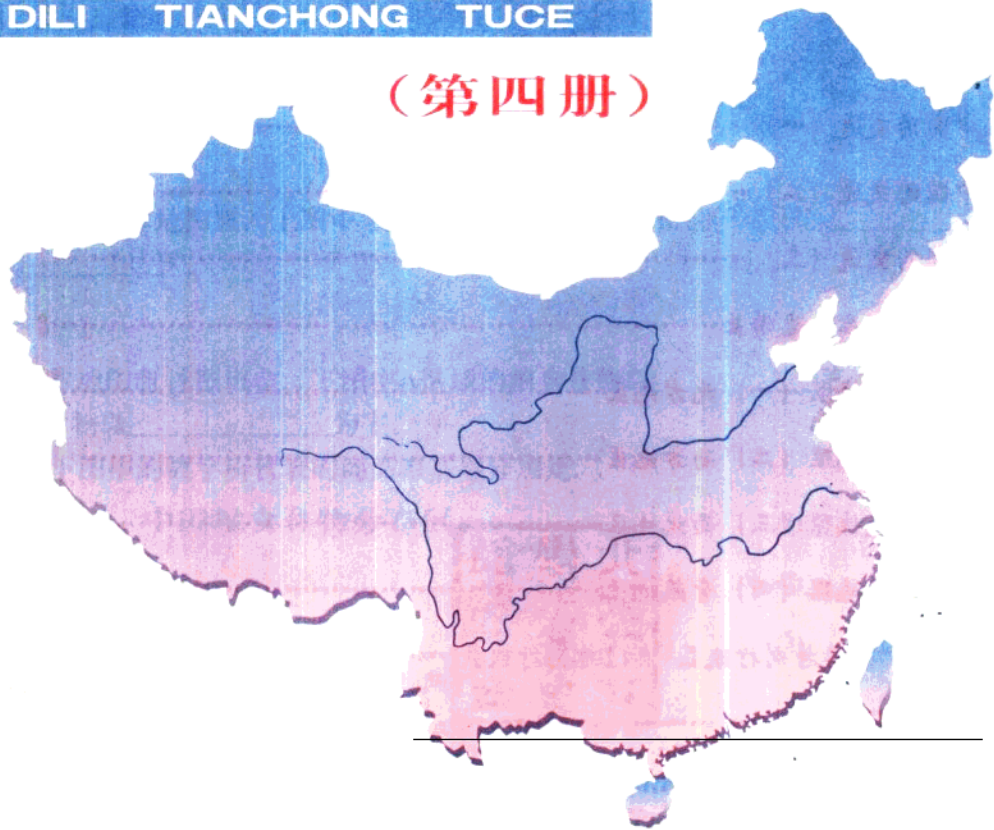
国家教委中小学教材审定委员会审查通过

九年义务教育  $\begin{matrix} \text{三年制} \\ \text{四年制} \end{matrix}$  初级中学试用

# 地理填充图册

DILI TIANCHONG TUCE

(第四册)



班级：

人民教育出版社  
中国地图出版社

合编出版

姓名：

学号：

九年义务教育 <sup>三年制</sup> 初级中学试用  
四年制

**地理填充图册(第四册)**

人民教育出版社  
中国地图出版社 合编出版

北京市新华书店发行

顺义向阳胶印厂印刷

787×1092 16开 1.5印张

2000年12月第2版 2001年1月第1次印刷

印数 1—11 000

ISBN 7-5031-2388-5/G·1312

CS(1997)178号 定价:1.50元(A)

本图册中国国界线系按照我社1989年出版的  
1:400万《中华人民共和国地形图》绘制

如发现印装质量问题影响阅读请与北京出版社联系

电话:62012334

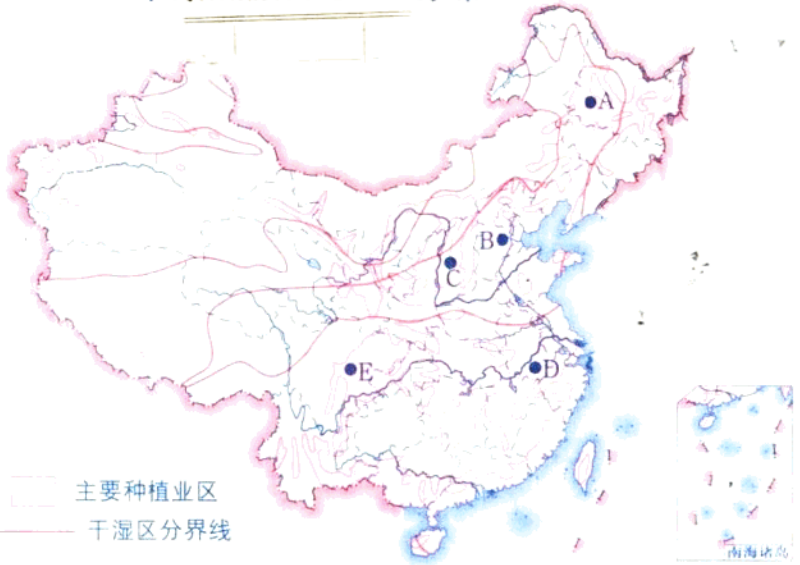
# 目 次

中国的农业 (一)	1
中国的农业 (二)	2
中国的农业 (三)	3
中国的工业	4
中国的交通 (一)	5
中国的交通 (二)	6
中国的交通 (三)	7
中国的商业和旅游业	8
中国区域地理 (一) 北方地区	9
中国区域地理 (二) 南方地区	11
中国区域地理 (三) 西北地区	13
中国区域地理 (四) 青藏地区	15
台湾省 香港特别行政区 澳门特别行政区	17
中国在世界中	18
综合练习	19
省区地理	20

中国日期前将书还回 分布

1. 填空: 右图中种植业区A、B、C、D、E所处的地形分别是:

- A \_\_\_\_\_ 平原;
- B \_\_\_\_\_ 平原;
- C \_\_\_\_\_ 高原;
- D \_\_\_\_\_ 平原;
- E \_\_\_\_\_ 盆地。



2. 将右图中我国干湿区的分界线用色笔加粗。

3. 填空: 看地图册, 上图中我国的种植业区主要分布在(干湿区) \_\_\_\_\_ 区和 \_\_\_\_\_ 区。

4. 看地图册读图填空: 下图中A区域的粮食作物以 \_\_\_\_\_ 为主, B区域的粮食作物以 \_\_\_\_\_ 为主。

5. 下图中的数字所代表的商品粮基地分别是:

中国粮食作物分布区



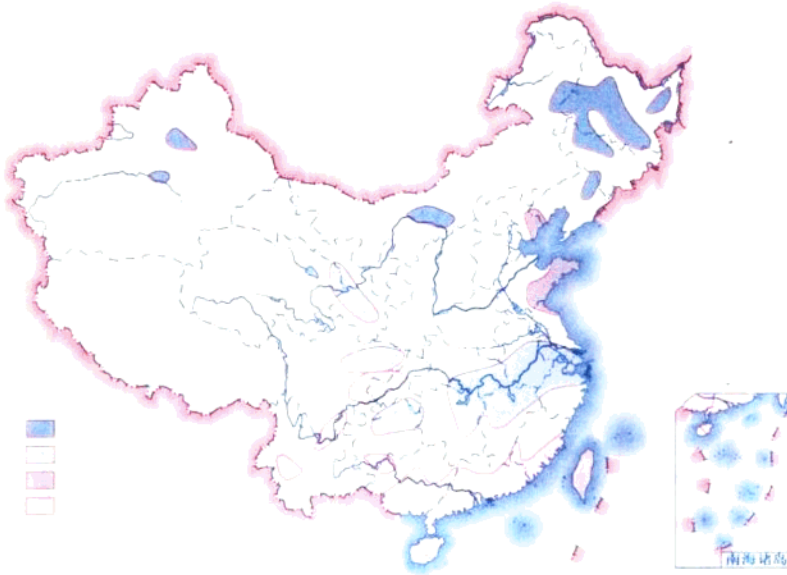
- ① \_\_\_\_\_;
- ② \_\_\_\_\_;
- ③ \_\_\_\_\_;
- ④ \_\_\_\_\_;
- ⑤ \_\_\_\_\_;
- ⑥ \_\_\_\_\_;
- ⑦ \_\_\_\_\_;
- ⑧ \_\_\_\_\_;
- ⑨ \_\_\_\_\_。

061812

h5232/06



中国油料、糖料作物主要分布区



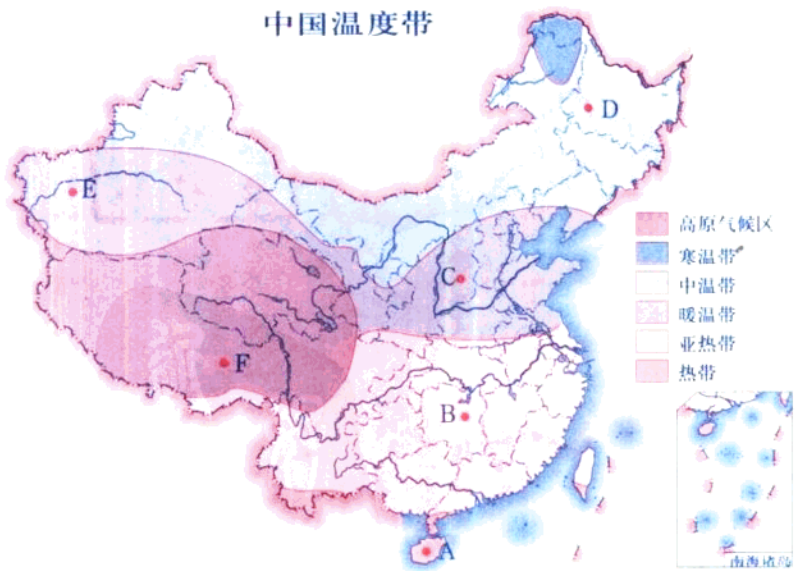
1. 判断: 左图中分别表示了哪四种经济作物的集中产区, 将名称填注在相应的图例旁。

2. 填空: 图内表示的经济作物集中产区中分布在秦岭—淮河以南的作物有\_\_\_\_\_; 分布在秦岭—淮河以北的作物有\_\_\_\_\_。

3. 填空: 下列地区分别以哪种油料作物或糖料作物为主?

台湾岛\_\_\_\_\_; 黑龙江\_\_\_\_\_;  
 山东\_\_\_\_\_; 长江三角洲\_\_\_\_\_。

4. 读图连线: 根据右图中下列地点所处的位置, 将它们与对应的作物熟制用直线连起来。



- A 一年两熟
- B 二年三熟
- C 一年一熟
- D 一年三熟
- E
- F



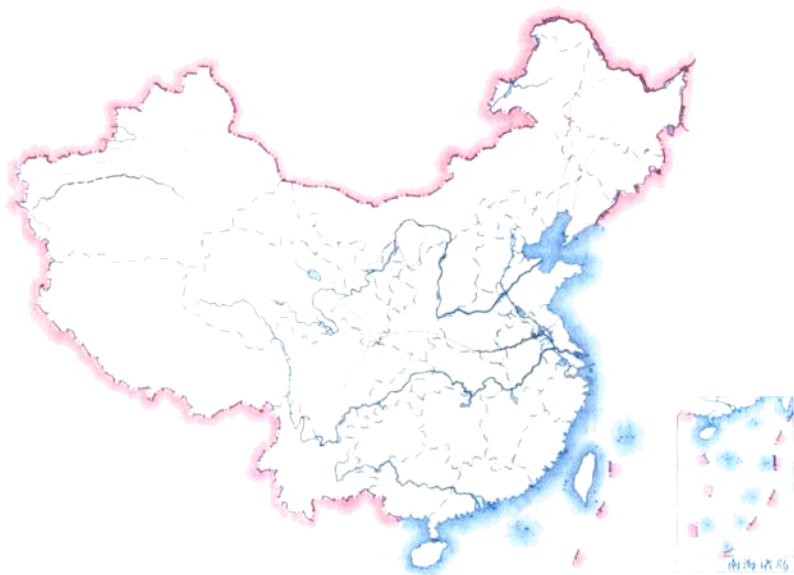
1. 判断: 右图中哪些区域为我国的棉花集中产区, 将它们涂上颜色。



2. 读图填空:  
我国棉花集中产区  
主要分布在\_\_\_\_\_  
流域和\_\_\_\_\_流  
域。

3. 将下图中我国的水稻、小麦集中产区分别涂上不同的颜色。

4. 填空: 我国的小麦主要分布在\_\_\_\_\_地区, 水稻主要分布在\_\_\_\_\_地区。



5. 填空: 以  
我国的\_\_\_\_\_  
一线为界, 以  
北地区主要是旱  
地, 以南地区主  
要是水田。





1. 在图中的□内填注城市名称。

2. 将新中国成立以前原有的工业城市符号涂上颜色。

3. 在图中□内填注我国四大工业基地名称。

4. 读图判断：下面的说法是否正确。

(1) 新中国成立以前，我国工业主要分布在沿海地区，内陆地区只在长江沿线有一些工业。( )

(2) 新中国成立以后，我国在内地兴建了许多工业中心，但这些工业中心主要分布在我国东半部。( )

(3) 我国四大工业基地都分布在沿海。( )

(4) 我国四大工业基地是在新中国成立以前原有的工业基地上扩建起来的。( )

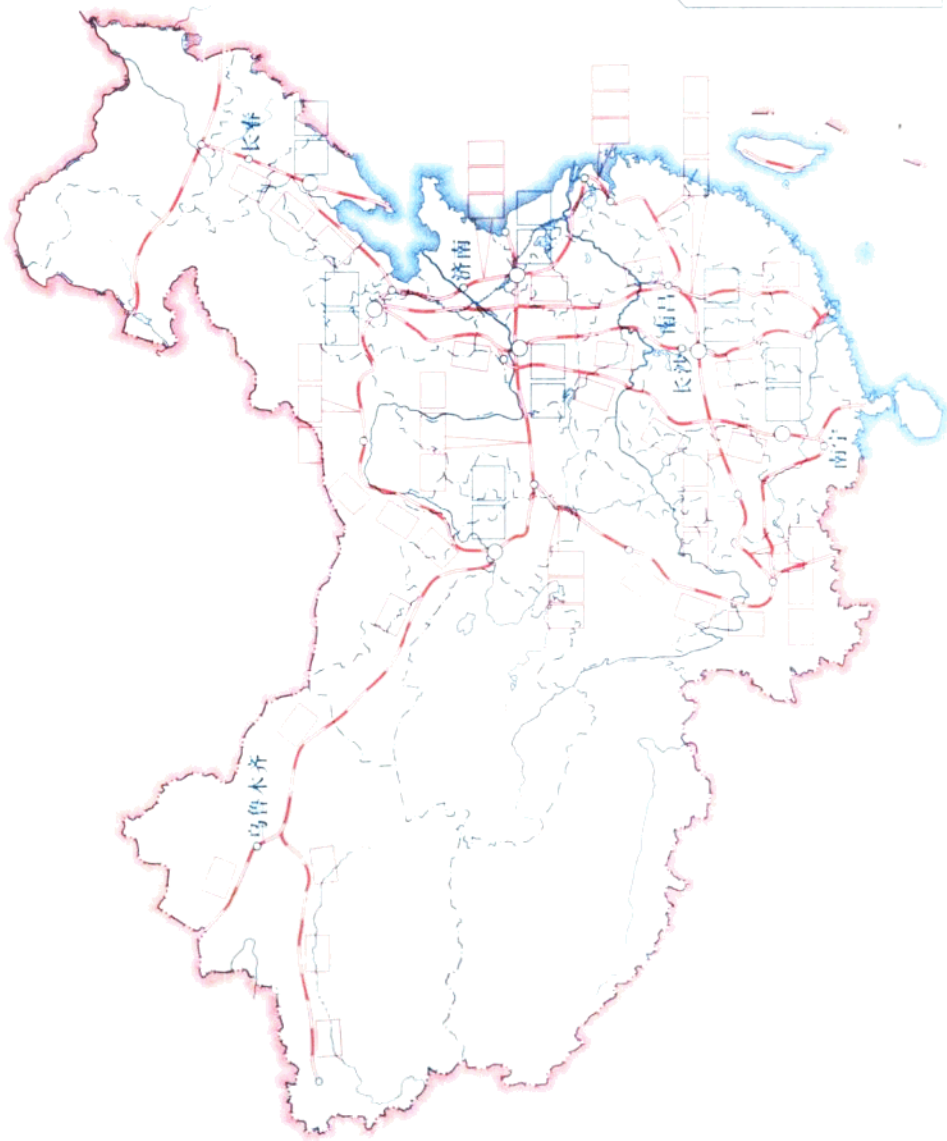
## 中国主要铁路分布

1. 在左图中填注我国主要铁路干线名称。

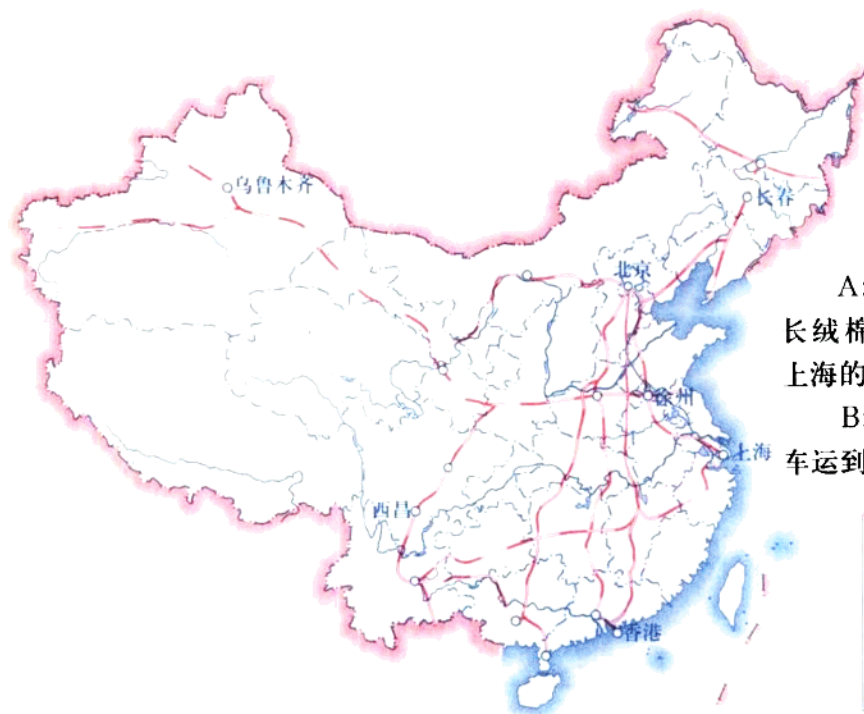
2. 找出左图中用符号○表示的铁路枢纽，将它们涂上颜色，并填注名称。

3. 读图，写出经过下列城市的铁路干线名称：

- 长春\_\_\_\_\_；
- 济南\_\_\_\_\_；
- 长沙\_\_\_\_\_；
- 南宁\_\_\_\_\_；
- 乌鲁木齐\_\_\_\_\_；
- 南昌\_\_\_\_\_。



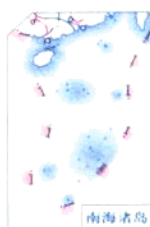




1. 若用火车发运下列货物, 应选择左图中哪些铁路线? 将它们用红色笔加粗。

A: 将新疆的羊毛和长绒棉从乌鲁木齐运到上海的纺织厂;

B: 将长春生产的汽车运到徐州。



2. 乘火车作下列旅行, 应选择哪条铁路线, 将它们用蓝色笔加粗。

A: 从北京到香港旅游;

B: 从上海到西昌去看卫星发射。

3. 在下图中将京杭运河可通航段及我国能通航500吨以上轮船的河段用兰色笔加粗。



4. 图中字母所表示的河港分别为:

A \_\_\_\_\_;

B \_\_\_\_\_;


C \_\_\_\_\_;

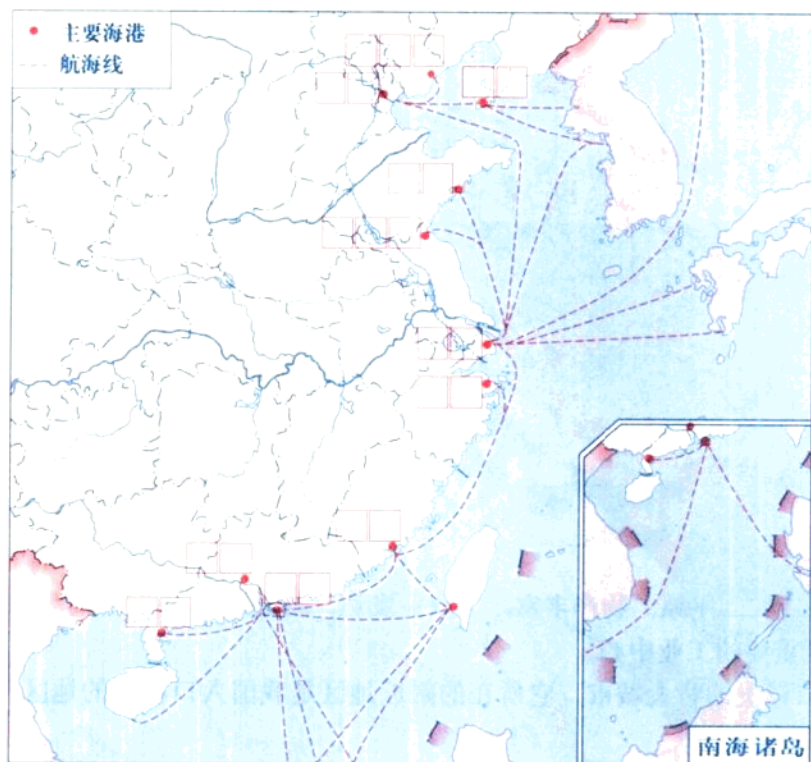
D \_\_\_\_\_;

E \_\_\_\_\_;

F \_\_\_\_\_。

上述河港中 \_\_\_\_\_ 属于长江水系, E、F分别属于 \_\_\_\_\_ 水系和 \_\_\_\_\_ 水系。






1. 在左图中填注港口的名称。

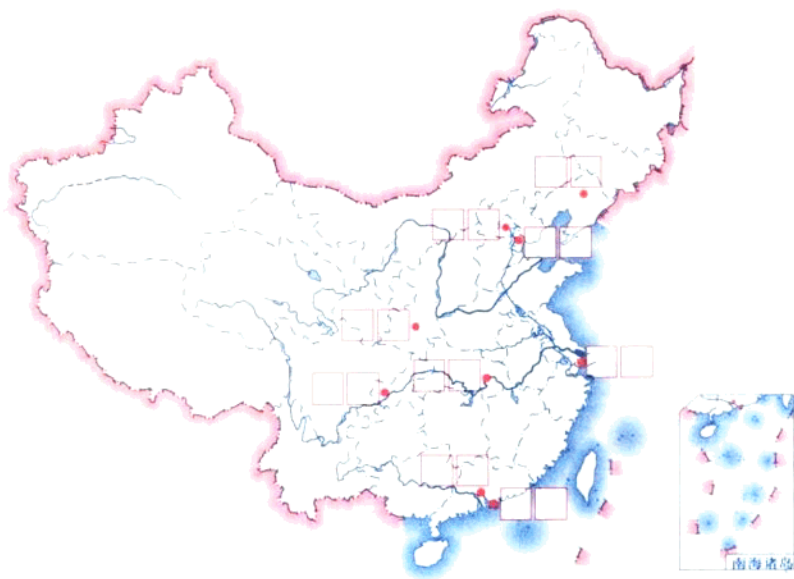
2. 左图中既是海港又是河港的港口是\_\_\_\_\_。

3. 对照图册回答问题：

(1)右图中A、B、C、D四个航空港中哪三个是我国主要国际航空港？

(2)参照课本，画出我国主要的国际航空线。





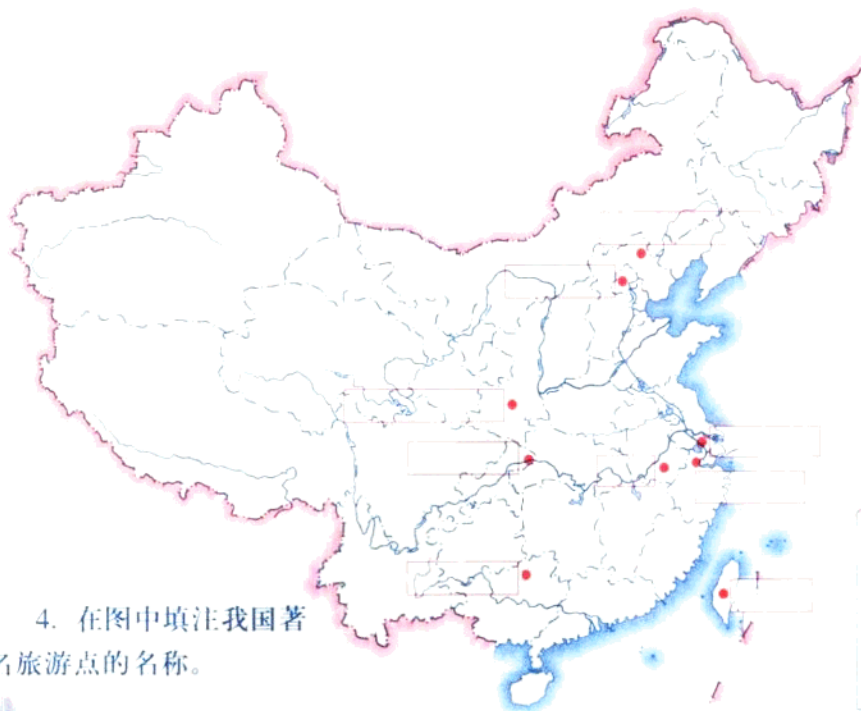
1. 在左图中填注我国的商业中心名称。

2. 填空：分析武汉成为商业中心的条件：

(1)武汉交通便利，有沟通我国南北交通的铁路大动脉\_\_\_\_\_线经过，它本身又是\_\_\_\_\_水系的重要港口。

(2)武汉位于\_\_\_\_\_平原，物产丰富，工农业发达，附近有\_\_\_\_\_（商品粮生产基地），是华中地区重要的工业中心。

(3)武汉是百万人口以上的特大城市，它所在的附近地区是我国人口稠密的地区，人口密度在\_\_\_\_\_以上。



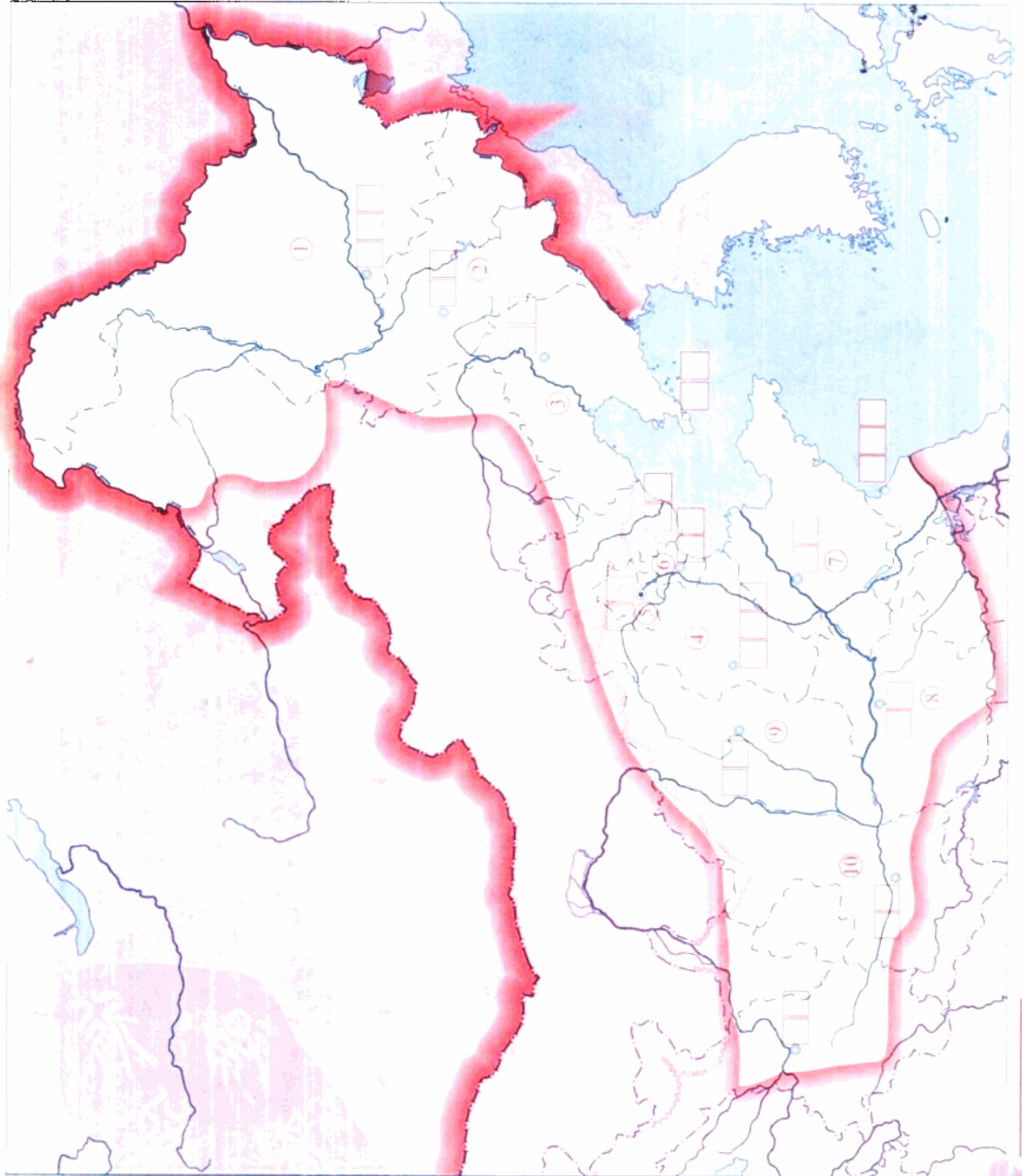
3. 读图填空：桂林山水位于\_\_\_\_\_区；承德避暑山庄位于\_\_\_\_\_省；杭州西湖位于\_\_\_\_\_省；长江三峡位于\_\_\_\_\_市与\_\_\_\_\_省的交界处。

4. 在图中填注我国著名旅游点的名称。

1. 在图中□内  
填注城市名称。

2. 图中数字所  
代表的省级行政单  
位分别为:

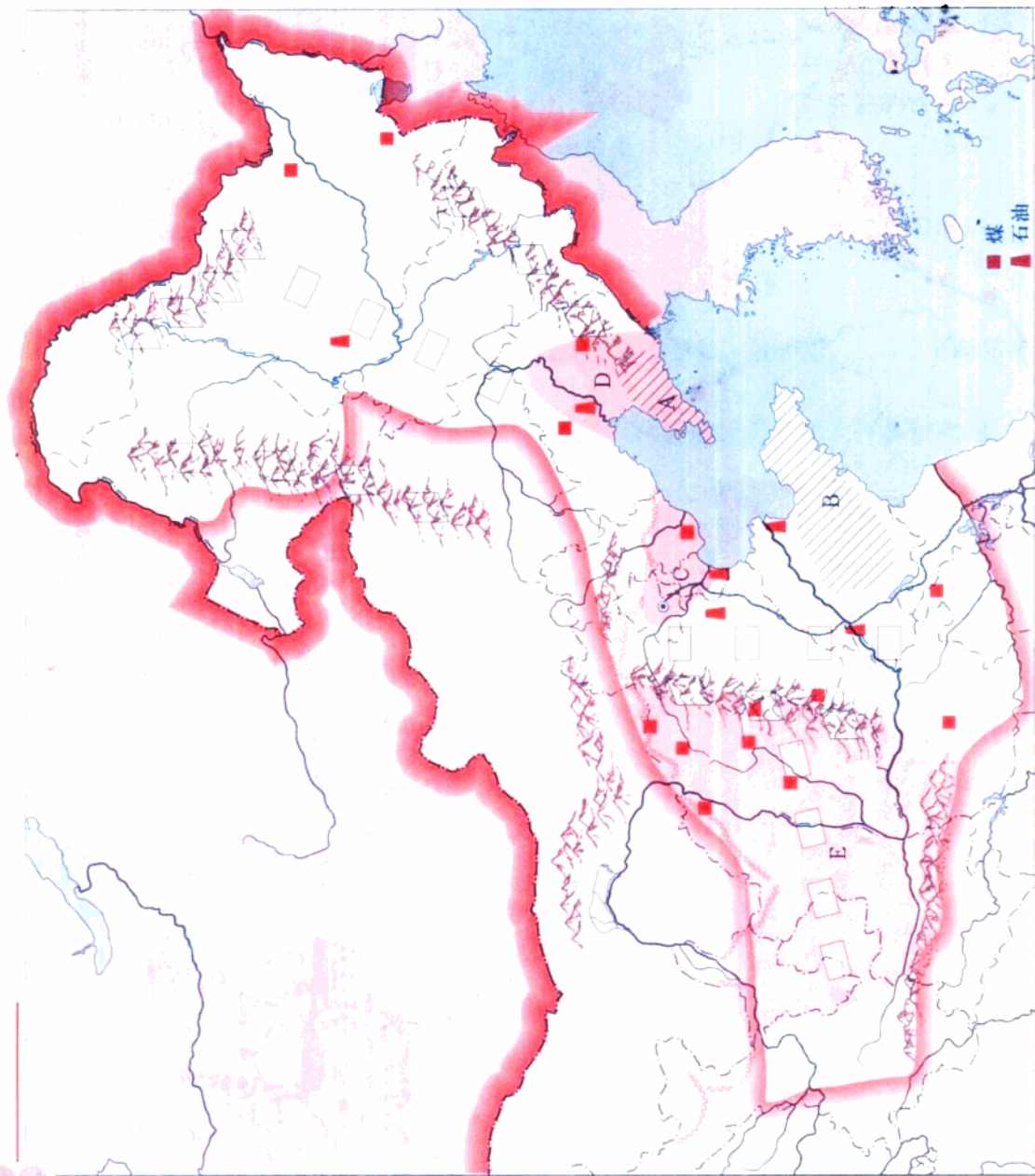
- ① \_\_\_\_\_
- ② \_\_\_\_\_
- ③ \_\_\_\_\_
- ④ \_\_\_\_\_
- ⑤ \_\_\_\_\_
- ⑥ \_\_\_\_\_
- ⑦ \_\_\_\_\_
- ⑧ \_\_\_\_\_
- ⑨ \_\_\_\_\_
- ⑩ \_\_\_\_\_



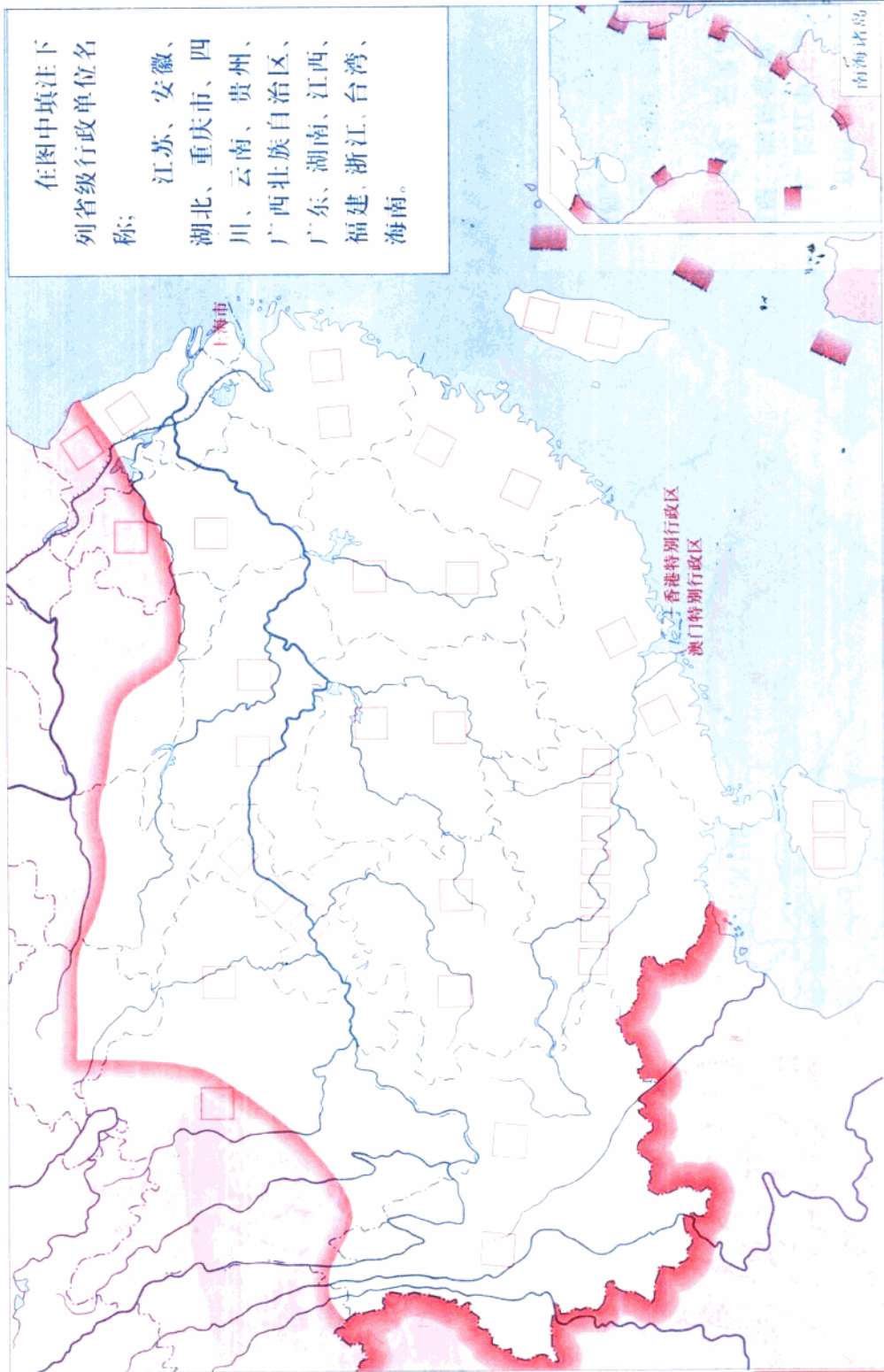
1. 在左图中填  
注：黄土高原、华  
北平原、东北平原；  
大小兴安岭、长白山、  
太行山。图中A、B  
区域分别为\_\_\_\_\_丘  
陵和\_\_\_\_\_丘  
陵。

2. 从图上来看，  
北方地区的矿产资源  
主要有\_\_\_\_\_和\_\_\_\_\_。

3. 图中区域C、  
D分别是\_\_\_\_\_工  
业基地和\_\_\_\_\_  
业基地，E是全国  
最大的\_\_\_\_\_基地。







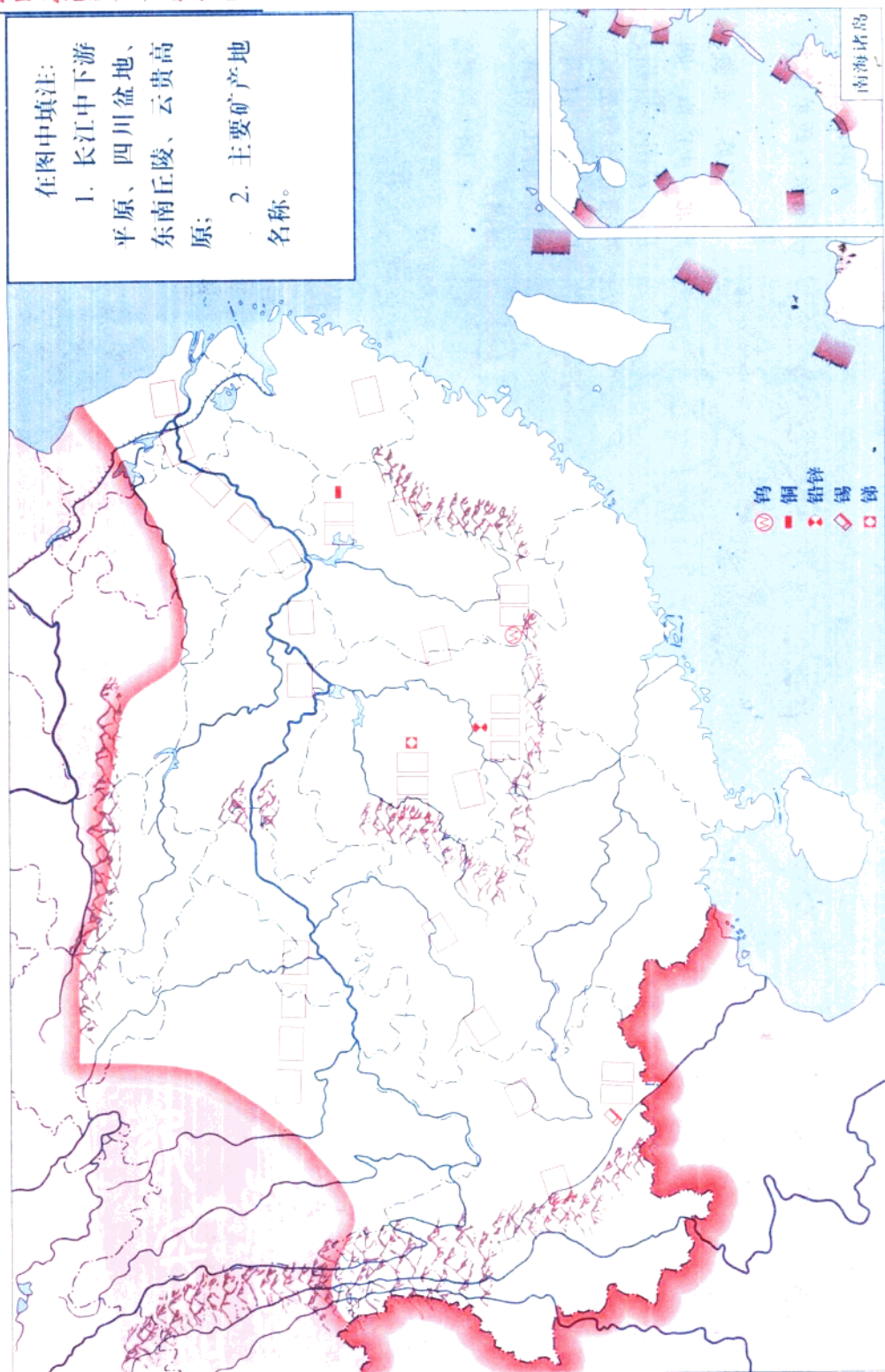
在图中填注下列省级行政单位名称;

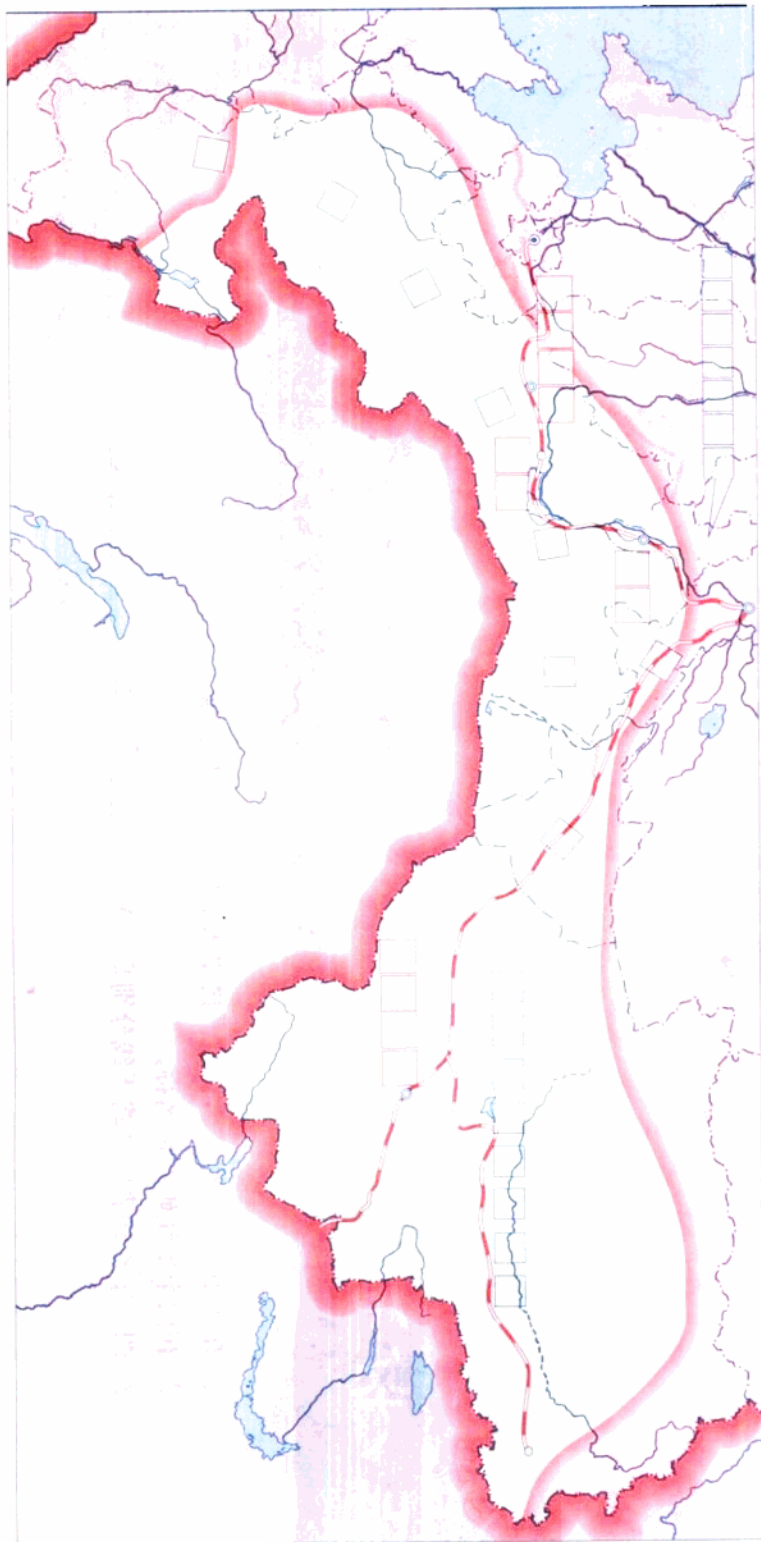
- 江苏、安徽、
- 湖北、重庆市、四
- 川、云南、贵州、
- 广西壮族自治区、
- 广东、湖南、江西、
- 福建、浙江、台湾、
- 海南。



在图中填注:

1. 长江中下游平原、四川盆地、东南丘陵、云贵高原;
2. 主要矿产名称。

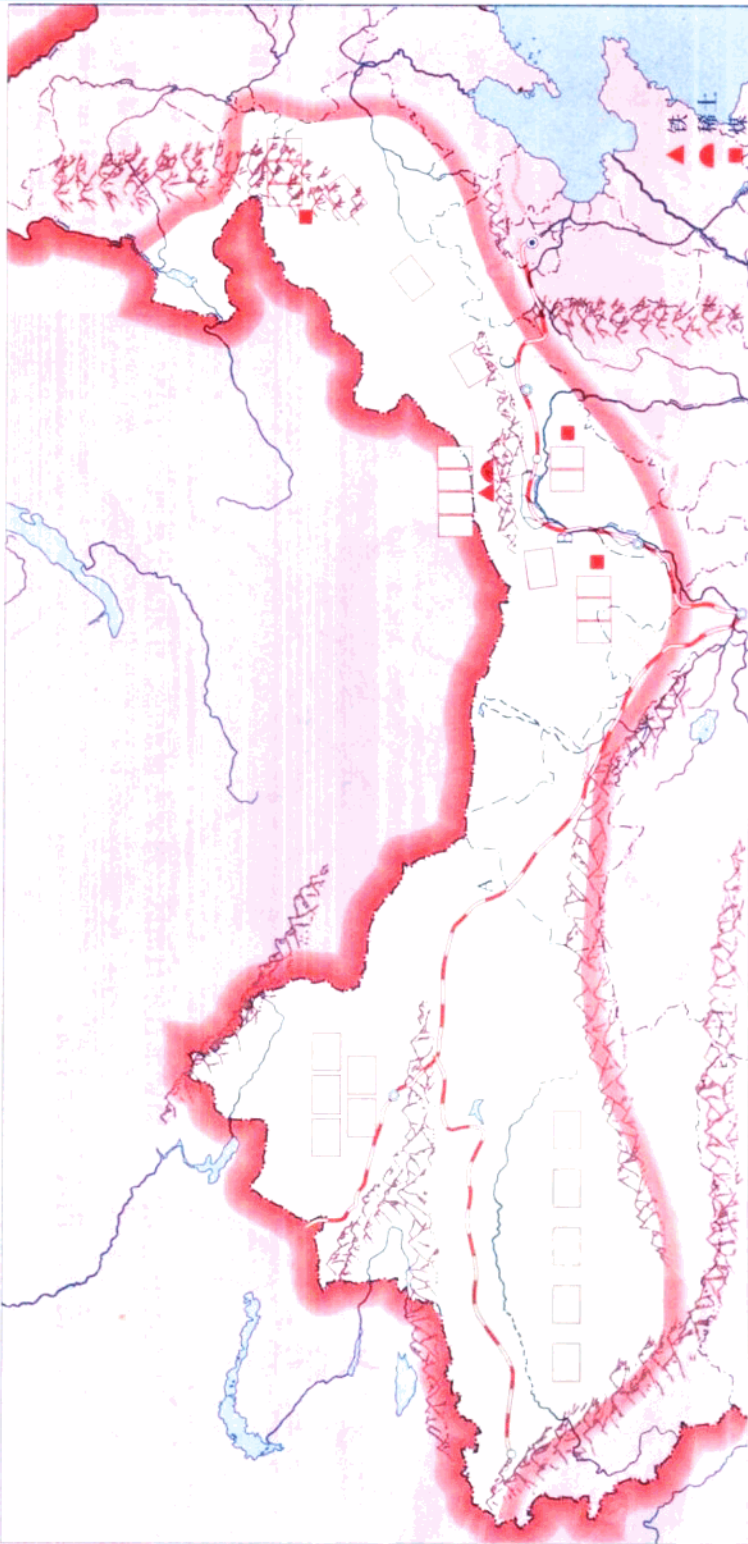




1.在图中□填注: 新疆维吾尔自治区、内蒙古自治区、甘肃、宁夏回族自治区;

2.在图中□内填注城市名称。





1. 在图中填注：内蒙古高原、塔里木盆地、准噶尔盆地。
2. 在图中填注矿产地名。
3. 图上字母代表的铁路干线分别是：A \_\_\_\_\_； B \_\_\_\_\_； C \_\_\_\_\_。