

海 淀 同 步 练 与 测 2003

■ 课课练

■ 单元测

■ 期中期末考

分 课 时 A B 卷

# 海淀随堂 大验收

**小学数学**

五年制（第四册）

吉林教育出版社  
中国少年儿童出版社

海 淀 同 步 练 与 测 2 0 0 3

分 课 时 A B 卷

# 海淀随堂 大验收

## 小学数学

五年制（第四册）

吉林教育出版社  
中国少年儿童出版社

(吉)新登字 02 号

本册作者 刘元会

海淀同步练与测·海淀随堂大验收  
小学数学(五年制·第四册)

---

责任编辑:王世斌 杨冬絮

封面设计:徐欣

---

出版:吉林教育出版社 787×1092毫米 16开本 5.75印张 121千字

发行:吉林教育出版社 2003年1月修订版 2003年1月第2次印刷

本次印数:15000册 定价:5.80元

印刷:衡水华源印刷厂 ISBN 7-5383-3835-7/G·3470

---

# 目 录

<b>第一单元 万以内的加法和减法(二)</b> .....	(1)
1. 笔算加法(1) .....	(1)
2. 笔算加法(2) .....	(2)
3. 连加 .....	(4)
4. 应用题(1) .....	(6)
5. 应用题(2) .....	(8)
6. 笔算减法 .....	(10)
7. 连续退位减 .....	(12)
8. 中间、末尾有零的退位减 .....	(13)
9. 整理和复习 .....	(15)
单元测试题 .....	(17)
<b>第二单元 一个因数是一位数的乘法</b> .....	(19)
1. 口算乘法 .....	(19)
2. 二、三位数乘一位数(1) .....	(21)
3. 二、三位数乘一位数(2) .....	(23)
4. 二、三位数乘一位数(3) .....	(25)
5. 一个因数的中间有零 .....	(27)
6. 一个因数的末尾有零 .....	(29)
7. 整理和复习 .....	(31)
8. 单元测试题 .....	(33)
<b>第三单元 除数是一位数的除法</b> .....	(35)
1. 口算除法 .....	(35)
2. 用一位数除商二位数(1) .....	(37)
3. 用一位数除商二位数(2) .....	(39)

4. 用一位数除商三、四位数 .....	(41)
5. 除法的验算 .....	(43)
6. 商中间有零 .....	(45)
7. 商末尾有零 .....	(47)
8. 整理和复习 .....	(48)
单元测试题 .....	(50)
<b>期中测试题</b> .....	(53)
<b>第四单元 时、分、秒</b> .....	(57)
1. 时、分、秒的认识 .....	(57)
2. 时间的简单计算 .....	(59)
<b>第五单元 混合运算和两步应用题</b> .....	(61)
1. 混合运算 .....	(61)
2. 应用题(1) .....	(63)
3. 应用题(2) .....	(65)
4. 应用题(3) .....	(67)
5. 整理和复习 .....	(69)
单元测试题 .....	(71)
<b>第六单元 长方形、正方形和平行四边形</b> .....	(73)
1. 长方形、正方形和平行四边形 .....	(73)
2. 长方形和正方形的周长 .....	(75)
单元测试题 .....	(77)
<b>期末测试题</b> .....	(79)
<b>部分参考答案</b> .....	(83)

## 第一单元 万以内的加法和减法(二)

### 1. 笔算加法(1)



#### 一、口算

$45 + 27 =$

$91 - 24 =$

$450 + 200 =$

$320 + 70 =$

$840 - 500 =$

$670 - 60 =$

$390 + 80 =$

$520 - 70 =$

$800 + 500 =$

$50 + 460 =$

$1200 - 700 =$

$800 + 80 =$

$630 + 70 =$

$820 - 80 =$

$750 - 600 =$

$340 + 400 =$

#### 二、笔算下面各题

$241 + 358 =$

$904 + 84 =$

$827 + 325 =$

$2654 + 438 =$

$635 + 283 =$

$287 + 4491 =$

三、甲数是 724,乙数是 1085,甲乙两个数的和是多少?

四、李村修一条公路,已经修了 724 米,还剩下 2095 米没有修。这条公路长多少米?

五、一列火车上有乘客 1300 人,到一个大站下车 400 人,又上车 578 人。这时车上有乘客多少人?

 **B卷****一、笔算下面各题**

$736 + 2253 =$

$2807 + 688 =$

$3005 + 869 =$

$857 + 239 =$

$425 + 735 =$

$2567 + 2826 =$

二、一个加数是 1037,另一个加数是 662,和是多少?

三、操场上有 26 个同学在踢毽子,又来了 12 个同学。这时踢毽子的人数恰好是跳绳人数的一半。跳绳的有多少个同学?

**四、在□里填上适当的数字**

$$\begin{array}{r} \square 6 \square \\ + 5 \square 7 \\ \hline 899 \end{array}$$

$$\begin{array}{r} 534 \\ + 2\square\square \\ \hline \square 28 \end{array}$$

$$\begin{array}{r} 2\square 6 \\ + 59\square \\ \hline \square 99 \end{array}$$

五、从 2222、3333、4444、5555、6666 五个数中选出四个数填在下面的括号里,使等式成立。

$(\quad) + (\quad) = (\quad) + (\quad)$

六、用 1、2、3、4、5、6 六个数字写出三位数加三位数的加法算式,能写几个就写几个。

**2. 笔算加法(2)** **A卷****一、填空**

1. 调换( )的位置,和不变。

2. 用( )的方法可以验算加法做得对不对。

二、验算下面各题,把不对的改正过来

$$\begin{array}{r} 2874 \\ + 319 \\ \hline 2193 \end{array}$$

$$\begin{array}{r} 1745 \\ + 3734 \\ \hline 5479 \end{array}$$

三、计算下面各题,并且验算

$639 + 574 =$

$4285 + 856 =$

$6208 + 2847 =$

$3829 + 4921 =$

四、同学们分成 9 组到街上打扫卫生,每组 8 人。其中女同学有 39 人,男同学有多少人?

五、粮店运来面粉 1500 千克,第一天卖出 379 千克,第二天卖出 487 千克。两天卖出多少千克?

六、一本书,小英每天读 8 页,读了 7 天,还剩 62 页。这本书共多少页?

 **B 卷**

一、笔算下面各题

$674 + 285 =$

$2937 + 458 =$

$698 + 3759 =$

$906 + 879 =$

$2463 + 537 =$

$1846 + 5739 =$

二、应用题

1. 小明看一本故事书,从星期二到星期五一共看了 24 页。他平均每天看几页?



2. 菜店原有黄瓜 34 千克, 又运来 148 千克。卖出一些后还剩 29 千克。卖出多少千克?
3. 妈妈带了一些钱为王芳买衣服。买上衣用了 85 元, 买裤子用了 48 元, 用去的钱数正好和剩下的钱数同样多。妈妈原来有多少钱?
4. 学校买来 98 张彩纸, 做花和做小旗各用去了 35 张, 还剩多少张?
5. 商店有 600 条毛巾, 卖了 5 天后还剩 125 条, 又运来 750 条。这时, 商店有多少条毛巾?

### 3. 连加



#### 一、口算

$35 + 49 =$

$87 - 68 =$

$340 + 80 =$

$250 + 500 =$

$740 - 50 =$

$140 - 60 =$

$500 + 700 =$

$370 + 70 =$

$5 \times 7 + 4 =$

$8 \times 8 + 6 =$

$4 \times 7 + 2 =$

$5 \times 9 + 5 =$

$4 + 6 + 3 =$

$5 + 4 + 6 =$

$9 + 2 + 8 =$

$7 + 5 + 5 =$

#### 二、笔算下面各题

$68 + 97 + 254 =$

$382 + 576 + 1085 =$

$3185 + 677 + 2036 =$

#### 三、列式计算下面各题

1. 甲数是 806, 乙数和丙数都是 2803, 三个数的和是多少?

2. 三个加数都是 957, 和是多少?

#### 四、应用题

1. 商店运来一批白糖,第一天卖出 658 袋,第二天卖出 753 袋,还剩 589 袋。这批白糖一共有多少袋?
2. 学校举行优秀作业展览。低年级有 19 本,中年级有 28 本,高年级有 34 本。要把这些作业均匀地摆成 9 行,每行要摆多少本?

### B 卷

#### 一、笔算

$$209 + 725 + 2843 =$$

$$378 + 659 + 264 =$$

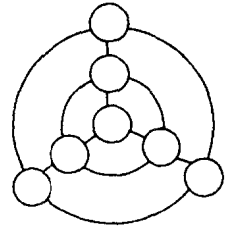
$$4050 + 567 + 827 =$$

- 二、甲、乙、丙三个数的和是 100,其中甲、乙两个数的和是 75,乙、丙两个数的和是 52。甲、乙、丙三个数各是多少?

#### 三、应用题

1. 工程队修一条长 4000 米的公路,第一周修了 1254 米,第二周修了 998 米,第三周修了 1049 米,三周修了多少米?
2. 二年级 3 个班共有学生 182 人,其中二(1)班和二(2)班共有 122 人。二(3)班男生有 34 人,女生有多少人?
3. 一套《中国少年儿童百科全书》175 元。王老师带了 600 元钱,要买 3 套,够不够用?

四、把 30、40、50、60、70、80、90 这七个数填入右面的小圆圈里,使每条直线上和每个圆周上三个数的和相等。



#### 4. 应用题(1)



##### 一、口算

$36 + 47 =$

$370 + 400 =$

$900 - 40 =$

$560 - 300 =$

$360 + 60 =$

$76 - 58 =$

$610 - 50 =$

$840 + 80 =$

$5 \times 6 + 4 =$

$8 \times 6 + 7 =$

$3 \times 9 + 6 =$

$2 \times 6 + 3 =$

##### 二、列式解答下面各题

1. 1490 比 670 多多少?

2. 比 380 多 464 的数是多少?

##### 三、笔算下面各题

$2537 + 648 =$

$659 + 783 =$

$557 + 4606 =$

##### 四、应用题

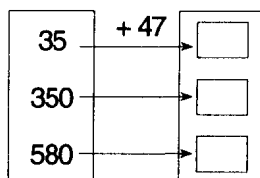
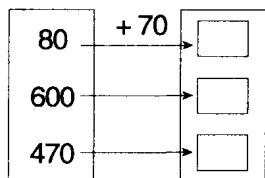
1. 爸爸和妈妈一起包饺子。爸爸包了 78 个,妈妈比爸爸多包了 15 个。妈妈包了多少个?

2. (1) 学校买来彩色粉笔 50 盒,买来的白色粉笔比彩色粉笔多 250 盒。买来白色粉笔多少盒?

(2)学校买来彩色粉笔 50 盒,白色粉笔 300 盒。买来的彩色粉笔比白色粉笔少多少盒?

## B 卷

### 一、填方格



### 二、应用题

1. (1)水池里有 260 条黄金鱼,340 条红金鱼,红金鱼比黄金鱼多多少条?

(2)水池里的红金鱼比黄金鱼多 80 条。黄金鱼有 260 条,红金鱼有多少条?

2. 小明和小蕾都在集邮。小明有邮票 120 张,如果再收集 15 张,正好与小蕾的邮票张数相等。小蕾有邮票多少张?

3. 学校图书室有科技书 870 本,比故事书多 35 本。学校图书室有故事书多少本?

4. 小英有 65 本儿童读物,爸爸又给她买了 15 本,妈妈又给她买了 12 本。小英的儿童读物比原来多了多少本?

5. 一个两层书架,上面一层放了 38 本书,如果从下面一层拿出 5 本放入上层,两层的本数同样多。下面一层放了几本书?

## 5. 应用题(2)



### 一、口算

$45 + 29 =$

$240 + 80 =$

$400 + 800 =$

$460 + 60 =$

$55 + 37 =$

$290 + 30 =$

$710 - 60 =$

$850 - 800 =$

$7 \times 6 + 4 =$

$6 \times 9 + 2 =$

$8 \times 7 + 6 =$

$5 \times 4 + 6 =$

### 二、列式计算下面各题

1. 810 与 90 相差多少?

2. 比 450 多 70 的数是多少?

3. 什么数比 600 少 30?

4. 360 再加上多少和 420 同样多?

### 三、应用题

1. 张红和王丽比赛跳绳。张红跳了 86 下,王丽比张红少跳 18 下。王丽跳了多少下?

2. (1) 商店上午卖出服装 120 套,下午卖出 90 套。上午比下午多卖多

(2) 商店上午卖出服装 120 套,下午比上午少卖 30 套,下午卖出多少套?

(3) 商店下午卖出服装 90 套,上午比下午多卖 30 套,上午卖出多少套?

3. 山坡上的白羊比黑羊少 50 只。黑羊有 350 只,白羊有多少只?

 B卷

## 一、填写表格

加数	29	340	500	370	920	390	190
加数	37	40	800	300	50	90	80
和							

## 二、列式计算下面各题

1. 一个数比 480 少 90, 这个数是多少?

2. 一个数比 480 多 90, 这个数是多少?

## 三、应用题

1. 一辆玩具火车 62 元, 一辆玩具汽车比一辆玩具火车便宜 18 元。一辆玩具汽车多少元?

2. 小红身高 125 厘米, 小红比小玲矮 8 厘米。小玲身高多少厘米?

3. 有两根铁丝, 如果把第一根接上 35 厘米, 把第二根截去 20 厘米, 两根铁丝的长度正好相等。哪根铁丝长? 长多少厘米?

4. 张青有 15 块糖, 如果给李明 3 块, 两人糖的块数正好相等。李明有多少块糖?

5. 同学们分两批到电影院看电影。第一批去了 480 人, 第二批比第一批少去 30 人。两批一共去了多少人?

## 6. 笔算减法



### 一、口算

$72 - 28 =$

$360 - 50 =$

$680 - 80 =$

$600 - 60 =$

$38 + 47 =$

$420 - 70 =$

$250 + 50 =$

$90 - 46 =$

### 二、填空

1. 三、四位数的减法,也要记住三条:

(1) ( ) 对齐;

(2) 从 ( ) 位减起;

(3) 哪一位上的数不够减,从 ( ) 一位退 ( ), 在本位上加 ( ) 再减。

2. 在减法中, ( ) 和 ( ) 相加, 结果等于 ( )。

### 三、笔算下面各题

$$\begin{array}{r} 659 \\ - 458 \\ \hline \end{array}$$

$$\begin{array}{r} 685 \\ - 392 \\ \hline \end{array}$$

$$\begin{array}{r} 4573 \\ - 625 \\ \hline \end{array}$$

$$\begin{array}{r} 4284 \\ - 3192 \\ \hline \end{array}$$

### 四、计算下面各题,并且验算

$2576 - 1637 =$

$5219 - 3808 =$

### 五、应用题

1. 果园里有苹果树 829 棵,梨树比苹果树少 167 棵,果园里有梨树多少棵?

2. 校园里的玫瑰花比月季花少 56 棵。月季花有 153 棵,玫瑰花有多少棵?



## B卷

### 一、脱式计算下面各题

$$859 - 475 - 293$$

$$1537 - (483 + 279)$$

$$2795 + 8 \times 7$$

### 二、验算下面各题,把做错的改正过来

$$\begin{array}{r} 759 \\ - 365 \\ \hline 494 \end{array}$$

$$\begin{array}{r} 3147 \\ - 2218 \\ \hline 929 \end{array}$$

$$\begin{array}{r} 3406 \\ - 2214 \\ \hline 1292 \end{array}$$

### 三、填空

1. 笔算三、四位数的加法和减法,都是从( )位算起。
2. 用减数加差的方法可以验算( )法做得对不对。
3. 一个减法算式的被减数、减数、差相加等于 18,这个减法算式的被减数是( )。
4. 哥哥今年比弟弟大 9 岁,15 年后哥哥比弟弟大( )岁。

### 四、列式计算

1. 甲数是 1349,甲数比乙数多 287,乙数是多少?
2. 两个数的和比第一个加数大 85,比第二个加数大 49,这两个加数的和是多少?

### 五、应用题

1. 学校买来 240 盒白色粉笔和一些彩色粉笔。白色粉笔用去 150 盒,彩色粉笔用去 60 盒后,两种粉笔剩下的盒数相等。学校买来彩色粉笔多少盒?
2. 妈妈星期一买来 60 个鸡蛋,从星期二开始,每天吃去 8 个,吃到星期几还剩 20 个?



## 7. 连续退位减

### A卷

一、求出每张卡片上两个数的和是多少？差是多少？

320
70

900
300

320
200

1200
600

78
59

610
80

和：\_\_\_\_\_

差：\_\_\_\_\_

二、笔算下面各题

$517 - 439 =$

$725 - 386 =$

$1234 - 865 =$

$2114 - 679 =$

$4253 - 1875 =$

$6234 - 4668 =$

三、列式计算下面各题

1. 4382 比 2796 多多少？

2. 比 6517 少 3928 的数是多少？

四、应用题

1. 一种保暖内衣去年售价 268 元，今年比去年便宜了 170 元。这种保暖内衣今年售价多少元？

2. 一捆电线，第一次用去 38 米，第二次用去 26 米，还剩 36 米。用去的比剩下的多多少米？

### B卷

一、计算下面各题，并用加法验算

$3527 - 1846 =$

$5265 - 4886 =$

$1263 - 889 =$

$5324 - 1835 =$

二、列式计算下面各题

1. 875 比什么数多 89？

2. 432 比什么数少 67？