




经国家教委中小学教材审定委员会审查通过
九年义务教育四年制初级中学试用课本

地 理

第四册

“五·四”学制教材总编委会



北京师范大学出版社

0056424

图书在版编目(CIP)数据

地理 第四册/金陵主编;王民等编.-2版.-北京:
北京师范大学出版社,1996.11重印
九年义务教育四年制初级中学试用课本
ISBN 7-303-01051-3

I.地... II.①金... ②王... III.地理课-初中-教材 IV.
G634.551

中国版本图书馆CIP数据核字(95)第22909号

北京师范大学出版社出版

(100875 北京新街口外大街19号)

新华书店总店科技发行所发行

1205工厂印刷

开本:787×1092 1/32 印张:5.625 字数:90千

1994年11月北京第2版 1996年11月北京第3次印刷

定 价:5.25元

(如有质量问题,请与本社出版部联系更换)

期 限 表



1. 英国泰晤士河畔的伦敦



2. 法国地中海滨的马赛新港




3. 阿尔卑斯山中的角峰



4. 北欧的极昼 (挪威)



5. 挪威的峡湾地貌




6. 意大利米兰市的杜奥莫大教堂



7. 印第安人女孩 (美国)




8. 落基山脉风光



9. 美国密西西比河上的顶推船队



10. 亚马孙河两岸的热带雨林 (巴西)



11. 阿根廷的潘帕斯草原



12. 巴拿马运河




13. 贝加尔湖风光 (俄罗斯)



14. 俄罗斯莫斯科的克里姆林宫和红场



15. 美国芝加哥城市风貌



16. 澳大利亚西部的荒漠

说 明

1983年国家教委委托北京师范大学编写并实验“五·四”学制教材,实验取得了较好的效果。1987年国家教委又将本套教材作为全国规划教材之一。为此,北京师范大学成立了总编辑委员会,负责“五·四”学制全套系列教材的编写和实验工作。

本书主编是金陵,副主编是李志瑗,主要编者是金陵、李志瑗、王厚本、王民、杨涵。由山东省教学研究室主持内审的审稿人有:宋春青、李允直、王锡铸、马国璠、米扬声、王金龙、刘来芳、易光第、郑可成、杨恺伦、王克。

1992年本书经国家教委中小学教材审定委员会审查通过,并从1993年秋季开始在全国试用。我们恳请广大师生在使用教材中提出批评和建议,以便不断提高质量。

“五·四”学制教材总编辑委员会

1994年7月

66-166

目 录

第十三章 欧洲西部	(1)
第一节 西欧和中欧	(1)
第二节 英国	(16)
第三节 法国	(21)
第四节 德国	(28)
第五节 北欧和南欧	(35)
第十四章 欧洲东部和北亚	(53)
第一节 概 述	(53)
第二节 俄罗斯	(58)
第十五章 北 美	(67)
第一节 概 述	(67)
第二节 加拿大	(75)
第三节 美 国	(80)
第十六章 拉丁美洲	(92)
第一节 概 述	(92)
第二节 巴 西	(108)
第十七章 大洋洲	(116)
第一节 概 述	(116)
第二节 澳大利亚	(124)
第十八章 南极洲	(134)
第十九章 人类只有一个地球	(143)
第一节 创造人类美好的生存环境	(143)

第二节	珍惜淡水资源	(149)
第三节	保护土地资源	(155)
第四节	爱护森林资源	(159)
第五节	合理开发矿产资源	(166)
第六节	控制人口数量 提高人口素质	(171)

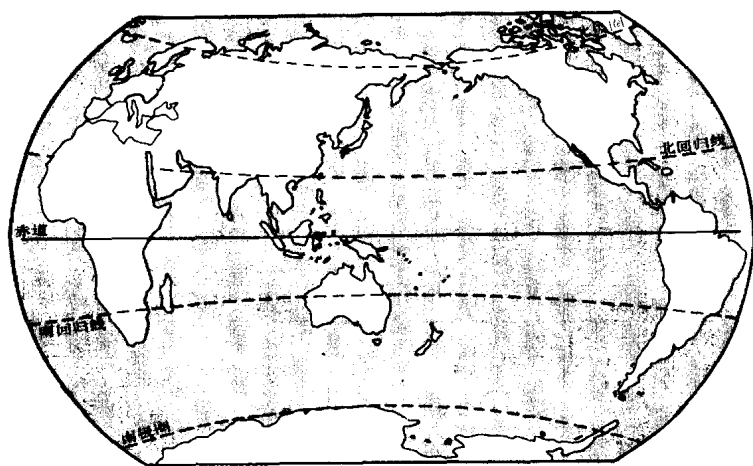
第十三章 欧洲西部

欧洲西部地区,按地理方位,划分为西欧、中欧、北欧和南欧四部分。

第一节 西欧和中欧

【读一读】

读：“西欧和中欧在世界上的位置”图,说出西欧和中欧位于亚欧大陆的哪个方位? 地处哪个热量带?



西欧和中欧在世界上的位置

西欧和中欧位于亚欧大陆的西端，西临大西洋，北滨北海和波罗的海。西欧包括欧洲大陆上的荷兰、比利时、卢森堡、法国和不列颠群岛上的英国、爱尔兰六国。中欧包括德国、波兰、捷克、斯洛伐克、匈牙利、奥地利、瑞士和列支敦士登等八国。

西欧和中欧国家面积、人口、首都表

国 家	面积 (平方千米)	人口 (万人) (1991年中)	首 都
西欧			
荷 兰	41 548	1 513	阿姆斯特丹 ^①
比利时	30 519	996	布鲁塞尔
卢森堡	2 586	38	卢森堡
法 国	551 602	5 672	巴 黎
英 国	244 100	5 737	伦 敦
爱尔兰	70 282	352	都柏林
中欧			
德 国	356 545	7 950	柏 林 ^②
波 兰	312 683	3 824	华 沙
捷 克	78 864	1 030	布拉格
斯洛伐克	49 036	527	布拉迪斯拉发
匈 牙 利	93 033	1 034	布达佩斯
奥 地 利	83 583	786	维 也 纳
瑞 士	41 293	683	伯尔尼
列支敦士登	160	3	瓦杜兹

① 政府所在地为海牙。 ② 政府暂住波恩。

【找一找】

在“西欧和中欧国家分布图”中，找出英国、法国、荷兰、德

国、波兰、奥地利、捷克、斯洛伐克、匈牙利、瑞士。请把下面左侧的位置与右侧的国家用线连起来。

大西洋中的岛国

滨临大西洋

滨临北海

滨临波罗的海

地处内陆

英国

法国

荷兰

德国

波兰

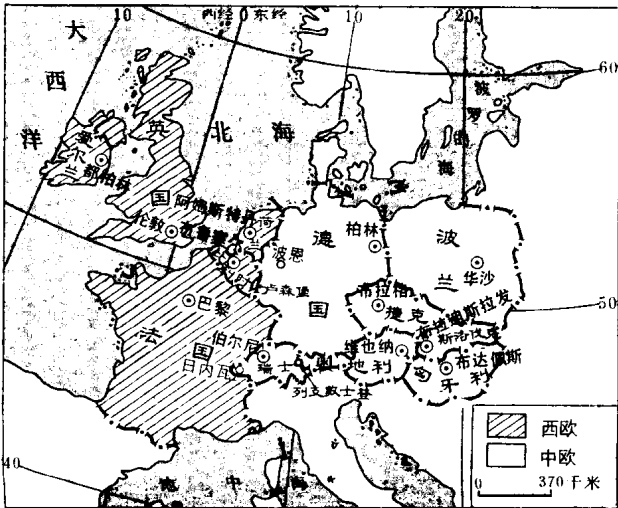
奥地利

捷克

斯洛伐克

匈牙利

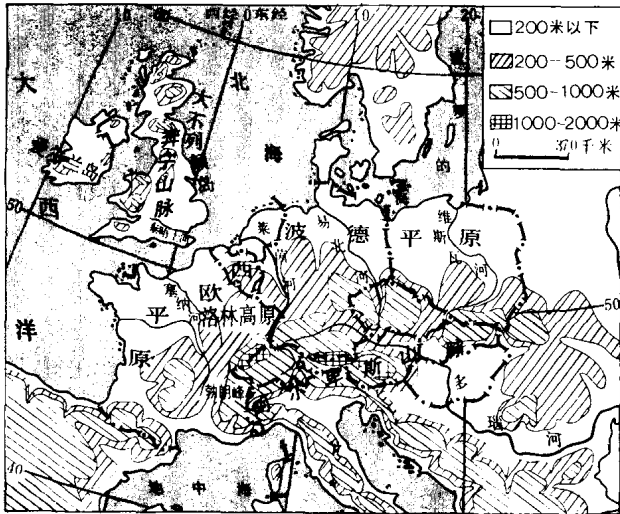
瑞士



西欧和中欧国家分布图

地势从南
向北降低

从“西欧和中欧地形图”可以看出：西欧和中欧的地势南部高，北部低。北部的平原，西起大西洋岸，沿北海、波罗的海南岸向东延伸。莱茵河以西为西欧平原；莱茵河以东为波德平原。






西欧和中欧地形图

法国、比利时、荷兰和波兰都是以平原为主的国家。

西欧平原地势低平。荷兰境内 $\frac{3}{5}$ 的土地，海拔不足1米。近千年来，荷兰人民不断与海洋争地，在沿海筑起拦海大堤，排除海水，填土造田。现在荷兰有 $\frac{1}{4}$ 的国土是围海造田得来的。荷兰人民在来之不易的珍

贵土地上,种花卉,种牧草,养奶牛。生产的乳酪、黄油和炼乳,大量出口。生产的郁金香、水仙等艳丽的鲜花,每天用飞机运往世界各地,使荷兰有“鲜花之国”的美誉。



 二十世纪以前围垦地
 本世纪围垦地

荷兰的围海造田图

拦海大堤(艾瑟尔湖与外海间的大堤)

波德平原地势波状起伏。受冰川影响,平原上散布着许多低矮的丘陵和湖泊、沼泽。土壤较贫脊。平原南部边缘有肥沃的土壤,是主要农耕区,多种植小麦、甜菜。

大约 200 多万年前,世界气候进入寒冷时期。高纬度地区被冰雪覆盖。越积越多的雪,逐渐变成厚厚的冰层。冰层在陆地上缓慢移动,形成冰川。冰川携带

着泥沙、石块向前运动，对地表有强烈的刨蚀作用，使地表凹凸不平。气候转暖时，冰川融化、后退，冰川携带物堆积成冰碛丘陵。低凹地区积水成湖泊或沼泽。



荷兰国花郁金香

西欧和中欧的南部边缘，是雄伟的阿尔卑斯山脉。山脉与北部平原之间分布着地势较低的山地和起伏和缓的高原。

捷克、斯洛伐克、瑞士、奥地利是以山地为主的国