

2002


全国中考试题真题全编



2002

政治

学习报)主编



全国中考试题

真 题 全 编

山西教育出版社

2002 全国中考试题真题全编

《学习报》主编



全国中考试题

真 题 全 编

政治

山西教育出版社

责任编辑 孙 轶
复 审 刘立平
终 审 张金柱
装帧设计 侯云峰

2002年全国中考试题真题全编

政 治

《学习报》主编

*

山西教育出版社出版发行 (太原市迎泽园小区2号楼)

山西晋财印刷厂印装

*

开本:787×1092 1/16 印张:8.5 字数:200千字

2002年10月第1版 2002年10月山西第1次印刷

印数:1-10000册

*

ISBN 7-5440-2049-5

G·1840 定价:9.00元

如发现印装、质量问题,影响阅读,请与印刷厂联系调换。

说

明

本书是由《学习报》收集 2002 年全国各省(市、区)初中毕业和高中、中专(技校)招生试题经过精心编辑而成的。在编辑过程中,重点注意了知识的覆盖面、题目的难易程度。全书重点、难点突出,知识面广,题型较全,很适合广大初中毕业生与自学青年升学考试前总复习使用。

通过学习这本书,读者能了解全国中考信息、预测命题方向,熟悉各种题型,提高分析问题、解决问题的能力,自如地应付初中毕业和高中、中专(技校)升学考试。本书对于开展中学教学研究、搞好教学改革、提高教学质量、提高学生的素质和学习成绩都很有裨益。

编辑过程中,得到《学习报》各省(市、区)采编同志的大力支持,及时提供试题,我社表示衷心感谢。编辑有不妥的地方,敬请指正。

编者

2002 年 8 月

目 录

1.北京市西城区 2002 年高级中等学校招生统一考试政治试题	(1)
2.北京市昌平区 2002 年初中升学考试政治试题	(6)
3.上海市 2002 年中等学校高中阶段招生文化考试政治试题(开卷)	(10)
4.天津市 2002 年高级中等学校招生考试政治试题	(12)
5.重庆市 2002 年普通高中招生统一考试政治试题	(15)
6.湖北省黄冈市 2002 年初中升学统一考试政治试题	(18)
7.湖北省武汉市 2002 年初中毕业、升学考试政治试题	(22)
8.湖南省长沙市 2002 年初中毕业会考政治试题	(25)
9.浙江省金华市 2002 年初中毕业与升学考试政治试题	(28)
10.江苏省南京市 2002 年初中升学统一考试政治试题(开卷)	(31)
11.山东省济南市 2002 年高中阶段学校招生统一考试政治试题	(35)
12.河南省 2002 年高级中等学校招生统一考试政治试题	(38)
13.河北省 2002 年初中生升学统一考试政治试题	(41)
14.江西省 2002 年中等学校招生统一考试政治试题(开卷)	(45)
15.吉林省 2002 年高级中等学校招生考试政治试题	(49)
16.福建省福州市 2002 年初中毕业会考、高级中等学校招生考试 政治试题	(52)
17.广东省广州市 2002 年高中阶段学校招生考试政治试题	(56)
18.广西壮族自治区桂林市初中升学考试政治试题	(60)
19.四川省眉山市 2002 年高中、中考(中师)招生考试政治试题	(66)
20.陕西省 2002 年初中毕业生升学统一考试政治试题(开卷)	(69)
21.内蒙古自治区呼和浩特市 2002 年中考政治试题	(73)
22.青海省 2002 年初中毕业、升学考试政治试题	(79)
23.贵州省贵阳市 2002 年初中毕业、升学考试政治试题	(82)
24.云南省昆明市 2002 年初中毕业、高中招生统一考试政治试题(开卷) ...	(86)
25.安徽省 2002 年中考思想政治试题(开卷)	(90)
26.宁夏回族自治区 2002 年高中阶段招生政治试题	(93)
27.山西省 2002 年中考政治试题	(96)
28.甘肃省 2002 年初中毕业暨升学考试政治试题	(99)
参考答案	(103)

1. 北京市西城区 2002 年高级中等学校招生统一考试政治试题

第 I 卷 (选择题 50 分)

一、选择题 I (下列各题的四个选项中, 只有一项最符合题意。共 40 分, 每小题 2 分)

1. 2002 年 3 月 25 日, 我国自行研制的“神舟”三号飞船在酒泉卫星发射中心发射成功。4 月 1 日, “神舟”三号飞船完成试验任务后在预定区域准确降落。初步研究表明, 我国在_____与空间材料科学领域的研究取得了重要进展。 ()
- A. 航空科技 B. 空间生命 C. 人类基因 D. 生命科学
2. 2001 年 10 月 29 日至 11 月 9 日, 联合国气候变化大会在摩洛哥的马拉喀什举行。世界上第一个全面控制二氧化碳等温室气体排放的国际公约是 ()
- A. 《京都议定书》 B. 《反弹道导弹条约》
C. 《气候变化框架公约》 D. 《全面禁止核试验条约》
3. 2001 年 10 月 21 日, 亚太经合组织 (APEC) 第九次领导人非正式会议在上海科技馆举行。这次会议的主题是 ()
- A. 新世纪、新挑战、新亚洲
B. 投资环境与对外开放
C. 携手新世纪, 和平发展共繁荣
D. 新世纪、新挑战: 参与、合作, 促进共同繁荣
4. 法律是一种特殊的行为规则。其最主要的特征是 ()
- A. 由国家制定或认可 B. 对全体社会成员具有普遍约束力
C. 靠国家强制力保证实施 D. 以规定权利和义务为内容
5. 犯罪最本质的特征是 ()
- A. 社会危害性 B. 刑罚当罚性
C. 刑事违法性 D. 严重社会危害性
6. 下列关于宪法的说法不正确的是 ()
- A. 宪法是国家所有法律的总和
B. 宪法的变动必然会引起普通法律随之做出相应的修改
C. 宪法具有最高的法律效力
D. 宪法是国家的根本大法
7. 右图中商品推销商的行为 ()
- ①破坏了市场经济秩序 ②违背了诚实信用原则
③违背了市场交易的平等原则 ④侵犯了消费者的知悉权
- A. ②③④ B. ①②④
C. ①②③ D. ①③④
8. 马克思说: “任何一个民族, 如果停止劳动, 不用说一年, 就是几个星期, 也是灭亡。”这是因为 ()

纯天然绿色食品, 快买哟!



- A. 生产劳动是制作和使用劳动工具的活动
- B. 人类社会是按照各种关系结合在一起的人们的总体
- C. 生产劳动是人类社会存在和发展的基础
- D. 能否从事生产劳动是人和动物的本质区别

9. 生产力是人类改造自然的能力。在生产力中起主导作用的是 ()

- A. 生产资料
- B. 生产工具
- C. 劳动对象
- D. 劳动者

10. 下列选项正确体现阶级和国家关系的是 ()

①国家不是从来就有的,也不会永远存在下去 ②阶级是在一定生产关系中处于不同地位的各种集团 ③国家是在阶级对立的基础上产生的 ④国家是阶级矛盾不可调和的产物 ⑤阶级是在国家产生之后产生的 ⑥在阶级社会里,国家是阶级统治的工具

- A. ①④⑤
- B. ④⑤⑥
- C. ③④⑥
- D. ②③④

11. 资本主义社会的基本矛盾是 ()

- A. 社会生产同生产资料资本主义私有制之间的矛盾
- B. 生产社会化同生产资料资本主义私有制之间的矛盾
- C. 发达国家和发展中国家之间的矛盾
- D. 工人阶级和资产阶级之间的矛盾

12. 材料一:2002年2月28日是《中美上海公报》发表30周年纪念日。为纪念中美关系史上的这一重大事件,江泽民主席和布什总统互致函电表示祝贺。

材料二:2002年3月16日,外交部副部长李肇星召见美国驻华大使雷德,就美国政府日前允许台湾所谓“国防部长”汤曜明赴美开会等干涉中国内政、破坏中美关系的行径,向美国政府提出严正交涉。

上述材料充分说明了 ()

- A. 社会主义和资本主义将长期和平共处
- B. 社会主义国家和资本主义国家将长期共存和斗争
- C. 社会主义国家和资本主义国家势不两立,要斗争到底
- D. 经济全球化已经成为不可逆转的世界趋势

13. 公有制为主体,多种所有制经济共同发展,是我国现阶段的一项基本经济制度。这一制度的确立,是由 ()

- A. 党的基本路线决定的
- B. 我国的主要矛盾决定的
- C. 我国人口、资源和环境国情决定的
- D. 我国社会主义性质和初级阶段国情决定的

14. “把我国建设成为富强、民主、文明的社会主义现代化国家。”对这句话理解不正确的是 ()

- A. 这是我们的最高理想
- B. 这是党的基本路线的内容之一
- C. 这是实现共产主义理解的必要准备和必经阶段
- D. 这充分反映了现阶段全国各族人民的共同利益和愿望

15. 2002年2月1日,中共中央、国务院在北京隆重举行国家科学技术奖励大会。江泽民总书记向获得2001年度国家最高科学技术奖的王选和黄昆院士颁发奖励证书和奖金。王选院士获奖后说,我们研究成果花了20多年时间,要成就大的事业需要长期艰辛的劳动,急功近

利是不行的。王选院士的话表明了 ()

- A. 科学技术是第一生产力
- B. 青少年要勇于创新
- C. 理想的实现要发扬艰苦奋斗的精神
- D. 当代青年要有社会责任感

二、选择题Ⅱ (下列各题的四个选项中,至少有一项符合题意。共10分,每小题2分,多选、错选、漏选不得分)

16. 2001年11月10日,世界贸易组织第四届部长级会议审议并通过了中国加入世界贸易组织的决定。同年12月11日,我国正式加入世界贸易组织,成为其第143个成员。我国加入世界贸易组织 ()

- A. 是为了扩大内需,培养新的经济增长点
- B. 是党中央、国务院做出的重大战略决策
- C. 是我国改革开放进程中具有历史意义的一件大事
- D. 标志着我国对外开放进入一个新的阶段

17. 下列关于我国公民权利和义务关系的说法中,正确的有 ()

- A. 公民的权利和义务具有一致性
- B. 公民可以多享有权利,少履行义务
- C. 公民既是享有权利的主体,又是履行义务的主体
- D. 没有无义务的权利,也没有无权利的义务

18. 社会主义初级阶段是 ()

- A. 以经济建设为中心,大力发展社会生产力的阶段
- B. 坚持按劳分配为主体,多种分配方式并存的阶段
- C. 科学技术水平、民族文化素质需要提高的阶段
- D. 我国现在处于并将长时期处于的历史阶段

19. 2001年10月24日,新华社播发了中共中央要求认真贯彻执行《公民道德建设实施纲要》的通知。通知指出,努力建立与发展社会主义市场经济相适应的社会主义道德体系,对形成追求高尚、激励先进的良好社会风气,保证社会主义市场经济的健康发展,促进整个民族的不断提高,全面推进建设有中国特色的社会主义伟大事业,具有十分重要的意义。这段话主要说明 ()

- A. 物质文明建设是精神文明建设的基础
- B. 社会主义精神文明是现代化建设的重要保证
- C. 社会主义精神文明对物质文明建设有巨大的推动作用
- D. 应该把社会主义精神文明作为各项工作的中心来抓

20. 下列关于人类社会发展史的正确认识有 ()

- A. 首先是生产发展的历史
- B. 阶级社会的历史又是阶级斗争的历史
- C. 人民群众是历史的创造者
- D. 英雄人物和革命领袖是历史的创造者

第Ⅱ卷 (非选择题 40分)


三、简答题(本大题分6小题,共21分)

21. 观察漫画并回答问题:

(1) 这幅漫画反映的行为属于哪种违法行为? (1分)

(2) 这种违法行为要受到相应的处罚,其处罚适用的法规是什么? (1分)

22. 青少年光顾网吧,出现了许多令人忧虑的问题。为了保护青少年的身心健康,信息产业部、公安部、文化部、国家工商行政管理总局联合制定了《互联网上网服务营业场所管理办法》,其中明确规定:在限定时间外向18周岁以下的未成年人开放,或者允许无监护人陪伴的14周岁以下的未成年人进入其营业场所的,有关部门应对其进行警告、罚款、要求停业整顿、没收违法所得、关闭营业场所、吊销经营许可证和营业执照等处罚。



阅读上述材料,回答下列问题:

(1) 材料体现了我国法律对未成年人的哪种保护? (1分)

(2) 作为青少年,我们应该如何做? (2分)

23. 生产关系的基础是什么? 阶级社会生产关系的基础分别是什么? (4分)

24. 连线题: (4分)

飞机	电话	核能	蒸汽火车	纳米技术	珍妮纺纱机	基因工程	国际空间站
第一次科技革命			第二次科技革命		第三次科技革命		

25. 2001年,被国内外多家媒体誉为“中国年”。2001年的中国,被世人称为“全球通”。加入世界贸易组织,15年的艰苦奋斗,终于有了结果;奥运圆梦,五环旗将在北京的上空高高飘扬;足球“入世”,圆了中国球迷44年的梦想;成功举办APEC会议和世界大学生运动会,让世界进一步了解了中国。

2001年,我国经济稳步增长。国内生产总值超过了9万亿元人民币,经济增长速度超过了7%,国家外汇储备达2000亿美元。经济总量已跻身世界第六位……

阅读上述材料,回答下列问题:

(1) 上述材料表明了什麼? (1分)

(2) 发生上述情况的原因和根本原因是什么? (3分)

26. 中国入世,加剧了人才竞争。据相关调查显示:入世后我国最紧缺的人才,一是信息、金融、法律和现代管理等领域的专业人才;二是生物技术、环保技术等领域的高层次科技人才;三是熟悉世贸组织规则、能参与解决国际争端的专门谈判人才;四是了解国际惯例、符

合需要的外语人才；五是跨领域、跨行业、跨学科的复合型人才。面对这种情况，许多毕业生把中国“入世”这一因素考虑到自己对专业的选择上来。

人世带来了机遇和挑战。作为新一代中学生，我们应该如何确立自己的成才目标呢？（4分）

四、辨析题（5分，只判断不分析不给分）

27. 生产力决定生产关系，生产关系只能随着生产力的发展而发展。

五、问答题（本大题分2小题，28题6分，29题8分，共14分）

28. 2002年3月16日，郭某乘坐出租车，不慎将装有手机和一万元现金的皮包丢在了车上，后被司机王某拾得。第二天，郭某和王某见面了……

情景一：王某确认失物是郭某的，后主动归还。请你评价王某的行为。（2分）

情景二：郭某要求王某归还失物，王某谎称自己没看见，拒绝归还。请你全面推测郭某可能采取哪几种办法解决这件事？并运用法律知识对推测进行评析。（4分）

29. 材料一：在“十五”期间，我国西部开发四大工程即青藏铁路、南水北调、西气东输、西电东送，将相继告竣。这四大工程开发了西部，共享了资源，拉动了内需，拓展了市场，激活了中国东西南北的经济发展。

材料二：藏羚羊是我国青藏高原特有物种，属国家一级保护动物。其下腹部绒毛可纺成“沙图什”（意为“羊绒之王”），制作一条沙图什披肩将导致3到5只藏羚羊丧生。这样一条披肩在欧美市场售价高达3万美元，如此暴利驱使盗猎者大量捕杀藏羚羊，致使其已濒临灭绝。这样的市场一天不消失，藏羚羊就一天不得安宁！在一个日益相互关联的地球上，没有谁的行动可以与他人无关地独立发生，世界上的任何人都要为地球环境的破坏负起自己的责任。

最早救助藏羚羊的是藏族人民的好儿子索南达杰。当他一次次走向可可西里时，他意识到对可可西里保护比开发更加迫切。当他第12次进入可可西里时，不幸倒在了盗猎分子的枪口下。现在，中国第一座民间自然保护站——索南达杰自然保护站已经建立，每年有30位来自全国各地的环保志愿者轮流在保护站工作。2002年6月5日，志愿者北京市民李清已奔赴可可西里国家自然保护区。

阅读上述材料并回答问题：

(1) 材料体现了我国在经济发展中应该坚持什么战略？其含义是什么？（3分）

(2) 运用法律知识分析说明，公民应当如何履行义务？（3分）

(3) 无论对东部地区还是西部地区，实施西部开发都有重要意义。下面提供有关方面的一些论点，请你将它们的序号分别填入下表的空格内。（2分）

- A. 实现共同富裕
- B. 自然资源得以充分开发和利用
- C. 增加就业机会
- D. 发挥了技术和人才优势
- E. 吸引社会资金和外资，促进经济发展，提高人民生活水平

对西部地区的重要意义	
对东部地区的重要意义	

2. 北京市昌平区 2002 年初中升学考试政治试题

第 I 卷 (选择题 40 分)

一、选择题 (下列各题的四个选项中, 只有一项最符合题意。每小题 2 分, 共 40 分)

- 2001 年, 我国国民经济保持持续健康发展, 实现了“十五”计划的良好开局。据初步统计, 全国国内生产总值为 95933 亿元, 按可比价格计算, 比上年增长_____。()
A. 7.8% B. 7.3% C. 7% D. 8%
- 2002 年 3 月 25 日, 我国在酒泉卫星发射中心成功发射了_____飞船。标志着我国载人航天工程取得了重大进展。()
A. “神舟”一号 B. “神舟”二号 C. “神舟”三号 D. “神舟”四号
- 在美国盐湖城举行的第十九届冬季奥运会上, 我国实现了冬季奥运会金牌“零”的突破。为中国夺得第一枚冬奥会金牌的运动员是 ()
A. 杨扬 B. 申雪 C. 叶乔波 D. 王春露
- 2002 年 1 月 1 日, 欧洲单一货币_____现钞正式进入流通领域。()
A. 马克 B. 荷兰盾 C. 英镑 D. 欧元
- 依法治国, 建设社会主义法制国家, 既是我国现代化建设应该遵循的基本方略, 又是我国现代化建设所要达到的重要目标。依法治国的核心是 ()
A. 依照法律的规定管理国家事务 B. 依法保证人民的民主权利
C. 依法维护社会生活 D. 依宪治国
- 江泽民指出: 我们在建设有中国特色社会主义, 发展社会主义市场经济的过程中, 要坚持“依法治国”和“以德治国”。要把法制建设与道德建设紧密结合起来, 把“依法治国”与“以德治国”紧密结合起来。这是因为 ()
A. 我国法律与社会主义道德的目的和任务相同, 可以互相代替
B. 我国法律与社会主义道德是相互配合、相互促进、相互补充的
C. 凡是社会主义道德所谴责的, 都是我国法律所制裁的
D. 我国法律与社会主义道德的实现手段是相同的
- 下列关于履行赡养扶助父母义务的观点或行为正确的是 ()
A. 赡养扶助父母是成家立业以后的事
B. 李某出嫁后认为: 家庭财产传男不传女, 因此, 赡养父母是兄弟的事
C. 成年子女不仅要为父母提供一定的物质生活条件, 还要在精神上给父母以慰藉
D. 成年子女对父母只要承担必要的生活费即可
- 我国宪法规定: “中华人民共和国公民有受教育的权利和义务。”这说明受教育 ()
A. 是我国公民的一项基本权利 B. 是公民的光荣任务
C. 是我国公民的一项法定义务 D. 既是公民的基本权利, 又是公民的基本义务
- 2001 年, 中国足球队经过艰苦卓绝的奋斗, 44 年第一次跻身 2002 年世界杯赛。这一壮举体现了 ()
A. 树立民族自豪感和自信心, 以自己的行动为祖国增光添彩

- B. 增强法律意识, 关心国家安全
- C. 增强民族自尊心, 同损害国家尊严的行为作斗争
- D. 维护国家安全, 关心国家利益

10. 生产关系是生产过程中形成的人与人之间的关系。而生产力是 ()

- A. 人们改造社会的能力
- B. 人类认识自然的能力
- C. 人类改造自然的能力
- D. 劳动对象和生产工具的统称

11. 下列选项中, 标志着人类进入文明时代的是 ()

- A. 石器的制作
- B. 文字的出现
- C. 火的使用
- D. “四大发明”的出现

12. 在封建社会内部, 产生资本主义生产关系萌芽的根本原因是 ()

- A. 小手工业者的分化
- B. 封建制生产关系已经没落
- C. 社会生产力的发展
- D. 资本主义生产关系有强大的生命力

13. 在资本主义企业里, 工人劳动创造的价值, 远远大于自己所得的工资。除去工资, 由工人劳动创造而被资本家无偿占有的那一部分价值叫 ()

- A. 资本家的生活资料价值
- B. 生产资料价值
- C. 劳动产品的价值
- D. 剩余价值

14. 生产社会化同_____之间的矛盾, 是资本主义社会的基本矛盾。 ()

- A. 生产资料公有制
- B. 生产资料资本主义私有制
- C. 生产不实行统一管理
- D. 生产的盲目扩大

15. 江泽民总书记在庆祝中国共产党成立 80 周年大会上强调指出: 在新世纪, 必须坚定不移地落实“三个代表”要求, 它是我们党的立党之本、执政之基、力量之源。“三个代表”重要思想的科学内涵是指中国共产党要始终代表 ()

①中国先进生产力的发展要求 ②中国先进文化的前进方向 ③中国最广大人民的根本利益 ④世界各国人民的利益 ⑤中国先进科学技术的发展方向

- A. ①②③
- B. ②③④
- C. ③④⑤
- D. ②③⑤

16. 在社会主义现代化建设进程中, 制定一切方针政策都必须以基本国情为依据, 不能脱离实际, 超越阶段。当代中国最基本的国情是 ()

- A. 我国现在处于并将长期处于社会主义初级阶段
- B. 我国人口多、人均资源少、环境污染严重
- C. 我国已经处于社会生产力高度发达的阶段
- D. 我国处于物质文明和精神文明高度发达的阶段

17. 建国 50 多年来, 社会主义经济迅速发展, 综合国力不断增强, 人民的物质文化生活水平显著提高, 民主法制建设不断完善。这说明了 ()

- A. 国家的一切权力属于人民
- B. 只有社会主义才能发展中国
- C. 没有共产党就没有新中国
- D. 只有社会主义才能救中国

18. 现阶段党的基本路线的核心内容是 ()

- A. “一个中心、两个基本点”
- B. “三步走”发展战略
- C. “三个有利于”标准
- D. 四项基本原则

19. 现阶段我国各族人民的共同理想是 ()

- A. 早日实现农业、工业、国防和科学技术现代化

- B. 加强民族团结, 实现祖国统一
- C. 把我国建设成为富强、民主、文明的社会主义现代化国家
- D. 大力发展生产力, 实现共产主义

20. 科学技术是第一生产力, 科技进步是经济发展的决定性因素。日趋激烈的国际竞争归根到底是 ()

- A. 综合国力的竞争
- B. 科技和文化的竞争
- C. 经济和技术的竞争
- D. 人才的竞争

第 II 卷 (非选择题 40 分)

二、辨析题 (请先判断观点正误, 再根据所学知识分析说明理由。每小题 5 分, 共 10 分)

21. 宪法是国家的根本大法。(5 分)

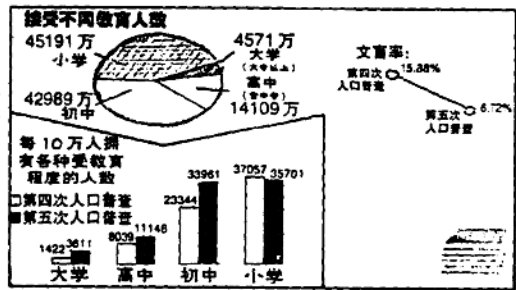
22. 在现代资本主义社会里, 工人的生活随着生产发展有所改善, 工人已摆脱被雇佣、受剥削的命运。(5 分)

三、简答题 (共 22 分)

23. 在资本主义发展过程中, 工业革命带来了资本主义生产力的第一次飞跃; 第二次科技革命使资本主义世界的经济有了突飞猛进的增长; 世界新科技革命促使战后资本主义发达国家进入“黄金时代”。请问这三次科技革命的标志分别是什么?(3 分)

24. 人类社会是由低级阶段向高级阶段发展的。决定这一发展的客观规律是什么?(3 分)

25. 根据所学知识, 观察右图, 请回答图中数据说明了什么?(4 分)



26. 2001 年是新世纪的第一年, 是中国人民的大喜年。在这一年里, 全国各族人民团结奋斗, 各方面都取得了可喜的成就。在全球经济增长明显减缓的情况下, 我国经济继续保持较快增长, 精神文明建设和民主法制建设及各项社会事业都取得新的进展, 人民生活水平进一步提高。

(注: 第五次人口普查显示, 祖国大陆 31 个省、

自治区、直辖市和现役军人人口受教育程度)

(1) 请你列出 2001 年我国取得的一些举世瞩目的成就。(至少 2 项) (2 分)

(2) 结合学科知识, 分析我国取得巨大成就的原因是什么?(3 分)

27. 我们要贯彻落实《公民道德建设实施纲要》, 倡导“爱国守法、明礼诚信、团结友善、勤俭自强、敬业奉献”的公民基本道德规范, 提高道德素质, 促进人的全面发展。作为中学生, 你将如何遵守公民基本道德规范, 提高自身道德素质?(4 分)

28. 在加强社会保护的同时, 自我保护也是十分重要的。作为未成年中学生, 你应如何增强自我保护意识?(3 分)

四、问答题 (请同学们在 29、30 两题中任选一题作答。每题 8 分)

29. 材料一: 据报道, 近年来, 随着我国环境治理力度的不断加大, 全国主要污染物排放总量继续减少, 12 项主要污染物 2000 年排放总量比 1995 年下降了 10%~15%。截至 2000 年 10 月底, 全国 23.8 万家有污染的工业企业中, 90% 以上实现了达标排放。在 46 个环境保护重点城市中, 有 33 个城市地面水环境质量和 22 个城市空气质量实现了按功能区达标。其中有 18 个城市的空气和地面水环境质量均实现了按功能区达标, 其他城市已接近达标。

材料二：“九五”期间，北京绿化建设方面取得了突出成就。在城区，完成绿化面积 800 公顷，绿化覆盖率达到 35.5%，人均绿地达到了 32 平方米。郊区以创建园林城镇为目标，加大绿化美化建设力度，增加绿地面积 270 公顷。全市新增加林地面积 2.4 万公顷，林木覆盖率达到 42% 以上。

材料三：“绿色奥运、人文奥运、科技奥运”是 2008 年奥运会的主题，中国在世界面前庄严承诺：北京将在 2008 年举办一届“最完美、最杰出、最精彩”的奥运会，为奥运史册添上新的一页，使奥林匹克精神发扬光大，传之久远。

阅读上述材料请回答：

(1) 材料一、材料二说明了什么？(2 分)

(2) 上述材料所反映的内容有利于我们实施什么战略？(2 分)

(3) 结合材料三，谈一谈如果你想成为 2008 年北京奥运会的志愿者，从现在开始应做哪些准备？(4 分)

30. 据《沈阳日报》2001 年 3 月 15 日报道：长春市陈某在新光琴行买了一架日本原装雅马哈牌售价 10.5 万元的三角钢琴，并开具了购货发票。几年后，陈某欲将此琴转让。一买主看过之后，说琴是假的。陈某请来北京市产品质量监督检验所人员对钢琴进行了鉴定，结论是该琴无序号、无证书，属翻新旧琴，只值三万元。

于是，陈某将琴行告到法庭。2001 年 3 月 13 日，长春市中级人民法院一审判决经销商长春市新光琴行赔偿陈某 21 万元。

阅读材料请回答：

(1) 此案例中的被告——新光琴行违反了我国消费领域的哪一部法律？(2 分)

(2) 从上述材料看，消费者陈某的哪些权利曾受到侵犯？(3 分)

(3) 作为消费者，如果买了假冒伪劣商品，你可以通过哪些途径保护自己的合法权益？(3 分)

3. 上海市 2002 年中等学校高中阶段招生文化考试政治试题（开卷）

（满分 50 分，考试时间 70 分钟）

一、不定项选择题（本题共 14 分，每小题 2 分。请将下列各题中正确答案的代号填入题后的括号内，全部选对才给分，错选、少选、多选不给分。）

1. 团市委、市学联在全市大中学生中深入开展“永远跟党走”纪念建团 80 周年主题系列教育活动。中学生积极参加这一活动，可以从中进一步（ ）

- A. 了解我国的国情
- B. 培养热爱祖国的情感
- C. 明确当代青少年的历史使命

2. 随着上海经济建设的发展，市民生活状况出现了很大的变化：出行交通更便捷；市区绿化面积大大增加；天然气进入千家万户；人均居住面积超过 12 平方米。市民生活水平提高的主要原因，是因为我们坚持（ ）

- A. 改革开放的国策
- B. 不断发展生产力
- C. 未加限制地开发自然资源

3. 全国公安系统一级英模肖玉泉，生前是上海杨浦区公安局交巡警支队的民警。他在平凡的岗位上忘我工作，勤政为民。他为群众办了许多好事不求回报，也从不利用职权为自己和家人谋私利。我们学习肖玉泉，就要像他那样具有（ ）

- A. 强烈的社会责任心
- B. 爱岗敬业、忠于职守的献身精神
- C. 把国家利益、人民利益放在首位的思想境界

4. 中国加入 WTO 后与国际的交流越来越频繁，青少年学生在国际交往中必须具备的形象和行为要求是（ ）

- A. 穿得体的名牌服装
- B. 谈吐文明、举止大方
- C. 维护国格和人格

5. 前不久，上海举办了“我身边的环保”为主题的中小學生征文活动。保护环境是每个中学生应尽的责任，下列有利于保护环境的行为有（ ）

- A. 将废电池扔进生活垃圾箱内
- B. 使用一次性木筷
- C. 少寄纸质贺卡

6. 上海光明乳业股份有限公司积极帮助内蒙古呼伦贝尔地区发展乳品生产，先后派专家去传授科学养牛知识，并用先进的技术手段改良奶牛品种，使奶牛平均产奶量提高了一倍。上海光明乳业的这一做法，有利于（ ）

- A. 科学技术在当地生产中的推广和应用
- B. 促进民族团结和各民族共同富裕
- C. 逐步缩小我国东西部地区的经济发展差距

7. 当今世界综合国力的竞争, 实质上是科学技术的竞争。上海科技的发展瞄准世界科技的前沿。下列选项中体现上海科技发展的举措有 ()

- A. 张江高科技园区的建立
- B. 文明社区的评选
- C. 信息港的建设

二、问答题 (本题共 9 分)

8. 现阶段我国的基本国情是什么? 社会实践是青少年了解国情的重要途径, 请列举两例青少年了解国情的社会实践活动。(4 分)

9. 年仅 28 岁的申劲松, 曾三次担任“神舟”号飞船发射的总调度, 人们都称赞他是一位杰出的人才。作为人才应具备哪些条件? 青少年应怎样确立成才目标?(5 分)

三、辨析题 (本题 8 分)

10. 据报道, 本市一居民在五楼阳台晒被子时, 不慎将夹藏在被子里的数万元人民币撒落在马路上。路过这里的行人, 有的捡到钱后交给巡警或在原地等候交还失主; 也有人捡到钱后不予归还即离开现场。看了这则报道, 甲同学认为, 捡到钱应该及时归还失主; 乙同学认为, 捡到别人的钱不予归还也没什么错。

请结合思想政治课的有关知识想一想, 哪一个同学的想法是正确的? 为什么?

四、材料说明题 (本题共 19 分)

11. 某校初三(6)班有些同学沉湎于游戏机房或网吧中, 对文化知识学习不感兴趣, 缺乏刻苦学习的精神, 存在怕动脑筋、抄袭作业的现象。为了帮助这些同学, 班委会决定出一期黑板报。如果你是黑板报的编辑, 请运用思想政治课的有关知识, 确定三个不同内容的主题组织稿件, 并对主题内容加以说明。(9 分)

12. 近年来, 由于用水量不断增加和水质污染, 上海已成为水质型缺水城市。下列是上海近年生活污水排放和处理情况的数据:

年 份	全市生活污水排放量 (亿吨)	城市污水处理率 (%)
1999 年	11.76	50.40
2000 年	12.12	49.40

请结合平时对生活的观察, 运用思想政治课的有关知识分析以上数据并回答问题 (本题 10 分)

- (1) 以上数据反映了哪些问题? 我们应如何来解决这些问题? (8 分)
- (2) 请你为社区开展节约用水活动出两个主意。(2 分)

4. 天津市 2002 年高级中等学校招生考试政治试题

(满分 100 分, 考试时间 90 分钟)

第 I 卷 (选择题 共 40 分)

一、单项选择题 (下列各题, 各有一个最符合题意的答案, 每小题 2 分, 共 30 分)

- 2001 年 9 月 24 至 26 日, 中国共产党第十五届中央委员会第六次会议在北京举行。会议通过 ()
 - 《中共中央关于加强和改进党的作风建设的决定》
 - 《中共中央关于制定国民经济和社会发展第十个五年计划的建议》
 - 《中共中央关于国有企业改革和发展若干重大问题的决定》
 - 《中共中央国务院关于进一步加强社会治安综合治理的意见》
- 2001 年 12 月 4 日是我国的第一个法制宣传日。全国法制宣传日的主题是 ()
 - 增强法律观念, 推进以德治国
 - 增强道德观念, 推进依法治国
 - 增强宪法观念, 推进依法治国
 - 增强科技观念, 推进以德治国
- 2002 年 3 月 25 日, 中国又一艘无人航天飞船在内蒙古中部地区成功着陆, 这艘航天飞船是 ()
 - “神舟”一号
 - “神舟”二号
 - “神舟”三号
 - “神舟”号
- 人类进入文明时代的标志是 ()
 - 火的发明和使用
 - 奴隶制国家的建立
 - 脑力劳动和体力劳动的分工
 - 文字的出现
- 封建社会地主阶级剥削农民的主要方式是 ()
 - 无偿徭役
 - 榨取地租
 - 苟捐杂税
 - 高利贷
- 欧洲主要国家资本主义制度最终确立起来是在 ()
 - 地理大发现以后
 - 法国大革命以后
 - 产业革命完成以后
 - 英国资产阶级革命以后
- 资本家进行生产的直接目的和根本动机是 ()
 - 最大限度地满足消费者的需要
 - 最大限度地满足全体公民的需要
 - 最大限度地满足发展经济的需要
 - 最大限度地榨取剩余价值
- 资本主义的剥削方式具有 ()
 - 平等性
 - 隐蔽性
 - 合理性
 - 明显性
- 资本主义一切社会危机的根源是资本主义社会的 ()
 - 基本矛盾
 - 供需矛盾
 - 三大矛盾
 - 主要矛盾
- 科学社会主义的创始人是 ()
 - 圣西门和欧文
 - 马克思和恩格斯
 - 列宁和斯大林
 - 毛泽东和邓小平
- 当代中国最基本的国情是 ()
 - 正处于并将长期处于社会主义社会
 - 正处于并将长期处于社会主义发展阶段