

九年义务教育三、四年制初级中学

历史地图填充图册

中国历史第四册

姓名

____ 年 级 ____ 班



人民教育出版社

(京)新登字113号

审 阅：王宏志
主 编：李隆庚
编 图：李隆庚
责任编辑：邢克斌
审 绘：甄国宪
封面设计：刘承汉
版式设计：冯式一

陈 芝

九年义务教育三、四年制初级中学
历史地图填充图册
中国历史第四册
人民教育出版社历史室 编

*

人民教育出版社出版
北京出版社重印
北京市新华书店发行
展望印刷厂印刷

*

开本 787×1092 1/16 印张 1.75
1994年6月第1版 1996年1月第2次印刷
印数 1——192 000
ISBN7-107-02198-2

G·3964 (课) 定价 2.05 元

如发现印装质量问题影响阅读请与北京出版社联系
电话：201·2334

编辑说明

一、九年义务教育三、四年制历史地图填充图册是根据人民教育出版社历史室新编的义务教育初级中学历史教材编绘的。本图册以填充地图为主，还增加了形象图知识的内容，供学生课后练习填写，以帮助学生对课文内容的理解和记忆，增强学生在地理观念上把握历史事件和历史现象的能力。

二、这套九年义务教育三、四年制历史地图填充图册是以教科书为基础的系列化用书，共分六册，其中，中国历史四册，世界历史二册，供“六·三”、“五·四”两种学制的初级中学使用。

三、为增加图册的美观，增强学生对历史地理的学习兴趣，本套图册采用双色版。由于我们对编绘双色版历史地图填充图册还缺乏经验，难免有不足之处，敬请老师和学生们提出改进意见，以便再版时修订。

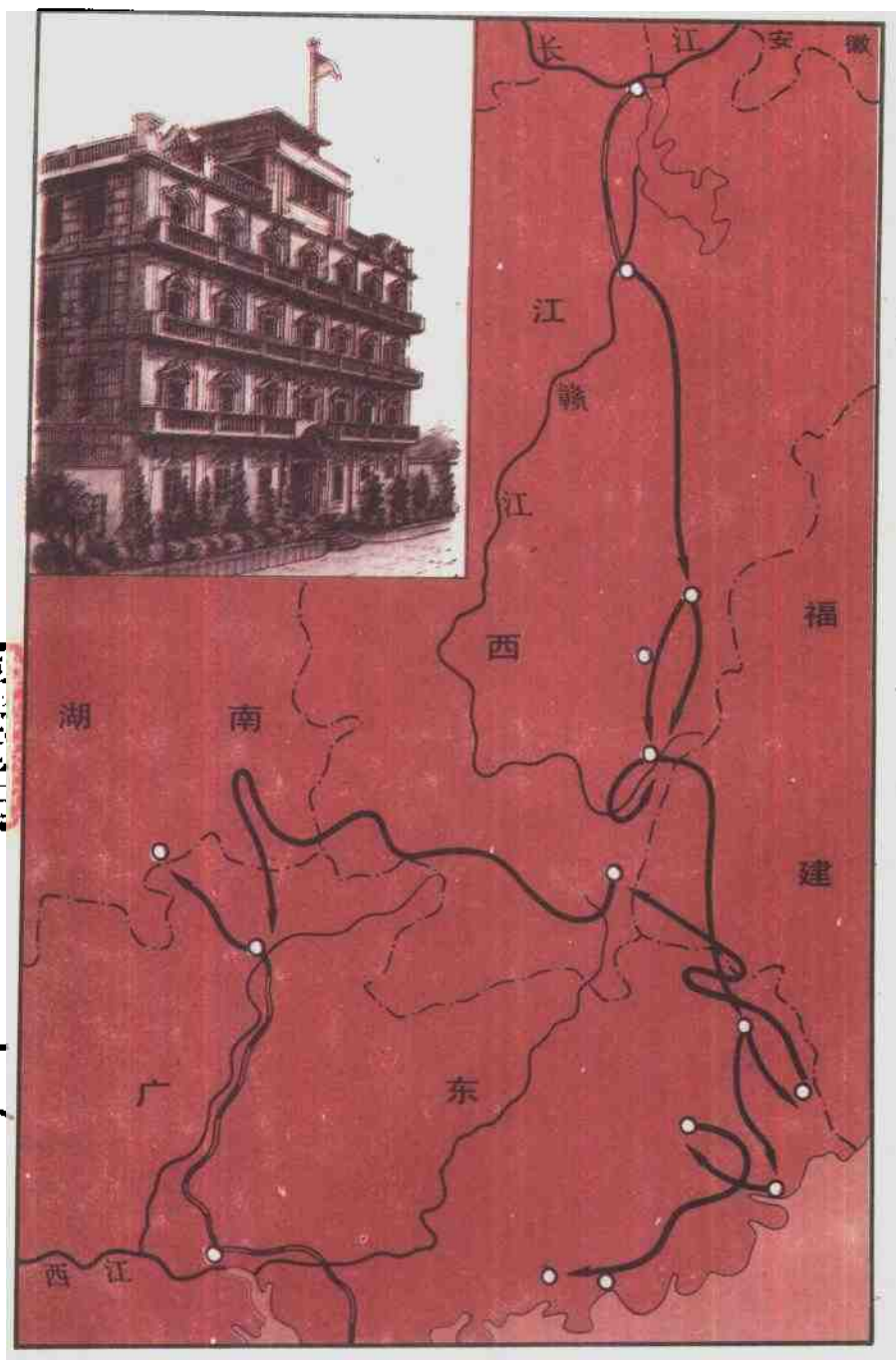
人民教育出版社 历史室

1993·10

目 录

南昌起义广州起义示意图	1
秋收起义和井冈山会师示意图	3
1929—1932 年农村革命根据地示意图	5
中国工农红军长征路线示意图	7
东北三省沦亡示意图	9
卢沟桥事变示意图	11
华北敌后根据地示意图	13
中共中央、毛泽东转战陕北路线示意图	15
南线我军挺进中原示意图	17
三大战役作战示意图	19
渡江战役示意图	21
中国人民志愿军 1—3 次战役示意图	23
1966—1976 年间建成的部分工程示意图	25
1978—1988 年间建成的部分工程示意图	27

南昌起义、广州起义示意图



班级


姓名



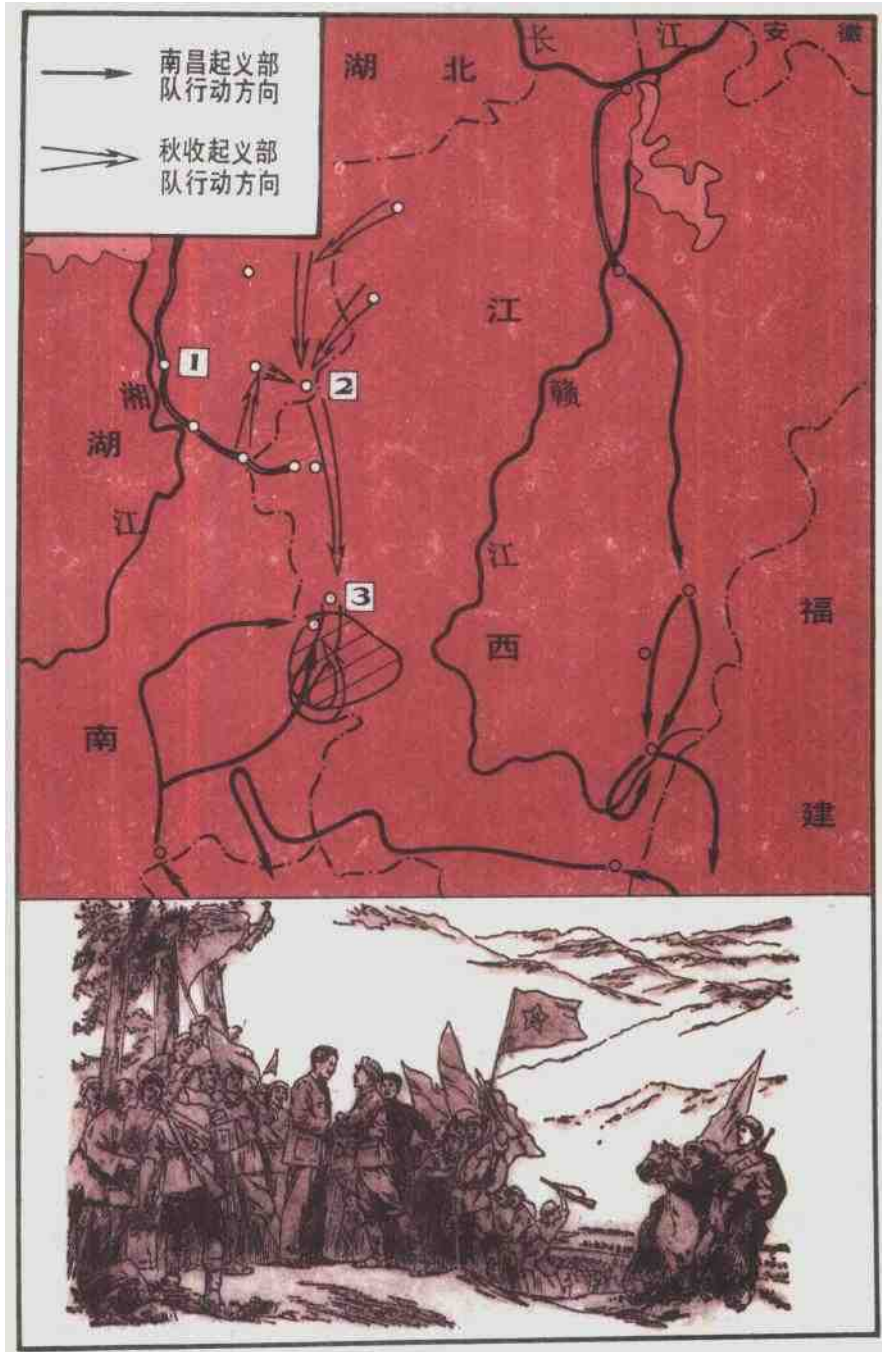
060087

B8618/05 03

- ①在南昌起义进军路线上填上南昌的地名。
- ②在图上广州起义的地点画出“★”号。
- ③左上角形象图的图名是_____。



秋收起义和井冈山会师示意图



班级

姓名

- ①在秋收起义图上填出下列地名：1 _____、2 _____、3 _____。
- ②找出井冈山根据地的位置，在图上画出“★”号。
- ③请填出形象图的图名 _____。

1929—1932 年农村革命根据地示意图



①根据图上标号填出各革命根据地的名称： 1、_____ 2、_____ 3、_____ 4、_____。

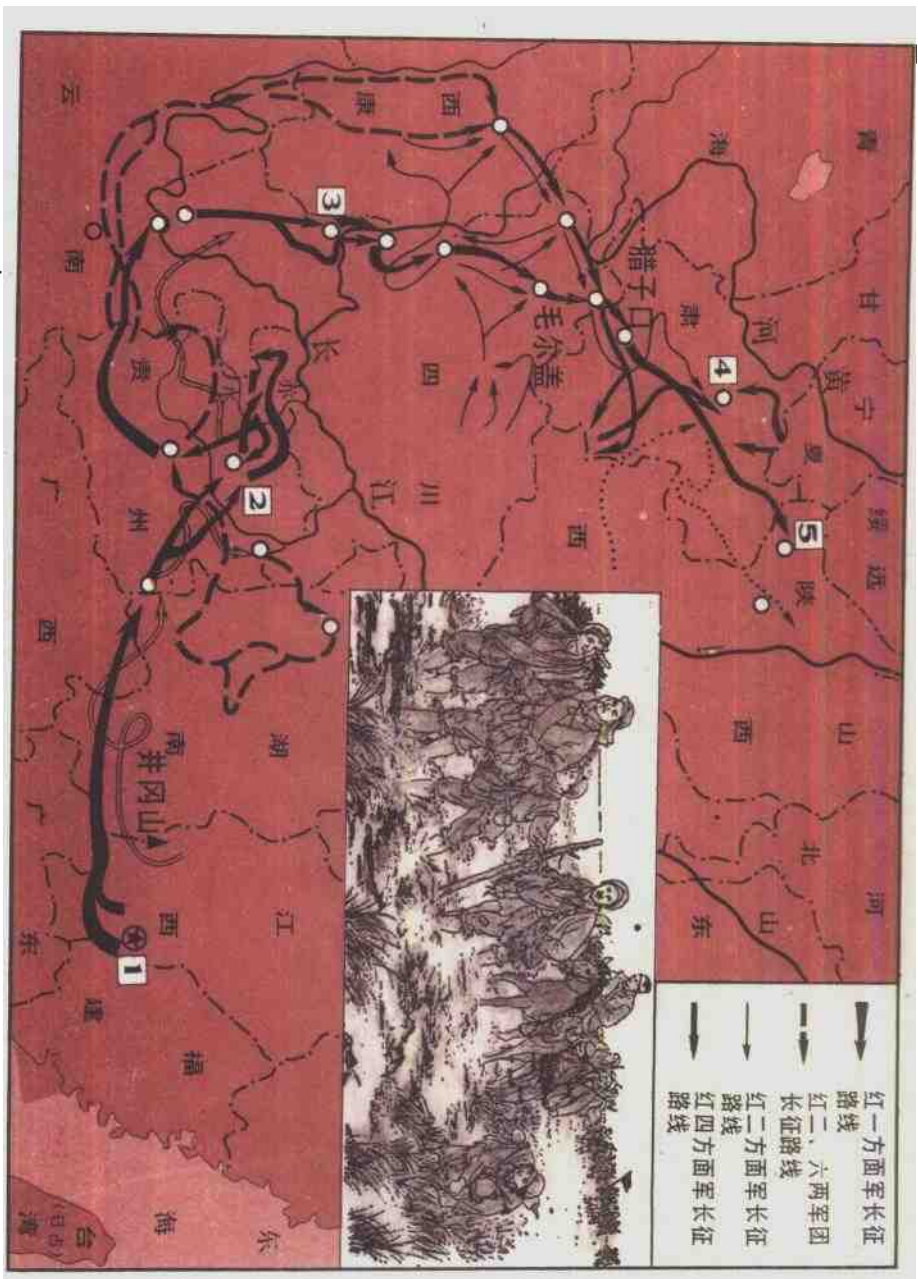
②请填出左下角形象图的图名_____。

班级

姓名



中国工农红军长征路线示意图




班级


姓名

- ①在红军长征路线上填出下列地名：1 _____、2 _____、3 _____、4 _____、5 _____。
- ②填出：一、二、四三个方面军会师地区 _____。
- ③请填出右上方形象图的图名 _____。





卢沟桥事变示意图



班级

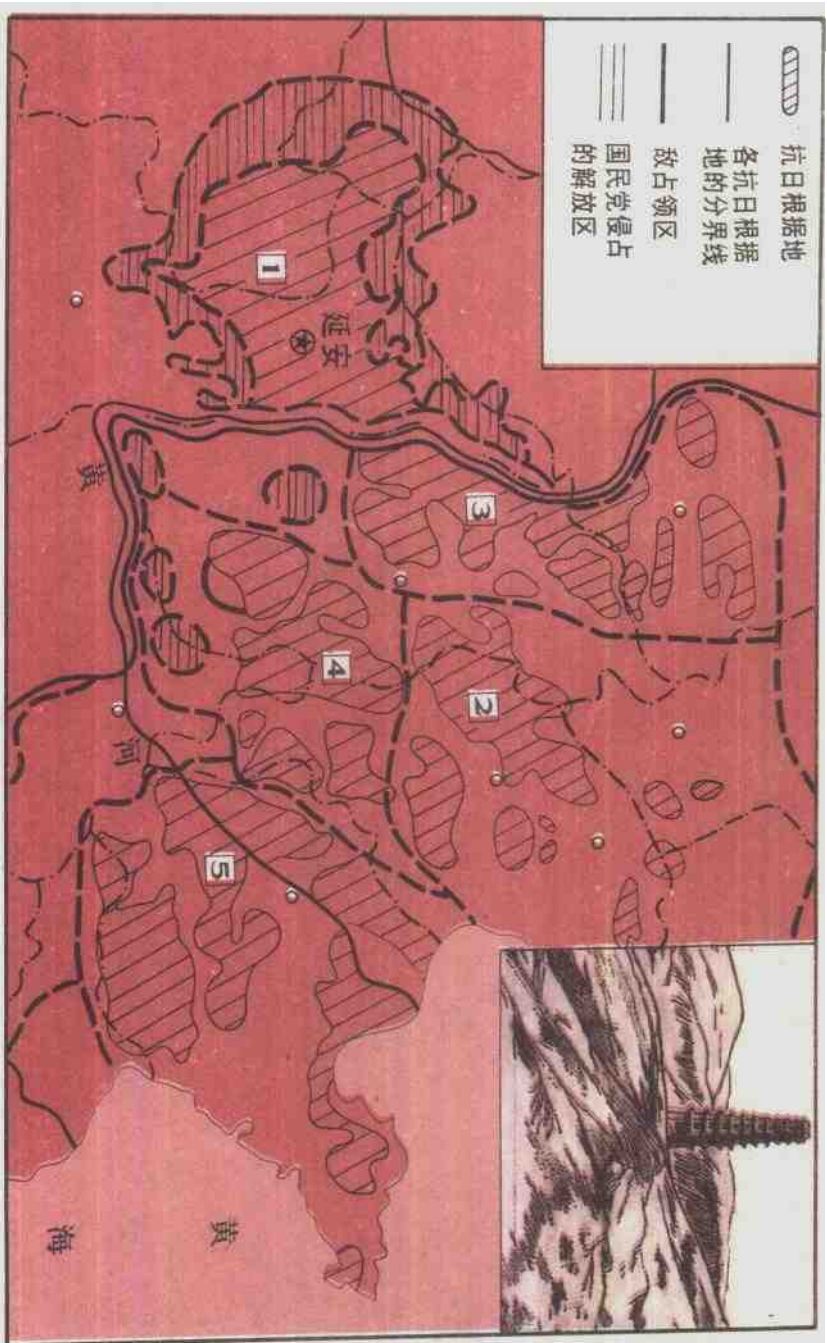
姓名

根据图上编号

- ① 填出下列地名： 1. _____ 2. _____。
- ② 指出日军进军卢沟桥的路线是 _____。
- ③ 填出右上方形象图的图名 _____。



华北敌后根据地示意图



班级

姓名

- ①根据图上编号，填出根据地的名称：1 _____、2 _____、3 _____、4 _____、5 _____。
- ②请填写右上方形象图的图名 _____。