






国家教委中小学教材审定委员会审查通过

九年义务教育三年制初级中学试用课本



地理

第三册

DILI

九年义务教育教材（沿海地区）编写委员会编

中国地图出版社出版



国家教委中小学教材审定委员会审查通过
九年义务教育三年制初级中学试用课本

地 理

(第三册)

黄德芬
郑粤飞 袁书琪 韩 延

九年义务教育教材(沿海地区)编写委员会编
中国地图出版社出版

九年义务教育三年制初级中学试用课本

地理(第三册)

中国地图出版社出版

本社地址:北京市白纸坊西街3号

邮政编码:100054

北京市通县北关闸印刷装订厂印刷


广东省新华书店发行

787×1092 16开 $6\frac{1}{4}$ 印张


1995年10月第2版1997年6月第7次印刷

ISBN7-5031-1589-0/G·933(课)

定价:7.20元(C)




巍峨的喜马拉雅山脉



青藏高原的中心地带



长江中下游平原之春



广西桂林的石灰岩地形



黑龙江五大连池火山



北极村冬景




椰岛盛夏




吐鲁番盆地中的火焰山




洪涝灾害




台风过后



浩瀚的塔克拉玛干沙海



塔里木河



长江源头的皑皑雪山



荆江分洪工程闸



黄河下游的“地上河”



黄河凌汛




龙羊峡大坝夜景



京杭运河中的船队



流经广州的珠江河段



鄱阳湖渔舟唱晚

南水北调的江都水利枢纽工程




西沙宣德群岛鸟瞰



南方沿海的珊瑚采集




东海渔港



南海石油钻井平台



海南岛莺歌海盐场



新疆的长绒棉种植



治理后的三江平原大豆丰产田



江南水田的稻作农业



黄淮海平原的小麦收获

九年义务教育教材（沿海地区）编写委员会

主任：王屏山

副主任：（以姓氏笔画为序）

马长冰 叶世雄 苏式冬 李荫华 吴紫彦 陈锦铎
周国贤 徐名滴 谢 峰 管 林 黎克明

说 明

本册课本供初二学生第一学期使用。内容在初一学完世界地理的基础上,开始学习中国地理。

本册课本的编写人员有:黄德芬、郑粤飞、袁书琪、韩延,由黄德芬统稿。

地图编辑:张 霞 胡志刚

编绘:黄玉玲 王 强 朱云平 仇亚玲

地图审校:周 清

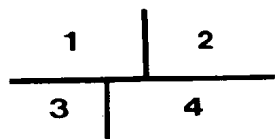
插画美工:黄玉玲等

出版审订:张先恩

重版修订:卢金伟

本图上中国国界线系按照我社1989年出版的1:400万《中华人民共和国地形图》绘制

封面照片说明：



- 1 春到乌苏里江
- 2 帕米尔高原上的雪山
- 3 漠河北陞亭
- 4 南海风光

于光远

1957

封底照片说明：

(自上至下依次为)

东北地区的人工林
广东宝安县的网箱养鱼
热带经济作物油棕林
珠江三角洲的基塘农业

目 录

第一章 中国的疆域和行政区划	1	第五章 中国的河流和湖泊	43
疆域和位置	1	外流区与内流区	43
行政区划	3	中国第一大河——长江	46
第二章 中国的人口和民族	8	中国第二长河——黄河	51
世界上人口最多的国家	8	华南的大动脉——珠江	55
统一的多民族国家	11	沟通五大水系的京杭运河	56
第三章 中国的地形	16	淡水湖和咸水湖	57
地形的特点	16	中国的水资源	58
西高东低、三级阶梯的地势	16	第六章 中国的近海和岛屿	60
五种地形及其分布	17	五大海区	60
地形对中国环境和经济发展的影 响	26	海岸和岛屿	62
火山和地震	27	开发利用海洋资源	64
第四章 中国的气候	30	第七章 中国的土地资源和农业	67
气候的基本特征	30	土地资源的特点	67
影响中国气候的主要因素	31	土地资源的合理利用和保护	69
气温和温度带	33	种植业和粮食生产	70
降水和干湿地区	36	大力发展林业 改善生态环境	76
特殊天气和天气预报	38	畜牧业和水产业	78
		中国农业的发展	81
		地理趣题	83
		地理小制作	87

第一章 中国的疆域和行政区划

我们伟大的祖国——中华人民共和国，历史悠久，是世界文明古国之一。今天，是屹立在世界东方的巨人。

疆域和位置

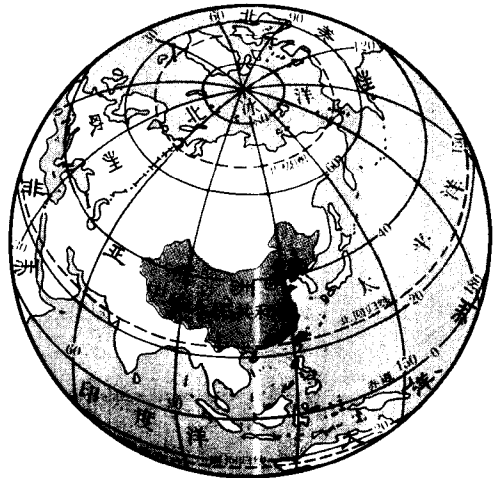
辽阔的国土 我国疆域辽阔，陆地总面积约 960 万平方千米，约占世界陆地总面积的 1/15，差不多与整个欧洲相等，是世界上面积最大的国家之一。从最南到最北相距 5 500 千米，一月，祖国北方冰天雪地，南部的南海诸岛却是盛夏景象；从最东到最西相距约 5 200 千米，当祖国最东部黑龙江与乌苏里江汇合处的渔民迎着朝阳到江上捕鱼的时候，最西部帕米尔高原上的牧民还正在深夜中酣睡呢！

在图 1. 1 上把我国的轮廓线用红笔描绘出来。



图 1. 1 中国在地球上的位置

我国不仅陆地面积广大，而且还有广阔的海域。渤海是我国的内海。黄海、东海和南海是我国的边缘海，与太平洋相连。1958 年我国宣布领海宽度为 12 海里。



漫长的疆界线 我国的陆上疆界，东端从中朝边界的鸭绿江口起，按逆时针方向，绕过祖国的北部、西部和南部，蜿蜒曲折，到中越边界的北仑河河口止，总长 22 000 多千米，与我国接壤的国家有 15 个。我国也是世界上海岸线最长的国家之一，大陆海岸线长达 18 000 多千米。如果加上散布在海上 5 000 多个岛屿的海岸线，总长度达 30 000 千米以上。与我国隔海相望的国家有 6 个。

1. 对照《中国地图册》中的中国行政区划图，找出我国最南、最北、最东、最西四点，标在图 1.2 上，并读出它们的经、纬度（约数）。



最南：曾母暗沙，纬度_____。

最北：漠河以北黑龙江主航道的中心线，纬度_____。

最东：黑龙江与乌苏里江的主航道汇合处，经度_____。

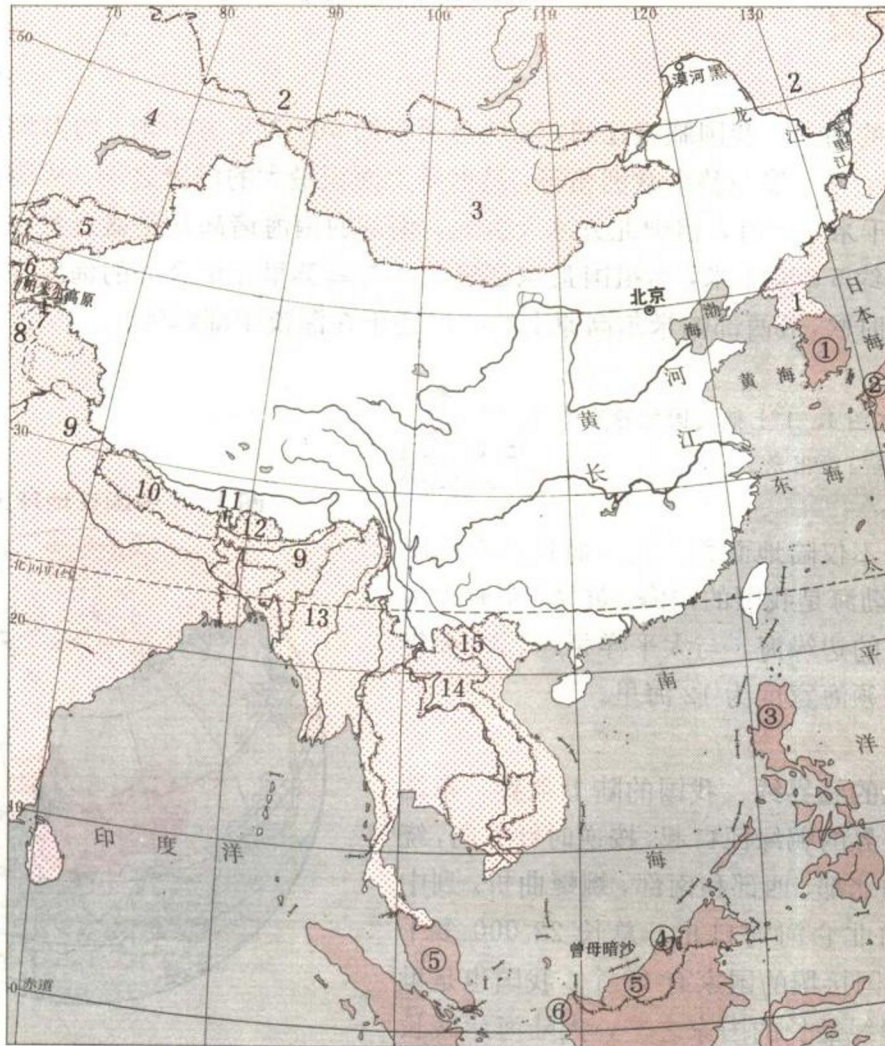
最西：帕米尔高原，经度_____。

2. 算一算

最东与最西经度相差约_____度，时间相差约_____小时（区时）。

最南与最北纬度相差约_____度，按五带划分最南处于_____带，最北接近_____带。大部分领土在_____带。

图 1.2 中国的疆域



1—15 陆上接壤的国家

①—⑥ 隔海相望的国家

3. 对照《中国地图册》的中国政区图，把图 1. 2 中的邻国按编码写出国名：

陆上接壤	1 _____	2 _____	3 _____	4 _____	5 _____
	6 _____	7 _____	8 _____	9 _____	10 _____
	11 _____	12 _____	13 _____	14 _____	15 _____
隔海相望	① _____	② _____	③ _____		
	④ _____	⑤ _____	⑥ _____		

4. 与我国有两处接壤的邻国有：_____、_____。

优越的地理位置 我国位于北半球 亚洲大陆的东部，太平洋的西岸，背靠大陆，面向海洋，海陆兼备。北回归线穿过我国的南部，绝大部分领土处在温带，兼有热带。这样的地理位置是十分优越的。

讨论：分析我国的地理位置有什么优越性。



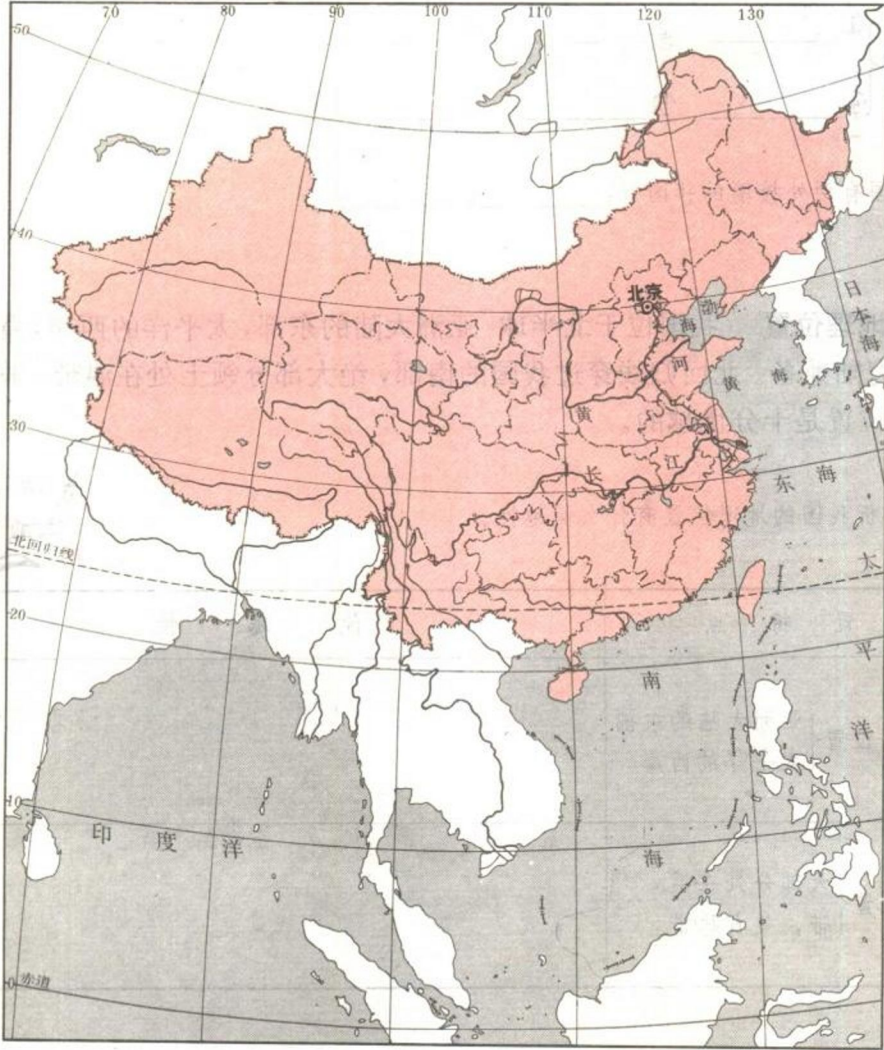
位 置 特 点	优 越 性
海陆位置 { 亚洲大陆的东部 太平洋的西岸	
纬度位置 { 大部分处在温 带，兼有热带	

行政区划

三级行政区划 国家对行政区域的划分称为行政区划。我国的行政区域基本上划分为省（自治区、直辖市）、县（市、自治县）和乡（镇）三级。乡（镇）是我国最基层的行政单位。目前我国的省级行政单位共有 23 个省、5 个自治区和 3 个直辖市。

在历史上和习惯上，各省（自治区、直辖市）还有简称。省级政府机关驻地叫省级行政中心，其中，省政府驻地也叫省会，自治区政府驻地也叫首府。中央政府驻地称为首都。北京是我们伟大祖国的首都。

图 1.3 中国的行政区划



对照《中国地图册》中的中国政区图，把我国的省级行政单位名称填写在图 1.3 上。



中国省级行政区划

省级行政单位名称	简称	省级行政中心
北京市	京	北京
天津市	津	天津
河北省	冀	石家庄
山西省	晋	太原
内蒙古自治区	内蒙古	呼和浩特
辽宁省	辽	沈阳
吉林省	吉	长春
黑龙江省	黑	哈尔滨
上海市	沪	上海
江苏省	苏	南京
浙江省	浙	杭州
安徽省	皖	合肥
福建省	闽 (mǐn)	福州
江西省	赣 (gàn)	南昌
山东省	鲁	济南
河南省	豫	郑州
湖北省	鄂	武汉
湖南省	湘	长沙
广东省	粤 (yuè)	广州
广西壮族自治区	桂	南宁
海南省	琼	海口
四川省	川或蜀 (shǔ)	成都
贵州省	贵或黔 (qián)	贵阳
云南省	云或滇 (diān)	昆明
西藏自治区	藏	拉萨
陕西省	陕或秦	西安
甘肃省	甘或陇 (lǒng)	兰州
青海省	青	西宁
宁夏回族自治区	宁	银川
新疆维吾尔自治区	新	乌鲁木齐
台湾省	台	台北