

推理画谜

浩坚 编著




77.8

北京体育学院出版社

J527.8
J6
2

推理畫謎

浩堅編著 解華繪圖



北京体育学院出版社

责任编辑：李家琦

封面设计：沈 皓

推理画谜

浩坚编著 解华绘图

北京体育学院出版社出版发行
(北京西郊圆明园东路)

新华书店总店北京发行所经销
北京大兴建兴胶印厂印刷

开本：787×1092毫米 1/32 印张：3.25

定价：2.50元

1989年12月第1版

1989年12月第1次印刷

印数：10,000册

ISBN7-81003-345-X/G.255

(凡购买本版图书因装订质量不合格本社发行部负责调换)

出版者的话

谜语是用非常精炼的文字，暗射事物或字、词等，供人猜测的隐语。猜谜语是一种有益于发展智力和增进健康的活动，也是儿童青少年喜爱的活动，很值得提倡。我社在商谈出口专业著作的过程中，先引进了港版台湾智力游戏小丛书，目的是为竞技体校学生和儿童青少年提供课外读物。

目 录

- 想想看,圆圈中这六只动物是什么? (1)
- 图中白鸽知多少? 仔细数一数..... (2)
- 想一想这些足迹都是哪一种动物留下来的? (3)
- 请一笔画出两个正方形来,把这五种动物分开 (4)
- 你能认出这些照片上各拍摄了些什么动物? (5)
- 移动一只鸭子,使三角形的每一条边上的
鸭子总数都等于9 (6)
- 请把这张图重排一下,使每一直行、
每一横行上都有这四种动物..... (7)
- 大家来比一比,看上一分钟,把书合上
说出画中有哪几种动物? 看谁记得多? (8)
- 这些动物面前的食物它们都不喜欢,
请你给它们调整一下..... (9)
- 请按数目字的顺序,用直线联起来,
你就可以看到一只可爱的小动物了 (10)
- 一只熊猫等于几只鸟? (11)
- 这四样东西是什么? (12)
- 用眼睛把这些圆环扫上一遍,立刻回答,
绳子穿中了几个环? (13)
- 上面两个图形中间是不是长方形呢?
下面是一个圆吗? (14)

这两张照片,是在不同的时候拍的.

哪一张先拍的?为什么? (15)

这些东西都画错了,请指出错在哪里? (16)

请把花和它的枝叶配起来 (17)

粗心的小猴画成了一幅速写画.

有哪些地方画错了? (18)

你以为 AB 两只大象的鼻尖之间距离大呢?

还是 BC 两只大象的鼻尖之间的距离大? (19)

照片上的人是老公公还是年青人,

你看得出来吗? (20)

哪一种情况可以击中目标? (21)

分成四块,四块形状相同,每块中要有太阳、

月亮和星星 (22)

相同的货轮装载了同样重的货物,

哪一艘在内河航行?哪一艘在海洋航行? (23)

小齐正在切大西瓜,他要把西瓜切为十四块,

只用四刀就切成了,你知道是怎样切的吗? (24)

一笔画成电子图形 (25)

用直尺在月牙上画两条直线,把它分成六块 (26)

把这个箭头图形剪开,再拼成一个正方形 (27)

你能把这个图形分成大小、形状完全相等的四块吗?

如果你会的话,还可以用这四小块再拼成一个

镜框呢 (28)







把三角形分成大小、形状完全相等的三块、四块

- 和六块,是不是只有三种答案?
- 你还有别的答案吗? (29)
- 请把 0—9 这十个数字分别填进适当的位置,
使这些等式成立 (30)
- 请把 1—8 这几个数字填入适当的圆圈中,
使这些等式成立 (31)
- 请把 1、2、6、8 这四个数字填入小方格,
使四个等式合理成立 (32)
- 请把从 1—8 这八个数字填入小圆圈,
使两个椭圆周上的四数之和以及中间直线上
的四数之和都等于 18 (33)
- 把十八只苹果重新排列一下,放进九个小方格中,
使每直行、横行的苹果加起来都等于 6 只 (34)
- 阿毛想把大瓶中装的一斤酒平分成两个半斤,
旁边只有两只空瓶,应该怎样分法? (35)
- 苹苹到菜地锄草,她一口气锄完了全部菜地里的草,
但没有一次路线重复,怎样走的? (36)
- 这三张相片,哪一张是上午拍的? 哪一张是晚上拍的?
哪一张是正午拍的? (37)
- 桌上放着一杯水,三个孩子看到的水面形状一样吗?
如果不一样,各看了上面图中的哪一种? (38)
- 往竹筒中倒满水以后,三个孔中的水各会流向
哪一只碗中去? (39)
- 各种号码的车辆都要进入与它同号的车库中停放,


但它们所走的路线是不准交叉的,请你画画看……………	(40)
这是从不同的角度看几枚棋子的样子。你说,到底有几枚棋子呢? ……………	(41)
这是一个积木块,只不过放法不同,请你判断一下,与每一个面相对的那个面上是什么图案? ……………	(42)
三位小自行车运动员,假如他们用的劲儿一样大,谁能得第一名呢? 谁又“名落孙山”? ……………	(43)
漫游数学城 ……………	(44)
动物足迹 ……………	(45)
看画 ……………	(46)
数葡萄 ……………	(47)
分土地 ……………	(48)
4变5 ……………	(49)
多少厚? ……………	(50)
装配拖拉机 ……………	(51)
快几倍? ……………	(52)
鹅和兔子 ……………	(53)
几个苹果? ……………	(54)
填线成字 ……………	(55)
找动物 ……………	(56)
数字熊猫 ……………	(57)
海狮顶球 ……………	(58)
骏马奔跑 ……………	(59)
蜗牛爬树 ……………	(60)

哪条路近些?	(61)
怎样走?	(62)
九九题	(63)
智切钢板	(64)
找子弹	(65)
拼三角形	(66)
移火柴	(67)
找找看	(68)
小熊找妈妈	(69)
化蛋为鸡	(70)
跳绳比赛	(71)
找动物	(72)
一笔画出来	(73)
比快慢	(74)
看谁连得快	(75)
挂灯	(76)
配屋顶	(77)
问题解答	(78)


想想看，圆圈中这
六只动物是什么？




白鸽知多少？仔细数一数。



这些足迹是哪一种动物留下来的？

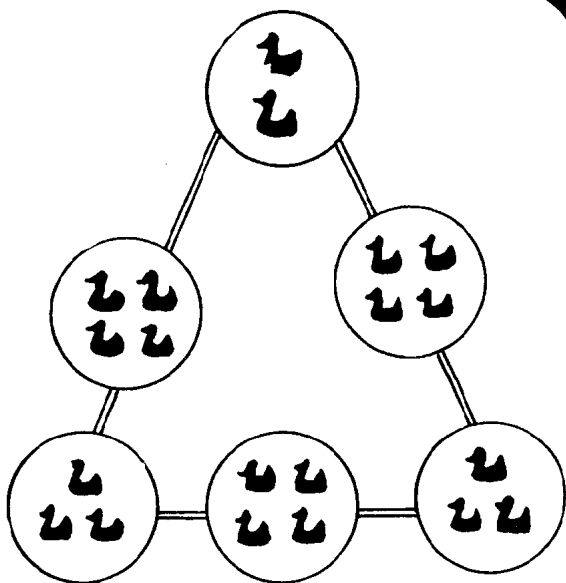


请一笔画出两个正方形来，把这五种动物分开。







请你认出这些照片上各拍摄了些什么动物？



移动一只鸭子，使三
角形的每一条边上的
鸭子总数都等于 9。

请把这张图重排一下，使每一直行，
每一横行上都有这四种动物。



大家来比一比，看上一分钟，把画合上，
说出画中有哪几种动物？看谁记得多？

