

海 淀 同 步 练 与 测 2002版

■ 课课练

■ 单元测

■ 期中期末考

分 课 时 A B 卷

# 海淀随堂 大验收

小学数学

五年制（第二册）

吉林教育出版社  
中国少年儿童出版社

710 171  
PDF

# 目 录

<b>第一单元 100 以内数的读法和写法</b> .....	(1)
1. 100 以内数的读写 .....	(1)
2. 整十数加一位数 相应的减法 .....	(3)
单元测试题 .....	(5)
<b>第二单元 厘米和米的认识</b> .....	(7)
1. 认识厘米和米、用厘米、米量 .....	(7)
2. 线段 .....	(9)
单元测试题 .....	(11)
<b>第三单元 100 以内的加法和减法(一)</b> .....	(13)
1. 整十数加、减整十数 .....	(13)
2. 两位数加一位数、整十数(不进位) .....	(15)
3. 小括号 .....	(17)
4. 两位数减一位数、整十数(不退位) .....	(19)
5. 应用题 .....	(21)
6. 两位数加一位数(进位) .....	(23)
7. 两位数减一位数(退位) .....	(25)
8. 整理和复习 .....	(27)
单元测试题 .....	(29)
<b>第四单元 人民币的认识</b> .....	(31)
1. 认识人民币 .....	(31)
2. 简单的计算 .....	(33)
单元测试题 .....	(35)
<b>期中测试题</b> .....	(37)
<b>第五单元 100 以内的加法和减法(二)</b> .....	(41)
1. 两位数加两位数 .....	(41)
2. 两位数减两位数 .....	(43)
3. 连加、连减和加减混合 .....	(45)

4. 应用题 .....	(46)
5. 整理和复习 .....	(48)
单元测试题 .....	(50)
<b>第六单元 认识图形(二)</b> .....	(52)
1. 长方形、正方形、三角形、圆 .....	(52)
2. 组合图形 .....	(54)
单元测试题 .....	(57)
<b>第七单元 表内乘法(一)</b> .....	(59)
1. 乘法的初步认识 .....	(59)
2. 2~4 的乘法口诀 .....	(61)
3. 乘加、乘减 .....	(63)
4. 5 的乘法口诀 .....	(65)
5. 乘法应用题 .....	(68)
6. 6 的乘法口诀 .....	(70)
7. 整理和复习 .....	(72)
单元测试题 .....	(74)
<b>第八单元 总复习</b> .....	(76)
<b>期末测试题</b> .....	(79)
<b>部分参考答案</b> .....	(83)

# 第一单元 100以内数的读法和写法

## 1. 100以内数的读写

### A卷

#### 一、数一数

1. 从二十七数到四十。
2. 从四十九数到六十九。
3. 十个十个地数,从三十数到一百。

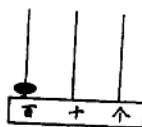
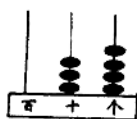
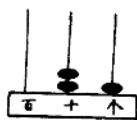
#### 二、按数的顺序填空

1. 78、( )、( )、( )、82、( )、( )。
2. ( )、( )、85、84、( )、( )、81。

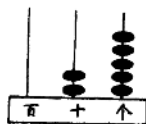
#### 三、填空

1. 1个十是( ); 10个十是( )。
2. 4个一是( ); ( )个十是60。
3. 52里面有( )个一和( )个十。
4. 6个十和9个一合起来是( )。

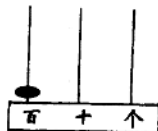
#### 四、读出下面各数




#### 五、看图填数



( )



( )



( )

六、在下面的○里填上“>”、“<”或“=”

$26 \bigcirc 62$

$90 \bigcirc 80$

$69 \bigcirc 96$

$3 \text{个十} \bigcirc 30$

$35 \bigcirc 32$

$46 \bigcirc 56$

$50 \bigcirc 49$

$6 \text{个十} \bigcirc 7 \text{个十}$

$65 \bigcirc 65$

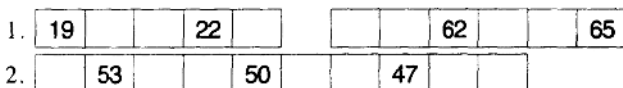
$31 \bigcirc 29$

$58 \bigcirc 85$

$4 \text{个一} \bigcirc 4 \text{个十}$

## B卷

一、按顺序填数



二、把下面各数按从小到大的顺序填入方格里

90 18 33 69 45 27 82 74

--	--	--	--	--	--	--	--	--

三、写出下面各数

五十六

六十九

七十三

( )

( )

( )

八十

九十四

一百

( )

( )

( )

四、按顺序写数

1. 从 36 写到 57。\_\_\_\_\_

2. 从 88 写到 100。\_\_\_\_\_

五、填空

1. 66 是由( )个十和( )个一组成的。

2. 100 里面有( )个十。

3. 50 前面的数是( ), 50 后面的数是( )。

4. 99 它十位上的 9 表示 9 个( ), 个位上的 9 表示 9 个( )。

5. 最小的两位数是( ), 最大的两位数是( )。

六、判断下面各题, 对的打“√”, 错的打“×”

1. 十位上是 5, 个位上是 2, 这个数是 25。 ( )

2. 48 是由 4 个十和 8 个一组成的。 ( )

3. 十个十个地数, 数到 70, 再数 2 个十是 90。 ( )

4. 和 79 相邻的两个数是 80 和 81。 ( )

七、数一数

1. 你所在的班上有( )名学生, 其中男生有( )名, 女生有( )名。

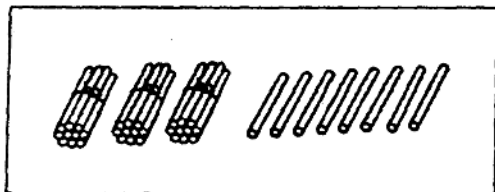
2. 你上课的教室里有( )张桌子,( )把椅子。  
3. 你家里有( )本书。

## 2. 整十数加一位数 相应的减法

### A卷

#### 一、填空

1.



( )个十和( )个一

2. 36 里面有( )个十和( )个一。  
3. 67 里面有( )个一和( )个十。  
4. 4 个十和 5 个一是( )。

#### 二、照样子填空

$$26 = ( 20 ) + ( 6 )$$

$$34 = ( ) + ( )$$

$$75 = ( ) + ( )$$

$$93 = ( ) + ( )$$

#### 三、在○里填上“>”、“<”或“=”

$$60 + 5 \bigcirc 60$$

$$43 \bigcirc 46 - 6$$

$$28 \bigcirc 20 + 9$$

$$7 \bigcirc 27 - 7$$

$$10 + 9 \bigcirc 22 - 2$$

$$80 + 6 \bigcirc 6 + 80$$

#### 四、直接写出得数

$$50 + 4 =$$

$$38 - 8 =$$

$$2 + 30 =$$

$$39 - 9 =$$

$$80 + 4 =$$

$$95 - 5 =$$

$$67 - 7 =$$

$$8 + 40 =$$

$$90 + 9 =$$

$$45 - 5 =$$

$$60 + 7 =$$

$$78 - 8 =$$

#### 五、应用题

1. 停车场上有 8 辆 , 20 辆 , 停车场上一共有多少辆车?

$$\square \bigcirc \square = \square (\text{辆})$$

答: 停车场上一共有  辆车。

2. 公园里有 45 棵树, 其中杨树有 5 棵, 剩下的是松树, 松树有多少棵?


$$\square \bigcirc \square = \square \text{ (棵)}$$

答: 松树有  $\square$  棵。

## B 卷

### 一、看图在 $\square$ 里填数

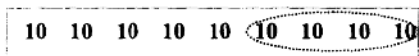
1.



$$\square \text{ 个 } 10 \square \text{ 个 } 1, \text{ 共 } \square$$

$$\square + \square = \square$$

2.



共个  $\square$  10, 去掉  $\square$  个 10, 剩下  $\square$  个 10。

$$\square - \square = \square$$

### 二、口算下面各题

$25 - 5 =$

$30 + 7 =$

$67 - 7 =$

$90 + 3 =$

$5 + 30 =$

$23 - 3 =$

$9 + 20 =$

$38 - 8 =$

$6 + 60 =$

$77 - 7 =$

$6 + 50 =$

$35 - 5 =$

### 三、在下面的 $\bigcirc$ 里填上“+”或“-”

$40 \bigcirc 7 = 47$

$54 \bigcirc 4 = 50$

$87 \bigcirc 7 = 80$

$5 \bigcirc 60 = 65$

$7 \bigcirc 60 = 67$

$90 = 95 \bigcirc 5$

### 四、解答下面各应用题

1. (1) 班有 26 人在教室里读书, 走出去 6 人, 还剩多少人?

2. 小明的储蓄盒里有 50 元钱, 又放进去了 8 元钱, 现在这个储蓄盒里共有多少元钱?

3. 小红家有 30 本连环画, 9 本故事书, 8 本科技书。(根据下面的 3 个问题分别列出算式)

(1) 连环画和故事书一共有多少本?

(2) 故事书和科技书一共有多少本?

(3) 连环画和科技书一共有多少本?

## 单元测试题

### 一、填空

1. 按从小到大的顺序, 15 前面的数是( ); 15 后面的数是( ); 15 在( )和( )的中间。

2. 比 20 少 1 的数是( ); 比 20 多 1 的数是( ); 20 在( )和( )的中间。

3. 37 是由( )个十和( )个一组成的。

4. 4 个一和( )个十组成 84。

5. 一个数, 个位上是 5, 十位上是 9, 这个数是( )。

6. 89 它十位上的 8, 表示 8 个( )。

7. 一个数从右边起第一位是( )位, 第二位是( )位。

### 二、读出下面各数

28    36    39    42    51    60    79    80    89    90    99    100

### 三、按要求完成下面各题

37    42    67    84    35    68    47    66    75

1. 个位上是 7 的数有:

2. 十位上是 6 的数有:

3. 小于 50 的数有:

4. 大于 60 的数有:

### 四、在正确答案下面的○里涂黑

1. 6 个十和 7 个一组成的数是:

13

67

76

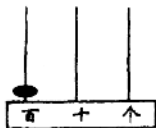
2. 49 和 51 中间的数是:

48

49

50

3.



计数器上的数表示:



1个百

○

1个十

○

1个一

○

4.  $96 \bigcirc 69$ , 在○里应填:

<

○

>

○

=

○

5. 80 和最小的两位数合起来是:

90

○

91

○

89

○

### 五、计算下面各题

$16 - 9 =$

$14 - 6 =$

$17 - 8 =$

$12 - 5 =$

$11 - 9 =$

$13 - 6 =$

$14 - 7 =$

$15 - 8 =$

$18 - 9 =$

$50 + 8 =$

$47 - 7 =$

$89 - 9 =$

$7 + 60 =$

$54 - 4 =$

$5 + 40 =$

$39 - 9 =$

$40 + 8 =$

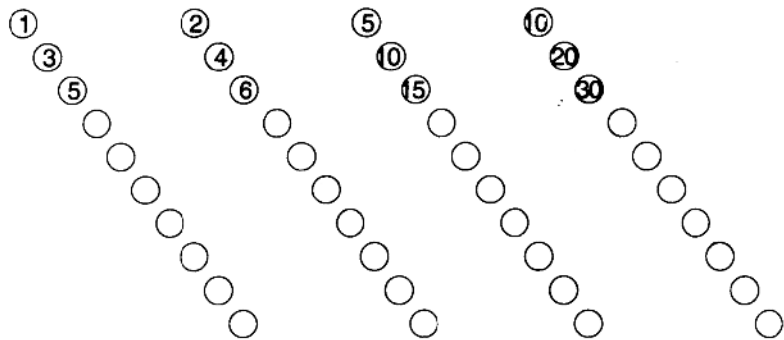
$3 + 70 =$

### 六、应用题

1. 奶奶家养了 56 只兔子, 其中 6 只是黑兔, 其余的是白兔。白兔有多少只?

2. 一本故事书, 妈妈已经看了 80 页, 还剩下 9 页没有看。这本故事书有多少页?

### 七、按规律填数



八、写出几个两位数, 要求这个两位数个位上的数大于十位上的数。比一比谁写出来的比较多?

如: 个位上是 3: 13、23。

## 第二单元 厘米和米的认识

### 1. 认识厘米和米、用厘米、米量

#### A卷

##### 一、填空

1. 量比较短的东西,通常用( )作单位。
2. 量比较长的东西或距离,通常用( )作单位。
3. 量数学课本的长要用( )作单位。
4. 量教室的长要用( )作单位。
5. 3米=( )厘米。
6. 200厘米=( )米。

##### 二、在括号里填上合适的单位。

1. 一根跳绳长 2( )。
2. 一支铅笔长 18( )。
3. 小明的身高是 126( )。
4. 一条方丝巾的边长是 1( )。
5. 一棵大树高 8( )。
6. 一座楼房高 50( )。

##### 三、量一量再填空

- \_\_\_\_\_ ( )厘米
- \_\_\_\_\_ ( )厘米
- \_\_\_\_\_ ( )厘米

##### 四、量一量

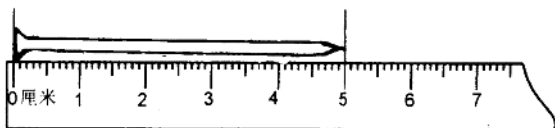
1. 你的文具盒的长是( )厘米。
2. 你用的衣柜的长是( )米。
3. 你家的电视机的长是( )厘米,高是( )厘米。

##### 五、一根绳子长 18 米,第一次剪下 5 米,第二次剪下 6 米,两次剪下多少米?

## B卷

### 一、填空

1. 尺子上从 0 到 1 这一小段是( )厘米,从 1 至 2 这一小段是( )厘米,从 0 到 2 两小段,这两小段是( )厘米。
2. 一支铅笔的长大约是( )厘米。
3. 下面这颗钉子的长度是( )厘米。



4. 米尺上从 0 到 100 就是( )米。
5. 量量自己的身高是( )米( )厘米。

### 二、在( )里填上合适的数

- 1 米 = ( ) 厘米                      400 厘米 = ( ) 米  
3 米 = ( ) 厘米                      5 厘米 = ( ) 米  
30 米 + 6 米 = ( ) 米  
65 厘米 - 20 厘米 = ( ) 厘米  
28 厘米 - 9 厘米 = ( ) 厘米  
41 米 - 8 米 = ( ) 米

### 三、在○里填上“>”、“<”或“=”

- 35 厘米 ○ 43 厘米                      2 米 ○ 20 厘米                      100 厘米 ○ 1 米  
85 厘米 ○ 1 米                      30 厘米 ○ 30 米                      300 厘米 ○ 3 米

### 四、在( )里填上合适的单位

1. 手掌的宽大约是 6( )。
2. 一条围巾的长大约是 90( )。
3. 跳绳的长大约是 2( )。
4. 桌子的高大约是 80( )
5. 数学课的厚度大约是 1( )。


### 五、两根绳子共长 17 米,第一根绳子长 9 米,第二根绳子长多少米?

### 六、一根绳子长 20 米,第一次剪下 8 米,第二次剪下 9 米,这根绳子比原来短了多少米?

## 2. 线段



一、指出下面哪些是线段



二、画一条 4 厘米长的线段

三、量一量下面线段的长度



( ) 厘米



( ) 厘米

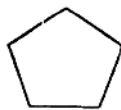
四、下面各图形是由几条线段组成的



( )




( )



( )

五、比一比下面哪条线段最长？哪条线段最短？



# B卷

## 一、填空

1. 线段是可以量出( )的。
2. 课本、课桌的边都可以看成是( )。
3. 从尺的“0”刻度起,到5是( )厘米。
4. 画一条4厘米长的线段,要从尺的(“ ”)刻度开始,画到( )厘米的地方。

## 二、画一画

1. 画一条3厘米长的线段。
2. 画一条5厘米长的线段。

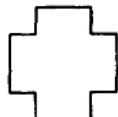
## 三、在下面的每两点之间画线段



## 四、下面各图形是由几条线段组成的



( )

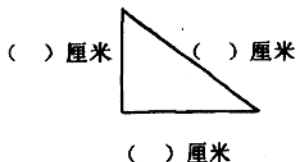


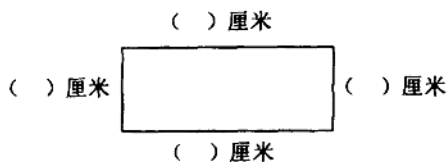
( )



( )

## 五、量一量下面各图形每条边的长度





## 单元测试题

### 一、填空

1. 量比较长的物体或距离用( )作单位。
2. 量比较短的物体用( )作单位。
3. 米尺上从0到1是( )厘米,从0到5是( )厘米。
4. 量铅笔的长用( )作单位,量操场的长用( )作单位。
5. 教室的门边、窗台边都可以看成是( )。

### 二、判断下面各题,对的打“√”,错的打“×”

1. 从尺的“0”刻度开始画起,画到6厘米的地方,这条线段的长是6厘米。 ( )
2. 小明的身高大约是145米。 ( )
3. 要知道物体的长度,要用米尺来量一量。 ( )
4. 我们已学过的长度单位只有厘米。 ( )

### 三、用线连一连

食指的宽大约是	2米
教室的长大约是	21厘米
一支铅笔的长大约是	1厘米
数学课本的长是	8米
黑板的宽大约是	16厘米

### 四、指出下面哪些是线段?



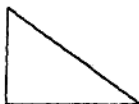
### 五、量一量

1. 你的铅笔长( )厘米。
2. 你的橡皮大约宽( )厘米,长( )厘米。

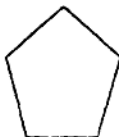
六、下面的图形各是由几条线段组成的？



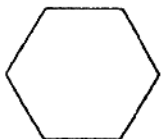
( )



( )



( )



( )



( )



( )


七、先判断哪条线段长些，再量一量



( )厘米



( )厘米



( )厘米

八、应用题

1. 一块布 15 米，做 3 套衣服用 9 米，还剩下多少米？

2. 一根绳子剪去 6 米，还剩下 10 米，这根绳子原来长多少米？

九、把下面的 4 个点用线连起来，数一数有多少条线段？



## 第三单元 100以内的加法和减法(一)

### 1. 整十数加、减整十数



A卷

#### 一、想想再填

$30 + 40 = \square$

$60 - 40 = \square$

3个十加4个十是( )个十。

6个十减4个十是( )个十。

#### 二、口算下面各题

$20 + 30 =$

$40 - 10 =$

$30 + 40 =$

$40 + 20 + 8 =$

$50 - 20 =$

$20 + 50 =$

$70 - 40 =$

$30 + 50 - 20 =$

$60 - 30 =$

$90 - 50 =$

$30 + 30 =$

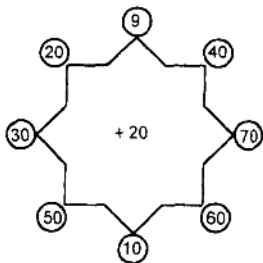
$80 - 40 - 30 =$

#### 三、在( )里填上合适的数

$30 \xrightarrow{+30} ( ) \xrightarrow{-40} ( ) \xrightarrow{-10} ( ) \xrightarrow{+6} ( )$

$50 \xrightarrow{-20} ( ) \xrightarrow{+30} ( ) \xrightarrow{+8} ( ) \xrightarrow{-20} ( )$

#### 四、先写算式,再写得数




---

---

---

---

五、1. 学校有 30 台计算机,又买来 10 台。学校现在有多少台计算机?

口答:学校现在有计算机\_\_\_\_\_台。



2. 商店里有 60 筐苹果, 卖出去了 40 筐, 还剩下多少筐苹果?

口答: 还剩下 \_\_\_\_\_ 筐苹果。

## B卷

### 一、填表

加数	30	6	20	70	30
加数	40	50	10	8	60
和					
被减数	60	70	80	50	90
减数	40	50	30	20	60
差					

### 二、口算下面各题

$30 + 50 =$

$60 - 20 =$

$40 + 30 =$

$56 - 6 - 20 =$

$90 - 70 =$

$20 + 50 =$

$60 - 10 =$

$20 + 10 + 40 =$

$8 + 40 =$

$60 - 30 =$

$80 + 10 =$

$50 - 30 - 10 =$

$50 - 40 =$

$30 + 60 =$

$90 - 40 =$

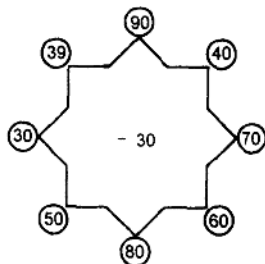
$5 + 4 + 70 =$

### 三、列式计算

1. 一个加数是 70, 另一个加数是 20, 和是多少?

2. 被减数是 90, 减数是 60, 差是多少?

### 四、先写算式, 再写得数




---



---



---



---