

根据教育部颁布的《幼儿园教育指导纲要（试行）》

晨曦幼儿早教发展中心编写

幼小衔接 整合教材

数学 2

- 实用的教学方法
- 灵活的教学模式
- 丰富的教学内容
- 显著的教学效果

吉林美术出版社

3 5 8 6 9

幼小衔接整合教材

数学 2


班级

姓名

年龄

岁






目录




学习位置	
区分上下	4
区分前后	5
区分左右	6
区分位置	8
练习(一)	9
20 以内的退位减法	11
练习(二)	12
解决问题	15
练习(三)	17
综合练习(一)	19

图形的拼组	23
100 以内数的认识	25
数数 数的组成	26
读数 写数	27
练习(四)	28
数的顺序 比较大小	30
练习(五)	32
整十数加一位数 相应的减 法	34
练习(六)	36
认识人民币	38








练习(七)	41
100 以内的加法和减法	
整十数加、减整十数	43
练习(八)	44
两位数加一位数和整十数	
.....	46
练习(九)	48
两位数减一位数和整十数	
.....	50
练习(十)	52
综合练习(二)	54



认识时间	58
练习(十一)	60
找规律	62
练习(十二)	63
统计	65
总复习	67







 在  的上面，

 在  的下面。

 在  的 _____ 面，


 在  的 _____ 面。

 在  的 _____ 面，

 在  的 _____ 面。





区分前后



 在  的前面， 在  的后面。

 在  的前面， 在  的后面。

请你想一想， 的前面有谁？后面有谁？

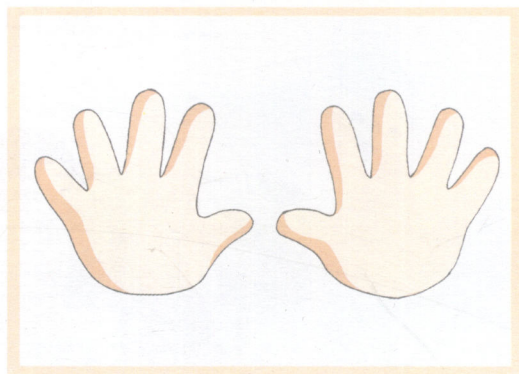
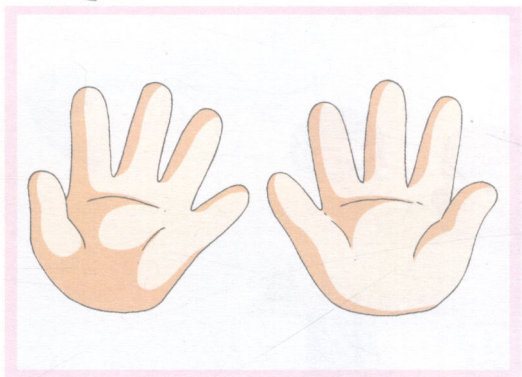


红队在最前面，黄队在红队的后面。

蓝队在绿队的____面，绿队在蓝队的____面。



区分左右



我有一双小小手，一只左来一只右，
小小手，小小手，一共十个手指头。






请你说一说，左手和右手还能帮我们做什么呢？



做一做

一、

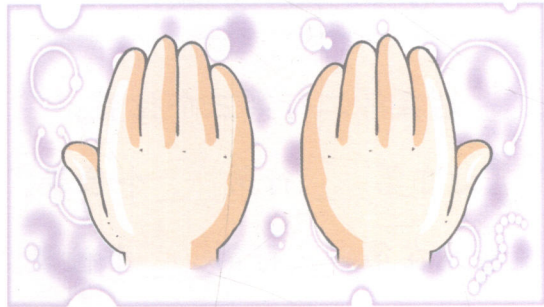
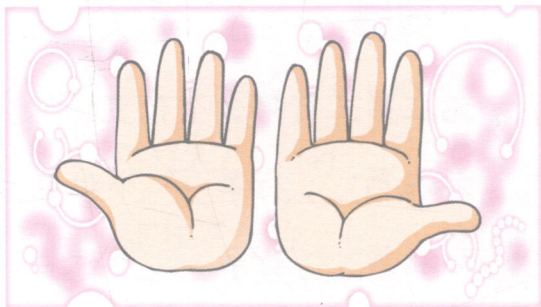


 在  的 _____ 边,  在  的 _____ 边。

 在  的 _____ 边,  在  的 _____ 边。

 在  的 _____ 边,  在  的 _____ 边。

二、看图说一说哪只是左手,哪只是右手。





区分位置

第三行



第二行



第一行



站在第二行第三个位置。



站在第三行第三个位置。



站在第___行第___个位置。



站在第___行第___个位置。



站在第___行第___个位置。




站在第___行第___个位置。

练习(一)

一、看图回答问题。


1.



在 的 _____ 面, 在 的 _____ 面。

在 的 _____ 面, 在 的 _____ 面。

2.



挂在 的右边, 的 _____ 边。


挂在 的 _____ 边, 的 _____ 边。

挂在 的 _____ 边, 的 _____ 边。

挂在 的 _____ 边。

二、数一数，填一填。

1.



从下往上数，

第一层_____块积木。

第三层_____块积木。

把第四层从左边数的第三块积木用笔圈出来。

第六层_____块积木。

把第五层从右边数的第二块积木用笔圈出来。

2.


 往上走_____格，

再往左走_____格能

吃到。

 往上走_____格，

再往右走_____格能

吃到。

 往右走_____格，

再往上走_____格能

吃到。

 往上走_____格，

再往左走_____格能

吃到。

								1
								8
								7
								6
								5
								4
								3
								2
								1



20 以内的退位减法



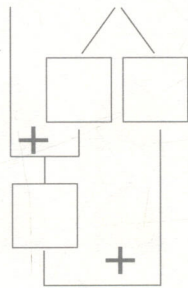
$$12 - 7 = 5$$



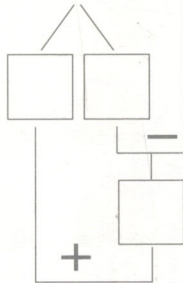
做一做



$$9 + 5 = \square$$




$$14 - 9 = \square$$



二、算一算，圈一圈。





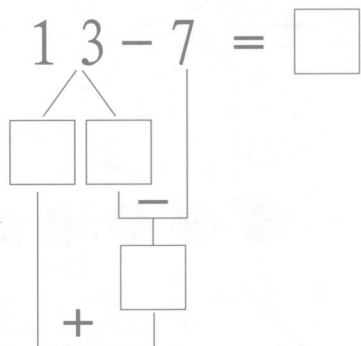
$$11 - 2 = \square$$

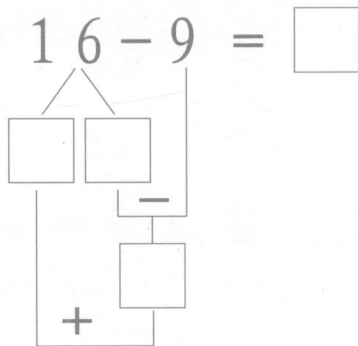




练习(二)

一、算一算，圈一圈。



$$13 - 7 = \square$$


$$16 - 9 = \square$$




$$8 + 6 = \square$$

$$14 - 6 = \square$$

$$6 + 8 = \square$$

$$14 - 8 = \square$$

二、算一算。

15		6		
14		7		
17	-	8	=	
12		3		


三、连一连，帮小动物找到自己的家。



$12-7$



$11-7$



$14-8$



$18-9$



$13-5$



四、



兔妈妈拔回 12 个萝卜，被小兔子捧走 7 个，还剩多少个萝卜？

$$\square - \square = \square \text{ (个)}$$

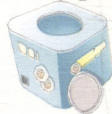
五、看图列式计算。



$$12 - \square = \square$$


$$12 - \square = \square$$

? 块



15 块

$$\square - \square = \square$$



$$17 - \square = \square$$

$$17 - \square = \square$$


? 个



12 个

$$\square - \square = \square$$

解决问题



幼儿园里有 8 个女孩和 9 个男孩。

1. 一共有多少个小朋友？


$$8 + 9 = 17 \text{ (个)}$$

2. 男孩比女孩多几个？



$$9 - 8 = 1 \text{ (个)}$$



做一做



鱼缸里有 20 条金鱼。


1.  有 11 条,  有几条？

$$\square \bigcirc \square = \square \text{ (条)}$$

2.  比  多几条？

$$\square \bigcirc \square = \square \text{ (条)}$$

二、




熊妈妈拿回 16 穗玉米，熊宝宝一口气吃掉了 7 穗，还剩下多少穗？

$$16 - \square = \square \text{ (穗)}$$


三、

一共有 15 个萝卜。



1. 左边有 7 个，右边有几个萝卜？

$$\square - \square = \square \text{ (个)}$$



2. 红萝卜有 6 个，白萝卜有几个？

$$\square - \square = \square \text{ (个)}$$